

## 益阳市 2019 年普通初中学业水平考试历史

一、选择题（本大题共 28 小题，每小题 1.5 分，共 42 分。每小题所列的四个选项中只有一项符合题目要求。）

1. 获取有效看息是历史学习的重要方法之一。符合“距今约 70 万~20 万年”“会使用天然火”“能打制石器”三个信息的古人类足

A. 元谋人 B.北京人 C.半坡人 D.河姆渡人

2. 我国古代儒家主张“仁”“信”、墨家主张“兼爱”、法家主张以“法”治国；社会主义核心价值观中有“和谐”“诚信”“友善”“法治”等内容。这表明社会主义核心价值观

A. 照搬了春秋战国时册的思想 B.是现代中国建设的经验总结

C.植根于优秀的中华传统文化 D.是马克思主义中国化的产物

3. 独具时代特色的历史词汇在风云流转的时空中，是社会发展的一个个坐标。下表所列词汇中“重文轻武、交子”对应的朝代是

时期	词汇
秦朝	半两钱、小篆
	重文军机处、京剧轻武、交子
清朝	

A. 唐朝 B.北宋 C.元朝 D.明朝

4. 2019 年 3 月 28 日，庆祝西藏民主改革 60 周年大会在拉萨布达拉宫广场举行。今西藏地区正式纳入中国版图的标志退

A.西汉时设西域都护 B.唐朝时文成公主入藏

C.元朝时设立宣政院 D.清政府设立驻藏大臣

5. 勤劳智慧的中国人民创造了辉煌灿烂的科技文化。下列我国古代人物与科技文化成就的搭配，正确的是

A.华佗——《草卓纲目》 B.司马迁——《史记》

C.宋应星——《农政全书》 D.罗贯中——《红楼梦》

6. 时空观念是历史学科素养之一。下列史实按时间先后顺序排列正确的是

①火烧圆明园②割香港岛给英国③清政府赔偿白银 4.5 亿两④允许日本在通商口岸开设工厂

A①②③④ B.②①④③ C.③②①④ D.④①②③

7. 写实的民谣能够勾勒出一幅幅尘封的历史画面，常常唤醒人们的历史记忆。义和团民谣

“拆铁路，拔线杆，紧急毁坏火轮船……洋鬼子，尽除完，大清一统靖江山。”。据此不能得出的认识是义和团运动

A.盲目排外 B.斗争矛头是帝国主义

C.主张推翻清朝统治 D.强烈的爱国主义意识

8. 戊戌政变后，除下列哪项措施外，各项变法措施均随之被取缔

A.奖励创造发明 B.改科举，废八股

C.取消旗人特权 D.设立京师大学堂

9. 2005 年 4 月，胡锦涛在北京与来访的中国国民党主席连战举行会谈，这是 60 年来国共两党最高领导人的首次正式会谈。国共两党曾两次合作，其斗争的对象分别是

A.清政府 美帝国主义 B.列强、军阀 美帝国主义

C.清政府 日本帝国主义 D.列强、军阀日本帝国主义

10. 在新民主主义革命时期，挽救了党和红军，成为中国共产党和中国革命史上生死攸关的转折点的会议是

A.中共“一大” B.八七会议 C.遵义会议 D.中共“七大”

11. 学习历史，应该分清哪些是历史史实，哪些是历史解释。下列各项中，属于历史解释的是

A. 1934年10月中央红军开始长征 B.九一八事变揭开了世界反法西斯战争的序幕

C.张学良、杨虎城发动西安事变 D. 1949年4月23日,人民解放军占领南京

12. 人民币是我国的法定货币，被誉为“中国名片”，其演化契合着国家和民族兴盛的一些环节。下图为新中国曾发行的部分人民币图案,从图案中不能得出的信息是当时的中国



飞机（1953）



履带拖拉机（1953）



各族人民大团结（1956）



人大代表步出人民大会堂（1965）

A. 优先发展重工业 B. 实行民族团结的民族政策

C. 完成了三大改造 D. 确立了人民代表大会制度

13. 以“宁肯少活二十年，拼命也要拿下大油田”的坚强意志跟冲天干劲，带领钻井队艰难创业，打出了大庆第一口油井，被称为“铁人”的是

A.王进喜 B.焦裕禄 C.袁隆平 D.邓稼先

14. 外交是国内政治活动的延续，同时也是国家综合国力的体现。美国把中国排斥在国际社会之外的政策彻底失败的标志是

A. “求同存异”方针的提出 B.和平共处五项原则的提出

C. 中美正式建立外交关系 D.恢复中国在联合国的合法席位

15. 湖南境内发现了大量的远古遗存，其中目前世界上最早的人工栽培稻标本发现于

A.玉蟾岩遗址 B.高庙遗址 C.彭头山遗址 D.走马楼遗址

16. 关于古代湖南的开发与发展，搭配正确的是

A.春秋——设立长沙郡 B.五代十国——开创“招商引资”的先河

C.宋朝——“江西填湖广” D.明朝“湖广填四川”

17. 中国的书法艺术源远流长，异彩纷呈。独创悬臂回腕执笔法，人称“猿臂翁”的是

A.怀素 B.何绍基 C.欧阳询 D.王船山

18. 湖南的铜官陶和刘阳鞭炮闻名海内外，两者都始创于

A.秦代 B.汉代 C.唐代 D.宋代

19. 汨罗人任弼时曾是中共“五大书记”之一，他被誉为

A. “党和人民的骆驼” B. “人民音乐家”

C. “党的好干部” D. “理论界的鲁迅”

20. 为了庆祝中华人民共和国成立 70 周年，某地举行了“我和我的祖国”的合唱比赛。比赛开始前同唱国歌《义勇军进行曲》，该歌曲的词作者是

A.田汉 B.欧阳予倩 C.贺绿汀 D.齐白石

21. 下列表述中正确的有

- ① 曾国藩创办安庆内军械所 ② 蔡锷被誉为“再造民国第一人”  
 ③ 古埃及首创民主制 ④ 日本通过大化改新确立了中央集权体制  
 A. ①②③ B. ①②④ C. ①③④ D. ②③④

22. 封建庄园制度盛行是中古时期西欧社会的特征之一。下列对庄园制度表述正确的是

- A. 庄园中的主要劳动者是平民  
 B. 大学主宰了庄园中西欧人的精神生活  
 C. 城市的兴起对封建庄园经济具有瓦解作用  
 D. 以庄园为基础，西欧确立了相对稳定的种姓制度

23. 公元前 46 年，他制定的一套新的历法奠定了今天广泛采用的公历的基础。这里的“他”指的是

- A. 丕平 B. 屋大维 C. 恺撒 D. 查理大帝

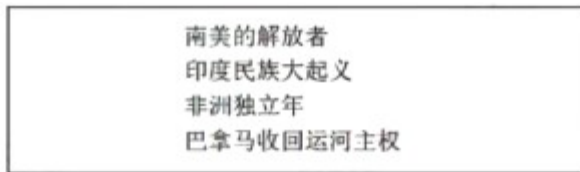
24. 创立了伊斯兰教，并在保存和传播古典文明、沟通东西方文化方面做出了重要贡献的是

- A. 查理曼帝国 B. 亚历山大帝国 C. 阿拉伯帝国 D. 罗马帝国

25. 英国资产阶级革命完成后，议会通过的《权利法案》规定：不经议会同意，国王无权征税，不能在平时维持常备军，也不能随意废除法律和停止法律的执行等。由此可知《权利法案》确立的原则是

- A. 议会高于王权 B. 人权和法治 C. 三权分立 D. 人文主义

26. 下图是某校历史兴趣小组用绕某一主题开展研究性学习所制作的卡片，下列选项中最合适的主题是



- A. 经济全球化趋势  
 B. 非洲殖民体系崩溃  
 C. 世界政治多极化趋势  
 D. 亚非拉国家民族独立运动

27. 二战结束后不久便进入“冷战”时期，美国和苏联及其各自的盟国在冷战中已经摆好了作战的姿势，开始了主要在政治、经济和宣传层面的对抗。下列关于冷战的叙述，错误的是

- A. 杜鲁门主义的提出标志着冷战开始 B. 德国的分裂是美苏冷战的直接后果  
 C. 冷战双方是以美苏为首的两大阵营 D. 冷战局面形成后，世界一直和平

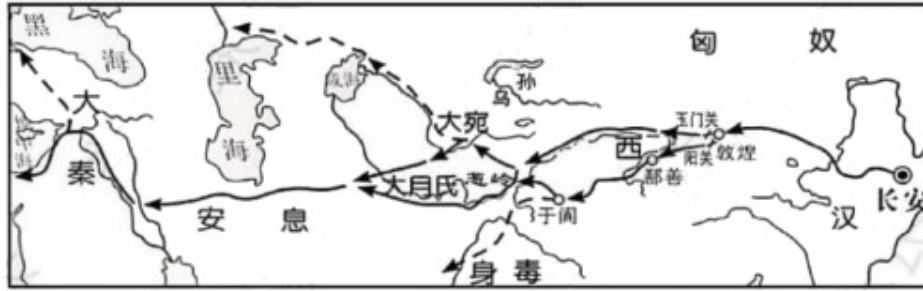
28- 2019 年 6 月 5 日，省委书记杜家豪、省长许达哲指出：近年来湖南以“一湖四水”系统联治为重点，扎实推进长江岸线整治和洞庭湖下塞湖矮围治理、农村环境综合整治等工作推动污染防治攻坚战取得了阶段性成效。这反映了党和政府高度重视人类社会面临的

- A. 人口问题 B. 恐怖主义问题 C. 网络犯罪问题 D. 生态环境问题

**二、非选择题（本大题共 5 小题，第 29 题 14 分，第 30 题 13 分，第 31 题 12 分，第 32 题 11 分，第 33 题 8 分，共 58 分）**

29. 文明因交流而多彩，文明因互鉴而丰盈。文明交流互鉴，是推动人类文明进步和世界和平发展的重要动力。阅读下列材料，回答问题。（14 分）

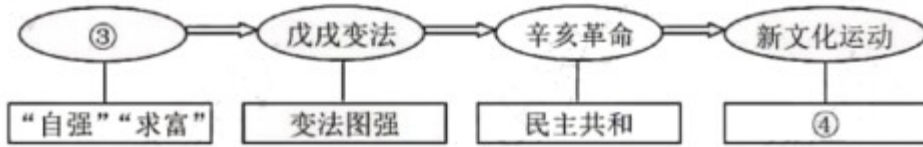
材料一



材料二这是预兆资产阶级到来的三大发明：①把骑士阶层炸得粉碎②打开了世界市场并建立了殖民地，而印刷术则变成新教的工具。总的来说变成科学复兴的工具，成为对精神发展创造必要前提的最强大的杠杆。

——摘自马克思《机器、自然力和科学的应用》

材料三近代以来，中国的仁人志士认识到自身的不足，探索民族复兴之路。



- (1) 请根据材料一分别写出汉代丝绸之路的起点和终点。(2分) 列举汉代通过丝绸之路从中亚传到中国的农作物(举2例)。(2分)
- (2) 请根据材料二并结合所学知识分析，①②分别是中国古代的哪项更大发明？(4分)
- (3) 请根据材料三图示所示规律分别写出③④对应的内容。(2分) 结合所学知识分析我国仁人志士的这些探索有什么共同点？(2分)
- (4) 综合上述材料，你能得出什么启示？(2分)

30. 马克思主义的诞生，为中国民主革命和建设提供了理论武器。阅读材料，回答问题。(13分)

材料一在马克思亲自领导下，在马克思主义指导下，“第一国际”等国际工人组织相继创立和发展，在不同时期指导和推动了国际工人运动的联合和斗争。在马克思主义影响下，马克思主义政党在世界范围内如雨后春笋般建立和发展起来，人民第一次成为自己命运的主人，成为实现自身解放和全人类解放的根本政治力量。

——摘自习近平在纪念马克思诞辰200周年大会上的讲话

材料二1917年，俄国十月革命一声炮响，给中国送来了马克思主义五四运动推动了马克思主义在中国的传播，《新青年》出版了“马克思主义研究专号”，各地相继涌现出许多宣传马克思主义的刊物和团体。

——摘自岳麓版《中国历史》八年级下册

材料三农村包围城市的道路却历史地成为中国民主革命走向胜利之路，毛泽东是第一个代表这种自觉选择的人。他在这个时期的一些著作中最早阐发了国情与革命，说明了马克思主义的一般和个别、普遍与具体。

——摘自陈旭麓《近代中国的新陈代谢》

请回答：

- (1) 马克思主义诞生标志是什么？(2分) 请根据材料一和所学知识分析马克思主义诞生的影响。(2分)
- (2) 在中国传播马克思主义的先驱是谁？(1分) 请根据材料概括马克思主义在中国传播

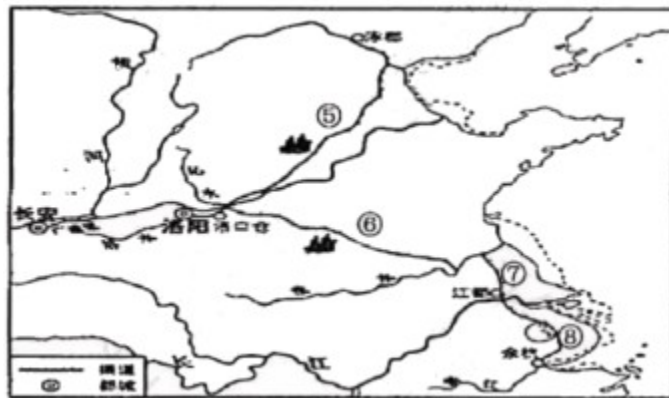
的原因。(2分)

(3)根据材料三并结合所学知识概括以毛泽东为代表的中国共产党人找到了一条什么革命道路?(2分)选择这条道路的主要依据是什么?(2分)

(4)在社会主义现代化建设新时期,中国共产党丰富和发展马克思主义,形成了哪些思想理论?(至少举2例)(2分)

31. 一个国家经济的发展受多种因素的影响。阅读下列材料,回答问题。(12分)

材料一



材料一世界强国工业生产能力变化表(1860-1900)

时期	位次			
19世纪60年代	英国	法国	美国	德国
19世纪晚期	美国	德国	英国	法国

材料三注重实际的列宁认识到让步是不可避免的,因而于1921年允许局部地回复资本主义。农民们被准许在公共市场上出售他们的农产品。私人可以经营小商店和小工厂……这个结果是什么呢?结果就是把商品、货币、市场机制引入进苏联的社会主义建设里而去  
——摘编自《全球通史》

请回答:

(1)材料一中的⑤和⑥分别表示大运河的哪一段?(2分)大运河的开凿客观上产生了什么积极作用?(2分)

(2)从材料二中选取一个时期,找出这一时期工业生产能力位于第一位的国家,并结合所学知识分析其经济发展的主要原因。(3分)

(3)材料三中列宁的“让步”是指1921年实行的什么政策?(1分)请根据材料归纳这一政策的特点。(2分)

(4)综合上述材料和当今局势谈谈你认为影响一个国家经济发展的因素有哪些?(2分)

32. 战争给人类带来极大的灾难,也教育了世界人民追求和平。阅读材料,回答问题。(11分)

材料一拿破仑出身于小贵族家庭'在大革命中,他获得提升,并逐渐展示出杰出的军事天才……他还多次发动对外战争,打败了反法联盟军,维护了革命成果,扩大了革命影响。然而,他对披占领地区的奴役和掠夺,引起了当地人民的反抗。1814年,帝国覆灭。

材料二1916年,德法之间展开了一场具有决战性意义的战役。战争中,法国决心不惜一

切代价守住阵地，经过四个月的拉锯战，德法双方付出伤亡总计近百万人的代价。

材料三 1940年5月，德国经过充分准备，兵分三路大举进攻西欧，先后占领荷兰、比利时等国，并攻入法国。号称欧洲第一陆军强国的法国仅仅6个星期就被打败，被迫投降。

材料四 1950年法国外长舒曼提出建立欧洲煤钢共同体，这一建议缓解了法、德两国之间的恐惧和怨恨情绪，也为欧洲国家联合铺平了道路，

——以上材料均摘自岳麓版《世界历史》九年级下册

请回答：

(1) 材料一中的“大革命”爆发的标志是什么？（1分）请根据材料一概括拿破仑帝国覆灭的原因是什么？（2分）

(2) 材料二中的“具有决战性意义的战役”指的是什么战役？（2分）

(3) 结合所学知识分析材料三中法国投降的主要原因。（2分）后来法国解放得益于哪次战役开辟的欧洲第二战场？（2分）

(4) 材料四论述了法德和解是欧洲走向联合的关键，请列举一个20世纪60年代欧洲国家联合的组织。（2分）

33 阅读以下去争年表，完成要求。（8分）

1978年	中共十一届三中全会召开	答题示例（不能照抄）： 祖国统一是大势所趋 为了完成祖国统一大业，1984年，邓小平正式提出“一国两制”的方针。在这一方针指导下，1997年7月1日，中国对香港恢复行使主权。1999年12月20日，澳门回到了祖国怀抱。香港、澳门的回归，洗雪了一个多世纪以来的历史耻辱，标志着祖国统一大业向前迈出了重要的一步。现在，台湾海峡两岸关系有了新的发展，学术、文化、体育等交流日益增多。 综上所述，随着中国综合国力的不断增强，祖国统一大业一定会实现。
1978年	农村经济体制改革逐步展开	
1980年	设立深圳、珠海、汕头、厦门经济特区	
1984年	“一国两制”方针正式提出	
1997年	香港回归	
2001年	中国加入世贸组织	
2008年	成功举办奥运会	

从上表中提取两件或三件大事，拟定一个论题，并结合材料所选大事和所学知识进行论述。（要求：论题明确，观点正确，史论结合，逻辑严谨，字数120字以上）（8分）

### 益阳市2019年普通初中学业水平考试参考答案及评分标准 历史

一.选择题（28×1.5=42分）

题号	1	2	3	4	5	6	7	8	9	10	11	12	13	14
答案	B	C	B	C	B	B	c	D	D	c	B	C	A	D
题号	15	16	17	18	19	20	21	22	23	24	25	26	27	28
答案	A	B	B	C	A	A	B	C	C	C	A	D	D	D

二.非选择题（第29题14分，第30题13分，第31题12分，第32题11分，第33题8分，

共58分）

29. (1) 长安、大秦（2分）。葡萄、黄瓜、胡萝卜、大蒜（任写其中两个2分）。

(2) 火药、指南针（4分）。

(3) 洋务运动、民主科学（2分）。学习西方；推动了中国近代化进程；结果都失败（任答一点，2分，言之有理即可）

(4) 文明交流互鉴，推动了人类文明进步和世界和平发展；文明交流要相互尊重，相互借鉴，承认文明的多样性，和而不同。（任答一点，言之有理即可，2分）

30. (1) 《共产党宣言》的发表（2分）。推动了各国工人运动的蓬勃发展；促进了马克思主义政党的建立和发展；极大地影响了人类历史的进程或成为实现自身解放和全人类解放的根本政治力疑。（任答两点，2分）

(2) 李大钊（1分）。俄国十月革命给中国送来了马克思主义；五四运动推动了马克思主义在中国的传播（2分）

(3) 农村包围城市、武装夺取政权或“工农武装割据”（2分）；国情（2分）

(4) 邓小平理论；“三个代表”重要思想；科学发展观；习近平新时代中国特色社会主义思想。（任答2点，2分）

31. (1) 永济渠；通济渠（2分）。促进了南北方经济文化交流；加速了沿岸地区经济的发

展；在此后的历史进程中一直起着重要作用，直到今天，大运河的某些河段依然承担运输的作用。（任答两点，2分）

(2) 19世纪60年代：英国工业革命极大地促进了英国生产力的发展或资本主义制度的确立，为英国资本主义发展扫清了障碍。

19世纪晚期：美国第二次工业革命，使美国生产力得到迅速发展或国家的统一，为美国资本主义的发展开辟了道路（任答一个时期，时间、国家、原因各1分，共3分）

(3) 新经济政策。（1分）把商品、货币、市场机制引入进苏联的社会主义建设。（2分）

(4) 交通的发展；科学技术的进步；政府的政策：对外开放，顺应全球化的潮流等。（任答两点，2分）

32- (1) 1789年7月14日，巴黎人民攻占巴士底狱。（1分）拿破仑对被占领地区的奴役和掠夺，激起了当地人民的反抗。（2分）

(2) 凡尔登战役。（2分）

(3) 绥靖政策。（2分）诺曼底登陆战（2分）

(4) 欧共体（2分）

33. (8分)

示例1

改革开放是强国之路（2分）

1978年12月，十一届三中全会召开，中国进入了改革开放的新时期。1978年，农村经济体制改革逐步展开，激发了农民的劳动热情，带来了农业生产力的大解放。1980年，在深

圳、珠海、汕头和福建的厦门设立了经济特区，对外开放局面逐渐形成，1984年城市经济体制改革全面展开。国民经济快速增长，2010年，我国成为全球第二大经济体。（4分）

综上所述，改革开放使我国取得了举世瞩目的成就，是实现中华民族伟大复兴的必由之路（2分）

示例2

中国国际地位不断提高（2分）

2001年，中国正式加入世界贸易组织，标志着对外开放进入一个新阶段，在参与全球化的道路上迈出了重要一步。2008年，北京奥运会的成功举办，彰显了中国的强大国力，提高了中国的国际地位。提升了中国人民的自信心。（4分）

综上所述，改革开放以来，随若中国综合国力的增强，国际地位不断提高。（2分）  
温馨提示：主观题不必拘泥本参考答案.凡学生答案中符合题意的，均可酌情计分，但不得超过该要点分



积分超值换

活动时间：2019年4月23日-6月30日  
活动对象：中小学一线教师以及教育工作者

扫一扫 换礼啦

积分兑换更超值

会员升级服务第一拨 · 清北季

神马，有清华北大学霸方法论课；还有清华学霸向所有的父母亲述自己求学之路；  
衡水名校试卷悄悄的上线了；  
扫qq领取官网不首发课程，很多人我没告诉他啊！  
会员qq专享等你来撩.....