

2019年山东省临沂市中考历史试卷

一、单项选择题，共 25 道题，每题 2 分，共 50 分。在每题所列出的四个选项中，只有一项是最符合题目要求的。

1. 图 1 中的文字，是中国的一种古老文字，又称“契文”“殷墟文字”或“龟甲兽骨文”，对中国文字的形成与发展有深远的影响。下列关于这种文字的说法，正确的是（ ）



图 1

- A. 从商朝时期一直被使用到今天 B. 直到近代才被人们发现和识别
C. 记载的内容只涉及祭祀与战争 D. 是中国古代文字中年代最早的
2. 我国的地方行政制度，自秦朝以来，逐渐发展和完善。下列哪一制度的实行，开创了此后我国历代王朝地方行政的基本模式？（ ）
- A. 丞相制 B. 郡县制 C. 州县制 D. 行省制
3. “公元前 207 年，秦朝的统治者在起义军的包围下，被迫出城投降。威名显赫的秦朝，仅存在十几年就灭亡了。”当时，“统治者”是向谁投降？（ ）
- A. 陈胜 B. 吴广 C. 刘邦 D. 项羽
4. 如图所示历史人物是我国古代的一位杰出科学家，他在数学、天文历法和机械制造方面都有重大成就。其中领先世界近千年的一项成果是（ ）



图 2 祖冲之像

- A. 圆周率的计算 B. 《大明历》的创制 C. 指南车的制造 D. 千里船的制造
5. 下列哪一史实结束了长期分裂的局面，顺应了我国统一多民族国家的历史发展大趋势？（ ）

- A . 隋文帝灭掉陈朝
- B . 隋朝创立科举制
- C . 隋朝统一度量衡
- D . 隋朝开通大运河

6 . 如图中的历史人物是日本佛教南山律宗的开山祖师，著名医学家，被日本人民誉为“文化之父”和“律宗之祖”。下列关于他的说法，不正确的是（ ）

- ① 他接受日本僧人的邀请顺利东渡日本
- ② 他为中日文化交流作出了卓越的贡献
- ③ 他是唐朝与日本的文化交流中最有影响的人物
- ④ 他只潜心研究佛经而不过问其他领域



图 3 鉴真塑像

- A . ①③
- B . ②③
- C . ①④
- D . ②④

7 . 1683 年，清军进攻台湾，郑氏军队战败，清政府将台湾纳入清朝的版图。第二年，清政府设立台湾府，隶属（ ）

- A . 福建省
- B . 浙江省
- C . 广东省
- D . 江苏省

8 . 如图所反映的这部书是中国历史上一部重要的科学技术著作，其特点是图文并茂、注重实际、重视实践。外国学者称这部书为“中国 17 世纪的工艺百科全书”。“这部书”是（ ）



图 4

- A . 明代末年一部重要的农业科学巨著
- B . 明朝时期一部手工业生产技术专著
- C . 明代中后期规模空前的药物学著作
- D . 关于农业和手工业生产的科技巨著


9 . “新中国成立后，为纪念这一大义凛然的壮举，纪念林则徐这一伟大的民族英雄，中国政府于 1957 年在销烟池旧址上建立了林则徐纪念馆，竖起了林则徐纪念碑。”“这一大义凛然的壮举”是指（ ）

- A. 力主禁烟 B. 缉拿烟贩 C. 收缴鸦片 D. 虎门销烟

10. “城内太平军将士万余人，全部壮烈牺牲，无一降者。入城湘军，肆意焚掠，繁华的古都南京顿成瓦砾。湘军屠城后，‘秦淮长河，尸首如麻’，而十之八九为老幼妇孺。太平天国英雄们艰苦卓绝的斗争，表现了农民革命优秀人物的伟大牺牲精神。”这里的“城”当时被太平军称为（ ）

- A. 南京 B. 北京 C. 天京 D. 东京

11. 在如图所反映的运动中，中国工人阶级开始登上政治舞台，展现了伟大的力量。这次运动的直接目标得到了实现，取得了重大胜利。当时的中国政府是（ ）



- A. 南京临时政府 B. 北洋军阀政府
C. 广州国民政府 D. 南京国民政府

12. 毛泽东在《新民主主义论》中指出：“孙中山先生之所以伟大，不但因为他领导了伟大的辛亥革命，而且因为他能够‘合乎世界之潮流，合乎人群之需要’，……对三民主义作了新的解释，树立了三大政策的新三民主义。”这里的“三大政策”是指（ ）

① 平均地权 ② 扶助农工 ③ 联共 ④ 联俄

- A. ①②③ B. ①②④ C. ①③④ D. ②③④

13. 如图所反映的会议通过的文献规定：“中华人民共和国的一切权力属于人民。人民行使国家权力的机关是全国人民代表大会和地方各级人民代表大会。”“中华人民共和国全国人民代表大会是最高国家权力机关。”该“文献”是（ ）



- A. 《中国人民政治协商会议共同纲领》
B. 《中华人民共和国宪法》

C. 《关于建国以来党的若干历史问题的决议》

D. 《中华人民共和国民族区域自治法》

14. “四个全面”战略布局，是新形势下中国共产党治国理政的总方略，是实现“两个一百年”奋斗目标、走向中华民族伟大复兴中国梦的“路线图”，每一个“全面”都有其重大战略意义。其中，为着力推进党的建设而采取的战略举措是（ ）

A. 全面建成小康社会

B. 全面深化改革

C. 全面推进依法治国

D. 全面从严治党

15. 中华人民共和国副主席王岐山在纪念中美建交 40 周年招待会上的致辞中说：“建交时，中美双边贸易不足 25 亿美元，相互投资几乎为零；2017 年，双边贸易超过 5800 亿美元，各类投资累计超过 2300 亿美元。”这直接表明中美建交（ ）

A. 促进了两国之间的反恐合作

B. 消除了两国的经济贸易摩擦

C. 加强了两国的环境保护合作

D. 给两国人民带来了巨大利益

16. “它打破了当时有核大国的核垄断，增强了我国的国防实力，大大提高了我国的国际地位。”这里的“它”是指（ ）

A. “两弹一星”的成功

B. 神舟一号试验成功

C. 航天员的漫步太空

D. 青蒿素的研制成功

17. 如图中的“元旦所依据的历法，是现在国际上通用的历法。该历法是西方的历法，并非中国所创，故又名“西历”。1912 年，中华民国临时政府改用这种历法。1949 年，中国人民政治协商会议决定采用公元纪年。该历法的基础是（ ）



A. 古埃及的太阳历

B. 罗马人的儒略历

C. 中国农历即夏历

D. 苏美尔人的阴历

18. 《罗马民法大全》是罗马法的集大成者，奠定了欧洲民法的基础。它由四部法律文献组成，

其中哪一部把自 2 世纪初以来历任罗马皇帝颁布的法令收集在一起？（ ）

- A . 《查士丁尼法典》
- B . 《法学汇纂》
- C . 《法理概要》
- D . 《新法典》

19 . 在社会发展的不同阶段，其经济组织形式也不相同。9 世纪和 14 世纪，逐渐在西欧流行开来的新的农业经济组织形式分别是（ ）

- A . 庄园、土地私有
- B . 土地国有、手工工场
- C . 庄园、租地农场
- D . 手工作坊、租地农场

20 . 为了纪念如图所反映的重大历史事件，法国把 7 月 14 日作为自己的国庆节。在此事件之后，制宪议会通过的《人权宣言》宣告的基本原则包括（ ）

- ① 专制②自由③平等④法治



- A . ①③
- B . ①②③
- C . ②③④
- D . ②④

21 . 如图所示的著作跨越了经济、政治、哲学等多个领域，为政治经济学的发展作出了划时代的贡献，是马克思主义最厚重、最丰富的著作，被誉为“工人阶级的圣经”。该“著作”的作者是（ ）



- A . 马克思、恩格斯
- B . 马克思
- C . 恩格斯
- D . 列宁

22 . 玻利瓦尔率领队伍，克服艰难险阻，越过常年积雪的安第斯山脉，打败了殖民者，解放了哥伦比亚、委内瑞拉和厄瓜多尔等地，被誉为南美的“解放者”。这里的“殖民者”来自（ ）

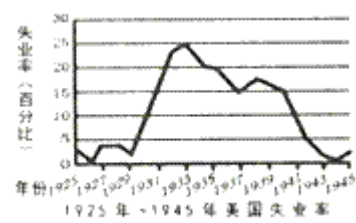
- A . 英国
- B . 葡萄牙
- C . 法国
- D . 西班牙

23 . 现代塑料工业的迅猛发展，使塑料制品的应用已深入到社会的每个角落，从生产领域到衣食

住行，塑料制品无处不在。但人们也发现，塑料垃圾已经悄悄地向我们涌来，严重影响着我们的身体健康和生活环境。这种工业诞生于（ ）

- A．戴姆勒的发明
- B．诺贝尔的发明
- C．海厄特的发明
- D．夏尔多内的发明

24．在如图所反映的美国“失业率”变化曲线中，失业率增加幅度最大的年份区间是（ ）



- A．1926 - 1927年
- B．1929 - 1933年
- C．1937 - 1938年
- D．1944 - 1945年

25．1944年6月，美、英盟军发动了目前为止世界上最大的一次海上登陆作战，成功开辟了欧洲第二战场，使德国陷入东西两面夹击之中，加速了德国的投降。该“战场”属于（ ）

- A．欧洲西线战场
- B．北非战场
- C．欧洲东线战场
- D．太平洋战场

二、非选择题，共4道题，第26题14分，第27、28、29题各12分，共50分。

26．（14分）阅读材料，结合所学知识回答问题。

材料一：北魏孝文帝拓跋宏是较早进行汉化改革的皇帝，他在公元496年，领头把复姓拓跋改为元，从此他的姓名就成了元宏。其他如独孤氏改姓为刘，步六孤氏改姓为陆。当时鲜卑民族改姓达一百多。

——摘自中新网

材料二：“太和改革”由孝文帝亲自设计和主导，基本上取得了成功。一方面是因为改革的大方向是正确的，是先进文化、制度对落后文化和制度的取代；另一方面，孝文帝本人的改革意志和决心起到了关键性作用，在改革面临保守派阻挠和挑战的时刻，孝文帝始终坚定改革方向不动摇，对破坏改革的势力进行强有力打击，扫除改革障碍，同时他还注意选贤任能，培养改革中坚力量，推动改革持续不断向前迈进。

——摘编自《北京日报》

(1) 材料一反映了北魏孝文帝实行的哪一项汉化措施？请你再列举出两项他所实行的其他汉化措施。

(2) 因当时北魏孝文帝的年号是太和，这场改革也被称为“太和改革”。这场改革的历史作用如

何？

(3) 根据材料二，谈一谈北魏孝文帝改革对今天的改革有哪些重要启示？

27. (12分) 下列材料摘自习近平《在纪念红军长征胜利80周年大会上的讲话》，结合所学知识回答问题。

材料一：长征出发前，由于党内“左”倾教条主义的错误领导，中央革命根据地第五次反“围剿”失败，其他根据地也遭受挫折，中国革命面临着方向和道路的抉择。面对乱云飞渡、惊涛骇浪，我们党表现出无所畏惧的伟大实践精神，表现出浴火重生的伟大创造精神，在血与火中趟出了一条走向新生、走向胜利的革命道路。

(1) 分析指出材料一中“失败”的原因。我们党从“失败”到走向新生、走向胜利的转折点是什么？这个“转折点”具有怎样的标志性意义？

材料二：长征胜利启示我们：党的领导是党和人民事业成功的根本保证。毛泽东同志指出：谁使长征胜利的呢？是共产党。没有共产党，这样的长征是不可能设想的。中国共产党，它的领导机关，它的干部，它的党员，是不怕任何艰难困苦的。”

(2) 哪三大红军主力的会师，宣告了“长征胜利”？“长征胜利”的根本保证是什么？

材料三：长征这一人类历史上的伟大壮举，留给我们最可宝贵的精神财富，就是中国共产党人和红军将士用生命和热血铸就的伟大长征精神。

(3) “伟大长征精神”是我们取之不尽、用之不竭的力量源泉，其内涵是多方面的。请根据你的理解，列举出两个方面。

28. (12分) 阅读材料，结合所学知识回答问题。

材料一：中华人民共和国的成立，使中国人民成为国家、社会和自己命运的主人，实现了中国向人民民主制度的伟大跨越，实现了中国高度统一和各民族空前团结，彻底结束了旧中国半殖民地半封建社会的历史，彻底结束了旧中国一盘散沙的局面…

——摘自习近平《在纪念毛泽东同志诞辰120周年座谈会上的讲话》

(1) 中华人民共和国的成立，实现了怎样的伟大跨越？彻底结束了旧中国怎样的历史？对世界产生了什么影响？

材料二：中国共产党在十八大以来推进我国社会发展实现历史性飞跃的同时，推进马克思主义中国化实现新的历史性飞跃。可以说，中华民族“站起来”“富起来”“强起来”的过程，得益于马克思主义中国化的不断推进，同时又促进马克思主义理论的进一步发展。社会主义在中国的活跃和兴旺、成功和胜利，是在中华民族从站起来、富起来到强起来的历史进程中实现的。

——摘自人民网《从站起来、富起来到强起来的历史性飞跃》

(2) “十八大”以来，我国社会的主要矛盾是什么？中国共产党“推进马克思主义中国化实现新的历史性飞跃”，形成的最新理论成果是什么？

(3) 请从中华民族“站起来”“富起来”“强起来”的过程中，列举出社会主义在中国取得“成功和胜利”的两项经济建设成就。

29. (12分) 阅读材料，结合所学知识回答问题。

材料一：《纽约时报》1月14日报道，在刚刚过去的2018年，美国总统特朗普曾多次提议美国退出北大西洋公约组织。特朗普曾向其高级国家安全官员表示，他不知道这个军事同盟有何意义，他认为这是美国的一个负担。《纽约时报》称，现在，总统对“退出北约”的反复提及，让美国国家安全官员们愈加担心，总有一天，特朗普会因为北约盟友的军费支出达不到他的要求而再次考虑退出。

——摘编自2019年1月16日《参考消息》

材料二：当地时间22日，美国国会众议院通过一项两党立法，表达了国会对北约的坚定支持，拒绝总统特朗普潜在尝试退出北约的任何努力。该法案还呼吁北约各成员国履行承诺，即将GDP的2%用于国防开支。众议员帕内塔强调，美国留在北约对阻止俄罗斯的战略进攻至关重要。

——摘编自2019年1月23日海外网

(1) 材料一中的“组织”成立的主要目的是遏制哪一国家？与该组织相对峙的是哪一组织？这两大组织的对峙，导致形成了怎样的世界格局？

(2) 根据材料指出，美国总统特朗普提议美国退出北约的理由是什么？针对这种理由，美国国会采取了什么措施？

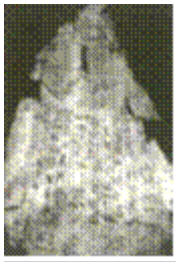
(3) 美国宪法对总统与国会之间的关系是怎样规定的？结合材料二，说明美国国会拒绝特朗普尝试退出北约的主要原因。

2019年山东省临沂市中考历史试卷

参考答案与试题解析

一、单项选择题，共 25 道题，每题 2 分，共 50 分。在每题所列出的四个选项中，只有一项是最符合题目要求的。

1. 如图中的文字，是中国的一种古老文字，又称“契文”“殷墟文字”或“龟甲兽骨文”，对中国文字的形成与发展有深远的影响。下列关于这种文字的说法，正确的是（ ）



- A. 从商朝时期一直被使用到今天
- B. 直到近代才被人们发现和识别
- C. 记载的内容只涉及祭祀与战争
- D. 是中国古代文字中年代最早的

【解答】 商朝人刻写在龟甲或兽骨上的文字被称为“甲骨文”，它已经具备了汉字结构的基本形式，是一种比较成熟的文字。直到 1899 年，王懿荣才发现。ACD 选项描述都错误。

故选：B。

【点评】 本题主要考查学生对基础知识的识记能力，需要准确识记甲骨文的知识。

2. 我国的地方行政制度，自秦朝以来，逐渐发展和完善。下列哪一制度的实行，开创了此后我国历代王朝地方行政的基本模式？（ ）

- A. 丞相制
- B. 郡县制
- C. 州县制
- D. 行省制

【解答】 根据所学知识，秦朝建立后，政治上建立了一整套专制主义中央集权制度，在地方，实行郡县制，开创了此后我国历代王朝地方行政的基本模式，郡县制为后来封建王朝长期沿用，对中国历史产生深远影响。

故选：B。

【点评】 本题较容易，考查秦王朝巩固统一的措施中地方上实行的郡县制，要求学生熟知相关知识点即可。

3. “公元前 207 年，秦朝的统治者在起义军的包围下，被迫出城投降。威名显赫的秦朝，仅存在

十几年就灭亡了。”当时，“统治者”是向谁投降？（ ）

- A．陈胜 B．吴广 C．刘邦 D．项羽

【解答】公元前 209 年陈胜吴广在大泽乡起义，秦末农民起义爆发。陈胜吴广起义是中国历史上第一次大规模的农民起义。他们的革命首创精神鼓舞了后世千百万劳动人民反抗残暴统治的斗争。公元前 207 年在巨鹿之战中，项羽以少胜多，大败秦军主力，为灭亡秦朝奠定了基础。随后，刘邦率兵进逼咸阳，秦朝灭亡。

故选：C。

【点评】本题主要考查学生对基础知识的识记能力，需要准确识记秦朝灭亡的相关史实。

- 4．如图所示历史人物是我国古代的一位杰出科学家，他在数学、天文历法和机械制造方面都有重大成就。其中领先世界近千年的一项成果是（ ）



- A．圆周率的计算 B．《大明历》的创制
C．指南车的制造 D．千里船的制造

【解答】祖冲之是南朝的一位杰出科学家，他在数学、天文历法和机械制造方面都有重大成就。祖冲之运用刘徽的方法，在世界上把第一个把圆周率的数值计算到小数点以后第七位，即 3.1415926 和 3.1415927 之间。这项成果领先世界约 1000 年。

故选：A。

【点评】本题考查运用所学知识解决问题的能力。识记与灵活掌握三国两晋南北朝科技、文化和艺术成就。

- 5．下列哪一史实结束了长期分裂的局面，顺应了我国统一多民族国家的历史发展大趋势？（ ）

- A．隋文帝灭掉陈朝 B．隋朝创立科举制
C．隋朝统一度量衡 D．隋朝开通大运河

【解答】根据所学可知是 589 年，隋朝灭掉了南方的陈朝，结束了东汉末年以来近四百年的分裂割据局面，继秦汉之后中国又一次实现了统一。故 589 年，隋灭陈朝，结束了长期分裂的局面，顺应了统一多民族国家的历史发展趋势。

故选：A。

【点评】 本题主要考查学生对基础知识的识记能力，需要准确识记隋朝的统一。

6. 如图中的历史人物是日本佛教南山律宗的开山祖师，著名医学家，被日本人民誉为“文化之父”和“律宗之祖”。下列关于他的说法，不正确的是（ ）

- ① 他接受日本僧人的邀请顺利东渡日本
- ② 他为中日文化交流作出了卓越的贡献
- ③ 他是唐朝与日本的文化交流中最有影响的人物
- ④ 他只潜心研究佛经而不过问其他领域



A. ①③

B. ②③

C. ①④

D. ②④

【解答】 结合所学知识可知，唐玄宗时期，鉴真应日本僧人邀请东渡日本讲学，六次出行，五次失败，历尽千辛万苦，以致双目失明，终于到达日本。鉴真在日本坚持不懈地传播佛学和唐朝文化，他帮助日本设计的唐招提寺，至今犹存，被日本视为艺术明珠。他对中日文化交流作出了重大贡献。我们学习鉴真不辞劳苦、不怕困难、坚持不懈传播中国文化的精神。

故选：B。

【点评】 考查了鉴真东渡相关知识，注意基础知识的识记与理解。

7. 1683 年，清军进攻台湾，郑氏军队战败，清政府将台湾纳入清朝的版图。第二年，清政府设立台湾府，隶属（ ）

A. 福建省

B. 浙江省

C. 广东省

D. 江苏省

【解答】 1684 年，清政府设台湾府，隶属福建省。台湾府的设置，加强了台湾同祖国大陆的联系，促进了台湾的开发，巩固了祖国的海防。选项 C 符合题意。

故选：A。

【点评】 本题主要考查学生的识记能力以及分析问题的能力。理解并识记清朝在台湾建制的有关史实。

8. 如图所反映的这部书是中国历史上一部重要的科学技术著作，其特点是图文并茂、注重实际、重视实践。外国学者称这部书为“中国 17 世纪的工艺百科全书”。“这部书”是（ ）



图 4

- A. 明代末年一部重要的农业科学巨著
- B. 明朝时期一部手工业生产技术专著
- C. 明代中后期规模空前的药物学著作
- D. 关于农业和手工业生产的科技巨著

【解答】观察题干图片及据“外国学者称这部书为‘中国 17 世纪的工艺百科全书’”可知，“这部书”是关于农业和手工业生产的科技巨著。明朝杰出的科学家宋应星所著的《天工开物》，总结明代农业和手工业生产技术，还反映了明代我国手工工场的生产面貌，涉及到农业和手工业等三十多个生产部门，作者在书中强调人类要和自然相协调、人力要和自然力相配合。这部书被外国学者称为“中国 17 世纪的工艺百科全书”。

故选：D。

【点评】本题主要考查学生运用所学知识解决问题的能力。识记与灵活掌握《天工开物》的相关史实。

9. “新中国成立后，为纪念这一大义凛然的壮举，纪念林则徐这一伟大的民族英雄，中国政府于 1957 年在销烟池旧址上建立了林则徐纪念馆，竖起了林则徐纪念碑。”“这一大义凛然的壮举”是指（ ）
- A. 力主禁烟
 - B. 缉拿烟贩
 - C. 收缴鸦片
 - D. 虎门销烟

【解答】1839 年 6 月，林则徐下令将缴获的全部鸦片，在虎门海滩当众销毁。虎门销烟，是中国人民禁烟斗争的伟大胜利，显示了中华民族反对外来侵略的坚强意志。林则徐，是当之无愧的民族英雄，被誉为是“中国禁烟第一人”。故“这一大义凛然的壮举”是指虎门销烟。

故选：D。

【点评】本题考查虎门销烟，考查学生的识记和理解能力，解题关键是熟练掌握基础知识。

10. “城内太平军将士万余人，全部壮烈牺牲，无一降者。入城湘军，肆意焚掠，繁华的古都南京顿成瓦砾。湘军屠城后，‘秦淮长河，尸首如麻’，而十之八九为老幼妇孺。太平天国英雄们艰苦卓绝的斗争，表现了农民革命优秀人物的伟大牺牲精神。”这里的“城”当时被太平军称为（

)

- A. 南京 B. 北京 C. 天京 D. 东京

【解答】1864年7月19日，太平天国都城天京陷落，太平军与敌人展开了惨烈的巷战。数百名留在天京各府、衙、馆里的太平天国官员及其家属，集体自焚。天京陷落，标志着轰轰烈烈的太平天国运动悲壮地失败了。据“城内太平军将士万余人，全部壮烈牺牲，无一降者。入城湘军，肆意焚掠，繁华的古都南京顿成瓦砾。湘军屠城后，‘秦淮长河，尸首如麻’，而十之八九为老幼妇孺。太平天国英雄们艰苦卓绝的斗争，表现了农民革命优秀人物的伟大牺牲精神。”及所学知识可知，这里的“城”当时被太平军称为天京。

故选：C。

【点评】本题主要考查学生运用所学知识解决问题的能力。识记与灵活掌握太平天国运动的相关史实。

11. 在如图所反映的运动中，中国工人阶级开始登上政治舞台，展现了伟大的力量。这次运动的直接目标得到了实现，取得了重大胜利。当时的中国政府是（ ）



- A. 南京临时政府 B. 北洋军阀政府
C. 广州国民政府 D. 南京国民政府

【解答】五四运动是1919年5月4日发生于中国北京的一场爱国运动。巴黎和会决定将德国在山东的权益转让给日本的消息传来后，北京学生开展了集会、游行、罢课等活动。后来得到了各地学生以及各界的广泛支持，演变成了全国性的罢市、罢工还有学生罢课活动，从而形成了全国规模的爱国运动，并最终迫使北洋政府拒签和约。在这次运动中，中国工人阶级开始登上政治舞台，展现了伟大的力量。中国革命从此进入一个新的历史时期。五四爱国运动是一场彻底的不妥协的反帝反封建的革命运动，是无产阶级领导的新民主主义革命的开端。

故选：B。

【点评】掌握五四运动性质和意义。

12. 毛泽东在《新民主主义论》中指出：“孙中山先生之所以伟大，不但因为他领导了伟大的辛亥革命，而且因为他能够‘合乎世界之潮流，合乎人群之需要’，……对三民主义作了新的解释，树

立了三大政策的新三民主义。”这里的“三大政策”是指（ ）

- ① 平均地权
- ② 扶助农工
- ③ 联共
- ④ 联俄

A . ①②③ B . ①②④ C . ①③④ D . ②③④

【解答】孙中山在 1924 年 1 月的国民党第一次全国代表大会上，重新解释了三民主义，把旧三民主义发展为“联俄、联共、扶助农工”的新三民主义，新三民主义克服了旧三民主义没有明确的反对帝国主义的纲领和彻底的反封建纲领，它的政治原则和中国共产党的新民主主义革命纲领基本上是一致的，因而成为第一次国共合作和各革命阶级统一战线的政治基础。

故选：D。

【点评】本题主要考查学生运用所学知识解决问题的能力。识记与灵活掌握国民党一大的相关史实。

- 13 . 如图所反映的会议通过的文献规定：“中华人民共和国的一切权力属于人民。人民行使国家权力的机关是全国人民代表大会和地方各级人民代表大会。”“中华人民共和国全国人民代表大会是最高国家权力机关。”该“文献”是（ ）



- A . 《中国人民政治协商会议共同纲领》
- B . 《中华人民共和国宪法》
- C . 《关于建国以来党的若干历史问题的决议》
- D . 《中华人民共和国民族区域自治法》

【解答】如图所反映的会议通过的文献规定：“中华人民共和国的一切权力属于人民。人民行使国家权力的机关是全国人民代表大会和地方各级人民代表大会。”“中华人民共和国全国人民代表大会是最高国家权力机关。”该“文献”是《中华人民共和国宪法》。1954 年 9 月，第一届全国人民代表大会在北京召开，大会制定了《中华人民共和国宪法》。宪法规定我国坚持人民民主专政，坚持社会主义道路，一切权力属于人民。这是我国第一部社会主义类型的宪法，也是我国

有史以来真正反映人民利益的宪法。

故选：B。

【点评】 本题考查学生对基础知识的识记能力，需要准确识记新中国法制进程 1954 年 9 月第一届全国人民代表大会上颁布的《中华人民共和国宪法》的地位。

14. “四个全面”战略布局，是新形势下中国共产党治国理政的总方略，是实现“两个一百年”奋斗目标、走向中华民族伟大复兴中国梦的“路线图”，每一个“全面”都有其重大战略意义。其中，为着力推进党的建设而采取的战略举措是（ ）

A. 全面建成小康社会

B. 全面深化改革

C. 全面推进依法治国

D. 全面从严治党

【解答】 以习近平同志为核心的党中央，从坚持和发展中国特色社会主义全局出发，提出并形成全面建成小康社会、全面深化改革、全面依法治国、全面从严治党的“四个全面”战略布局。“四个全面”战略布局是新形势下中国共产党治国理政的总方略，为实现中华民族伟大复兴的中国梦提供了理论指导和行动指南。2014 年 12 月，习近平在江苏调研时强调，从严治党是全党的共同任务，全面从严治党是推进党的建设新的伟大工程的必然要求。选项 D 符合题意。

故选：D。

【点评】 本题主要考查学生运用所学知识解决问题的能力。识记与灵活掌握中国特色社会主义理论体系的相关史实。

15. 中华人民共和国副主席王岐山在纪念中美建交 40 周年招待会上的致辞中说：“建交时，中美双边贸易不足 25 亿美元，相互投资几乎为零；2017 年，双边贸易超过 5800 亿美元，各类投资累计超过 2300 亿美元。”这直接表明中美建交（ ）

A. 促进了两国之间的反恐合作

B. 消除了两国的经济贸易摩擦

C. 加强了两国的环境保护合作

D. 给两国人民带来了巨大利益

【解答】 1972 年，美国总统尼克松访华，双方签署《中美联合公报》，中美关系开始正常化；1979 年，中美建交，中美关系正常化。据“建交时，中美双边贸易不足 25 亿美元，相互投资几乎为零；2017 年，双边贸易超过 5800 亿美元，各类投资累计超过 2300 亿美元。”可知，这直接表明中美建交给两国人民带来了巨大利益。

故选：D。

【点评】 本题主要考查解读题干信息和对历史史实的分析和准确识记能力。识记与灵活掌握中

美建交的相关史实。

16. “它打破了当时有核大国的核垄断，增强了我国的国防实力，大大提高了我国的国际地位。”这里的“它”是指（ ）

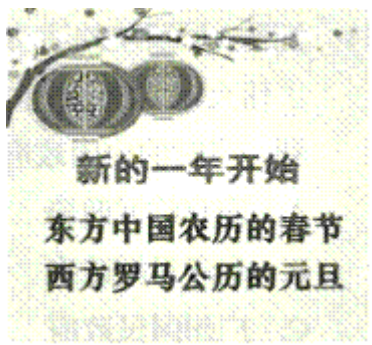
- A. “两弹一星”的成功
B. 神舟一号试验成功
C. 航天员的漫步太空
D. 青蒿素的研制成功

【解答】“它打破了当时有核大国的核垄断，增强了我国的国防实力，大大提高了我国的国际地位。”这里的“它”是指“两弹一星”的成功。“两弹一星”指的是原子弹、导弹、人造地球卫星，1964年10月，我国第一颗原子弹爆炸成功，1966年10月，我国导弹核武器试验成功，1967年6月，我国第一颗氢弹爆炸成功，1970年4月，我国第一颗人造卫星发射成功，两弹一星的研制成功，打破了帝国主义的核垄断，大大增强了我国的国防力量，筑起共和国钢铁长城。

故选：A。

【点评】 本题主要考查学生的识记能力以及分析问题的能力。识记与灵活掌握新中国成立后，欣欣向荣的科教文体事业成就。

17. 如图中的“元旦所依据的历法，是现在国际上通用的历法。该历法是西方的历法，并非中国所创，故又名“西历”。1912年，中华民国临时政府改用这种历法。1949年，中国人民政治协商会议决定采用公元纪年。该历法的基础是（ ）



- A. 古埃及的太阳历
B. 罗马人的儒略历
C. 中国农历即夏历
D. 苏美尔人的阴历

【解答】 题干给出图中的“元旦所依据的历法，是现在国际上通用的历法。该历法是西方的历法，并非中国所创，故又名“西历”。1912年，中华民国临时政府改用这种历法。1949年，中国人民政治协商会议决定采用公元纪年。该历法的基础是罗马人的儒略历。罗马的历法来源于古埃及人的太阳历。凯撒命人以太阳历为蓝本编制新的历法，称“儒略历”。为纠正每年将近6小时的误差，采取每4年增加1天的办法进行调整，即每逢被4整除的那一年为闰年。在2月份增加1天。4世纪，罗马皇帝以此作为基督教历法。儒历后来成为今天人们使用的公历的基础。

史实。

20. 为了纪念如图所反映的重大历史事件，法国把7月14日作为自己的国庆节。在此事件之后，制宪议会通过的《人权宣言》宣告的基本原则包括（ ）

①专制②自由③平等④法治



A. ①③

B. ①②③

C. ②③④

D. ②④

【解答】1789年7月14日巴黎起义人民攻占巴士底狱，标志着法国大革命的开始。1789年，制宪议会通过了《人权宣言》，宣告了人权、法治、自由、分权、平等和保护私有财产等基本原则。

故选：C。

【点评】注意对图片的解读，识记法国大革命和《人权宣言》的相关知识。

21. 如图所示的著作跨越了经济、政治、哲学等多个领域，为政治经济学的发展作出了划时代的贡献，是马克思主义最厚重、最丰富的著作，被誉为“工人阶级的圣经”。该“著作”的作者是（ ）



A. 马克思、恩格斯

B. 马克思

C. 恩格斯

D. 列宁

【解答】图所示的著作跨越了经济、政治、哲学等多个领域，为政治经济学的发展作出了划时代的贡献，是马克思主义最厚重、最丰富的著作，被誉为“工人阶级的圣经”。该“著作”的作者是马克思、恩格斯。1849年，马克思定居伦敦后，大英博物馆图书馆就成了马克思几乎每天必到的地方。他的大部分著作都是在那里完成的，其中《资本论》是影响巨大的杰作之一。

故选：B。

【点评】 本题主要考查学生运用所学知识解决问题的能力。识记与灵活掌握国际共运史上的重大事件以及作用。

22. 玻利瓦尔率领队伍，克服艰难险阻，越过常年积雪的安第斯山脉，打败了殖民者，解放了哥伦比亚、委内瑞拉和厄瓜多尔等地，被誉为南美的“解放者”。这里的“殖民者”来自（ ）

- A. 英国 B. 葡萄牙 C. 法国 D. 西班牙

【解答】 在拉丁美洲独立运动中，玻利瓦尔率领军队，打败了西班牙军队，由北向南，转战委内瑞拉和哥伦比亚等地，解放了西班牙在南美洲的殖民地，被誉为“南美的解放者”。D项符合题意。

故选：D。

【点评】 解答本题要熟记拉丁美洲独立运动的内容。

23. 现代塑料工业的迅猛发展，使塑料制品的应用已深入到社会的每个角落，从生产领域到衣食住行，塑料制品无处不在。但人们也发现，塑料垃圾已经悄悄地向我们涌来，严重影响着我们的身体健康和生活环境。这种工业诞生于（ ）

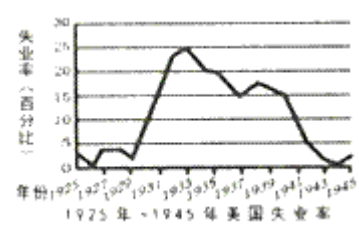
- A. 戴姆勒的发明 B. 诺贝尔的发明
C. 海厄特的发明 D. 夏尔多内的发明

【解答】 现代塑料工业的迅猛发展，使塑料制品的应用已深入到社会的每个角落，从生产领域到衣食住行，塑料制品无处不在。但人们也发现，塑料垃圾已经悄悄地向我们涌来，严重影响着我们的身体健康和生活环境。这种工业诞生于海厄特的发明。现代塑料工业诞生的标志——海厄特发明赛璐珞。1869年，美国人海厄特发明了赛璐珞，现代塑料工业由此诞生。

故选：C。

【点评】 本题考查学生识记和分析历史知识的能力，识记与灵活掌握海厄特发明的相关知识。

24. 在如图所反映的美国“失业率”变化曲线中，失业率增加幅度最大的年份区间是（ ）



- A. 1926 - 1927年 B. 1929 - 1933年
C. 1937 - 1938年 D. 1944 - 1945年

【解答】 据题干图片内容，可知美国“失业率”变化曲线中，失业率增加幅度最大的年份区间是1929 - 1933年。1929 - 1933年，经济危机首先在美国爆发，形成了前所未有的、持续最久

的世界经济大危机。特点是范围广、持续时间长，破坏性大。

故选：B。

【点评】本题考查学生对经济危机相关知识的掌握。重点识记经济危机的特点与影响。

25. 1944年6月，美、英盟军发动了目前为止世界上最大的一次海上登陆作战，成功开辟了欧洲第二战场，使德国陷入东西两面夹击之中，加速了德国的投降。该“战场”属于（ ）

A. 欧洲西线战场

B. 北非战场

C. 欧洲东线战场

D. 太平洋战场

【解答】1944年6月，美、英盟军发动了目前为止世界上最大的一次海上登陆作战，成功开辟了欧洲第二战场，使德国陷入东西两面夹击之中，加速了德国的投降。该“战场”属于欧洲西线战场。1944年6月6日，美英等同盟国军队在法国诺曼底登陆，开辟了欧洲第二战场。诺曼底登陆是第二次世界大战中规模最大的两栖登陆作战行动。它的行动代号是霸王计划。苏军也在东线对德军发动更加猛烈的进攻，盟军开始两面夹击德军，使德军面临两线作战，加速了德国法西斯的灭亡。A符合题意。

故选：A。

【点评】本题主要考查学生的识记能力以及分析问题的能力。识记与灵活掌握诺曼底登陆以及影响。

二、非选择题，共4道题，第26题14分，第27、28、29题各12分，共50分。

26. (14分) 阅读材料，结合所学知识回答问题。

材料一：北魏孝文帝拓跋宏是较早进行汉化改革的皇帝，他在公元496年，领头把复姓拓跋改为元，从此他的姓名就成了元宏。其他如独孤氏改姓为刘，步六孤氏改姓为陆。当时鲜卑民族改姓达一百多。

——摘自中新网

材料二：“太和改革”由孝文帝亲自设计和主导，基本上取得了成功。一方面是因为改革的大方向是正确的，是先进文化、制度对落后文化和制度的取代；另一方面，孝文帝本人的改革意志和决心起到了关键性作用，在改革面临保守派阻挠和挑战的时刻，孝文帝始终坚定改革方向不动摇，对破坏改革的势力进行强有力打击，扫除改革障碍，同时他还注意选贤任能，培养改革中坚力量，推动改革持续不断向前迈进。

——摘编自《北京日报》

(1) 材料一反映了北魏孝文帝实行的哪一项汉化措施？请你再列举出两项他所实行的其他汉化措施。

(2) 因当时北魏孝文帝的年号是太和，这场改革也被称为“太和改革”。这场改革的历史作用如何？

(3) 根据材料二，谈一谈北魏孝文帝改革对今天的改革有哪些重要启示？

【解答】(1) 据材料一“北魏孝文帝拓跋宏是较早进行汉化改革的皇帝，他在公元 496 年，领头把复姓拓跋改为元，从此他的姓名就成了元宏。其他如独孤氏改姓为刘，步六孤氏改姓为陆。当时鲜卑民族改姓达一百多”可知，材料一反映了北魏孝文帝实行的改汉姓的汉化措施，他所实行的其他汉化措施有说汉话、穿汉服等。

(2) 因当时北魏孝文帝的年号是太和，这场改革也被称为“太和改革”。这场改革促进了民族交融，也增强了北魏的实力。

(3) 据材料二“‘太和改革’由孝文帝亲自设计和主导，基本上取得了成功。一方面是因为改革的大方向是正确的，是先进文化、制度对落后文化和制度的取代；另一方面，孝文帝本人的改革意志和决心起到了关键性作用，在改革面临保守派阻挠和挑战的时刻，孝文帝始终坚定改革方向不动摇，对破坏改革的势力进行强有力打击，扫除改革障碍，同时他还注意选贤任能，培养改革中坚力量，推动改革持续不断向前迈进”可知，北魏孝文帝改革对今天的改革的重要启示有，改革要顺应历史发展潮流；改革要符合本国国情；改革是富国强兵之路；改革是社会进步的一大动力；开拓创新才能与时俱进；惟改革创新者胜等。

故答案为：

(1) 改汉姓；说汉话、穿汉服等。

(2) 促进了民族交融，也增强了北魏的实力。

(3) 改革要顺应历史发展潮流；改革要符合本国国情；改革是富国强兵之路；改革是社会进步的一大动力；开拓创新才能与时俱进；惟改革创新者胜等。

【点评】 本题考查北魏孝文帝改革，考查学生的理解和分析能力，解题关键是掌握基础知识。

27. (12 分) 下列材料摘自习近平《在纪念红军长征胜利 80 周年大会上的讲话》，结合所学知识回答问题。

材料一：长征出发前，由于党内“左”倾教条主义的错误领导，中央革命根据地第五次反“围剿”失败，其他根据地也遭受挫折，中国革命面临着方向和道路的抉择。面对乱云飞渡、惊涛骇浪，我们党表现出无所畏惧的伟大实践精神，表现出浴火重生的伟大创造精神，在血与火中趟出了一条走向新生、走向胜利的革命道路。

(1) 分析指出材料一中“失败”的原因。我们党从“失败”到走向新生、走向胜利”的转折点是什么？这个“转折点”具有怎样的标志性意义？

材料二：长征胜利启示我们：党的领导是党和人民事业成功的根本保证。毛泽东同志指出：谁使长征胜利的呢？是共产党。没有共产党，这样的长征是不可能设想的。中国共产党，它的领导机关，它的干部，它的党员，是不怕任何艰难困苦的。”

(2) 哪三大红军主力的会师，宣告了“长征胜利”？“长征胜利”的根本保证是什么？

材料三：长征这一人类历史上的伟大壮举，留给我们最可宝贵的精神财富，就是中国共产党人和红军将士用生命和热血铸就的伟大长征精神。

(3) “伟大长征精神”是我们取之不尽、用之不竭的力量源泉，其内涵是多方面的。请根据你的理解，列举出两个方面。

【解答】(1) 据材料可知，由于党内“左”倾教条主义的错误领导，中央革命根据地第五次反“围剿”失败，为了纠正王明“左”倾领导在军事指挥上的错误，挽救红军和中国革命的危机而召开了遵义会议，集中全力纠正博古等人在军事上和组织上“左”的错误，肯定了毛泽东的正确军事主张，选举毛泽东为中央政治局常委，遵义会议确立了以毛泽东为核心的新的党中央的正确领导，在极其危急的时刻，挽救了党，挽救了红军，挽救了革命，成为中国共产党历史上一个生死攸关的转折点，是中国共产从幼年走向成熟的标志。

(2) 1936年10月，红二方面军和红四方面军到达甘肃会宁地区，与红一方面军胜利会师。红军三大主力会，宣告长征胜利结束。“长征胜利”的根本保证是中国共产党的领导。

(3) 红军长征的胜利，为我们留下了宝贵的精神财富，值得我们青少年学习的长征精神有：崇高的爱国主义精神；艰苦奋斗、团结互助的精神；不怕困难、不怕牺牲的精神；对革命事业无限忠诚、为正义事业献身的精神。

故答案为：

(1) 党内“左”倾教条主义的错误领导；遵义会议；遵义会议确立了以毛泽东为核心的新的党中央的正确领导，在极其危急的时刻，挽救了党，挽救了红军，挽救了革命，成为中国共产党历史上一个生死攸关的转折点，是中国共产从幼年走向成熟的标志。

(2) 会宁会师。中国共产党的领导。

(3) 不怕牺牲、前赴后继的献身精神；勇往直前、英勇奋斗的大无畏精神；众志成城、团结互助的协作精神；坚定理想信念、充满信心的革命乐观主义精神；百折不挠、排除万难的革命英雄主义精神等。

【点评】 本题主要考查学生的识记能力以及分析问题的能力。理解并识记红军长征、遵义会议的相关史实。

28. (12分) 阅读材料，结合所学知识回答问题。

材料一：中华人民共和国的成立，使中国人民成为国家、社会和自己命运的主人，实现了中国向人民民主制度的伟大跨越，实现了中国高度统一和各民族空前团结，彻底结束了旧中国半殖民地半封建社会的历史，彻底结束了旧中国一盘散沙的局面…

——摘自习近平《在纪念毛泽东同志诞辰 120 周年座谈会上的讲话》

(1) 中华人民共和国的成立，实现了怎样的伟大跨越？彻底结束了旧中国怎样的历史？对世界产生了什么影响？

材料二：中国共产党在十八大以来推进我国社会发展实现历史性飞跃的同时，推进马克思主义中国化实现新的历史性飞跃。可以说，中华民族“站起来”“富起来”“强起来”的过程，得益于马克思主义中国化的不断推进，同时又促进马克思主义理论的进一步发展。社会主义在中国的活跃和兴旺、成功和胜利，是在中华民族从站起来、富起来到强起来的历史进程中实现的。

——摘自人民网《从站起来、富起来到强起来的历史性飞跃》

(2) “十八大”以来，我国社会的主要矛盾是什么？中国共产党“推进马克思主义中国化实现新的历史性飞跃”，形成的最新理论成果是什么？

(3) 请从中华民族“站起来”“富起来”“强起来”的过程中，列举出社会主义在中国取得“成功和胜利”的两项经济建设成就。

【解答】(1) 根据材料“中华人民共和国的成立，使中国人民成为国家、社会和自己命运的主人，实现了中国向人民民主制度的伟大跨越，实现了中国高度统一和各民族空前团结，彻底结束了旧中国半殖民地半封建社会的历史，彻底结束了旧中国一盘散沙的局面…”结合所学知识可知，中华人民共和国的成立，实现了中国向人民民主制度的伟大跨越。1949年10月1日下午，北京30万军民齐集天安门广场，隆重举行开国大典。毛泽东向全世界庄严宣告：中华人民共和国中央人民政府今天成立了！新中国的成立开辟了中国历史新纪元。中国结束了一百多年来被侵略被奴役的屈辱历史，真正成为独立自主的国家；中国人民从此站起来了，成为国家的主人。新中国的成立，壮大了世界和平、民主和社会主义的力量，鼓舞了世界被压迫民族和被压迫人民争取解放的斗争。(2) 2017年，中国共产党第十九次全国代表大会在北京召开。大会的主题是：不忘初心，牢记使命，高举中国特色社会主义伟大旗帜，决胜全面建成小康社会，夺取新时代中国特色社会主义伟大胜利，为实现中华民族伟大复兴的中国梦不懈奋斗。习近平在会上作了题为《决胜全面建成小康社会，夺取新时代中国特色社会主义伟大胜利》的报告。报告指出，经过长期努力，中国特色社会主义进入了新时代，这是我国发展新的历史方位，我国社会主要矛盾已经转化为人民日益增长的美好生活需要和不平衡不充分的发展之间的矛盾。在中共十九大上，习近平新时代中国特色社会主义思想被确立为中国共产党必须长期坚持的指导思想。

想。习近平新时代中国特色社会主义思想是对马克思列宁主义、毛泽东思想、邓小平理论、“三个代表”重要思想、科学发展观的继承和发展，是马克思主义中国化最新成果，是党和人民实践经验和集体智慧的结晶，是中国特色社会主义理论体系的重要组成部分，是全党全国人民为实现中华民族伟大复兴而奋斗的行动指南。

(3) 从中华民族“站起来”“富起来”“强起来”的过程中，结合所学知识可知，社会主义在中国取得“成功和胜利”的经济建设成就有一五计划、家庭联产承包责任制。1953-1957年，为了有计划地进行经济建设，我国实行了一五计划，集中主要力量发展重工业，建立国家工业化和国防现代化的初步基础；相应地发展交通运输业、轻工业、农业和商业；相应地培养建设人才。工业方面取得的成就：1953年底，鞍山钢铁公司大型轧钢厂等三大工程建成投产；1956年，中国第一个生产载重汽车的工厂——长春第一汽车制造厂生产出第一辆解放牌汽车；中国第一个飞机制造厂试制成功第一架喷气试飞机；中国第一个制造机床的工厂——沈阳第一机床厂建成投产。交通方面取得的成就：1957年，武汉长江大桥建成；同时修建了川藏、青藏、新藏公路修到“世界屋脊”。家庭联产承包责任制使农民有了生产自主权，生产积极性大大提高了；解放了农村生产力，促进了农村经济迅速发展。农村乡镇企业发展起来，为农村致富和实现现代化开辟了一条新路。

故答案为：

(1) 实现了中国向人民民主制度的伟大跨越。结束了一百多年来被侵略被奴役的屈辱历史。新中国的成立，壮大了世界和平、民主和社会主义的力量，鼓舞了世界被压迫民族和被压迫人民争取解放的斗争。

(2) 人民日益增长的美好生活需要和不平衡不充分的发展之间的矛盾；习近平新时代中国特色社会主义思想。

(3) 一五计划的完成，我国开始改变了工业落后的面貌，为社会主义工业化奠定了初步的基础，开始向社会主义工业化迈进。家庭联产承包责任制使农民有了生产自主权，生产积极性大大提高了；解放了农村生产力，促进了农村经济迅速发展。农村乡镇企业发展起来，为农村致富和实现现代化开辟了一条新路。

【点评】考查了新中国成立、“十八大”以来，我国社会的主要矛盾、形成的最新理论成果、经济建设成就等知识，注意基础知识的识记与理解。

29. (12分) 阅读材料，结合所学知识回答问题。

材料一：《纽约时报》1月14日报道，在刚刚过去的2018年，美国总统特朗普曾多次提议美国退出北大西洋公约组织。特朗普曾向其高级国家安全官员表示，他不知道这个军事同盟有何

意义，他认为这是美国的一个负担。《纽约时报》称，现在，总统对“退出北约”的反复提及，让美国国家安全官员们愈加担心，总有一天，特朗普会因为北约盟友的军费支出达不到他的要求而再次考虑退出。

- - 摘编自 2019 年 1 月 16 日《参考消息》

材料二：当地时间 22 日，美国国会众议院通过一项两党立法，表达了国会对北约的坚定支持，拒绝总统特朗普潜在尝试退出北约的任何努力。该法案还呼吁北约各成员国履行承诺，即将 GDP 的 2% 用于国防开支。众议员帕内塔强调，美国留在北约对阻止俄罗斯的战略进攻至关重要。

- - 摘编自 2019 年 1 月 23 日海外网

(1) 材料一中的“组织”成立的主要目的是遏制哪一国家？与该组织相对峙的是哪一组织？这两大组织的对峙，导致形成了怎样的世界格局？

(2) 根据材料指出，美国总统特朗普提议美国退出北约的理由是什么？针对这种理由，美国国会采取了什么措施？

(3) 美国宪法对总统与国会之间的关系是怎样规定的？结合材料二，说明美国国会拒绝特朗普尝试退出北约的主要原因。

【解答】(1) 据材料“在刚刚过去的 2018 年，美国总统特朗普曾多次提议美国退出北大西洋公约组织。特朗普曾向其高级国家安全官员表示，他不知道这个军事同盟有何意义，他认为这是美国的一个负担。《纽约时报》称，现在，总统对‘退出北约’的反复提及，让美国国家安全官员们愈加担心，总有一天，特朗普会因为北约盟友的军费支出达不到他的要求而再次考虑退出”并结合所学知识可知，材料一中的“组织”成立的主要目的是遏制苏联；与该组织相对峙的是华约；这两大组织的对峙，导致形成了两极格局。1949 年，以美国为首的 12 个西方国家代表在华盛顿集会，签订《北大西洋公约》，建立了北大西洋公约组织，形成了西方集体防御体系，以达到对抗苏联，称霸世界的目的，北大西洋公约组织成立是美国冷战政策在军事上的表现。为对抗北大西洋公约组织，1955 年，苏联、捷克斯洛伐克等 8 国建立华沙条约组织。北大西洋公约组织和华沙条约组织两大军事政治集团的建立，标志着两极格局的形成。

(2) 据材料“当地时间 22 日，美国国会众议院通过一项两党立法，表达了国会对北约的坚定支持，拒绝总统特朗普潜在尝试退出北约的任何努力。该法案还呼吁北约各成员国履行承诺，即将 GDP 的 2% 用于国防开支。众议员帕内塔强调，美国留在北约对阻止俄罗斯的战略进攻至关重要”并结合所学知识可知，美国总统特朗普提议美国退出北约的理由是北约盟友的军费支出达不到他的要求；据材料“当地时间 22 日，美国国会众议院通过一项两党立法，表达了国会对北

约的坚定支持，拒绝总统特朗普潜在尝试退出北约的任何努力。该法案还呼吁北约各成员国履行承诺，即将 GDP 的 2% 用于国防开支。众议员帕内塔强调，美国留在北约对阻止俄罗斯的战略进攻至关重要”可知，针对这种理由，美国国会通过一项两党立法，拒绝总统特朗普潜在尝试退出北约的任何努力。

(3) 美国宪法对总统与国会之间的关系是怎样规定的？据材料“当地时间 22 日，美国国会众议院通过一项两党立法，表达了国会对北约的坚定支持，拒绝总统特朗普潜在尝试退出北约的任何努力。该法案还呼吁北约各成员国履行承诺，即将 GDP 的 2% 用于国防开支。众议员帕内塔强调，美国留在北约对阻止俄罗斯的战略进攻至关重要”并结合所学知识可知，美国国会拒绝特朗普尝试退出北约的主要原因是美国留在北约对阻止俄罗斯的战略进攻至关重要。

故答案为：

(1) 北约；华约；两极格局。

(2) 北约盟友的军费支出达不到他的要求；美国国会通过一项两党立法，拒绝总统特朗普潜在尝试退出北约的任何努力。

(3) 总统享有行政权，国会掌握立法权；美国留在北约对阻止俄罗斯的战略进攻至关重要。

【点评】 本题考查学生识记和分析历史知识的能力，识记与灵活掌握北约、美国独立战争和两极格局的相关知识。



积分超值换

活动时间：2019年4月23日-6月30日
活动对象：中小学一线教师以及教育工作者

扫一扫 换礼啦

积分兑换更超值

海报背景为浅蓝色，底部有黄色波浪形装饰。中央有一个二维码，下方有“扫一扫 换礼啦”的提示。底部有“积分兑换更超值”的彩色文字，以及一个卡通人物站在书本和金币旁的插图。

会员升级服务第一拨 · 清北季



神马，有清华北大学霸方法论课；还有清华学霸向所有的父母亲述自己求学之路；

衡水名校试卷悄悄的上线了；

扫qq领取官网不首发课程，很多人我没告诉他啊！

会员qq专享等你来撩.....