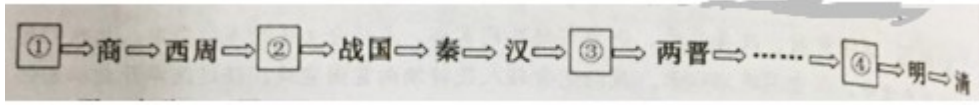


# 湖南省湘潭市 2020 中考历史真题

## 一、单项选择题(每小题 2 分，共 40 分)

1. 下图是某同学制作的中国古代朝代更替示意图。空白框①②③④处应分别



- A. 夏、春秋、三国、元  
B. 隋、春秋、东周、宋  
C. 夏、东周、唐、西夏  
D. 夏、春秋、隋、元
2. 历史史实是指客观发生的历史事实，历史观点是对历史史实的认识。以下关于唐朝的历史，属于历史观点的是
- A. 618 年，李渊建立唐朝，定都长安  
B. 唐太宗时，将文成公主嫁给松赞干布  
C. 安史之乱使唐朝国势由盛转衰  
D. 唐代高僧鉴真东渡日本，传授佛经
3. 乾隆二十二年(1757 年)，清政府规定外国商船“将来只许在广东收泊交易，不得再轮宁波。如或再来，必令原船返棹至广，不准入浙江海口”。材料反映清朝实行的政策是
- A. 重农抑商  
B. 对外开放  
C. 闭关锁国  
D. 重文轻武
4. 2020 年 5 月，圆明园遗址公园发文悼念港澳爱国人士何鸿桑，他曾两度重金购回流失海外的圆明园文物并转赠给国家。圆明园文物大量流失海外始于
- A. 鸦片战争  
B. 第二次鸦片战争  
C. 甲午战争  
D. 八国联军侵华战争
5. 1905 年，某人在加入某革命组织时郑重宣誓：“驱除鞑虏，恢复中华，创立民国，平均地权。”他加入的是
- A. 中国同盟会  
B. 中国国民党  
C. 中国共产营  
D. 兴中会
6. 下图反映了新民主主义革命时期某事件的进军路线。此事件是



- A. 北伐战争  
B. 南昌起义  
C. 秋收起义  
D. 会宁会师

7.1918年,李大钊发表《法俄革命之比较观》《庶民的胜利》和《布尔什维主义的胜利》等文章,在中国率先举起马克思主义旗帜的是

- A. 李大钊                      B. 陈独秀                      C. 胡适                      D. 鲁迅

8.下列抗日战争时期发生的著名战役与意义搭配不正确的是

选项	战役	意义
A	平型关大捷	抗战以来中国军队取得的第一个胜利
B	淞沪会战	打破了日军三个月灭亡中国的迷梦
C	台儿庄战役	抗战以来正面战场取得的最大一场胜利
D	武汉会战	中国军队主动出击日军规模最大的战役

- A. A                      B. B                      C. C                      D. D

9.审纪兰代表参加了建国以来全部十三次全国人民代表大会,下列符合她第一次参加全国人民代表大会经历的是

- A. 听到毛主席宣告中华人民共和国诞生  
B. 参与第一部社会主义类型宪法的制定  
C. 停止使用“以阶级斗争为纲”的口号  
D. 激动于习近平阐述中国梦的宏伟蓝图

10.1970年4月新华社电:“这次……成功是我国发展空间技术的一个良好开端,是毛主席无产阶级革命路线的伟大胜利,是无产阶级文化大革命的又一丰硕成果……给反革命的美帝国主义和社会帝国主义以沉重的打击,粉碎了他们垄断空间技术的迷梦。”该电文发表的背景是我国

- A. 第一颗原子弹爆炸成功                      B. 第一颗人造地球卫星发射成功  
C. 第一颗氢弹研制成功                      D. 成为掌握载人航天技术的国家

11.如果你来到“欧洲文明的发祥地”进行研学活动,你能够看到的古迹是

- A. 胡夫金字塔                      B. 罗马大竞技场                      C. 帕特农神庙                      D. 麦加清真寺

12.使日本发展成为一个中央集权的封建国家的事件是

- A. 大和的统一                      B. 大化改新                      C. 幕府统治建立                      D. 明治维新

13.下列航海家及其船队的远航证明了地圆学说正确性的是

- A. 迪亚士                      B. 哥伦布                      C. 达伽马                      D. 麦哲伦

14.文艺复兴和马克思主义诞生作为近代欧洲思想界有重大影响的事件,其共同点有

- A. 都推动了资产阶级革命运动                      B. 都适应了历史发展 要求  
C. 都是工人运动发展的产物                      D. 都把斗争矛头对准了教会

15.恩格斯曾说:“他在《人间喜剧》里给我们提供了一部法国‘社会’,特别是巴黎‘上流社会的卓越的现实

主义历史”。“他”是

- A. 巴尔扎克                      B. 莎士比亚                      C. 但丁                              D. 列夫·托尔斯泰

16.新冠疫情的爆发导致全国各级各类学校延期开学，“停课不停学”线上教学广泛进入同学们的日常生活，这得益于

- A. 终身学习制度的建立完善                                      B. 生态环境问题得到改善  
C. 经济全球化影响日常生活                                      D. 计算机网络的应用普及

17.《时代》周刊曾评选有史以来的最佳发明家，湖南耒阳人蔡伦排名第四，是因为

- A. 发明指南针                      B. 发明火药                      C. 改进印刷术                      D. 改进造纸术

18.“大将筹边尚未还，湖湘子弟满天山。新栽杨柳三千里，引得春风度玉关。”赞颂了晚清收复新疆的湘籍名人，他是

- A. 曾国藩                              B. 谭嗣同                              C. 左宗棠                              D. 邓世昌

19.抗日战争时期日军在湖南的暴行有

① 厂窖惨案②常德细菌战③南京大屠杀④旅顺大屠杀

- A. ①②                                      B. ①④                                      C. ③④                                      D. ②③

20.毛泽东在 1949 年当选为中华人民共和国中央人民政府主席，他的籍贯是

- A. 湘西桑植                              B. 长沙宁乡                              C. 岳阳汨罗                              D. 湘潭韶山

## 二、是非判断题(每小题 1 分，共 10 分)

21.老子是道家学派创始人，他在政治上主张“无为而治”。（ ）

22.从唐朝中期开始的经济重心南移，到明朝时最后完成。（ ）

23.辽沈、淮海、渡江三大战役基本消灭了国民党军队主力，加速了解放战争在全国的胜利。（ ）

24.抗美援朝战争中涌现出黄继光、邱少云等英雄人物。（ ）

25.“和平统一、一国两制”是完成祖国统一大业的基本方针。（ ）

26.以《权利法案》为基础，英国确定了国王在国家政治生活中的最高地位。（ ）

27.甘地领导 印度非暴力不合作运动打击了英国的殖民统治。（ ）

28.1947 年，杜鲁门主义的出台，标志两极格局的形成。

29.湘西龙山里耶出土的西汉女尸，对研究古代的医疗和防腐技术具有重要价值。（ ）

30.陈国达创立地洼学说，是世界科学史的大事。（ ）

## 三、材料分析题(本大题共 2 小题，第 31 题 12 分，第 32 题 13 分，共 25 分)

31.历史学家黄仁宇将秦汉时期称为中国的“第一帝国时代”。阅读材料，完成下列要求。

材料一



秦朝疆域图



西汉疆域图


材料二 汉文帝认为农业是立国之本，时常提醒百官劝课农桑。他曾两次“除田租税之半”，即租率减为三十税一。这样，农业得到较大发展，粮价大幅降低。汉初来一石值五千钱，文景时降到一石仅值数十钱至十余钱。

——高中教材《中国古代史》选修

材料三 孝武(汉武帝)穷奢极欲……外事四夷……所以异于秦始皇者无几矣。

——《资治通鉴》

材料四



《史记》书影



南阳医圣祠

- (1)秦完成统一大业是在何时? 比较材料中秦汉疆域图, 指出西汉开始对哪一地区进行了有效管辖?
- (2)材料二反映了西汉的哪盛世局面?对西汉历史发展有何影响?
- (3)材料三认为汉武帝“异于秦始皇者无几矣”, 请从政治、经济、思想和民族关系方面任选两个角度进行说明。
- (4)请写出材料四中《史记》的体例以及医圣的代表著作。
- (5)根据以上材料归纳秦汉时期的时代特征。

32.平等是人们的越山海时空的共同追求, 在对权利、种族、主权和国际地位诸多平等的孜孜追求中, 人类社会不断发展进步。阅读材料, 完成下列要求。

材料一 法国大革命的重要特点就是广泛实践人民主权，追求平等。为了追求平等，革命者不仅规定法律面前人人平等，人人可担任官职、公共职务和职位，他们甚至敢于放弃一部分经济自由，对财产权加以限制。

——杨宁一 《历史学习新视野新知识》

材料二 废奴运动不仅是一个敏感的问题，它并非像当代人们所说的那样是“人道主义”的推动力，而且是群岛和整个世界上实现民主的必要条件之一。按照基督教奴隶制运动的观点，在上帝眼中一律平等的人类的博爱受到这样的亵渎是无法接受的。他们认为这就是等于违背神的意志。因此，与奴隶贸易和奴隶制进行斗争的这两派均受到对博爱和对全人类一概不管的他们的血统或肤色如何一律平等的基本关注的驱使。

——伊夫·贝诺《欧洲人的道德心和黑奴贸易》，黄有馥译

材料三 从不平等条约产生的那一刻起，清政府便开始了反抗斗争，但收效甚微。……太平洋战争爆发后，中国正式对德、意、日宣战，同时宣布废止中德、中意、中日间所有旧条约，1943年，中国同英、美等国签订了《关于取消在华领事裁判权及处理有关问题之条约》，之后陆续与其他在华享有各种特权的国家签订了类似条约。至此，一百年以来中国与西方国家所签订的不平等条约皆告废止。

——摘编自王建朗《中国废除不平等条约的历史考察》

材料四 在近50年来世界历史从分散发展走向整体发展的进程中，西方世界自19世纪开始占领支配地位、西方独立主导者的接力相继在西班牙、荷兰、英国、美国之间转换收接。西方主宰下的国际秩序基本上是一种“等级体系”。

——摘编自苏长和《从历史维度认识国际秩序的演进》

(1)根据材料一并结合所学知识，说明法国大革命中哪些史实能体现“广泛实践人权，追求平等”？革命爆发与哪一场思想解放运动有直接联系？

(2)根据材料二概括废奴运动的兴起与哪一思想有关？19世纪中期美国为追求种族平等颁布了哪一法律文献？

(3)根据材料三并结合所学知识，分析清政府反抗不平等条约斗争收效甚微的原因。结合时代背景说明1943年前后中国能够废止不平等条约的原因。

(4)根据所学知识概括。影响材料四中“西方秩序主导者”发生变化的因素有哪些？

(5)21世纪是中国的世纪，中国应该如何破除以“等级体系”为特征的国际旧秩序？

#### 四、问答题(10分)

33.俄国(苏联)的历史是一部不断追寻大国梦想，苦难与辉煌交织的历史。

请回答：

(1)俄国的近代化始于哪一事件? 1861 年改革为俄国资本主义的发展提供了哪些条件?

(2)1921 年, 面对战时共产主义政策引发的政治经济危机, 列宁采取了哪一政策? 该政策的哪内容最有利于激发农民的生产积极性?

(3)列举一例苏联为世界反法西斯战争胜利做出的重大贡献。造成 1991 年苏联解体的制度根源是什么?

(4)通过对俄国(苏联)历史的学习和理解, 你得到了哪些启示和教训?

## 五、探究题(15 分)

34.2020 年是决胜脱贫攻坚、全面建成小康社会的收官之年。对美好生活的向往是各国人民的共同追求, 各国政府, 都把改善民生放在执政的重要位置。阅读材料, 完成下列要求。

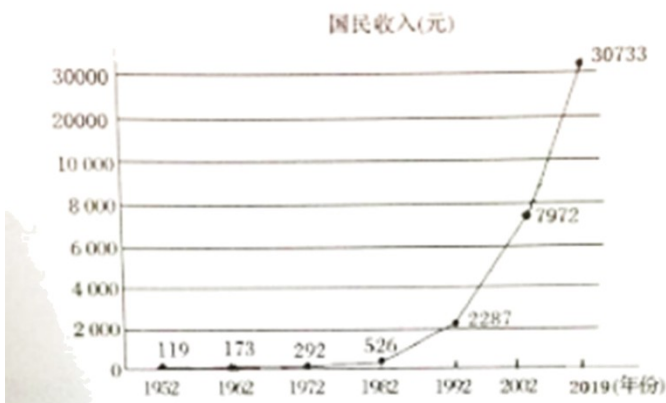
材料一罗斯福执政初期, 全国 1700 多万失业人员及其亲属维持生计全靠州政府、市政府及私人慈善事业的帮助和施舍。但这部分财源相对于如此庞大的失业大军, 无异于杯水车薪。解决这一复杂的社会问题, 只有联邦政府才能办到。

——《一本书读懂美国史》

材料二通常所说的“福利国家”是包括混合经济、充分就业、收入均等、社会福利、社会保障等内容在内的一揽子政策目标的总称。现代“福利国家”制度是直到第二次世界大战即将结束, 各资本主义国家面临国家重建问题时才得以真正确立...福利制度确实为各国社会成员谋得许多福祉, 它促进了社会平等, 缩短了贫富差距, 杜绝了因贫困引发的许多社会问题, 展示出西方民主的价值和普遍的社会关怀。然而, 福利国家制度也也存在一些弊端, 它培植社会惰性, 降低社会发展效率, 并成为国家沉重的财政负担, 进而引发经济停滞和通货膨胀。

——《人教版历史必修二教师用书》

材料三国民收入是反映社会居民贫困程度的一个重要指标, 以下是新中国 1952- 2019 年国民收入变化图。



材料四消除贫困、改善民生、逐步实现共同富裕, 是社会主义的本质要求, 是我们党的重要使命。新中国成立以来, 我们党带领人民持续向贫困宣战。经过改革开放以来的努力, 我们成功走出了一条中国特

色扶贫开发道路，使 7 亿多农村贫困人口成功脱贫，为全面建成小康社会打下了坚实基础。

——摘自习近平《在中央扶贫开发工作会议上的讲话》

(1)根据材料一并结合所学知识，指出造成罗斯福执政初期“庞大的失业大军”的直接原因是什么？为此罗斯福采取了什么具体措施？体现了罗斯福新政的什么特点？

(2)二战后西欧社会的贫困问题日显，各国纷纷实施“福利国家”制度缓解危机。请从材料二中提取关于“福利国家”制度的一个观点，并对观点进行论述。（要求：观点明确，论证充分，表述清晰）

(3)材料三反映了新中国成立以来国民收入的变化，请任选一个阶段(1952 -1962 年，1962-1972 年，1972-1982 年；1982-1992 年，1992—2002 年，2002-2019 年)，概括这阶段国民收入的变化趋势并分析其原因。

(4)根据材料四说明我党为何要狠抓脱贫攻坚工作？结合所学知识谈谈完成脱贫攻坚工作的重要意义。

## 试卷相关说明

本试卷的题干、答案和解析均由组卷网 (<http://zujian.xkw.com>) 专业教师团队编校出品。登录组卷网可对本试卷进行**单题组卷**、**细目表分析**、**布置作业**、**举一反三**等操作。

试卷地址：[在组卷网浏览本卷](#)

---

组卷网是学科网旗下的在线题库平台，覆盖小初高全学段全学科、超过 900 万精品解析试题。关注组卷网服务号，可使用移动教学助手功能（布置作业、线上考试、加入错题本、错题训练）。



---

学科网长期征集全国最新统考试卷、名校试卷、原创题，赢取丰厚稿酬，欢迎合作。  
钱老师 QQ : 537008204    曹老师 QQ : 713000635