

广西梧州市 2018 年中考历史真题试题

说明：1．本试为历史考试的试卷，闭卷考试，共 5 页（试题卷 4 页，答题卡 1 页）。考试时间共 60 分钟，满分共 60 分。

2．答题前，请将准考证号，姓名、座位号写在答题卡指定位置，答案涂写在答题卡相应的区域内，在试上答题无效。

第 I 卷（选择题，共 30 分）

（本大题共 15 小题，每小 2 分，共 30 分。下列各小题列出的四个选项中。只有一是最合题意的答案。）

（2018 广西梧州）1．“自今以后，大清皇帝愿准英国人……寄居大清沿海之广州、厦门、福州、宁波、上海五处通商口岸，贸易通商无碍。”该材料反映的条约是

- A．《南京条约》 B．《北京条约》
C．《马关条约》 D．《辛丑条约》

【解析】由“大清皇帝恩准英国人…寄居大清沿海之广州、厦门、福州、宁波、上海五处通商口岸，贸易通商无碍”结合所学知识可知，材料反映的是《南京条约》。故选：A。

（2018 广西梧州）2．“学生激扬焚贼府，商人奋起游街巷。众工人，上阵露锋芒，春雷响……气轩昂，誓与列强争抗。抖擞中华民众志。”这首诗词反映的历史事件是

- A．太平天国运动 B．五四爱国运动
C．国民革命运动 D．土地改革运动

【解析】题干材料反映了，学生怒烧赵家胡同、商人罢市、工人罢工，结合所学知识可知，这反映的是五四运动。故选：B。

(2018 广西梧州) 3. 1911 年 2 月 5 日, 法国《小日报》刊登的一幅石印画(右图)再现了当时一些中国人当众剪掉长辫的场景。该画反映出



- A. 剪辫易服已成为当时社会的共识
- B. 清王朝的封建专制统治已被推翻
- C. 民国剪辫易服法令得到贯彻
- D. 中国社会习俗呈现新旧并存特征

【解析】本题考查分析材料的能力。石印画反映的是一些中国人当众剪掉长辫的场景, 并非社会共识, A 错误, 从时间上来看, 辛亥革命尚未爆发, B、C 错误。

故选: D。

(2018 广西梧州) 4. 1956 年, 全国 96.39% 的农户加了农业合作社, 91.7% 的个体手工业者参加了手工业合作社, 99% 的资本主义工商业实行了全行业的公私合营, 该材料表明我国

- A. 实行了农民土地所有制
- B. 实现了社会主义公有制
- C. 发动了人民公社化运动
- D. 实现了社会主义工业化

【解析】本题考查“三大改造”。题干材料的相关数据表明我国实现了社会主义公有制。故选: B。

(2018 广西梧州) 5. 党的十一届三中全会后, 我国农村进行了轰轰烈烈的社会改革。在农村改革的推动下, 城市改革全面展开的时间和重点分别是

- A. 1978 年、国有企业改革
- B. 1979 年、扩大招商引资
- C. 1980 年、扩大招商引资
- D. 1985 年、国有企业改革

【解析】本题考查识记能力。依据所学知识可知, 从 1985 年起, 城市经济体制改革全面展开, 重点是国有企业的改革。故选: D。

(2018 广西梧州) 6. 邓小平是我国实行改革开放和社会主义现代化建设的总设计师。下列不属于邓小平理论内容的是

- A. “一国两制”伟大构想
- B. 社会主义初级阶段理论
- C. 社会主义建设总路线
- D. 社会主义市场经济体制

【解析】 本题考查邓小平理论。根据所学知识可知，“一国两制”的伟大构想、社会主义市场经济体制、社会主义初级阶段理论都是邓小平理论的重要组成部分，社会主义建设总路线是毛泽东思想的内容。故选：C。

(2018 广西梧州) 7. 1987 年 2 月，部分台湾同胞发起返乡运动……当年的母亲节，一些老兵穿着“想家”的 T 恤衫，在集会上演唱《母亲您在何方？》，老兵们哭成一片，这反映了

- A. 台胞期盼当局放开赴大陆探亲的限制
- B. “台湾特别行成区”得到台胞普遍认同
- C. 海峡两岸已经达成“一个中国”的共识
- D. 港澳回归奠定海峡两岸民间交流基础

【解析】 本题考查解读材料的能力。题干中台湾同胞的思乡之情反映了他们期盼当局放开赴大陆探亲的限制，A 符合题意，正确。故选：A。

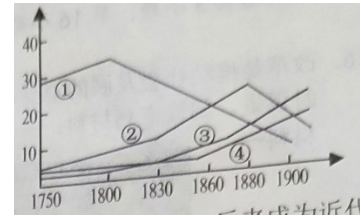
(2018 广西梧州) 8. “公民通常在半圆形的山坡上集会，确保每一个参与讨论内政、外交问题的人，不仅能看到发言的人，也可以看到其他出席的人。”该材料反映了雅典

- A. 建筑水平高超
- B. 文化繁荣昌盛
- C. 实行民主政治
- D. 注重法制建设

【解析】 本题考查解读材料的能力。依据题干材料中的“参与讨论内政、外交问题”可知，这反映了雅典实行民主政治。故选：C。

(2018 广西梧州) 9. 右图为 1750 年以来中国、美国、德国(德意志)、英国在世界制造产业中的份额曲线图。其中代表德国的曲线是

- A. ① B. ② C. ③ D. ④



【解析】 本题考查运用所学知识分析解决问题的能力。依据所学知识可知，①代表中国，中国没有抓住第一次工业革命的机会，所以在第一次工业革命后份额下降；②代表英国，③代表美国，④代表德国。第一次工业革命首先在英国进行，使英国成为“世界工厂”；第二次工业革命主要以美、德为中心，美德两国成为第二次工业革命中的新兴国家，超过英国，英国则有所下降。故选：D。

(2018 广西梧州) 10. 1804 年，他建立法兰西第一帝国。他在位期间，颁布了《法典》……后来成为近代欧洲各国资产阶级法典的范本。材料中的“他”是

- A. 华盛顿 B. 拿破仑
C. 伏尔泰 D. 马克思

【解析】 据所学知识可知，1804 年，拿破仑建立法兰西第一帝国。拿破仑在位期间，颁布了《法典》，这是资产阶级国家的第一部民法典。故选：B。

(2018 广西梧州) 11. 1933 年 1 月，斯大林在报告中指出：1932 年苏联工业总产值与 1928 年相比，其水平增加到 219%。对此分析错误的是

- A. 完成了第一个五年计划 B. 计划经济体制发挥积极作用
C. 政府重点发展重工业 D. 工业总产值跃居世界第一位

【解析】 本题考查苏联工业发展迅速的原因。注意题干中的时间 1928 和 1932。依据所学知识可知，第一个五年计划完成后，苏联工业总产值跃欧洲第一、世界第二。D 说法错误。故选：D。

(2018 广西梧州) 12. 在罗斯福新政期间, 美国政府制定了很多法律法规, 例如: 通过《紧急银行法》, 整顿金融; 通过《农业调整法》, 恢复农产品价格; 通过《全国工业复兴法》, 加强对工业的指导。这些措施的特点是

- A. 通过立法干预经济 B. 采用自由放任政策
C. 实行农业集体化 D. 全力发展重工业

【解析】 本题考查分析材料的能力。结合所学知识可知, 在罗斯福新政期间, 美国政府制定很多法律法规, 就是希望通过立法干预经济, 渡过经济危机。A 符合题意。故选: A。

(2018 广西梧州) 13. “不论是从战争史还是二战以后的世界历史看, 它都具有里程碑的意义, 它首次宣布正义国家将结成同盟, 不仅是为了保护国家免于外来侵略, 而且是为了世界一切人的人权免于强权的蹂躏。”该材料反映的文献是

- A. 《凡尔赛和约》 B. 《九国公约》
C. 《联合国宣言》 D. 《共产党宣言》

【解析】 解答本题的关键在于抓住题干中的“二战”“正义国家将结成同盟”可知, 该材料反映的文献是《联合国宣言》。故选: C。

(2018 广西梧州) 14. 根据下面的《主要资本主义国家经济增长率 (%) 统计表》, 该表体现了 1952 年至 1970 年主要资本主义国家经济发展的基本趋势是

时间 (年)	日本	美国	英国	联邦德国	法国
1952-1960	8.2	2.8	2.7	7.5	4.8
1961-1970	11.2	4.1	2.8	4.8	5.8

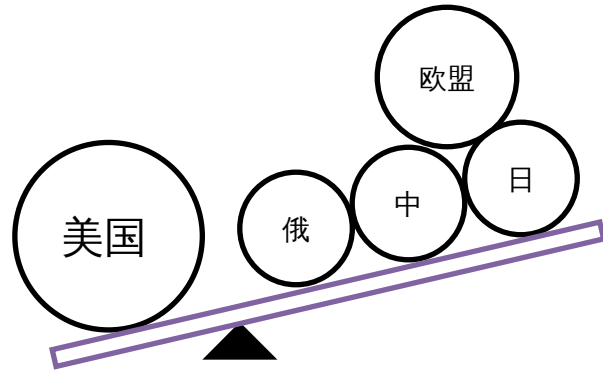
- A. 一波三折 B. 持续发展
C. 停滞不前 D. 危机四伏

【解析】本题考查分析材料的能力。根据题干给出的《主要资本主义国家经济增长率(%)统计表》中数据各国都有不同程度的增长可以看出,1952年至1970年主要资本主义国家经济发展的基本趋势是持续发展。故选:B。

(2018 广西梧州) 15. 下列图片反映了当今世界经济、政治的发展趋势。据此判断, 正确的是



WTO 标志



- A. 全球化、多极化 B. 工业化、全球化
C. 信息化、全球化 D. 信息化、多极化


【解析】本题考查识记能力。依据所学知识可知, 当今世界发展的趋势是经济全球化和政治多极化。故选:A。

第 II 卷 (非选择题, 共 30 分)

(本大题共 3 小题, 第 16 小题 10 分, 第 17 小题 11 分, 第 18 小题 9 分, 共 30 分。)

(2018 广西梧州) 16. 改革是推动社会发展的重要动力, 一个国家、一个民族要发展, 就要不断改革, 与时俱进。阅读下列材料:

材料一:



图一江南制造总局



图二上海轮船招商局

材料二：他十七岁中举，后师从康有为，成为资产阶级改良派的宣传家……与康有为一起联合各省举人发动“公车上书”……并著《变法通议》为后来的戊戌变法做宣传。

材料三：中共十八大后我国深化改革大事记

2013年12月 中共中央政治局召开会议，决定成立中央全面深化改革领导小组，中共中央总书记习近平担任领导小组组长。

2015年12月 我国首家知识产权专门法院——北京知识产权法院正式成立，开始受理案件。

2016年4月 中共中央总书记习近平在主持召开中央全面深化改革领导小组第二十三次会议上强调：改革既要往增添发展新动力方向前进，也要往维护社会公平正义方向前进。

阅后回答下列问题：

(1) 根据材料一结合所学知识，指出图一、图二企业创办者的派别及其提出的口号，简评这个派别创办的企业对当时中国经济所起的积极作用。（5分）

(2) 根据材料二结合所学知识，指出材料中的“他”是谁？写出戊戌变法在经济方面的措施。（2分）

(3) 根据材料三，归纳我国推进改革不断深化的方式有哪些？根据材料二、三反映的历史史实，指出改革在中国思想发展史上产生的共同作用是什么？（3分）

【解析】（1）本题考查洋务运动。图一是江南制造总局、图二是上海轮船招商局；结合所学知识可知，其创办者的派别是洋务派；然后结合所学知识，不难答出后面的问题。

（2）本题考查分析材料的能力。据材料并结合所学知识可知，“他”是梁启超。第2小问属于对教材基础知识的考查，直接依据所学知识作答即可。

(3) 本题考查归纳概括能力。对材料进行归纳即可。

【答案】 (1) 洋务派；自强、求富；中国出现了第一批近代企业，为中国的近代化开辟了道路，在客观上为中国民族资本主义的产生和发展起到了促进作用。

(2) 梁启超；鼓励私人兴办工矿企业。


(3) 成立中央全面深化改革领导小组、成立北京知识产权法院、召开中央全面深化改革领导小组会议。改革推动了思想再解放。

(2018 广西梧州) 17. 中美关系是当今世界最重要的国际关系之一，两国关系的变化对世界具有重要影响，回顾两国关系的历史具有重要的现实意义。阅读下列材料：

材料一：1958 年，美国人伊罗生出版《浮光掠影——美国关于中国与印度的形象》一书，将美国对中国的总体看法分为六个阶段：……②轻视阶段（1840 年～1905 年）……④赞赏阶段（1937 年～1945 年）……敌对阶段（1949 年～1958 年）

——袁明《略论中国在美国的形象》

材料二：右图漫画《吊高球》（20 世纪 70 年代初）



《吊高球》

材料三：2017 年 4 月 6 日，国家主席习近平在美国佛罗里达州海小朋友庄园同美国总统特朗普举行中美元首会晤。习近平指出，合作是中美两国唯一正确的选择，我们两国完全能够成为很好的合作伙伴。习近平强调，中美两国关系好，不仅对两国和两国人民有利，对世界也有利。

——摘自新华网

阅后回答下列问题：

(1) 根据材料一结合所学知识，指出美国在“②轻视阶段”直接参与了哪一次侵华战争？在“④赞赏阶段”，1943年11月，中、美、英三国首脑联合发表了什么文献？美国的对华态度变化（由轻视到赞赏）的主要原因是什么？（4分）

(2) 根据材料一结合所学知识，概括美国在新中国成立初期的对华政策。此时，中国政府奉行什么样的外交政策？（2分）

(3) 根据材料二结合所学知识，指出该漫画体现了怎样的观点？（1分）

(4) 根据材料三，指出国家主席习近平对中美关系是如何定位的？综合上述三则材料，概括正确处理中美两国关系的主要方式及其世界政治意义。（4分）

【解析】 (1) 本题考查中美关系的变迁。做题时要紧扣时间线，再结合所学知识便不难得出答案。结合所学知识可知，美国在“②轻视阶段”直接参与了八国联军侵华战争；在“④赞赏阶段”，1943年11月，中、美、英三国首脑联合发表了《联合国家宣言》；美国对华态度变化（由轻视到赞赏）的主要原因是，中国的抗日战争是世界反法西斯战争的一部分，牵住了日本大量的兵力，付出了巨大的民族牺牲，为世界反法西斯战争的胜利作出了巨大贡献。

(2) 根据材料一“⑥敌对阶段（1949年~1958年）”结合所学知识，美国在新中国成立初期的对华政策是敌视，政治上孤立、经济上封锁。新中国成立后，我国奉行和平外交政策的前提条件是独立自主。新中国奉行独立自主的和平外交政策。

(3) 根据材料二“《吊高球》（20世纪70年代初）”结合所学知识可知，漫画体现了20世纪70年代，由于多种因素在作用，美国绕开外部影响开始谋求与中国改善外交关系。

(4) 本题考查对材料的概括能力，依据国家主席习近平的话可知，他对中美关系定位为很好的合作伙伴；综合上述三则材料可知，正确处理中美两国关系的主要方式是友好合作；中美两国是世界大国，同时也是社会制度与意识形态不同的两个大国，两国关系直接影响到世界和平与稳定；随着世界经济全球化的趋势加强，两国之间应该加强合作、发展友好关系，这对世界和平、稳定、发展具有重要意义。

【答案】

(1) 八国联军侵华战争；《联合国宣言》；中国的抗日战争是世界反法西斯战争的一部分，牵住了日本大量的兵力，付出了巨大的民族牺牲，为世界反法西斯战争的胜利作出了巨大贡献。

(2) 敌视；独立自主的和平外交政策。

(3) 美国谋求与中国改善外交关系。

(4) 合作伙伴；友好合作；对世界和平、稳定、发展具有重要意义。

(2018 广西梧州) 18. 阅读下列材料：

实现近代化是近代以来世界各国发展的必由之路。14 世纪-20 世纪初是一个群星璀璨、风起云涌的时期，“人文主义”、“民主法制”、“大机器生产”等词汇的出现和使用就是最好的证明。

材料一：14 世纪—19 世纪上半期西方近代化历程的示意图

材料二：1689 年《权利法案》、1776 年《独立宣言》、1789 年《人权宣言》被视为这一时期最具代表性的三份人权文献……

——林亨特《人权的发明：一部历史》

阅后回答下列问题：

(1) 根据材料一结合所学知识，完成图中①②③④未填写的历史事件。（4 分）

(2) 根据材料二结合所学知识，指出三份法律文献在内容方面的相同点是什么？并简述当时欧美资产阶级革命体现了怎样的政治发展趋势？（3 分）

(3) 19 世纪 60、70 年代，更多的国家进行了资产阶级革命、或改革。结合所学知识，举其中一个资产阶级改革事件并分析其发生的根本原因。（2 分）

【解析】（1）本题属于对基础知识的考查。14 世纪到 16 世纪的文艺复兴和 17 世纪到 18 世纪的启蒙运动是近代欧洲的两次思想文化运动，因此①文艺复兴；新航路的开辟把世界各个地区连在了一起，打破了以往世界各个地区相互隔绝和孤立发展的局面，因此②新航路开辟；欧美早期资产阶级革命的典型事例包括英国资产阶级革命、美国独立战争、法国大革命，因此③法国大革命（或法国资产阶级革命）；工业革命是一场以大机器生产取代手工劳动的革命，因此④工业革命。

(2) 本题考查归纳概括能力。《权利法案》、《独立宣言》、《人权宣言》在内容上都主张自由、平等、民主、法制。英国资产阶级革命、美国独立战争、法国大革命体现的政治趋势是以民主代替专制、以法治代替人治。

(3) 本题考查资产阶级改革查的典型示例。19世纪60、70年代，资产阶级改革的典型事例有俄国1861年改革、日本明治维新。

【答案】

(1) ①文艺复兴；②新航路开辟；③法国大革命（或法国资产阶级革命）；④工业革命。

(2) 都主张自由、平等、民主、法制。政治趋势：以民主代替专制、以法治代替人治。

(3) 俄国1861年改革；农奴制阻碍了资本主义的发展；（或日本明治维新；民族危机空前严重）。