

四川省成都市 2018 年中考历史真题试题

第 I 卷 (选择题, 共 48 分)

一、选择题 (下列各题中只有一个正确的或是符合题意的选项。每小题 2 分, 共 48 分)

1. 陕西西安栎阳城遗址是“2017 年度全国十大考古新发现”之一, 经考古认定是商鞅变法的发生地。该遗址位于战国时期的

A. 齐国 B. 赵国 C. 秦国 D. 楚国

【答案】C

【解析】依据所学知识可知, 战国时期秦国的秦孝公即位以后, 决心图强改革, 任用商鞅进行变法, 促使秦国强大起来。所以商鞅变法发生地的遗址位于战国时期的秦国。故选 C。

2. 秦统一六国后, 规定以一种圆形方孔钱作为全国通行的货币。该圆形方孔钱是

A. 半两钱



B. 五铢钱



C. 开元通宝



D. 洪宪通宝



【答案】A

【解析】依据所学知识可知, 秦统一六国后, 将圆形方孔半两钱作为统一的货币。B 项是汉武帝时期统一的货币; C 项是唐朝唐玄宗时期的货币; D 项洪宪通宝是袁世凯时期流通的货币。故选 A。

3. 《霓裳羽衣》能够成为古代乐舞的代表作, 与丝绸之路上的中西乐舞交流分不开。西汉时期, 为这种交流创造了条件的历史人物是

A. 张骞 B. 班超 C. 鉴真 D. 玄奘

【答案】A

【解析】根据材料中的关键词“丝绸之路”结合所学知识可知, 西汉时期的张骞两次出使西域, 为丝绸之路的开辟做出了巨大的贡献, 促进了中西文化的交流。B 项班超是东汉时期负责经营西域的人物, 与题意时期不符; C 项和 D 项是唐朝时期中外交往的人物, 与题意时期不符。故选 A。

4. 唐朝时, 新科进士们在长安大雁塔上题写自己的姓名以作长久的纪念, 此举被称为“雁塔题名”。产生这

些“新科进士”的选官制度是

- A. 世袭制 B. 九品中正制 C. 三省六部制 D. 科举制

【答案】D

【解析】依据所学知识可知，进士是科举考试的重要科目，所以唐朝时期“新科进士”的选官制度是科举制度。A项是继承制度；B项九品中正制是魏晋南北朝时期重要的选官制度；C项三省六部制是古代的中央官制。故选D。

5. 元朝为了加强对全国的统治，建立了行省制度，并在中央设宣政院。下图中，宣政院辖地是

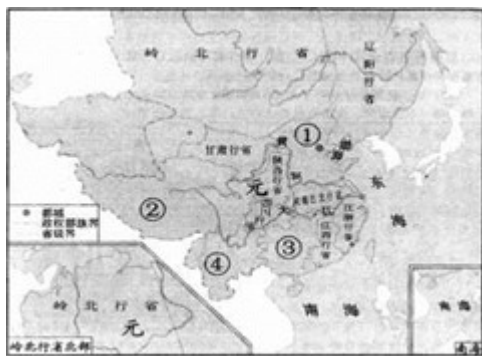


图1 元朝疆域图

- A. ① B. ②
C. ③ D. ④

【答案】B

【解析】根据图片结合所学知识可知，宣政院是元朝时期设置的专门负责管理西藏的机构，图片中②是宣政院的辖地。①是中书省；③是湖广行省；④是云南行省。故选B。

6. 据《清史稿》记载，施琅曾谏言：“台湾虽在外岛，关四省要害，断不可弃”。1684年，统治者采纳其谏言并设置台湾府。这位统治者是

- A. 康熙皇帝 B. 雍正皇帝
C. 乾隆皇帝 D. 道光皇帝

【答案】A

【解析】依据所学知识可知，1684年，康熙皇帝时期，清政府设台湾府，隶属福建省，加强了台湾同内地的联系，促进了台湾的开发，同时巩固了祖国的东南海防。BCD项不符合题意，故选A。

7. 民国元年，为紧跟时势，商务印书馆编纂了《共和国教科书》，推崇爱国、平等、自由、权利、义务等理念。发生在这一年，与该套教科书编纂有直接关联的重大历史事件是

- A. 武昌起义 B. 中华民国成立 C. 新文化运动 D. 五四运动

【答案】B

【解析】依据题干“民国元年”“《共和国教科书》”，结合课本所学，武昌起义后，各省纷纷独立，需要一个

统一的中央政府。1912年1月1日孙中山在南京宣誓就职，宣告中华民国临时政府成立，以1912年为民国元年，开始民国纪年法。中华民国是资产阶级共和国。B项符合题意。由此可知ACD三项不合题意，故选择B。

8. 长征途中，出现了许多可歌可泣的故事。其中，红军总参谋长刘伯承和彝族首领小叶丹“葬海结盟”的故事，发生在中央红军

- A. 四渡赤水之前 B. 挺进大渡河之前
C. 飞夺泸定桥之后 D. 翻越夹金山之后

【答案】B

【解析】依据所学知识可知，北上红军进入四川冕宁后，艰险异常的大凉山百里彝区横亘在红军面前。通过执行党的民族政策，红军先遣部队刘伯承司令、聂荣臻政委与彝族首领小叶丹在彝海边相见，歃血盟誓结为兄弟，小叶丹护送红军大队顺利通过了百里彝区，为红军之后的抢渡大渡河、飞夺泸定桥赢得了宝贵时间，实现了北上抗日军事大转移。所以“葬海结盟”的故事发生在挺进大渡河之前，所以B项符合题意，故选B。

点睛：解答本题的关键是需要牢记红军长征的过程：冲破敌人四道封锁线——强渡乌江——攻占黔北重镇遵义——1935.1遵义会议——四渡赤水——巧渡金沙江——强渡大渡河——飞夺泸定桥——夹金山——大草地——进入甘肃、陕西。“葬海结盟”的故事是在强渡大渡河之前，由此可以做出正确选择。

9. 口述史料是史料的表现形式之一。下列研究抗日战争的史料中，属于口述史料的是

- A. 《卢沟桥事变形势图》 B. 《义勇军进行曲》
C. 《吕正操（抗日名将）回忆录》 D. 《论联合政府》

【答案】C

【解析】根据题意分析选项可知，A项是采用地图的形式呈现史料；B项是通过歌曲的形式表达历史；C项回忆录是通过历史人物的口述呈现的历史史料；D项是通过文献的形式呈现的史料。所以C项符合题意，故选C。

10. 1948年辽沈战役中，某国民党军官在锦州被解放军俘获后，感叹说：“锦州好比一条扁担，一头挑东北，一头挑华北，现在是中间折断了。”据此可知，解放军攻克锦州

- A. 截断了东北国民党军队的退路 B. 为解放长江以南各省奠定了基础
C. 基本消灭了国民党军队的主力 D. 宣告了国民党在大陆统治的覆灭

【答案】A

【解析】依据题干中的关键词“1948年10月”“锦州好比一条扁担，一头挑东北，一头挑华北，现在是中间

折断了”可知，这是辽沈战役。根据史实，辽沈战役采用的是毛泽东“关门打狗”的作战方法。攻占锦州是辽沈战役中的关键战斗，锦州的解放使得东北和华北的国军被切断了联系，即“扁担被折断了”。A项符合题意；淮海战役为解放长江以南各省奠定了基础，B项不合题意；三大战役基本消灭了国民党军队的主力，C项不合题意；渡江战役解放了南京，宣告了国民党在大陆统治的覆灭。D项不合题意。由此可知BCD三项不合题意，故选择A。

11. 某宗教最基本的宗教活动是“五功”，其最大的教派有逊尼派和什叶派。据此判断，该宗教是
A. 道教 B. 佛教 C. 基督教 D. 伊斯兰教

【答案】D

【解析】依据所学知识可知，伊斯兰教的基本宗教制度可以概括为念、礼、斋、课、朝五项宗教功修，称之为“五功”。逊尼派和什叶派是伊斯兰教的两个主要教派。D项符合题意，故选D。

12. “地理大发现是世界历史上最重大的事件之一，它打破了世界各地的孤立状态，世界贸易的范围空前扩大，真正意义上的世界市场开始形成。”该材料体现的是新航路开辟的
A. 历史背景 B. 必备条件 C. 主要过程 D. 重要影响

【答案】D

【解析】依据课本所学，新航路开辟后从欧洲到亚洲、美洲和非洲等地的交通往来日益密切，世界开始连成一个整体，被成为“地理大发现”。题干“它打破了世界各地的孤立状态，世界贸易的范围空前扩大，真正意义上的世界市场开始形成。”反映了新航路的开辟对世界的影响。D项符合题意。由此可知ABC三项不合题意，故选择D。

13. “光荣革命”使英国通过和平方式完成了政权的更迭，避免了流血冲突。事后，资产阶级和新贵族为限制王权，给国王戴上了一个“紧箍咒”。这里的“紧箍咒”是指
A. 《独立宣言》 B. 《人权宣言》 C. 《权利法案》 D. 《1787年宪法》

【答案】C

【解析】依据所学知识可知，英国在资产阶级革命后颁布了《权利法案》，确立了君主立宪制的资本主义政治体制，限制了国王的权利，给国王戴上了一个“紧箍咒”。A项是，美国独立战争时期颁布的文献；B项是法国大革命时期颁布的文献；D项是美国独立后颁布的法律文献。故选C。

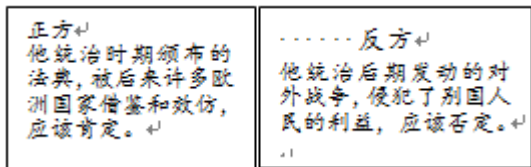
14. “1777年7月，英军退到萨拉托加，还没来得及安营扎寨，就被从四面八方赶来的两万多民兵和迅速开到的大陆军包围，英军只得放下武器投降。”该战役的胜利成为了美国独立战争的
A. 导火线 B. 开始的标志 C. 转折点 D. 结束的标志

【答案】C

【解析】根据材料内容结合所学知识可知，1777年的萨拉托加大捷是美国独立战争的转折点。A项1773年的波士顿倾茶事件是美国独立战争的导火线；B项1775年来克星顿的枪声是美国独立战争开始的标志；D项1783年英国承认美国独立，是美国独立战争结束的标志。故选C。

点睛：解答本题的关键是掌握美国独立战争过程中的标志性事件，不要混淆知识点，即可做出正确的判断。

15. 九年级2班的同学在学习欧美早期资产阶级革命时，针对某历史人物举行了一场辩论会。下图为双方辩手的部分观点，据此判断，该历史人物是



- A. 克伦威尔 B. 华盛顿
C. 罗伯斯比尔 D. 拿破仑

【答案】D

【解析】根据图片的内容结合所学知识可知，1804年法国的拿破仑颁布了《民法典》，成为资本主义社会的立法规范；拿破仑统治时期的对外战争前期具有正义性，后期具有侵略性，侵犯了别国的利益。D项符合题意。A项克伦威尔是英国资产阶级革命时期的代表人物；B项华盛顿领导了美国的独立战争；C项罗伯斯比尔是法国大革命时期雅各宾派的代表人物。故选D。

16. 英国科学家赫胥黎看完《物种起源》后，马上给作者写信说：“如果是必须的话，我准备接受火刑，也要支持你的理论。”该“作者”是

- A. 牛顿 B. 达尔文 C. 法拉第 D. 爱因斯坦

【答案】B

【解析】依据所学知识可知，1859年英国生物学家达尔文发表了《物种起源》，阐述了生物进化论的观点。A项牛顿的贡献是力学；C项法拉第发现了电磁感应现象；D项爱因斯坦的成就是相对论。故选B。

17. 19世纪六七十年代，为顺应时代潮流，世界上许多国家不约而同地进行了改革或革命。

某班同学对此进行了探究并得出结论，下列史实与结论对应正确的是

选项	史实	结论
A	俄国废除农奴制	彻底消除了封建残余
B	中国洋务运动	是中国近代史的开端
C	日本明治维新	是一次资产阶级改革

D	美国南北战争	实现了美国的独立
---	--------	----------

A. A B. B C. C D. D

【答案】C

【解析】依据课本所学，日本推翻幕府统治以后，明治天皇政府实行了一系列资产阶级性质的改革。这些改革是在明治年间进行的，被称为“明治维新”。明治维新使日本从一个闭关锁国的封建国家，逐步转变为资本主义国家。C项符合题意；俄国农奴制改革是沙皇自上而下的资产阶级性质的改革，这次改革是由最高封建统治者实行的，不彻底，保留了大量封建残余。A项不合题意；中国洋务运动是由地主阶级改革派领导，不属于资产阶级改革。B项不合题意；美国独立战争推翻了英国殖民统治，实行国家独立，D项不合题意。由此可知ABD三项不合题意，故选择C。

18. “核心技术是国之重器”。在第二次工业革命核心技术的突破和运用中，作出杰出贡献的时代先锋有

① 瓦特 ② 马可尼 ③ 富尔顿 ④ 爱迪生

A. ①② B. ①③ C. ②④ D. ③④

【答案】C

【解析】依据所学知识可知，①瓦特改良了蒸汽机，属于第一次工业革命时期的人物；②马可尼在第二次工业革命时期发明了无线电报；③富尔顿在第一次工业革命时期发明了汽船；④爱迪生在第二次工业革命时期发明了电灯。所以②④符合题意，故选C。

19. 捷克斯洛伐克作家哈谢克在小说《好兵帅克》中，描述了第一次世界大战中两大军事集团疯狂厮杀的场面。下列战役，为该小说描述“疯狂厮杀的场面”提供了素材的是

A. 凡尔登战役 B. 莫斯科保卫战
C. 诺曼底战役 D. 斯大林格勒保卫战

【答案】A

【解析】依据所学知识可知，第一次世界大战时期的1916年爆发的凡尔登战役是一战当中最残酷的战役，被称之为凡尔登绞肉机。BCD项都是第二次世界大战时期的战役。所以凡尔登战役为小说描述一战时期“疯狂厮杀的场面”提供了素材。故选A。

20. 在历史叙述中，有的是对历史事件的客观描述，有的是对历史事件的评述。下列属于评述的是

A. 1917年11月7日，以列宁为首的工农苏维埃政府成立
B. 新经济政策是对具有苏俄特色社会主义建设道路的有益探索
C. 1937年，苏联工业总产值居欧洲第一位、世界第二位

D. 苏联赫鲁晓夫当政期间，在经济领域进行了一系列改革

【答案】 B

【解析】 依据所学知识可知，A项表述的是十月革命后，苏维埃政府的成立，是对历史史实的客观描述；B项是对列宁新经济政策的评价；C项是对苏联两个五年计划后取得成果的客观描述；D项是对赫鲁晓夫改革的客观描述。B项符合题意，故选B。

点睛：历史事件的客观描述是对历史事件的时间、人物、过程、结果的表述；历史事件的评论是对历史事件的性质以及产生的历史影响和评价的表述。由此可以对选项进行分析和选择。

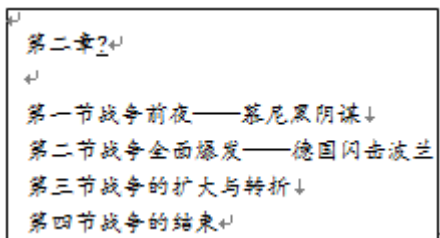
21. 1929—1933年，美国发生了一场空前严重的经济危机。当时的美国人最有可能的体验是

- A. 农产品堆积如山，农户喜笑颜开 B. 挖野菜根、嚼野葱头成为时尚
C. 住在舒适的“胡佛小屋”看电视 D. 找工作比买彩票中奖还难

【答案】 D

【解析】 依据所学可知，1929~1933年发生的资本主义世界的经济危机导致了农产品价格下跌，企业纷纷倒闭，大量人员失业，所以当时找工作比买彩票中奖还难，很多人们流落街头，靠挖野菜根、嚼野葱头充饥，所以ABC项都均不符合题意，D项符合题意，故选D。

22. 目录检索是阅读书籍的方法之一。下列标题与下图中第二章内容相吻合的是



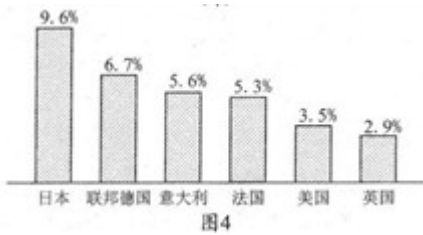
- A. 第一次世界大战
B. 第二次世界大战
C. 朝鲜战争
D. 中东战争

【答案】 B

【解析】 根据图片内容结合所学知识可知，1938年的慕尼黑会议是英法绥靖政策达到顶峰的标志，助长了法西斯的嚣张气焰；1939年9月德国闪击波兰，标志着第二次世界大战的爆发；1941年德国突袭苏联，标志着二战的进一步扩大，斯大林格勒战役的胜利成为二战的转折点；1945年日本投降标志着二战的结束。所以图片信息都与二战相关。故选B。

23. 数据图表蕴含着重要的历史信息。下图是20世纪50-70年代主要资本主义国家经济增长率示意图。

据此可知，这一时期



- A. 日本和联邦德国经济增长较快
- B. 英美法三国经济持续走下坡路
- C. 美国逐步失去了世界经济的主导地位
- D. 日本已成为资本主义世界第一经济大国

【答案】A

【解析】根据图表可知，20世纪50-70年代日本和联邦德国经济增长较快；英美法三国经济增长不及日本和德国，但不是持续走下坡路；美国仍然是当时世界上经济实力最强的国家；日本成为仅次于美国的二号经济大国。所以A项表述正确，故选A。

点睛：解答本题的关键是明白表格内容反映的是20世纪50-70年代主要资本主义国家经济增长的对比，示意图中的国家的经济都在增长，只是速度不一样，数据反映的是这个时期内的增长率，而非当时实际的国家实力。由此可以排除错误选项，做出正确选择。

24. 美国《华尔街日报》网站2018年1月5日报道：在北京，一位乞讨者面前的纸板上写着“推荐使用微信支付”，这是当下趋势的一个写照。该乞讨者推荐使用的这种支付方式得益于第三次科技革命中的

- A. 原子能技术
- B. 生物工程技术
- C. 航天技术
- D. 计算机网络技术

【答案】D

【解析】依据所学知识可知，微信支付与互联网技术发展相关，这种支付方式得益于第三次科技革命中的计算机网络技术的发展。ABC项与题意不符，故选D。

第II卷（非选择题，共52分）

二、材料解析题（共39分）

25. “周恩来同志是近代以来中华民族的一颗璀璨巨星，是中国共产党人的一面不朽旗帜。”观察图片，回答问题。



图5



图6



图7



图8

(1)图5是收藏于中国国家博物馆的一幅著名油画，画中的中心人物是周恩来。画面描绘的是中国新民主主义革命历程中的哪一重大历史事件？该事件的历史意义是什么？

(2)图6是参加西安事变谈判的中共代表周恩来、叶剑英和秦邦宪的合影。西安事变爆发后，以周恩来为首的中共代表团为什么主张和平解决事变？

(3)图7中，国务院总理兼外交部长周恩来正在一次重要的国际会议上发表讲话。写出这次国际会议的名称，并指出中国为这次会议的成功作出的重要贡献。

(4)图8中，周恩来总理与美国总统尼克松的这次“世纪握手”，为什么被海外媒体描述为“一个时代结束了，另一个时代开始了”？

【答案】(1)历史事件：南昌起义

历史意义：打响了武装反抗国民党反动派的第一枪；是中国共产党独立领导革命军队进行武装斗争的开始；是创建人民军队的开端。（任答一点）

(2)中共正确分析了西安事变后的国内外形势，从全民族利益出发，表明团结抗日的诚意。

(3)会议名称：万隆会议（或亚非会议）

贡献：周恩来在会上提出了“求同存异”的倡议，并在和平共处五项原则基础上，提出了促进世界和平的十项原则，表现了亚非人民团结反帝、反殖民主义的精神（“万隆精神”）。

(4)尼克松此次访华，中美双方在上海发表《联合公报》，结束了20多年的敌对状态，双方关系开始走向正常化。

【解析】(1)根据图5结合所学知识可知，图片反映的是1927年周恩来领导的南昌起义；南昌起义打响了武装反抗国民党反动派的第一枪，是中国共产党独立领导革命军队进行武装斗争的开始，是创建人民军队的开端。

(2) 依据所学知识可知，西安事变爆发以后，中国共产党正确分析了西安事变后的国内外形势，从全民族利益出发，表明团结抗日的诚意，主张和平解决西安事变。

(3) 根据图 7 结合所学知识可知，图片反映的是 1955 年周恩来出席万隆会议的历史事件；在万隆会议上周恩来提出了求同存异的方针，促进了万隆会议的圆满成功。

(4) 根据图片结合所学知识可知，1972 年尼克松访华，中美双方在上海发表《联合公报》，标志着中美双方结束了 20 多年的敌对状态，双方关系开始走向正常化。所以称为“一个时代结束了，另一个时代开始了”。

26. 人类创造历史的一切活动都离不开指导人们行动的思想意识。阅读材料，回答问题。

材料一 14—17 世纪，欧洲新生的资产阶级掀起了一场思想文化运动。这场运动的重大历史意义在于它促使欧洲人从以神为中心过渡到以人中心，在于唤起人的觉醒，使人们把关注的重点从来世转移到现世，从而在精神方面为资本主义制度的确立开辟了道路。

——摘编自吴于廑、齐世荣《世界史·近代史编》

(1) 根据材料一并结合所学知识，指出欧洲这场“思想文化运动”的名称及其历史意义。

材料二 1848 年，两个德国人向全世界宣告了一种新的社会主义理论诞生。此后，这一理论成为国际无产阶级无比锐利的思想武器，“哺育了世界西方和东方两个半球的无产阶级运动”，对人类社会的进程产生了深远影响。

——据高中历史岳麓版《必修 (I) 政治文明历程》等

(2) 根据材料二并结合所学知识，指出“新的社会主义理论诞生”的标志。列举这一理论“哺育了世界西方和东方两个半球的无产阶级运动”的具体史实（任举两例）。

材料三中国必须用更为先进的社会制度取代封建制度，整个社会才有可能继续进步和发展。戊戌变法的发动者和组织者顺应了这一社会发展趋势和方向，打破封建思想的禁区，积极倡导变革和向资本主义学习，并且付诸实施，吹响了变法的号角，起到了思想启蒙的作用。

——摘编自杨杰《戊戌变法：百年后的反思与启示》

(3) 材料三中“这一社会发展趋势和方向”是指什么？根据材料三并结合所学知识回答，为什么说戊戌变法“起到了思想启蒙的作用”？

(4) 综合上述材料，谈谈思想进步与社会发展的关系。

【答案】(1) 名称：文艺复兴

历史意义：猛烈冲击了封建神学，促进了人们思想的解放；为资产阶级革命准备了思想文化条件；在精神方面为资本主义制度的确立开辟了道路。（任答两点）

(2) 标志：《共产党宣言》的发表

史实.巴黎公社；俄国十月革命；苏俄（联）的社会主义建设和改革；中国新民主主义革命；中国社会主义建设（其他与社会主义国家相关的史实均可）。（任答两点）

(3)趋势：先进的社会制度（资本主义制度）取代封建制度。

原因：戊戌变法是一次资产阶级的爱国政治运动，具有进步的意义；打破封建思想的禁区；积极倡导变革和向资本主义学习；提倡变法并付诸实践；广泛传播了资产阶级政治学说和自然科学知识。（任答一点）

(4)思想进步推动社会发展，社会发展促进思想进步（或“社会存在决定社会意识，社会意识反作用于社会存在”）。（言之成理即可）

【解析】（1）根据材料一中的内容“14—17世纪，欧洲新生的资产阶级掀起了一场思想文化运动。这场运动的重大历史意义在于它促使欧洲人从以神为中心过渡到以人中心”可知，这场思想文化运动是文艺复兴运动；依据所学知识可知，文艺复兴运动冲击了封建神学，促进了人们思想的解放，为资产阶级革命准备了思想文化条件，在精神方面为资本主义制度的确立开辟了道路。

（2）根据材料二的内容“1848年，两个德国人向全世界宣告了一种新的社会主义理论诞生。”结合所学知识可知，1848年马克思和恩格斯发表了《共产党宣言》，标志着马克思主义的诞生，马克思主义即为科学社会主义理论。法国的巴黎公社；俄国十月革命；苏俄（联）的社会主义建设和改革；中国新民主主义革命；中国社会主义建设都是对马克思主义理论的实践。

（3）根据材料三的内容“中国必须用更为先进的社会制度取代封建制度，整个社会才有可能继续进步和发展，戊戌变法的发动者和组织者顺应了这一社会发展趋势和方向”可知，这一社会发展趋势和方向是指资本主义制度取代封建制度；依据所学知识可知，戊戌变法打破封建思想的禁区，积极倡导社会变革和向资本主义学习，提倡变法并付诸实践，广泛传播了资产阶级政治学说和自然科学知识，所以说戊戌变法起到了思想启蒙的作用。

（4）本题属于开放性试题，言之有理即可。思想进步运动推动了社会的进步和发展，社会发展促进了思想不断的进步。

点睛：第一问，根据材料一中的时间和关键信息“以人中心”即可判断出这是文艺复兴运动，依据所学答出文艺复兴的意义即可；第二问，根据材料二中的关键信息“1848年，两个德国人向全世界宣告了一种新的社会主义理论诞生”即可判断出这是《共产党宣言》的发表，依据所学答出实践马克思主义的历史事件即可；第三问，根据材料内容可以回答出历史发展趋势，根据所学知识可以答出戊戌变法所起的思想启蒙作用的依据；第四问，属于对思想和社会进步关系的认识，需识记思想解放推动社会进步，社会进步促进思想解放两者的关系。

27. 美国量子基金创始人吉姆·罗杰斯认为“19世纪是属于英国的，20世纪是属于美国的，21世纪则是属于中国”。阅读材料，回答问题。

材料一从 1760 年到 1860 年，英国工人劳动生产率提高了 20 倍。1850 年，英国工业总产值占世界的 1/3，对外贸易占全世界的 21%。19 世纪 40 年代，英国生铁产量占世界的一半，煤炭占 2/3，英国成为全世界机械设备和各种工业制成品的的主要供应国。英国成为“世界工厂”，世界变成英国的市场。

——摘编自张跃发《近代文明史》

(1)根据材料一并结合所学知识，指出英国成为“世界工厂”的主要原因和表现。

材料二美国崛起于 19 世纪后半期到 20 世纪上半期。美国首先集中解决了国内的统一和制度问题。在第二次工业革命中，这个新兴的工业国家以重大科技发明为基础，在 19 世纪末迅速赶超欧洲强国。通过两次世界大战，美国获得了对欧洲的巨大债券和战争赔偿，实现了世界范围的财富从欧洲向美国的转移。以第二次世界大战为标志，美国完成崛起的过程，取代英国成为世界霸权国家。在 20 世纪的大部分时期，美国主导着全球经济、政治、科学和文化。

——据黄仁伟《大国兴衰的历史比较》等

(2)根据材料二并结合所学知识，从政治、经济、外交三方面分析美国取代英国成为世界霸权国家的主要原因，列举 20 世纪由美国主导的世界格局的名称。

材料三中国在对外开放中展现大国担当，从引进来到走出去，从加入世界贸易组织到共建“一带一路”，为应对亚洲金融危机和国际金融危机作出重大贡献，连续多年对世界经济增长贡献率超过 30%，成为世界经济增长的主要稳定器和动力源，促进了人类和平与发展的崇高事业。

——摘自习近平 2018 年博鳌亚洲论坛年会开幕式上的演讲

(3)根据材料三并结合所学知识，指出进入 21 世纪以来，中国“在对外开放中展现大国担当”的具体举措及其重大意义。

【答案】(1)主要原因：率先完成了工业革命；劳动生产率大幅度提高；资本主义制度的确立；推行海外扩张政策；海外市场广阔。（任答一点）

表现：工业总产值占世界的 1/3；生铁产量占世界的一半；煤炭占 2/3；成为全世界机械设备和各种工业制成品的的主要供应国；世界变成英国的市场。（任答一点）

(2)原因：（政治）通过南北战争维护了国家的统一，废除了黑奴制度，进一步扫除了资本主义发展的障碍；（经济）充分利用第二次科技革命的机遇；（外交）在两次世界大战中大发战争财。（任答两点）

名称：凡尔赛-华盛顿体系；两极格局（或“冷战”格局）；“一超多强”的格局。（任答两点）

(3)举措：加入世贸组织（WTO）；共建“一带一路”；建立亚投行；举办博鳌亚洲论坛；召开 G20 峰会；主办 APEC 会议等。（任答两点，凡与对外开放有关的史实均可）

意义：使中国成为世界经济增长的主要稳定器和动力源；促进了人类和平与发展的崇高事业；中国在国际事务中发挥着越来越重要的作用。（任答一点，意思相近即可）

【解析】(1) 依据所学知识可知，英国成为世界工厂的主要原因包括：英国较早的确立了资本主义制度，率先完成了工业革命，使的劳动生产率大幅度提高，不断推行海外扩张政策促使海外市场不断扩大。根据材料内容可知英国成为世界工厂的表现有：工业总产值占世界的 1/3；生铁产量占世界的一半；煤炭占 2/3；成为全世界机械设备和各种工业制成品的主要供应国；世界变成英国的市场。

(2) 根据材料二的内容可以归纳出美国取代英国成为世界霸权国家的政治原因是，美国通过南北战争维护了国家的统一，废除了黑奴制度，进一步扫除了资本主义发展的障碍；经济原因是，充分利用第二次科技革命的机遇；外交原因是，在两次世界大战中大发战争财。

依据所学知识可知，20 世纪由美国主导的世界格局有，一战后形成的凡尔赛-华盛顿体系；二战后形成的两极格局；两界格局终结后世界暂时形成的“一超多强”的格局。

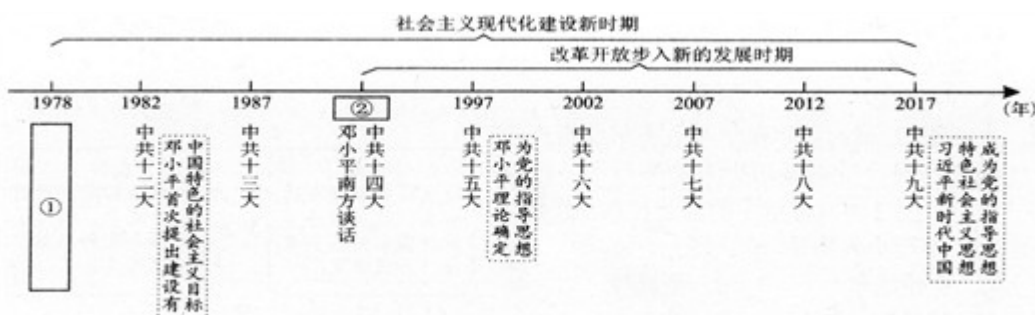
(3) 依据所学知识可知，21 世纪以来，中国“在对外开放中展现大国担当”的具体举措有：2001 年加入世贸组织；2013 年提出的共建“一带一路”；2015 年成立了亚投行；1018 年举办博鳌亚洲论坛；召开 G20 峰会；2001 年和 2014 年主办 APEC 会议等等。与对外开放有关的史实符合题意即可。中国在对外开放中展现大国担当，使中国成为世界经济增长的主要稳动力源；刺进了中国经济的发展，促进了人类的和平与发展；提高了中国的国际地位，中国在国际事务中发挥着越来越重要的作用等等，言之有理即可。

三、综合探究题 (共 13 分)

28. 2018 年是中国改革开放 40 周年，40 年众志成城，40 年砥砺奋进，40 年春风化雨，中国人民谱写了国家和民族发展的华丽乐章。阅读材料，探究问题。

【走进新时代】

材料一



(1) 请将图 9 年代尺中空白处的内容补充完整。根据材料一并结合所学知识回答，为什么说邓小平是“中国改革开放和现代化建设的总设计师”？

【在希望的田野上】

材料二




图10 小岗村“大包干”纪念馆里保存的“生死契约”

安徽凤阳花鼓词选段

“凤阳地多不打粮，碾子一住就逃荒，
只见凤阳女出嫁，不见新娘进凤阳。”
(“文革”时期)

“说凤阳，道凤阳，改革鼓点先敲响，
三年跨了三大步，如今飞出金凤凰。”
(1979年)

(2)为什么说图 10 的这张“生死契约”是中国农村改革的第一份宣言？它体现了怎样的“小岗村精神”？

(3)材料二中两段凤阳花鼓词，道出了改革开放前后凤阳的变化，这种变化带给我们的启示是什么？

【春天的故事】

材料三

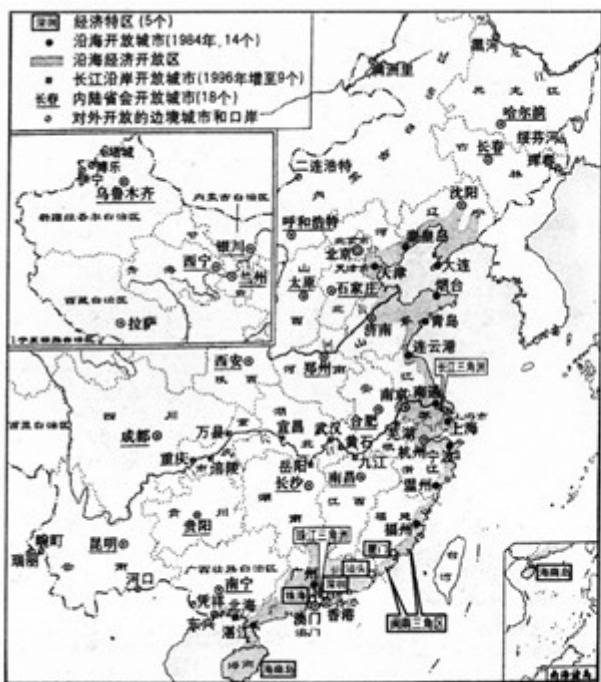


图11 中国对外开放格局形成示意图

(4)根据图 11 并结合所学知识，叙述中国对外开放格局形成的过程，并指出该格局的特点。

【答案】(1)空白处内容：①十一届三中全会② 1992

理由：在改革开放和现代化建设中，邓小平解决了什么是社会主义和怎样建设社会主义的问题，为中国改革开放和现代化建设指明了前进的方向和道路：（若答出邓小平的两点具体贡献亦可。如：作出了改革开放的决策；提出了中国特色的社会主义建设理论；发表了“南方谈话”；提出了一国两制”的构想等）

(2)原因：小岗村农民率先在中国农村实行“包干到户”，拉开了我国农村实行家庭联产承包责任制的序幕。

“小岗村精神”：自力更生；奋发图强；实事求是；求真求实；敢为人先；勇于创新等。（任答一点，意思相

近亦可)

(3)只有生产关系适应了生产力的发展，才能调动起农民的生产积极性。(言之成理即可)

(4)过程：从创办东南沿海 4 个经济特区起步，逐步开放东部沿海城市和经济开放区.随后进一步开放沿江、沿边和内陆省会城市，对外开放格局最终形成(或“经济特区-沿海开放城市-沿海经济开放区-内地”)。

特点：多层次、有重点、宽领域、点线面结合的全方位开放。(意思相近亦可)

【解析】(1)第一小问，根据年代尺结合所学知识可知，①处是 1978 年召开的十一届三中全会；②处中共十四大召开的时间是 1992 年。第二小问，结合所学知识可知，邓小平做出了改革开放的伟大决策；提出了中国特色的社会主义建设理论；发表了“南方谈话”，解决了什么是社会主义和怎样建设社会主义的问题，为中国改革开放和现代化建设指明了前进的方向和道路；提出了一国两制在的伟大构想等等，所以说邓小平是中国改革开放和现代化建设的总设计师。

(2)依据所学知识可知，安徽凤阳小岗村农民率先在中国农村实行“包干到户”，拉开了我国农村实行家庭联产承包责任制的序幕。小岗村的精神即为自力更生、奋发图强、实事求是、求真求、敢为人先、勇于创新等精神，言之有理即可。

(3)本题属于开放性试题，言之有理即可，通过安徽凤阳小岗村的变化，我们认识到改革要使生产关系适应生产力的发展，才能调动起农民的生产积极性，改革要符合本国国情，符合农民利益等等。

(4)根据材料内容结合所学海蜚丝可知，我国的对外开放从创办 4 个经济特区开始，逐步开放东部沿海城市和经济开放区，随后进一步开放沿江、沿边和内陆省会城市。对外开放格局最终形成了经济特区-沿海开放城市-沿海经济开放区-内地的格局。其特点是特点：多层次、有重点、宽领域、点线面结合的全方位开放。