

2015年临沂市初中学生学业考试试题

历史

注意事项：

1. 本试卷分第Ⅰ卷（选择题）和第Ⅱ卷（非选择题），共8页，满分100分，考试时间60分钟。答卷前，考生务必用0.5毫米黑色签字笔将自己的姓名、准考证号、座号填写在试卷和答题卡规定的位置。考试结束后，将本试卷和答题卡一并交回。

2. 答题注意事项见答题卡，答在本试卷上不得分。

第Ⅰ卷（共50分）

第Ⅰ卷为选择题，共25道题，每题2分，共50分。在每题所列出的四个选项中，只有一项是最符合题目要求的。

1. 图1是中国人民银行于2015年2月发行的生肖纪念币，该生肖（属相）动物与人类生活的关系非常密切。下列历史文物中着力体现该动物形象的是

- A. 司母戊鼎 B. 四羊方尊
C. 虎耳铜鼎 D. 青铜立人像



图1

2. 对于政治，他主张改革，实行法治；强调制定了“法”，就要严格执行，任何人也不能例外。“他”是指春秋战国时期的

- A. 孔子 B. 孟子 C. 庄子

D. 韩非

3. 国家发改委、外交部、商务部于2015年3月28日联合发布《推动共建丝绸之路经济带和21世纪海上丝绸之路的愿景与行动》，要求新疆地区发挥独特的区位优势，打造丝绸之路经济带核心区。该地区隶属于中央政府的管辖开始于

- A. 西汉时期 B. 东汉时期
C. 三国时期 D. 唐朝时期



图2 穿汉族服装的少数民族贵族

4. 图2反映了1500多年前我国历史上的一次重要改革，这次改革的主要措施包括

- ① 在朝廷中必须使用汉语
② 以孝治国
③ 从官员到民众都必须穿戴汉族服饰
④ 提倡尊老、养老的风气

- A. ①②④ B. ①②③④ C. ①③④ D. ①②③

5. “中国大运河是中国第46个世界遗产项目，是世界上最长的运河，由隋唐大运河、京杭大运河、浙东大运河这三部分组成。自清末改漕运为海运，大运河才不再是国家经济的大动脉了。”这表明

- A. 大运河自古以来一直是我国经济的大动脉
B. 隋唐大运河是中国大运河的重要组成部分

- C. 历代封建王朝都很重视发挥大运河的作用
- D. 大运河的开凿是隋朝最终灭亡的根本原因

6. 宋朝“神舟”是中国宋代为使节出使外国而专门建造的大型豪华海洋客船，显示出宋朝卓越的造船成就。下列对当时中国造船业的评述最准确的是

- A. 领先于日本
- B. 落后于欧洲
- C. 居世界首位
- D. 比阿拉伯发达

7. 图3中的历史人物堪称是“大航海时代”的先驱，其远洋航行的时间之长、规模之大、范围之广都是空前的。他的航海活动



图3

- A. 加强了我国与亚非国家的友好关系
- B. 促进了我国与欧美国家的经济交流
- C. 对非洲国家的财宝进行了大肆掠夺
- D. 与所到的亚非各国发生了激烈冲突

8. 雍正五年，清朝始置“钦差驻藏办事大臣”，又称“钦命总理西藏事务大臣”，与达赖、班禅共同管理西藏事务。清政府为巩固统一多民族国家而采取的这项措施是

- A. 册封达赖和班禅
- B. 设置驻藏大臣
- C. 设置伊犁将军
- D. 安置土尔扈特

9. “双方最终于4月17日签署了中国近代史上空前屈辱的不平等条约”，该条约“允许日本在中国开设工厂”。之后，其他列强援引“利益均沾”的条款，纷纷在中国投资办厂，严重阻碍了中国民族资本主义的发展。这个“条约”是

- A. 《瑷珲条约》
- B. 《北京条约》
- C. 《马关条约》
- D. 《辛丑条约》




图4

10. 图4是中国近代某一革命组织的革命纲领，下列关于该“革命组织”的说法，不正确的是

- A. 在孙中山领导下成立
- B. 其机关刊物是《民报》
- C. 推动了辛亥革命的爆发
- D. 在1905年成立于南京

11. 图5所反映的历史事件，是中国共产党和中国国民党进行的一次历史性会谈。中国共产党进行这次会谈的目的是 ①尽一切可能争取国内和平 ②赢得准备内战的时间 ③揭穿蒋介石假和平的阴谋 ④建立社会主义的新中国



图5 毛泽东等赴重庆谈判

- A. ①③
- B. ②④
- C. ①④
- D. ①②③

12. “你们可以改了，从真心改起！要晓得将来容不得吃人的的人，活在世上。”这是中国文学史上第一篇白话小说《狂人日记》中的一句话，其作者是

- A. 陈独秀
- B. 鲁迅
- C. 李大钊
- D. 聂耳

13. 2015年4月18日，身上留有6个弹孔的80岁老战士李继德在回答记者采访时说：“我看见已经爬到地堡下的黄继光，猛地弓着腰起了一下子，堵上了枪眼子。”李继德所回忆的这一史实发生于

- A. 北伐战争
- B. 第五次反围剿
- C. 解放战争
- D. 抗美援朝战争

14. 20世纪60年代，一位县委书记在临终前对女儿嘱咐道：“你从我手里继承的，只

有党的事业，其他什么也没有，我留给你的，只有一套《毛泽东选集》。”这位全国人民的楷模人物是

- A. 邓稼先 B. 王进喜 C. 焦裕禄 D. 雷锋

15. 关于图 6 这幅漫画所反映的历史事件，下列表述正确的是



图 6

- A. 坚持以公有制经济为主体
B. 缩小企业的生产经营自主权
C. 实行按劳分配的单一分配制度
D. 逐步把大中型企业转化为小型企业

16. 第一次亚非会议是众多亚非独立国家的首脑在印度尼西亚的万隆召开的国际会议，也是第一次没有殖民主义国家参加的亚非国际会议。出席这次会议的中国代表团团长是

- A. 毛泽东 B. 刘少奇 C. 朱德 D. 周恩来

17. “种姓”一词在印度的梵文中叫“瓦尔那”，就是颜色或品质的意思。因此，种姓制度又叫瓦尔那制度。这种制度

- A. 规定印度人在法律面前都一律平等
B. 对印度社会的发展产生了不良影响
C. 认为印度人生来没有高低贵贱之分
D. 规定不同等级的人们之间可以通婚

18. 东罗马帝国又称拜占庭帝国，通常被认为开始于 395 年，直至 1453 年灭亡，延续了 1058 年。最终摧毁这一帝国的国家是

- A. 亚历山大帝国 B. 西罗马帝国
C. 奥斯曼土耳其 D. 阿拉伯帝国

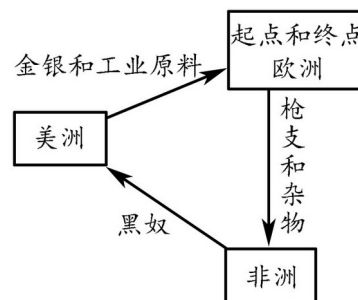


图 7

19. 图 7 所反映的贸易活动在世界近代史上持续了 300 多年，促进了欧洲资本主义的发展，也对近代美洲资本主义文化的形成、发展产生了重大影响。这场贸易的主要经营者是

- A. 葡萄牙人 B. 英国人
C. 西班牙人 D. 法国人

20. 1814 年，欧洲反法联军兵临巴黎城下，理工学校的学生要求参战。面临灭顶之灾的他却说：“我不愿为取金蛋杀掉我的老母鸡！”后来，这句名言被刻在巴黎理工学校梯型大教堂的天花板正中心，一直激励着该校师生奋发进取。这里“面临灭顶之灾的他”是指

- A. 克伦威尔 B. 查理一世
C. 路易十六 D. 拿破仑

21. 列宁说：“现代的文明的美国历史，是由一次伟大的、真正解放的、真正革命的战争开始的。……这种战争是很少见的。这是美国人民反对当时压迫美国，使美国处于殖民地奴隶地位的英国强盗们的战争。”这次战争是

- A. 英国资产阶级革命 B. 俄国十月革命
C. 美国独立战争 D. 美国南北战争

22. 斯大林说：“党知道战争日益逼近，没有重工业就无法保卫国家……党记住了列宁

的话：没有重工业，便无法保持国家的独立；没有重工业，苏维埃制度就会灭亡。”在这种思想指导下，苏联社会主义建设的主要特点之一是

- A．优先发展重工业
- B．优先发展农业
- C．重点发展轻工业
- D．重点发展商业

23．图 8 所反映的事件发生在 1970 年冬，当时的联邦德国总理维利·勃兰特来到波兰华沙犹太人死难者纪念碑下，向纪念碑献上花圈后，肃穆垂首，突然双腿下跪，向“二战”中无辜被纳粹党杀害的犹太人表示沉痛哀悼，并虔诚地为纳粹时代的德国认罪、赎罪。他的这一举动



图 8

- A．对德国人的国际形象产生了不良影响
- B．赢得了波兰人和全世界的理解和信任
- C．使德国从此失去了世界大国的地位
- D．使民主德国与联邦德国实现了统一

24．2015 年 3 月 21 日，应纳米比亚政府邀请，习近平主席派遣特使出席了纳米比亚新总统就职仪式和纳米比亚独立 25 周年庆典。25 年前，该国的独立标志着

- A．欧洲人已经被彻底地赶出了非洲
- B．美洲殖民者奴役非洲历史的结束
- C．帝国主义在非洲的殖民体系崩溃
- D．欧洲与非洲的贸易往来最终结束

25．图 9 是某一永久性国际组织的标识，它的设计者采用了中国传统书法的笔势，六道弧线所组成的球形表示该组织是由不同成员组成的国际机构。2001 年，中国正式加入该组织。这一组织是



图 9

- A．世界贸易组织
- B．欧洲共同体
- C．亚太经合组织
- D．华沙条约组织

第 II 卷 (共 5.0 分)

第 II 卷为非选择题，共 4 道题，第 26 题 14 分，第 27、28、29 题各 12 分，共 50 分。

26．(14 分) 阅读材料，结合所学知识回答问题。

材料一 秦国从公元前 230 年起，到灭齐时止，首尾 10 年，陆续兼并了六国，在占领的区域设置郡县，直属于秦王，从此结束了贵族王侯专政的王国时代，进入了君主专制的帝国时代。

——陕西新闻网

- (1) 秦国最后灭掉的是哪一诸侯国？(2 分) 秦统一六国后，在地方上推行什么制度？(1 分)

(2) 图 10 所示的防御工事被称为什么？(2 分) 其修筑目的是什么？(2 分) 该工事在哪一朝代又进行过大规模修筑，达到了完善地步？(1 分)

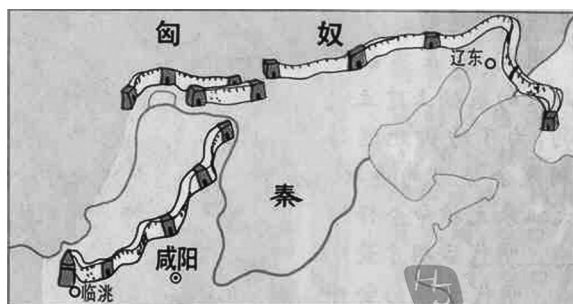


图 10

材料二 尽管秦朝仅仅延续了 15 年，但秦始皇确立的统治模式却一直延续下去。秦始皇是中国 2000 余年中央集权封建帝制的主要设计者，影响之深广，为任何其他帝王所难以相比。

——风云人物网

(3) “秦始皇确立的统治模式”是指我国古代的哪一制度？(2 分) 为巩固和完善这一制度，西汉时所采取的主要思想措施和隋朝时所创立的选官方法分别是什么？(4 分)

27. (12 分) 阅读材料，结合所学知识回答问题。

材料一 英国人克服了这些困难，逼近镇江城的时候，才充分认识到：驻防旗兵虽然不通兵法，可是决不缺乏勇敢和锐气。这些驻防旗兵总共只有一千五百人，但却殊死奋战，直到最后一人。……如果这些侵略者到处都遭到同样的抵抗，他们绝对到不了南京。

——恩格斯：《英人对华的新远征》

(1) 恩格斯在这里高度赞扬了“驻防旗兵”的什么精神？(2 分) 他认为中国军队所进行的抵抗具有什么性质？(2 分)

材料二 英国的大炮破坏了中国皇帝的权威，迫使天朝帝国与地上的世界接触。与外界完全隔绝曾是保存旧中国的首要条件，而当这种隔绝状态通过英国而为暴力所打破的时候，接踵而来的必然是解体的过程，正如小心保存在密封棺材里的木乃伊一接触新鲜空气便必然要解体一样。

——马克思：《中国革命和欧洲革命》

(2) “与外界完全隔绝”的状态主要是由中国皇帝所实行的哪一政策造成的？(2 分) 这种状态是怎样被打破的？(2 分)

- (3) 结合当时的世界发展形势，说明马克思这句话中的“新鲜空气”比喻的是什么？(2分) “隔绝状态”被打破之后，中国的社会性质发生了怎样的变化？(2分)

28. (12分) 2015年是我国全面建成小康社会的攻坚之年。阅读材料，结合所学知识回答问题。

材料一 1979年12月6日，邓小平根据我国经济发展的实际情况，第一次提出了“小康”概念以及在20世纪末我国达到“小康社会”的构想。在这之后，他又多次提出了这一构想。“所谓小康社会，就是虽不富裕，但日子好过。我们是社会主义国家，国民收入的分配要使所有的人都得益，没有太富的人，也没有太穷的人，所以日子普遍好过。”

——《邓小平文选》第3卷

- (1) 材料一表明，是谁最早提出了“小康社会”的构想？(1分) 他对“小康社会”作了怎样的描述？(2分)

材料二 全面建成小康社会是“三步走”战略目标的重要一步，被称作实现中国梦的关键一招。只有实现全面小康，才能为实现本世纪中叶的中华民族伟大复兴的中国梦奠定坚实的基础。全社会都要齐心协力、凝聚共识，把全面建成小康社会作为当前工作的重要目标。

——2015年3月17日共产党员网

- (2) 材料二中的“三步走”战略是指我国社会主义初级阶段经济发展分三步走的战略部署，它是在哪次会议上作出的？(2分) 这次会议所提出的党在社会主义初级阶段的基本路线是什么？(3分)

材料三 习近平总书记最近在江苏调研时首次发出“全面从严治党”动员令，对于推动改革开放和社会主义现代化建设迈上新台阶具有十分深远的影响。中国的问题关键在于党，如期全面建成小康社会，要靠全面深化改革、全面推进依法治国双轮驱动、两翼齐飞，而全面从严治党是根本保证。

——2015年1月14日《新华日报》

- (3) 中国共产党建立于哪一年？(1分) 其最终目标是什么？(1分) 材料三认为全面建成小康社会的根本保证是什么？(2分)

29. (12分) 阅读材料，结合所学知识回答问题。

材料一 70年前，经过艰苦卓绝的斗争，世界反法西斯战争取得了伟大胜利，这是正义的胜利，是全世界热爱和平事业人民的胜利。中国是反法西斯同盟的重要成员，中国战场作为东方主战场，战争爆发时间最早，历时最长。中国人民为世界反法西斯战争胜利、中华民族为开创世界和平做出了重大历史性贡献。

——2015年2月27日新华网

(1) 材料一中的“反法西斯同盟”是在哪个城市举行会议建立的？(2分) 当时与会各国签署的文件是什么？(2分)

(2) 从时间方面看，中国战场具有什么特点？(2分) 中国人民进行的反法西斯战争又称什么战争？(1分) “中国战场”的胜利使被侵占了50年的哪一地区回到祖国的怀抱？(1分)

材料二 2015年是世界反法西斯战争胜利70周年。这是一个人类社会共同回顾历史汲取教训、展望未来的重要年份。正因为此，“纪念二战胜利70周年”已被列入联大议程。……应当注意的是，日本是亚洲的重要国家，近年来日本一些人对待历史的错误态度与立场严重拖累了亚洲的合作。

——2015年1月13日中国新闻网

(3) 材料二认为，近年来日本对待历史的态度与立场已经产生了什么不良后果？(1分) 联合国大会“纪念二战胜利70周年”，可以强化人们的哪些认识？(3分)

2015年临沂市初中学生学业考试
历史试题参考答案及评分标准

第I卷（选择题，每小题2分，共50分）

题号	1	2	3	4	5	6	7	8	9	10	11	12	13
答案	B	D	A	A	B	C	A	B	C	D	A	B	D
题号	14	15	16	17	18	19	20	21	22	23	24	25	
答案	C	A	D	B	C	B	D	C	A	B	C	A	

第II卷（非选择题共50分）

26. (14分) (1) 齐国。(2分) 郡县制度。(1分)

(2) 万里长城。(2分) 抵御匈奴。(2分) 明朝。(1分)

(3) 封建专制主义中央集权制度或中央集权封建帝制。(2分) 西汉：罢黜百家，独尊儒术；(2分) 隋朝：科举制度（或用分科考试的方法选拔官员）。(2分)

27. (12分) (1) 抗击英国侵略的英勇斗争精神或强烈的爱国精神。(2分) 反侵略性或正义性。(2分)

(2) 闭关锁国。(2分) 英国发动鸦片战争，强迫清政府签订《南京条约》。(2分)

(3) 西方资本主义的发展（答出工业革命和先进的资本主义政治制度、思想文化、科学技术任意两点也可。）(2分) 中国开始沦为半殖民地半封建社会。(2分)

28. (12分) (1) 人物：邓小平。(1分) 描述：虽不富裕，但日子好过。(2分)

(2) 会议：党的十三大。(2分) 基本路线：以经济建设为中心，坚持四项基本原则，坚持改革开放（答出“一个中心，两个基本点”也可）。(3分)

(3) 时间：1921年。(1分) 最终目的：实现共产主义。(1分) 根本保证：全面从严治政。(2分)

29. (12分) (1) 城市：华盛顿。(2分) 文献：《联合国宣言》。(2分)

(2) 特点：战争爆发时间最早，历时最长。(2分) 战争：抗日战争。(1分) 地区：台湾。(1分)

(3) 后果：严重拖累了亚洲的合作。(1分) 认识：①只有加强国际合作，才能打败共同的敌人，求得共同发展。②意识形态不同的国家可以进行有效的合作。③世界各国都应互不侵犯，和平共处。④和平来之不易，要提高警惕，防止世界大战的悲剧重演。⑤任何侵略行为都会遭到世界人民的反对，都必定要失败。(3分，答出3点即可，答出符合题意的其他认识也可)