

## 2019年广西柳州市中考历史试题

(2019·广西柳州) 1. 明朝初年, 经济繁荣, 国力强盛。明成祖派郑和率领庞大的船队七下西洋, 其主要目的是 ( )

- A. 驱除倭寇      B. 扩大政治影响      C. 寻找黄金      D. 传播中国文化

(2019·广西柳州) 2. 中国近代史上, 清政府被迫签订的第一个不平等条约, 使中国开始沦为半殖民地半封建社会。该条约是 ( )

- A. 《南京条约》      B. 《马关条约》      C. 《辛丑条约》      D. 《九国公约》

(2019·广西柳州) 3. 有学者认为, 戊戌变法时期所传播的西方政治学说和自然科学知识, 将统治了中国几千年的封建思想打开了一个缺口。这主要说明戊戌变法 ( )

- A. 维护了封建统治      B. 得不到群众支持  
C. 起到了思想启蒙作用      D. 传播了革命思想

(2019·广西柳州) 4. 小华想利用假期去祭奠被日寇屠杀的30万遇难同胞, 顺便参观中华民国临时政府的总统府, 那么他应该去 ( )

- A. 北京      B. 上海      C. 武汉      D. 南京

(2019·广西柳州) 5. 新文化运动时期, 以陈独秀为首的先进知识分子针对当时中国社会存在的积弊, 提出了“民主与科学”的口号。当时中国社会的积弊是 ( )

- A. 专制与愚昧      B. 封闭与自大      C. 落后与野蛮      D. 迷信与盲从

(2019·广西柳州) 6. 2019年4月底, 习近平在纪念某一运动100周年的大会上指出: 这是一场以先进青年知识分子为先锋、广大人民群众参加的彻底反帝反封建的伟大爱国革命运动, 是一场中国人民为拯救民族危亡、捍卫民族尊严、凝聚民族力量而掀起的伟大社会革命运动。这场运动是 ( )

- A. 洋务运动      B. 新文化运动      C. 五四运动      D. “一二·九”运动

(2019·广西柳州) 7. “战士双脚走天下, 四渡赤水出奇兵, 乌江天险重飞渡……”歌曲描述的史实发生在 ( )

- A. 北伐战争期间      B. 红军长征期间      C. 抗日战争期间      D. 人民解放战争期间

(2019·广西柳州) 8. 据资料统计: 人民解放战争时期, 山东解放区共有96万人参军, 此外还有民兵71万人, 承担过运输等任务的民工超过1000万人次。这说明人民解放战争取得胜利的可靠保证是 ( )

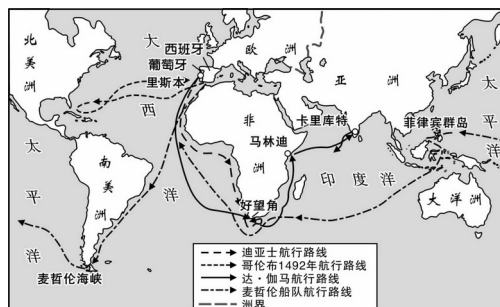
- A. 人民群众的支持      B. 解放军战略战术正确  
C. 解放军作战英勇      D. 国民党军队士气低下

(2019·广西柳州) 9. “紫荆花开正烂漫, 香江潮涌起新航。”香港回归和繁荣发展, 得益于 ( )

- A. 人民代表大会制度的建立      B. “求同存异”方针的实施  
C. 和平共处五项原则的提出      D. “一国两制”方针的实行

(2019·广西柳州) 10. 右图是新航路开辟示意图。从航行路线上看, 证明了“地球是圆的”这一学说正确性的是 ( )

- A. 迪亚士船队  
B. 麦哲伦船队  
C. 哥伦布船队  
D. 达·伽马船队



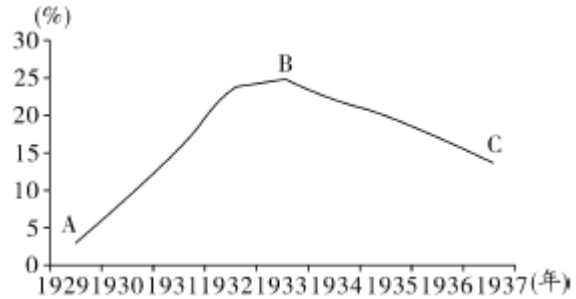
(2019·广西柳州) 11. 法国大革命期间颁布的主张“人权和法治”的纲领性文件是 ( )

A. 《民法典》 B. 《权利法案》 C. 《人权宣言》 D. 1787年联邦宪法

(2019·广西柳州) 12. 19世纪中期, 外国势力侵入日本, 面对沦为殖民地的危机, 日本将“危机”变为“机遇”, 经过改革走上了现代化的发展道路。这场改革是 ( )

A. 戊戌变法 B. 明治维新 C. 罗斯福新政 D. 农奴制改革

(2019·广西柳州) 13. 右图反映了1929~1937年美国失业人数变化情况, 促使B点到C点变化的直接有效措施是 ( )



A. 推行“以工代赈”  
B. 创立养老金制度  
C. 颁布《紧急银行法令》  
D. 颁布《农业调整法》

(2019·广西柳州) 14. 20世纪发生的

两次世界大战给人类带来了空前的浩劫, 对人类社会产生重大影响。发动两次世界大战, 均以失败告终的国家是 ( )

A. 日本 B. 意大利 C. 奥匈帝国 D. 德国

(2019·广西柳州) 15. 小强对某一时期的历史特别感兴趣, 收集到以下三幅图片, 他感兴趣的是 ( )



两大政治军事集团



柏林墙







古巴导弹危机

A. 凡尔赛—华盛顿体系 B. 全球规模的战争 C. 美苏“冷战” D. 美国的崛起

二、非选择题 (共3分, 16题10分, 17题9分, 18题11分, 共30分)

(2019·广西柳州) 16. 为纪念科学社会主义诞生171周年, 小明所在的学习小组开展了探究学习, 请你和他们一起完成下列任务。(10分)

主题	_____			
伟人像				
名字	①	恩格斯	②	③
主要贡献	1848年, 起草并发表《 <u>④</u> 》, 标志着马克思主义的诞生, 给工人阶级提供了强大的思想武器。		1917年领导 <u>⑤</u> 取得胜利, 建立了世界上第一个社会主义国家。	领导中国人民取得新民主主义革命胜利, 1949年10月1日, 成立 <u>⑥</u> 。

【初识伟人】

(1) 请写出①②③处对应的伟人名字。(3分)

**【介绍贡献】**

(2) 请将上表“主要贡献”一栏中的④⑤⑥处补充完整。(3分)

**【提炼主题】**

(3) 请根据上表内容提炼一个恰当的主题。(2分)

**【分享经验】**

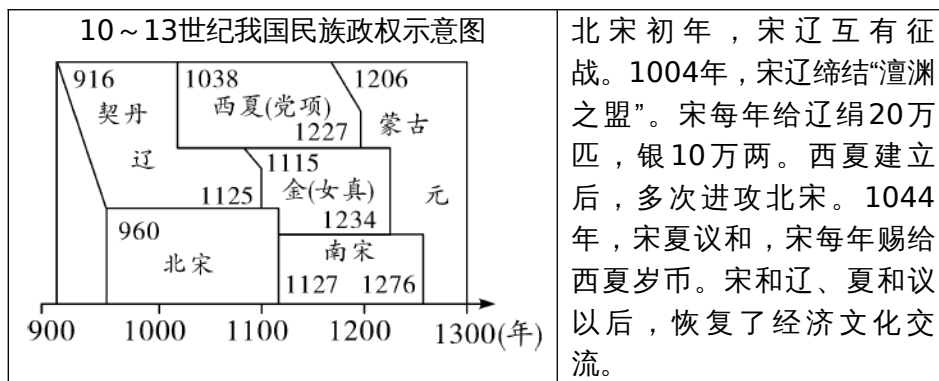
(4) 十一届三中全会以来,中国共产党人在社会主义现代化建设的道路上,取得了丰硕的成果,积累了丰富的经验。请介绍其中一条经验。(2分)

(2019·广西柳州) 17. 我国是一个统一的多民族国家,民族问题关系到国家的稳定和社会的发展。古代的统治者在处理民族关系上为我们留下了许多经验。阅读下列材料,回答问题。(9分)

材料一 唐太宗宣称“自古皆贵中华,贱夷狄,朕独爱之如一。”吐蕃首领松赞干布仰慕中原文化,多次向唐请求通婚,于是唐太宗把文成公主嫁给了他。唐中宗时,应吐蕃首领尺带珠丹的请求,送金城公主入藏成亲,尺带珠丹高兴地上书唐朝皇帝说,吐蕃和唐朝已经“和同为一家”了。

(1) 材料一反映唐朝统治者实行了怎样的民族政策?(2分)

材料二



(2) 材料二反映宋朝民族关系有何特点?(2分)宋在与其他民族政权交往的过程中,屡屡处于被动挨打的地位,这与宋朝实行的什么国策有关?(1分)

材料三 清朝康熙、雍正、乾隆时期,为了加强对西藏、西北地区的管辖,先后采取了一系列措施:①册封达赖和班禅 ②建立金瓶掣签制度 ③设置驻藏大臣 ④设立乌里雅苏台将军 ⑤设立伊犁将军。

(3) 请从材料三中分别找出清朝管辖西藏和新疆地区的措施各一项。(填写序号,2分)

(4) 请你谈谈处理好民族关系的重要意义。(2分)

(2019·广西柳州) 18. 科学技术推动经济和社会进步,有时也会给人类带来挑战。阅读下列材料,回答问题。(11分)

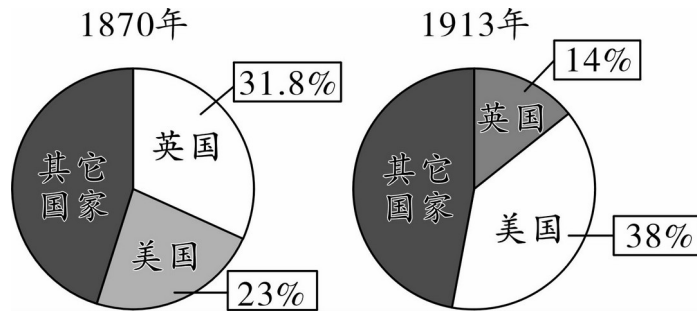
材料一 雕版印刷是我国古代长期使用的印刷技术。作为一名刻字工,毕焯在实践中发现了雕版印刷的缺陷,经过观察和反复实践,发明了一种新的印刷技术。这一发明对人类文明的传播和发展产生了重大影响。

材料二 爱迪生是美国一位伟大的发明家和企业家。为了解决漫漫黑夜给人类生活带来的困扰,他通过数千次的尝试,终于在1879年找到了一种新材料,成就了一项新的发明。随后他与大资本家合作办厂,将该项发明投入生产。1881年他研制出当时容量最大的发电机。1882年,建成全球第一座大型发电厂。1883年他发现热电子发射现象,推动了电子工业的创立。

材料三



材料四



19世纪初的英国工厂 英、美等国在世界工业生产中所占比重的变化示意图

- (1) 材料一、二中“一种新的印刷技术”和“一项新的发明”分别指的是什么？(2分) 从上述材料中，你认为要成为一名发明家应具备哪些优良品质？(2分)
- (2) 材料三反映了英国工业革命时期的什么现象？(1分) 出现这一现象的原因是什么？(1分)
- (3) 材料四中英美两国工业生产占世界比重发生了怎样的变化？(2分) 根据材料二并结合所学知识，从科技的角度分析美国出现这一变化的原因。(1分)
- (4) 根据以上材料，请你就如何利用科学技术促进经济和社会发展提出两条建议。(2分)

#### 参考答案

1. B 2. A 3. C 4. D 5. A 6. C 7. B 8. A 9. D 10. B  
11. C 12. B 13. A 14. D 15. C  
16. (1) ①马克思；②列宁；③毛泽东。  
(2) ④共产党宣言；⑤十月革命；⑥中华人民共和国。  
(3) 社会主义运动的发展。  
(4) 改革要符合国情，实事求是，坚持解放思想，与时俱进。
17. (1) 开放的民族政策。  
(2) 战和并存，以和为主。重文轻武。  
(3) 管辖西藏：①②③；管辖新疆：⑤  
(4) 有利于统一多民族的发展。有利于国家稳定。
18. (1) 活字印刷术。弹丝灯泡。坚韧不拔的毅力，勇于创新。  
(2) 环境污染。改良蒸汽机的广泛使用，产生大量废弃，环保意识薄弱。  
(3) 英国由世界第一逐渐落后，美国逐渐成为世界经济的霸主。第二次工业革命中，美国走在前列。  
(4) 科学技术是一把双刃剑，人类应该发挥科技的积极作用，为人类造福，同时尽量将科技的负面作用降到最低。

## 会员升级服务第一拨 · 清北季



神马，有清华北大学霸方法论课；还有清华学霸向所有的父母亲述自己求学之路；

衡水名校试卷悄悄的上线了；

扫qq领取官网不首发课程，很多人我没告诉他啊！

会员qq专享等你来撩.....