

2010年全国中考中国近代史整理

目录

选择题

第一单元 侵略与反抗

第1课 鸦片战争

第2课 第二次鸦片战争期间列强侵华罪行

第3课 收复新疆

第4课 甲午中日战争

第5课 八国联军侵华战争

第二单元 近代化的探索

第6课 洋务运动

第7课 戊戌变法

第8课 辛亥革命

第9课 新文化运动

第三单元 新民主主义革命的兴起

第10课 五四爱国运动和中国共产党的成立

第11课 北伐战争

第12课 星星之火，可以燎原

第13课 红军不怕远征难

第四单元 中华民族的抗日战争

第14课 难忘九一八

第15课 “宁为战死鬼，不作亡国奴”

第16课 血肉筑长城

第五单元 人民解放战争的胜利

第17课 内战烽火

第18课 战略大决战

第六单元 经济和社会生活

第19课 中国近代民族工业的发展

第20课 社会生活的变化

第七单元 科学技术与思想文化

第21课 科学技术与思想文化（一）

第22课 科学技术与思想文化（二）

单元综合

填空题

改错题

列举题

读图简答题

材料分析题

探究题（问答题）

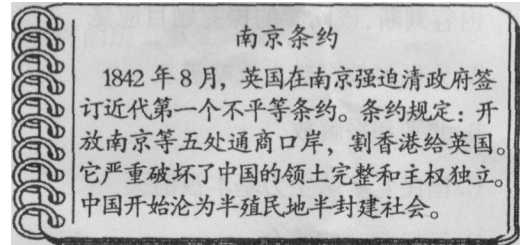
选择题

第一单元 侵略与反抗

第1课 鸦片战争

(2010·山东聊城) 11. 右边是某同学整理的“南京条约”资料卡片。卡片中表述错误的是条约的 () C

- A. 签订时间 B. 签订地点
C. 内容 D. 危害



(2010·四川遂宁) 17. 十九世纪四十年代, 中国开始了历史性的巨变, 这个巨变是指 () B

- A. 中国大门被打开 B. 开始沦为半殖民地半封建社会
C. 出现了租界 D. 香港岛被割占

(2010·江西) 1. 在谈到道光皇帝 (1821~1850年在位) 为什么把他的墓修筑得比其他帝王墓都要矮小时, 北京师范大学历史学院龚书铎教授说: 是因为“在他手上打败仗丢了土地, 没有面目见先帝”。这里所说的“土地”是指 () B

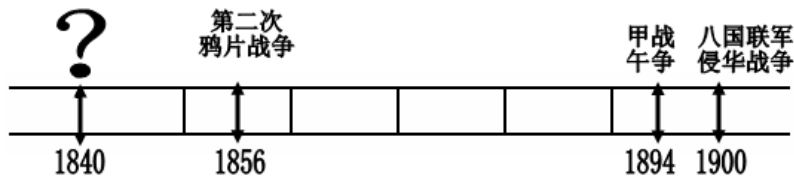
- A. 广州 B. 香港岛 C. 台湾 D. 辽东半岛

(2010·福建福州) 5. 逛灯市、赏花灯成了元宵节福州一大民俗文化活动。右图花灯介绍的福州历史名人是 () A



- A. 林则徐 B. 严复
C. 林觉民 D. 沈葆楨

(2010·四川内江) 18. 下图是某历史兴趣小组自制的一把近代列强侵华大事年代尺示意图, “?” (问号) 处没有完成。请根据图示帮他们完成正确选项 () B



- A. 中法战争 B. 鸦片战争 C. 抗日战争 D. 解放战争

(2010·江苏徐州) 3. 1839年, 英国驻广州商务监督给首相发出密件, 建议向清廷、发出通牒, 要求其割让一个岛屿给英王陛下。后来英国通过鸦片战争达到了该目的。这个“岛屿”是 () A

- A. 香港岛 B. 辽东半岛 C. 台湾岛 D. 澎湖列岛

(2010·广东东莞) 11. 在中英《南京条约》中, 便利英国对中国东南沿海地区进行直接经济掠夺的条款是 () C

- A. 割让香港岛 B. 赔款白银 2100 万银元 C. 开放通商口岸 D. 英国同中国商定关税

(2010·山东潍坊) 7. 鸦片战争打开了中国关闭已久的大门, 被称为中国近代史的开端。其主要依据是 () D

- A. 中国被卷入世界资本主义漩涡 B. 国家主权和领土完整遭到破坏
C. 民族矛盾成为社会的主要矛盾 D. 中国社会性质发生了根本变化

(2010·江苏连云港) 22. 我们要再现林则徐反抗外来侵略、维护民族利益的爱国场景, 最好选择 () A

A. 虎门销烟 B. 黄海海战 C. 收复新疆 D. 第二次鸦片战争

(2010·河南) 2. 鸦片战争前,一位中国文人这样描述西方人:“他们的长腿不能弯曲,因而他们不能奔跑和跳跃;他们碧蓝的眼睛畏惧阳光,甚至在中午不敢睁开。”就连林则徐也相信“只要断绝了对西方人茶叶和大黄的供应,他们就会因为消化不良而死”。造成这种认识的根源是 () B

A. 中西方文化差异 B. 长期实行的闭关政策
C. 中西方人种差异 D. 中国文人的偏见

(2010·福建龙岩) 2) 8. 中国近代史上被迫签订的第一个不平等条约是 () A

A. 《南京条约》 B. 《北京条约》
C. 《马关条约》 D. 《辛丑条约》

(2010·福建莆田) 8. 规定“今大皇帝准将香港一岛给予大英君主暨嗣后世袭主位者常远据守主掌,任便立法治理。”这一内容的不平等条约是 () A

A. 《南京条约》 B. 《北京条约》 C. 《马关条约》 D. 《辛丑条约》

(2010·福建三明) 8. 西方列强的炮声,惊醒了古老中华帝国的迷梦,中华民族的屈辱史——中国近代史开始了,“西方列强的炮声”指的是 () A

A. 鸦片战争 B. 第二次鸦片战争 C. 甲午中日战争 D. 八国联军侵华战争

(2010·江苏宿迁) 23. 上海开始融入世界是在近代哪一条约之后? () A

A. 《南京条约》 B. 《北京条约》 C. 《马关条约》 D. 《辛丑条约》

(2010·江苏盐城) 9. “以史为鉴,勿忘国耻”。近代使上海蒙辱开放为通商口岸的第一个不平等条约是 () A

A. 《南京条约》 B. 《北京条约》 C. 《马关条约》 D. 《辛丑条约》

(2010·四川达州) 19. 国际社会把每年6月3日定为国际禁烟纪念日,以此纪念林则徐销烟的壮举。与此壮举相关的地点是 () C

A. 南京 B. 上海 C. 虎门 D. 厦门

(2010·新疆建设兵团) 1. 规定“英商进出口货物缴纳的税款,中国须同英国商定”的不平等条约是 () A

A. 《南京条约》 B. 《北京条约》 C. 《马关条约》 D. 《辛丑条约》

(2010·福建泉州) 5. 鸦片战争成为中国近代史的开端,主要是因为 () A

A. 中国开始沦为半殖民地半封建社会 B. 它开创了以条约形式掠夺中国的先例
C. 中国开始遭到大规模外来侵略 D. 中国被纳入资本主义世界体系

(2010·湖南湘潭) 6. 《近代中国的新陈代谢》中写道:“这场战争,自西方人1514年到中国起,是他们积325年窥探之后的一逞。对于中国人来说,这场战争是一块界碑。它铭刻着中世纪古老的社会在炮口逼迫下赶往近代的最初的一步。”这场战争是指 () A

A. 鸦片战争 B. 第二次鸦片战争 C. 甲午战争 D. 八国联军侵华战争

(2010·辽宁沈阳) 1. 鸦片战争的爆发揭开了侵略与对抗、中西社会冲突的帷幕,中国彼此被轰出中世纪、进入近代,产生了前所未有的系列变化。鸦片战争爆发于 () A

A. 1840年 B. 1894年 C. 1900年 D. 1931年

(2010·四川南充) 1. 1987年联合国把虎门销烟结束的翌日6月26日定为“国际禁毒日”。领导虎门销烟的是 () A

A. 林则徐 B. 邓世昌 C. 左宗棠 D. 关天培

(2010·江苏扬州) 6. 1843年的某一天,在英国伦敦造币厂门前停着长长的一队马车,每辆车上都载着写有“大清”字样的木箱,里面装满了银元。这些银元可能是下列哪一不平等条约的赔款? () A

A. 《南京条约》 B. 《北京条约》 C. 《马关条约》 D. 《辛丑条约》

(2010·湖南永州) 9. “落后就要挨打”，是近代中国屈辱历史给我们的警示。在中国近代史上，腐朽的清政府被迫同列强签订的第一个不平等条约是 () A

A. 《南京条约》 B. 《北京条约》 C. 《马关条约》 D. 《辛丑条约》

(2010·广西贵港) 9. 关于中英《南京条约》的内容不正确的是 () B

A. 割让香港岛给英 B. 赔款白银二亿两
C. 开放上海等五处为通商口岸 D. 中国征收英商货物进出口关税应由两国协商

第2课 第二次鸦片战争期间列强侵华罪行

(2010·浙江台州) 8. 圆明园遗迹静静地向世人述说着历史耻辱，百余年前这一世界名园遭受____野蛮的劫掠焚毁，沦为废墟。 () B

A. 日本侵略军 B. 英法联军 C. 沙俄侵略军 D. 八国联军

(2010·山东临沂) 13. 从“圆明园 2010 年罹难 150 周年纪念启动仪式”上获悉，圆明园管理处联合清华大学，将对园内的石刻文物进行大规模的保护，这在历史上尚属首次。这些文物的摧残者是 () D

A. 英美联军 B. 八国联军 C. 德日联军 D. 英法联军

(2010·山东青岛) 19. 电影《傲蕾·一兰》歌颂了达斡尔族人民抗击沙俄侵略的英勇事迹，揭露了沙俄对我国领土的侵略行径。第二次鸦片战争前后，沙俄侵吞了中国东北地区大片领土，其中包括 () B

A. 巴尔喀什湖东南地区 B. 库页岛 C. 辽东半岛 D. 伊犁地区

(2010·四川资阳) 20. 第二次鸦片战争前后，俄国通过不平等条约侵占中国北方领土达 150 多万平方千米。其中割占巴尔喀什湖以东以南 44 万多平方千米领土的不平等条约是 () C

①中俄《璦琿条约》 ②中俄《北京条约》
③中俄《勘分西北界约记》 ④中俄《改定条约》

A. ①②③④ B. ①③④ C. ②③ D. ②

(2010·湖南长沙) 4. 右图反映的历史场景距今已有多少年？

() A

A. 150 年 B. 110 年
C. 100 年 D. 70 年



(2010·新疆乌鲁木齐) 4. 19 世纪 60 年代，一位俄罗斯商人在新疆犯法后不受中国法律制裁，而是移交给俄罗斯专管贸易的官员查办。历史上使这种严重损害中国司法主权的行行为合法化的不平等条约是 () A

A. 《中俄伊犁塔尔巴哈台通商章程》 B. 《中俄勘分西北界约记》
C. 《中俄伊犁条约》 D. 《中俄北京条约》

(2010·贵州贵阳) 11. 第二次鸦片战争期间，列强强迫清政府签订的不平等条约中割地最多的是 () B

A. 中英《南京条约》 B. 中俄《璦琿条约》
C. 中俄《北京条约》 D. 中日《马关条约》

(2010·山东泰安) 8. 著名文化学者余秋雨说：“废墟是昨天派往今天的使者，废墟让我们把地理读成历史。”站在右图中的废墟上，我们可以解读到的历史是 () B



- A. 林则徐虎门销烟 B. 英法联军火烧圆明园
C. 重庆谈判 D. 人民解放军和平解放北平

(2010·内蒙古赤峰) 7. 在第二次鸦片战争中, 不费一兵一卒, 割占中国领土 150 多万平方公里的是 () **D**

- A. 英国 B. 法国 C. 美国 D. 俄国

(2010·广西贵港) 10. 法国作家雨果写道: “一天, 两个强盗走进了圆明园, 一个抢掠, 一个放火……”这“两个强盗”发动的侵华战争是 () **D**

- A. 鸦片战争 B. 八国联军侵华战争 C. 甲午中日战争 D. 第二次鸦片战争

第 3 课 收复新疆

(2010·安徽芜湖) 5. 主张塞防和海防并重, 力主收复新疆, 并建议设立新疆行省的是 () **C**

- A. 林则徐 B. 魏源 C. 左宗棠 D. 李鸿章

(2010·江西) 2. 如果要在《历史的拐弯处——晚清帝国回忆录》一书中迅速找到左宗棠抗击外来侵略、维护国家统一的事迹, 你应该查找下列哪一目录的内容? () **A**

- A. 1871: 伊犁记 B. 1894: 甲午记 C. 1898: 变法记 D. 1900: 庚子记

(2010·湖南邵阳) 6. 19 世纪 70 年代, 在当地人民大力支持下, 左宗棠收复了 () **C**

- A. 西藏 B. 甘肃 C. 新疆 D. 云南

(2010·广东汕头) 6. 左宗棠为维护国家主权作出了巨大的贡献。下列有关他的表述, 正确的是 () **A**

- A. 率三路大军入疆, 击败阿古柏侵略军 B. 出使俄国, 通过外交途径收回伊犁
C. 出兵新疆, 平定大小和卓叛乱 D. 主张加强海防, 放缓西北塞防

(2010·广西桂林) 1. 中国近代史既是一部民族屈辱史又是一部民族抗争史, 在抗击外来侵略、争取民族独立的艰难岁月中, 涌现了许多可歌可泣的英雄人物。其中为收复新疆、维护国家统一做出巨大贡献的历史人物是 () **B**

- A. 林则徐 B. 左宗棠 C. 邓世昌 D. 关天培

(2010·山东莱芜) 7. “(左宗棠) 维护祖国统一大业之奇勋, 捍卫边疆之殊功, 可与张骞、班超并驾齐驱!”文中这样评价左宗棠是因为 () **C**

- A. 左宗棠主张放弃西北塞防 B. 左宗棠以武力收回了伊犁
C. 左宗棠率军收复了新疆 D. 左宗棠在新疆建立了行省

(2010·新疆乌鲁木齐) 5. 清朝时期, 为收复新疆、维护祖国统一作出重大贡献的人物有 () **D**

- ① 李鸿章 ② 左宗棠 ③ 刘锦棠 ④ 曾纪泽
A. ①②③ B. ①②④ C. ①③④ D. ②③④

(2010·吉林长春) 1. “力排终难收新疆, 忠心为国留史册”所称颂的英雄人物是 () **B**

- A. 林则徐 B. 左宗棠 C. 邓世昌 D. 杨靖宇

(2010·湖北咸宁) 12. 1875 年, 清政府任命谁为钦差大臣、督办新疆军务? () **C**

- A. 曾国藩 B. 李鸿章 C. 左宗棠 D. 张之洞

(2010·贵州铜仁) 13. 中新社乌鲁木齐 5 月 25 日电: 中共新疆维吾尔自治区区委书记张春贤 26 日在此间举行的自治区党委七届第九次全委 (扩大) 会议上表示, 新疆向西开放将提升为国家战略。清朝时期力主收复新疆并率清军收复除伊犁外的新疆失地的是 () **D**

- A. 李鸿章 B. 曾国藩 C. 林则徐 D. 左宗棠

- (2010·内蒙古赤峰) 8. 如右图所示, 图中人物最大的贡献是 () B
A. 虎门销烟 B. 收复新疆
C. 签订《马关条约》 D. 抗击八国联军的侵略



左宗棠

第4课 甲午中日战争

- (2010·山东东营) 6. 近代列强迫使清政府割让台湾的不平等条约是 () C
A. 《南京条约》 B. 《北京条约》 C. 《马关条约》 D. 《辛丑条约》
- (2010·福建龙岩) 4. 在电影《甲午风云》中, 可以看到下面哪个历史人物英勇杀敌的光辉形象 () D
A. 戚继光 B. 林则徐 C. 关天培 D. 邓世昌
- (2010·四川资阳) 21. 一位工人进日本在重庆开设的工厂做工, 此事最早可能发生在 () D
A. 鸦片战争后 B. 洋务运动中 C. 第二次鸦片战争后 D. 甲午中日战争后
- (2010·广东汕头) 7. 丘逢甲《春愁》: “春愁难遣强看山, 往事惊心泪欲潸。四万万同一哭, 去年今日割台湾。”这首诗写于 () C
A. 1843年 B. 1894年 C. 1896年 D. 1902年
- (2010·湖南衡阳) 7. 清末著名诗人丘逢甲在《春愁》中写道: “春愁难遣强看山, 往事惊心泪欲潸。四百万人同一哭, 去年今日割台湾。”诗中的“往事”指的是哪次战争的失败? () C
A. 鸦片战争 B. 第二次鸦片战争 C. 中日甲午战争 D. 八国联军侵华战争
- (2010·湖北孝感) 18. 刺激帝国主义列强侵略中国的野心, 从而掀起瓜分中国狂潮, 中国社会半殖民地化程度大大加深的近代战争是 () C
A. 鸦片战争 B. 第二次鸦片战争
C. 中日甲午战争 D. 八国联军侵华战争
- (2010·山东泰安) 9. 下面是几位几同学关于“甲午中日战争”的讨论。其中, 表述与史实不符的是 () C
A. 小华: 黄海大战中牺牲的邓世昌是当之无愧的英雄
B. 小李: 战后签订的不平等条约使台湾人民饱受了日本 50 年的殖民奴役
C. 小林: 战争爆发于 1895 年
D. 小王: 战争中, 北洋舰队全军覆没
- (2010·四川成都) 9. 近代时期, 在清政府被迫签订的不平等条约中, 首次出现允许外国人在中国通商口岸开设工厂条款的是 () C
A. 中美《望厦条约》 B. 中英《北京条约》 C. 中日《马关条约》 D. 《辛丑条约》
- (2010·四川南充) 4. 李鸿章请求道: “台湾已是贵国口中之物, 何必急于一个月內办理割让手续。”伊藤博文回答: “还没有咽下去, 饿得厉害!”此对话与下列不平等条约的签订有关的是 () C
A. 《南京条约》 B. 《北京条约》 C. 《马关条约》 D. 《辛丑条约》
- (2010·福建漳州) 8. 邓世昌指挥“致远”号舰艇, 撞击敌舰壮烈殉国的战役是 () C
A. 东山保卫战 B. 威海卫战役 C. 黄海海战 D. 雅克萨之战
- (2010·湖南娄底) 7. “割台湾, 赔两亿, 中国人民争争气; 开口岸, 设工厂, 清朝政府无法管。”这首顺口溜便于我们记忆下列哪一不平等条约的内容? () B

- A. 《南京条约》 B. 《马关条约》 C. 《北京条约》 D. 《辛丑条约》

第5课 八国联军侵华战争

(2010·浙江湖州) 8. 在中国近代, 下列哪一条约签订以后出现了右图局面? () **D**

- A. 《南京条约》 B. 《北京条约》
C. 《马关条约》 D. 《辛丑条约》



(2010·河北) 11. 清末一位小商贩说: 在北京东交民巷这地界, 我们这些个卖瓜的、卖菜的不能随便出入了, 更不说居住了, 说什么皇上把这地界给了洋人。这一情景的出现是因为清政府签订了 () **D**

- A. 《南京条约》 B. 《璦琿条约》 C. 《马关条约》 D. 《辛丑条约》

(2010·江苏苏州) 6. “在同一个理由(保护使馆)下, 中国被迫撤除了大沽炮台以及从北京到海口之间的军事据点, 取而代之的是各国‘酌定数处留兵驻守’”。据材料信息, 与这一现象出现有关的是 () **D**

- A. 鸦片战争 B. 第二次鸦片战争 C. 甲午中日战争 D. 八国联军侵华战争

(2010·山东威海) 11. 一部中国近代史是中国人民的屈辱史, 战争的赔款不仅进一步加重了人民的沉重负担, 而且也使国家失去了迈向近代化所需的资本积累。近代史上, 在帝国主义列强强迫清政府签订的条约中, 赔款数额最多的是 () **D**

- A. 《南京条约》 B. 《北京条约》 C. 《马关条约》 D. 《辛丑条约》

(2010·湖北鄂州) 1. “西方人送来了一份令人不堪忍受的礼物祝贺中国进入 20 世纪”。这份“礼物”是指 () **D**

- A. 列强在华办厂 B. “门户开放”政策 C. 列强在华兴修铁路 D. 《辛丑条约》

(2010·湖南岳阳) 7. 《辛丑条约》签订后, 一本启蒙读物中这样写道: “这中国, 哪一点我还有份; 这朝廷, 原是一个名存实亡! 替洋人, 做一个守土长官……”下列《辛丑条约》的条款中, 最能体现“替洋人, 做一个守土长官”观点的是 () **D**

- A. 中国赔款白银 4.5 亿两
B. 拆毁大沽炮台, 准许各国派兵驻扎在北京至山海关铁路沿线要地
C. 划定东交民巷为“使馆界”, 界内不许中国人居住, 由各国派兵保护
D. 清政府保证严禁人民参加反帝活动

(2010·山东滨州) 8. “吾国四千年大梦之唤醒, 实自甲午战败割台湾, 偿二百兆始”。下列内容与梁启超所述史实在同一条约的是 () **A**

- A. 允许日本在通商口岸开设工厂 B. 开放广州、厦门、福州、宁波、上海为通商口岸
C. 划定北京东交民巷为使馆界 D. 割让香港岛给英国

(2010·湖北荆州) 8. 近代中国屡遭列强侵略, 被迫签订了一系列不平等条约, 其中与“清政府保证严禁人民参加反帝活动”相关的条约是 () **D**

- A. 《南京条约》 B. 《北京条约》 C. 《马关条约》 D. 《辛丑条约》

(2010·湖南衡阳) 8. 对下面年代尺上提供的时间, 解读准确的是 () **D**



- A. 1842年,中英之间爆发鸦片战争 B. 1895年,中国开始沦为半殖民地半封建社会
C. 1901年,八国联军火烧圆明园 D. 1901年,中国被迫签订《辛丑条约》

(2010·山东莱芜) 8. 八国联军攻陷北京后,慈禧太后批准了《议和大纲》,说要“量中华之物力,结与国之欢心”。这说明 () **D**

- A. 中国开始沦为半殖民地半封建社会 B. 中国割让了黑龙江北岸大片国土
C. 北洋舰队的失利使中国无力再战 D. 清政府完全成为帝国主义统治中国的工具

(2010·广西梧州) 19. 110年前列强对中华民族发动了一场残酷的战争,使中国完全沦为半殖民地半封建社会,这场战争是 () **D**

- A. 鸦片战争 B. 中法战争 C. 甲午中日战争 D. 八国联军侵华战争

(2010·湖北宜昌) 8. 110年前的今天(即1900年6月20日),德国公使克林德在北京向巡街清军开枪,清军击毙克林德。这一事件发生在 () **C**

- A. 鸦片战争期间 B. 甲午中日战争期间
C. 八国联军侵华战争期间 D. 抗日战争期间

(2010·四川南充) 2. 1900年8月,联军占领北京,大肆烧杀抢掠,把颐和园的奇珍异宝运往天津,运了好几个月。文中的“联军”是指 () **B**

- A. 英国联军 B. 八国联军 C. 日俄联军 D. 英日联军

(2010·江苏淮安) 16. 1901年《辛丑条约》签订的消息付出,全国上下一片哗然,众人议论纷纷,忧心忡忡。下列议论符合史实的一项是 () **B**

- A. 割地赔款,丧权辱国
B. 清政府已成为“洋人的朝廷”
C. 允许外国人在中国开办工厂,中国民族工业没指望了
D. 清政府的统治已经被洋人的统治完全取代了

(2010·福建漳州) 9. 20世纪初,中国民族危机全面加深,源于清政府与列强签定了 () **A**

- A. 《辛丑条约》 B. 《马关条约》 C. 《北京条约》 D. 《南京条约》

(2010·贵州铜仁) 14. 八国联军统帅瓦德西在给德皇的报告中供认:“联军占领北京后,曾特许军队公开抢劫三日。其后便继以私人抢劫。”“中国此次所受毁损及抢劫之损失,其详数将永远不能查出。”报告中记载的事件发生距今已 () **C**

- A. 160周年 B. 100周年 C. 110周年 D. 150周年

(2010·广东梅州) 6. 不平等条约是近代中国屈辱历史的见证。标志着近代中国完全沦为半殖民地半封建社会的是 () **D**

- A. 《南京条约》 B. 《北京条约》 C. 《马关条约》 D. 《辛丑条约》

第二单元 近代化的探索

第6课 洋务运动

(2010·山东聊城) 12. “上海轮船招商局创办三年内,外轮就损失1300万两白银。湖北织布局开办后,江南海关每年洋布进口减少10万匹。”材料所述体现了洋务派的哪一初衷? () **A**

- A. 分洋商之利 B. 练兵以制器为先
C. 悉各国情形,必谙其语言文字 D. 防海之害,非整水师不可

(2010·四川宜宾) 5. “有希望革新这古老帝国的是新教育,新教育的肇端是同文馆。”中国

近代，“同文馆”最早出现于（ ）A

A．洋务运动期间 B．百日维新期间 C．辛亥革命期间 D．民国建立初期

(2010·浙江嘉兴) 17．有人说，洋务运动跨出了中国向西方学习的重要一步。能支持这一观点的史实是（ ）B

A．开放通商口岸 B．学习军事技术 C．废除八股文章 D．实行君主立宪

(2010·福建福州) 9．福州船政文化是近代中国洋务运动的产物，在马尾创办福州船政局和船政学堂的是（ ）C

A．曾国藩 B．李鸿章 C．左宗棠 D．张之洞

(2010·广东东莞) 12．李鸿章认为“西洋方圆千里，岁入财赋动以万计，无非取资于煤铁五金之矿、铁路、电报信局、丁口等洋税。”洋务运动中清政府仿效西方这一做法而采取的措施是（ ）B

A．创办军事工业 B．发展民用工业 C．筹建新式陆海军 D．派遣留学生

(2010·山东东营) 7．下列体现洋务派“求富”主张的实践活动是（ ）D

A．创办安庆内军械所 B．创办江南制造总局 C．创办福州船政局 D．创办汉阳铁厂

(2010·山东潍坊) 8．西方列强的枪炮声震醒了清王朝部分官僚，从19世纪60年代开始，他们发起了一场自救运动。其主要影响是（ ）B


A．实现了富国强兵 B．开始了中国的近代化进程

C．挽救了民族危亡 D．阻止了外国资本主义扩张

(2010·广东汕头) 8．右图是洋务运动期间，中国工匠制造的铁甲舰“平远号”。制造此舰的目的是（ ）B

A．发展资本主义 B．维护清朝统治

C．发展海外贸易 D．进行科学考察



(2010·湖南长沙) 5．兴起于19世纪60年代的洋务运动（ ）D

A．以“民主”和“科学”为口号

B．创办了上海轮船招商局等军事工业

C．刺激了中国民族资本主义的产生，是资产阶级的自救运动

D．为中国近代化开辟了道路

(2010·福建龙岩) 2) 9．洋务运动前期的口号是（ ）A

A．自强 B．求富 C．民主与科学 D．师夷长技以制夷

(2010·广东) 7．魏源在《海国图志》中提出了“师夷长技以制夷”的思想。最早实践“师夷长技”思想的是（ ）A

A．洋务运动 B．戊戌变法 C．辛亥革命 D．新文化运动

(2010·广东佛山) 6．在“评价洋务运动”的分组学习活动中，小杨同学收集的材料有：

① 1865年李鸿章以4万两银买下美商的旗记铁厂；② 1866年左宗棠创办福州船政局；③ 曾国藩派容闳从美国买回机器，与李鸿章等创办江南制造总局；④ 1872年清政府选派第一批少年赴美学习科技、工程等学科。以上材料不能说明在洋务运动中（ ）C

A．清朝政府起了主导作用 B．引进了西方先进生产技术

C．商人、资本家兴办企业获得政府的投资 D．产生了一批近代企业

(2010·广东广州) 2．洋务派没有把下列哪一项作为“夷”之“长技”？（ ）D

A．军事技术 B．科技教育 C．机器生产 D．议会制度

(2010·湖北荆州) 9．洋务运动后期，洋务派以“求富”为口号，在上海创办的近代民用工业

是 () C

A. 江南制造总局 B. 福州船政局 C. 轮船招商局 D. 汉阳铁厂

(2010·湖北荆门) 6. 中国第一个近代化的钢铁厂所在地是 () C

A. 天津 B. 上海 C. 湖北 D. 福建

(2010·湖北孝感) 19. “自鸦片战争发来，中国人中间就不断有人做着各种各样的西方梦：梦想有西方的坚船利炮，梦想有西方的新型工业，梦想有西方的民主制度……”。下列哪一事件首先实践了“西方的新型工业的梦想” () A

A. 洋务运动 B. 维新变法
C. 辛亥革命 D. “一五”计划

(2010·湖北宜昌) 9. 19世纪60年代到90年代，清政府创办了一系列的军事工业和民用工业：安庆内军械所、江南制造总局、福州船政局、汉阳铁厂、湖北织布局等。这些工业创办于 () A

A. 洋务运动期间 B. 戊戌变法期间 C. 新文化运动期间 D. 辛亥革命期间

(2010·福建泉州) 6. 19世纪80年代中期，与北洋和福建三支海军相关的历史事件是 () A

A. 洋务运动 B. 甲午中日战争 C. 戊戌变法 D. 辛亥革命

(2010·内蒙古包头) 2. 洋务派认为：“自强以练兵为要，练兵又以制器为先。”洋务活动中能体现“制器为先”的是 () A

A. 创办军事工业 B. 开办学堂，派遣留学生
C. 创办民用工业 D. 筹建近代三支海军


(2010·内蒙古呼和浩特) 4. 洋务派以“自强”为口号，创办的企业不包括 () C

A. 安庆内军械所 B. 江南制造总局 C. 汉阳铁厂 D. 福州般船政局


(2010·四川成都) 8. 清期统治后期，地主阶级中的洋务派掀起了洋务运动，其主观目的是 () D

A. 把中国引向资本主义 B. 为中国近代化开辟道路
C. 引进西方的政治制度 D. 维护清朝统治


(2010·江苏扬州) 7. 洋务派认为“自强以练兵为要，练兵又以制器为先”。在洋务运动中能体现“制器为先”的是 () A




A. 江南制造总局



B. 开平矿务局



C. 汉阳铁厂



D. 上海轮船招商局

局

(2010·湖南永州) 11. 提出“自强”、“求富”口号的是 () A

A. 洋务运动 B. 戊戌变法 C. 辛亥革命 D. 新文化运动

(2010·广西贵港) 11. 中国近代第一所新式学堂——京师同文馆是在哪一次运动中创办的？ () B

A. 辛亥革命 B. 洋务运动 C. 戊戌变法 D. 新文化运动

(2010·湖南株洲) 7. 在洋务企业的刺激下，19世纪六七十年代，中国沿海一些地区部分官僚、地主、商人、买办和手工业作坊主开设工厂，雇用工人进行生产。这说明洋务运动 () B

A. 引进了西方机器工业 B. 刺激了中国资本主义的产生

C. 培养了一批科技人才 D. 在一定程度上抑制了外国经济势力的扩张

第7课 戊戌变法

(2010·浙江台州) 9. 下列仁人志士中, 主张嘉幸革命, 推翻清朝统治、仿效西方建立资产阶级民主共和制度的是 () D



A B C D

(2010·广东东莞) 13. 十九世纪末, 戊戌维新在社会上起了思想启蒙作用, 变法图强的社会呼声日益高涨。对“思想启蒙”理解正确的是 () D

- A. 使人们开始了解西方生活习俗
- B. 使人们知道社会改革的合理性
- C. 使人们认识到要发展农工商业
- D. 使人们开始追求政治制度变革

(2010·四川南充) 3. “各国变法, 都是经过流血才成功的。中国还没有人流血, 让我来作第一个吧” 其中的“我”是 () B



A B C D

(2010·山东东营) 8. 下列戊戌变法内容中, 不正确的一项是 () A

- A. 建立民主共和国
- B. 开办新式学堂
- C. 鼓励私人兴办工矿企业
- D. 训练新式军队

(2010·湖北鄂州) 2. 近代中国许多报刊杂志在传播新思想、新知识方面发挥了重要作用。右图所示报刊主要宣传了哪种新思想? () A



- A. 维新变法思想
- B. 民主与科学
- C. 三民主义
- D. 马克思主义

(2010·广西河池市) 1. 如右图人物所言: “有心杀贼, 无力回天, 死得其所, 快哉快哉”。这首绝命诗出自 () B

- A. 洋务运动
- B. 百日维新
- C. 辛亥革命
- D. 新文化运动

(2010·贵州铜仁) 15. 中国近代史的第一所国家建立的最高学府是



京师大学堂，它的创办表明近代中国教育教育改革迈出了重要的一步。它创办于（ ） B

- A. 洋务运动时期 B. 戊戌变法
C. 辛亥革命时期 D. 新文化运动时期

(2010·湖南株洲) 20. 戊戌变法时期，在狱中写下“我自横刀向天笑，去留肝胆两昆仑”的诗句、甘愿为变法流血牺牲的仁人志士是（ ） D

- A. 蔡锷 B. 梁启超 C. 康有为 D. 谭嗣同

第8课 辛亥革命

(2010·四川遂宁) 18. “皇帝倒了，辫子割了”八个字是少年瞿秋白对一事件历史功绩的概括。此事件是（ ） C

- A. 洋务运动 B. 戊戌变法 C. 辛亥革命 D. 五四运动

(2010·福建福州) 6. “共和成，专制灭；民国成，清朝灭；总统成，皇帝灭。”导致这一现象发生的历史事件是（ ） B

- A. 戊戌变法 B. 辛亥革命 C. 新文化运动 D. 北伐战争

(2010·江苏徐州) 4. 2010年5月23日上午，孙中山铜像回迁揭幕仪式在南京市新街口广场隆重举行。孙中山先生受世人敬仰，其丰功伟绩有（ ） B

- ①建立中国同盟会 ②提出三民主义 ③亲自发动武昌起义 ④成立中华民国

- A. ①②③ B. ①②④ C. ②③④ D. ①③④

(2010·广东东莞) 14. “我们革命的目的，是为中国谋幸福，因为不愿少数满洲人专制，故要民族革命；不愿君主一人专制，故要政治革命；不愿少数富人专制，故要社会革命。”孙中山先生把“社会革命”概括为（ ） C

- A. 民族主义 B. 民权主义 C. 民生主义 D. 民本主义

(2010·湖南邵阳) 7. 明年就将迎来辛亥革命 100 周年。下列有关辛亥革命的叙述中，正确的有（ ） B

- ①发生在 1910 年 ②推翻了清王朝
③结束了中国两千多年的君主专制统治 ④建立了中华民国

- A. ①②③ B. ②③④ C. ①②④ D. ①③④

(2010·山东青岛) 20. 为纪念辛亥革命 100 周年，一部展现中国近现代沧桑历史巨变的大型电视连续剧《大汉口》即将开机拍摄。辛亥革命的指导思想是（ ） B

- A. 师夷长技以自强 B. 三民主义 C. 实业救国 D. 联俄联共

(2010·湖北鄂州) 3. 辛亥革命是在胜利的“欢呼”声中失败的。这里的“胜利”是指（ ） B

- A. 推翻了封建制度 B. 成立了中华民国 C. 打倒了帝国主义 D. 改变了中国命运

(2010·江苏泰州) 6. 叶圣陶在一则日记中写道：“课后阅读报纸，见志电栏中有云：武昌已为革党所据，新军亦起而相应……从此而万恶之政府即以推倒，亦未可知也。”日记反映的重要事件是（ ） A

- A. 武昌起义 B. 南昌起义 C. 西安事变 D. 渡江战役

(2010·河南) 3. “从此敢有帝制自为者，天下共击之。”这一现象说明辛亥革命（ ） B

- A. 推翻了帝制 B. 使民主共和观念深入人心
C. 建立了中华民国 D. 促进了资本主义经济发展

(2010·广东) 8. 假如武汉市需要征集“纪念辛亥革命 100 周年”庆典活动的方案，你认为这次活动的纪念大会选在哪一天举行最为合适（ ） B

- A. 2010 年 10 月 10 日 B. 2011 年 10 月 10 日

C. 2011年12月12日

D. 2012年1月1日

(2010·广东佛山) 8. 辛亥革命被认为是“中国民主进程的丰碑”，主要是因为这场革命 () D

- A. 促进了民族资本主义的发展 B. 结束了存在两千多年的封建制度
C. 掀起了“实业救国”的浪潮 D. 建立了资产阶级共和国

(2010·广东广州) 3. “大清朝，改中华，人人都把小辫割。”这首民谣反映的重大历史事件是 () C

- A. 义和团运动 B. 戊戌变法 C. 辛亥革命 D. 新文化运动

(2010·广西河池市) 2. 2007年“两会”的主题叫“民生”，人大代表提出了“上学难、看病难、住房难”等关系到国计民生的重要问题。你知道中国近代史上最早关注并提出“民生”主张的是谁? () C

- A. 李鸿章 B. 毛泽东 C. 孙中山 D. 邓小平

(2010·吉林) 1. “废除两千年帝制，首义归功先行者”，其评价的历史人物是 () B

- A. 康有为 B. 孙中山 C. 李大钊 D. 陈独秀

(2010·福建莆田) 9. 中国同盟会成立的地点是 () C

- A. 江西南昌 B. 湖南长沙 C. 日本东京 D. 英国伦敦

(2010·贵州贵阳) 12. 孙中山在三民主义中提出通过改革土地制度，解脱劳动者的贫困，做到“家给人足”。三民主义中具体体现这一思想的是 () C

- A. 民族主义 B. 民权主义 C. 民生主义 D. 民主主义

(2010·内蒙古呼和浩特) 5. 戊戌变法内容中，能说明这次变法具有资产阶级性质的是 () C

- ① 改革政府机构，任用维新人士
② 鼓励私人兴办工矿企业
③ 裁撤绿营，精练陆军，改习洋操
④ 开办新式学堂，翻译西方书籍，传播新思想；创办报刊，开放言论
A. ①②③④ B. ②③④ C. ①②④ D. ①③④

(2010·四川成都) 10. 观察右图，这是位于成都市人民公园内的一座历史纪念碑。该碑是为了纪念 () C

- A. 武昌起义 B. 辛亥革命
C. 保路运动 D. 南昌起义

(2010·四川成都) 11. “孙中山，开炮了；革命党，进城了……”这是大型音乐舞蹈史诗《复兴之路》中的一段童谣。这段童谣反映的历史事件是 () A

- A. 辛亥革命 B. 北伐战争
C. 洋务运动 D. 五四运动



(2010·江苏淮安) 17. 孙中山领导的辛亥革命实现了 20 世纪中国第一次历史性的巨变，主要是因为 () B

- A. 辛亥革命使中国结束了被侵略被奴役的屈辱历史
B. 辛亥革命推翻了两千多年的封建帝制，使民主共和观念深入人心
C. 辛亥革命使人民获得了真正的民主、自由
D. 辛亥革命使三民主义的理想在中国实现

(2010·江苏扬州) 10. 民生问题是一个重要的社会问题。孙中山在中国近代最早关注并提出“民生”，他主张 () D

- A. 驱除鞋虏 B. 恢复中华 C. 创立民国 D. 平均地权

- (2010·山东日照) 4. “废两千年帝制，首义归功先行者，”这副对联歌颂的是 () **B**
 A. 康有为 B. 孙中山 C. 邓小平 D. 毛泽东
- (2010·福建宁德) 7. “剪发兴，辫子灭；……阳历兴，阴历灭；鞠躬礼兴，跪拜礼灭……”。“阳历兴”开始于 () **B**
 A. 1898年 B. 1912年 C. 1919年 D. 1949年
- (2010·内蒙古赤峰) 9. 孙中山是 20 世纪走在 中国时代前列的三大伟人之一，其伟大之处在于领导了 () **C**
 A. 洋务运动 B. 戊戌变法 C. 辛亥革命 D. 新文化运动
- (2010·湖南永州) 10. 2010 年“两会”主题叫“民生”，人大代表提出了医疗改革、教育公平等关系到国计民生的重要问题。中国近代史上最早关注并提出“民生”主张的是 () **B**
 A. 李鸿章 B. 孙中山 C. 毛泽东 D. 邓小平
- (2010·贵州毕节) 17. 辛亥革命最突出的历史功绩是 () **A**
 A. 结束了封建君主专制统治 B. 推翻了清王朝
 C. 建立了中华民国 D. 促进民族资本主义的发展

第 9 课 新文化运动

(2010·安徽芜湖) 3. 陈独秀说：“我们现在认定只有这两位先生（‘德先生’、‘赛先生’），可以救治中国政治上、道德上、学术上、思想上一切黑暗。”这表明新文化运动核心内容是 () **B**

- A. 反对尊孔和复古 B. 提倡民主和科学
 C. 提倡新道德和新文学 D. 宣传马克思主义

(2010·广东东莞) 15. 近代中国人在探索民族独立富强道路的过程中，先后发起洋务运动，戊戌变法和辛亥革命。但这些努力都未达到目的，于是先进知识分子又掀起了一场新文化运动。新文化运动的旗帜是 () **D**

- A. “师夷长技以制夷” B. “自强”“求富” C. 民主共和 D. “民主”与“科学”

(2010·浙江杭州) 6. 右图为中国近代史上一位伟大人物，以下简短说明与图片人物相吻合的是 () **B**

- A. 创办《新青年》杂志，率先举起“民主”、“科学”大旗
 B. 发表《新纪元》一文，歌颂十月革命
 C. 率先提出用白话文代替文言文
 D. 创作《狂人日记》，批判封建礼教



(2010·山东青岛) 21. 胡适先生曾说：“《新青年》杂志代表和创造了一个新时代。”这个“新时代”指的是 () **C**

- A. 君主立宪时代 B. 民主共和时代 C. 民主科学时代 D. 社会主义时代

(2010·湖北鄂州) 4. 1915 年，创办《青年杂志》，吹响新文化运动号角的人物是 () **C**
 A. 蔡元培 B. 李大钊 C. 陈独秀 D. 鲁迅

(2010·湖南岳阳) 8. 新文化运动在中国近代历史上最突出的贡献是 () **B**

- A. 开启了近代化进程 B. 解放了人们思想 C. 维护了民族尊严 D. 挽救了民族危亡

(2010·广东汕头) 9. 陈独秀、李大钊等以《新青年》杂志为主要阵地，掀起了新文化运动。下列对于新文化运动的评价正确的是 () **A**

- A. 启发着人们追求民主和科学，探索救国救民的真理
 B. 一次彻底地反对帝国主义和封建主义的爱国运动

C. 客观上为资本主义的产生起到了促进作用

D. 一次资产阶级改良运动

(2010·湖北襄樊) 14. 新文化运动的主要阵地是 () C

A. 《中外纪闻》 B. 《民报》 C. 《新青年》 D. 《每周评论》

(2010·湖南衡阳) 9. “八荣八耻”中提出“以崇尚科学为荣，以愚昧无知为耻”。下列哪一运动中也曾提出过类似的思想主张？ () D

A. 洋务运动 B. 维新变法 C. 辛亥革命 D. 新文化运动

(2010·四川巴中) 20. 历史课上，老师要求学生列举新文化运动的主要代表人物，下列是一位同学的列举结果，其中有一项不恰当，请你帮他挑选出来。 () C

A. 李大钊 B. 陈独秀 C. 李鸿章 D. 胡适

(2010·贵州贵阳) 13. 下列新文化运动的代表人物中全面宣传马克思主义思想的是 () B



A B C D

(2010·湖北孝感) 21. 陈独秀在《新青年》上发表文章说：“要巩固共和，非先将国民的脑子里所有反对共和的旧思想洗刷干净不可。”由此，反映了前期的新文化运动 () A

A. 主张在思想上打破封建束缚
B. 为马克思主义在中国的传播做了思想准备
C. 要在中国建立共和政体
D. 给灾难深重的中国人民指明了真正的出路

(2010·新疆建设兵团) 2. 启发着人们追求民主与科学的一场思想解放运动是 () D

A. 洋务运动 B. 戊戌变法 C. 辛亥革命 D. 新文化运动

(2010·福建泉州) 7. 1916年，酷爱文学、思想进步的刘奇想在右图杂志上发表文章。你若是当时杂志的编辑，会建议他选择下列哪一方面的内容？ () C

A. 社会需要儒家思想 B. 君主立宪是时代的潮流
C. 提倡民主，反对专制 D. 立足国情，反对全盘西化



(2010·湖北咸宁) 13. 1918年底，李大钊等在北京创办了 () D

A. 《中外纪闻》 B. 《民报》 C. 《新青年》 D. 《每周评论》

(2010·湖南湘潭) 7. 民国时期有人说：“他是中国思想界的一个清道夫，他把启蒙的水洒向那孔孟弥漫的大道上。因此时时被那无数吃惯孔孟的老头子们跳脚痛骂，怪他不识货。”

上文中“洒水清道”的“他”是 () D

A. 林则徐 B. 李鸿章 C. 康有为 D. 陈独秀

(2010·辽宁沈阳) 2. 从1915年起，以陈独秀为首的进步知识分子达成共识“救中国，建共和，首先得进行思想革命。”他们高兴“民主”和“科学”两面大旗，掀起的文化启蒙运动是 () B

A. 洋务运动 B. 新文化运动 C. 太平天国运动 D. 五四运动

(2010·湖南娄底) 8. 20世纪初, 中国先进的知识分子高举“民主”与“科学”两面旗帜, 向封建专制制度和封建思想文化进行了猛烈的扫荡。这就是历史上的 () A


A. 新文化运动 B. 戊戌维新运动 C. 文化大革命 D. “大跃进”时期

第三单元 新民主主义革命的兴起

第10课 五四爱国运动和中国共产党的成立

(2010·广东汕头) 10. 右图是每一个中国人心中向往的地方。这里发生的哪一历史事件标志着我国新民主主义革命的开始? () B

A. 新文化运动 B. 五四运动
C. 一二九运动 D. 四五运动



(2010·四川宜宾) 6. “学生罢课半月, 政府不管不理, 且对待日益严厉; 及至商界罢市不及一日, 而北京被捕学生获释; 工商界罢工不及五日, 而曹、章、陆去。”下列对该材料的理解, 不正确的是 () D

A. 体现了学生的先锋作用 B. 反映了运动的群众性
C. 表现运动取得了一定的成效 D. 说明了武装斗争的必要性

(2010·江苏南京) 8. 中国共产党的成立是中国历史上开天辟地的大事。在她成立的大会上, 被选举为中央局书记的是 () A



A. 陈独秀 B. 李大钊 C. 毛泽东 D. 董必武

(2010·广东东莞) 16. 1919年6月5日一个日资纱厂的工人, 突破租界巡捕的武警包围, 举行罢工, 声援学生运动; 商务印刷馆、中华书局的工人也参加进来, 罢工达到高潮时, 参加人数达六、七万。这场工人罢工斗争应发生在 () C

A. 北京 B. 长沙 C. 上海 D. 广州

(2010·广东东莞) 17. 下列图中的历史人物都是中国共产党早期领导人, 其中在中国共产党第一次代表大会上被选为中央局书记的是 () A

(2010·湖南衡阳) 10. 1919年5月5日,天津《大公报》刊登“北京特约通讯”,标题为《北京学界之大举动——昨日之游街大会/曹汝霖宅之焚烧/青岛问题之力争/章宗祥大受夷伤》。从上述标题可知,这是报道哪次运动? () C

- A. 辛亥革命 B. 北伐战争 C. 五四运动 D. 一二·九运动

(2010·江苏盐城) 12. 如图是马星驰先生所作的漫画《民气一致之效果》,它深刻揭示五四运动取得初步胜利的主要原因是 () C

- A. 中国共产党的正确领导
B. 枪杆子里面出政权
C. 各阶层人民的联合斗争
D. 北伐战争的推动



(2010·四川巴中) 19. 每年五四青年节,青年们激情飞扬,用青春的活力,蓬勃的朝气来纪念五四运动,那么关于这一运动的说法正确的是 () D

- A. 它是中国旧民主主义革命的开端
B. 导火线是中国在华盛顿会议上的外交失败
C. 运动的口号有:自强、求富
D. 是一次彻底的反帝反封建的爱国运动

(2010·内蒙古包头) 4. 下列关于“五四爱国运动”说法不正确的是 () B

- A. 巴黎和会上,中国外交失败是五四运动爆发的导火线
B. 五四运动是中国共产党领导的一次反帝反封建的爱国运动
C. 它提出了“外争国权、内惩国贼”的斗争口号
D. 它标志着中国新民主主义革命的开始

第11课 北伐战争

(2010·山东聊城) 15. 孙中山说:“今天在这地开这个军官学校,独一无二的希望,就是创造革命军,来挽救中国的危亡。”这个“军官学校”位于 () A

- A. 广州 B. 长沙 C. 武汉 D. 上海

(2010·山东济宁) 19. 右边形势图反映的是 () C

- A. 护法战争 B. 护国战争
C. 北伐战争 D. 武昌起义

(2010·河北) 13. 历史谱写着歌曲,歌声凝聚着历史。下列歌曲在中国20世纪20年代广为传唱的是 () A

- A. “打倒列强,打倒列强,除军阀,除军阀……”
B. “起来,不愿做奴隶的人们……”
C. “大刀向鬼子们的头上砍去……”
D. “雄赳赳,气昂昂,跨过鸭绿江……”

(2010·湖南湘潭) 8. 下列哪项不属于北伐战争的主要对象? () D

- A. 张作霖 B. 吴佩孚
C. 孙传芳 D. 袁世凯



(2010·福建泉州) 8. 历史图片浓缩了丰富的史实, 下列对右图的解读, 错误的是 () **D**



- A. 国共合作的产物
- B. 蒋介石担任校长
- C. 政治教育与军事训练并重
- D. 1949 年底迁到台湾, 1975 年在大陆招生

(2010·江苏常州) 18. 国共两党联合起来, 以“打倒列强、除军阀”为目标开展了 () **B**

- A. 新文化运动
- B. 北伐战争
- C. 抗日战争
- D. 重庆谈判

(2010·广西贵港) 12. 1924 年 11 月在黄埔军校担任政治部主任的是 () **A**

- A. 周恩来
- B. 蒋介石
- C. 廖仲恺
- D. 叶挺

第 12 课 星星之火, 可以燎原

(2010·安徽芜湖) 6. 工农革命军选择在井冈山建立根据地的有利条件是 () **A**

- ① 离大城市较远, 敌人统治力量薄弱
 - ② 地势险要, 易守难攻
 - ③ 附近农产品丰富
 - ④ 群众基础好
 - ⑤ 朱德、陈毅率领部队已先期到达
- A. ①②③④ B. ①②④⑤ C. ①②③⑤ D. ②③④⑤

(2010·山东聊城) 16. 南昌被誉为“军旗升起的地方”, 是因为在这里 () **B**

- A. 诞生了中国共产党
- B. 打响了武装反抗国民党反动统治的第一枪
- C. 创建了第一个农村革命根据地
- D. 初步形成了抗日民族统一战线

(2010·江西) 3. 某班模拟了一次“红色旅游”的推介活动。下列主题, 适用于介绍井冈山的是 () **C**

- A. 红色的小船——见证了党的诞生
- B. 英雄的城市——诞生了八一军魂
- C. 革命的摇篮——开创了革命新路
- D. 七大会场——指明了光明前途

(2010·山东潍坊) 10. 右图是“军民一家人, 鱼水情意深”的真实写照。它出现在 () **A**

- A. 工农红军创建时期
- B. 八路军抗击日寇时期
- C. 解放军战略反攻时期
- D. 志愿军抗美援朝时期



(2010·河南) 5. 20 世纪 20 年代的中国, 人民已经醒来。但是, 正如鲁迅所说的“人生最痛苦的事, 是梦醒了发现无处可走”。下列为中国人民指明了革命道路的事件是 () **D**

- A. 新文化运动
- B. 五四运动
- C. 国民大革命
- D. 井冈山革命根据地的建立

(2010·广东佛山) 9. 1927 年 7 月下旬, 贺龙向周恩来表示: “完全听共产党的话, 要我怎样干, 就怎样干”。贺龙等准备“干”的是 () **B**

- A. 武昌起义
- B. 南昌起义
- C. 秋收起义
- D. 百团大战

(2010·四川巴中) 18. “以农村包围城市, 最后夺取胜利”是中国共产党走出的符合中国国情的革命道路, 这条道路的开辟始于 () **B**

- A. 中央革命根据地的建立
- B. 井冈山革命根据地的建立和巩固
- C. 敌后抗日根据地的建立
- D. 川陕革命根据地的建立

(2010·湖北孝感) 23. 1921~1949 年, 中国共产党整整奋斗了 28 年。“日出东方”、“星火燎原”、“力挽狂澜”、“灯塔指引”、“进京赶考”这五个关键词高度概括了中国共产党在新民主主义革

命时期的不朽业绩。其中与“星火燎原”相对的重大历史事件是 () C

A. 一大召开 B. 遵义会议 C. 工农武装割据 D. 七届二中全会

(2010·内蒙古呼和浩特) 6. 右图中的哪一位置是中国共产党创建的第一个农村革命根据地所在的位置 () B

(2010·江苏扬州) 11. 中国共产党创建的第一个农村革命根据地是 () B

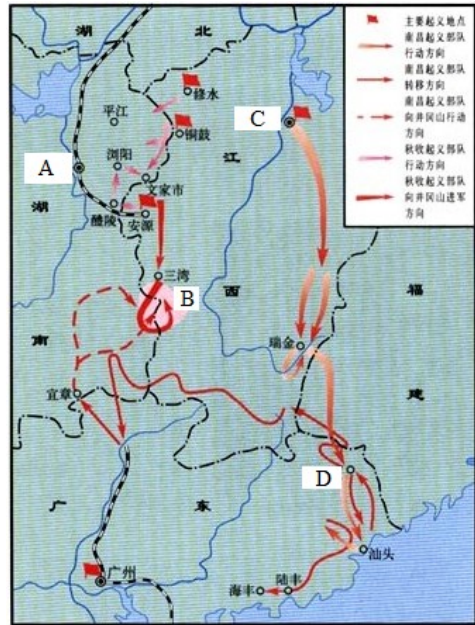
A. 左右江革命根据地
B. 井冈山革命根据地
C. 闽浙赣革命根据地
D. 湘鄂边革命根据地

(2010·广东梅州) 7. 毛泽东曾对一位外国来访者说：“1927年，老蒋够厉害啦！他把我们像鸡蛋一样地摔在地上，可他没想到，当时国外的许多人也没有想到，我们还会孵出小鸡来！”对“我们还会孵出小鸡来”最准确的理解是 () B

A. 中共发动了反抗国民党反动统治的武装起义
B. 中共创建人民军队，建立了农村革命根据地
C. 中共制定了建立抗日民族统一战线的方针
D. 中共完成了红军北上抗日的战略转移

(2010·湖南娄底) 20. 1928年初，朱德、陈毅发动了湘南起义，建立了苏维埃政府，但遭到湘粤两省国民党军阀“会剿”。4月，朱德、陈毅率军与毛泽东率领的秋收起义部队胜利会师于 () B

A. 宜章县 B. 井冈山 C. 桑植县 D. 平江县



第13课 红军不怕远征难

(2010·四川遂宁) 19. 长征途中，红军变被动为主动的首次军事行动是 () C

A. 强渡乌江 B. 巧渡金沙江 C. 四渡赤水 D. 强渡大渡河

(2010·浙江嘉兴) 18. “陕甘军民传喜讯，征师胜利到吴起”，诗句所描绘的情境发生在 () C

A. 辛亥革命时期 B. 北伐战争时期 C. 红军长征时期 D. 抗日战争时期

(2010·重庆) 8. 结束了“左”倾冒险主义在中央的统治，确立了毛泽东在党和红军中的领导地位，成为中国共产党历史上生死攸关转折点的会议是 () B

A. 中共一大 B. 遵义会议 C. 中共七大 D. 中共十一届三中全会

(2010·重庆綦江) 6. 綦江某校八年级(2)班学生在老师的带领下到我县石壕镇进行历史遗址的考察活动。在烈士墓前，同学们了解到，有5位战士随部队转战贵州途经石壕时不幸牺牲长眠于此。你知道这5位烈士的牺牲与新民主主义革命时期哪一历史事件有关吗？ () B

A. 北伐战争 B. 红军长征 C. 抗日战争 D. 解放战争

(2010·江苏徐州) 7. 有首诗写道：“生死攸关转折点，左倾错误受批判。重新确立领导人，党和红军脱危险。”此诗反映的历史事件是 () C

A. 五四运动 B. 中共诞生 C. 遵义会议 D. 挺进中原

(2010·山东东营) 10. 2006年，中央电视台举办了一项大型的纪念活动，该活动从瑞金出

发，途径遵义等地，最终到达了陕北。这一活动是为了纪念（ ）D

A．北伐战争 B．南昌起义 C．秋收起义 D．红军长征

(2010·湖北鄂州) 6．“战士双脚走天下，四渡赤水出奇兵。乌江天险重飞渡，兵临贵阳逼昆明。”对此歌词解读错误的是（ ）C

A．描绘了红军长征的壮美画卷 B．赞美了毛泽东高超的指挥艺术
C．再现了三大主力红军会师的场景 D．讴歌了红军将士英勇顽强的战斗精神

(2010·四川资阳) 19．某班上了一堂“模拟导游—重走长征路”的活动课，这节课所属的主题是（ ）B

A．近代化的起步 B．新民主主义革命的兴起
C．中华民族的抗日战争 D．人民解放战争的胜利

(2010·山东济宁) 20．济宁某中学组织学生开展“重走长征路”活动，他们沿途不可能参观到的是（ ）B

A．遵义会议遗址 B．中共一大遗址
C．吴起镇会师纪念馆 D．泸定桥

(2010·福建龙岩 2) 11．长征途中，我党召开了一次具有伟大转折意义的会议。会议地点在（ ）B

A．瑞金 B．遵义 C．会宁 D．吴起镇

(2010·广东) 9．老战士黄镇用画笔记录了他的一段难忘经历。作品中描绘了汹涌的大渡河、白茫茫的雪山和荒芜的草地等。他的这段“难忘经历”是指参加了（ ）D

A．南昌起义 B．秋收起义 C．井冈山会师 D．红军长征

(2010·湖南衡阳) 11．张华同学在一次红色线路的旅游活动中拍摄了一张照片(右图)。如果为它配上一句话，最符合的是（



遵义

) C
A．开天辟地党的诞生 B．首义成功 军旗升起
C．生死攸关 历史转折 D．开国大典 国旗飘扬

(2010·广西梧州) 20．某中学组织一次主题为“感受长征”的文艺汇演，以下几个历史场景，其中能反映出党的历史上生死攸关的转折点的是（ ）A

A．召开遵义会议 B．巧渡金沙江 C．强渡大渡河 D．吴起镇会师

(2010·广东深圳) 20．在某红色旅游景点，导游介绍说：“这里召开的一次会议，挽救了党和红军，挽救了中国革命。”这一景点是在（ ）A



A．遵义 B．南昌 C．广州 D．嘉兴

(2010·吉林长春) 2．这是一次壮丽的远征，它使中国革命转危为安。这里的“远征”指（ ）A

A．红军长征 B．平型关大捷 C．转战陕北 D．挺进大别山

(2010·江苏宿迁) 25．“重走长征路”摄制组想拍摄长征途中具有生死攸关意义的会议场景，他们应到（ ）B

A．瑞金 B．遵义 C．南昌 D．井冈山

(2010·四川达州) 20．假如你重走长征路，了解有关红军长征的重大事件。在四川省境内，你不可能看到的是（ ）B

- A. 夹金山纪念碑 B. 遵义会议会场 C. 泸定桥的铁索 D. 金沙江的急流
 (2010·江苏淮安) 19. “红军不怕远征难，万水千山只等闲……”毛泽东的这首诗概括了长征的艰难，赞扬了红军大无畏的革命英雄主义精神。下列有关红军长征的叙述不正确的是 () **A**
- A. 长征的原因是红军主动放弃根据地，要在运动中打败国民党军队
 B. 长征途中的遵义会议是中国共产党历史上生死攸关的转折点
 C. 1936年红军三大主力会师，标志着长征胜利结束
 D. 长征的胜利，使中国革命转危为安
- (2010·山东日照) 5. “千军万马江畔站，四方百姓泪汪汪，深情似海不能忘，红军啊，革命成功，早归乡。”与以上歌词相关的历史事件是 () **C**
- A. 北伐战争 B. 南昌起义 C. 长征 D. 挺进大别山
- (2010·广西贵港) 13. 以下是红军长征中的重要历史事件，它们的先后顺序应是 () **D**
- ①遵义会议 ②过雪山、草地 ③四渡赤水 ④吴起镇会师
- A. ①②④③ B. ②①④③ C. ②①③④ D. ①③②④
- (2010·湖南株洲) 8. “江山如此多娇，引无数英雄竞折腰，数风流人物，还看今朝。”这是毛泽东在1936年写的《沁园春·雪》中的著名词句。此时，中国工农红军 () **C**
- A. 实现了井冈山会师 B. 到达了吴起镇
 C. 完成了二万五千里长征 D. 渡过了金沙江

第四单元 中华民族的抗日战争

第14课 难忘九一八

- (2010·山东临沂) 14. 2009年9月，杨虎城被评为“100位为新中国成立作出突出贡献的英雄模范人物”之一。他的特别伟大之处是1936年同张学良联合发动了 () **C**
- A. 南昌起义 B. 秋收起义 C. 西安事变 D. 百团大战
- (2010·重庆綦江) 7. 标志着十年内战基本结束，促进了国共合作抗日局面出现的历史事件是 () **D**
- A. 九一八事变 B. 八一三事变 C. 七七事变 D. 西安事变和平解决
- (2010·江苏徐州) 6. 1934年，张学良为东北大学校刊题词：“现在唯一救国方，是坚决决心，把我自己无条件的贡献给社会和我的国家。”下列属于张学良实践自己誓言的行动是 () **C**
- A. 投身辛亥革命 B. 参加南昌起义 C. 发动西安事变 D. 卢沟桥抗战
- (2010·山东青岛) 22. 1936年12月13日早晨，南京市民王大妈出门买菜，看到报童沿街叫卖：“特大新闻，张杨发动兵变，蒋总司令遇险。”你知道发生什么事了吗？ () **B**
- A. 九一八事变 B. 西安事变 C. 卢沟桥事变 D. 八一三事变
- (2010·湖北鄂州) 7. 中共提出和平解决西安事变的根本出发点是 () **B**
- A. 改善国共两党关系 B. 实现全民族共同抗日
 C. 粉碎国民党亲日派企图 D. 挑起国民党内部矛盾
- (2010·江苏连云港) 32. “日本人，真凶暴，夺我东三省，杀我们同胞。”导致这种现象的直接原因是 () **B**
- A. 八国联军侵华 B. 九一八事变 C. 西安事变 D. 卢沟桥事变

(2010·广西桂林) 2. 右图是位于灌阳县的新圩酒井红军烈士纪念碑。1934年11月,在掩护中央红军抢渡湘江后,有100多名红军伤员因来不及转移被国民党反动派残忍地丢进了这个深不可测的井中。为缅怀先烈,特立此碑。请指出中央红军突破湘江后前行的路线是 () **D**



- A. 井冈山方向 B. 湘西方向
C. 瑞金方向 D. 贵州遵义方向

(2010·吉林) 2. 1936年12月13日,《西北文化日报》报导了一则消息:“争取中华民族生存,张杨昨发动对蒋兵谏”。其反映的事件是 () **B**

- A. 北伐战争 B. 西安事变 C. 重庆谈判 D. 渡江战役

(2010·吉林) 3. 歌曲《松花江上》唱出东北人民流离失所、家破人亡的悲痛之情,它创作的背景是 () **A**

- A. 九一八事变 B. 七七事变 C. 八一三事变 D. 南京沦陷

(2010·内蒙古赤峰) 11. 如右图所示,从图中能获得最有效的历史信息是 () **B**



(西北文化日报)

- A. 九一八事变
B. 西安事变
C. 七七事变
D. 八一三事变

(2010·四川巴中) 22. 标志十年内战基本结束,促进国共合作抗日局面出现的事件是 () **D**

- A. 一二·九运动的爆发 B. 卢沟桥事变的爆发
C. 八一三事变的爆发 D. 西安事变和平解决

(2010·广东深圳) 15. 20世纪30年代,日本发动事变,侵占我国东北三省。这一事变是 () **D**

- A. 西安事变 B. 七七事变 C. 八一三事变 D. 九一八事变

(2010·吉林长春) 3. “劝蒋——扣蒋——释蒋”这一过程所反映的历史事件是 () **B**

- A. 北伐战争 B. 西安事变 C. 重庆谈判 D. 南京解放

(2010·江苏无锡) 6. 右图是沈阳九一八博物馆最引人注目的“残历碑”。巨大石雕台历上密布着千疮百孔的弹痕,隐约可见无数个骷髅,象征着千万个不泯的冤魂的呐喊和呼号。右面的一页铭刻着中国人民永远难忘的最悲痛的日子——1931年9月18日。左面的一页镌刻着“九一八”事迹的史实。“九一八”事变后,中国抗日战争进入了 () **A**

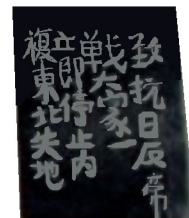


- A. 局部抗战阶段 B. 全面抗战阶段
C. 局部反攻阶段 D. 大反攻阶段

(2010·江苏扬州) 12. 张学良将军之所以被称为“中华民族的儿子,中国共产党肝胆相照的挚友”,主要是因为他 () **C**

- A. 归属南京国民政府 B. 参加北伐战争
C. 发动西安事变 D. 参加重庆谈判

(2010·山东日照) 6. 右图是20世纪某时期的一幅标语。该标语反映的历史背景是 () **D**



- A. 甲午战争结束后,半殖民地化加深

- B. 巴黎外交失败后，五四运动爆发
- C. 国共合作破裂后，南京国民政府建立
- D. 九一八事变爆发后，东北三省沦陷

(2010·湖南娄底) 9. 江泽民称张学良将军为“伟大的爱国者”，以赞扬他在西安事变中的巨大功绩。西安事变的和平解决，最有利于 () C

- A. 国民党
- B. 共产党
- C. 中华民族
- D. 日本

第 15 课 “宁为战死鬼，不作亡国奴”

(2010·安徽) 4. “勿忘国耻”研究小组要实地考察抗日战争全面爆发的历史，他们必须去的地方是 () C

- A. 台儿庄
- B. 南京
- C. 卢沟桥
- D. 沈阳

(2010·湖南岳阳) 9. “宛平城外狼狗叫，卢沟桥上枪声激”这句诗反映的历史事件对中国产生的最主要影响是 () C

- A. 中国局部抗战开始
- B. 红军长征胜利
- C. 全民族抗战开始
- D. 国共十年对峙结束

(2010·广东汕头) 11. 有一首歌唱到：“你手持汉阳造血染台儿庄/我手握大刀片喋血平型关/在战壕中你我分享着一口干粮/在青纱帐里你我一同擦拭刀枪……”歌词所反映的史实发生于 () C

- A. 国民革命时期
- B. 局部抗战时期
- C. 全民族抗战时期
- D. 解放战争时期

(2010·山西) 4. 中华民族全民族抗战开始的标志是 () C

- A. 九一八事变
- B. 西安事变
- C. 卢沟桥事变
- D. 重庆谈判

(2010·广东) 10. 今天的北京有“佟麟阁路”和“赵登禹路”。这是为了纪念在哪次反侵略战争中牺牲的民族英雄？ () D

- A. 1860 年抗击英法联军进攻北京
- B. 1900 年抗击八国联军侵略北京
- C. 1931 年抗击日军侵略东北
- D. 1937 年抗击日军侵略北平

(2010·广东佛山) 10. 南京大屠杀是日本侵略者对中华民族犯下的严重暴行，最真实再现这一事件的是 () D

- A. 历史学家撰写的有关著作
- B. 南京大屠杀幸存者的回忆
- C. 电影《南京！南京！》
- D. 日本随军记者拍摄的现场照片

(2010·广东广州) 4. 我们要研究南京大屠杀这段历史，以下最有力的证据是 () C

- A. 文学作品中的描写
- B. 电影片段中的场景
- C. 屠杀现场遗迹与当时的新闻照片
- D. 日本的官方言论

(2010·福建三明) 9. “……鲜血凝固的那个时候，长江呜咽钟山悲泣。三十万，三十万同胞，在黑暗中挣扎，三十万，三十万冤魂，在地狱里哭泣。……”三十万同胞的遇难地点是 () D

- A. 东北
- B. 北京
- C. 上海
- D. 南京

(2010·福建漳州) 10. 1937 年 7 月 8 日，中共通电全国，指出“只有全民族实行抗战，才是我们的出路”，在此前一天的夜晚，北平爆发 () D

- A. 百日维新
- B. 九一八事变
- C. 西安事变
- D. 卢沟桥事变

(2010·湖南永州) 12. 永州市某校初二 (1) 班同学准备举行“1919~1949 年历史图片展”。小军找到一幅《中国军队血战卢沟桥》的图片，你认为它应该归入的栏目主题是 () C

- A. 国民革命 洪流奔涌
- B. 十年对峙 烽火绵延
- C. 八年抗战 同仇敌忾
- D. 解放战争 革命胜利

(2010·广东梅州) 2. 抗日战争淞沪会战中, 八百壮士在四行仓库孤军抗击侵略者的斗争成为民族抗战的一面旗帜, 毛泽东为此题词“八百壮士民族革命典型”, 领导八百壮士抗战的民族英雄是梅州人 () A

A. 谢晋元 B. 姚子青 C. 黄梅兴 D. 古大存

第 16 课 血肉筑长城

(2010·山东聊城) 17. 1938 年, 田汉为庆祝某一战役的胜利写了一首歌词。词中写道: “将士的喊声, 震动了南部山东, 榴弹掷处血光红, 敌人如鼠我如龙。”这一战役是 () C

A. 贺胜桥战役 B. 平型关大捷 C. 台儿庄战役 D. 百团大战

(2010·四川宜宾) 7. 在学习《中华民族的抗日战争》的过程中, 某同学整理制作了下面的表格。其中出现明显错误的是 () A

序号	事件	时间	作用
①	卢沟桥抗战	1937 年 7 月	中国人民局部抗战的开始
②	平型关大捷	1937 年 9 月	抗战开始以来的第一次大捷
③	台儿庄战役	1938 年春天	取得抗战开始以来的重大胜利
④	百团大战	1940 年 8 月开始	中国军队主动出击日军的最大战役

A. ① B. ② C. ③ D. ④

(2010·浙江湖州) 18. 中国抗日战争是世界反法西斯战争的东方主战场。抗战期间, 中国军民伤亡人数达 3500 多万, 直接经济损失超过 1000 亿美元。材料直接反映了中国的抗日战争 () C

① 是世界反法西斯战争的组成部分 ② 直接抗击了德、意、日法西斯国家
③ 为世界反法西斯战争付出了重大牺牲 ④ 得到了爱好和平与正义的国家和人民的支持
A. ①② B. ②④ C. ①③ D. ③④

(2010·四川内江) 19. 通过对抗战历史的学习, 你认为中国取得抗战胜利的决定性力量是 () D

A. 出兵中国东北的苏联军队 B. 向日本投掷了原子弹的美军
C. 国民党军队 D. 中国共产党及其领导的人民武装

(2010·江苏苏州) 8. “为什么要在中国领土上进行军事演习? 为什么借口士兵失踪动用大炮? 为什么侵略者不撤兵回营, 反叫中国守军撤出宛平?”这是美国记者斯诺在 1937 年参加日军召开的一次记者招待会上提出的问题, 这一连串的质问主要针对 () C

A. 柳条湖事件 B. 九一八事变 C. 七七事变 D. 八一三事变

(2010·广东东莞) 18. 面对日本侵略军的进攻, 卢沟桥中国驻军奋起抵抗, 全国性的抗日战争从此爆发。这一历史事件发生在 () B

A. 1931 年 9 月 18 日 B. 1937 年 7 月 7 日
C. 1937 年 12 月 13 日 D. 1945 年 8 月 15 日

(2010·广东东莞) 19. 中国共产党经过二十多年革命探索后, 提出“把中国建设成为一个独立、自由、民主、统一、富强的新中国。”最早提出这个政治主张是在 () B

A. 中共一大 B. 中共七大 C. 中共八大二次会议 D. 十一届三中全会

(2010·广东东莞) 20. 洗雪了近代以来的民族耻辱, 成为中华民族由衰败到重新振兴的转折点是 () C

A. 中华民国成立 B. 五四爱国运动 C. 抗日战争胜利 D. 中华人民共和国成立

(2010·山东威海) 12. 1940年8月20日,为粉碎敌人的“囚笼政策”,八路军在华北地区对日寇开始了一次规模最大、持续时间最长的战役,沉重打击了日本侵略者的嚣张气焰。这次战役是() **D**

A. 血战卢沟桥 B. 平型关大捷 C. 台儿庄战役 D. 百团大战

(2010·湖北武汉) 22. 1945年8月15日晚,日本宣布投降的消息传遍全国。延安人民欢欣鼓舞,人们潮水般地从各个山沟和窑洞涌出,庆祝抗日战争的胜利。下列有关抗日战争的说法,不正确的是() **C**

A. 抗日民族统一战线是中国人民取得抗日战争胜利的重要保证

B. 中国的抗日战争是世界反法西斯战争的重要组成部分

C. 中国的抗日战争没有得到外国的任何援助

(2010·山东东营) 11. 抗日战争中,中国军队主动出击日军的规模最大战役是() **C**

A. 平型关大捷 B. 台儿庄战役 C. 百团大战 D. 淮海战役

(2010·福建龙岩) 7. 抗日战争中,中国军队主动出击日军最大规模的战役是() **A**

A. 百团大战 B. 平型关大捷 C. 台儿庄战役 D. 太原会战

(2010·湖北鄂州) 8. 李宗仁将军在他的回忆录中说,他生平中指挥的最值得自豪的战役,是取得抗战中正面战场最重大胜利的() **D**

A. 平型关之战 B. 百团大战 C. 长沙会战 D. 台儿庄战役

(2010·江苏泰州) 8. 某电视台组织了一次“追寻历史足迹”活动,途经卢沟桥和山东的台儿庄等地,是为了纪念() **C**

A. 北伐战争 B. 红军长征 C. 抗日战争 D. 解放战争

(2010·湖北十堰) 24. 近代史上中国人民反对外来入侵第一次取得完全胜利的民族解放战争的() **D**

A. 甲午战争 B. 解放战争 C. 抗美援朝 D. 抗日战争

(2010·广东汕头) 12. 1940年,八路军总部发布战役预备命令:“我军应以积极的行动在华北战场上开展较大胜利的战斗,创立显著的战绩……”之后,八路军开展的“较大胜利的胜利”是() **D**

A. 平型关大捷 B. 台儿庄战役 C. 挺进大别山 D. 百团大战

(2010·湖南长沙) 6. 大型音乐舞蹈史诗《复兴之路》有一段誓词:“为了民族,为了国家,为了同胞,为了子孙,血战到底!”誓词反映的情境应出现在下列哪一历史时期?() **B**

A. 国共十年内战时期 B. 抗日战争时期 C. 文化大革命时期 D. 改革开放新时期

(2010·湖南衡阳) 12. 《亮剑》中的李云龙有句台词:“我们要主动‘关照’日本鬼子,让它尝尝被八路军打的滋味。”八路军主动出击日军规模最大的战役是() **C**

A. 汀泗桥战役 B. 卢沟桥抗战 C. 百团大战 D. 挺进大别山

(2010·山东莱芜) 9. 出现右图的场面是因为() **D**

A. 百团大战振奋了人心 B. 台儿庄大战沉重打击了日军

C. 西安事变得到和平解决 D. 中国取得了抗日战争的胜利

(2010·陕西) 16. “这里本是黄土高原上一片贫瘠的土地,自从红军长征来到这里,它就由一个默默无闻的地名逐渐成为决定中国命运的思想制高点。”下列各项能体现材料观点的是() **D**

A. 创建了第一个农村革命根据地,开辟了农村包围城市、武装夺取政权的革命道路

B. 召开了中共中央政治局扩大会议,成为党的历史上生死攸关的转折点



台湾光复

- C. 和平解决西安事变，国共第二次合作初步形成
- D. 召开中共“七大”，毛泽东思想被确立为党的指导思想

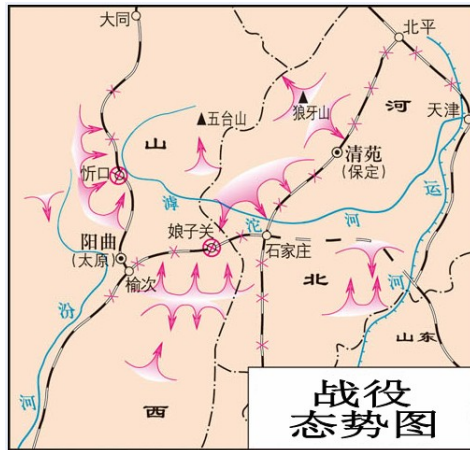
(2010·新疆乌鲁木齐) 7. 距今(2010年)70年前，中国军队在华北主动出击作战，毙敌俘虏日伪军达4万多人。这次著名战役被称为() C

- A. 平型关大捷
- B. 台儿庄战役
- C. 百团大战
- D. 平津战役

(2010·贵州贵阳) 15. 近代历史上中华民族形成统一的抵抗力量，抗击外来侵略并取得完全胜利的战争是() C

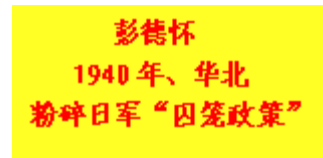
- A. 鸦片战争
- B. 北伐战争
- C. 抗日战争
- D. 解放战争

(2010·湖北孝感) 22. 根据下两幅图片判断，此战役为() B



- A. 台儿庄战役
- B. 百团大战
- C. 渡江战役
- D. 淮海战役

(2010·江苏宿迁) 26. 在央视“非常6+1”知识竞答中，一选手对屏幕提示(如下)所反映的历史事件难以决断。若给你打求助电话，你应该选择() C



- A. 平型关大捷
- B. 台儿庄战役
- C. 百团大战
- D. 淞沪会战

(2010·山东泰安) 12. 为争取抗战的胜利和实现中国的光明前途准备了条件的会议是() B

- A. 中共一大
- B. 中共七大
- C. 中共八大
- D. 中共十一届三中全会

(2010·内蒙古包头) 5. 根据以下表格提供的信息，判断这一历史事件是() C

战役时间	作战区域	毙伤俘日伪军数	破坏交通线	拔掉据点
1940年	华北地区	4万多人	2000多公里	近3000个

- A. 血战卢沟桥
- B. 台儿庄战役
- C. 百团大战
- D. 辽沈战役

(2010·内蒙古呼和浩特) 7. 朱德赞扬百团大战“带有全国性的伟大战略意义”，主要是因为该战役() C

- A. 破坏了敌人在华北的交通线
- B. 摧毁了敌人的据点
- C. 增强了人民坚持抗战的信心
- D. 提高了共产党的威信

(2010·四川成都) 12. 抗日战争期间，八路军在华北发动了著名的百团大战，其指挥员是() B

- A. 朱德
- B. 彭德怀
- C. 陈赓
- D. 聂荣臻

(2010·四川南充) 7. 下列战役具有反侵略性质的是() B

A. 汀泗桥战役 B. 百团大战 C. 挺进大别山 D. 辽沈战役

(2010·江苏无锡) 7. 下列关于百团大战描述正确的是 () B

- A. 粉碎国民党反动派对红军的革命根据地的“围剿”
- B. 中国军队主动出击日军的规模最大战役
- C. 揭开解放战争战略反攻序幕的伟大历史篇章
- D. 抗战防御阶段中国军队打破日军三个月灭亡中国的迷梦和狂妄计划

(2010·湖南株洲) 9. 下面是某同学在研究性学习中使用的图片资料。由此判断, 他的研究主题是 () D



卢沟桥和守卫的中国士兵



李宗仁在台儿庄



彭德怀在百团大战前线



八路军与民兵配合拆毁正太铁路

- A. 正面战场抗战 B. 敌后战场抗战 C. 八路军与民兵抗战 D. 全民族抗战

(2010·贵州毕节) 18. 1938年春, 李宗仁将军指挥中国军队与日本军血战近20天, 取得抗战以来正面战场的最大胜利, 这次战役是 () C

- A. 淞沪会战 B. 平型关大捷 C. 台儿庄战役 D. 百团大战

第五单元 人民解放战争的胜利

第17课 内战烽火

(2010·四川遂宁) 20. 揭开人民解放军全国性战略进攻序幕的事件是 () C

- A. 孟良崮战役开始 B. 刘邓大军挺进大别山 C. 三大战役开始 D. 渡江战役开始

(2010·浙江杭州) 22. 某地初中同学在开展小组合作学习时, 从20世纪40年代中期的国民党报刊中, 查阅到一些民主人士对毛泽东的称赞: “弥天大勇”、“一身系天下之安危”。这些民主人士主要称赞毛泽东 () B

- A. 建立井冈山革命根据地的创举
- B. 赴重庆与国民党谈判的胆魄
- C. 在北平召开新政治协商会议的决定
- D. 建立中华人民共和国的伟业

国际国内各种重要问题，亟待解决。特请先生克日惠临陪都，共同商讨……。”毛泽东此次“陪都”之行的结果是（ ）**B**

- A．避免了内战的爆发 B．签署了“双十协定”
C．商讨了第二次国共合作 D．通过了“共同纲领”

(2010·湖南永州) 13．“1947年7月至9月，解放战争形势起了一个根本的变化，即人民解放军由战略防御转入战略进攻。这一转变，是以解放军渡过黄河向南进攻，把战争推进到国民党统治区为标志的。”这段话所指的历史事件是（ ）**B**

- A．重庆谈判 B．刘邓大军千里跃进大别山 C．三大战役 D．渡江战役

(2010·广西贵港) 14．国民党军队大举进攻哪一解放区，全国性的内战从此开始？（ ）**D**

- A．山东解放区 B．东北解放区 C．陕北解放区 D．中原解放区

第18课 战略大决战

(2010·山东聊城) 18．右边是某同学在探究性学习中使用的
一幅图片。据图片内容判断，该同学的探究题目应是（ ）**D**

- A．人民解放军转入战略进攻
B．北平和平解放
C．国民党军队主力基本被消灭
D．国民党政权垮台



(2010·浙江嘉兴) 19．历史事件的发生往往是多种因素综合作用的结果。解放战争最终取得胜利的因素有（ ）**D**

- ①精良的武器装备 ②中国共产党的正确领导
③丰富的物资供应 ④人民群众的大力支持
A．①② B．③④ C．①③ D．②④

(2010·浙江义乌) 19．右图选自教材《新中国的诞生》一课，编写人员选用这幅图的主要目的是为了说明（ ）**D**


- A．中国共产党的坚强领导
B．当时中国的社会生产力低下
C．毛泽东具有高超的军事指挥艺术
D．民心向背是战争胜负的关键因素



解放区农民组织担架队支前

(2010·重庆綦江) 8．右图情景发生在下列哪次重大战役中？（ ）**A**

- A．渡江战役
B．淮海战役
C．辽沈战役
D．平津战役



(2010·福建福州) 7．看到“1949年4月”、“南京解放”、“国民党政权垮台”等关键词，你能联想到的事件是（ ）**D**


- A．重庆谈判 B．挺进大别山 C．淮海战役 D．渡江战役

(2010·山东青岛) 23．翻开原南京总统府办公桌的台历，透过历史的尘埃，我们还能看到上面写有“中华民国三十八年，四月小，23，星期六”的字样。其寓意是（ ）**D**

- A. 日军占领南京并进行大屠杀 B. 抗日战争获得最终胜利
C. 中国民主革命取得彻底胜利 D. 统治中国 22 年的国民政府覆灭

(2010·山东东营) 12. 你从右图中获得的准确结论是 () **C**

- A. 抗日战争胜利 B. 解放军转入战略反攻
C. 国民党政权垮台 D. 三大战役胜利结束



(2010·福建龙岩) 8. 毛泽东的诗“钟山风雨起苍黄，百万雄师过大江。虎踞龙盘今胜昔，天翻地覆慨而慷。”诗中的“天翻地覆”所指的重大历史事件是 () **D**

- A. 重庆谈判 B. 刘邓大军挺进大别山
C. 渡江战役 D. 解放南京

(2010·湖南岳阳) 10. 毛泽东诗“钟山风雨起苍黄，百万雄师过大江”描绘的是下列哪次战役? () **B**

- A. 辽沈战役 B. 渡江战役 C. 淮海战役 D. 平津战役

(2010·辽宁沈阳) 3. 右图中的建筑物是东北解放纪念碑，它位于沈阳市和平广场。碑文记载了东北三省军民浴血奋战解放全东北的业绩。下列与东北解放相关的战役是 () **A**

- A. 辽沈战役 B. 淮海战役
C. 平津战役 D. 渡江战役



(2010·山东滨州) 11. 民主革命时期，中国共产党领导人民军队打了无数胜仗。下列战役发生在解放战争时期的是 () **C**

- A. 四渡赤水 B. 百团大战
C. 淮海战役 D. 上甘岭战役

(2010·江苏连云港) 23. 解放战争中，以徐州为中心，包括连云港市在内，规模空前的战役是 () **C**


- A. 辽沈战役 B. 平津战役 C. 淮海战役 D. 渡江战役

(2010·福建龙岩) 2) 12. 奠定了解放长江以南各省基础的战役是 () **B**

- A. 辽沈战役 B. 淮海战役 C. 平津战役 D. 渡江战役

(2010·山东泰安) 13. 右图是大型音乐舞蹈史诗《复兴之路》的一个片段，这一片段反映的历史事件是 () **D**

- A. 辽沈战役 B. 淮海战役
C. 平津战役 D. 渡江战役



(2010·广东) 11. “淮海战役是人民用小推车推出来的。”陈毅的这句话说明人民解放战争胜利的原因是 () **B**

- A. 中国共产党的英明领导 B. 人民群众的大力支持
C. 解放军战士的英勇作战 D. 国民党的腐败统治

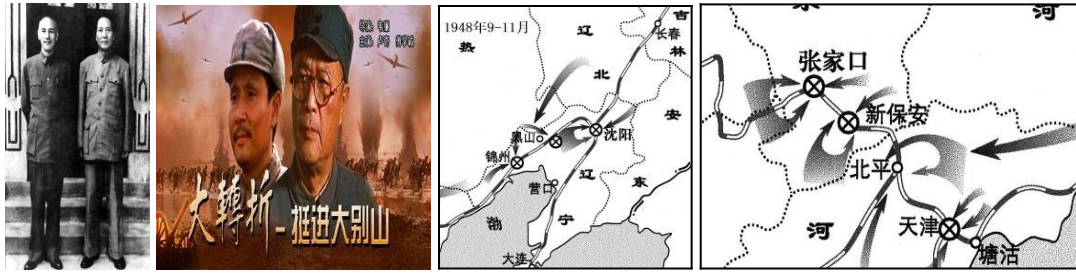
(2010·广西桂林) 4. 据统计，在辽沈战役中，支援解放军前线的民工达 160 万，担架 13800 副，大小车辆 6750 辆，牲畜 80 万头，粮食 0.7 亿斤。这组数据说明解放战争取得胜利的一个重要原因是 () **C**

- A. 解放军实力比国民党军队强 B. 解放军英勇善战
C. 解放军得到了人民群众的大力支持 D. 解放军武器装备先进

(2010·湖南衡阳) 13. 1948 年 9 月到 1949 年 1 月，人民解放军发动了举世闻名的三大战役是 () **B**

- ① 辽沈战役 ② 渡江战役 ③ 淮海战役 ④ 台儿庄战役 ⑤ 平津战役
A. ①②③ B. ①③⑤ C. ③④⑤ D. ②③④

(2010·广东湛江) 28. 小明在学习中国近代史时, 收集到以下四幅图片, 请问他在进行哪一历史主题的学习? () D



A. 北伐战争 B. 十年内战 C. 抗日战争 D. 解放战争

(2010·四川巴中) 21. 文献纪录片《走近毛泽东》中有这样一个情节: 在西柏坡的院子里, 警卫员给毛泽东梳头时拔下一根白发, 毛泽东打趣地说: “打了三个胜仗, 白了一根头发, 值得!” 这“三个胜仗”是指 () A


① 平津战役 ② 辽沈战役 ③ 淮海战役 ④ 台儿庄战役
A. ①②③ B. ②③④ C. ①③④ D. ①②④

(2010·福建莆田) 11. 辽沈、淮海、平津三大战役是人民解放战争中最激动人心的战略大决战。其中辽沈战役胜利的主要意义是 () A

A. 解放了东北全境 B. 为解放军渡江作战奠定了基础
C. 基本上解放了华北全境 D. 推翻了国民党政权

(2010·广东深圳) 17. 小华假期去右图所示事件发生的地参观, 他似乎又听到了战争的隆隆炮声。这一战役是 () D

A. 辽沈战役 B. 淮海战役
C. 平津战役 D. 渡江战役




(2010·新疆建设兵团) 3. 陈毅在《记淮海前线见闻》中说: “(几十万民工) 骏马高车运粮食, 随军旋转逐东西。” 这种现象说明了 () B

A. 粮食的供给是战争胜利的基础 B. 人民的支持是战争胜利的可靠保证
C. 淮海战役是一场后勤补给战争 D. 正确的战略战术是赢得胜利的关键

(2010·福建泉州) 10. 初二、五班开展 1921~1949 年历史图片展览, 王伟同学提交的右图应归入 () D

A. 国民革命时期 B. 十年内战时期
C. 抗日战争时期 D. 解放战争时期



解放军占领南京“总统府”

(2010·江苏无锡) 8. 学完解放战争这一单元, 历史兴趣小组的同学们准备看一部这一时期的影视作品, 你认为下列哪部作品可以推荐给他们? () D

A. 《秋收起义》 B. 《西安事变》 C. 《小兵张嘎》 D. 《大决战》

(2010·山东日照) 8. 根据以下表格提供的信息判断, 这应该是哪一次战役? () A

开始时间	指挥者	结果
1948年9月	林彪、罗荣桓	解放东北全境

A. 辽沈战役 B. 平津战役 C. 淮海战役 D. 渡江战役

(2010·山东菏泽) 6. 下列影视资料中不属于人民解放战争时期的是 () B



第六单元 经济和社会生活

第19课 中国近代民族工业的发展

(2010·山东聊城) 14. 下面是 1912~1920 年中国棉纺织业发展简表。这一时期棉纺织业迅速发展的最主要原因是 () D

	1912年	1920年	发展速度 (1912=100)	年平均增长率 (%)
华商纱厂纱锭	50.9万枚	159.8万枚	313.6	12.1
华商纱厂布机	2616台	6675台	255.2	11.0

- A. 实业团体大量出现 B. 辛亥革命冲击了封建制度
C. 反帝爱国斗争高涨 D. 列强暂时放松对华经济掠夺

(2010·四川自贡) 19. 19 世纪六七十年代, 产生了中国近代民族工业。以下不属于近代民族工业的是 () D

- A. 继昌隆缫丝厂 B. 发昌机器厂 C. 同文书局 D. 江南制造总局

(2010·江苏南京) 9. “民族工业的黄金时代在近代中国经济发展中占有特殊地位, 是转瞬即逝的没有前途的经济奇迹。”材料中的“黄金时代”主要发生在 () C

- A. 洋务运动期间 B. 戊戌变法期间
C. 第一次世界大战期间 D. 解放战争期间

(2010·山东济宁) 18. 今天的中国正在走向富强, 我们不能忘记那些曾为挽救民族危亡做出贡献的仁人志士。右图人物是近代著名的状元企业家, 他是 () C

- A. 詹天佑 B. 曾国藩 C. 张謇 D. 荣宗敬

(2010·江西) 4. 随着民族危机的步步加深, 近代中国出现了多种救国思潮。下列人物, 主张“实业救国”的是 () D

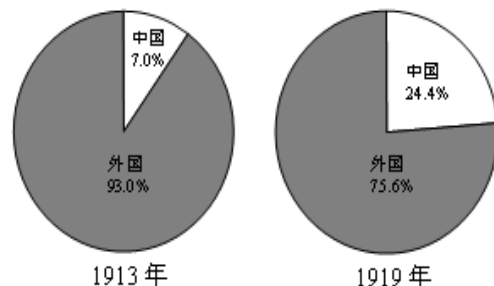
- A. 魏源 B. 严复 C. 康有为 D. 张謇

(2010·福建福州) 8. “他”以状元的身份毅然辞官南归, 一生先后创办了大生纱厂等 19 个企业。“他”是 () C

- A. 詹天佑 B. 魏源 C. 张謇 D. 侯德榜

(2010·河北) 12. 右图是中国和外国公司在中国煤矿工业总产量中所占百分比变化示意图。

导致这一变化的原因是 () C



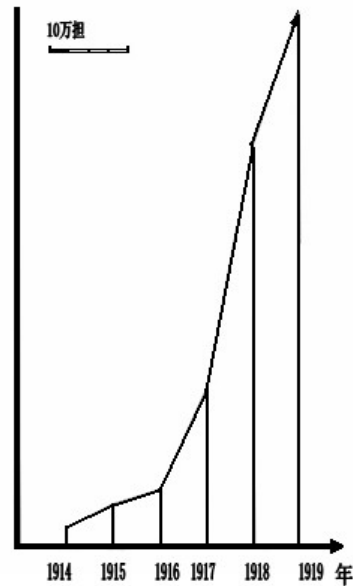
- A. 洋务运动的开展 B. 戊戌变法的推动
C. 欧洲列强忙于一战 D. 南京国民政府成立

(2010·山东威海) 13. 清末状元张謇创办的大生纱厂等企业, 在第一次世界大战期间得到较快发展的原因不包括 () C

- A. 辛亥革命冲击了封建制度 B. “实业救国”思潮的鼓舞
C. 清政府的扶持 D. 帝国主义忙于战争, 放松了对中国的经济侵略

(2010·山西) 5. 右图是第一次世界大战期间中国面粉出口增长表。出现这种趋势的主要原因是 () D

- A. 北洋政府提出“实业救国”
B. 日本给北洋政府经济援助
C. 北洋政府重视民族工业的发展
D. 帝国主义忙于战争, 放松对中国的经济侵略



(2010·山东莱芜) 10. 下列关于中国近代民族工业的论述, 正确的是 () A

- ① 洋务运动客观上促进了中国民族工业的产生
② 主要集中在轻工业部门
③ 受到帝国主义、封建主义和官僚资本主义的压迫
④ 甲午战争后期发展进入了“黄金时期”

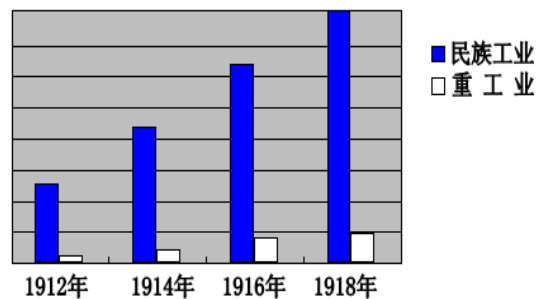
- A. ①②③ B. ①②④
C. ②③④ D. ①③④

(2010·新疆乌鲁木齐) 8. 从1910年南京召开第一次全国博览会到2010年上海举办世界世博会已有百年历史。100年前第一次全国世博会的实际组织者, 就是提出“实业救国”的状元实业家 () D

- A. 张之洞 B. 詹天佑 C. 侯德榜 D. 张謇

(2010·广西梧州) 21. 右图是中国近代民族工业某一阶段发展示意图。产生该现象的国际原因是 () B

- A. 辛亥革命推翻清王朝的统治
B. 一战期间列强暂时放松对中国的经济侵略
C. 民族资产阶级积极投资
D. 经济全球化趋势加快



(2010·贵州贵阳) 14. 1926年, 中国的“红三角”牌纯碱, 闯入万国博览会并获金质奖章。为该荣誉做出贡献的科学家是 () B

- A. 詹天佑 B. 侯德榜 C. 邓稼先 D. 张謇

(2010·江苏宿迁) 24. 张謇是近代著名民族企业家, 其创建的大生纱厂是近代民族资本主义发展的一个缩影。你认为大生纱厂经营“最景气”时期是在 () B

- A. 甲午战争后 B. “一战”期间 C. 抗日战争时期 D. 解放战争时期

(2010·江苏盐城) 11. 根据下表分析, 1911年至1919年我国面粉业出现这种状况的最主要原因是 () A

1911-1919年中国面粉业发展情况比较表

时间	面粉厂和机器磨坊(家)	资本(万元)	日产量(万袋)
1911年	40	600多	4.3
1919年	120	4500	18.8

- A. 帝国主义忙于“一战”，暂时放松对中国的经济掠夺 B. 辛亥革命冲击了封建制度
C. “实业救国”思潮的鼓舞 D. 中国民族工业实力雄厚

(2010·山东泰安) 15. 右图我国面粉工业快速发展的主要原因是 () **D**

- ① 辛亥革命的成功冲击了封建制度
② 帝国主义国家忙于战争，暂时放松了对中国经济的掠夺
③ 帝国主义国家完全退出了在中国的政治、经济势力

A. ①②③ B. ①③ C. ②③ D. ①②

(2010·江苏扬州) 9. 一百年前的某一天，《申报》记者老费前去采访大生纱厂的创办人——一个主张实业救国的晚清状元，这位状元实业家是 () **B**

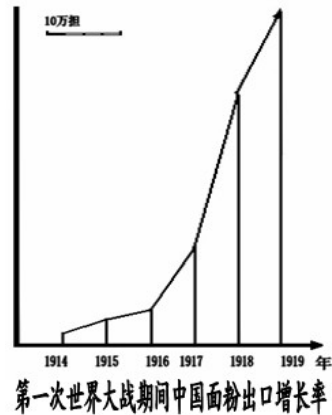
- A. 林则徐 B. 张謇 C. 周学熙 D. 李鸿章

(2010·湖南永州) 15. 如果你是一位 19 世纪末投资企业的人，从投资小、见效快的角度考虑，最好投资于 () **B**

- A. 重工业 B. 轻工业 C. 农业 D. 军事工业

(2010·湖南株洲) 10. 古代有“投笔从戎”报效国家的班超，近代有中过状元后来走上实业救国道路的 () **A**

- A. 张謇 B. 孙中山 C. 周学熙 D. 荣宗敬



第 20 课 社会生活的变化

(2010·山东聊城) 13. “新礼服兴，翎顶补服灭；剪发兴，辫子灭；爱国帽兴，瓜子帽灭；天足兴，缠足灭；阳历兴，阴历灭；鞠躬礼兴，跪拜礼灭。”引起这些习俗变化的最重要的事件是 () **B**

- A. 戊戌变法 B. 辛亥革命 C. 新文化运动 D. 五四运动

(2010·浙江义乌) 17. 1862 年洋务派开设的同文馆，是中国最早的新式学堂。下列关于这个学堂创办初期的场景描述，正确的是 () **A**

- A. 有一些外国教师在学堂授课 B. 学堂座落在环境优美的上海黄浦江畔
C. 学生入学后一律要剪掉辫子 D. 大批科举出身的人纷纷涌入学堂学习

(2010·山东东营) 9. 与右图所示事件的发生直接相关的是 () **A**

- A. 鸦片战争 B. 义和团运动
C. 辛亥革命 D. 新文化运动

(2010·河南) 7. 近代以来，人们的社会生活发生了显著变化。下列现象不可能发生的是 () **B**

- A. 1909 年，张某乘坐火车，行驶在中国人自己设计修筑的铁路上



- B. 1910年,李某赴京参加了科举考试
C. 1911年,王某通过《申报》获得了武昌起义的消息
D. 1912年,赵某穿着中山装参加了一个重要宴会

(2010·湖北荆州) 10. 近代课本和字典等工具书大多由近代中国历史最长、规模最大的出版机构出版,这个出版机构是 () **A**

- A. 商务印书馆 B. 岳麓书社 C. 三联书社 D. 中华书局

(2010·湖南衡阳) 14. 衣食住行等作为社会文化的载体,展现了时代特有的精神风貌。在1925年的上海,不可能出现的社会生活场景是 () **C**

- A. 报童在街上叫卖 B. 汽车在马路上穿梭
C. 人们用手机相互问候 D. 西装革履的男子在吃西餐

(2010·山东泰安) 10. 右图中的历史现象最早应出现于 () **B**

- A. 甲午中日战争前 B. 辛亥革命后
C. 抗日战争期间 D. 解放战争时期



(2010·江苏淮安) 18. 近代中国,海禁大开。外来事物从四面八方滚滚而来,逐渐改变了人们的社会生活。下列事项不可能出现在20世纪20年代初北京居民日常生活中的是 () **D**

- A. 出行可以乘坐火车 B. 用电报和亲友联系
C. 可以看到无声电影 D. 可以用上詹天佑研制的纯碱

第七单元 科学技术与思想文化

第21课 科学技术与思想文化 (一)

(2010·安徽芜湖) 4. 下列有关近代前期社会生活的描述,不符合史实的一项是 () **C**

- A. 周某在《申报》上读到《马关条约》签订的消息,非常气愤
B. 戊戌变法期间,郑某在商务印书馆担任编辑
C. 吴某乘坐火车,沿京张铁路进京,参加科举考试
D. 《辛丑条约》签订后,王某一家被迫从世代居住的东交民巷搬出

(2010·广西桂林) 5. 2008年10月13日,贵广高速铁路开工仪式在桂林灵川县甘棠江大桥桥址举行,这是我国高速铁路网中一条重要的东西向铁路大动脉。该铁路设计时速二百公里,建成后广州至桂林将不会超过三小时,对桂林来说是一个百年难遇的发展机遇。你知道中国人独立设计和修筑的第一条铁路干线是 () **A**

- A. 京张铁路 B. 京广铁路 C. 京包铁路 D. 津沪铁路

(2010·江苏扬州) 8. 近代史上,中国人自行设计和施工的第一条铁路是 () **B**

- A. 京沪铁路 B. 京张铁路 C. 京九铁路 D. 京津铁路

第22课 科学技术与思想文化 (二)

(2010·江苏徐州) 5. 下列书刊中,属于中国近代较早介绍西方生物进化论思想的是 () **C**



(2010·湖南岳阳) 11. 魏源的思想不包括下列哪项内容 () **C**

A. 学习西方先进技术 B. 抵制外国侵略势力 C. 建立君主立宪制度 D. 维护清朝统治

(2010·湖南岳阳) 30. 第一届中国人民政治协商会议把《义勇军进行曲》定为新中国的代国歌。这首歌的词作者是 () **D**

A. 丁玲 B. 周立波 C. 沈从文 D. 田汉

(2010·广东佛山) 7. 严复被鲁迅先生称为中国“十九世纪末最敏感的人”，因为他 () **D**

A. 提出了“师夷长技以制夷”的思想 B. 主张民主共和思想

C. 提出“自强”、“求富”的主张 D. 宣传“物竞天择”观点


(2010·山东泰安) 14. “起来！……把我们的血肉筑成新的长城！……冒着敌人的炮火，……前进！进！”每当学校星期一升旗，唱起这首催人奋进的歌曲时，我们都会联想到一位著名的音乐家。他是 () **B**

A. 冼星海 B. 聂耳 C. 欧仁·鲍狄埃 D. 贝多芬

(2010·福建宁德) 6. 睁眼看世界，寻求革新救国思想。魏源在右图所示著作中提出的思想主张是 () **B**

A. 自强与求富 B. 师夷长技以制夷

C. 物竞天择，适者生存 D. 驱除鞑虏，恢复中华



(2010·福建漳州) 11. 文艺作品能折射出时代的印迹，下列作品反映同一历史题材的最佳选项是 () **D**

①《黄河大合唱》 ②《义勇军进行曲》 ③《狂人日记》 ④《奔马图》

A. ①②④ B. ②④ C. ①③④ D. ①②

(2010·江苏常州) 19. 《救亡之声——中国抗日战争歌曲汇编》一书收录了 3621 首抗战歌曲，是目前收录抗战歌曲最全的书。下列作品会被收录其中的是 () **D**

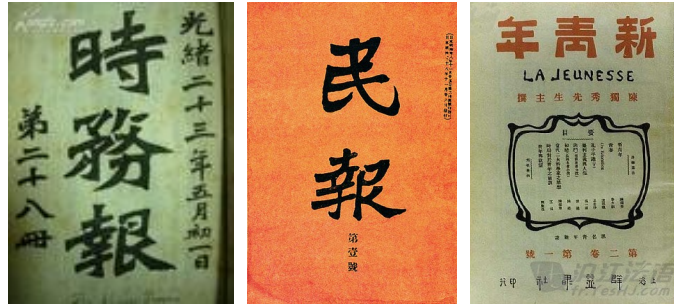
①鲁迅的《狂人日记》 ②聂耳的《义勇军进行曲》

③徐悲鸿的《愚公移山》 ④冼星海的《黄河大合唱》

A. ①④ B. ①③ C. ③④ D. ②④

单元综合

(2010·四川自贡) 20. 历史兴趣小组为下列图片拟一历史主题，最贴切的是 () **B**



- A. 抗争——中国人民摆脱外来侵略 B. 探索——寻求强国御侮之道
 C. 屈辱——一步步走向殖民地的深渊 D. 复兴——中华民族崛起之路

(2010·浙江绍兴) 9. 实物资料是一种历史证据。二战中，日本侵略者对人类犯下了不可饶恕的罪行。下列可用来证明日军所犯罪行的史料包括 () C

- ①731 部队相关遗址 ②奥斯威辛集中营遗址
 ③南京大屠杀惨案相关遗址 ④斯大林格勒战役照片
 A. ①④ B. ②③ C. ①③ D. ②④

(2010·浙江温州) 由于中国人闭关自守，骄傲自满，三次灾难性的战争使他们受到了巨大的刺激，第一次是 1840—1842 年同英国的战争，第二次是 1856—1860 年同英、法的战争，第三次是 1894—1895 同日本的战争。在这些战争中所遭到的耻辱性的失败，迫使中国人打开大门 (摘自美国斯塔夫里阿诺斯《全球通史》，有删改)。据此回答 16—18 题：

(2010·浙江温州) 16. 材料中的第一次战争是指 () A
 A. 鸦片战争 B. 第二次鸦片战争 C. 甲午战争 D. 八国联军侵华战争

(2010·浙江温州) 17. 材料中的第二次战争失败后，清政府一些官员认识到西方“坚船利炮”的威力，掀起了一场向西方学习军事技术，以求自强的运动。这场运动是指 () A
 A. 洋务运动 B. 维新变法运动 C. 新文化运动 D. 五四运动

(2010·浙江温州) 18. 材料中第三次战争的交战双方，同样装备着“坚船利炮”，却以清朝的惨败而告终。它暴露了清朝政治制度的腐朽。清朝实行的政治制度是 () C
 A. 三权分立制度 B. 民主共和制度 C. 君主专制制度 D. 君主立宪制度

(2010·重庆) 9. 图片是形象的史料。下列图片反映的历史事件按发生的先后排序，正确的是 () D



- ① 重庆谈判 ② 南昌起义 ③ 五四运动 ④ 人民解放军占领南京总统府
 A. ①②③④ B. ①④③② C. ①③②④ D. ③②①④

(2010·重庆綦江) 5. 2010 年世界博览会在上海举行，上海已成为一座国际化大都市，它见证了近代中国社会的百年变迁。以下重大历史事件发生在上海的有 () C

- ① 中共的成立 ② 黄埔军校的建立 ③ 淞沪抗战 ④ 中共七大的召开
 A. ①② B. ②③ C. ①③ D. ③④

(2010·江苏苏州) 5. 今年是鸦片战争爆发 170 周年，学校开展爱国主义电影观摩周活动，有以下四部反映中国近代历史的影视作品，请你按照历史发展进程向同学推荐观看的先后

顺序 () B

①《孙中山》 ②《鸦片战争》 ③《火烧圆明园》 ④《甲午风云》

A. ①②③④ B. ②③④① C. ③④②① D. ④②①③

(2010·江苏苏州) 7. 苏州某初级中学九年级(1)班同学为某期黑板报的出刊, 收集整理了如下资料: “南昌起义”、“井冈山会师”、“红军长征”、“西安事变”。据此, 你可以判断, 本期黑板报的主题是 () B

A. 国民革命, 洪流奔涌 B. 十年内战, 烽火绵延
C. 八年抗战, 同仇敌忾 D. 解放战争, 革命胜利

(2010·山东青岛) 18. 有一位外国人搜集了四部反映中国近现代历史的影视作品, 请你按照历史发展的进程向他推荐观看的先后顺序 () A

①《鸦片战争》 ②《四渡赤水》 ③《甲午风云》 ④《重庆谈判》

A. ①③②④ B. ①④②③ C. ②③①④ D. ②①③④

(2010·江苏泰州) 5. 下列各项内容, 按相关不平等条约在中国近代史上签订的时间先后顺序排列, 正确的是 () B

①割让香港岛给英国 ②清政府保证严禁人民参加反帝活动 ③割台湾、澎湖列岛给日本

A. ①②③ B. ①③② C. ②①③ D. ③②①

(2010·江苏泰州) 9. 南京是历史文化名城, 近代以来, 见证了中国历史的风云变幻。下列史实不能印证这一观点的是 () A

A. 八国联军侵华 B. 中华民国成立
C. 日本法西斯制造屠杀惨案 D. 国民党政权覆灭

(2010·山东滨州) 9. 我国当代著名学者余秋雨说: “废墟是昨天派往今天的使者, 废墟让我们把地理读成了历史。”站在南京古城墙的废墟上, 我们可以“读到”的历史不包括 () C

A. 中国第一个不平等条约的签订 B. 孙中山宣告中华民国临时政府成立
C. 陈独秀创办《新青年》杂志 D. 日军屠杀和平居民和放下武器的中国士兵 30 万人以上

(2010·湖北襄樊) 15. 南京是中国近代史的起点和终点, 是近代中国的缩影。下列事件没有发生在该地的是 () B


A. 中华民国成立 B. 同盟会的成立
C. 国民党政权垮台 D. 日本侵略者制造大屠杀惨案

(2010·湖北黄冈) 10. “大丈夫生于世间, 宁可粗布以御寒, 也要保持民族气节, 不可为锦衣玉食做无耻的帮凶和奴才。”在民主革命中为中华民族而牺牲的仁人志士有 () D

①文天祥 ②岳飞 ③邓世昌 ④李大钊 ⑤刘胡兰 ⑥雷锋

A. ①②③④⑤⑥ B. ①③④⑤ C. ③④⑤⑥ D. ③④⑤

(2010·河南) 8. 2010年2月11日, 南京获得了第二届青年奥运会的举办权。为迎接青奥会, 某学校举办了与南京历史相关的图片展。下列对有关图片的解释, 准确的是 () D



A B C D

1842年，《南京条约》签订，中国沦为半殖民地半封建社会。

1912年，中华民国成立，中国社会性质发生了根本的变化。

1945年，日本投降，结束了中国近代被侵略、被奴役的历史。

1949年，人民解放军占领南京，统治中国22年的南京国民政府覆灭。

(2010·山东济宁) 16. 有一位老人生于1850年，卒于1926年。他一生能够见证到的历史事件依次是 () **A**

- ①鸦片战争 ②第二次鸦片战争 ③甲午战争
④八一南昌起义 ⑤中国共产党诞生 ⑥辛亥革命 ⑦洋务运动
A. ②⑦③⑥⑤ B. ②③⑦⑥⑤ C. ②③④⑤⑥ D. ②③④⑥⑦

(2010·山东济宁) 17. 一部反映19世纪末期中国某富商家族兴衰历史的电视剧正在热播。剧中有这样几组镜头，你认为其中与史实不相符的是 () **C**

- A. 镜头一：商人到广州日本人开设的工厂洽谈生意
B. 镜头二：商人的儿子在京师大学堂读书
C. 镜头三：商人正在读《新青年》，了解新闻
D. 镜头四：商人家住在北京东交民巷

(2010·广东) 6. 某中外学生交流团游览北京。如果你以导游身份讲解当地名胜古迹，正确的讲解是 () **A**

- ①隋朝大运河北抵涿郡，是贯通南北的大动脉
②北京故宫是我国现存规模最大、最完整的古建筑群
③万里长城是世界建筑史上的一个奇迹
④北京大学是创办于洋务运动时期的一所百年名校
A. ①②③ B. ②③④ C. ①③④ D. ①②④

(2010·广东广州) 1. 有一位外国人手中有四部反映清朝晚期历史的影视作品，请你按照历史发展进程向他推荐观看的先后顺序 () **B**

- ①《鸦片战争》 ②《末代皇帝》 ③《火烧圆明园》 ④《甲午风云》
A. ①②③④ B. ①③④② C. ④②①③ D. ④③②①

(2010·广西桂林) 3. 近年来随着国共两党互信的加深，随着海峡两岸三通的实现，随着两岸同胞交往的增多，可以乐观地预见两党再次合作的希望。历史上体现国共合作的事件有 () **D**

- ①黄埔军校的创建 ②北伐战争 ③南昌起义 ④西安事变的和平解决
A. ①③④ B. ②③④ C. ①②③④ D. ①②④

(2010·四川巴中) 17. 1840年鸦片战争以来，外国列强强迫清政府签订了一系列不平等条约，下列内容与条约不相匹配的一项是 () **C**

- A. 《南京条约》——割让香港岛 B. 《马关条约》——割让台湾
C. 《北京条约》——设东交民巷为使馆界 D. 《辛丑条约》——赔款白银4.5亿两

(2010·新疆乌鲁木齐) 6. 19世纪末20世纪初，在民族危亡面前，中国各政治团体、政党组织纷纷创办报刊杂志，宣传维新变法与革命思想。下列报刊杂志中，属于这些团体和政党机关报刊的是 () **A**

- A. 《中外纪闻》、《民报》 B. 《申报》、《民报》
C. 《新青年》、《中外纪闻》 D. 《新青年》、《申报》

(2010·福建莆田) 10. 中国2010年上海世博会开幕一个月来，上海成为全球瞩目的城市。

回顾历史，近代中国发生在上海的事情有（ ）D

①江南制造总局的设立 ②轮船招商局的成立 ③《申报》的创刊 ④商务印书馆的创办
A. ①②③ B. ①②④ C. ②③④ D. ①②③④

(2010·广东深圳) 16. 中国民主革命的先行者孙中山，为了中国的富强，进行了不屈不挠的探索。下面民主革命探索中，与孙中山有关的是（ ）A

①同盟会成立 ②辛亥革命 ③中华民国成立 ④第一次国共合作
A. ①②③④ B. ①②③ C. ②③④ D. ①③④

(2010·广东湛江) 29. 下列历史人物与历史贡献的连线搭配，错误的是（ ）D

A. 张謇——创办大生纱厂 B. 詹天佑——设计京张铁路
C. 魏源——编写《海国图志》 D. 冼星海——创作《义勇军进行曲》

(2010·湖北孝感) 17. 戊戌变法、辛丑条约、辛亥革命、中的“戊戌”、“辛丑”、“辛亥”使用了（ ）B

A. 公元纪年法 B. 干支纪年法 C. 帝号纪年法 D. 民国纪年法

(2010·湖北孝感) 20. 1902年的某一天，京师大学堂的日本老师在生物课上解剖了一只羊。慈禧太后听说后大为震怒，管学大臣张百熙急忙入宫叩头请求处分。这则史实反映了（ ）D

①日本对中国文化的入侵 ②慈禧太后的愚昧无知
③在封建专制统治下，教育改革艰难 ④近代科学进入了新式学校
A. ①②③ B. ①②③④ C. ①③④ D. ②③④

(2010·湖北孝感) 53. 李老师在引导学生进行某专题复习时，得出一具结论：国共两党合则两利，分则两伤。历史学习注重论从史出，下列史实能支持这一结论的有（ ）ACD

A. 1924-1927年国共两党第一次合作，基本推翻了北洋军阀有统治
B. 1928年，“东北易帜”后国民政府在形式上完成了南北统一
C. 1937-1045年国共两党第二次合作，赢得了近代以来第一次反侵略战争的伟大胜利
D. 1946年6月国民党发动全面内战，战败后逃往台湾，致使大陆与台湾骨肉分离

(2010·江苏盐城) 10. 不懈的探索是中国近代史的主题之一。下列探索中的口号或主张提出的先后顺序是（ ）C

①“民主”和“科学” ②“自强”与“求富” ③“民族”“民权”“民生”
A. ①②③ B. ①③② C. ②③① D. ②①③

(2010·山东泰安) 11. 我们今天的许多节日都与近现代史上的重大历史事件有关，其中与“青年节”、“建军节”有直接关系的两个事件分别是（ ）A

A. 五四运动 南昌起义 B. 南昌起义 中共一大
C. 中共一大 秋收起义 D. 秋收起义 五四运动

(2010·福建泉州) 9. 表格法是学习历史的有效方法之一。以下是李勇整理的内容，不正确的是（ ）B

	重大事件	作用（或影响）
A	西安事变	抗日民族统一战线初步形成
B	卢沟桥事变	中国局部抗战开始
C	台儿庄战役	抗战以来中国军队取得的重大胜利
D	百团大战	八路军主动出击日军的规模最大战役

(2010·内蒙古包头) 1. 中国近代，确定把香港岛和台湾割让给列强的不平等条约分别是（ ）A

- A. 《南京条约》 《马关条约》 B. 《马关条约》 《辛丑条约》
C. 《北京条约》 《辛丑条约》 D. 《南京条约》 《北京条约》

(2010·内蒙古包头) 3. 在1905年的《申报》中可以阅读到的信息有 () C

- ① 废止科举考试 ② 创立中国同盟会
③ 京张铁路通车 ④ 第一部电影《定军山》拍摄成功

- A. ①②③ B. ②③④ C. ①②④ D. ①③④

(2010·福建宁德) 8. 下列是小东同学关于“新民主主义革命兴起”的单元作业，其中搭配错误的一组是 () D

- A. 红军长征——中国革命转危为安
B. 五四运动——中国新民主主义革命开始
C. 中国共产党诞生——中国革命面貌焕然一新
D. 八一南昌起义——推翻了北洋军阀反动统治

(2010·湖南株洲) 6. 小明班上有位同学自我介绍：“我的祖先曾驱逐过荷兰殖民者，抗击过日本的侵略，经历了与亲人的离别。我现在盼望回到祖国母亲的怀抱。”这位同学来自 () A

- A. 台湾 B. 西藏 C. 香港 D. 澳门

(2010·湖南娄底) 10. 2010年5月30日，温家宝访问日本，在东京发表了讲话称“绝不延续仇恨”，日本留给中国人民的仇恨不包括 () B

- A. 南京大屠杀 B. 珍珠港事件 C. 厂窖惨案 D. 常德细菌战

填空题

(2010·江苏苏州) 28. 中国近代史上收复新疆、治理边疆的民族英雄是▲；甲午中日战争中，下令用自己的军舰撞击日舰最后壮烈牺牲的爱国将领是▲。

28. 左宗棠；邓世昌。

(2010·四川巴中) 41. 长征是中国历史上波澜壮阔的史诗，据此，完成下列相关信息。(4分)

- (1) 长征途中被称为中国共产党历史上生死攸关的转折点是_____。
(2) 途中历经的艰难险阻有_____ (任写一个)。
(3) 长征胜利的标志是_____。
(4) 在当代，我们应传承或弘扬的长征精神有_____。

41. (1) 遵义会议。(2) 敌人围追堵截，恶劣的自然环境，如终年积雪的雪山，一望无际的草地。还缺少粮食给养等等。(3) 1936年10月，红军三大主力在会宁会师。(4) 坚定的革命信念；革命乐观主义精神；勇于克服困难、勇往直前的大无畏精神；严守纪律、团结互助的精神等。

(2010·江苏无锡) 29. 1935年，▲确立了以毛泽东为核心的党中央的正确领导，是党历史上生死攸关的转折点；▲打响了武装反抗国民党反动派的第一枪。

29. 遵义会议，南昌起义。

改错题

(2010·安徽芜湖) 12. 判断下列历史叙述的正误，正确的在题前的【 】内打“√”，错误的

在题前【 】内打“×”。（6分）

【 】（2）五四运动是一次彻底地反对帝国主义和封建主义的爱国运动，最能体现这次运动性质的口号是“外争国权，内惩国贼”。（2）【√】；

【 】（3）京师大学堂是中国近代第一所国家建立的最高学府，也是戊戌变法留下的重要成果。（3）【√】；

【 】（4）抗日战争中，中国军队取得的首次大捷是平型关大捷；中国军队主动出击日军的最大规模的战役是台儿庄战役。（4）【×】；

（2010·重庆綦江）16．阅读下表内容并判断

事件	时间	国家	简况
南京大屠杀	1937年	日本	日军占领南京后，对南京市民进行了持续6个星期惨绝人寰的大屠杀，我国被害同胞达30多万人。
“五三、五四”大轰炸	1939年	日本	日本飞机连续两天对重庆城区狂轰滥炸，造成重庆市民4000多人死亡，2300多人受伤，是日本飞机空袭重庆造成市民伤亡人数最多的两次大轰炸，也是世界轰炸史上空前的惨案。

以下表述是从上表信息中得出的，请在后面的括号内划“√”；违背了上表信息所表达的意思的，请在后面的括号内划“×”；是上表信息没有涉及的，请在后面的括号内划“○”。

- (1) 南京大屠杀和“五三、五四”大轰炸都发生在抗日战争时期。（ ）
(2) “五三、五四”大轰炸发生在南京。（ ）
(3) 南京大屠杀和“五三、五四”大轰炸都是日本法西斯对我国人民犯下的滔天罪行。（ ）
(4) 南京大屠杀中，日寇制造的最大一次集体大屠杀发生在下关草鞋峡。（ ）
(5) “五三、五四”大轰炸造成了重庆市民5千多人伤亡。（ ）

16. (1) √; (2) ×; (3) √; (4) ○; (5) ×

（2010·福建福州）22．秋收起义后，毛泽东率领工农革命军建立了中国第一个农村革命根据地——中央革命根据地。A

B

22. 错误：B（中央）；改正：井冈山；

（2010·福建福州）26．小强指着日历（右图）高兴地对父母说：“今天是我的节日。”他接着说：“1919年，青年学生在中国共产党领导下，走上街头，高呼‘外争主权，内除国贼’等口号，进行了一场彻底地反对帝国主义和封建主义的爱国运动。”

小强的说法对吗？请说明理由。

26. 错误：小强的说法不对。理由：中国共产党成立于1921年，它不可能领导1919年的青年运动。（答案符合题意，言之有理即可）

（2010·四川内江）7．下面是中国近代民族工业兴起和初步发展历程的叙述，请找出错误并改正。

中国近代民族工业产生于19世纪四五十年代，这时的民族工业主要分布在北京、广东、天津等沿海地区。当时最著名的企业有福州船政局、发昌机器厂和同文书局等。1912年到1919年，中国新建民族工业厂矿有600多家，超过了过去的半个世纪。其中发展最快的是纺织业和钢铁业。当时著名的状元企业家周学熙创办了南通大生纱厂。

2010年5月

二	三	四	五
4 廿二 青年节	5 廿三	6 廿四	7 廿五
11 廿八	12 廿九	13 三十	14 四月小

错误一：_____；改正为：_____。
 错误二：_____；改正为：_____。
 错误三：_____；改正为：_____。
 错误四：_____；改正为：_____。
 错误五：_____；改正为：_____。

7. 错误一：19世纪四五十年代；改正为：19世纪六七十年代。错误二：北京；改正为：上海；错误三：福州船政局；改正为：继昌隆缫丝厂；错误四：钢铁业；改正为：面粉业；错误五：周学熙；改正为：张謇。

(2010·江苏苏州) 22. 19世纪60年代到90年代，洋务派掀起的洋务运动是中国近代史的开端。22. B

(2010·江苏苏州) 23. 1948年9月到1949年1月，人民解放军发动了举世闻名的辽沈、淮海、渡江三大战役。23. B

(2010·福建龙岩) 21. 1901年《马关条约》的签定，使中国完全沦为半殖民地半封建社会。21. 错误：《马关条约》；改正：《辛丑条约》。

(2010·福建龙岩) 22. 魏源编写的《天演论》，系统介绍了南洋、欧美各国的历史地理，他的目的是“师夷长技以制夷”。

22. 错误：《天演论》；改正：《海国图志》。

(2010·福建龙岩 2) 23. 1927年建立的中央革命根据地是中国第一个农村革命根据地。

23. 错误：中央革命根据地；正确：井冈山革命根据地；

(2010·福建龙岩 2) 24. 台儿庄战役是抗日战争中，中国军队主动出击日军的规模最大战役。

24. 错误：台儿庄战役；正确：百团大战；

(2010·福建莆田) 22. 1895年春，康有为、梁启超等联合在京的举人，上书光绪帝，反对议和，请求变法。史称“百日维新”。

22. 把“百日维新”改为“公车上书”

(2010·福建三明) 25. 1909年，京张铁路全线通车。信息传出后，居住在北京民巷的中国居民，欢欣鼓舞，热烈庆祝。

错误：_____

理由：_____

25. 错误：居住在北京东交民巷的中国居民。理由：根据1901年《辛丑条约》规定：划定东交民巷为使馆界，不准中国人居住。

(2010·江苏盐城) 27. 右图展示的是抗日战争中第一次大捷的战役形势示意图。27. B

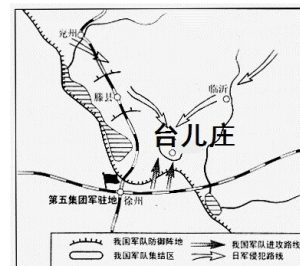
(2010·新疆建设兵团) 13. 某中学八年级(1)班同学对中国近代史“科学技术与思想文化”这一专题内容进行了总结，其中有一处错误，请你找出来并加以改正。(6分)

1909年，侯德榜担任总工程师的京张铁路全线通车，这是中国人自行设计和施工的第一条铁路干线。严复是戊戌变法时期的启蒙思想家，他的译著《海国图志》把西方的进化论学说介绍到中国，推进了维新运动的发展。1904年，清政府颁布《奏定学堂章程》，建立起新式教育体制；1906年，清政府宣布废除科举制度。

(1) 错误：_____；改正_____。(2分)

(2) 错误：_____；改正_____。(2分)

(3) 错误：_____；改正_____。(2分)



13. (1) 错误：侯德榜；改正：詹天佑；(2) 错误：《海国图志》；改正：《天演论》；
(3) 错误：1906年；改正：1905年。

(2010·福建泉州) 21. 小李：八路军臂章上标注的时间
(见右图) 是公元1942年。(6分)

错误：_____

理由：_____。



21. 错误：臂章上的时间是公元1942年。(2分)

理由：中华民国三十年是公元1941年；(2分)

公元1942年对应的是中华民国三十一年。(2分)

(2010·湖南湘潭) 23. 近代史上俄国侵占中国北方150多万平方公里领土。23. ✓；

(2010·湖南湘潭) 24. 李宗仁指挥的百团大战是抗日战争中中国军队主动出击日军规模最大的战役。24. ✗；

(2010·江苏无锡) 24. 我国当代一位著名的文化学者说：“废墟是昨天派往今天的使者，废墟让我们把地理读成历史。”当看到闻名于世的皇家园林——圆明园的废墟遗址，就让我们想到了当年八国联军火烧圆明园的罪行。() B

(2010·江苏无锡) 34. 某校八年级(1)班的同学围绕“近代化探索”这个主题开展活动，小明同学提供一段素材，其中有两处与史实不符。请你逐一列出，并加以改正。

第二次鸦片战争后，清朝统治者集团内部一些较为开明的官员，主张学习西方先进的生产技术和练兵方法，开始了戊戌变法，为中国近代化开辟了道路。20世纪初，以孙中山为首的资产阶级革命派发动了辛亥革命，推翻了清朝统治，结束了两千多年的封建帝制。1915年，新文化运动兴起，高举“民主”和“自由”两面大旗，在社会上掀起了一股思想解放潮流。

34. 戊戌变法改为洋务运动；自由改为科学。

(2010·福建宁德) 21. 新文化运动开启了思想解放的闸门，科学与发展成为时代的主题。

错误：

改正：

21. 错误：科学与发展(或发展)。改正：民主与科学(或民主)

(2010·福建宁德) 22. 1945年重庆谈判，国共两党达成和平建国的《共同纲领》。

错误：

改正：

22. 错误：《共同纲领》。改正：《双十协定》(或《会谈纪要》)。

(2010·福建漳州) 21. 20世纪30年代，漳州爱国青年加入闽南游击队，开展流血的抗日爱国运动。

21. 30年代改为40年代

(2010·福建漳州) 24. 为了解第一次国共合作的历史，漳州某中学历史兴趣小组准备前往上海参观黄埔军校旧址。

24. 上海改为广州

(2010·福建漳州) 27. 1865年，为推行洋务运动，李鸿章特意聘请了几位从京师大学堂毕业的学生，并用电报向朝廷报告了此事。

27. 京师大学堂改为京师同文馆，因为洋务运动中洋务派于1862年他办了京师同文馆，而京师大学堂则是1898年戊戌变法中创办的。

电报是错误的，因为中国开始架设是19世纪70年代，而1865年则是19世纪60年代。

(2010·湖南株洲) 24. 1860年10月，英法联军火烧圆明园。✓

(2010·湖南株洲) 25. 辽沈、淮海、平津三大战役揭开了战略反攻的序幕。✗

(2010·湖南株洲) 26. 独立设计和主持修筑我国第一条铁路干线——京张铁路的总工程师是李四光。×

(2010·湖南娄底) 23. 八国联军火烧了举世闻名的圆明园。×

(2010·湖南娄底) 27. 曾国藩是湘军创建人物，也是洋务派代表人物。√

列举题

(2010·安徽) 11. 安徽，历史悠久人杰地灵，科学文化大放异彩。

(2) “捧着一颗心来，不带半根草去”的近代“伟大的人民教育家”是_____。(2) 陶行知；

(2010·安徽) 12. 社会变迁彰显时代的进步。

(1) 在中国，以“君”、“先生”来取代“大人”、“老爷”等称呼得益于_____革命。(1) 辛亥；

(2010·山东青岛) 46. 填写历史上某些重要战役简表。(每空1分，共计3分)

战役名称	主要指挥者	意义(地位、影响)
	曹操/袁绍	奠定了曹操统一北方的基础
台儿庄战役		抗战以来的一次重大胜利
	林彪、罗荣桓	解放了东北全境

46. 填表：3分。

战役名称	主要指挥者	意义(地位、影响)
官渡之战		
	李宗仁	
辽沈战役		

(2010·四川巴中) 40. 中国近代史既是一部列强侵华史，又是一部中国人民的抗争与探索史，请列出五四运动前中国人民所进行近代化探索的四件史实。(4分)

40. 洋务运动、戊戌变法、辛亥革命、新文化运动。

(2010·四川达州) 43. 请根据下列提示写出相关内容。(4分)

① 揭开了中华全民族抗战序幕的事件——

② 允许帝国主义国家在中国通商口岸开设工厂的条约——

43. ①七七事变(卢沟桥事变)；②《马关条约》；

(2010·四川南充) 21. 请按要求写出：

① 洋务派创办的近代军事企业：

② 揭开戊戌维新变法运动序幕的事件：

③ 孙中山建立的统一的革命组织：

④ 新文化运动的两面旗帜：

21. ①安庆内军械所、江南制造总局、福州船政局；②公车上书；③中国同盟会；④民主、科学。

读图简答题

(2010·四川宜宾) 12. 结合所学知识，



指出右图所示文物的史学价值。(2分)

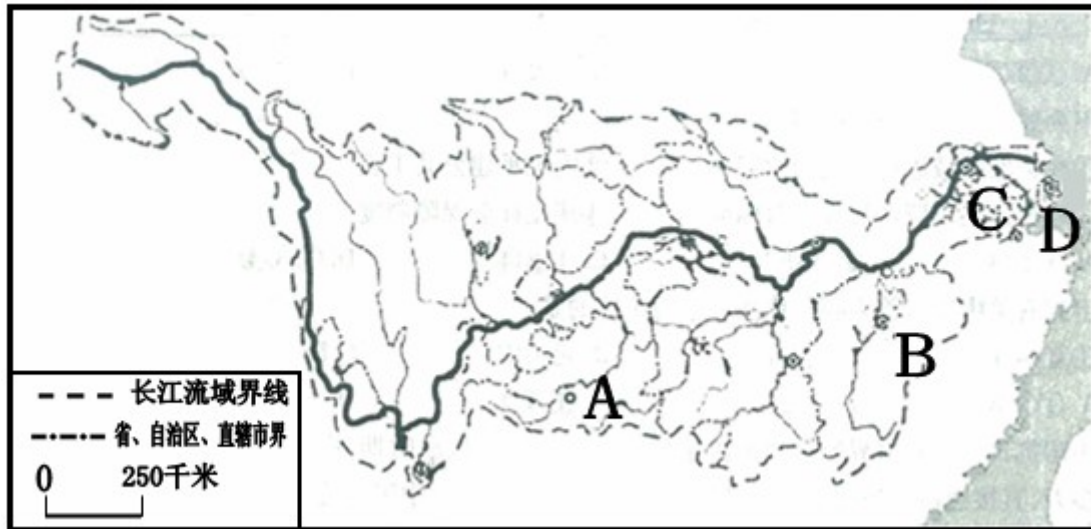
12. 唐朝雕版刻印的《金刚经》；这是世界上现存最早的标有确切日期的雕版印刷品。



(2010·四川宜宾) 13. 左图形象的反映了我国近代一段十分重要的历史, 请你用一句话准确概括其含义。(2分)

13. 以三民主义为指导思想的辛亥革命, 推翻了清朝的君主专制制度。

(2010·浙江湖州) 22. 从源头走向大海, 纵观历史长河, 长江流域在中国发展进程中具有重要地位。结合下图, 回答问题:



长江流域图

(2) 图中的字母 A、B、C、D 分别代表了中国近代史上具有重大意义(影响)的事件发生地。请将这此字母填入下表右栏, 使之与左栏内容相对应。(4分)

重大事件的意义(影响)	事件发生地
拉开中国新民主主义革命的序幕	▲
打响武装反抗国民党反动派的第一枪	▲
中国共产党历史上一个生死攸关的转折点	▲
标志着统治中国 22 年的国民党政权的垮台	▲

22.

重大事件的意义(影响)	事件发生地
拉开中国新民主主义革命的序幕	D
打响武装反抗国民党反动派的第一枪	B
中国共产党历史上一个生死攸关的转折点	A
标志着统治中国 22 年的国民党政权的垮台	C


(2010·重庆) 17. 请将下列地点的英文字母代号填入图中相应的方框内。(3分)

- A. 粤汉铁路上的军事要隘: 汀泗桥;
- B. 粤汉铁路上的军事要隘: 贺胜桥;
- C. 国民政府所在地: 广州



17. 上框：B；中框：A；下框：C。

(2010·四川内江) 8. 观察图片，感知历史，回答下列问题。



请回答：

(1) 这是近代史上中国和日本签订的一个不平等条约的场景。请说出这个以签约地点命名的条约名称。(1分)

(2) 这个条约是在什么背景下签订的？(2分)

(3) 请列举出这个条约有关割地的内容。(2分)

(4) 这个条约给中国带来了怎样的危害？(2分)

8. (1) 《马关条约》(1分)；(2) 甲午中日战争结束；中国在甲午战争中战败；日本在甲午战争中胜利；北洋舰队全军覆没。(以上4点任写一点均给2分)(3) 割地：割让辽东半岛、台湾、澎湖列岛及附属岛屿给日本；(2分)(4) 使中国丧失了大片领土和更多的主权，刺激了帝国主义瓜分中国的野心，中国民族危机空前严重。(各1分，不超过2分)

(2010·江苏南京) 32. (10分) 南京是中国近代历史的缩影，见证了中华民族的屈辱与抗

争。初二某班开展“图说近代南京”活动，请你所学知识，帮助完成图中配制的解说词。
(每空 1 分)



图一 1842 年《南京条约》签订

图一场景发生在___①___(事件)以后,这场战争使中国开始沦为___②___。



图二 南京临时政府参议院开幕典礼

图二场景发生在___③___年的辛亥革命后,这场革命的领导人___④___建立了___⑤___(国家)名称。



图三 中国地区日本投降签字仪式在南京举行

图三场景发生在___⑥___年,日本侵略者曾在此地的大屠杀中屠杀中国人___⑦___以上,现在,终于低下了头___⑧___是近代中国一百多年来反侵略战争第一次取得的完全胜利。




图四 人民解放军占领“总统府”

图四场景发生在___⑨___(战役名称)以后,___⑩___(事件),标志着统治中国 22 年的国民党政府垮台。

32. (10 分) ①鸦片战争 (1 分) ; ②半殖民地半封建社会 (1 分) ; ③ 1911 (1 分) ; ④孙中山 (1 分) ; ⑤中华民国 (1 分) ; ⑥ 1945 (1 分) ; ⑦ 30 万 (1 分) ; ⑧抗日战争胜利 (1 分) ; ⑨渡江战役 (1 分) ; ⑩南京解放 (1 分) 。

(2010·河北) 31. 读图, 回答问题:



毛泽东、蒋介石在重庆谈判时的合影

请回答：

(1) 图中人物所着服装的创制者是谁？

(2) 图中人物共同领导了哪一次反侵略战争？这一战争有何重大国际意义？

31. 答案：(1) 孙中山 (2) 抗日战争。抗日战争是世界反法西斯战争的重要组成部分，为世界反法西斯战争胜利作出重大贡献。

(2010·四川资阳) 34. (10分) 以下是某摄影爱好者游历历史文化遗迹时拍下的照片。读图，回答问题。



图一 林则徐



图二 左宗棠



图三 邓世昌

请回答：


(1) 李宏同学用这三张照片作为素材办了一份历史手抄报，请你为这份手抄报拟定一个主题名称。(2分)

(2) 任选一位照片中的历史人物，用你自己喜欢的形式(如漫画、对联、杂文、诗歌、故事、历史短剧等)简介其主要事迹。(要求：符合选择形式的基本要求；史实详尽、真实；语言清晰，想象合理。)(5分，特别优秀的可得6-7分，但34题总得分不超过10分)

(3) 当你某天旅游到这些雕像前的时候，你会有哪些感想？(3分)

34. (10分) (1) 近代中国人民的抗争(或抗击列强侵略的民族英雄)。(2分) (2) 分三等级评分：①表达形式新颖，符合所选择表达形式的基本要求，史实全面、准确，语言清晰流畅，想象合理，给5分，特别优秀者可给6-7分。②符合所选择表达形式的基本要求；史实不够详尽、基本准确，语言较为清晰流畅，想象基本合理，给3-4分。③不符合所选择表达形式的基本要求；史实不准确，语言不清晰流畅，给0-2分。(3) 中华民族英雄辈出；面对外敌入侵，应坚决反抗；落后就要挨打。(只要积极向上，言之成理即可给分)(3分)

(2010·湖北黄冈) 29. (8分) 19世纪下半叶到20世纪初，面对西方列强的侵略，中国从经济、政治到思想文化进行一系列探索，开始中国的近代化艰难起步。下列图片分别反映了相应的四个重大历史事件，结合这些事件和所学知识回答问题：



江南制造总局

图①



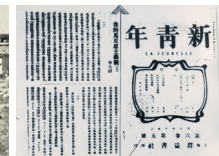
公车上书

图②



起义军占领楚望台军械库

图③



《新青年》

图④

请回答：

(1) 上述图片所反映的历史事件分别是什么？(4分)


(2) 图①和图③所反映的历史事件最终以失败结束，请简要说明主要原因。(2分)

(3) 从上述四个事件上，我们从中可以看出中国人在向西方学习上呈现出什么趋势？(1分)

(4) 请为上述图片拟一个恰当的主题。(1分)

29. (1) 洋务运动；戊戌变法（维新变法、百日维新）；辛亥革命；新文化运动；（4分，每点1分）（2）洋务运动失败的原因是只学习西方技术，不学西方政治制度。（1分）辛亥革命失败的原因：没有改变中国的半殖民地半封建社会性质，没有完成反帝反封建的任务。（或资产阶级革命的软弱性，中外反动势力联合力量过于强大）（1分）（3）趋势：从学习西方先进技术逐渐向学习西方政治制度转变。（意思相近即可）（1分）（4）近代化的探索（或起步）。（1分）

（2010·吉林）16. 红色旅游是爱国主义教育的途径之一。以下是红色旅游重要景点的图片，阅读图文材料，回答问题。



图一 嘉兴游船

图二 遵义会址

图三 延安圣地

请回答：

(1) 根据图文信息，分别写出中国共产党召开的重要会议的名称及历史意义。（6分）

(2) 感受红色旅游，你有什么体会？（1分）

16. (1) 图一：中共一大（1分）；中国共产党的成立是中国历史上开天辟地的大事，自从有了中国共产党，中国革命的面貌就焕然一新了。（或宣告中国共产党的成立）（1分）图二：遵义会议（1分）；遵义会议挽救了党，挽救了红军，挽救了革命。（或遵义会议是党的历史上生死攸关的转折点）（1分）图三：中共七大（1分）；中共七大为争取抗日战争的胜利和实现中国的光明前途准备了条件。（1分）（2）中国革命成果来之不易，我们要珍惜今天的幸福生活；我们要学习先辈的革命乐观主义精神、坚定的革命信念；没有中国共产党就没有新中国等。（答出以上要点之一即可给分；其他答案观点正确，符合题意也可给分）（1分）

（2010·广东湛江）49. (10分)上海是一座历史悠久、光辉灿烂的国际大都市。她经历了历史的沧桑，见证了时代的变迁。请回答：

(1) 2010年5月1日至10月31日第41届世界博览会在上海隆重举行。下列四幅图片中哪一个上海世博会的会徽？(写出图片序号即可)(1分)



图一



图二



图三



图四

(2) 下列三幅图片反映了上海历史进程中的一些侧面。据图回答：



图五



图六



图七

图五是近代上海被迫开放为通商口岸的签约场景，该条约的名称是什么？(1分)

图六是中国共产党的诞生地，中国共产党的诞生有什么重要的历史意义？(2分)

上海是我国外交的重要舞台，图七反映了改革开放后在上海举办的哪一次重要国际会议？(1分)

(3) 上海也是中国近代化起步的见证者。洋务运动时期，李鸿章在上海创建的近代军事工业和民用工业分别是什么？(2分)近代首先发生在上海思想文化领域的反封建运动是什么？(1分)(4)在哪一场爱国运动中，无产阶级开始登上政治舞台？(1分)中国历史从此进入什么时期？(1分)

49. (1) 图三；(2) 《南京条约》(1分)中国共产党的诞生是中国历史上开天辟地的大事，自从有了中国共产党，中国革命的面貌就焕然一新。(2分)亚太经合组织第九次领导人非正式会议(1分)(3) 江南制造总局(1分)；轮船招商局、开平矿务局(1分)；新文化运动；(1分)五四运动(1分)；新民主主义革命。(1分)

(2010·四川南充) 23. 右图是 20 世纪 30 年代《西北文化日报》报导的一则消息，请回答：

- ① 此消息报导的是什么历史事件？
- ② 此事件的策划者是谁？他们策划此事件的目的是什么？
- ③ 此事件的结果如何？有何重大意义？



23. ①西安事变(双十二事变)。②张学良、杨虎城。逼蒋抗日。③和平解决。标志着十年内战基本结束，抗日民族统一战线初步形成。

材料分析题

(2010·浙江宁波) 18. (10分) 阅读材料，回答问题。

翻开从鸦片战争到五四运动近 80 年的历史，人们发现温和的改良无法从根本上改变中国落后挨打的现实，必须彻底埋葬旧制度。于是革命党人举起义旗，发动革命，推翻旧王朝，建立了中国第一个共和制政府。然后，这场革命引起的变化毕竟是有限的。清王朝皇冠落地后，不平等条约没有废除；从农村到城市，很多人家还是把君主当作神来供奉。请回答：

- (1) 材料中的“改良”和“革命”是指哪些历史事件？它们有哪些共同之处？(5分)
- (2) 这场“革命”给中国社会带来了哪些变化？结合材料谈谈对“这场革命引起的变化毕竟是有限的”这句话的认识。(5分)

18. (1) 洋务运动、戊戌变法、辛亥革命。(2分) 探索现代化道路、向西方学习、力图挽救中华民族危难等。(3分) (2) 推翻了君主专制制度；民族共和思想深入人心；社会生活发生变化等。(3分) 中国半殖民地半封建的社会性质没有改变；多数中国人的精神面貌没有根本改变。(2分。照抄材料不给分)

(2010·浙江绍兴) 24. (12分) 从史料中汲取信息是学习和研究历史的基本方法。

阅读史料“外国人眼中的中国印象”，回答问题。

史料一



图① 18世纪初欧洲漫画 图② 19世纪末日本漫画 图③ 2009年美国《时代》封面

史料二 昔同治（1862~1874）初年，德相毕士麻克（人名）语人曰：“三十年后，日本其兴，中国其弱乎？日人之游欧洲者，讨论学业，讲求官制，归而行之；中人之游欧洲者，询某厂船炮之利，某厂价值之廉，购而用之，强弱之原，其在此乎？”

——引自梁启超《论变法不知本原之害》

请回答：

（1）请你列举 18 世纪前中国在科技方面取得的一项重大成就及其对世界的影响，以印证图①制作者所表达的中国印象的合理性。（2分）

（2）图②作者心目中的中国印象与图①对比发生了巨大变化，对引起这一变化的原因史料二中的德相毕士麻克早在同治初年就阐述了自己的观点，请你运用所学知识概括出这一观点，并结合近代中国有关史实予以说明。（6分）

（3）图③的作者用“中国时刻”表达着对当今中国崛起的肯定和赞叹。在中华民族复兴的伟大“时刻”，作为炎黄子孙的你，应当如何从这二三百年的发展历程中吸取精神力量，自觉承担起历史责任？（4分）

24.（12分）（1）本题是开放性设问，学生答案只要列举 18 世纪前中国在科技方面的一项重大成就及其对世界的影响即可。示例：宋元时期的火药武器应用于战争，是人类战争史上的巨大转折点。（2）德相毕士麻克认为引起这一变化的原因在于中国看重学习西方的先进技术，没有学习西方的思想和政治制度，以“自强”、“求富”为口号的洋务运动只注重西方先进技术等的学习，没有触动中国的政治体制，最终导致甲午战争中的惨败。（3）我们要树立民族自信心，做民族精神的传播者、弘扬者和建设者，要胸怀天下，放眼世界，有开放的心态，要勇于创新，锐意改革；立足实践，从小事做起，做一个自觉承担社会责任的公民。

（2010·浙江温州）22. 阅读下列材料，回答问题：（11分）

【兄弟阋墙】

1936年10月21日，蒋介石对张、杨（指张学良和杨虎城）进行训话，要分清敌人的远近，事情的缓紧。不“安内”，而轻言抗日，便是是非不明。

——《中华民族抗日全史》

我跟蒋显示（指蒋介石）的冲突，就是他是要“安内攘外”，我是要“攘外安内”。

——《张学良口述历史》

（1）在 1927~1936 年的十年中，蒋介石为了“安内”，对中国革命犯下了哪些罪行？（2分）

（2）1936 年，为了让蒋介石由“安内”转向“攘外”，张学良、杨虎城采取了什么行动？（2分）

【同仇敌忾】

毛泽东说：“直到现在国民党还是一个大政党，拥有庞大的军队，这个军队在抗战头两

年打仗打得比较好，现在总算也还在打日本……”

——《同赫尔利的谈话》

(3) 请列举国民党军队“在抗战头两年打仗打得比较好”的一次战役。(2分)

【败走麦城】

1950年，败退的蒋介石在反思失败的原因时曾说，此次战争（指解放战争）的失败实在是国民党自己打倒了自己！

(4) 你如何看待蒋介石的这一说法？请简要说明理由。(5分)

22. (1) 1927年4月12日，蒋介石背叛革命，大肆屠杀共产党员和革命群众；从1930年开始，蒋介石先后发动五次对中央革命根据地的“围剿”。(2) 1936年，张学良、杨虎城在西安发动“兵谏”，扣押了蒋介石，要求他停止内战，联共抗日（或答：1935年，张学良、杨虎城发动了西安事变）。(3) 台儿庄战役。(4) 如1：蒋介石的观点是有道理的。国民党内部不团结，政治上实行独裁，失去民心。如2：蒋介石的观点是没有道理的。中国共产党赢得了人民群众普遍的拥护和信任；毛泽东的高超军事指挥艺术，人民解放军的英勇战斗才是国民党失败的原因。如3：蒋介石的观点是片面的。综合上述两方面失败的理由即可。

(2010·江西) 13. (10分) 历史视角——外国人眼中的中国。阅读材料，回答问题。

【回顾历史】

材料一 (1895年)《纽约时报》评论说：“是日本人打开了世界的眼界，让人们看到大清帝国真正的无能……清国政体是一个明显失败的政体……”

材料二 美国哈佛大学历史系教授柯伟林说：“中国从1945年开始就已经崭露头角了……因为到1945年……中国还是联合国安理会常任理事国之一。因此，到了1945年，中国至少是一个名义上的大国。”

——以上材料引自中国民主法制出版社《复兴之路(上)》

(1) 结合所学知识，说说当时日本人怎样“让人们看到走清帝国真正的无能”？(1分)

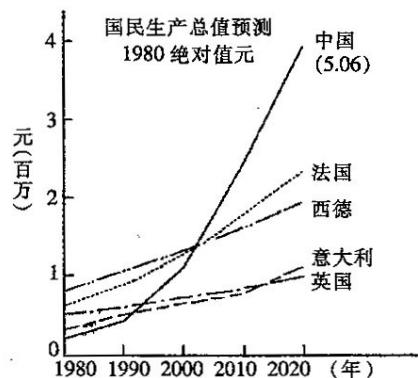
(2) 据材料一和材料二，说说在外国人眼中，中国的形象发生了怎样的变化？(1分) 结合所学知识，说说发生这一变化的主要原因是什么？(2分)

【关注现在】

材料三 如右图：1985年西方观察家对中国和西欧部分国家国民生产总值的预测。(材料引自徐中约的《中国的奋斗》)

(3) 据材料三，说说在当时的外国人眼中，中国的国民生产总值将会发生怎样的变化？(2分)

(4) 作为世界上最大的发展中国家，中国经济实力出现如右图所示的变化趋势，将会对世界政治格局的演变产生怎样的影响？(2分)



【思考未来】

(5) 你认为未来的中国应该树立怎样的国际形象？(2分)

13. (10分) (1) 在甲午中日战争中，日本将大清帝国打败，强迫清政府签订了《马关条约》。(1分) (2) 变化：中国由弱(无能)变强(强大)，国际地位有了提高。(1分) 原因：中国取得了抗日战争的胜利，(1分) 为世界反法西斯战争作出了巨大贡献。(1分) (3) 变化：从20世纪80年代开始，中国的国民生产总值将不断增长，(可以不写时间，1分) 并逐渐超过西欧主要国家。(1分) (4) 影响：推动世界政治格局向多极化方向发展。(2分) (5) 民富国强、维护世界和平、促进世界经济发展、成为一个负责

任的大国等。（言之有理，任意两点即可，每点1分，共2分。表达意思不清楚，酌情扣分。）

（2010·湖南邵阳）24.（15分）阅读下列材料，回答问题。

材料一 世界博览会是展示人类社会进步和发展的平台，是人类社会进步和发展的产物。当前正在举办第41届世界博览会的上海，成为世界关注的焦点。

部分世博会概况简表

时间	举办国	名称	参加国家或国际组织	举办国部分展品
1851年	英国	伦敦万国工业博览会（第1届世界博览会）	20多个	蒸汽机、织布机等
1876年	美国	费城美国独立百年博览会	30多个	电话、留声机等
2010年	中国	上海世界博览会	240多个	航天飞机模型、计算机多媒体版、《清明上河图》等

（1）简述1851年英国举办万国工业博览会的历史背景。（3分）

（2）依据材料一，判断下列说法是否正确，正确的打“√”，错误的打“×”。（4分）


①1876年费城博览会的部分展品，反映出人类已开启“电气时代”大幕

②2010年上海世界博览会召开，表面中国已步入发达国家行列

③世界博览会的历史，就是推动人类三次科技革命发生与发展的历史

④参加世界博览会的国家越来越多，反映了经济全球化趋势不断加强

材料二 下列图片不仅反映了近代上海的历史，也反映了近代中国的历史。



图一 江南制造总局炮厂（1865年）

图二 6月5日工人罢工游行（1919年）

图三 中共一大会址（1921年）

（3）正值上海世界博览会召开之际，作为中学生应当了解上海的历史。请分别指出材料二中各图片所反映的重大历史事件。（6分）

（4）简要谈谈上海举办世界博览会的意义。（2分）

24.（1）英国将来了资产阶级统治；完成了工业革命；拥有广阔的殖民地等；（2）①√；②×；③×；④√；（3）图一：洋务运动；图二：五四运动；图三：中国共产党成立；

（4）有利于展示我国改革开放以来的巨大成就和文明进步形象，提升我国的国际地位和国际影响力；进一步扩大对外开放，促进我国同世界各国的交流与合作；有利于促进我国的科技创新，实现经济又好又快发展，促进社会的和谐进步；有利于更好的适应政治格局多极化、经济全球化发展趋势等。

（2010·山东青岛）47. 阅读下列材料：

2002年12月3日，国际展览局第132次大会的投票结果揭晓：中国的上海获得了2010年世界博览会的主办权。上海，这座闻名遐迩的国际大都市再次成为世人瞩目的焦

点。

请回答：（6分）

（1）1842年上海成为西方列强在中国开辟的首批通商口岸之一。西方列强通过哪一不平等条约将上海开辟为通商口岸？（1分）该条约对中国近代的社会性质产生了怎样的影响？（1分）

（2）上海是一座具有光荣革命传统的英雄城市，在中国革命史上谱写过光辉篇章。1921年中国共产党在上海召开了什么会议？（1分）该会议的召开有何重大意义？（1分）

（3）世博会是一个把科技和文明汇聚在一起的大橱窗。1851年在伦敦举办的第一届世博会上，最有可能参展的科技成果是（ ）（1分）

A．蒸汽机车 B．内燃机车 C．电视机 D．飞机

（4）透过世博会这个窗口，中国将以更开放的姿态融入世界。从成功承办奥运会到成功举办世博会，你想对日新月异的中国说些什么？（1分）

47．（1）条约：《南京条约》。（1分）影响：使中国开始沦为半殖民地半封建社会。

（1分）（2）会议：中国共产党第一次全国代表大会。（1分）意义：使中国革命的面貌焕然一新。（1分）（3）A（1分）；（4）言之有理即可。（1分）

（2010·山东东营）27．（12分）阅读材料，结合所学知识回答问题。

材料一



施夏夫妇经营丝织业的机房

（1）根据材料一，指出当时社会生产关系方面出现的新现象。（2分）

材料二 1757年，清朝乾隆皇帝诏告天下，规定只开广州一处对外通商，封闭其它港口，并规定由政府特许的广州“十三行”统一经营管理对外贸易。

（2）材料二表明清朝统治者实行什么对外政策？（2分）这种政策对中国社会经济的发展产生了怎样的影响？（4分）

材料三 1914—1918年，（中国）五年间注册设厂183家，平均每年近37家，其中钢铁冶炼厂9家，……我国进口货物价值1915年比1913年减少了20.3%，出口每年比1913年增加了14.8%—20.5%。

—《中国近代经济史统计资料选辑》

（3）材料三反映出一战期间中国民族资本主义发展进入了一个什么时代？（2分）指出这一“时代”出现的主要原因。（2分）

27．（1）资本主义生产关系（或雇佣关系）（2分）；（2）政策：闭关政策（或禁海政策）（2分）影响：不能适时地向西方学习先进的科学知识和生产技术，使中国在上落伍了。（或阻碍了资本主义生产关系的发展，造成中国的封闭落后）。（4分）（3）时代：黄金时代。（2分）原因：帝国主义国家忙于战争，暂时放松了对中国的经济侵略。（2分）

（2010·湖北鄂州）21．（8分）阅读下列材料，结合所学知识回答问题。

材料一

材料二



图 1



图 2

材料三：曾国藩说：购买外洋船炮并进行仿造，是“今日救时之第一要务。”

请回答：

(1) 图 1 显示的是一场战争的形势局部图，写出该战争的名称。(2分)什么条约签订之后，近代中国的主权从此开始纷纷丧失？(1分)

(2) 图 2 所示为圆明园被焚毁后的一处遗迹，该遗迹留存至今有多少年的历史？(2分)英法侵略军为什么要将圆明园焚毁？(1分)

(3) 曾国藩的话，表明他决心投身于一场什么运动？(1分)材料一、二所示事件与曾国藩从事的运动之间存在着怎样的历史关系？(1分)

21. (8分) (1) 鸦片战争。(2分)《南京条约》。(1分) (2) 150年。(2分)为了掩饰罪行(或为了从心理上打击清政府)。(1分) (3) 洋务运动。(1分)因果关系(或两次鸦片战争中国均战败，显示了洋枪洋炮的厉害，洋务派认识到要抵御外国侵略，就必须学习西方的先进军事技术)。(1分)

(2010·山东滨州) 26. 19世纪下半叶到20世纪初，面对西方列强的侵略欺凌，中国近代化探索艰难起步，曲折前进。阅读下列材料，回答问题。

材料一 中国文武制度，事事远出西人之上，独火器万不能及……中国欲自强，则莫如学习外国利器……

——李鸿章

材料二 109年前那个烦闷的夏天，又一次见证的旧制度的腐朽。刽子手挥刀砍下了六颗爱国者的头颅，也砍断了所有试图通过改良实现救国自强的人们的幻想。谭嗣同从容赴死，他认为国家不昌盛是因为还没有人为变法救国而流血。戊戌变法被扼杀了，但“六君子”的鲜血没有白流。

——2007年《复兴之路》

材料三 我们革命的目的，是为了中国谋幸福，因不愿少数满洲人专制，故要民族革命；不愿君主一人专制，故要政治革命；不愿少数富人专政，故要社会革命。

——孙中山

请回答：

(1) 根据材料一回答，李鸿章等人的探索被称为什么？请举一例李鸿章在这方面的具体活动。

(2) 材料二所述戊戌变法在经济上有何主张？为什么说“六君子”的鲜血没有白流？

(3) 三民主义是孙中山领导辛亥革命的旗帜，材料三中的哪句话是三民主义中“民权主义”的体现(请用下划线“_____”在材料中标出来)？辛亥革命取得哪些重大成果？

26. (1) 洋务运动 (1分)。创办江南制造总局、电报局、上海轮船招商局、开平矿务局，建立北洋海军等(回答一项即可得2分)。(2) 发展农工商业 (2分)。戊戌变法在社会

上起到了思想启蒙的作用（2分）。（3）材料三中“不愿君主一人专制，故要政治革命”（2分，多划不给分）。推翻了清朝的统治，结束了中国两千多年的封建帝制（2分）；建立了中华民国（2分）。

（2010·湖南长沙）19．阅读下列材料，回答问题；

材料一 民族主义就是推翻清王朝的统治，解除民族压迫、民权主义就是推翻君主专制政体，建立民国政府；国民一律平等，总统和议员由国民选举产生。民生主义就是通过改革土地制度，解脱劳动者的贫困，做到“家给人足”。

——人教版初中教材八年级上册

材料二 江泽民在十五大报告中指出 20 世纪“中国人民在前进的道路上，经历了三次伟大的历史性变化，产生了三位站在时代前列的伟大人物，就是孙中山、毛泽东、邓小平”。

材料三 人民网北京 3 月 10 日电 在全国政协十一届三次会议第四次全体会议上，修福金委员提出，明年是辛亥革命 100 周年，国家应该举办一系列纪念活动，以隆重纪念这一伟大的历史事件为契机，深切缅怀孙中山先生等民主革命先驱，大力弘扬爱国主义精神，进一步推动两岸关系的和平发展，更加坚定全世界中华儿女振兴中华的信心与决心。

请回答：

（1）依据材料一并结合所学知识分析，三民主义在辛亥革命中具有怎样的历史地位？其核心是什么主义？它是哪一组织的革命纲领？（3分）

（2）材料二中江泽民提到的“三次伟大的历史性变化”中的后两次变化分别指什么？（4分）

（3）依据材料三并结合辛亥革命的历史功绩，分析明年纪念辛亥革命的理由。（6分）

（4）请列举两位为辛亥革命做出巨大贡献的湖湘伟人。（2分）

19．（1）三民主义是孙中山领导辛亥革命的指导思想；民权主义；中国同盟会；（2）第二次：中华人民共和国的成立和社会主义制度的确立；第三次：改革开放；（3）①明年是辛亥革命 100 周年；②纪念辛亥革命有利于我们缅怀革命先驱，弘扬爱国主义精神，推动两岸关系和平发展；坚定振兴中华的信心；③辛亥革命推翻了清王朝的统治，结束了我国两千多年的封建帝制，使民主共和观念深入人心。（4）黄兴、蔡锷（符合要求均可给分）

（2010·河南）22．（7分）阅读大事年表，回答下列问题。

- 1840 年 鸦片战争爆发
- 1842 年 魏源《海国图志》刊行
- 1861 年 曾国藩创办安庆内军械所
- 1862 年 京师同文馆创办
- 1888 年 北洋海军正式建立
- 1894 年 孙中山成立兴中会
- 1895 年 《马关条约》签订
- 1898 年 百日维新
- 1900 年 八国联军侵华

请回答：

（1）简要说明魏源编著《海国图志》的历史背景。（2分）

（2）上述大事年表中，有些事件是对魏源思想的实践，请举两例。（2分）

（3）从上述大事年表中，找出有直接因果关系的两个事件。（1分）

（4）归纳出上述大事年表中所反映的中国近代历史发展的基本线索。（2分）


22．（7分）（1）鸦片战争时期，中国更多地了解了世界；鸦片战争的失败，暴露出清朝政府的腐败与技术的落后。（意思相近即可，但必须体现出鸦片战争失败的内容，2分）

（2）曾国藩创办安庆内军械所；北洋海军正式简称；京师同文馆创办。（任意两个即可，2分）（3）《马关条约》签订与百日维新。（1分）（4）列强对中国的侵略和中国近代

化的探索。(答出一条给2分,共2分)

(2010·山东济宁)二、请你阅读下列材料,根据要求完成问题(本题7分)

材料一



材料二 2010年5月4日,温家宝总理到北京大学探望广大师生,他要求同学们“要有远大的理想,高尚的道德,渊博的知识,强健的体魄和完整的人格。”

3. 结合材料一和所学知识,完成表格内容(4分)

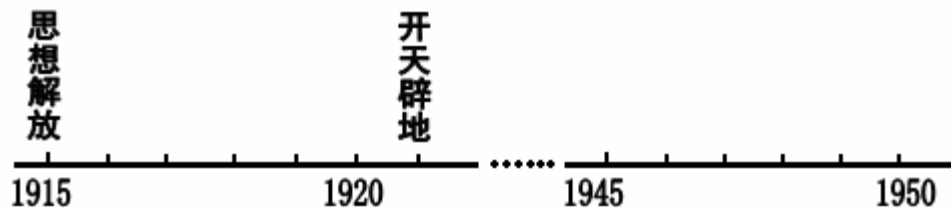
② 直接原因:

① 事件名称:

③ 性质:

④ 最能反映性质的口号:

4. 该事件在中国近代史上具有划时代的意义,标志着中国革命进入一个新阶段。请在下面年代尺上标出“新阶段”的起止时间,并写出“新阶段”的名称。(2分)



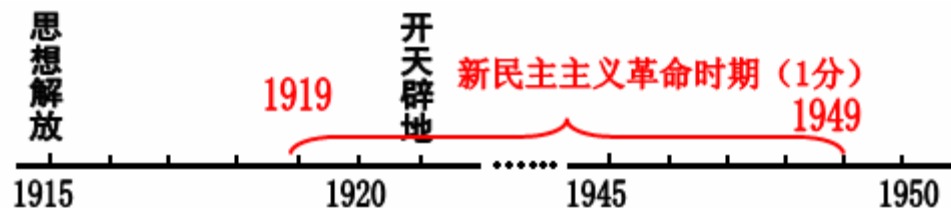
5. 青年学生是时代的先锋,民族的未来。结合上述材料和温总理的讲话,根据所学知识,谈谈你的认识或体会。(1分)

3. (4分)

① 五四运动	② 巴黎和会上中国外交失败
	③ 是一次彻底地反对帝国主义和封建主义的爱国运动
	④ 外争国权,内惩国贼

(①②③只要能表达出上述题意即可)

4. 1919~1949(起止时间可以任意方式标出,但必须都正确,否则不得分,1分)



5. 青年学生应该具有忧国忧民的精神,无私奉献的高度社会责任感;勇于探索的创新精神;

要有远大的理想，高尚的道德，渊博的知识，强健的体魄和完整的人格；好好学习，报效祖国等。（言之有理，符合题意，观点积极向上，答出一条即可）（1分）

（2010·广西桂林）11．阅读下列材料：

在中国近代化探索的历程中，国人首先是学习西方的技术，结果甲午一战证明光学技术不好使，同样的洋枪快炮，同样的铁甲战船就干不过小日本，所以就开始学制度。学制度问题又更大了，君主立宪也好，民主共和也好，这么好的制度怎么拿到中国来就变样……后来中国人就开始琢磨，最该彻底改变的是中国人的思想。于是开始学习西方民主与科学的思想……

——《袁腾飞说中国历史》下

请回答：

（1）材料中说到的学技术、学制度、学思想分别是指中国近代化起步阶段的哪些重大历史事件？（3分）

（2）请结合所学知识，归纳这几个事件对中国近代社会产生了哪些共同的积极影响？（2分）

（3）假如你是这一时期的爱国志士，请你为当时的中国指出一条光明的道路。（1分）

11．（1）学技术：洋务运动；学制度：戊戌变法、辛亥革命；学思想：新文化运动；
（2）推动了中国近代化的进程，有利于缩小中国与世界的差距；（3）推翻清王朝统治，发展资本主义经济。

（2010·吉林）15．阅读下列材料，回答问题。

“109年（1840-1949年）沧桑巨变，换了人间。北京天安门，曾在1900年见证了西方列强的野蛮，在1919年见证了中国人民的觉醒；1949年的秋天，它终于迎来了一个崭新的共和国。为了这一天的到来，一代代中华儿女前赴后继，在这峥嵘百年中历经无数艰难坎坷。他们的业绩，将永远载入中华民族伟大复兴的史册。”

——《复兴之路》解说词

请回答：

（1）“109年沧桑巨变”，其开始和结束的标志事件分别是什么？写出其中一位为了“中华民族伟大复兴”而“前赴后继”的民族英雄。（3分）

（2）“1900年见证了西方列强的野蛮”、“1919年见证了中国人民的觉醒”的历史事件分别是什么？（2分）

（3）从百年沧桑巨变中，我们能得到什么认识？（1分）

15．（1）鸦片战争（1分）；中华人民共和国成立（或新中国成立）（1分）；林则徐；关天培；邓世昌；左宗棠；杨靖宇；赵登禹；佟群阁等。（答出以上一位即可给分，其他答案符合题意也可给分）（1分）（2）八国联军侵华战争（1分）；五四爱国运动（1分）；（3）落后就要挨打，国家的强大是平安的保障；中国人民具有爱国主义精神；没有共产党就没有新中国；中国人民自强不息、甘于奉献、勇于探索等。（答出以上要点之一即可给分；其他答案观点正确，符合题意也可给分）（1分）

（2010·山东莱芜）22．近代以来，先进的中国人不断寻求救国之路，进行着民主革命的伟大实践。阅读材料，回答问题。（7分）

材料一 1898年，康有为向光绪帝建议：“大抵欧美以三百年而造成治体，日本效欧美，以三十年而摹成治体。若以中国之广土众民，近采（采纳）日本……十年而霸图定矣。”但维新变法仅历时103天就失败了。

（1）结合所学知识，说明戊戌变法的起因。康有为为何主张“近采日本”？（2分）

材料二 孙中山领导了辛亥革命，但未能完成反帝反封建的任务。他后来说：“政治上、社会上种种黑暗腐败比前清更甚，人民困苦日甚一日。”

(2) 简述辛亥革命的历史功绩。孙中山为什么说“黑暗腐败比前清更甚”？(2分)

材料三 毛泽东说：“为什么我们要上井冈山呢？……我们要实现半殖民地半封建国家的资产阶级民主革命的任务，就举起了反帝反封建的大旗。可是这旗帜不许我们在城内插，我们就只好到山顶上去插，永不放下。”在中国共产党的领导下，中国最终取得了民主革命的胜利。

(3) 根据材料三并结合所学知识说明毛泽东为什么要上井冈山。他找到了一条怎样的新民主主义革命的道路？(2分)

(4) 以上三则材料体现了什么历史结论？(1分)

22. (1) 甲午战争中国失败，签订《马关条约》。(1分) 日本通过明治维新摆脱了民族危机，走上资本主义道路。(1分) (2) 推翻了清朝统治；结束了帝制；使民主共和观念深入人心。(1分，答出其中一条即可得分) 北洋军阀窃取了辛亥革命的胜利果实，统治更加黑暗。(1分) (3) 敌人力量薄弱。(1分) 农村包围城市，武装夺取政权的革命道路。(1分) (4) 在中国，资本主义道路走不通；只有中国共产党才能救中国。(1分，答出其中一条即可得分)

(2010·四川巴中) 43. 阅读下列材料：

材料一 自1840年以来，西方列强先后发动了一系列侵略中国的战争，以武力强迫清王朝签订了一个又一个不平等条约，侵占中国的领土，蹂躏中国的主权，掠夺中国的财富，使中国一步一步地沦为半殖民地半封建社会。

材料二 农历2009年二月初二凌晨，在法国佳士得拍卖公司举行的拍卖会上，圆明园文物——铜兔首、铜鼠首被中国厦门商人蔡铭超分别以1400万欧元拍得，但蔡铭超“拍而不买”，拒绝付款。

请回答：

(1) 请写出列强将中国近代社会一步步推入半殖民地半封建社会深渊的四次侵略战争的名称。(4分)

(2) 材料二中两件兽首是在哪次战争中被劫掠的？(1分) 劫掠者是谁？(1分)

(3) 写出使中国完全沦为半殖民地半封建社会的条约名称。(1分)

(4) 清政府在近代屡战屡败的根本原因是什么？(1分) 近代中国的屈辱历史给我们哪些启示？(2分)

43. (1) 鸦片战争、第二次鸦片战争、甲午中日战争、八国联军侵华战争。(2) 第二次鸦片战争。英法联军。(3) 《辛丑条约》。(4) 腐朽的封建主义难以战胜新兴的资本主义。落后就要挨打；坚持改革开放，提高我国综合国力。(言之有理即可)

(2010·福建三明) 26. 阅读材料，结合所学知识，回答下列问题。

材料一 中国近代第一次有清政府主导的自救探索开始了，……他继承了魏源的“师夷长技以制夷”的思想，提出了，“自强”“求富”的主张。

(1) 材料一中的“自救探索”指得什么运动？(2分) 这场运动的口号和目的分别是什么？(4分)

材料二 深圳原属广东宝安县，与香港只一河之隔，是一个贫穷落后的边陲小镇。划为经济特区以后，引进资金、先进技术和管理经验，大办企业、商业和旅游业等。在很短时间里把深圳变成一座现代化城市。

(2) 根据材料二说明深圳发生了怎样的变化？发生这种变化是我党实行什么政策的结果？

(3) 同样是学习西方技术，前者没有让中国富强起来，而后者让中国逐步走上强国之路，对此，你有什么感想？请用简述的文字叙述。

26. (1) 洋务运动；“自强”“求富”；维护清朝统治。(2) 从贫穷落后的边陲小镇变成一座现代化的城市。(3) 第一种：只有中国共产党和社会主义才能让中国走上强国之路。第二

种：洋务运动只学习西方先进技术，不改变落后的封建制度，不可能让中国富强。（任选一个答案，意思相近即可）

（2010·广东深圳）26．阅读下列材料，回答问题(12分)

纵观古今中外，教育对社会的进步和发展发挥了重要作用。

材料一 春秋战国时期，垄断在贵族手中的文化教育逐步扩展。有些人创立学说并广招生、大办私学，在思想、学术上形成一个繁荣局面。

材料二 19世纪60年代，日本需要培养大量有文化的公民，开始实施初等义务教育。大批外国教育家被请到日本办学，成千上万的日本人出国学习，回国后在校任教。

——斯塔夫里阿诺斯 《全球通史》

材料三 19世纪60年代在中国开始了一场运动。这场运动不仅兴办近代企业，还创立了新式学堂，派遣留学生。1862年，京师同文馆设立，它开设了英文、法文、天文、算学、化学、物理等课程，成为一所综合性的学校。

材料四 1916年，北京大学校长蔡元培，在“兼容并包”的办学宗旨下，聘请了陈独秀、李大钊、胡适等一批思想活跃的教授。北大校园各种社团、刊物风起云涌，思想在自由流淌，对全国思想界产生了极大的影响，为随后发生的一场爱国运动作了思想上的准备。

材料五 2010年5月5日，国务院常务会议审议通过《国家长期教育改革和发展规划纲要》。《纲要》指出，要加快推进教育改革，优先发展教育，提高教育质量，完善中国特色社会主义现代教育体系。

请回答：

问题一：材料一中“创立学说，广招学生，大办私学”最具影响力的代表人特是谁？（1分）

材料一的繁荣局面指的是什么？（1分）

问题二：材料二中所说的日本在教育方面的措施发生在哪一历史事件中？（1分）这一历史事件对日本产生的重大影响是什么？（1分）

问题三：材料三中这场运动的名称是什么？（1分）写出这场运动的两名代表人物（2分）。依据材料三和所学知识，同文馆开设的课程体现了这一运动的什么主张？（1分）


问题四：材料四中所提到的几位教授是当时哪场运动的代表人物？（1分）“随后发生的一场爱国运动”是指哪一运动？（1分）

问题五：材料五中《纲要》的通过，有利于保障我国公民的什么权利？（1分）综合以上材料，你得到什么启示？（1分）

26．(共12分)问题一：孔子(1分)；百家争鸣(1分)；问题二：明治维新(1分)；摆脱殖民地半殖民地的命运，走上工业化道路（答改变了落后的面貌或走上独立发展资本主义道路也给分）(1分)；问题三：洋务运动(1分)；奕诉、曾国藩、李鸿章、左宗棠、张之洞等（2分）（答任意两个都给分）；向西方学习（1分）（答师夷长技也给分）；问题四：新文化运动(1分)；五四运动（1分）（次序颠倒不给分）；问题五：受教育权（1分）；教育促进社会进步和发展；因此要重视发展教育；实行科教兴国战略（1分）（答到任意一点或教育的作用均给分）

（2010·贵州贵阳）26．追求历史的足迹——中国民族工业的发展历程

材料一 1865年创办的近代军事工业——江南制造总局



图一

材料二 1913~1920年华人投资近代工业情况表

时间	工厂数	创业资本	工人
1913年	698家	3.3亿	27万
1920年	1759家	5亿	55万

材料三 建国初期，毛泽东曾感慨地说：“现在我们能造什么？能造桌子椅子，能造茶碗茶壶，能种粮食，还能磨成面粉，还能造纸；但是，一辆汽车、一架飞机、一辆坦克、一辆拖拉机都不能制造。”

阅读上述材料，结合所学知识请回答：

- (1) 图一的创办者是谁？中国民族工业的最初萌芽是在什么时期？（3分）
- (2) 认真分析材料二表格中的数据，说说该时期民族工业的发展出现了什么变化？出现这些变化的原因是什么？（3分）
- (3) 材料三中毛泽东的感慨反映出当时中国工业发展的什么状况？面对这种状况，我国政府采取什么措施开始了工业化的建设，使我们有了自己的第一辆汽车、第一架飞机？（4分）

26. (10分) (1) 李鸿章 (1分)；洋务运动时期 (2分)；

(2) 这一时期我国民族工业发展迅速。(1分) 原因是第一次世界大战期间，帝国主义国家忙于战争，暂时放松了对中国经济的掠夺，中国民族工业获得了一个发展的机会，进入了一个“黄金时代”。(2分) (3) 反映了当时中国工业发展的落后状况。(2分) 实施第一个五年计划 (2分)

(2010·湖北黄石) 39. (8分) 阅读材料回答问题

材料一 窃近者朝鲜之衅，日人内犯，致割地赔饷，此圣清二百余年未有之大辱，天下臣民所以发愤痛心者也。然辱国之事小，外国皆覬觐，则瓜分之患大……神稷之危未有若今日者

——康有为上光绪帝书

材料二



请回答：

(1) 为避免“瓜分之患”摆脱“社稷之危”，在维新派推动下，光绪帝实行了什么变法？（1分）这次变法对中国近代社会产生哪些影响？（2分）

(2) 材料二是辛亥革命博物馆外景照片。这场革命对中国近代社会产生了哪些影响？（2分）

(3) 请从性质、方式和结果三个方面比较这两大历史事件的异同。（3分）

39. (1) 戊戌变法（1分）；有利于资产阶级知识分子参与政权，起了思想启蒙的作用，有利了社会的进步。（2分）(2) 推翻了清朝统治，结束了我国两千多的封建帝制，使民主共和观念深入人心。（2分）(3) 性质相同：都是资产阶级的政治运动。（1分）方式不同：戊戌变法是改良方式，而辛亥革命是暴力革命的方式（1分）；结果：相同点：都没有完成实现民族独立和近代化的历史使命。不同点：辛亥革命推翻了清朝统治，建立了民国，在这一方面的成功的。（1分，学生只要能完整答对一个方面即可得分）

(2010·湖北宜昌) 21. (15分) 阅读下列材料，完成相关任务。

材料一




五四爱国运动



中国共产党成立



抗日战争



解放军占领南京国民政府“总统府”

材料二 五四爱国运动促进了马克思主义与中国工人运动相结合，中国共产党的诞生使中国革命的面貌焕然一新。中国共产党人高举革命的大旗，开始独立领导武装斗争。在探索中国革命道路的曲折过程中，中国共产党战胜无数艰难险阻，确立了以毛泽东为代表的正确领导，中国革命从此从胜利走向胜利。

——摘自北师大版《历史》八年级上册

请回答：

(1) 材料一中的图片再现了 1919 年以来中国革命的四项重大事件，请为这组图片归纳一个主题。（4分）

(2) 通过学习，我们知道中华民族在抗日战争中付出了巨大的牺牲。请你写出印象最深的两个事例。（6分）

(3) “没有共产党，就没有新中国”，这歌词曾激励无数军民为民族的解放而浴血奋斗。请结合所学的史实谈谈这歌词所包含的深刻道理。（5分）

21. (1) 新民主主义革命、中国共产党革命历程等，言之有理即可。（4分）(2) 南京大屠杀、平型关大捷、台儿庄战役、百团大战、抗战时期中国军民伤亡 3500 多万人等等。

评分说明：只要能答出符合题意的任意2项，每点3分。满分6分。（3）中国共产党诞生后，领导了南昌起义、秋收起义等，建立了第一支坚强的军队；建立农村革命根据地，创建了一条“农村包围城市”的有中国特色的革命道路；取得了长征的胜利，保存了党和红军的骨干力量；抗日战争期间建立了抗日民族统一战线，为抗战胜利作出了巨大贡献；取得了解放战争的胜利，推翻了国民党统治，建立了新中国等等。评分说明：只要能从上述两个方面作答，并陈述理由，皆可得满分。满分5分。

（2010·吉林长春）18．阅读下列材料：

从1840年到1919年的历史中，我们可以清晰地看到几条并行前进、交错发展的历史脉络：列强发动的一次又一次侵略战争，把中国推向灾难的深渊；志士仁人一次又一次地奋起，救国救民于苦海；……先贤们不懈斗争、上下求索，探寻着希望之路……

——摘编自《历史·政治文明历程》

请回答：

- （1）在材料提及的历史阶段中，把中国推向“深渊”的侵略战争有哪缕？（4分）
- （2）志士仁人一次次地“奋起”，包括了哪四次重要的近代化探索活动？（4分）
- （3）今天我们在感念先贤的同时，还应传承他们的哪些精神？（2分）

18.（1）鸦片战争、第二次鸦片战争、甲午中日战争、八国联军侵华战争（4分）；（2）洋务运动、戊戌变法、辛亥革命、新文化运动（4分）（3）爱国主义精神、改革创新的精神（言之有理，意思贴近即可）（2分）

（2010·湖北咸宁）38．阅读下列材料：

材料一 林大人缴获鸦片后不肯作罢，随即上演了中国近现代史上最激动人心的一幕，即人民英雄纪念碑上第一幅浮雕——虎门销烟，这一举动可谓大快人心。

——《袁腾飞说中国史》（下）

材料二 英国舰队到广东海面挑衅，鸦片战争爆发。……1842年，英舰到达南京长江下关江面，清廷派人求和，鸦片战争结束。

——《无敌初中历史年表》

请回答：

- （1）根据材料一，结合所学知识，说说民族英雄林则徐领导的虎门销烟有什么意义？（2分）
- （2）根据材料二，结合所学知识，说说鸦片战争爆发于哪一年？（1分）1842年，英国侵略者强迫清政府签订了哪一个丧权辱国的条约？（1分）为什么说鸦片战争是中国近代史的开端？（2分）

38.（1）意义：虎门销烟是中国人民禁烟斗争的伟大胜利，显示了中华民族反对外来侵略的坚强意志。（2分）（2）1840年。（1分）中英《南京条约》（或：《南京条约》）。（1分）鸦片战争以后，中国开始从封建社会逐步沦为半殖民地半封建社会，所以说鸦片战争是中国近代史的开端。（2分）

（2010·江苏扬州）32．阅读下列材料：

材料一 我支那四千年之大梦唤醒，始自甲午战败……

——梁启超

材料二 对于许多未经过帝王之治的青年，辛亥革命的政治意义是常被过低估计的……因为他们没看到推翻几千年因袭下来的专制政体是多么不易的一件事。

——人民网

材料三 西洋人因为拥护德、赛两先生……德、赛两先生才渐渐从黑暗中把他们救出……我们现在认定只有这两位先生，可以救治中国政治上、道德上、学术上、思想上一切的黑暗。

——陈独秀

请回答：

(1) 为实现材料一中“大梦唤醒”，资产阶级维新派开展了什么运动？(1分)

(2) 指出材料二中“推翻几千年因袭下来的专制政体”事件的性质。(1分) 这一事件在思想上产生了什么影响？(1分)

(3) 据材料三并结合所学知识指出，为救治中国的“黑暗”，这场运动把矛头指向了什么？(1分)

(4) 依据上述材料，谈谈思想解放在历史发展进程中的作用。(1分)

32. (1) 维新变法运动。(1分) (2) 资产阶级革命。(1分) 使民主共和观念深入人心。(1分) (3) 维护封建统治的孔教。(1分) (4) 思想解放是社会进步和发展的前提，思想解放是近代社会进步和发展的动力。

(2010·贵州铜仁) 26. 阅读材料，探究回答下列问题：(12分)

材料一 “驱除鞑虏，恢复中华，建立民国，平均地权。”

——八年级历史上册

材料二 他提出“民生”和“科学”的口号，并说“我们现在认定两位先生，可以救治中国政治上、道德上、学术上、思想上的一切黑暗。”

——八年级历史上册

请回答：

(1) 材料一反映的是什么内容？孙中山将它阐发为什么？(2分)

(2) 孙中山一生致力于中华民族的解放事业，在20世纪初他领导了什么具有深远意义的革命斗争？此次斗争有什么重要意义？(3分)

(3) 材料二中的“他”指的是谁？“他”等进步知识分子是在对中国革命中哪次斗争中失败教训的认真思考后而提出上述口号和想法的？(2分)

(4) 材料二中“他”等由此而掀起了一次著名的什么运动？有何重要作用？(3分)

(5) 结合材料二中“他”等掀起的运动的作用，谈谈该运动对我们今天的社会主义思想文化建设有什么启示？(答出两点，切合题意即可)(2分)

26. (1) 同盟会革命纲领(1分)；三民主义(1分)；(2) 辛亥革命(1分)；辛亥革命推翻了清朝的统治，结束了我国两千多年的封建帝制，使民主共和观念深入人心。(2分) (3) 陈独秀(1分)；辛亥革命(1分)；(4) 新文化运动(1分)；激发了广大青年追求新思想的热情，促使人们冲破封建思想的束缚，探索救国救民的真理，在近代中国掀起了一场思想解放的风暴。(2分) (5) 启示：解放思想，不断创新，追求真理，崇尚科学，吸引人类优秀的思想文化成果等。(答出两点即可，符合题意，观点正确，言之有理，均可得分)(2分)

(2010·江苏常州) 31. 历史学家黄仁宇先生在《资本主义与二十一世纪》一书中以“外事之刺激”和“中国的反应”来分析近代前期中国的变化。(6分)

“外事之刺激”	“中国的反应”		
英国发动侵略中国的鸦片战争。	1842年	南京条约	“清政府虽战败而无意改革，对不平等条约反应少。”
英法联军侵入北京。	19世纪60至90年代	①	“‘中学为体，西学为用’，保卫传统体制，在造船制炮等方面吸收西方科技。”
②	1898年	戊戌变法	“企图君主立宪，创制新法律，编制预算，改革教育。”
八国联军侵华	1911年	③	“否定两千年来的政治体系。”
④ 将中国的主权任意	1919年	五四运动	“知识阶级全部革面洗心，改革及于

宰割。			文化与思想。”
-----	--	--	---------

请回答：

- (1) 根据材料结合所学知识，写出各序号所表示的历史事件。(4分)
 (2) 根据材料结合所学知识，指出历史事件①和③在政治目的上的根本区别。(2分)

31. (1) ①洋务运动；②中日甲午战争(或马关条约签订)；③辛亥革命；④巴黎和会(或凡尔赛和约)。(4分)
 (2) 洋务运动主张维护封建统治；辛亥革命主张推翻封建君主专制统治。(2分)

(2010·湖南永州) 33. (7分) 阅读下列材料并回答问题。

材料一 唐帝国崇高的国际地位和辉煌的经济文化成就，使亚洲各国乃至欧洲、非洲国家对之产生了由衷的欣羡之情，他们争相与唐朝交往，遂使中国成为亚洲诸国经济文化交流的桥梁和中心，在东西方交往中发挥了显著重要的作用。

——中国国际战略研究网

材料二 几乎每一位西方作者写到中国社会状况时，毫无例外地都要描述一番中国人吸食鸦片的方式及其对道德与身体的危害。于是，在一般印象中，中国就是吸食鸦片的国家。

——周宁《鸦片帝国》

材料三 1958年美国人伊罗生出版的《浮光掠影——美国关于中国与印度的形象》一书，认为美国对中国的总体看法在1937~1944年间是“赞赏时期”。

——袁明《略论中国在美国的形象》

请回答：

- (1) 从材料一中概括当时中国的国际地位及对世界发展的贡献。(4分)
 (2) 材料二中提到的中国人吸食鸦片的现象大致发生在什么时候?(1分)
 (3) 根据材料三和所学知识，分析当时美国人对中国持“赞赏”态度的原因。(2分)

33. (1) 唐前期政治稳定，国力强盛，经济繁荣，文化昌盛，居于世界领先地位；(2分)
 (2) 唐朝时中国成为亚洲诸国经济文化交流的桥梁和中心。(2分)
 (3) 鸦片战争前(1分)；(3) 1937年抗日战争全面爆发后，中国的抗日战争成为世界反法西斯战争的重要组成部分，中国是世界反法西斯联盟的成员国。(2分)

(2010·广西贵港) 27. 阅读下列材料：

材料一 新文化运动是中国近代史上一次空前的思想解放运动，北京大学和某杂志成为它的主要阵地。五四运动后，宣传某革命理论成为新文化运动的主流，这就为中国共产党的诞生做了思想准备。

材料二 1919年5月4日，北京大学等十几所学校的学生3000多人，在天安门前会集，举行示威游行，五四运动爆发。

——《中国历史》八年级上册(有改动)

请回答：

- (1) 材料一的“杂志”和“革命理论”分别指什么?(2分)
 (2) 材料一所提的“中国共产党的诞生”是在哪一年?(1分)
 (3) 材料二的五四运动爆发的导火线是什么?(1分) 此运动是哪一革命的开端?(1分)

27. (1) 《新青年》、马克思主义；(2) 1921年；(3) 巴黎和会中国外交的失败 新民主主义革命。

(2010·湖南株洲) 31. (10分) 阅读下列材料，结合所学知识回答问题。

材料一 2008年10月，中国与中亚五国政府展开“丝绸之路跨国联合申遗行动计划”，发起组织“丝绸之路复兴之旅”大型采访考察活动。2010年中国将与中亚五国联合跨国申报“丝绸之路”中的“沙漠之路”为世界文化遗产。

材料二



人首马身纹裤图

注：新疆汉墓出土，图案中人首是西方人形象和希腊艺术风格，马身则是中国画法。

材料三 新中国成立后，党和政府高度重视新疆的发展。2010年5月17~19日，中央新疆

工作座谈会在北京召开，政府将举全国之力援助和推动新疆实现大发展。国家批准设立喀什经济特区。

——据《人民网》报道

请回答：

(1) 材料一中“丝绸之路复兴之旅”大型采访考察活动的起点和终点在哪里？(2分)根据材料二“人首马身纹裤”图案分析丝绸之路的作用。(2分)

(2) 丝绸之路经过的新疆地区自古以来就是中国的领土。古代中央政府注重加强对新疆地区的管辖，试举一例说明。(2分)

(3) 根据材料三，结合所学知识分析国家批准设立喀什经济特区的作用。(4分)

31. (1) 长安和罗马；促进了中西方的文化交流；(2) 公元前60年设立西域都护府，1762年清政府设立“伊犁将军”，1884年，清政府正式在新疆建省等事例任选其一。(3) 举全国之力援助和推动新疆实现大发展。

探究题（问答题）

(2010·安徽) 17. 历史小板报是我们走进历史、探究新知的一种好形式。请认真阅读，完成相关问题。

历史小板报

史论结合 分析探究

前言

从旧社会的“十里洋场”到今天成为世界上最美丽的中国名片，上海的变迁是中国近代社会发展的缩影。

第一篇 走向开放

从19世纪40年代的被迫开放到20世纪90年代主动敞开“心扉”，再到如今世博会的海纳百川，上海是中国从封闭走向开放的见证。

第二篇 融入世界

从近代最大的军事工业江南制造总局的创办，到近代最有影响的报纸《申报》的诞生，再到亚太经合组织会议的举行，上海是近现代中国与世界联系的桥头堡。

第三篇 追求光明

从《新青年》的创办到五四运动的风雷，再到中国共产党的诞生，上海成为引领中国革命的一面旗帜。

☆史实求证☆

请在空格上填写正确内容。(5分)

(1) 上海19世纪40年代的被迫开放是因为《_____条约》的签订；20世纪90年代主动敞开“心扉”是指_____。

(2) 江南制造总局是_____运动的产物。

(3) 《新青年》高举的两面旗帜是_____和_____。

☆论点提取☆

(4) 在板报正文中，分别找出最能代表本篇内容的一句话作为主要论点，把它写在下面对应的位置上。(6分)

第一篇_____。

第二篇_____。

第三篇_____。

☆问题探究☆

(5) 认真阅读板报内容，请你为这期板报添加一个合适的标题：_____。(2分)

17. (1) 南京 (1分) ; 浦东开放 (开发) (1分) ; (2) 洋务 (运动) (1分) ; (3) 民主、科学 (2分) ; (4) 上海是中国从封闭走向开放的历史见证。(2分) 上海是近现代中国与世界联系的桥头堡。(2分) 上海是引领中国革命的一面旗帜。(2分) (5) 例：上海，中国近代以来社会发展的缩影 (意思相近皆可) (2分)

(2010·浙江台州) 21. ★走进上海世博 感受灿烂文明★ (9分)

2010年5月1日，以“城市，让生活更美好”为主题的上海世博会揭开帷幕。潇潇是一位九年级学生，他们一家开始了世博之旅。

【探寻上海】 在世博园门口，他们聆听导游介绍上海的自然、人文知识，加深了对上海的了解。

(1) 读右图写出上海所处地理位置D区的名称。形成四大区域差异的关键因素是什么？(2分)

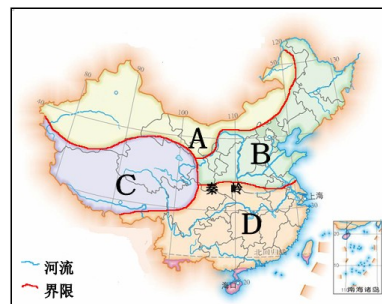
(2) 上海见证了中国近代史。《_____》的签订使上海成为最早被迫开放的城市；1921年7月，发生在这里的中国历史上开天辟地的大事是_____。(2分)

【参与世博】 他们随导游来到中国展馆，看到琳琅满目的展品，其中不乏古代中国的科技典范。

(3) 请你写出以下两项科技典范入选的理由。(2分)

古代科技典范	入选理由
指南针	①_____。
印刷术	②_____。

【感悟世博】 他们一天的参观中，发现一些从来没见过的产品，如：海宝机器人、3D人工智能、TD—LTE通信、氢能源汽车、门票射频识别系统……



(4) 这些新产品的出现依靠什么力量？这种力量对我国现代化建设有何作用？（3分）

21. (1) 南方地区；气候因素（气温与降水）。(2) 南京条约；中共“一大”的召开（中国共产党成立）。(3) ①推定世界航海业的发展；②促进了人类文化的交流与发展。

(4) 科学技术；科学技术是第一生产力；科技创新能力，已越来越成为综合国力竞争的的决定性因素，为现代化建设提供了智力支持（发展科技有利于实现经济振兴和社会主义现代化）。

(2010·湖南邵阳) 22. (14分) 中国近代史上，列强不断发动对我国的侵略战争，强迫清政府签订一系列不平等条约，使我国一步步滑入半殖民地半封建社会的苦难深渊。备受屈辱和悲苦的中华民族为了反抗侵略，争取民族独立，进行了不屈不挠的英勇斗争。据此回答下列问题：

(1) 在下列表格中的空格内填写相应内容。（10分）

条约	项目	背景	时间	内容			影响
				割地	赔款	其他	
《南京条约》		鸦片战争		割香港岛给英国	2100万银元	(略)	中国开始沦为半殖民地半封建社会
《马关条约》			1895年	割台湾等地给日本		(略)	中国半殖民地化程度大大加深
《辛丑条约》			1901年	/	4.5亿两白银	(略)	

(2) 被日本侵占的台湾和被英国侵占的香港分别是怎样回归祖国的？（4分）

22. (1)

条约	项目	背景	时间	内容			影响
				割地	赔款	其他	
《南京条约》		鸦片战争	1842年	割香港岛给英国	2100万银元	(略)	中国开始沦为半殖民地半封建社会
《马关条约》		甲午中日战争	1895年	割台湾等地给日本	2亿两白银	(略)	中国半殖民地化程度大大加深
《辛丑条约》		八国联军侵华战争	1901年	/	4.5亿两白银	(略)	中国陷入半殖民地半封建社会的深渊

(2) 1945年抗日战争胜利后，台湾回到祖国怀抱；1997年7月1日，我国通过和平谈判对香港恢复行使主权。

(2010·湖北襄樊) 33. 【勿忘近代的耻辱 探索救国的道路】（8分）

中国近代史是一部西方列强的侵华史，也是一部中国人民的抗争史和探索史。请结合所学知识回答下列问题：

(1) 清政府同西方资本主义国家第一次较量指哪次战争？（1分）这次战争对中国社会产生的最大影响是什么？（1分）哪一条约的签订使清政府完全成为帝国主义统治中国的工

具？（1分）

（2）“此日漫挥天下泪，有公足壮海军威。”这副挽联是为哀悼哪位清军将领而撰写的？（1分）

（3）第二次鸦片战争之后，洋务派掀起“师夷长技”的洋务运动，为实现其目的开展了哪些活动？（2分）洋务运动对中国社会的突出贡献是什么？（1分）

（4）你认为影响中国近代化进程的主要原因是什么？（1分）

33. （1）鸦片战争。（1分）中国开始从封建社会逐步沦为半殖民地半封建社会。（1分）《辛丑条约》。（1分）（2）邓世昌。（1分）（3）创办近代军事工业；创办近代民用工业；创建新式军队（海军）；创办新式学堂；修筑铁路；创办电报业。（答时其中两条即可，一条1分，共2分。）洋务运动在客观上为中国民族资本主义的产生和发展起到促进作用，为中国的近代化开辟了道路。（1分）（4）腐朽的封建制度；外国的侵略；资本主义经济发展缓慢。（评分说明：学生只要答出其中一点即可，1分。）

（2010·湖北荆州）44. 在1915年巴拿马世界博览会上，我国江苏、安徽、山东等七省的茶叶和河南的高粱酒、山西的汾酒、广东的果酒和山东张裕酿酒公司的酒品分别获得大奖，中国的丝织类产品也获得了10项大奖。据统计，世博会后，中国对美国出口较上一年增加了6000万美元，全国出口额仅丝绸一项就达到1亿4千万美元，茶叶1800万美元，桐油1120万美元。

回答：

（1）在1915年世博会上，中国获奖产品在类别上有何特点？（1分）

（2）辛亥革命初期，中国近代工业得到发展的主要原因有哪些？（4分，回答2点即可）

（3）材料表明中国参加世博会对中国近代经济有何影响？（2分）

44. （1）以传统的手工产品为主；以地方特色产品为主；以轻工业产品为主（1分，任答一点即可，其他意思相近亦可）；（2）辛亥革命的成功，冲击了封建制度，促进了中国近代工业的发展；辛亥革命后“实业救国”运动的促进；一战期间，帝国主义暂时放松了对中国经济的掠夺，有利于中国近代工业的发展。（4分，任答两点即可）（3）促进中国近代经济的进一步发展。（2分，回答有利于增加出口，增加外汇收入或有利于民族工业的发展等相关具体内容均可）

（2010·福建莆田）29. 2010年是抗日战争胜利65周年，根据提示，回答以下问题：

（1）标志着全国性抗日战争爆发的事件是什么？（2分）

（2）冼星海、徐悲鸿、侯德榜是中国各阶层民众抗战的主要代表人物。请你写出其中2位代表人物的主要事迹。（4分）

（3）简要概述抗日战争胜利的意义。（4分）

29. （1）卢沟桥事变；七七事变。（2分，答出其中一条即可）（2）冼星海：创作《黄河大合唱》，对中华民族抗日斗争起了巨大的鼓舞作用；徐悲鸿：创作反映爱国抗战精神的画作，举办画展，资助抗战；侯德榜：发明联合制碱法，打破了抗战时期敌人对民族工业的封锁。（4分，答出其中2点即可，如果全部答出，只选取前两位人物的事迹评分）

（3）抗日战争是一百多年来中国人民反对帝国主义侵略第一次取得完全胜利的民族解放战争；抗日战争的胜利成为中华民族由衰败到重新振兴的转折点。（4分）

（2010·江苏宿迁）40. （本题8分）新疆，以她迷人的西域风情、悠久的文明历史，令人神往和遐想。让我们走进新疆，追溯历史、憧憬明天。

（1）从西汉到隋唐的千余年间，一条商路穿越新疆、蜿蜒西行，把古老的中国文化与印度、波斯、阿拉伯以及古希腊、罗马文化连接起来。请写出这条商路的名称。（2分）

（2）清朝前期，为维护国家统一，清政府在新疆地区采取了哪些平叛行动和加强管辖措施？针对19世纪60、70年代阿古柏侵入新疆，清政府又采取了什么重大行动？（3分）

(3) 新中国建立后，1955年设立新疆维吾尔自治区、2010年中央安排19个省市对口援建新疆，你认为这些举措有何意义？(3分，不少于3点)

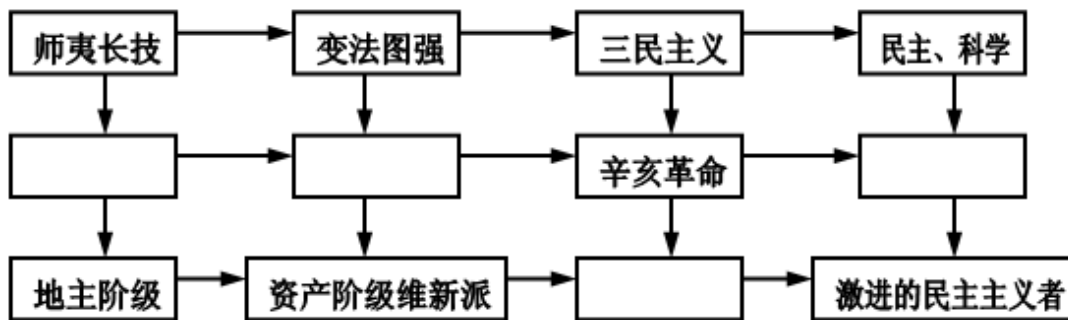
40. (1) 丝绸之路(2分) (2) 平定准噶尔部及大、小和卓叛乱(1分，答出1点即可)；设(派驻)伊犁将军(1分)；派左宗棠收复新疆(1分)。(3) 有利于少数民族当家作主，有利于经济的快速发展，有利于促进民族团结，有利于维护国家统一，有利于把国家政策同少数民族地区具体实际结合起来，有利于把国家的发展和少数民族的发展结合起来，有利于推进“西部大开发”战略等。(3分，答出3点即可，有其他答案只要观点正确、言之有理也可酌情给分)

(2010·山东泰安) 33. 在近现代史上，中国社会性质发生了由封建社会到半殖民地半封建社会，由半殖民地半封建社会到新民主主义社会，由新民主主义社会到社会主义社会的三次变化。据此，结合所学知识，回答下列问题。

(1) 列强入侵是近代中国由封建社会转变为半殖民地半封建社会的主要因素，请分别写出促使中国开始沦为半殖民地半封建社会和直接导致中国完全沦为半殖民地半封建社会的列强侵华战争及其签订的不平等条约的名称。(4分)

(2) 在近代列强侵华的过程中，处于亚洲的日本表现尤为猖獗。请写出日本在20世纪30年代发动的三次侵华事变和制造的一次屠杀中国人达30万之多的惨案名称。(4分)

(3) 伴随列强的入侵，中国各阶层为救国，开始了学习西方的近代化探索历程。请完成下面的中国近代化发展历程结构图(4分)



(4) 在中国人民的探索与斗争中，中国社会性质又先后发生了向新民主主义社会和社会主义社会的两次转变。请写出我国进入社会主义社会初级阶段的时间和标志。(2分)

(5) 进入社会主义初级阶段的中国，在祖国统一方面取得了令世界瞩目的成就。请举2例说明。(2分)

33. (1) 开始沦为半殖民地半封建社会：鸦片战争，《南京条约》(1个要点1分，共2分) 完全沦为半殖民地半封建社会：八国联军侵华战争，《辛丑条约》(1个要点1分，共2分) (2) 九一八事变、七七事变(或卢沟桥事变)、八一三事变；南京大屠杀(1个要点1分，共4分)。(3) 中间依次是：洋务运动、戊戌变法、新文化运动。下排为：资产阶级革命派(戊戌变法答百日维新也可。1空1分，共4分)

(4) 1956年底；(1分) 对农业、手工业和资本主义工商业的社会主义改造基本完成(或三大改造基本完成)(1分)；(5) 香港回归、澳门回归(2分)

(2010·重庆江津) 25. 一部中国近代史既是资本主义、帝国主义侵略、奴役中国人民的侵略史，也是中国人民不断反抗内外压迫的抗争史，更是各阶级、各阶层人士寻求救国真理、改造中国、发展中国的探索史。

请回答：

(1) 以“自强”“求富”为口号，开明的地主阶级掀起了什么运动？(1分)

(2) 为救亡图存，资产阶级维新派掀起了维新变法运动，其主要领导人是？(2分)

- (3) 结束了中国两千多年封建帝制的革命是什么？(1分) 说说其指导思想？(1分)
(4) 在新文化运动宣传西方民主和科学的影响下，许多有志青年远涉重洋赴法勤工俭学，其中江津人民引以为骄傲的是哪位？(1分) ??

25. (1) 洋务运动 (1分) ; (2) 康有为 (1分) ; 梁启超 (1分) ; (3) 辛亥革命 (1分) ; 三民主义 (民族、民权、民生) (1分) ; (4) 聂荣臻 (1分) 。

(2010·福建泉州) 26. 回答下列问题。

- (1) “孟姜女哭长城的传说真实地再现秦朝残暴统治的历史。”这一说法正确吗？为什么？(3分)

1691年，工部奏请修古北口一带倾二的边墙。康熙帝说：“帝王治天下，自有本领，不专恃险阻。秦筑长城以来，汉、唐、宋也常修理，其时岂无边患？”“守国之道惟在修德安民，民心悦则邦本得，而边境自固……”。

——《清史稿》

- (2) 根据上文，简要说明康熙帝不修长城的理由。(不得照抄原文) (2分) 结合所学知识，指出清朝民族政策的特点是什么？(3分)

“起来，不愿做奴隶的人们，把我们的血筑成我们新的长城……”。

——《义勇军进行曲》

- (3) 结合所学知识，理解歌词中“新的长城”的含义是什么？(2分)

26. (1) 不正确。(1分) 传说有后人附会或夸张的成分，不能全部信以为真。孟姜女哭长城属于传说，说明还没有被考古证实，所以不能作为真实的历史。(2分) (2) 理由：历代统治者修长城并没有解除边患；处理民族关系应重在修德安民。(2分) 特点：恩威并重，刚柔相济。(3分) (3) 众志成城，抗日救亡。(2分) (注：学生回答符合题意，可酌情给分。)

(2010·内蒙古赤峰) 25. 新中国成立以来，党和政府不断推进海峡两岸的交往和发展，现在两岸实现了“三通”，大陆游客可以去台湾观光旅游。请你结合所学知识，回答下列问题(7分)

- (1) 为什么说台湾自古以来就是祖国领土不可分割的一部分？(5分)

(提示：可从以下三个时期作答)

三国：

清：

中国近代：

- (2) 现在严重阻碍台湾与祖国大陆实现和平统一的因素有哪些？(2分)

25. (1) 三国：吴国派船队到达夷洲 (或台湾) (或 230年孙权派卫温到达夷洲) (1分)。清：1662年郑成功收复台湾 (1分) ; 1684年清政府设台湾府，隶属福建省 (1分)。中国近代：1895年日本割占台湾 (1分) ; 1945年抗日战争胜利，台湾回到祖国怀抱 (1分)。

(2) 台湾岛内“台独”分裂势力的煽动 (1分) ; 国际反华势力的影响和干预 (1分)。(符合题意即可)

(2010·湖南株洲) 33. (10分) 百余年的中国近代史，既是一部中华民族的屈辱史，同时也是

一部中华民族的

的抗争史。结合所学知识回答下列问题：

- (1) 中国近代百年屈辱史开始和结束的标志性重大历史事件分别是什么？(2分)
(2) 近代中国人民的革命任务是什么？(2分) 为完成这一革命任务，中国社会各阶级做出了哪些努力？试举两例予以说明。(4分)
(3) 从中国近代百余年的革命史中，你得到的最大启示是什么？(2分)

33. (1) 鸦片战争和中华人民共和国的成立。(2) 反帝反封建；农民阶级：太平天国、

义和团运动；资产阶级：维新变法、辛亥革命；无产阶级：新民主主义革命里任选两例。

(3) 落后就要挨打；哪里有压迫，哪里就有反抗。

(2010·山东菏泽) 17. 2010年上海世博会，是世博会历史上的一个里程碑。见证“城市，让生活更美好”的上海，也见证了古今中国的沧桑变迁。关于上海的历史你知道多少？结合所学知识回答下面的问题。(8分)

(1) 曾经有位著名的女纺织家，她改进纺织技术，使家乡松江(今上海)一带成为当时全国的棉织业中心，时称“衣被天下”。这位著名的女纺织家是谁？她生活在哪个朝代？(2分)

(2) 上海是近代中国第一批被迫开放的通商口岸之一。强迫中国开放上海的是哪一个不平等条约？这个条约的签订对近代中国社会造成了怎样的影响？(2分)

(3) 19世纪中后期，作为洋务派地方代表的李鸿章曾在上海先后创办军事工业与民用工业，请你试举一例。(1分)

(4) 近代中国，报刊传媒与近代出版业蓬勃发展，加快了信息传递与科学知识的传播，深刻影响着大众的生活。试举出一例近代在上海创办的最著名的报纸或出版机构。(1分)

(5) 上海还见证了我国民主革命时期的几件重大历史事件，请你试举两例并加以说明。(2分)

17. (1) 黄道婆，(1分) 元朝。(1分) (2) 《南京条约》；(1分) 使中国开始从封建社会逐步沦为半殖民地半封建社会。(1分) (3) 军事工业：江南制造总局；(1分) 民用工业：上海轮船招商局。(1分) (4) 1872年上海创办了《申报》；(1分) 1897年上海创办的商务印书馆是近代中国历史最长、规模最大的文化出版机构。(1分) (5) 1919年6月，五四运动的中心转移到上海。(1分) 1921年7月中共一大在上海召开。(1分)