

湖南省邵阳市 2020 年中考历史试题

一、选择题

1.《关于邵阳历史文化的调查研究》称：早在新石器时代，邵阳市境内就有人类居住。支持这一论点的最有力证据是

- A. 1849 年刻印的《宝庆府志》
B. 1905 年刊印的《邵阳县乡土志》
C. 邵阳市民间传说
D. 邵阳市隆回县小坳遗址考古发现

【答案】D

【解析】

【详解】小坳遗址是古人类活动留下的遗迹，说明这里远古时期曾经有人类居住和活动，是能够证明题干论点的最有力的证据，故选 D；《宝庆府志》、《邵阳县乡土志》和民间传说都经过了后人的整理和加工带有主观色彩，不是最有力的证据，排除 ABC。故选 D。

2.网上有这样一则“段子”：平时学习不努力，考前又不听圣人“温故而知新”的教诲，他怎么会保佑你及格呢？材料中的“圣人”是指



- A. 老子
B. 孔子
C. 墨子
D. 荀子

【答案】B

【解析】

【详解】根据所学可知，孔子是儒家创立人，他主张“温故而知新”，他对中国影响深远，被称为“圣人”，故 B 符合题意；A 主张无为而治，故不符合题意；C 主张兼爱，故不符合题意；D 主张礼治，故不符合题意。故选 B。

3.某电视剧场景：颁令天下，30 岁以下的一律改习汉语和中原正音。496 年，皇帝将拒不说汉语的皇后冯媛废为庶人。该材料中的皇帝是指

- A. 秦孝公
B. 孝文帝
C. 金太祖
D. 成吉思汗

【答案】B

【解析】

【详解】**考查点**：孝文帝改革。**解题思路**：结合所学知识可知，为了巩固统治，孝文帝进行了改革，规定在朝廷中必须使用汉语，禁用鲜卑语。故 B 项正确；秦孝公改革没有涉及习用汉语，故排除 A 项；金太祖和成吉思汗没有进行改革，故排除 CD 项。故选 B。

4.2020年4月，一张央行数字货币图片在网上热传。990年世界首张纸币“交子”诞生在中国，而在1000多年后首张数字货币也将在中国落地。材料中提到的“交子”产生于

- A. 汉朝 B. 唐朝 C. 宋朝 D. 元朝

【答案】C

【解析】

【详解】考查点：纸币—交子。解题思路：根据“世界首张纸币‘交子’诞生在中国”可知本题考查交子产生的时间，由此得出宋朝的结论。北宋商品经济繁荣，为方便交易，在四川地区出现了世界上最早的纸币—交子，故选C；汉唐时期没有纸币的出现，排除AB；元朝在宋朝之后，此时纸币已经出现，排除D。故选C。

5.科举制度实行了1300年（606—1905年），对中国乃至世界都产生了深远的影响，……相对来说是公平、公开及公正的。明清两朝，不少有特殊成就的人未能通过科举考试，如宋应星、李时珍、曹雪芹等。

对该材料解读错误的是，科举制

- A. 创立于隋朝，废止于清朝末年
B. 在历史上曾经推广到世界各国
C. 在一定程度上体现了人才选拔 公平、公正性
D. 为政府选拔人才的同时，也埋没了其他方面的特殊人才

【答案】B

【解析】

【详解】考查点：科举制。解题思路：根据“科举制”、“解读错误的是”可知本题要求选出对科举制错误的认识。根据所学内容可知，科举制是我国古代的考试选官制度，但它并没有推广到世界各国，B项说法过于夸张，符合题意，故选B；科举制创立于隋朝，废止于清末；通过考试选官在一定程度上体现了人才选拔的公平公正，但在为政府选拔人才的同时使读书人集中于考试做官，埋没了其他方面的特殊人才，ACD项说法均不符合题意，排除。故选B。

6.1895年3月，邵阳市籍湘军将领魏光燾率部抗击进犯牛庄（辽宁省境内）的敌军，三换坐骑，浴血奋战，表现出了不畏强暴勇于抗争的英雄气概。材料中的敌军是指

- A. 英军 B. 英法联军 C. 日军 D. 八国联军

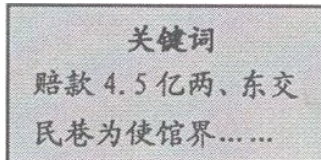
【答案】C

【解析】

【详解】考查点：甲午中日战争。解题思路：根据题干中“1895年”、“牛庄（辽宁省境内）”可知，这场战争发生于1895年，战场包括辽宁等地。根据所学知识可知，1895年日本发动了甲午中日战争、1895年2月，日军由海城分路进攻牛庄。清军徐邦道、李光久、魏光燾等部坚决抗击。提督谭桂林、邓敬财、

总兵余福章壮烈牺牲，2000多名士兵伤亡。清军敢于以弱碰强，且能重创数倍于己的日军，虽败犹荣。清军众将士慷慨激昂的作战姿态，彰显出中国人不屈不挠的英雄气魄。C正确；鸦片战争、第二次鸦片战争和八国联军侵华。三场战争都没有打到辽宁。英军参加的是鸦片战争、第二次鸦片战争、八国联军侵华，不合题意，A错误；英法联军发动的是第二次鸦片战争，战争时间是1856-1860年，与题不符，B错误；八国联军发动的是八国联军侵华，战争时间是1900-1901年，与题不符，D错误。综上故选C。

7.下边是小兵同学自制的历史学习卡片（局部）。据此判断他在在学习



- A. 《南京条约》
B. 《天津条约》
C. 《北京条约》
D. 《辛丑条约》

【答案】D

【解析】

【详解】考查点：《辛丑条约》。解题思路：由材料“赔款4.5亿两”“东交民巷为使馆界”，可知和不平等条约相关。结合所学，1901年，《辛丑条约》规定赔偿列强4.5亿两白银，设立东交民巷为使馆界，故D符合题意；1842年《南京条约》向英国赔偿2100万银元，排除A；1858年《天津条约》规定向英赔偿款白银400万两，对法赔偿款白银200万两，排除B；《北京条约》承认《天津条约》有效，并赔款英法增至800万两白银，排除C。故选D。

8.有同学将尾数为0的四个年份及其发生的大事归纳在一起

- ①1850年，英国发动鸦片战争
- ②1860年，英法联军焚毁圆明园
- ③1900年，义和团抗击八国联军
- ④1940年，八路军发动百团大战

材料中归纳错误的一项是

- A. ① B. ② C. ③ D. ④

【答案】A

【解析】

【详解】考查点：近代列强的侵华战争。解题思路：根据“归纳错误的一项”可知本题要求选出错误选项。英国发动鸦片战争是1840年，不是1850年，①归纳错误，故选A；1860年英法联军焚毁圆明园；1900年，义和团抗击八国联军；1940年八路军发动百团大战。②③④归纳都是正确的，与题意不符，

排除 BCD。故选 A。

9.1978 年，邵阳市国内生产总值为 15 亿元，此后，逐年增加。2019 年则达到 2152 亿元，比 1978 年增长 140 多倍。邵阳市国内生产总值自 1978 年来快速增长的主要原因是

- A. 三大改造 B. 改革开放 C. 自然资源丰富 D. 经济基础良好

【答案】 B

【解析】

【详解】 考查点：改革开放。解题思路：根据材料“1978 年……，逐年增加”、“2019 年则达到 2152 亿元，比 1978 年增长 140 多倍。”可知，在 1978 年之后邵阳的 GDP 不断增加，邵阳经济收获巨大发展。根据所学知识可知，1978 年我国召开了十一届三中全会，决定进行改革开放。改革开放解放了我国生产力，促进了经济发展，B 正确；三大改造发生于 1953-1957 年，主要目的是使生产资料私有制变成公有制，从而让社会主义制度在中国建立起来。根据材料可知，邵阳经济起飞的关键节点在 1978 年。所以 A 与题不符，A 错误；自然资源丰富、经济基础良好是一贯有之的，不能解释经济飞速发展的起点在 1978 年的原因。因此 CD 错误。综上故选 B。

10.2020 年 5 月，梁振英指出，我们有一个国家安全方面的漏洞，会影响到“一国两制”的实施。基本法有这个要求，已经 23 年了。梁振英所言的“漏洞”存在于

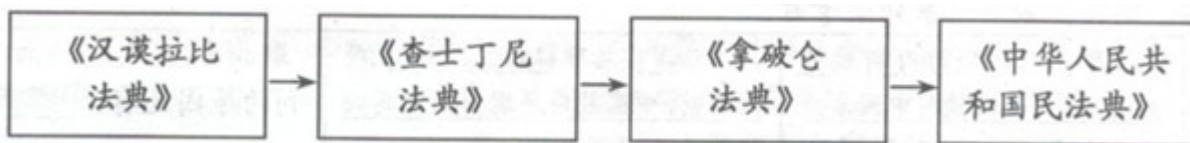
- A. 香港 B. 澳门 C. 台湾 D. 深圳

【答案】 A

【解析】

【详解】 考查点：香港回归。解题思路：由材料“一国两制”可知反映祖国统一的问题。“一国两制”指在中华人民共和国内，国家的主体实行社会主义，香港、澳门和台湾实行资本主义。由材料“2020 年”“基本法有这个要求，已经 23 年了”，结合所学，1997 年香港回归祖国，符合梁振英所言的“漏洞”，故 A 符合题意；澳门是 1999 年回归祖国，而台湾问题尚未解决，“一国两制”不适合深圳，故排除 BCD。故选 A。

11.张红同学整理的一个专题复习资料有下列内容。据此判断



- A. 科技教育史 B. 经济体制史 C. 政治制度史 D. 民主法制史

【答案】 D

【解析】

【详解】 考查点：民主法制史。解题思路：由材料中的不同时期的法典名称来看，可见和法律制度的演变

相关，故 D 符合题意；材料中的法典与科技教育无关，排除 A；材料中的法典与经济体制无关，排除 B；材料中的法典与政治制度无关，排除 C。故选 D。

12.2020 年 3 月，伊朗最高精神领袖哈梅内伊对广大穆斯林说，新冠肺炎病毒没什么可怕！人们可以通过向安拉祈福而获得打败病毒 精神力量。据此判断，哈梅内伊信奉

- A. 佛教 B. 基督教 C. 道教 D. 伊斯兰教

【答案】 D

【解析】

【详解】考查点：伊斯兰教。解题思路：根据“穆斯林”、“安拉”等信息可知，这一宗教信仰真主安拉，信教者被称为穆斯林。根据所学知识可知，公元七世纪，穆罕默德阐述了独尊安拉的宗教思想，创立了伊斯兰教。伊斯兰教的教徒被称为穆斯林。D 正确；所学知识可知，信仰佛法僧三宝的在家、出家四众的通称是佛教徒。与材料不符，A 错误；基督教敬拜上帝，奉耶稣基督为救世主，B 错误；道教是中国本土宗教，以“道”为最高信仰，C 错误。综上故选 D。

13.东汉豪强大族的庄园“有煮盐冶铁酿造纺织等作坊，能满足田庄基本生活要求。”中世纪西欧庄园内“有住房、冶铁等作坊，奶酪、火腿、鞋帽、衣服等自己制作。”该材料反映出中国东汉与中世纪西欧庄园的共同点是

- A. 实行土地公有制 B. 出现资本主义萌芽
C. 经济自给自足 D. 居民都是自由农民

【答案】 C

【解析】

【详解】根据“能满足田庄基本生活要求”、“自己制作”等信息可知东汉与中世纪西欧庄园都通过自己生产满足自身需要，在经济上呈现出自给自足的特点，故选 C；东汉和中世纪西欧庄园都实行的是土地私有，居民都带有农奴性质，不是自由民，排除 AD；东汉和中世纪西欧庄园的经济都带有自给自足的性质，没有出现雇佣关系，较少面向市场，因此没有出现资本主义萌芽，排除 B。故选 C。

14.按照泰国宪法规定，现在的国王没有多少实际权力，只是象征性的国家元首；国家的决策者是议会、总理和内阁成员。据此判断，泰国实行

- A. 君主立宪制 B. 君主专制 C. 联邦总统制 D. 联邦议会制

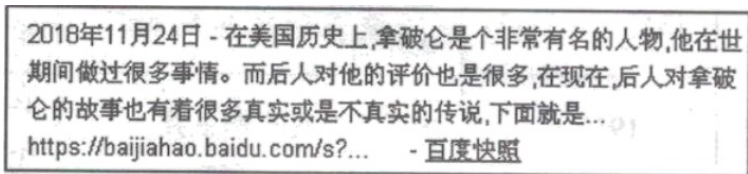
【答案】 A

【解析】

【详解】考查点：君主立宪政体。解题思路：由材料“象征性的国家元首；国家的决策者是议会、总理和内阁成员”，可见涉及政体问题。君主立宪制指保留世袭君主，但其权力受到法律的限制的政体。由材料“象

征性的国家元首；国家的决策者是议会、总理和内阁成员”说明世袭君主的权力受到限制，故属于君主立宪制，故 A 符合题意；由材料“国家的决策者是议会、总理和内阁成员”可见泰国国王没有实际权力，无法专制独裁，排除 B；材料没有涉及泰国的国家体制问题，而且泰国元首为国王而非总统，排除 C；材料没有涉及泰国的国家体制问题，也无法判定议会在国家政治体制中的地位，排除 D。故选 A。

15.网上资料不乏常识性错误，不要轻信网络资料。如下边截图中竟然将拿破仑的国籍搞错了。拿破仑的国籍应该是



- A. 英国 B. 俄国 C. 德国 D. 法国

【答案】 D

【解析】

【详解】根据所学知识可知，拿破仑是法兰西第一帝国建立者，他是法国人，D 正确；他不是英国人也不是俄国人、德国人，ABC 不符合事实，ABC 错误，综上故选 D。

16.2020 年 5 月，黑人弗洛伊德之死导致的抗议活动席卷美国。社会学家认为，美国存在种族歧视现象与美国历史上长期存在奴隶制度有关。19 世纪 60 年代，奴隶制被废除了，但其奴役思想并没有随之消失。对该材料解读错误的是，美国

- A. 独立战争废除了奴隶制 B. 现在依然存在种族歧视现象
C. 种族歧视现象有其历史根源 D. 要消除种族歧视现象必先摒弃奴役思想

【答案】 A

【解析】

【详解】考查点：美国南北战争。解题思路：概括材料可知：19 世纪 60 年代美国废除了奴隶制，但是奴役思想并没有消失，导致了美国社会至今仍存在种族歧视现象。本题是逆向选择题。根据所学知识可知，美国独立战争的纲领性文件《独立宣言》虽然强调天赋人权，自由平等。但是宣言并没有宣布废除奴隶制，事实上天赋人权的享受者也不包括黑人和印度安人。A 符合题意；根据“奴隶制被废除了，但其奴役思想并没有随之消失”可知，美国至今依然存在种族歧视现象。B 不合题意；根据“社会学家认为，美国存在种族歧视现象与美国历史上长期存在奴隶制度有关。”可知，种族歧视现象有其历史根源。C 不合题意；根据题意可知，要消除种族歧视现象必先摒弃奴役思想，D 不合题意。综上故选 A。

17.他常赤裸着上身。腰间围一块土布，每天亲自纺纱织布半小时。1930 年，他为了“食盐专卖法”而再次发动非暴力不合作运动。材料中的他是

- A. 玻利瓦尔 B. 扎格鲁尔 C. 甘地 D. 卡德纳斯

【答案】 C

【解析】

【详解】 考察点：甘地非暴力不合作运动。解题思路：根据材料中的“1930年”、“非暴力不合作运动”这两个关键信息可知，材料考察的是甘地的非暴力不合作运动。根据所学知识可知，1930年，甘地再次发动起了“文明不服从运动”，他向殖民政府提出降低田赋、释放政治犯、废除食盐专卖等要求。为了反对食盐专卖，甘地带领拥护者到海边，自取海水制盐。C正确；玻利瓦尔是南美洲北部地区民族独立战争领导人，采用暴力斗争方式，A错误。扎格鲁尔是埃及独立运动领袖，华夫脱党创始人，与材料不符，B错误；1934年7月卡德纳斯当选为总统后，依靠工农革命力量，在墨西哥进行了深入的政治改革。改革基本上摧毁了封建大庄园制，使民族资本家掌握了全国主要经济命脉，为墨西哥的资产阶级民主制度的确立奠定了基础。与材料不符，D错误。综上故选C。

18.对下列图片所反映的俄国、前苏联史实进行解读错误的是



彼得一世
俄国近代化之父

图 1



亚历山大二世于1861年
签署废除农奴制法令

图 2



1917年11月6日列宁来到彼得格勒的起义总指挥部

图 3



斯大林任职期间苏联模式形成

图 4

- A. 图 1 向西方学习，农奴制进一步强化
- B. 图 2 废除农奴制，开启了近代化进程
- C. 图 3 亲自领导起义，十月革命胜利
- D. 图 4 促进经济社会会发展，弊端日益暴露

【答案】 B

【解析】

【详解】 考查点：俄国农奴制改革。解题思路：四幅图片要求对俄国、前苏联不同时期的史实有准确认识。本题要求选出错误的选项。图一为俄国彼得一世改革，向西方学习，增强了国家实力，保留封建农奴制，走上扩张道路，开启了俄国近代化进程，图二为俄国1861年农奴制改革，废除了农奴制，促进俄国资本主义的发展，故排除A，B符合题意；列宁领导了俄国十月革命，建立了世界第一个社会主义国家，排除C；斯大林模式在一定程度上促进苏联社会经济的发展，但高度集中的政治经济体制的弊端日益显现，排除D。故选B。

19.1959年联合国成员国只有82个，1960年联合国成员国增加到99个。这新增加的17个国家都来自

- A. 非洲
- B. 欧洲
- C. 亚洲
- D. 美洲

【答案】 A

【解析】

【详解】1960年有17个非洲国家获得独立，这一年被称为“非洲年”，所以联合国新增的17个会员国都来自非洲，故选A；1960年新加入联合国的成员国都来自非洲，与亚洲、欧洲和美洲无关，排除BCD。故选A。

20.韩国政府于2020年6月2日宣布，将重新就日本采取对韩出口管制措施诉诸世界贸易组织，日本对此表示遗憾。该材料反映出，世界贸易组织

- A. 是影响最大的国际组织
- B. 偏袒日本而引起韩国不满
- C. 具有解决贸易争端的职能
- D. 是日本与韩国时话交流的唯一通道

【答案】C

【解析】

【详解】考查点：世界贸易组织。解题思路：由材料“就日本采取对韩出口管制措施诉诸世界贸易组织，日本对此表示遗憾”，可见材料主要反映韩国和日本将贸易争端诉诸世界贸易组织，说明世界贸易组织具有解决贸易争端的职能，故C符合题意；材料无法反映世界贸易组织的规模，排除A；世界贸易组织主张自由贸易，材料无法反映世界贸易组织偏袒日本，排除B；韩日交流对话有不同的途径，排除D。故选C。

二、综合题

21.中华民族不屈不挠、生生不息。阅读材料，回答问题。

材料一 打开中国地图，有两条雄踞在中华大地上的“人工巨龙”……一撇一捺，一刚一柔，交叉在北京，形成一个大大的“人”字，成为中华民族不屈不挠和生生不息的文化象征。奇巧的是，中央红军的长征路线，也构成一个大写的“人”字。

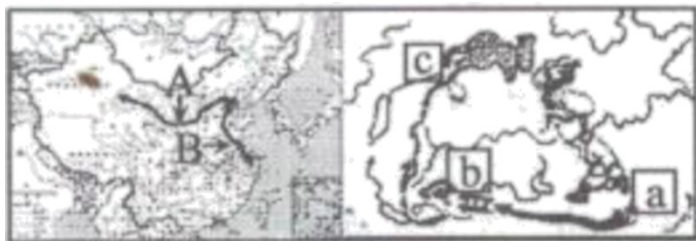


图1 长城与大运河示意图 图2 中央红军长征示意图

——摘编自《追根溯源大运河，千年文化谱新篇》等

(1) 根据材料一并结合所学知识，完成下列要求：

① 图1中的两条“人工巨龙”A、B分别代指什么？长城；大运河。

② 用直线将图2中的“a、b、c”与其相对应的地名连接起来。

- a 遵义
- b 瑞金
- c 吴起镇

③ 长征精神是实现中华民族伟大复兴的强大精神力量之一。请你谈谈长征精神。

材料二 2019年12月5日，国家出台了《长城、大运河、长征国家文化公园建设方案》……要坚持保护优先、彰显特色。在建设范围上，长城国家文化公园涉及陕西、北京等15个省区市；大运河国家文化公园涉及北京、山东等8个省市；长征国家文化公园（以中央红军长征线路为主）涉及江西、湖南等15个省区市。建设国家文化公园的主要目的是保护和传承优秀传统文化，凝聚实现中华民族伟大复兴的强大精神力量。

——摘编自2019年12月6日人民网

(2) 根据材料一、二并结合所学知识，完成下列要求：

④ 下面三位同学就“三大国家文化公园建设路线是否覆盖我们湖南省”发生了争论，你认为谁的说法正确？

刘玲：三大国家文化公园建设路线都覆盖湖南省。

李红：你错了，只有长城、长征两大国家文化公园建设路线覆盖湖南省。

张军：你们两个都错了，只有长征国家文化公园建设路线覆盖湖南省。

⑤ “我为三大国家文化公园建设出谋划策”班会接龙活动开始，李阳同学抢先发言：国家文化公园建设一定要体现地方特色。请你参加该接龙活动并发言。

【答案】 (1) ① 长城；大运河。② A . 瑞金 B . 遵义③ 言之有理即可

(2) ④ 张军。⑤ 围绕三大国家文化公园内涵和底蕴，在保护中传承、在传承中利用、在利用中永续发展，加强规划协调和衔接，通过三大国家文化公园建设融合“地方特色”，使其成为展示中华文明、彰显文化自信的亮丽名片。

【解析】

【详解】 (1) ① 根据图示内容和所学内容可知，A呈东西走向，值得应该是长城，B呈南北走向，指的应该是京杭大运河。

② a 位于江西省境内，对应的应该是瑞金；b 位于贵州省境内，对应的应该是遵义；c 位于陕西省境内，对应的应该是吴起镇。

③ 长征精神实现中华民族伟大复兴的强大精神力量之一，可从乐于吃苦，不惧艰难的革命乐观主义；勇于战斗，无坚不摧的革命英雄主义；重于求实，独立自主的创新胆略；善于团结，顾全大局的集体主义等方面展开论述即可。

(2) ④ 结合所学内容可知，长城主要位于北方，没有涉及湖南省范围，因此刘玲和李红的说法都是错误的。大运河主要位于东部省份，没有经过湖南省，因此大运河国家公园不涉及湖南。根据“长征国家文化公园（以中央红军长征线路为主）涉及江西、湖南等15个省区市”可知长征国家文化公园涉及湖南，因此只有张军的说法是正确的。

⑤ 本题为开放性试题，在发言中围绕三大国家文化公园内涵和底蕴，在保护中传承、在传承中利用、在利

用中永续发展，加强规划协调和衔接，通过三大国家文化公园建设融合“地方特色”，使其成为展示中华文明、彰显文化自信的亮丽名片等信息展开即可。

22.我国是传统的农业大国，农民是中国革命和社会主义建设的重要力量。阅读材料，回答问题。

材料一 从秦朝的陈胜、吴广起，……直至清朝的太平天国，都是农民武装反抗地主阶级的革命战争。旧式农民战争受流寇主义、小生产的散漫性与平均主义的影响，往往不能成功。中国共产党人要取得胜利，也需要有以农民为主力军的革命战争，当然不能走旧式农民战争的老路，必须建立根据地。对历史上农民起义经验教训进行总结，造成工农武装割据……走农村包围城市、武装夺取政权的道路。



——摘编自毛泽东《中国革命和中国共产党》等

材料二 当年党中央离开西柏坡的时候，毛泽东同志说是“进京赶考”，并坚定地表示：“我们决不当李自成”，表现出无产阶级政党及其领袖的清醒头脑和革命气魄。

——摘编自李行健《西柏坡：脱贫致富“赶考路”》

材料三 1640年李自成农民起义军提出“均田免赋”的口号，但没有真正实行。1950年新中国开启了消灭封建剥削制度的深刻的社会变革，农民真正获得了解放。

——摘编自统编义务教育历史教材毛泽东进京赶考（油画）

(1) 根据材料并结合所学知识，完成下列要求：

① 分别指出“中国历史上第一次农民大起义”建立的政权名称与“中国历史上规模最宏大的一次农民战争”的主要领导人。

② 对下列关于“旧式农民起义往往不能成功”的原因归纳作出判断，能直接从材料一中得出的划“正确”；违背材料一所表达意思的划“错误”，材料一没有涉及的划“未涉及”。

A.没有建立巩固的根据地

B.没有科学的理论指导

C.没有采取武装斗争方式

③ 在新民主主义革命时期，毛泽东等先辈革命家为什么能够创立“农村包围城市、武装夺取政权”的理论？

(2) 根据材料二、三并结合所学知识，完成下列要求：

④ 《闯王进京》图与毛泽东“进京赶考（油画）”中的“京”是指今天哪个城市？谈谈你对毛泽东同志“我们绝不学李自成”这句话的理解。

⑤ 新中国成立之初，我国广大农民最迫切的愿望和要求是获得土地，这个愿望和要求是如何得以实现的？

【答案】 (1) ①张楚，洪秀全。②正确；未涉及；错误③俄国十月革命给中国送来了马克思主义，五四运动推动马克思主义的广泛传播；共产党人重视农民战争，对历史上农民起义经验教训进行总结，把马克思主义和中国具体国情相结合。

(2) ④北京；中国共产党能够作为执政党，承担起建设新中国的任务。⑤ 1950年颁布《中华人民共和国土地改革法》，在新解放区实行土地改革，把封建土地所有制变成农民土地所有制，农民成为土地的主人。

【解析】

【详解】 考查点：中国古代的农民起义和新民主主义革命。

解题思路 (1) ①根据所学内可知，中国历史上第一次农民大起义是陈胜吴广起义，他们建立的政权名称是张楚，即张大楚国。中国历史上规模最宏大的一次农民战争是太平天国运动，领导人是洪秀全。

② 根据“流寇主义”、“必须建立根据地。对历史上农民起义经验教训进行总结”可知古代农民起义失败的一个重要因素是没有建立稳固的根据地，A 正确；材料中没有涉及古代农民起义指导思想的问题，B 未涉及；古代农民起义的斗争方式便使武装斗争，所以 C 错误。

③ 新民主主义革命时期，毛泽东等先辈革命家之所以能够创立“农村包围城市、武装夺取政权”理论的原因应结合所学内容可从俄国十月革命、五四运动、中共党人对历史经验教训的总结、将马克思主义和中国具体国情相结合等方面进行总结概括。

(2) ④结合所学内容可知“京”指的是北京。“我们决不当李自成”意味不走李自成进入北京城后迅速腐化堕落、丧失政权的老路，而是要作为一个执政党，承担起建设新中国的任务。

⑤ 根据“1950年新中国开启了消灭封建剥削制度的深刻的社会变革，农民真正获得了解放”并结合所学内容可知，新中国成立后，中共颁布《中华人民共和国土地改革法》，在新解放区实行土地改革，把封建土地所有制变成农民土地所有制，从而使农民成为土地的主人。

23.勇敢面对疫情，化危机为契机。阅读材料，回答问题。

材料一 英雄的武汉人民与全国人民一起同心协力、英勇拼搏，抗击新冠肺炎疫情。历史上，英雄的武汉总是屹立潮头。……近现代史上武汉发生的大事有（不是按照时间先后顺序排列）

① 武昌起义爆发②武汉会战发生③汉阳铁厂建立④武汉长江大桥建成


(1) 用材料一的史实，证明下列观点。（每个观点只填一个序号）

A.武汉在中国历史上第一次近代化运动中表现突出

B.武汉是中国民主革命的重镇，有“首义之城”的美誉

C.武汉在新中国第一个五年计划期间成就斐然

材料二 小王同学为探究“武汉市迅速控制新冠肺炎疫情并最终取得决定性胜利的原因”这一主题，制作了如下一系列小卡片。

<p>在中西医结合治疗新冠肺炎过程中，全国使用中医治疗的确诊病例有6万例，占比80%以上，确有疗效的清肺排毒汤所包含的四方皆出自《伤寒杂病论》</p>	<p>法国前总理拉法兰指出：在疫情面前，中国政府展现出强大高效的组织和动员能力，令我印象深刻，这正是中国制度的优势！</p> 	<p>取得抗疫决定性胜利的原因还有： _____ _____ _____。</p>
卡片 1	卡片 2	卡片 3

(2) 卡片1中提到的《伤寒杂病论》的作者是谁？卡片2中提到的“中国制度”具体指的是什么社会制度？依据小王同学探究的主题补充完成卡片3。

材料三 纵观人类历史，与疫情斗争是生存常态。

时间	事件	影响
541—542年	查士丁尼瘟疫，席卷东罗马帝国。	东罗马帝国损失40%的人口，也是东罗马帝国走向衰败的重要原因之一。
1347~1353年	黑死病在意大利蔓延并席卷欧洲。	夺走欧洲1/3人口，教会威信下降，引发了深刻的文艺复兴运动及宗教改革运动。
1910年	中国东北发生肺鼠疫。	在伍连德的推动下，口罩逐渐成为人类抗击疫情必不可少的装备。
1918~1920年	被称之为西班牙大流感，从美国开始，席卷全世界。	全球约10亿人被感染，5000万人死亡。加速第一次世界大战的终结。各国开始重视全民性卫生教育并着手完善公共卫生体系，不久，青霉素问世。
2020年	新冠肺炎大流行。	截止6月底，全球感染人数突破1000万，死亡人数超过50万。经过疫情大考，中国应对突发性大疫情的防控机制更加健全完善。

(3) 瘟疫给人类带来巨大的灾难。面对疫情，人类积极反思，因势利导，化危机为契机。从这个角度而言，瘟疫危机往往也是人类文明进步的催化剂。根据材料三，以“瘟疫危机往往也是人类文明进步的催化剂”为题写篇历史小论文。要求：史论结合，100—200字。

【答案】(1) A.③B.①C.④

(2) 张仲景；社会主义或者是中国特色的社会主义制度；举全国之力；社会主义制度的优越性；人民群众的积极支持；中医的巨大作用等。

(3) 瘟疫危机往往是人类文明进步的催化剂

纵观人类文明史，瘟疫危机往往是人类文明进步的催化剂。

人类发展的历史长河，不会始终平静无波，总伴随着危机四伏的洪波涌起。（抄材料事实三到四个）

可以说，人类文明的发展进程就是一部与瘟疫不断斗争的进化史。英雄的中国人民用同舟共济的决心、团结一致的行动昂首应答，筑起群防群控的人民防线，全国防控形势积极向好拓展。在这次大考中，我们吸取了深刻的教训，更收获了宝贵的经验。在与瘟疫的一次次斗争中，落后不健全的社会形态或者制度体系往往会被放大、淘汰，倒逼人们突破旧有的社会形态或制度体系。而适应人类社会发展趋势的优越的社会形态或制度体系，将会更好地放眼长远，总结经验教训，补齐治理体系的短板和弱项，从而做到化危机为转机，赋能经济社会更高质量的发展。

【解析】

【详解】

(1) 第 1 问：根据所学知识可知，中国历史上的第 1 次近代化运动是洋务运动。在洋务运动期间，张之洞在“求富”口号指导下，在湖北创立了汉阳铁厂。第 2 问：根据所学知识可知，1911 年武昌起义爆发，清政府的统治土崩瓦解，因此武汉是辛亥革命的首义之城。第 3 问：根据所学知识可知，1957 年我国第 1 个 5 年计划超额完成，武汉长江大桥建成，连接了长江的南北两岸，促进了中国交通运输业的进一步发展。因此③汉阳铁厂建立证明了 A；①武昌起义爆发证明了 B；④武汉长江大桥建成证明了 C。

(2) 第 1 问：根据所学知识可知，东汉末年医学家张仲景创作了《伤寒杂病论》，《伤寒杂病论》是集秦汉以来医药理论之大成，并广泛应用于医疗实践的专书，是我国医学史上影响最大的古典医著之一，也是我国第一部临床治疗学方面的巨著。第 2 问：根据所学知识可知，在这次抗疫斗争中展现出了中国制度的极大优越性，这一制度是指具有这一制度是指中国特色的社会主义制度。第 3 问：中国能够取得抗疫决定性胜利的原因除了制度优势、中西结合治疗之外还包括党始终将人民生命安全放在第一位，各级政府组织有效；全国上下团结一致，举全国之力进行有效的抗疫、防疫斗争；人民群众充分信任党和政府，中国共产党的“政治领导力、思想引领力、群众组织力、社会号召力”具有强大的理论生命力和实践指引力。

(3)

论点：“瘟疫危机往往也是人类文明进步的催化剂”

论据 1: 黑死病严重冲击了欧洲政治、经济、社会的各个方面，迫使欧洲从蒙昧走向理性，催生隔离、检

疫等公共卫生制度。

论据 2：西班牙大流感加速第一次世界大战的终结。各国开始重视全民性卫生教育并着手完善公共卫生体系，不久，青霉素问世。

论据 3：SARS 推动中国应对突发性大疫情的防控机制更加健全完善。信息公开也引起了 WHO 与世界各国对疫情的高度重视，全球警报系统和对疫情防治的协调统筹能力发挥了显著作用。SARS 之后，中国就应对公共突发事件建立了更完善的法律法规和处理机制，信息透明成为公共决策重要组成部分。

由以上的论据可以看出，疫情给人类带来了巨大的灾难，但同时人类文明在抗疫危机中不断前进。一方面是通过抗疫斗争，中国人民的爱国、爱党、爱民之心、天下己任的社会责任感都经受了一次严格的淬炼，得到了进一步的提升。英雄的中国人民用同舟共济的决心、团结一致的行动昂首应答，筑起群防群控的人民防线，全国防控形势积极向好拓展。而另一方面从历史发展历程来看，在与瘟疫的一次次斗争中，落后不健全的社会形态或者制度体系往往会被放大、淘汰，倒逼人们突破旧有的社会形态或制度体系。而适应人类社会发展趋势的优越的社会形态或制度体系，将会更好地放眼长远，总结经验教训，补齐治理体系的短板和弱项，从而做到化危机为转机，赋能经济社会更高质量的发展。

24.今天的世界并不安宁，和平与发展遭遇挑战，霸权主义和强权政治依然存在。

某老师以“霸权主义”为主题设计了下面的学习任务清单，请你完成相关学习任务。

任务一【史料实证重现历史真实】

材料一 我必须承认，西方霸权或许已近终结。我们已经习惯了一种自 18 世纪以来以西方霸权为基础的国际秩序。法国、英国、美国，让西方伟大 300 年。法国是文化，英国是工业，美国是战争。我们习惯了这种伟大，它让我们对全球经济和政治掌控着绝对的支配权。但事情正在起变化。有些危机来自于我们西方国家自身的错误，而有些，则来自于新兴国家的挑战。

——摘编自网上盛传的法国总统马克龙内部讲话

材料二 罗马霸权、英国霸权和美国霸权相同之处表现为：三大霸权的确立都以强大的经济和军事实力为物质基础，均以对外扩张为主导战略。美国霸权确立主要通过战争与结盟实现。

——摘编自门洪华《西方三大霸权的战略比较》

(1) 根据材料一并结合所学知识，完成下列要求：

序号	材料一 中论点	补充论据
A	法国是文化	举出 18 世纪以法国为中心反对旧制度的思想文化运动名称
B	英国是工业	举出第一次工业革命中将蒸汽机变为主要动力的发明家

(2) 根据材料二并结合所学知识，指出美国霸权确立的特点，并说明第二次世界大战后美国称霸的欲望十分强烈的主要原因。

任务二【历史解释，理性分析史事】

材料三 70 年前，美国等 12 个国家在华盛顿签署了《北大西洋公约》，目的是遏制苏联、援助尚未复苏的西欧各国。早在上世纪 90 年代冷战结束的时候，北约何去何从的问题便尖锐地提出来了。普京说：“北约已经没有存在的必要了。”

——摘编自 2019 年北约峰会期间网上新闻

(3) 指出北大西洋公约组织成立的时间。

(4) 普京说：“北约已经没有存在的必要了。”你觉得普京说这句话的理由是什么？

任务三【家困情怀，关注现实问题】

(5) 通过本专题的学习，你觉得我们国家应如何面对霸权主义和强权政治？

【答案】 (1) A、启蒙运动；B、瓦特

(2) 特点：通过战争与结盟实现；二战后，美国成为世界上军事、经济实力最强大的国家。

(3) 1949 年。

(4) 两极格局已经终结。

(5) ①坚持独立自主的和平外交政策。②各国应充分维护和履行国际法的相关义务。③加大国际间的合作，特别是第三世界的合作。④坚持和平与发展的国际主流思想。⑤积极推行和平共处五项基本原则。

【解析】

【详解】

(1) 第 1 问：根据所学知识可知，18 世纪以法国为中心，形成了启蒙运动，启蒙运动宣传，天赋人权，自由平等，反对旧制度。第 2 问：根据所学知识可知，在第 1 次工业革命中，改良了蒸汽机，为人类提供了持续的稳定的动力来源，把人类带入到了蒸汽时代。因此 A 是启蒙运动；B 是瓦特。

(2) 第一问：根据“三大霸权的确立都以强大的经济和军事实力为物质基础，均以对外扩张为主导战略。美国霸权确立主要通过战争与结盟实现。”可知，美国霸权确立的特点是通过战争与结盟实现。第二问：根据

所学知识可知，第二次世界大战后美国称霸的欲望十分强烈的主要原因是二战后，美国成为世界上军事、经济实力最强大的国家，在世界各地建立了几百个军事基地，以及建立了以美元为中心的资本主义货币体系和以美国为中心的国际贸易体系。

(3) 根据所学知识可知，1949年美国、英国、法国等12个国家在华盛顿成立了北大西洋公约组织。

(4) 根据“目的是遏制苏联、援助尚未复苏的西欧各国”并结合所学知识可知，北约建立的第1个目的是遏制苏联，但是1991年苏联已经解体了。两极格局已经结束。第2个目的是为了“援助尚未复苏的西欧各国”，而在60年代，西欧各国走向了联合，目前西欧正在走向政治经济一体化，实力不断壮大。基于以上原因，两极格局已经结束，北约自然也就没有存在的必要。

(5) 当今世界的主题是和平与发展，但是霸权主义、强权政治对世界和平与发展造成了阻碍。首先，要应对霸权主义、强权政治，发展是硬道理，发展是解决一切问题的总钥匙。所以中国应该坚持以经济建设为中心，坚持改革开放。其次，面对霸权主义、强权政治，中国要坚持独立自主的和平外交政策，捍卫国家利益。同时要加大国际间的合作，特别是第三世界的合作，坚持和平与发展的国际主流思想，积极推行和平共处五项基本原则，壮大世界和平力量。第三，中国应该积极参与国际组织建设，推动更加公正的世界政治、经济秩序的建立。第四。各国应充分维护和履行国际法的相关义务。

试卷相关说明

本试卷的题干、答案和解析均由组卷网 (<http://zujian.xkw.com>) 专业教师团队编校出品。登录组卷网可对本试卷进行**单题组卷**、**细目表分析**、**布置作业**、**举一反三**等操作。

试卷地址：[在组卷网浏览本卷](#)

组卷网是学科网旗下的在线题库平台，覆盖小初高全学段全学科、超过 900 万精品解析试题。关注组卷网服务号，可使用移动教学助手功能（布置作业、线上考试、加入错题本、错题训练）。



学科网长期征集全国最新统考试卷、名校试卷、原创题，赢取丰厚稿酬，欢迎合作。
钱老师 QQ : 537008204 曹老师 QQ : 713000635