

历史

五、选择题（19~33题，每小题2分，共30分。下列各题的四个选项中只有一个符合题意，请你仔细判断后，在答题卡上用2B铅笔将对应题目答案的字母代号涂黑。）

1. 新疆尉犁克亚克库都克烽燧遗址入选2021年度中国十大考古新发现，其中出土戍边将士文书883件，文书中多次出现“开元四年”的表述。通过该遗址可了解的朝代是（ ）

- A. 唐朝 B. 宋朝 C. 明朝 D. 清朝

【答案】A

【解析】

【详解】根据题干“开元四年”结合所学知识，开元是唐玄宗的年号，故该遗址可能的朝代是唐朝，A项正确；宋朝、明朝、清朝与“开元四年”无关，排除BCD项。故选A项。

2. 图中的文字为契丹大字。它由几个音符叠成契丹语的一个音级，在形体上仿汉字合成一个方块字。这说明契丹族和中原民族之间存在（ ）

- A. 政治对立 B. 文化交流 C. 经济往来 D. 军事冲突

【答案】B

【解析】

【详解】根据题干材料“图中的文字为契丹大字。它由几个音符叠成契丹语的一个音级，在形体上仿汉字合成一个方块字”，结合所学知识可知，材料反映了契丹大字是在学习中原文化的基础上形成的，体现了契丹族和中原民族之间的文化交流，B项正确；文字相似不能反映政治对立、经济往来、军事冲突，排除ACD项。故选B项。

3. 据记载，桂林在“南宋绍兴年间，每年上交给政府的军装布多达一万七千八百多匹。”这一记载有助于我们了解宋代桂林的（ ）

- A. 纺织业 B. 造船业 C. 冶铁业 D. 制瓷业

【答案】A

【解析】

【详解】依据材料“桂林在‘南宋绍兴年间，每年上交给政府的军装布多达一万七千八百多匹’”可知，南宋时期桂林的纺织业十分兴盛，故这一记载有助于我们了解宋代桂林的纺织业，A项正确；材料中没有与造船业、冶铁业、制瓷业相关的信息，故B、C、D三项不符合题意，排除B、C、D三项。故选A项。

4. 在元朝，它把音乐、歌舞、动作、念白融合在一起，发展为一种综合性的艺术。这种艺术是（ ）

- A. 诗 B. 词 C. 杂剧 D. 小说

【答案】C

【解析】

【详解】根据所学知识，元曲由杂剧和散曲组成，元杂剧把音乐、歌舞、动作、念白融合在一起，发展为一种综合性的艺术，C项正确；诗、词、小说属于文学体裁，排除ABD项。故选C项。

5. 雍正五年，清政府在西藏设置驻藏大臣，以监督西藏地方的管理事务。这一举措体现了清政府对西藏地方的管辖方式为（ ）

- A. 册封首领 B. 签订和约 C. 平定叛乱 D. 设置机构

【答案】D

【解析】

【详解】根据材料“清政府在西藏设置驻藏大臣，以监督西藏地方的管理事务”可知，这一举措体现了清政府对西藏地方的管辖方式为设置机构，D项正确；驻藏大臣并未当地的原首领，排除A项；材料没有涉及签订和约，排除B项；平定叛乱属于武力征服，材料中没有体现，排除C项。故选D项。

6. 《彭德怀自述》中有这样一段记录，“它既要来侵略，我就要反侵略。不同美帝国主义见过高低，我们要建设社会主义是困难的。”与这段记录相关的历史事件是（ ）

- A. 土地改革 B. 抗美援朝 C. 万隆会议 D. 日内瓦会议

【答案】B

【解析】

【详解】根据题干“它既要来侵略，我就要反侵略。不同美帝国主义见过高低，我们要建设社会主义是困难的。”根据所学知识，可知记录的是抗美援朝战争。20世纪50年代初期，美国侵略者到达鸭绿江边，轰炸中国东北边境城市，严重威胁中国的安全，所以，中国做出了抗美援朝，保家卫国的决定，为经济建设赢得一个稳定的和平环境，B项正确；土地改革的完成，彻底摧毁了我国存在2000多年的封建土地制度，消灭了地主阶级，农民翻了身，得到了土地，成为土地的主人，巩固了人民政权，大大解放了农村生产力，农业生产获得循序恢复和发展，排除A项；万隆会议上，周恩来提出“求同存异”方针，促进了会议圆满成功，加强了中国同严重各国的团结与合作，排除C项；内瓦会议是讨论和平解决朝鲜问题和恢复印度支那和平问题的国际会议，排除D项。故选B项。

7. 1960年石油大会战开始。在内外交困的艰苦条件下，大庆油田广大干部职工发扬“爱国、创业、求实、奉献”精神，为实现中国石油自给做出重大贡献。大会战中涌现出的典型代表是（ ）

- A. 王进喜 B. 雷锋 C. 焦裕禄 D. 屠呦呦

【答案】A

【解析】

【详解】根据题干“1960年石油大会战开始……大庆油田广大干部职工……为实现中国石油自给做出重大

贡献”结合所学知识，可知涌现出的典型代表是王进喜。王进喜率领钻井队开钻了大庆油田的第一口油井，被誉为“铁人”，其代表的艰苦创业精神被誉为“铁人”精神，A项正确；雷锋是一名普通的解放军战士，全心全意为人民服务，因公殉职后，毛泽东题写了“向雷锋同志学习”的题词，排除B项；焦裕禄曾担任兰考县委书记，身患癌症，但仍坚持工作，直至生命的最后一息，被人民称颂为“党的好干部”，排除C项；10世纪70年代，药物学家屠呦呦领导科研团队，发现了能够有效抵御疟疾的青蒿素，排除D项。故选A项。

8. 在城市经济体制改革之前，著名国营企业北京天桥百货商场的总经理只有10元钱的审批权，就连修个厕所都要向上级申请拨款。这表明该商场需要通过改革（ ）

- A. 实行分配制度“大锅饭”
- B. 缩减企业的经营规模
- C. 扩大企业 经营自主权
- D. 获得更多的政府拨款

【答案】C

【解析】

【详解】依据材料内容可知，在城市经济体制改革之前，著名百货商场的总经理只有10元钱的审批权，就连修个厕所都要向上级申请拨款，这种企业没有经营自主权的做法最终导致企业效益下滑，因此该商场需要通过扩大企业的经营自主权来提高其经济效益，C项正确；依据所学可知，城市经济体制改革的中心环节是增强企业活力，实行经营承包责任制，将企业的经济利益、职工的收入与企业的经营成果相联系，克服长期以来在分配上吃“大锅饭”的弊病，A项表述错误，排除A项；材料没有体现改革需要缩减企业的经营规模，排除B项；材料主要反映的是企业的经营自主权问题，无法看出其改革需要获得更多的政府拨款，排除D项。故选C项。

9. 我国实施中华优秀传统文化传承发展工程，使收藏在博物馆里的文物、陈列在大地上的遗产、书写在古籍里的文字都活起来，发挥了弘扬中华优秀传统文化的重要作用。这说明我国（ ）

- A. 全面推进依法治国
- B. 生态文明建设成效显著
- C. 全面建成小康社会
- D. 思想文化建设取得进展

【答案】D

【解析】

【详解】根据题干“我国实施中华优秀传统文化传承发展工程，……发挥了弘扬中华优秀传统文化的重要作用。”结合所学知识，中华优秀传统文化是中华民族突出优势。在五千多年文明发展中孕育的中华优秀传统文化，积淀着中华民族最深沉的精神追求，代表着中华民族独特的精神标识，故题干说明了我国思想文化建设取得进展，D项正确；题干涉及的中华优秀传统文化传承发展工程与全面推进依法治国、生态文明建设成效显著、全面建成小康社会不符，排除ABC项。故选D项。

10. 2022年5月8日，香港特别行政区成功进行第六任行政长官选举 香港社会各界表示，新任行政长官

必将更好地贯彻落实“爱国者治港”原则。“爱国者治港”践行了（ ）

- A. 和平共处五项原则
B. “一国两制”方针
C. 民族区域自治制度
D. “求同存异”方针

【答案】 B

【解析】

【详解】根据题干“新任行政长官必将更好地贯彻落实‘爱国者治港’原则。”可知“爱国者治港”践行了“一国两制”方针。“一国两制”即在祖国统一的前提下，国家的主体坚持社会主义制度，同时在台湾、香港、澳门保持原有的资本主义制度和生活方式长期不变，B项正确；民族区域自治制度，是指在国家统一领导下，各少数民族聚居的地方实行区域自治，排除C项；和平共处五项原则、“求同存异”方针与我国外交有关，排除AD项。故选B项。

11. 胡夫金字塔使用了230多万块石灰石，每块平均重2300公斤。据估计，大约84000劳力每年工作80天，耗时20年才能完成这项工程。金字塔的修建反映了古埃及（ ）

- A. 环境的优越
B. 城市的兴盛
C. 王权的强大
D. 战争的频繁

【答案】 C

【解析】

【详解】金字塔是国王法老陵墓，金字塔是古埃及文明的象征。金字塔的修建体现了古埃及国王的无限权力。材料中修建金字塔动用人力和物力体现出古代埃及王权的强大，C项正确；材料不能说明环境的优越、城市的兴盛以及战争的频繁，排除A、B和D项。故选C项。

12. 美国的这部宪法在权力结构中突出“制约与平衡”原则，即行政、立法、司法这三项大权中的任何一项权力都要受到另外两项权力的制约。这部宪法是（ ）

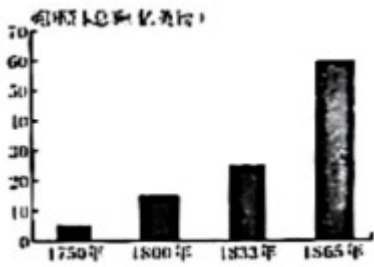
- A. 《权利法案》
B. 拿破仑法典
C. 《人权宣言》
D. 1787年宪法

【答案】 D

【解析】

【详解】根据题干“美国的这部宪法在权力结构中突出‘制约与平衡’原则，即行政、立法、司法这三项大权中的任何一项权力都要受到另外两项权力的制约”结合所学知识，可知这部宪法是1787年宪法。1787年美国宪法依据分权制衡原则设计了一个联邦制共和国，行政、立法、司法三权分立，总统、国会、最高法院及其相关机构各司其职，相互制衡，D项正确；《权利法案》是英国的法律文献，排除A项；拿破仑法典、《人权宣言》是法国的法律文献，排除BC项。故选D项。

13. 观察图，分析1750-1865年英国资本总额变化的主要原因是（ ）



- A. 工业革命的开展 B. 君主专制的建立 C. 文艺复兴的兴起 D. 宗教改革的推动

【答案】A

【解析】

【详解】18世纪60年代至19世纪中期，英国率先进行了工业革命，使英国获得了大量的财富。图中数据是英国资本总额，呈现快速增长趋势，可知工业革命促进了英国资本的增加，A项正确；1689年的英国议会颁布《权利法案》，奠定了英国君主立宪制的基础，排除B项；文艺复兴的兴起于14世纪的意大利，排除C项；16世纪到17世纪的宗教改革与英国资本总额变化关联不大，排除D项。故选A项。

14. 1942年1月，26个国家的代表在华盛顿签署宣言，保证使用自己的全部军事和经济资源，对德、日、意及其仆从国作战，相互合作，绝不单独与敌人停战议和，宣言的签署意味着（ ）

- A. 第一次世界大战的结束 B. 第二次世界大战全面爆发
C. 世界反法西斯联盟建立 D. 凡尔赛—华盛顿体系建立

【答案】C


【解析】

【详解】根据题干“1942年1月，26个国家的代表在美国首都华盛顿签署宣言”结合所学知识可知，材料反映的是《联合国宣言》的签署，1942年1月1日，苏美英等26个国家，在美国的华盛顿召开会议，在这次会议上签署了《联合国宣言》，《联合国宣言》的签署，标志着国际反法西斯联盟的建立，C项正确；1918年11月，德国投降，第一次世界大战以同盟国的失败而结束，排除A项；德国闪击波兰，英、法对德宣战，第二次世界大战全面爆发，排除B项；第一次世界大战结束后，在巴黎和会和华盛顿会议的基础上形成凡尔赛—华盛顿体系，排除D项。故选C项。

15. 下列图片反映出欧洲的新变化是（ ）



欧盟旗帜



100欧元纸币

- A. “华约”成立 B. 欧洲联合加强
C. “北约”成立 D. 冷战局面形成

【答案】B

【解析】

【详解】20世纪50年代，法国、联邦德国等六个国家组建欧洲煤钢共同体，之后又成立了欧洲经济共同体和欧洲原子能共同体；1967年，3个组织合并为欧洲共同体，简称“欧共体”；1993年，在欧共体基础上成立了欧洲联盟。1999年欧元诞生。图片体现出欧洲联合的逐渐加强，B项正确；华约是以苏联为首社会主义国家对抗北约成立的军事集团，排除A项；北约是以美国为首的军事同盟，排除C项；冷战局面形成是杜鲁门主义的出台，排除D项。故选B项。

六、非选择题（34~36题，每小题10分，共30分。请将答案填写在答题卡上。）

16. 阅读下列材料：

材料一：（《天工开物》）全书分为乃粒（粮食作物栽培）、粹精（谷物加工）、作咸（制盐）、甘嗜（制糖）、膏液（榨油）、乃服（养蚕与纺织）……佳兵（兵器）、蘖（酒母、酒）及珠玉18卷。该书图文并茂，附有120多幅工艺流程图，形象生动地记录了生产的过程。

——《义务教育教科书教师教学用书中国历史七年级下册》

材料二：（公私合营后，在中国共产党的领导下，上海制药工业有了很大的发展。绝大部分的西药原料，我们都能自己生产了。……现在各种磺胺类的原料药，不但上海自己能够制造，供应国内有余，还大量出口远销国外。

——陈铭珊：《回忆企业公私合营前后》

材料三：（中国航天科技集团有限公司第四研究院四十一所长征系列运载火箭固体大推力发动机研制团队）为了让中国的“飞天战车”拥有澎湃动力，他们主动挑战国内科研空白，使我国固体运载动力事业从无到有、由弱到强，实现我国大型固体动力研制达到世界领先水平。……“所有人的努力，只为了心中的中国梦，能融入头顶的灿烂星河。”

——罗旭：《我们的目标，是宇宙更深处》（《光明日报》2022年5月29日）

请回答：

- （1）根据材料一概括《天工开物》被誉为“中国17世纪的工艺百科全书”的原因。
- （2）根据材料二归纳上海制药工业发展的表现，并分析其实现发展的原因。
- （3）根据材料三指出这个团队的奋斗目标。综合上述材料，说说该团队弘扬了怎样的工匠精神？

【答案】（1）原因：整理生产技术和经验；内容翔实；记述科学；分类细致；注重实用；图文并茂。

（2）表现：药品的国产化程度提高；药品质量好；药品供应充足；药品原料实现出口。

原因：中国共产党的领导；公私合营的完成；对资本主义工商业的社会主义改造；社会主义基本制度的确立；社会主义公有制的确立；一五计划的实施。

（3）目标：发展中国运载火箭动力技术；填补国内技术空白；实现中国梦；推动中国航空航天事业的发展。

展。

精神：善于总结前人经验；关注现实需求；胸怀祖国；主动担当；敢为人先；精益求精；勇攀高峰。

【解析】

【小问1详解】

根据材料一“（《天工开物》）全书分为乃粒（粮食作物栽培）、粹精（谷物加工）、……佳兵（兵器）、蘖（酒母、酒）及珠玉 18 卷。……附有 120 多幅工艺流程图，”可得出《天工开物》被誉为“中国 17 世纪的工艺百科全书”的原因：整理生产技术和经验；内容翔实；记述科学；分类细致；注重实用；根据材料一“该书图文并茂，……”可得出原因：图文并茂。

【小问2详解】

根据材料二“（公私合营后……绝大部分的西药原料，我们都能自己生产了……”可得出上海制药厂工业发展的表现：药品的国产化程度提高；药品质量好；根据材料二“。……现在各种磺胺类的原料药，不但上海自己能够制造，供应国内有余，还大量出口远销国外。”药品供应充足；药品原料实现出口。根据所学知识，上海制药工业发展的原因：中国共产党的领导；公私合营的完成；对资本主义工商业的社会主义改造；社会主义基本制度的确立；社会主义公有制的确立；一五计划的实施。

【小问3详解】

根据材料三“了让中国的“飞天战车”拥有澎湃动力，他们主动挑战国内科研空白……”可得出这个团队的奋斗目标是：发展中国运载火箭动力技术；填补国内技术空白；根据材料三“所有人的努力，只为了心中的中国梦，能融入头顶的灿烂星河。”可得出这个团队的奋斗目标：实现中国梦；推动中国航空航天事业的发展。本问是开放性问题，言之有理即可。如：善于总结前人经验；关注现实需求；胸怀祖国；主动担当；敢为人先；精益求精；勇攀高峰。

17. 阅读下列材料：

材料一：9 世纪前后，欧洲耕地面积不断扩大、耕作技术也不断提高，突出表现在三圃制的广泛推行，导致农业剩余产品不断增加。与此同时，在封建主的领地内。……成批的手艺人出走，到适合他们生产和生活的地方居住。他们把生产的手工业品卖给农村，买回粮食和原材料。社会分工逐渐加强并得以深化，城市在此基础上也进一步发展。

——齐涛主编：《世界通史教程·古代卷》

材料二：新的农作物也传到美洲，包括小麦、燕麦和甘蔗……美洲向非洲和欧亚大陆传输出本地农作物，如玉米、马铃薯、烟草、西红柿的甘薯以及南瓜，全世界的农业社会可以获得更多样化的农作物，它们可以在最适合的区域内种植。由此带来的一个影响，就是全球农业革命，这场革命是接下来两个世纪人口增长的基础。

—— [美] 大卫·克里斯蒂安 辛西娅·斯托克斯·布朗 克雷格·本杰明：《大历史》

材料三：联合国粮食峰会特使卡里巴塔说：“中国很好地管理好了自己的粮食库存，不仅保障了中国人民的粮食供给，也为世界人民的粮食安全作出了贡献。”……在马达加斯加，中国提供的杂交水稻技术让很多当地人“再也没有饿过肚子”……在“一带一路”倡议沿线国家，中国推动农业对外投资合作，把当地的生产能力，特别是发展中国家的生产能力提高了很大一步。

——韩冰：《保障世界粮食安全的中国贡献》（《新华每日电讯》2021年10月17日）

请回答：

- (1) 根据材料一概括影响农业产量的因素。
- (2) 指出与材料二中农作物交流相关的历史事件。根据材料二归纳农作物交流的影响。
- (3) 根据材料三归纳中国为粮食安全做出的贡献。综合上述材料，请你为提高世界粮食产量出谋划策。

【答案】 (1) 因素：耕作技术的进步；耕地面积的扩大；手工业的发展；商业的发展；社会分工的深化；城市的发展。

(2) 事件：新航路的开辟；哥伦布发现美洲；殖民掠夺。

影响：推动全球农业革命；扩大农作物的种植区域；提高农作物产量；促进人口增长。

(3) 贡献：保障中国人民粮食供给；帮助发展中国家发展农业；传播先进农业技术；推动农业对外投资。

出谋划策：重视粮食生产；发展农业科技；注重保护耕地；加强国际合作。

【解析】

【小问1详解】

根据材料一“9世纪前后，欧洲耕地面积不断扩大、耕作技术也不断提高，……”可得出影响农业产量的因素：耕作技术的进步；耕地面积的扩大；根据材料一“……成批的手艺人出走，到适合他们生产和生活的地方居住。他们把生产的手工业品卖给农村，买回粮食和原材料。……”可得出影响农业产量的因素：手工业的发展；商业的发展；根据材料一“社会分工逐渐加强并得以深化，城市在此基础上也进一步发展。”可得出影响农业产量的因素：社会分工的深化；城市的发展。

小问2详解】

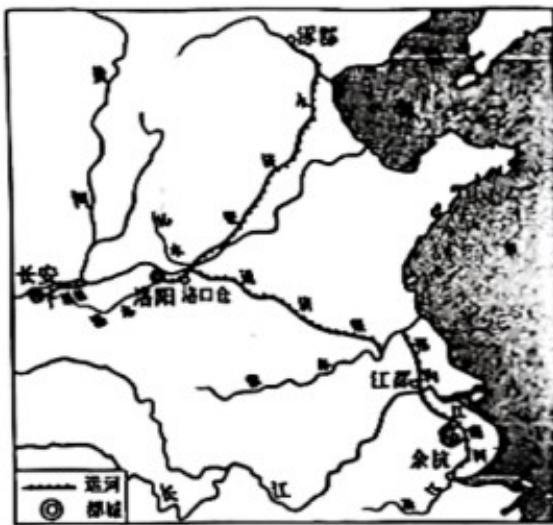
根据材料二“新的农作物也传到美洲，……美洲向非洲和欧亚大陆传输出本地农作物，……全世界的农业社会可以获得更多样化的农作物，它们可以在最适合的区域内种植。由此带来的一个影响，就是全球农业革命，……”结合所学知识，与材料二中农作物交流相关的历史事件有：新航路的开辟；哥伦布发现美洲；殖民掠夺。根据材料二“全世界的农业社会可以获得更多样化的农作物，它们可以在最适合的区域内种植”可得出影响：扩大农作物的种植区域；提高农作物产量；根据材料二“由此带来的一个影响，就是全球农业革命，……”可得出农作物交流的影响：推动全球农业革命；扩大农作物的种植区域；根据材料二“这场革命是接下来两个世纪人口增长的基础。”可得出影响：促进人口增长。

【小问3详解】

根据材料三“不仅保障了中国人民的粮食供给，也为世界人民的粮食安全作出了贡献”可得出中国为粮食安全作出的贡献：保障中国人民粮食供给；根据材料三“…在马达加斯加，中国提供的杂交水稻技术让很多当地人‘再也没有饿过肚子’……”可得出贡献：帮助发展中国家发展农业；传播先进农业技术；根据材料二“‘一带一路’倡议沿线国家，中国推动农业对外投资合作……”可得出贡献：推动农业对外投资。本问是开放性问题，言之有理即可。如：重视粮食生产；发展农业科技；注重保护耕地；加强国际合作。

18. 阅读下列材料：

材料一：隋朝大运河示意图（见下图）



长安……在今陕西西安 余杭……在今浙江杭州
洛阳……在今河南洛阳 涿郡……在今北京
江都……在今江苏扬州 洛口仓……在今河南巩义

材料二：斯大林等苏联领导人认为，苏联经济远比西方资本主义国家的经济落后，……两个五年计划期间，苏联建成 6000 多个大企业，建成了拖拉机、汽车、飞机制造以及化工、电力等部门，修建了几千千米铁路，兴建了钢铁煤炭基地和石油基地。

——《义务教育教科书世界历史九年级下册》

材料三：京津冀协同发展取得明显进展，长江经济带生态优先、绿色发展格局不断巩固。……加大对革命老区、民族地区、边疆地区、贫困地区改革发展支持力度。新增高速铁路运营里程 4100 公里，新建改建高速公路 6000 多公里、农村公路 30 多万公里。城乡区域发展协调性持续增强。

——李克强：《政府工作报告》（2019 年 3 月 5 日）

请回答：

- (1) 从材料一提取两个信息，并根据提取的信息分析隋朝大运河的作用。（要求：史论结合，逻辑严谨，表述清晰。）
- (2) 根据材料二指出苏联两个五年计划制定的背景及取得的成就。
- (3) 根据材料三概括我国为推动区域发展采取的措施。
- (4) 综合上述材料，你认为国家在制定总体发展规划时应该关注哪些方面？

【答案】 (1) 提取两个信息进行分析，作用与信息相对应。

示例：以洛阳为中心，临近长安，有利于巩固中央政权。

余杭位于富庶的江南地区，有利于将该地区的物资输送到北方。

(2) 背景：苏联经济落后；急需赶上西方资本主义国家。

成就：工业建设取得重大成就。

(3) 措施：推进重大区域发展战略；扶持欠发达地区的发展；加快交通设施建设。

(4) 关注：注重协调发展；优化城乡区域发展格局；根据国情制定发展策略；推进重大工程建设；完善交通设施建设；坚持可持续发展。

【解析】

【小问1详解】

本题只要选择两个信息，只要信息与作用相对应，史实正确，言之有理即可。如：根据材料一“隋朝大运河示意图”可提出信息：以洛阳为中心，邻近长安。隋朝大运河以洛阳为中心，邻近长安，有利于巩固中央政权。根据材料一“隋朝大运河示意图”可提出信息：余杭位于富庶江南地区。隋朝大运河最南端余杭位于富庶的江南地区，有利于将该地区的物资输送到北方。

【小问2详解】

根据材料二“苏联经济远比西方资本主义国家的经济落后……”可得出苏联两个五年计划制定的背景：苏联经济落后；急需赶上西方资本主义国家。根据材料二“…两个五年计划期间，苏联建成6000多个大企业，建成了拖拉机、汽车、飞机制造以及化工、电力等部门，修建了几千千米铁路，兴建了钢铁煤炭基地和石油基地。”可得出苏联两个五年计划取得的成就：工业建设取得重大成就。

【小问3详解】

根据材料三“京津冀协同发展取得明显进展，长江经济带生态优先、绿色发展格局不断巩固”可得出我国为推动区域发展采取的措施：推进重大区域发展战略；根据材料三“……加大对革命老区、民族地区、边疆地区、贫困地区改革发展支持力度”可得出采取的措施：扶持欠发达地区的发展；根据材料三“新增高速铁路运营里程4100公里，新建改建高速公路6000多公里、农村公路30多万公里……”可得出采取的措施：加快交通设施建设。

【小问4详解】

本问是开放性题目，言之有理即可。如：注重协调发展；优化城乡区域发展格局；根据国情制定发展策略；推进重大工程建设；完善交通设施建设；坚持可持续发展。

