

2021 湖北襄阳历史试题

一、选择题

1. 震图文本框的内容反映的主题是

墨子主张“兼爱”“非攻”，反对攻伐兼并，残害生命；
孟子主张实行“仁政”，反对一切非正义的战争；
庄子认为治国要顺应自然和民心；
韩非子主张以法治国，树立君主的权威，建立中央集权专制统治。

- A. 百家争鸣 B. 诸侯争霸 C. 商鞅变法 D. 远古传说

【答案】A

【解析】

【详解】根据材料以及所学知识可知不同学派有不同主张，反映了百家争鸣的历史史实，故选择 A；材料中无法体现诸侯争霸，故排除 B；材料中没有提及商鞅变法的部分，故排除 C；材料中的事件为史实，而不是传说，故排除 D。

2. 造纸术的发明是中国对世界文明的伟大贡献之一。人们能用到便宜且好用的纸要感谢

- A. 司马迁 B. 蔡伦 C. 毕昇 D. 张仲景

【答案】B

【解析】

【详解】根据所学可知，东汉蔡伦改进造纸术，降低了纸 成本，易于纸的推广，因此本题选 B；司马迁写了《史记》，是历史学成就，A 排除；毕昇发明活字印刷术，排除 C；张仲景写了《伤寒杂病论》，是医学成就，排除 D。

3. 襄阳诗人皮日休有诗曰：“尽道隋亡为此河，至今千里赖通波。”诗人称赞的古代工程是

- A. 长城 B. 都江堰 C. 大运河 D. 紫禁城

【答案】C

【解析】

【详解】根据材料“隋亡”“千里赖通波”可知诗人称赞的古代工程是大运河，故选择 C；长城只有秦代和明代修建，故排除 A；都江堰修建于战国时期，故排除 B；紫禁城修建于明代，故排除 D。

4. 下列不符合“中国古代对外友好交往”这一主题的是

- A. 鉴真东渡 B. 玄奘西游 C. 郑和下西洋 D. 戚继光抗倭

【答案】D

【解析】

【详解】根据所学知识可知，戚继光抗倭是为了反抗倭寇的侵略，维护国家领土和主权完整，不属于对外友好往来，故选择 D；鉴真东渡和玄奘西游都是唐代对外友好交往的史实，与题意不符，故排除 AB；郑和下西洋是明代对外友好交往的史实，与题意不符，故排除 C。

5. 襄阳乃兵家重地，曾是抵御日寇的一方热土，在枣宜会战中为国捐躯的民族英雄是

- A. 张自忠 B. 左权 C. 赵登禹 D. 杨靖宇

【答案】 A

【解析】

【详解】根据材料“枣宜会战中为国捐躯”可知在枣宜会战中为国捐躯的民族英雄是张自忠，故选择 A；1942 年 5 月，日军对太行抗日根据地发动大“扫荡”，左权指挥部队掩护中共中央北方局和八路军总部等机关突围转移，不幸牺牲，故排除 B；1937 年，七七事变后，为抵抗日军侵略北平而牺牲，故排除 C；1940 年 2 月 23 日，杨靖宇在冰天雪地、弹尽粮绝的情况下，孤身一人与大量日寇周旋，战斗几昼夜后，在濛江县（今吉林省靖宇县）壮烈牺牲，故排除 D。

6. 下列会议与遵义会议具有相似历史地位的是

- A. 中共一大 B. 中共二大 C. 中共七大 D. 十一届三中全会

【答案】 D

【解析】

【详解】遵义会议是中国共产党历史上一次生死攸关的会议，中共十一届三中全会的召开，确立了实事求是，解放思想路线，作出了改革开放和社会主义现代化建设的重大战略决策，确立了以邓小平为核心的党中央第二代领导集体，这次会议是中国共产党历史上的一个伟大转折，由此可知，遵义会议和十一届三中全会都具有转折性，故选 D；1921 年，中共一大召开标志着党的诞生，故排除 A；1922 年 7 月，中共二大召开，大会重申了党的最终奋斗目标是建设共产主义，制定了党的最低纲领，故排除 B；1945 年，中共七大的召开，大会作出了毛泽东思想，作为党的基本指导思想，为中国的新民主主义革命开辟了新的道路，故排除 C。

7. “感动中国人物”颁奖词写道：“他是一位真正 耕耘者。当他还是一个乡村教师的时候，已经具有颠覆世界权威的胆识；当他名满天下的时候，却仍然只是专注于田畴……他毕生的梦想，就是让所有人远离饥饿”。材料中赞誉的“他”是

- A. 王进喜 B. 邓稼先 C. 袁隆平 D. 钱学森

【答案】 C

【解析】

【详解】根据题干信息“专注于田畴”、“让所有人远离饥饿”可知，材料反映的是一位在农业方面取得巨大成

就的科学家；结合所学知识可知，袁隆平是农业科学家，他于 1973 年在世界上首次育成籼型杂交水稻，提高了水稻产量，让所有人远离饥饿。选项 C 符合题意；“铁人”王进喜，A 不符合题意；“两弹元勋”邓稼先，B 不符合题意；中国导弹之父钱学森，D 不符合题意；故选 C。

8. 近代史上，哪一部法律文献成为多国民法的参照蓝本

- A. 《权利法案》 B. 《独立宣言》 C. 《人权宣言》 D. 《拿破仑法典》

【答案】D

【解析】

【详解】根据所学知识可知《拿破仑法典》，又称《法国民法典》或《民法典》，这部法典是资本主义国家最早的一部民法法典。破除了封建的立法原则，成为欧美各国资产阶级的立法规范，推动了资本主义的发展，故选择 D；根据所学知识可知英国的《权利法案》，美国的《独立宣言》，法国的《人权宣言》都是宪法性质的法律，不属于民法，不符合题意，故排除 ABC。

9. 当今世界，影响最大的国际组织是

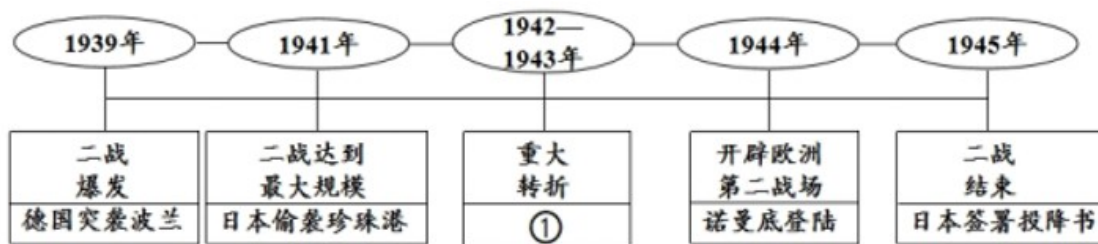
- A. 联合国 B. 欧盟 C. 北约 D. 世界贸易组织

【答案】A

【解析】

【详解】1945 年 2 月，美国、英国、苏联在雅尔塔会议上决定成立联合国，联合国被称为人类构建世界和平的成果，影响最大的国际组织，故选 A；欧盟是由欧洲国家组成的组织，是一个区域性组织，故排除 B；北约是欧洲和北美国家为实现防卫合作而建立的国际组织，故排除 C；世界贸易组织是处理世界贸易问题的重要国际组织，负责制定和监督执行多边贸易规则，组织多边贸易谈判，解决各成员间的贸易争端，故排除 D。

10. 我们可以通过画示意图的方法记忆第二次世界大战的进程，图中①处该填入的内容是



- A. 凡尔登战役 B. 莫斯科保卫战 C. 武汉会战 D. 斯大林格勒战役

【答案】D

【解析】

【详解】根据所学可知，1942-1945 年第二次世界大战的重大转折点是斯大林格勒战役，因此本题选 D；凡尔登战役是第一次世界大战的重要战役，A 排除；莫斯科保卫战是 1941 年爆发的，B 排除；武汉

会战是 1938 年爆发的，C 排除。

二、非选择题。

11. 【疆域管理国家统一】

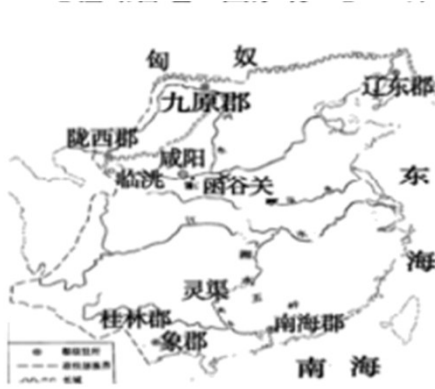


图 1

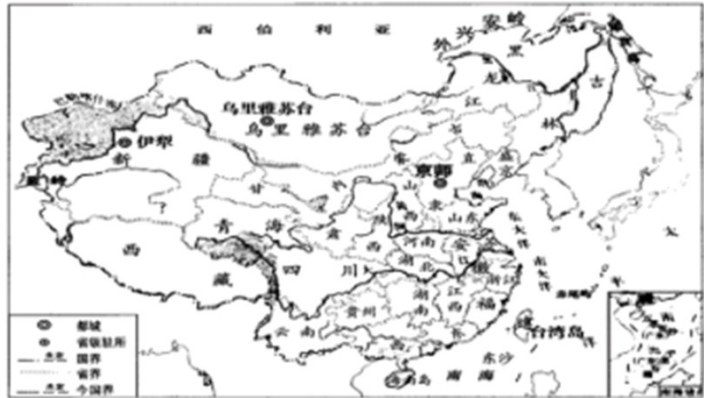


图 2 清朝疆域图（1820 年）

- (1) 图 1 是哪个朝代的形势图？指出图 1 中的地方制度。
- (2) 图 2 中内地有 18 个行省，该行省制度源于哪个朝代？
- (3) 图 2 中东北、北部和西部边疆有 5 个将军辖区和 2 个办事大臣辖区及内蒙古诸盟旗。根据图 2 并结合所学知识，指出其中的 1 个将军辖区和 1 个办事大臣辖区：根据图 2 指出台湾隶属于哪个省？

【答案】 (1) 秦朝；秦代是郡县制，清代是行省制度。

(2) 元代。

(3) 伊犁将军；驻藏大臣；福建省。

【解析】

【详解】 (1) 根据图一中的“咸阳”可知图 1 是秦代的形势图；根据所学知识以及材料“清朝疆域图”可知图 1 中的地方制度秦代是郡县制，清朝是行省制度。

(2) 根据所学知识可知行省制度起源于元代。

(3) 根据所学知识可知，清代为管辖新疆设立伊犁将军，设置驻藏大臣和达赖和班禅共同管理西藏。清王朝在收复台湾后，1684 年设置台湾府，隶属于福建省管辖。

12. 【屈辱历程艰难探索】

材料 中国近代史大事年表（部分）（表 1）

时间	序号	事件
1839 年	①	林则徐虎门销烟
1840--1842 年	②	鸦片战争
1851--1864 年	③	太平天国运动

1856-1860年	④	第二次鸦片战争
19世纪60-90年代	⑤	洋务运动
1894--1895年	⑥	甲午中日战争
1898年	⑦	戊戌变法
1900年	⑧	义和团运动高潮
	⑨	八国联军侵华
1901年	⑩	《辛丑条约》签订

(1) 请你把表1中事件按表2主题进行分类(填序号,每空填1个序号)

分类表(表2)

主题	事件(序号)
列强侵略	②、④、_____、_____、_____
中国人民的反抗	①、_____、_____
探索近代化	_____、_____

(2) 当洋务运动在中国兴起时,俄国和日本也开展了近代化的探索活动。请写出这一时期两国探索近代化的事件。

(3) 结合所学知识,从④和⑤、⑥和⑦、⑧和⑨三组组合中,任选一组说明其中两个事件之间的联系。

(4) 表1反映了近代中国社会怎样的发展趋势?

【答案】 (1) ⑥⑨⑩; ③⑧; ⑤⑦。

(2) 农奴制改革和明治维新

(3) 第二次鸦片战争的失败,使清政府中的有识之士,开展了洋务运动;甲午中日战争中国战败,签订了《马关条约》,民族危机加深促使康有为,梁启超发动了戊戌变法;义和团运动的爆发,是八国联军侵华的直接原因,任选其一即可。

(4) 中国逐步沦为半殖民地半封建社会,人民不断探求救国救民的新出路的近代化历程。

【解析】

【详解】 (1) 根据所学可知,属于列强侵略的有:鸦片战争,第二次鸦片战争,甲午中日战争,八国联军侵华和辛丑条约的签订,因此填⑥⑨⑩;属于中国人民反抗的有:林则徐虎门销烟,太平天国运动,义和团运动,因此填③⑧;属于探索近代化的有:洋务运动和戊戌变法,因此填⑤⑦。

(2) 洋务运动的时间是 19 世纪 60 年代到 90 年代，此时俄国掀起了 1861 年的农奴制改革，日本则是明治维新。

(3) 根据所学可知，④和⑤的关系是：1856 年，第二次鸦片战争的失败，使清政府中的有识之士，开展了洋务运动；⑥和⑦的关系是：1895 年甲午中日战争中国战败，签订了《马关条约》，民族危机加深促使康有为，梁启超发动了戊戌变法；⑧和⑨的关系是：1898 年义和团运动的爆发，是八国联军侵华的直接原因，任选其一即可。

(4) 根据所学可知，近代中国社会的发展趋势是：中国逐步沦为半殖民地半封建社会，人民不断探求救国救民的新出路的近代化历程。

13. 【文明多样世界共存】

材料一 1688 年“光荣革命”吸取了 40 年代革命和 1660 年“复辟解决”两方面的教训，既摒弃了无限制的斗争，又避免了无原则的调和，从根本上改变了英国政治制度的发展方向，同时又没有隔断历史、超越传统。

——程汉大《英国政治制度史》

材料二“美国宪法之父”麦迪逊曾说，美国建国之初，华盛顿们并没有照抄当时英国的民主模式，而是通过 1787 年费城制宪奠定了美国新体制：要设计一个由人来统治人的政府，困难之一就在于要强制政府控制自己。

——王斯德《世界通史》

材料三中国特色社会主义政治发展道路，是近代以来中国人民长期奋斗的必然结果。……世界上没有完全相同的政治制度模式，政治制度不能脱离特定社会政治条件和历史文化传统来抽象评判，不能定于一尊，不能生搬硬套外国政治制度模式。

——摘自中国共产党的十九大报告

- (1) 根据材料一并结合所学知识，写出“光荣革命”后改变了英国发展方向的政治制度。
- (2) 结合所学知识，写出美国 1787 年制宪会议确立的“新体制”。从材料二中找出能体现美国“新体制”原则的句子。（请用波浪线在答题卡上划出来）
- (3) 中国近代史上效法英、美的探索活动有哪些？请写出一例。根据材料一和材料三，指出英国近代政治制度确立的原因。

【答案】 (1) 君主立宪制

(2) 总统制共和制（联邦共和制）；“通过 1787 年费城制宪奠定了美国新体制”。

(3) 戊戌变法、辛亥革命（任一例即可）；原因：根本原因是资本主义发展和资产阶级的兴起；其次是英国特殊国情使资产阶级、新贵族和君主之间一种长期相互利用的关系决定的。

【解析】

【分析】

【详解】（1）依据材料一并结合所学知识可知，1688年，英国资产阶级发动“光荣革命”，标志着英国资产阶级革命结束。1689年，英国议会通过了《权利法案》，对国王的权力进行了制约，以《权利法案》为基础，英国确立了议会在国家政治生活中的最高地位，逐渐形成了君主立宪制。

（2）依据所学可知，美国1787年制宪会议确立的“新体制”是总统制共和制（联邦共和制）；1787年，美国各州派出代表聚集费城，由华盛顿主持召开了制宪会议，最终制定出1787年美国宪法。宪法依据分权制衡原则设计了一个联邦制共和国，即新政体是总统制共和制：行政、立法、司法三权分立，总统、国会与最高法院及其相关机构各司其职，相互制衡。由此可知，材料二中能体现美国“新体制”原则的句子是“通过1787年费城制宪奠定了美国新体制”。

（3）依据所学可知，中国近代史上效法英、美的探索活动有戊戌变法和辛亥革命；以康有为、梁启超为首的资产阶级维新派主张学习西方的政治制度，如效法英国、日本建立君主立宪制。以孙中山为首的资产阶级革命派主张推翻清王朝，效法美国、法国建立资产阶级民主共和国。据材料一“既摒弃了无限制的斗争，又避免了无原则的调和，从根本上改变了英国政治制度的发展方向，同时又没有隔断历史、超越传统”及材料三“政治制度不能脱离特定社会政治条件和历史文化传统来抽象评判”分析可知，英国近代政治制度确立的原因：根本原因是资本主义发展和资产阶级的兴起；其次是英国特殊国情使资产阶级、新贵族和君主之间一种长期相互利用的关系决定的。

14. 【科技创新社会进步】

材料今天金属和塑料补充了石材和木头：铁路、汽车、飞机取代了牛、马和驴：蒸汽机、柴油机和原子动力代替风力和人力驱动船只：大量合成纤维织物与传统的棉布、毛纺织品和亚麻织物竞争；电取代了蜡烛，并成为只需按一下开关便可做许多事的动力之源。这一切变化都是工业革命带给人类的福音。

（1）指出材料中两次工业革命的标志性发明，各举一例。

第一次：

第二次：

（2）以下结论最符合材料主题的是（ ）（填序号）。

- ① 工业革命促进了生产力的发展
- ② 工业革命推动了城市化进程
- ③ 工业革命改善了人们的生活
- ④ 工业革命密切了世界各地之间的联系

（3）材料体现了作者对工业革命的赞赏。如果让你完善对工业革命的评价，你会补充什么内容？请写出你要补充的内容。（补充的内容要有史实有结论）

【答案】（1）第一次：蒸汽机，火车，汽船；第二次发电机，电动机，内燃机，汽车，飞机。

(2) ①

(3) 内容：工业革命的消极影响；造成了新的社会问题和环境问题，如贫富分化和环境污染。

【解析】

【分析】

【详解】 (1) 根据所学知识可知，第一次工业革命成果：机械师凯伊发明了“飞梭”，大大提高了织布的速度，纺纱顿时供不应求。织工哈格里夫斯发明了“珍妮纺织机”的出现，首先在棉纺织业引发了发明机器，进行技术革新的连锁反应，揭开了工业革命的序幕。瓦特制成的改良型蒸汽机的投入使用，提供了更加便利的动力，得到迅速推广，大大推动了机器的普及和发展。人类社会由此进入了“蒸汽时代”。英国人史蒂芬孙发明了“蒸汽机车”。第二次工业革命成果：19世纪六七十年代开始，出现了一系列的重大发明。1866年，德国人西门子制成了发电机；到70年代，实际可用的发电机问世。随后，电灯、电车、电影放映机相继问世，人类进入了“电气时代”。19世纪七八十年代，以煤气和汽油为燃料的内燃机相继诞生，90年代柴油机创制成功。内燃机的发明解决了交通工具的发动机问题。80年代德国人卡尔·弗里特立奇·本茨等人成功地制造出由内燃机驱动的汽车，内燃汽车、远洋轮船、飞机等也得到了迅速发展。

(2) 根据材料“蒸汽机、柴油机和原子动力代替风力和人力驱动船只”可知工业革命促进了新的动力的出现，极大地提高了生产效率，提高了生产力的水平，同时也改变了人类的生产和生活方式。

(3) 根据材料可知，材料只反映了工业革命的积极影响，所以需要补充的是工业革命的消极影响，即造成了新的社会问题和环境问题。工业化和城市化产生了新的社会问题。比如贫富分化,城市人口膨胀,住房拥挤,环境污染等弊端。对自然资源无节制的开发利用不仅是寅吃卯粮甚至已经到了竭泽而渔的地步，经济的发展带来了全球性的环境污染与生态危机。

15. 【国家实力国际关系】

材料一

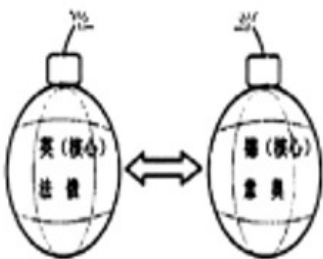


图3 对立



图4 巴黎和会三巨头



图5 雅尔塔会议三巨头

材料二 二战期间，中国与雅尔塔会议三巨头国是盟友。但是，雅尔塔会议期间，美国背着中国政府私自答应了苏联租用中国旅顺港作为军事基地的要求，使中国主权受到严重侵犯。

——摘编自部编《世界历史》九年级下册。

(1) 图 3 中“对立”的后果是什么？

(2) 图 4 和图 5 是两次会议的新闻图片，是了解两次会议及之后国际关系的第一手史料。通过这两幅图可以帮助我们了解哪两个国际关系格局？

(3) 如果你是当时中国政府外交部发言人，请根据材料二并结合中国抗战的意义谴责雅尔塔会议上美苏两国的行径。

【答案】 (1) 第一次世界大战爆发

(2) 凡尔赛体系；雅尔塔体系

(3) 依据材料二结合所学知识可知，在第二次世界大战期间，中美苏都是属于反法西斯联盟，中国的抗日战争牵制了日军的大部分兵力，中国战场作为反法西斯战争的东方主战场，为世界反法西斯战争做出了巨大贡献。同时，依据材料二“雅尔塔会议期间，美国背着中国政府私自答应了苏联租用中国旅顺港作为军事基地的要求，使中国主权受到严重侵犯”，可见雅尔塔会议是大国实力对比和互相妥协的产物，带有明显的强权政治色彩，严重侵犯了中国的主权。

【解析】

【详解】 (1) 依据图片，图片题目为“对立”，一战爆发前分别形成了以德国为核心的三国同盟和以英国为核心的英法俄三国协约，这两大军事集团扩军备战，战争一触即发。“对立”的后果是第一次世界大战爆发。

(2) 依据图片可知，图 4 为一战后巴黎和会三巨头，指的是一战后巴黎和会期间英法美操纵会议。图 5 为二战期间召开的雅尔塔会议，因此图片涉及的这两次重大国际会议分别是巴黎和会和雅尔塔会议。一战后召开的巴黎和会构建的国际关系格局是凡尔赛体系；二战期间召开的雅尔塔会议构建的国际关系格局是雅尔塔体系。

(3) 依据材料二“二战期间，中国与雅尔塔会议三巨头国是盟友”，可知中美苏是反法西斯盟友关系。结合所学知识可知，在第二次世界大战期间，中国的抗日战争牵制了日军的大部分兵力，中国战场作为反法西斯战争的东方主战场，为世界反法西斯战争做出了巨大贡献。同时，依据材料二“雅尔塔会议期间，美国背着中国政府私自答应了苏联租用中国旅顺港作为军事基地的要求，使中国主权受到严重侵犯”，可见雅尔塔会议是大国实力对比和互相妥协的产物，带有明显的强权政治色彩，严重侵犯了中国的主权。

16. 【百年奋斗百年辉煌】

为庆祝中国共产党百年华诞，全国各行各业开展了多种形式的党史学习活动。

方式--【宣讲党史】襄阳某党史宣讲团在社区要向村民宣讲党在不同时期的土地政策。

下列是宣讲员收集整理的土地政策，请你帮他完成梳理：

(1) 连线：把下列党在不同时期的土地政策与对应的时期连接起来

抗日战争时期
解放战争时期
新中国初期
改革开放后

废除地主阶级封建剥削的土地所有制，实行农民土地所有制
家庭联产承包责任制
实行耕者有其田的土地政策
地主减租减息，农民交租交息

方式二【研学党史】历史老师为了让同学们了解党在1927年的革命活动，感受党在这一年的艰辛探索，要组织学生开展一次研学活动（通过实地考察或亲身实践来获得知识）。

(2) 老师向同学们征集实地考察地点，请你推荐一个地点并指出与之相关的历史事件。

方式三【剧说党史】为向建党100周年献礼，某影视剧制作中心制作了重大革命历史题材剧《觉醒年代》，反映从1915年陈独秀创办《青年杂志》（后改为《新青年》）到1921年创建中国共产党的历史过程。

(3) 请你结合相关史实，说明把该剧剧名定为“觉醒年代”的理由。

【答案】 (1) 抗日战争：地主减租减息农民交租交息；新中国：废除地主阶级的封建土地所有制，实行农民土地所有制；改革开放：家庭联产承包责任制。

(2) 示例一：武汉，八七会议；示例二：南昌：南昌起义；示例三：井冈山，创建井冈山革命根据地。

(3) 《新青年》作为新文化运动的阵地之一，极大地促进了思想解放。五四运动极大地促进了马克思主义的传播，为中国共产党的诞生奠定了思想基础。

【解析】

【详解】 (1) 抗日战争时期，为了争取建立抗日民族统一战线，实行地主减租减息农民交租交息土地政策，促进了抗日战争的胜利；新中国成立时，为了巩固政权，为工业化奠定基础，实行了土地改革，即废除地主阶级的封建土地所有制，实行农民土地所有制。改革开放后，实行了家庭联产承包责任制，极大地解放了农民的生产积极性，促进了农业的发展。

(2) 根据所学知识可知，为了发展革命，在1927年，中国共产党的主要活动地点有三个，一位武汉，在武汉进行八七会议，确立了武装反抗国民党反动统治的方针；二为南昌，发动了南昌起义，打响了武装反抗国民党反动统治的第一枪，开始创建人民军队；井冈山：在井冈山创建井冈山革命根据地，中国革命开始了新征程。

(3) 根据所学知识可知新文化运动是中国近代史上一次空前的思想解放运动。它高举民主与科学的旗帜，对封建专制制度和封建思想文化进行了一次猛烈的扫荡，促进了中国人民特别是知识青年的觉醒，为马克思主义在中国的传播创造了条件，也为中国共产党的诞生做了思想准备。根据所学知识可知五四运动是一场伟大的群众爱国运动。它的斗争对象直指帝国主义和北洋军阀政府，表现出的反帝反封建的彻底性是史五四运动上前所未有的。它充分发动了群众，工、商、学联合起来，农民也有部分参加了，实际上揭开了全民族进行彻底的反帝反封建斗争的序幕。五四运动是一场深刻的思想解放运动。它使中国人民进一步认

识到帝国主义侵略的本质和军阀统治的黑暗，同时进一步提高了中国人民反帝反封建的决心和觉悟；促进了全国人民对改造中国的问题的反思和探索，也促进了新思潮的蓬勃兴起和马克思主义的传播。五四运动既揭开了新民主主义革命的序幕，又开创了我国新民主主义革命的开端。从此，无产阶级登上了政治舞台，民众的力量得到了广泛的发动等，这些不仅使五四运动本身具有新民主主义革命的基本内涵，还直接为中国共产党的成立创造了阶级上、思想上和干部上的条件。

