

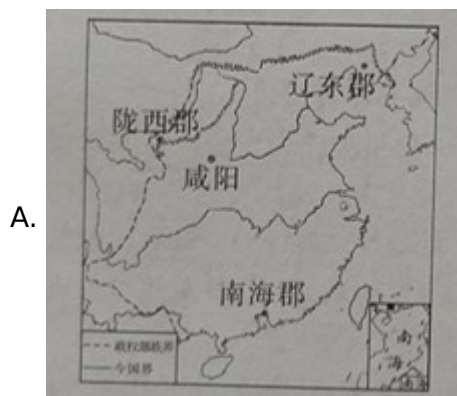
# 广安市 2021 年初中学业水平考试试题历史

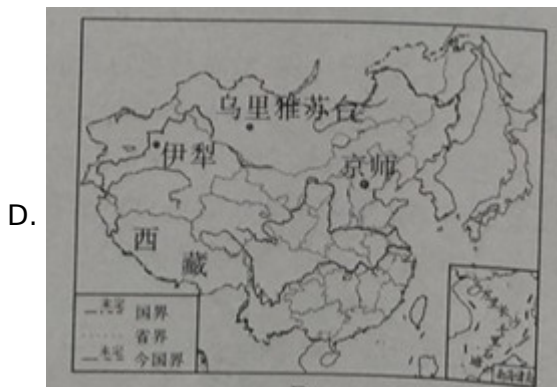
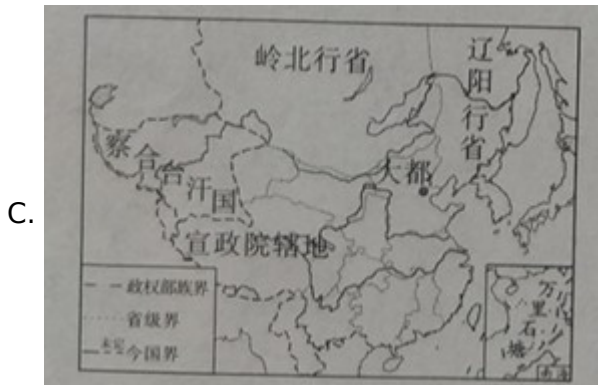
注意事项：

- 1.本试卷分为试题卷（1-4 页）和答题卡两部分。满分 50 分，与道德与法治同堂，考试时间共 120 分钟。
- 2.考生答题前，请先将姓名、准考证号等信息用黑色墨迹签字笔填写在答题卡上的指定位置，待监考员粘贴条形码后，认真核对条形码上的姓名、准考证号与自己准考证上的信息是否一致。
- 3.请将选择题答案用 2B 铅笔填涂在答题卡上的相应位置，非选择题直接用黑色墨迹签字笔在答题卡上书写答案。超出答题区域书写的答案无效，在草稿纸、试题卷上答题无效。
- 4.考试结束，监考员必须将参考学生和缺考学生的答题卡、试题卷一并收回。

一、选择题（每小题只有一个选项符合题意，请将所选选项填涂在答题卡上的相应位置。本大题共 18 个小题，每小题 2 分，共 36 分）

1. 战国时期，诸子百家希望用自己的学说解决社会问题，形成“百家争鸣”的局面。其中，孟子主张  
A. 无为而治                      B. 民贵君轻                      C. 以德治国                      D. 以法治国
2. 中华人民共和国是由 56 个民族共同组成的统一多民族国家。历史上，中央政府对西藏地区正式行使行政管辖始于下列哪幅历史地图所反映的历史朝代





3. 自古以来，中外交往源远流长。下列对古代中外交往史实的解读，不准确的是

- A. 丝绸之路是古代东西方往来的大动脉，促进了中国同其他国家和地区的贸易与文化交流
- B. 中国造纸术、活字印刷术、指南针、火药的发明和外传，对人类文明发展产生了重大影响
- C. 郑和下西洋开创了西太平洋与印度洋之间的亚非海上交通线，为人类航海事业作出了伟大贡献
- D. 面对西方国家的殖民侵略，清朝推行闭关锁国政策，禁止对外贸易

4. 据统计，甲午战争前，外资在华设有工厂 192 家，投资总额近 2000 万元；甲午战争后的 1895--1913 年间，外资在华新建厂矿达 1366 家，其多数资本在 10 万元以上，投资总额为 10215.3 万元。出现这一变化的主要原因是

- A. 列强强迫取得在中国投资办厂的权利
- B. 《中华民国临时约法》颁布
- C. 美国提出的“门户开放”政策被接受
- D. 中国掀起“实业救国”热潮

5. 面对北洋军阀统治下混乱的政治局面，一部分先进知识分子认为必须进行文化变革才能挽救民族危亡，他们

- A. 掀起洋务运动，旨 “自强”“求富”
- B. 宣传君主立宪，推动维新变法
- C. 提出三民主义，推动民族民主革命

D. 发起新文化运动，提倡民主与科学

6. “舵手一易齐桨橹，革命从此上新途。”材料反映 应是下列哪一历史事件的影响

A. 中共三大                      B. 古田会议                      C. 遵义会议                      D. 中共七大

7. 抗日战争进入相持阶段后，中国军队在正面战场取得胜利并在国内外产生积极影响的战役是

A. 淞沪会战                      B. 武汉会战                      C. 第三次长沙会战                      D. 百团大战

8. 抗美援朝战争进入对峙阶段后，1951年6月，苏联提议五大国（苏联、法国、英国、美国、中华人民共和国）缔结和平公约。中华人民共和国政府也表示，如今国际上任何重大问题，如果没有苏联和新中国参加都无法解决。随后，美国同意和谈。这表明

A. 上述五大国在联合国中开始发挥决定性作用  
B. 抗美援朝大大提高了中华人民共和国的国际地位  
C. 和平共处五项原则成为处理国家间关系的基本准则  
D. 中国秉持共商共建共享全球治理观，推动构建人类命运共同体

9. “废除地主阶级封建剥削的土地所有制，实行农民的土地所有制，借以解放农村生产力，发展农业生产，为新中国的工业化开辟道路。”为此，中央人民政府

A. 在全国分批进行土地改革                      B. 开展农业合作化运动  
C. 确立人民代表大会制度                      D. 实施第一个五年计划

10. 1978年5月7日，国务院发出通知，决定实行奖金和计件工资制度。此后，又恢复了稿费制度。这些措施的实施

A. 标志着城市经济体制改革全面展开  
B. 对突破固有体制进行了尝试  
C. 标志着全方位对外开放格局的形成  
D. 完成了向社会主义市场经济体制转型

11. “中国的经验第一条就是自力更生为主。我们很多东西是靠自己搞出来的……这样，就可以振奋起整个国家奋发图强的精神。”改革开放以来，我国取得的科技成就中，能印证这一观点的是

A. 第一颗原子弹、氢弹爆炸成功  
B. 籼型杂交水稻培育成功  
C. 首次完成人工合成结晶牛胰岛素  
D. 成功掌握载人航天技术

12. 古代亚非地区的文明古国创造了辉煌灿烂的文明成果，为世界文明的发展作出了杰出的贡献，其代表性成果是

A. 楔形文字、金字塔                      B. 《掷铁饼者》帕特农神庙遗址

C. 凯旋门、万神庙

D. 自由自治的城市和大学的兴起

13. 下列作品，反映了英国时代风貌和社会本质，深刻批判了封建道德伦理观念和社会陋习，充分体现了人文主义者生活理想的是

A. 《物种起源》《向日葵》

B. 《哈姆雷特》《罗密欧与朱丽叶》

C. 《欧也妮·葛朗台》《高老头》

D. 《安娜·卡列尼娜》《复活》

14. 日本大化改新和明治维新的共同点是

A. 摆脱民族危机

B. 加强中央集权

C. 仿效中国典章制度

D. 结束幕府统治

15. 科技革命提高了社会生产力水平，对人类社会产生了深远影响。下列解读，不准确的是

A. 工业革命造成了新的社会矛盾，马克思主义诞生，国际共产主义运动兴起并蓬勃发展

B. 工业革命的发展，为妇女社会地位的提高创造了条件，欧洲国家开始推广大众教育

C. 第二次工业革命推动主要资本主义国家成 工业化强国，近代科学与文化开始产生

D. 计算机网络极大地拓展了人类的生活空间，推动了全球经济的一体化发展

16. 在美国历史上，林肯（1809--1865）的历史贡献是

A. 颁布世界上第一部资产阶级成文宪法

B. 颁布《人权宣言》，宣告保护私有财产等基本原则

则

C. 维护了国家统一，解放了黑人奴隶

D. 颁布《社会保障法》，建立社会保障制度

17. 赫鲁晓夫、勃列日涅夫执政期间，苏联改革总体效果不佳，其主要原因是

A. 俄国农奴制改革后，农奴制残余影响着俄国经济社会发展

B. 进行大规模农业集体化运动，终止新经济政策

C. 以全球化和信息化为特征的“新经济”发展缓慢

D. 没有从根本上解决苏联模式高度集中的经济体制弊端

18. 第二次世界大战后，世界资本主义殖民体系逐渐崩溃，亚非拉民族独立浪潮改变着世界的面貌。发展中国家作为一支新兴独立的政治力量登上国际舞台始于

A. 万隆会议的召开

B. 不结盟运动的正式成立

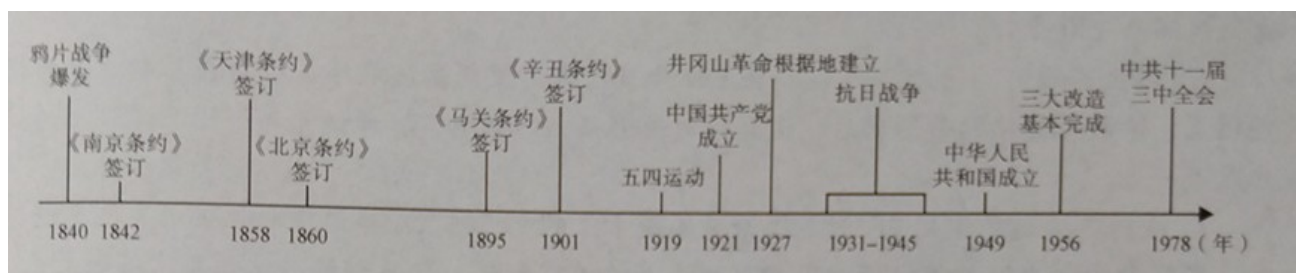
C. 纳米比亚的独立

D. 联合国的成立

**二、非选择题（请将每小题的答案写在答题卡上的相应位置。本大题共 2 小题，每小题 7 分，共 14 分）**

19. 习近平《在庆祝中国共产党成立九十五周年大会上的讲话》指出：“中国产生了共产党，这是开天

辟地的大事变。这一开天辟地的大事变，深刻改变了近代以后中华民族发展的方向和进程，深刻改变了中国人民和中华民族的前途和命运，深刻改变了世界发展的趋势和格局。”



根据年代尺所给内容并结合所学知识，回答下列问题：

- (1) 指出 1840—1901 年中国历史 发展趋势。
- (2) 指出五四运动与中国共产党成立的历史因果关系。
- (3) 1927 年井冈山革命根据地的建立，对中国革命的发展有何重大意义？
- (4) 分别指出年代尺上 1931-1945 年、1949 年、1956 年、1978 年所发生的历史事件对中国历史发展的意义。

20. 20 世纪以来，世界格局发生了很大的变化。阅读材料，回答问题。

材料一第一次世界大战前，一位德国大臣说：“皇上首要的和基本的思想就是粉碎英国的霸权，以有利于德国。”一位英国外交大臣说：“真正决定我国外交政策的，是海上霸权的问题。”

- (1) 根据材料一指出第一次世界大战爆发前英德矛盾的实质。

材料二 1914--1918 年的第一次世界大战，对世界产生了深远影响。

- (2) 俄国十月革命的胜利和第一次世界大战的结束，使世界格局发生了重大变化。请分别指出其具体表现。

材料三 20 世纪 20-30 年代，意大利、德国和日本纷纷建立起法西斯政权，欧洲、亚洲战争策源地先后形成。1939 年 9 月，德国突袭波兰，波兰的盟国英、法被迫对德宣战，第二次世界大战全面爆发。

- (3) 哪一历史事件，成为中国人民抗日战争的起点，揭开了世界反法西斯战争的序幕？

材料四 太平洋战争爆发后，日本陆军共 51 个师团，其中 34 个师团和 44 个独立旅、混成旅团用于侵华，占其陆军总兵力的 80%，而用于南太平洋战场的陆军只有 10 个师团，不及侵华兵力的 20%。中国方面耗费了大量的人力物力财力，修建美军所需机场，保护在华美军空军基地；中国既是美国对日作战的空军基地，又是最后进攻日本本土的前进基地；中国还为盟国提供了大量的战略物资和军事情报。

- (4) 根据材料四并结合所学知识，概述中国抗战在世界反法西斯战争中的地位与作用。
- (5) 第二次世界大战后初期，美国开始推行冷战政策，美国和苏联从战时的盟友转变为战后的敌手的根本原因是什么？
- (6) 冷战结束后，世界格局出现了什么样的新特点？



