

怀仁一中 2016-2017 学年度第二学期高一年级第三次月考

历史试题

考试时间：90 分钟

一、选择题（每题 1.5 分，共计 51 分）

1. 天干地支是中国先民较早掌握的初步的天文历法知识。商代君主多以天干为名，如太甲、盘庚等，这体现了商朝（ ）
A. 天干地支知识已经在群众中普及
B. 王权的自我神化
C. 君主掌握国家的最高领导权
D. 经济繁荣，文化发达
2. 《诗经》：“噫嘻成王，既昭假尔。率时农夫，播厥百谷。骏发尔私，终三十里。亦服尔耕，十千维耦。”材料反映了（ ）
A. 土地兼并现象严重
B. 铁犁牛耕技术的推广
C. 集体劳作的生产方式
D. 男耕女织的小农经济
3. 春秋中期以后，出现“百工居肆，以成其事”和范蠡弃官经商，“十九年之中三致千金”等现象。这说明当时（ ）
A. 官营工商业有了进一步发展
B. 私营工商业迅速兴起和发展
C. 私营工商业已超过官营规模
D. 官营和私营工商业地位平等
4. 柳宗元在《封建论》中评价秦始皇废封建、行郡县说：“其为制，公之大者也——公天下之端自始皇。”郡县制为“公天下”之开端，主要体现在（ ）
A. 百姓不再是封君的属民
B. 更有利于皇帝集权
C. 制度法令的统一
D. 依据才干政绩任免官吏
5. 班固在《汉书·食货志》中说：“于是，罔疏而民富，役财骄溢，或至并兼豪党之徒以武断于乡曲。宗室有土，公卿大夫以下争于奢侈，室庐车服僭上亡限。物盛而衰，固其变也。”以上言论表明，班固认为财富分布不均的根源在于（ ）
A. 豪党之徒兼并土地
B. 社会风气过度奢靡
C. 徭役负担过于繁重
D. 权力介入经济过程
6. 钱泳在《履园丛话》中说：“俗语云：‘百年田地转三家’，言百年之内，兴废无常，必有转售其田至于三家也。今则不然……十年之间，已易数主。”由此可见，古代的小农经济的特点是（ ）
A. 封闭性
B. 落后性
C. 脆弱性
D. 分散性
7. 粮食收获量与播种量之比，据罗马时代《克洛米拉农书》记载为 4~5 倍，据十三

世纪英国的《亨利农书》记载为3倍，而从《齐民要术》看，我国六世纪粟的收获量为播种量的24~200倍，麦类则为44~200倍。这主要是因为中国古代（ ）

- A. 最早采用铁犁牛耕
B. 农业的精耕细作技术发达
C. 水利灌溉工程形成网络
D. 粮食的单位面积产量居世界领先地位

8. 官营手工业在古代手工业生产中占有优势，它的主要特点是（ ）

- ①资金雄厚、规模经营，分工细致
②主要生产武器和供官府、贵族消费的生活用品
③占据人才、技术等方面的优势，生产不计成本
④主要是为市场生产精美商品和对外贸易提供精品

- A. ①②③④
B. ①②③
C. ①③④
D. ①②④

9. 19世纪末德国学者李希霍芬首次将中国西域与希腊、罗马的交通路线称为“丝绸之路”。现在也有学者根据研究试图将这条交通路线称为“皮毛之路”、“玉石之路”、“珠宝之路”和“佛教之路”等。这些从根本上说明在古代丝绸之路上（ ）

- A. 交通十分发达
B. 商业贸易繁荣
C. 各种文明相互交流
D. 中国丝绸出口地位不断下降

10. 杜牧《上李太尉论江贼书》载：“凡江淮草市，尽近水际，富室大户，多居其间。——自十五年来，江南江北，凡名草市，劫杀皆遍，只有三年再劫者，无有五年获安者。”由此可以获悉当时的草市（ ）

- ①居于交通便利之地 ②常遭盗贼劫掠 ③已演进为地方商业中心 ④缺乏政府监管

- A. ①②
B. ②③
C. ①②③
D. ①③④

11. 中国古代某土地制度规定“诸男夫十五以上受露田四十亩，妇人十二亩，奴婢依良。丁牛一头，受田三十亩，限四牛。所受之田率倍之，三易之田再倍之，以供耕作，及还受之盈缩。”有学者认为“此田制用意并不在求田亩之绝对均给，只求富者稍有一限度，贫者亦有一最低之水准”，对该土地制度理解正确的是（ ）

- A. 反映了井田制度的实质
B. 从根本上抑制了土地兼并
C. 有助于增加政府财政收入
D. 与资产阶级民生主张相同

12. 有学者认为，明朝的内阁首辅实质就是宰相。因为内阁首辅（ ）

- A. 在很大程度上制约了皇权
B. 对很多问题能直接决策
C. 掌握着最高的行政权力
D. 在文武百官中地位最高

13. “（明政府规定）政府以钱粮、银两或预先购好的丝料分发机户，机户织毕交官取酬。但粮钱往往每发后期（延误时期），且多扣克。”下列对材料的理解最准确的

- 是()
- A. 明政府阻碍着手工业的发展 B. 明朝已出现了资本主义萌芽
- C. 材料所说的“机户”就是早期的资本家 D. 明朝官营手工业占据主导地位
14. 康熙皇帝任命曹雪芹的祖父曹寅主持江宁织造局的生产。根据当时的制度, 该局生产()
- A. 全部投放市场, 收入归皇室 B. 部分用于纳税, 部分投放市场
- C. 全部供皇室使用, 不投放市场 D. 部分供皇室使用, 部分投放市场
15. 抗日战争期间某战役后, 《新华日报》刊载一位中国将领的谈话: “我军……对于一城一寨之得失, 初不以为重, 主在引敌深入, 使其兵力分散, 而予敌主力以打击。”
- 以下战役符合上述特征的是()
- A. 淞沪会战 B. 百团大战 C. 台儿庄战役 D. 平型关战役
16. 人们在研究历史中, 由于立场和观点的差异, 对历史事件的解释往往会有不同, 如关于鸦片战争这一事件: 过去, 英国史学家总以英国利益为中心来理解; 我国史学家则从民族命运来思考这一战争; 在当今文明史观认识下, 人们又会有新的结论。能正确反映上述说法的排列是()
- A. 英国史学观 / 文明冲突, 中国史学观 / 侵略战争, 文明史观 / 商业战争
- B. 英国史学观 / 商业战争, 中国史学观 / 侵略战争, 文明史观 / 文明冲突
- C. 英国史学观 / 侵略战争, 中国史学观 / 商业战争, 文明史观 / 文明冲突
- D. 英国史学观 / 商业战争, 中国史学观 / 文明冲突, 文明史观 / 侵略战争
17. 春帆楼位于日本下关市一座小山丘上, 当年谈判的会场依然保存完好; 楼前的那块石碑上, 还醒目地镌刻着“今之国威之隆, 实滥觞于甲午之役”字样。这句话实际上道出了()
- A. 中日甲午战争爆发的客观形势 B. 甲午海战中日本失利对国力的削弱
- C. 甲午之役加快了日本资本主义的发展 D. 甲午之役刺激了列强瓜分中国的野心
18. 徐中约在《中国近代史: 1600-2000, 中国的奋斗》一书中指出: “革命与民国并未带来预期的和平与秩序, 民国时期较以前经历更多的痛苦与失序, 它重现了传统上紧随王朝衰亡而来的失序与混乱。”这表明()
- A. 革命比建国更重要 B. 相对于推翻旧制而言, 建立新制更难
- C. 辛亥革命没有带来社会进步 D. 民国时期的社会重建没有任何成效
19. 20世纪第二个十年期间, 某宣言称: “夫日本虎狼也, 既能以一纸空文, 窃掠我二十一条之美利, 则我与之交涉, 简言之, 是断送耳, 是亡青岛耳, 是亡山东耳。”
- 据此推断, 该宣言针对的是()

- A. 日军在甲午中日战争中进攻辽东半岛和山东半岛
 B. 日本强迫中国签订“二十一条”
 C. 巴黎和会上列强决定将德国在山东的特权转让给日本
 D. 北洋军阀政府出卖山东主权给日本

20. 《政府与中共代表会谈纪要》中说：“一致认为应迅速结束训政，实施宪政，并先采必要之步骤，由国民政府召开政治协商会议，邀集各党派代表及社会贤达，协商国是，讨论和平建国方案，及召开国民大会各项问题。”这表明（ ）

- A. 国共两党坚守和平建国方针
 B. 政治民主化是和平建国的必由途径
 C. 国民政府成功主持召开了政治协商会议
 D. 该协定被蒋介石集团在军事部署完成后破坏

21. 毛泽东在《井冈山的斗争》中写道：“土地分配的标准：以乡为分配土地的单位，……所有乡村中男女老幼，一律平分。现依中央办法，改以劳动力为标准，能劳动的比不能劳动的多分一倍。”这一变化的主要目的在于（ ）

- A. 完成反封建的民主革命任务
 B. 实现“平均地权”的理想
 C. 发展生产以巩固革命根据地
 D. 争取农民参加革命战争

22. 雅典民主制是近现代西方政治制度的源头，它所创立的很多原则对后世影响深远。以下表格中对应关系错误的是（ ）

选项	政治家	主要内容	主要原则
A	梭伦	公民大会成为最高权力机关	人民主权
B	克里斯提尼	设立五百人议事会	轮番而治
C	克里斯提尼	实行“陶片放逐法”	司法公正
D	伯利克里	陪审法庭成为最高司法与监督机关	民主监督

23. 某中学进行“公元前4世纪古罗马模拟法庭”的课外活动。其中，场景正确的是（ ）

- A. 场景一：原告，罗马公民；被告，移居帝国的外邦自由民。案由：追讨欠款
 B. 场景二：原告，新征服地区的自由民；被告，罗马公民。案由：人身伤害
 C. 场景三：原告，罗马平民；被告，罗马贵族。案由：贵族不允许自己的女儿嫁给平民
 D. 场景四：原告，移居罗马的外邦自由民；被告，新征服地区的自由民。案由：商业纠纷

24. 《罗斯福》一书中列举了罗斯福对付国会的方法：“充分利用宪法规定的权力，诸如否决权。选择有利时机。在行政部门草拟议案。几乎需要不断地施加压力，但却要机智巧妙。用人必须审慎。亲自说服立法领导人。诉诸国民公断。”罗斯福的做法（ ）
- A. 说明总统的权力在不断扩大 B. 体现了国家权力中心是总统
C. 没有改变三权分立的体制 D. 说明总统经常向议会施加压力
25. 第三共和国宪法是法国历史上绝无仅有的最简短、最经济主义的一部宪法，第三共和国宪法的含糊不清、残缺不全可谓是达到了令人吃惊的地步。这一现象的出现乃是当时特殊的政治环境使然。这里的“特殊政治环境”特征有（ ）
- A. 君主派和共和派互相妥协 B. 共和派以一票多数的微弱优势通过
C. 君主派实力超过共和派 D. 法国资本主义经济发展的不充分
26. 某学者写道，“衰落是一个容易使人上当的词，因为它包含了两个相去甚远的概念：一是外部力量的减弱，一是内部力量的衰败。……拿意大利来说……在外部因素使其丧失了经济强国的地位之后，内部文化仍可达到巅峰”。这里所说的“外部因素”是指（ ）
- A. 贸易中心的转移 B. 殖民争霸战争的失败
C. 世界市场的形成 D. 宗教改革运动的影响
27. 新航路开辟后，西欧最早期的殖民者从美洲掠夺来大量黄金白银财富。这些黄金白银财富主要流入西班牙，这直接导致该国（ ）
- A. 国力增强确立世界霸主地位 B. 资本积累引发本国工业革命
C. 对华贸易占据出超有利位置 D. 物价上涨冲击封建生产关系
28. 下表反映了1500~1800年间欧洲主要国家商船抵达亚洲的数量，结合所学知识和表格信息可以得出的推论是（ ）

国家	不同阶段的数量(艘)		
	1500~1599(年)	1600 ~ 1700(年)	1701~1800(年)
葡萄牙	705	371	196
荷兰	65	1 770	2 950
英格兰	—	811	1 865
欧洲合计	770	3 161	6 661

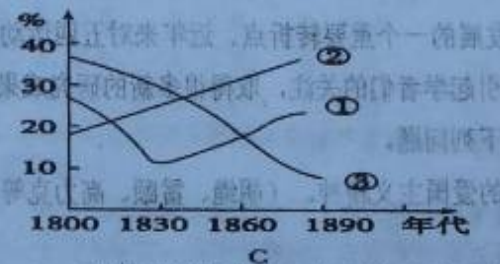
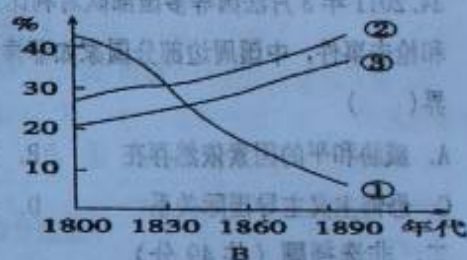
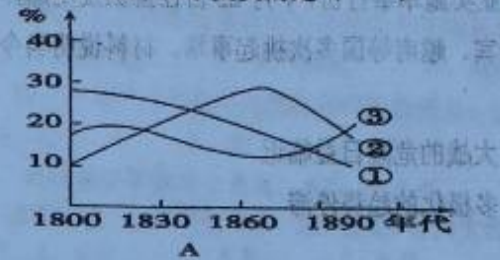
——安格斯·麦迪森《世界经济千年史》

- A. 16 世纪荷兰抵达亚洲的商船数量最多，被称为“海上马车夫”
- B. 17、18 世纪荷兰抵达亚洲的商船数量增长率高于英格兰
- C. 18 世纪葡萄牙抵达亚洲的商船数量减少，转而致力于开辟新航路
- D. 18 世纪英格兰抵达亚洲的商船数量增长迅速，有成为海上霸主的趋势

29. 有人说：“如果瓦特早出生一百年，他和他的发明将会一起死亡！”这说明瓦特的发明能够问世并使人类进入“蒸汽时代”，最主要的因素是（ ）

- A. 资源因素
- B. 市场因素
- C. 理论因素
- D. 劳动力因素

30. 下列史学家统计的 19 世纪英国人口结构的变化图（注：图中①农民②城镇居民③工人），其中合乎史实的是（ ）



31. 《剑桥欧洲经济史》中写道：“机器都在执行着一种新的纪律。纺工不再能够像过去那样在家里无拘无束地摇车纺纱，织工也不再能够像过去那样在家里自由自在地投梭织布了。现在，他们必须在工厂中按照没有生命不知疲倦的机器设备所确定的速度工作。”这一材料可以用来说明（ ）

- A. 机器是新纪律的制定者和执行者
- B. 工厂制的生产模式造就了现代工人阶级极强的组织纪律性
- C. 生产力水平的提高有利于工作环境的改善
- D. 工业化带动家庭结构转型

32. 19 世纪下半叶，西欧的工人享有普遍的繁荣和不断提高的生活水平，直到第一次世界大战以前。在 1850—1913 年间，英国和法国的实际工资几乎增加了 1 倍。出现这一现象的重要原因之一是（ ）

- A. 福利国家制度建立和完善

B. 生产力极大提高, 社会矛盾得到解决

C. 资产阶级和无产阶级开始分裂为两大直接对立的阶级

D. 海外投资带来巨额利润

33. 恩格斯说:“如果我们从股份公司进而来看支配着和垄断着整个工业部门的托拉斯, 那么, 那里不仅私人生产停止了, 而且无计划性也没有了。”这话表明, 恩格斯认为 19 世纪晚期出现的垄断组织的实质是()

A. 资本主义私人所有制的本质正在转变

B. 资本主义国家开始全面实施计划经济

C. 生产关系的局部调整适应生产为发展

D. 资本主义社会的根本矛盾发生了变化

34. 2011 年 3 月法国等多国部队对利比亚实施军事打击, 7 月 22 日在挪威发生爆炸案和枪击事件, 中国周边部分国家如菲律宾、越南等国多次挑起事端。材料说明当今世界()

A. 威胁和平的因素依然存在

B. 大战的危险日益临近

C. 恐怖主义主导国际关系

D. 多极化的趋势停滞

二、非选择题(共 49 分)

35. (23 分) 五四运动是近代中国社会发展的一个重要转折点。近年来对五四运动的研究越来越深入和细化, 一些热点问题引起学者们的关注, 取得很多新的研究成果, 形成不少新观点。结合所学知识, 回答下列问题。

观点一: 五四精神是一种不屈抗争的爱国主义精神。(胡绳、雷颐、高力克等学者)

(1) 史论结合是历史学习的基本原则, 试以五四运动的史实说明五四精神的具体表现。(6 分)

观点二: 五四时期知识分子在传统文化与西方文化的批判与选择之间存在矛盾, 这种矛盾既是两个文化体系碰撞后的产物, 又是新旧时代接触后的结果。(张宝明、欧阳哲生、刘雨等学者)

(2) 简述鸦片战争到五四运动前“两个文化体系碰撞”的历程, 概括新文化运动前期的知识分子对传统文化所持的态度。(8 分)

观点三: 五四运动后知识分子关于救国方略有三种观点: 一是学术救国、科学救国、教育救国; 二是走俄国式革命道路; 三是走政治改良道路。(叶青等学者)

(3) 道路抉择关系到国家民族的前途命运, 中国共产党代表人民利益最终选择了哪一条道路? 选择的理由是什么?(6 分)

(4) 在中华民族努力实现伟大复兴的今天, 五四运动可以给我们以哪些启示?(3 分)

36. (12分) 阅读下列材料, 回答问题。

材料: 清政府限制国内商民出海贸易。康熙二十三年开海贸易后, 规定山东、江南、浙江、福建、广东等省各海口的“商民人等有欲出洋贸易者, 呈明地方官, 登记姓名, 取具保结, 给发执照。将船身烙号刊名, 令守口官弁查验, 准其出入贸易”, 但是只“许令乘载五百石以下船只, 往来行走”……康熙五十九年规定: “沿海各省出洋商船, 炮械军器概行禁止携带。”乾隆二十四年规定“禁丝勛贩卖出洋”。其他如火药、硝磺、铁器、大黄、绸缎、茶叶、书籍等商品也在限制之列。

请回答:

依据材料, 概括指出清政府在限制海外贸易方面的举措(不得摘抄原文), 并指出清政府的这种政策所带来的后果。

37. (14分) 第二次工业革命促成了资本主义世界市场的最终形成。阅读下列材料:

材料一 1870年前后, 所有的工业都受到科学的影响。……大量生产的两种主要方法是在美国发展起来的, 第一种方法是制造标准的、可互换的零件, 然后以少量的手工劳动把这些零件装配成完整的单位……第二种方法出现于20世纪初, 是设计出装配线……在美国, 农业机械的发明也得到了促进……与这些新机械同样重要的是高粮仓、罐头食品制造厂、冷藏车、船和迅速的运输工具, 它们导致一个不仅提供工业成品、也提供农业成品的世界市场。

——斯塔夫里阿诺斯《全球通史——1500年以后的世界》

材料二 资本主义国家将资本输出作为金融资本对外扩张的重要手段, 从而加速了资本的跨国流动, 发展起国际资本市场和金融市场, 形成世界性的金融资本体系。

——刘金源等《全球化进程中的反全球化运动》

材料三 在金字塔顶端的是少数几个欧美资本主义发达国家, 其底端是处于前资本主义生产方式的广大亚非拉美落后国家。这时, 世界上形成了两大类国家: 一类是几个欧美资本主义工业制成品生产国, 另一类是以前资本主义生产方式为主的农矿业生产国。

——千枝松《科技革命与国际分工》

请回答:

(1) 依据材料一说明19世纪晚期, 科学技术在推动生产及流通方面有怎样的进步?

(4分)

(2) 依据材料二说明第二次工业革命在促进世界市场发展方面有什么新进展? (2分)

(3) 依据材料三说明第三次工业革命导致了怎样的国际分工? (4分)

(4) 综合上述材料, 概要分析资本主义世界市场形成的积极意义和消极影响? (4分)

高一历史月考三参考答案

1. B 2. C 3. B 4. D 5. D 6. C 7. B 8. B 9. C 10. A 11. C 12. D
13. A 14. C 15. C 16. B 17. C 18. B 19. C 20. B 21. C 22. C 23. C 24. C
25. A 26. A 27. D 28. D 29. B 30. B 31. B 32. D 33. C 34. A

35. (23分) (1) 反对巴黎和会将德国侵占中国山东的权益转给日本；“外争主权，内惩国贼”；工人罢工、商人罢市；迫使北洋军阀政府拒签和约等。

(2) 历程：中国开始向西方学习，从洋务运动学习西方的科学技术，维新运动和辛亥革命学习西方的民主政治制度，新文化运动学习民主、科学思想。态度：全盘否定（反对旧道德；把斗争矛头指向儒家道德）。

(3) 俄国式革命道路。理由是：在中国半殖民地半封建社会条件下，实践证明走资本主义道路是行不通的；民族资本主义进一步发展，无产阶级登上历史舞台。

(4) 发扬爱国（民主、科学）精神；继承传统文化、善于学习外来文化；学习先进理论与中国实际相结合。

36. (12分) 举措：办理出洋手续严格；严格控制船只规模（载重量）；限制武器和部分日常商品出洋。

后果：妨碍了海外市场的开拓，阻碍了资本主义萌芽的发展，使中国逐步落后于世界。

37. (1) 进步：工业生产的方法有重大改进；农业机械的发明有相当进展；发明了新交通工具；形成了世界市场。

(2) 进展：资本输出规模，由此形成世界资本、金融体系。

(3) 分工：欧美发达资本主义国家占据工业制成品市场，广大的亚非拉美落后国家成为原材料和初级产品的供应地。

(4) 积极：有利于世界经济的联系与科技进步；消极：形成不合理的经济秩序。

