

2010 全国中考整理选择题部分——中国近代史

1. 【2010 安徽中考】“勿忘国耻”研究小组要实地考察抗日战争全面爆发的历史，他们必须去的地方是……………【
】
A.台儿庄 B.南京 C.卢沟桥 D.沈阳
2. 【2010 芜湖】陈独秀说：“我们现在认定只有这两位先生（‘德先生’、‘赛先生’），可以救治中国政治上、道德上、学术上、思想上一切的黑暗。”这表明新文化运动的核心内容是
A.反对尊孔和复古 B.提倡民主和科学
C.提倡新道德和新文学 D.宣传马克思主义
3. 【2010 芜湖】下列有关近代前期社会生活的描述，不符合史实的一项是
A.周某在《申报》上读到《马关条约》签订的消息，非常气愤
B.戊戌变法期间，郑某在商务印书馆担任编辑
C.吴某乘坐火车，沿京张铁路进京，参加科举考试
D.《辛丑条约》签订后，王某一家被迫从世代居住的东交民巷搬出
4. 【2010 芜湖】主张塞防和海防并重，力主收复新疆，并建议设立新疆行省的是
A.林则徐 B.魏源 C.左宗棠 D.李鸿章
5. 【2010 福州中考】逛灯市、赏花灯成了元宵节福州一大民俗文他活动。右图花灯介绍的福州历史名人是
A.林则徐 B.严复
C.林觉民 D.沈葆楨
6. 【2010 福州中考】“共和成，专制灭；民国成，清朝灭；总统成，皇帝灭。”导致这一现象发生的历史事件是
A.戊戌变法 B.辛亥革命
C.新文化运动 D.北伐战争
7. 【2010 福州中考】看到“1949 年 4 月”、“南京解放”、“国民党政权垮台”等关键词，你能联想到的事件是
A.重庆谈判 B.挺进大别山 C.淮海战役 D.渡江战役
8. 【2010 福州中考】“他”以状元的身份毅然辞官南归，一生先后创办了大生纱厂等 19 个企业。“他”是
A.詹天佑 B.魏源 C.张謇 D.侯德榜
9. 【2010 福州中考】福州船政文化是近代中国洋务运动的产物，在马尾创办福州船政局和船政学堂的是
A.曾国藩 B.李鸿章 C.左宗棠 n 张之洞
10. 【2010 龙岩中考】在电影《甲午风云》中，可以看到下面哪个历史人物英勇杀敌的光辉形象
A.戚继光 B.林则徐 C.关天培 D.邓世昌
11. 【2010 龙岩中考】下面是革命老人张三晚年回忆 1919 年 5 月 4 日所看到的情景，其中有误的是
A.北京大学学生在天安门前集会演讲
B.有个学生发给群众小旗帜，写着“驱除鞑虏，恢复中华”
C.有个学生给盲人解释“还我青岛”的意思
D.他看到一些学生演讲时慷慨陈词


12. 【2010 龙岩中考】被誉为“闽西土地革命之先声”的是
A. 后田暴动 B. 平和暴动 C. 金砂暴动 D. 蛟洋暴动
13. 【2010 龙岩中考】抗日战争中，中国军队主动出击日军最大规模的战役是
A. 百团大战 B. 平型关大捷 C. 台儿庄战役 D. 太原会战
14. 【2010 龙岩中考】毛泽东的诗“钟山风雨起苍黄，百万雄师过大江。虎踞龙盘今胜昔，天翻地覆慨而慷。”
 诗中的“天翻地覆”所指的重大历史事件是
 A. 重庆谈判 B. 刘邓大军挺进大别山 C. 渡江战役 **D. 解放南京**
15. 【2010 东莞中考】在中英《南京条约》中，便利英国对中国东南沿海地区进行直接经济掠夺的条款是
 A. 割让香港岛 B. 赔款白银 2100 万银元 **C. 开放通商口岸** D. 英国同中国商定关税
16. 【2010 东莞中考】李鸿章认为“西洋方圆千里，岁入财赋动以万计，无非取资于煤铁五金之矿、铁路、电报信局、丁口等洋税。”洋务运动中清政府仿效西方这一做法而采取的措施是
 A. 创办军事工业 **B. 发展民用工业** C. 筹建新式陆海军 D. 派遣留学生
17. 【2010 东莞中考】十九世纪末，戊戌维新在社会上起了思想启蒙作用，变法图强的社会呼声日益高涨。对“思想启蒙”理解正确的是
 A. 使人们开始了解西方生活习俗 B. 使人们知道社会改革的合理性 C. 使人们认识到要发展农工商业 **D. 使人们开始追求政治制度变革**
18. 【2010 东莞中考】“我们革命的目的，是为中国谋幸福，因为不愿少数满洲人专制，故要民族革命；不愿君主一人专制，故要政治革命；不愿少数富人专制，故要社会革命。”孙中山先生把“社会革命”概括为
 A. 民族主义 B. 民权主义 C. 民生主义 D. 民本主义
19. 【2010 东莞中考】近代中国人在探索民族独立富强道路的过程中，先后发起洋务运动，戊戌变法和辛亥革命。但这些努力都未达到目的，于是先进知识分子又掀起了一场新文化运动。新文化运动的旗帜是
 A. “师夷长技以制夷” B. “自强”“求富” C. 民主共和 **D. “民主”与“科学”**
20. 【2010 东莞中考】1919 年 6 月 5 日一个日资纱厂的工人，突破租界巡捕的武警包围，举行罢工，声援学生运动；商务印刷馆、中华书局的工人也参加进来，罢工达到高潮时，参加人数达六、七万。这场工人罢工斗争应发生在
 A. 北京 **B. 长沙** C. 上海 D. 广州
21. 【2010 东莞中考】下列图中的历史人物都是中国共产党早期领导人，其中在中国共产党第一次代表大会上被选为中央局书记的是



A
·
B
·
C
·

- D.
22. 【2010 东莞中考】面对日本侵略军的进攻，卢沟桥中国驻军奋起抵抗，全国性的抗日战争从此爆发。这一历史事件发生在
 A. 1931 年 9 月 18 日 **B. 1937 年 7 月 7 日** C. 1937 年 12 月 13 日 D. 1945 年 8 月 15 日


23. 【2010 东莞中考】中国共产党经过二十多年革命探索后，提出“把中国建设成为一个独立、自由、民主、统一、富强的新中国。”最早提出这个政治主张是在
A. 中共一大 B. **中共七大** C. 中共八大二次会议 D. 十一届三中全会
24. 【2010 东莞中考】洗雪了近代以来的民族耻辱，成为中华民族由衰败到重新振兴的转折点是
A. 中华民国成立 B. 五四爱国运动 C. **抗日战争胜利** D. 中华人民共和国成立
25. 【2010 广东中考省题】魏源在《海国图志》中提出了“师夷长技以制夷”的思想。最早实践“师夷长技”思想的是
A. 洋务运动 B. 戊戌变法 C. 辛亥革命 D. 新文化运动
26. 【2010 广东中考省题】假如武汉市需要征集“纪念辛亥革命 100 周年”庆典活动的方案，你认为这次活动的纪念大会选在哪一天举行最为合适
A. 2010 年 10 月 10 日 B. **2011 年 10 月 10 日**
C. 2011 年 12 月 12 日 D. 2012 年 1 月 1 日
27. 【2010 广东中考省题】老战士黄镇用画笔记录了他的一段难忘经历。作品中描绘了汹涌的大渡河、白茫茫的雪山和荒芜的草地等。他的这段“难忘经历”是指参加了
A. 南昌起义 B. 秋收起义 C. 井冈山会师 D. **红军长征**
28. 【2010 广东中考省题】今天的北京有“佟麟阁路”和“赵登禹路”。这是为了纪念在哪次反侵略战争中牺牲的民族英雄
A. 1860 年抗击英法联军进攻北京 B. 1900 年抗击八国联军侵略北京
C. 1931 年抗击日军侵略东北 D. **1937 年抗击日军侵略北平**
29. 【2010 广东中考省题】“淮海战役是人民用小推车推出来的。”陈毅的这句话说明人民解放战争胜利的原因是
A. 中国共产党的英明领导 B. **人民群众的大力支持**
C. 解放军战士的英勇作战 D. 国民党的腐败统治
30. 【2010 汕头中考】左宗棠为维护国家主权作出了巨大的贡献。下列有关他的表述，正确的是 (A)
A. 率三路大军入疆，击败阿古柏侵略军
B. 出使俄国，通过外交途径收回伊犁
C. 出兵新疆，平定大小和卓叛乱
D. 主张加强海防，放缓西北塞防
31. 【2010 汕头中考】丘逢甲《春愁》：“春愁难遣强看山，往事惊心泪欲潸。四万万人同一哭，去年今日割台湾”。这首诗写于 (C)
A. 1843 年 B. 1894 年 C. 1896 年 D. 1902 年
32. 右图是洋务运动期间，中国工匠制造的铁甲舰“平远号”。制造此舰的目的是 (B)
A. 发展资本主义
B. 维护清朝统治
C. 发展海外贸易
D. 进行科学考察
33. 【2010 汕头中考】陈独秀、李大钊等以《新青年》杂志为主要阵地，掀起了新文化运动。下列对于新文化运动的评价正确的是 (A)
A. 启发着人们追求民主和科学，探索救国救民的真理
B. 一次彻底地反对帝国主义和封建主义的爱国运动
C. 客观上为资本主义的产生起到了促进作用



D.一次资产阶级改良运动

34.【2010 汕头中考】右图是每一个中国人心中向往的地方。这里发生的哪一历史事件标志着我国新民主主义革命的开始（B）

- A.新文化运动 B.五四运动
C.一二九运动 D.四五运动



35.【2010 汕头中考】有一首歌唱到：“你手持汉阳造
血染台儿庄/我手握大刀片喋血平型关/在战壕中你
我分享着一口干粮/在青纱帐里你我一同擦拭刀枪
……”歌词所反映的史实发生于（C）

- A.国民革命时期 B.局部抗战时期
C.全民族抗战时期 D.解放战争时期


36.【2010 汕头中考】1940 年，八路军总部发布战役预备命令：“我军应以积极的行动在华北战场上开展较大胜利的战斗，创立显著的战绩……”之后，八路军开展的“较大胜利的胜利”是（D）

- A.平型关大捷 B.台儿庄战役 C.挺进大别山 D.百团大战

37.【2010 桂林中考】中国近代史既是一部民族屈辱史又是一部民族抗争史，在抗击外来侵略、争取民族独立的艰难岁月中，涌现了许多可歌可泣的英雄人物。其中为收复新疆、维护国家统一做出巨大贡献的历史人物是

- A.林则徐 B.左宗棠 C.邓世昌 D.关天培

38.【2010 桂林中考】右图是位于灌阳县的新圩酒井红军烈士纪念碑。1934 年 11 月，在掩护中央红军抢渡湘江后，有 100 多名红军伤员因来不及转移被国民党反动派残忍地丢进了这个深不可测的井中。为缅怀先烈，特立此碑。请指出中央红军突破湘江后前行的路线是



- A.井冈山方向 B.湘西方向
C.瑞金方向 D.贵州遵义方向

39.【2010 桂林中考】近年来随着国共两党互信的加深，随着海峡两岸三通的实现，随着两岸同胞交往的增多，可以乐观地预见两党再次合作的希望。历史上体现国共合作的事件有

①黄埔军校的创建 ②北伐战争 ③南昌起义 ④西安事变的和平解决

- A.①③④ B.②③④ C.①②③④ D.①②④

40.【2010 桂林中考】据统计，在辽沈战役中，支援解放军前线的民工达 160 万，担架 13800 副，大小车辆 6750 辆，牲畜 80 万头，粮食 0.7 亿斤。这组数据说明解放战争取得胜利的一个重要原因是

- A.解放军实力比国民党军队强 B.解放军英勇善战
C.解放军得到了人民群众的大力支持 D.解放军武器装备先进

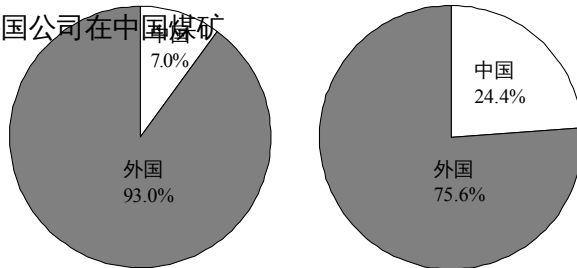
41.【2010 桂林中考】2008 年 10 月 13 日，贵广高速铁路开工仪式在桂林灵川县甘棠江大桥桥址举行，这是我国高速铁路网中一条重要的东西向铁路大动脉。该铁路设计时速二百公里，建成后广州至桂林将不会超过三小时，对桂林来说是一个百年难遇的发展机遇。你知道中国人独立设计和修筑的第一条铁路干线是

- A.京张铁路 B.京广铁路 C.京包铁路 D.津沪铁路

42. 【2010 河北省中考】清末一位小商贩说：在北京东交民巷这地界，我们这些个卖瓜的、卖菜的不能随便出入了，更不要说居住了，说什么皇上把这地界划给了洋人。这一情景的出现是因为清政府被迫签订了

- A. 《南京条约》 B. 《瑷珲条约》 C. 《马关条约》 D. 《辛丑条约》

43. 【2010 河北省中考】右图是中国和外国公司在中国煤矿工业总产量中所占百分比变化示意图。导致这一变化的主要原因是



- A. 洋务运动的开展
B. 戊戌变法的推动
C. 欧洲列强忙于一战
D. 南京国民政府成立

44. 【2010 河北省中考】历史谱写着歌曲，歌声凝聚着历史。下列歌曲在中国 20 世纪 20 年代广为传唱的是

- A. “打倒列强，打倒列强，除军阀，除军阀……”
B. “起来，不愿做奴隶的人们……”
C. “大刀向鬼子们的头上砍去……”
D. “雄赳赳，气昂昂，跨过鸭绿江……”

45. 【2010 河南省中考】“从此敢有帝制自为者，天下共击之。”这一现象说明辛亥革命【 】

- A. 推翻了帝制 B. 使民主共和观念深入人心
C. 建立了中华民国 D. 促进了资本主义经济发展

46. 【2010 河南省中考】1919 年 6 月 20 日，来中国访问的美国思想家杜威在给女儿的信中说：“要使我们国家十几岁的孩子领导人们展开一场大清扫的政治改革运动，并使各行各业的人加入到他们的队伍。那是难以想象的。”杜威所述的这场运动的直接结果是【 】

- A. 取消了“二十一条” B. 北洋政府拒绝在对德和约上签字
C. 中国共产党成立 D. 国共合作实现

47. 【2010 河南省中考】20 世纪 20 年代的中国，人民已经醒来。但是，正如鲁迅所说的“人生最痛苦的事，是梦醒了发现无处可走”。下列为中国人民指明了革命道路的事件是【 】

- A. 新文化运动 B. 五四运动
C. 国民大革命 D. 井冈山革命根据地的建立

48. 【2010 河南省中考】历史赋予各个时代不同的主题。如五四运动时期的主题是民主、科学；国共第一次合作时期的主题是打倒列强除军阀。抗日战争胜利后的主题是【 】

- A. 爱国、救亡 B. 民主、和平 C. 自强、求富 D. 和平、发展

49. 【2010 河南省中考】近代以来，人们的社会生活发生了显著变化。下列现象不可能发生的是【 】

- A. 1909 年，张某乘坐火车，行驶在中国人自己设计修筑的铁路上
B. 1910 年，李某赴京参加了科举考试
C. 1911 年，王某通过《中报》获得了武昌起义的消息
D. 1912 年，赵某穿着中山装参加了一个重要宴会

50. 【2010 河南省中考】2010 年 2 月 11 日，南京获得了第二届青年奥运会的举办权。为迎接青奥会，某学校举办了与南京历史相关的图片展。下列对有关图片的解释，准确的是【 D 】



A



B



C



D

1842年《南京条约》签订，中国沦为半殖民地半封建社会

1912年，中华民国成立，中国社会性质发生了根本的变化


1945年，日本投降，结束了中国近代被侵略、被奴役的历史

1949年，人民解放军占领南京，统治中国22年的南京国民政府覆灭

51. 【2010鄂州中考】“西方人送来了一份令人不堪忍受的礼物祝贺中国进入20世纪”。这份“礼物”是指

- A. 列强在华办厂
- B. “门户开放”政策
- C. 列强在华兴修铁路
- D. 《辛丑条约》

52. 【2010鄂州中考】近代中国许多报刊杂志在传播新思想、新知识方面发挥了重要作用。图4所示报刊主要宣传了哪种思想？



新

- A. 维新变法思想
- B. 民主与科学
- C. 三民主义
- D. 马克思主义

53. 【2010鄂州中考】辛亥革命是在胜利的“欢呼”声中失败的。这里的“胜利”是指

- A. 推翻了封建制度
- B. 成立了中华民国
- C. 打倒了帝国主义
- D. 改变了中国命运

54. 【2010鄂州中考】1915年，创办《青年杂志》，吹响新文化运动号角的人物是

- A. 蔡元培
- B. 李大钊
- C. 陈独秀
- D. 鲁迅

55. 【2010鄂州中考】周恩来曾说：“中国的新民主主义革命史，就是从天安门到天安门。”新民主主义革命的起点是

- A. 辛亥革命
- B. 新文化运动
- C. 五四运动
- D. 中国共产党成立

56. 【2010鄂州中考】“战士双脚走天下，四渡赤水出奇兵。乌江天险重飞渡，兵临贵阳逼昆明。”对此歌词解读错误的是

- A. 描绘了红军长征的壮美画卷
- B. 赞美了毛泽东高超的指挥艺术

C. 再现了三大主力红军会师的场景 D. 讴歌了红军将士英勇顽强的战斗精神

57. 【2010 鄂州中考】中共提出和平解决西安事变的根本出发点是

- A. 改善国共两党关系 B. 实现全民族共同抗日
C. 粉碎国民党亲日派企图 D. 挑起国民党内部矛盾

58. 【2010 鄂州中考】李宗仁将军在他的回忆录中说，他生平中指挥的最值得自豪的战役，是取得抗战中正面战场最重大胜利的

- A. 平型关之战 B. 百团大战 C. 长沙会战 D. 台儿庄战役

59. 【2010 黄冈中考】“大丈夫生于世间，宁可粗布以御寒，也要保持民族气节，不可为锦衣玉食做无耻的帮凶和奴才。”在民主革命中为中华民族而牺牲的仁人志士有

- ①文天祥②岳飞③邓世昌 ④李大钊⑤刘胡兰⑥雷锋
A. ①②③④⑤⑥ B. ①③④⑤ C. ③④⑤⑥ D. ③④⑤

60. 【2010 十郾中考】今年，世博会在我国上海举办，圆了中国人又一个梦。上海在中国近代史、现代史和经济发展中占有十分重要的地位，下列历史事件发生在上海的有

- ①洋务运动中创办江南制造总局 ②中国共产党的建立
③黄埔军校的创办 ④2001年10月在中国召开亚太经合组织领导人非正式会议
A. ①②③ B. ①②④ C. ①③④ D. ②③④

61. 【2010 十郾中考】近代史上中国人民反对外来入侵第一次取得完全胜利的民族解放战争的

- A. 甲午战争 B. 解放战争 C. 抗美援朝 D. 抗日战争

62. 【2010 襄樊中考】新文化运动的主要阵地是


- A. 《中外纪闻》 B. 《民报》 C. 《新青年》 D. 《每周评论》

63. 【2010 襄樊中考】南京是中国近代史的起点和终点，是近代中国的缩影。下列事件没有发生在该地的是

- A. 中华民国成立 B. 同盟会的成立
C. 国民党政权垮台 D. 日本侵略者制造大屠杀惨案

63. 【2010 长沙中考】右图反映的历史场景距今已有多少年？

- A. 150年 B. 110年
C. 100年 D. 70年



64. 【2010 长沙中考】兴起于19世纪60年代的洋务运动

- A. 以“民主”和“科学”为口号
B. 创办了上海轮船招商局等军事工业
C. 刺激了中国民族资本主义的产生，是资产阶级的自救运动
D. 为中国近代化开辟了道路

65. 【2010 长沙中考】大型音乐舞蹈史诗《复兴之路》有一段誓词：“为了民族，为了国家，为了同胞，为了子孙，血战到底！”誓词反映的情境应出现在下列哪一历史时期

- A. 国共十年内战时期 B. 抗日战争时期
C. 文化大革命时期 D. 改革开放新时期

66. 【2010 娄底中考】“割台湾，赔两亿，中国人民争气；开口岸，设工厂，清朝政府无

法管。”这首顺口溜便于我们记忆下列哪一不平等条约的内容？

A. 《南京条约》 B. 《马关条约》 C. 《北京条约》 D. 《辛丑条约》

67. 【2010 娄底中考】20 世纪初，中国先进的知识分子高举“民主”与“科学”两面旗帜，向封建专制制度和封建思想文化进行了猛烈的扫荡。这就是历史上的

A. 新文化运动 B. 戊戌维新运动 C. 文化大革命 D. “大跃进”时期

68. 【2010 娄底中考】江泽民称张学良将军为“伟大的爱国者”，以赞扬他在西安事变中的巨大功绩。西安事变的和平解决，最有利于

A. 国民党 B. 共产党 C. 中华民族 D. 日本

69. 【2010 娄底中考】2010 年 5 月 30 日，温家宝访问日本，在东京发表了讲话称“绝不延续仇恨”，日本留给中国人民的仇恨不包括

A. 南京大屠杀 B. 珍珠港事件 C. 厂窖惨案 D. 常德细菌战

70. 【2010 邵阳中考】19 世纪 70 年代，在当地人民大力支持下，左宗棠收复了（ ）

A. 西藏 B. 甘肃 C. 新疆 D. 云南

71. 【2010 邵阳中考】明年就将迎来辛亥革命 100 周年。下列有关辛亥革命的叙述中，正确的有（ ）

①发生在 1910 年 ②推翻了清王朝 ③结束了中国两千多年的君主专制统治 ④建立了中华民国

A. ①②③ B. ②③④ C. ①②④ D. ①③④

72. 【2010 岳阳中考】《辛丑条约》签订后，一本启蒙读物中这样写道：“这中国，哪一点我还有份；这朝廷，原是一个名存实亡！替洋人，做一个守土长官……”下列《辛丑条约》的条款中，最能体现“替洋人，做一个守土长官”观点的是：

A. 中国赔款白银 4.5 亿两

B. 拆毁大沽炮台，准许各国派兵驻扎在北京至山海关铁路沿线要地

C. 划定东交民巷为“使馆界”，界内不许中国人居住，由各国派兵保护

D. 清政府保证严禁人民参加反帝活动

73. 【2010 岳阳中考】新文化运动在中国近代历史上最突出的贡献是：

A. 开启了近代化进程

B. 解放了人们思想

C. 维护了民族尊严

D. 挽救了民族危亡

74. 【2010 岳阳中考】“宛平城外狼狗叫，卢沟桥上枪声激”这句诗反映的历史事件对中国产生的最主要影响是：

A. 中国局部抗战开始

B. 红军长征胜利

C. 全民族抗战开始

D. 国共十年对峙结束

75. 【2010 岳阳中考】毛泽东诗“钟山风雨起苍黄，百万雄师过大江”描绘的是下列哪次战役？

A. 辽沈战役

B. 渡江战役

C. 淮海战役

D. 平津战役

76. 【2010 岳阳中考】魏源的思想不包括下列哪项内容：

A. 学习西方先进技术

B. 抵制外国侵略势力

C. 建立君主立宪制度

D. 维护清朝统治

77. 【2010 株洲中考】小明班上有位同学自我介绍：“我的祖先曾驱逐过荷兰殖民者，抗击过日本的侵略，经历了与亲人的离别。我现在盼望回到祖国母亲的怀抱。”这位同学来自

A. 台湾 B. 西藏 C. 香港 D. 澳门

78. 【2010 株洲中考】在洋务企业的刺激下，19 世纪六七十年代，中国沿海一些地区


部分官僚、地主、商人、买办和手工业作坊主开设工厂，雇用工人进行生产。这说明洋务运动

- A 引进了西方机器工业 B . 刺激了中国资本主义的产生
C . 培养了一批科技人才 D . 在一定程度上抑制了外国经济势力的扩张

79、【2010 株洲中考】“江山如此多娇，引无数英雄竞折腰，数风流人物，还看今朝。”这是毛泽东在 1936 年写的《沁园春·雪》中的著名词句。此时，中国工农红军


- A . 实现了井冈山会师 B . 到达了吴起镇
C . 完成了二万五千里长征 D . 渡过了金沙江

80、【2010 株洲中考】下面是某同学在研究性学习中使用的图片资料。由此判断，他的研究主题是



卢沟桥和守卫的中国士兵

李宗仁在台儿庄



彭德怀在百团大战前线

八路军与民兵配合拆毁正太铁路

- A . 正面战场抗战 B . 敌后战场抗战
C 八路军与民兵抗战 D . 全民族抗战

81 . 【2010 株洲中考】古代有“投笔从戎”报效国家的班超，近代有中过状元后来走上实业救国道路的

- A 张謇 B . 孙中山
C . 周学熙 D . 荣宗敬

82. 【2010 江苏淮安中考】1901 年《辛丑条约》签订的消息付出，全国上下一片哗然，众人议论纷纷，忧心忡忡。下列议论符合史实的一项是

- A. 割地赔款，丧权辱国
B. 清政府已成为“洋人的朝廷”
C. 允许外国人在中国开办工厂，中国民族工业没指望了
D. 清政府的统治已经被洋人的统治完全取代了

83. 【2010 江苏淮安中考】孙中山领导的辛亥革命实现了 20 世纪中国第一次历史性的巨变，主要是因为

- A. 辛亥革命使中国结束了被侵略被奴役的屈辱历史
B. 辛亥革命推翻了两千多年的封建帝制，使民主共和观念深入人心

- C.辛亥革命使人民获得了真正的民主、自由
- D.辛亥革命使三民主义的理想在中国实现

84.【2010 江苏淮安中考】近代中国，海禁大开。外来事物从四面八方滚滚而来，逐渐改变了人们的社会生活。下列事项不可能出现在 20 世纪 20 年代初北京居民日常生活中的是

- A.出行可以乘坐火车
- B.用电报和亲友联系
- C.可以看到无声电影
- D.可以用上詹天佑研制的纯碱

85.【2010 江苏淮安中考】“红军不怕远征难，万水千山只等闲……”毛泽东的这首诗概括了长征的艰难，赞扬了红军大无畏的革命英雄主义精神。下列有关红军长征的叙述不正确的是

- A.长征的原因是红军主动放弃根据地，要在运动中打败国民党军队
- B.长征途中的遵义会议是中国共产党历史上生死攸关的转折点
- C.1936 年红军三大主力会师，标志着长征胜利结束
- D.长征的胜利，使中国革命转危为安

86.【2010 江苏淮安中考】下列四幅图反映的是人民解放战争时期的重大事件，其中标志着人民解放军转入战略反攻的是



- A.重庆谈判
- B.转战陕北
- C.挺进大别山
- D.渡江战役

87.【2010 江苏南京中考】中国共产党的成立是中国历史上开天辟地的大事。在她成立的大会上，被选举为中央局书记的是



- A.陈独秀
- B.李大钊
- C.毛泽东
- D.董必武

88.【2010 江苏南京中考】“民族工业的黄金时代在近代中国经济发展中占有特殊地位，是

转瞬即逝的没有前途的经济奇迹。”材料中的“黄金时代”主要发生在

- A. 洋务运动期间 B. 戊戌变法期间
C. 第一次世界大战期间 D. 解放战争期间

89. 【2010 江苏苏州中考】今年是鸦片战争爆发 170 周年，学校开展爱国主义电影观摩周活动，有以下四部反映中国近代历史的影视作品，请你按照历史发展进程向同学推荐观看的先后顺序

- ①《孙中山》 ②《鸦片战争》 ③《火烧圆明园》 ④《甲午风云》
A. ①②③④ B. ②③④① C. ③④②① D. ④②①③

90. 【2010 江苏苏州中考】“在同一个理由(保护使馆)下，中国被迫撤除了大沽炮台以及从北京到海口之间的军事据点，取而代之的是各国‘酌定数处留兵驻守’”。据材料信息，与这一现象出现有关的是

- A. 鸦片战争 B. 第二次鸦片战争
C. 甲午中日战争 D. 八国联军侵华战争

91. 【2010 江苏苏州中考】苏州某初级中学九年级(1)班同学为某期黑板报的出刊，收集整理了如下资料：“南昌起义”、“井冈山会师”、“红军长征”、“西安事变”。据此，你可以判断，本期黑板报的主题是

- A. 国民革命，洪流奔涌 B. 十年内战，烽火绵延
C. 八年抗战，同仇敌忾 D. 解放战争，革命胜利

92. 【2010 江苏苏州中考】“为什么要在中国领土上进行军事演习?为什么借口士兵失踪动用大炮?为什么侵略者不撤兵回营，反叫中国守军撤出宛平?”这是美国记者斯诺在 1937 年参加日军召开的一次记者招待会上提出的问题，这一连串的质问主要针对

- A. 柳条湖事件 B. 九一八事变 C. 七七事变 D. 八一三事变

93. 【2010 江苏泰州中考】下列各项内容，按相关不平等条约在中国近代史上签订的时间先后顺序排列，正确的是

- ①割让香港岛给英国 ②清政府保证严禁人民参加反帝活动 ③割台湾、澎湖列岛给日本
A. ①②③ B. ①③② C. ②①③ D. ③②①

94. 【2010 江苏泰州中考】叶圣陶在一则日记中写道：“课毕后阅读报纸，见志电栏中有云：武昌已为革党所据，新军亦起而相应……从此而万恶之政府即以推倒，亦未可知也。”日记反映的重要事件是

- A. 武昌起义 B. 南昌起义 C. 西安事变 D. 渡江战役

95. 【2010 江苏泰州中考】有关以下图片所反映的历史事件的叙述，正确的是

- ①巴黎和会上中国外交失败是其导火线
②“外争国权，内惩国贼”是其斗争目标
③它标志着中国新民主主义革命的开始
④它是中国共产党历史上一个生死攸关的转折点

- A. ①②③ B. ①②④
C. ①③④ D. ②③④



1919 年上海各界支持北平学生示威游行


96. 【2010 江苏泰州中考】某电视台组织了一次“追寻历史足迹”活动，途经卢沟桥和山东的台儿庄等地，是为了纪念

- A. 北伐战争 B. 红军长征 C. 抗日战争 D. 解放战争

97. 【2010 江苏泰州中考】南京是历史文化名城，近代以来，见证了中国历史的风云变幻。下列史实不能印证这一观点的是

- A. 八国联军侵华 B. 中华民国成立
C. 日本法西斯制造屠杀惨案 D. 国民党政权覆灭

98. 【2010 江苏无锡中考】右图是沈阳九一八博物馆最引人注目的“例历碑”。巨大石雕台历上密布着千疮百孔的弹痕，隐约可见无数个骷髅，象征着千万个不泯的冤魂的呐喊和呼号。右面的一页铭刻着中国人民永远难忘的最悲痛的日子——1931年9月18日。左面的一页镌刻着“九一八”事迹的史实。“九一八”事迹后，中国抗日战争进入了



- A. 局部抗战阶段 B. 全面抗战阶段
C. 局部反攻阶段 D. 大反攻阶段

99. 【2010 江苏无锡中考】下列关于百团大战描述正确的是

- A. 粉碎国民党反动派对红军的革命根据地的“围剿”
B. 中国军队主动出击日军的规模最大战役
C. 揭开解放战争战略反攻序幕的伟大历史篇章
D. 抗战防御阶段中国军队打破日军三个月灭亡中国的迷梦和狂妄计划

100. 【2010 江苏无锡中考】学完解放战争这一单元，历史兴趣小组的同学们准备看一部这一时期的影视作品，你认为下列哪部作品可以推荐给他们？

- A. 《秋收起义》 B. 《西安事变》 C. 《小兵张嘎》 D. 《大决战》

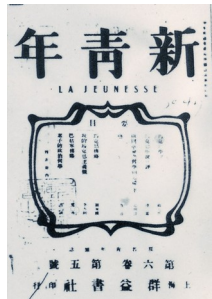
101. 【2010 江苏徐州】1839年，英国驻广州商务监督给首相发出密件，建议向清廷、发出通牒，要求其割让一个岛屿给英王陛下。后来英国通过鸦片战争达到了该目的。这个“岛屿”是

- A. 香港岛 B. 辽东半岛 C. 台湾岛 D. 澎湖列岛

102. 【2010 江苏徐州】2010年5月23日上午，孙中山铜像回迁揭幕仪式在南京市新街口广场隆重举行。孙中山先生受世人敬仰，其丰功伟绩有

- ① 建立中国同盟会 ② 提出三民主义 ③ 亲自发动武昌起义 ④ 成立中华民国
A. ①②③ B. ①②④ C. ②③④ D. ①③④

103. 【2010 江苏徐州】下列书刊中，属于中国近代较早介绍西方生物进化论思想的是



- A B C D

104. 【2010 江苏徐州】1934年，张学良为东北大学校刊题词：“现在唯一救国之方，是坚决决心，把我自己无条件的贡献给社会和我的国家。”下列属于张学良实践自己誓言的行动是

- A. 投身辛亥革命 B. 参加南昌起义

C. 发动西安事变 D. 卢沟桥抗战

105. 【2010 江苏徐州】有首诗写道：“生死攸关转折点，左倾错误受批判。重新确立领导人，党和红军脱危险。”此诗反映的历史事件是

A. 五四运动 B. 中共诞生 C. 遵义会议 D. 挺进中原

106. 【2010 江苏盐城】“以史为鉴，勿忘国耻”。近代使上海蒙辱开放为通商口岸的第一个不平等条约是

A. 《南京条约》 B. 《北京条约》 C. 《马关条约》 D. 《辛丑条约》

107. 【2010 江苏盐城】.不懈的探索是中国近代史的主题之一。下列探索中的口号或主张提出的先后顺序是①“民主”和“科学”②“自强”与“求富”③“民族”“民权”“民生”

A. ①②③ B. ①③② C. ②③① D. ②①③

108. 【2010 江苏盐城】根据右表分析，1911年至1919年我国面粉业出现这种状况的最主要原 因 是

1911-1919年中国面粉业发展情况比较表

时间	面粉厂和机器磨坊（家）	资本（万元）	日产量（万袋）
1911年	40	600多	4.3
1919年	120	4500	18.8

A. 帝国主义忙于“一战”，暂时放松对中国的经济掠夺

B. 辛亥革命冲击了封建制度

C. “实业救国”思潮的鼓舞

D. 中国民族工业实力雄厚

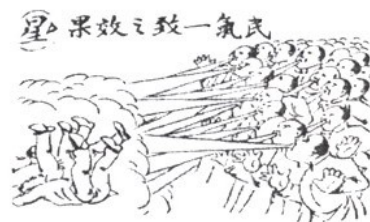
109. 【2010 江苏盐城】如图是马星驰先生所作的漫画《民气一致之效果》，它深刻揭示五四运动取得初步胜利的主要原因是

A. 中国共产党的正确领导

B. 枪杆子里面出政权

C. 各阶层人民的联合斗争

D. 北伐战争的推动



110. 【2010 江苏盐城】某历史学习小组在讨论人民解放军转入战略反攻的标志时，出现了四种不同的意见。其中正确的是

A. 重庆谈判 B. 刘邓大军挺进大别山 C. 辽沈战役 D. 渡江战役

111. 【2010 江苏扬州】1843年的某一天，在英国伦敦造币厂门前停着长长的一队马车，每辆车上都载着写有“大清”字样的木箱，里面装满了银元。这些银元可能是下列哪一不平等条约的赔款？

A. 《南京条约》 B. 《北京条约》 C. 《马关条约》 D. 《辛丑条约》

112. 【2010 江苏扬州】洋务派认为“自强以练兵为要，练兵又以制器为先”。在洋务运动中能体现“制器为先”的是



A. 江南制造总局



B. 开平矿务局



C. 汉阳铁厂



D. 上海轮船招商局

A. 江南制造总局 B. 开平矿务局 C. 汉阳铁厂 D. 上海轮船招商局

113. 【2010 江苏扬州】近代史上，中国人自行设计和施工的第一条铁路是

A. 京沪铁路 B. 京张铁路 C. 京九铁路 D. 京津铁路

114. 【2010 江苏扬州】一百年前的某一天，《申报》记者老费前去采访大生纱厂的创办人——一个主张实业救国的晚清状元，这位状元实业家是

A. 林则徐 B. 张謇 C. 周学熙 D. 李鸿章

115. 【2010 江苏扬州】民生问题是一个重要的社会问题。孙中山在中国近代最早关注并提出“民生”，他主张

A. 驱除鞋虏 B. 恢复中华 C. 创立民国 D. 平均地权

116. 【2010 江苏扬州】中国共产党创建的第一个农村革命根据地是

A. 左右江革命根据地 B. 井冈山革命根据地

C. 闽浙赣革命根据地 D. 湘鄂边革命根据地

117. 【2010 江苏扬州】张学良将军之所以被称为“中华民族的儿子，中国共产党肝胆相照的真挚朋友”，主要是因为他

A. 归属南京国民政府 B. 参加北伐战争

C. 发动西安事变 D. 参加重庆谈判

118. 【2010 江西中考】在谈到道光皇帝（1821-1850 年在位）为什么把他的墓修筑得比其他帝王墓都要矮小时，北京师范大学历史学院龚书铎教授说：是因为“在他手上打了败仗丢了土地，没有面目见先帝”。这里所说的“土地”是指

A. 广州 B. 香港岛 C. 台湾 D. 辽东半岛

119. 【2010 江西中考】如果要在《历史的转弯处——晚清帝国回忆录》一书中迅速找到左宗棠抗击外来侵略、维护国家统一的事迹，你应该查找下列哪一目录的内容

A. 1871:伊犁记 B. 1894:甲午记 C. 1898:变法记 D. 1900:庚子记

120. 【2010 江西中考】某班模拟了一次“红色旅游”的推介活动。下列主题，适用于介绍井冈山的是

A. 红色的小船——见证了党的诞生 B. 英雄的城市——诞生了八一军魂

C. 革命的摇篮——开创了革命新路 D. 七大的会场——指明了光明前途

121. 【2010 江西中考】随着民族危机的步步加深，近代中国出现了多种救国思潮。下列人物，主张“实业救国”的是

A. 魏源 B. 严复 C. 康有为 D. 张謇

122. 【2010 山西省卷】中华民族全民族抗战开始的标志是

A. 九一八事变 B. 西安事变 C. 卢沟桥事变 D. 重庆谈判

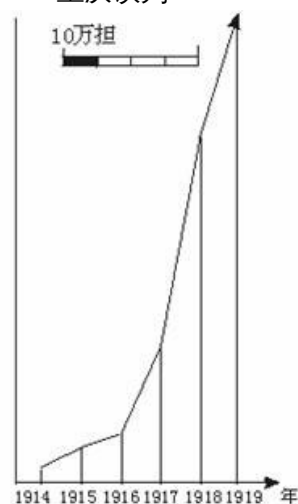
123. 【2010 山西省卷】下图是“一战”期间中国面粉出口增长表。出现这种趋势的主要原因是

A. 北洋政府提出实业救国

B. 日本给北洋政府经济援助

C. 北洋政府重视民族工业的发展

D. 帝国主义忙于战争，放松对中国的侵略



第一次世界大战期间中国面粉出口增长表

124. 【2010 四川巴中中考】1840 年鸦片战争以来，外国列强强迫清政府签订了一系列不平等条约，下列内容与条约不相匹配的一项是_____。

- A. 《南京条约》-割让香港岛
- B. 《马关条约》——割让台湾
- C. 《北京条约》——设东交民巷为使馆界
- D. 《辛丑条约》——赔款白银 4.5 亿两

125. 【2010 四川巴中中考】“以农村包围城市，最后夺取胜利”是中国共产党走出的符合中国国情的革命道路，这条道路的开辟始于_____。

- A. 中央革命根据地的建立
- B. 井冈山革命根据地的建立和巩固
- C. 敌后抗日根据地的建立
- D. 川陕革命根据地的建立

126. 【2010 四川巴中中考】每年五四青年节，青年们激情飞扬，用青春的活力，蓬勃的朝气来纪念五四运动，那么关于这一运动的说法正确的是_____。

- A. 它是中国旧民主主义革命的开端
- B. 导火线是中国在华盛顿会议上的外交失败
- C. 运动的口号有：自强、求富
- D. 是一次彻底的反帝反封建的爱国运动

127. 【2010 四川巴中中考】历史课上，老师要求学生列举新文化运动的主要代表人物，下列是一位同学的列举结果，其中有一项不恰当，请你帮他挑选出来_____。

- A. 李大钊
- B. 陈独秀
- C. 李鸿章
- D. 胡适

128. 【2010 四川巴中中考】文献纪录片《走近毛泽东》中有这样一个情节：在西柏坡的院子里，警卫员给毛泽东梳头时拔下一根白发，毛泽东打趣地说：“打了三个胜仗，白了一根头发，值得！”这“三个胜仗”是指_____。

- ① 平津战役
- ② 辽沈战役
- ③ 淮海战役
- ④ 台儿庄战役

- A. ①②③
- B. ②③④
- C. ①③④
- D. ①②④

129. 【2010 四川巴中中考】标志十年内战基本结束，促进国共合作抗日局面出现的事件是_____。

- A. 一二·九运动的爆发
- B. 卢沟桥事变的爆发
- C. 八·一三事变的爆发
- D. 西安事变和平解决

130. 【2010 成都卷】清期统治后期，地主阶级中的洋务派掀起了洋务运动，其主观目的是

- A. 把中国引向资本主义
- B. 为中国近代化开辟道路
- C. 引进西方的政治制度
- D. 维护清朝统治

131. 【2010 成都卷】近代时期，在清政府被迫签订的不平等条约中，首次出现允许外国人在中国通商口岸开设工厂条款的是

- A. 中美《望厦条约》
- B. 中英《北京条约》
- C. 中日《马关条约》
- D. 《辛丑条约》

132. 【2010 成都卷】观察右图，这是位于成都市人民公园内的一座历史纪念碑。该碑是为了纪念

- A. 武昌起义
- B. 辛亥革命
- C. 保路运动
- D. 南昌起义

133. 【2010 成都卷】“孙中山，开炮了；革命党，进城了……”这是大型音乐舞蹈史诗《复兴之路》中的一段童谣。这段童谣反映的历史事件是



150 多万平方千米。其中割占巴尔喀什湖以东以南 44 万多平方千米领土的不平等条约是

- ①中俄《璦琿条约》 ②中俄《北京条约》
③中俄《勘分西北界约记》 ④中俄《改定条约》
A. ①②③④ B. ①③④ C. ②③ D. ②

146. 【2010 四川资阳卷】一位工人进日本在重庆开设的工厂做工，此事最早可能发生在

- A. 鸦片战争后 B. 洋务运动中 C. 第二次鸦片战争后 D. 甲午中日战争后

147. 【2010 重庆市卷】结束了“左”倾冒险主义在党中央的统治，确立了毛泽东在党和红军中的领导地位，成为中国共产党历史上生死攸关的转折点的会议是

- A. 中共一大 B. 遵义会议 C. 中共七大 D. 中共十一届三中全会

148. 【2010 重庆市卷】图片是形象的史料。下列图片反映的历史事件按发生的先后顺序，正确的是



- ① 重庆谈判 ② 南昌起义 ③ 五四运动 ④ 人民解放军占领南京总统府

- A. ①②③④ B. ①④③② C. ①③②④ D. ③②①④

149. 【2010 重庆綦江卷】2010 年世界博览会在上海举行，上海已成为一座国际化大都市，它见证了近代中国社会的百年变迁。以下重大历史事件发生在上海的有

- ① 中共的成立 ② 黄埔军校的建立 ③ 淞沪抗战 ④ 中共七大的召开

- A. ①② B. ②③ C. ①③ D. ③④

150. 【2010 重庆綦江卷】綦江某校八年级(2)班学生在老师的带领下到我县石壕镇进行历史遗址的考察活动。在烈士墓前，同学们了解到，有 5 位战士随部队转战贵州途经石壕时不幸牺牲长眠于此。你知道这 5 位烈士的牺牲与新民主主义革命时期哪一历史事件有关吗？

- A. 北伐战争 B. 红军长征 C. 抗日战争 D. 解放战争

151. 【2010 重庆綦江卷】标志着十年内战基本结束，促进了国共合作抗日局面出现的历史事件是

- A. 九一八事变 B. 八一三事变
C. 七七事变 D. 西安事变和平解决

152. 【2010 重庆綦江卷】右图情景发生在下列哪次重大战役中？

- A. 渡江战役 B. 淮海战役
C. 辽沈战役 D. 平津战役

