

2019年潍坊市初中学业水平考试历史试题

一、选择题：本大题共 25 小题，每小题 2 分，共 50 分。

1. (2019·潍坊中考) 右图为清代潍县籍收藏家陈介祺收藏过的青铜器毛公鼎，是毛公为铭记周王册封而铸。它属于 ()

- A. 酒器
- B. 食器
- C. 乐器
- D. 礼器



2. (2019·潍坊中考) “自古皆封建诸侯，各君其国”。秦朝改变这一局面的重大措施是 ()

- A. 实行郡县制
- B. 统一货币
- C. 统一度量衡
- D. 设置丞相

3. (2019·潍坊中考) 央视《国宝档案》曾介绍过青州博物馆“镇馆之宝”——赵秉忠状元卷。“状元”这一称号源于 ()

- A. 百家争鸣
- B. 商鞅变法
- C. 刺史制度
- D. 科举制度

4. (2019·潍坊中考) 有人估算，十七、十八世纪，约占世界总产量一半的白银输入中国，大多成为流通货币。这反映出当时中国 ()

- A. 君主专制强化
- B. 商品经济发达
- C. 科技领先世界
- D. 农业经济衰落

5. (2019·潍坊中考) 清代潍县县令郑板桥以竹寄情，表达爱民情怀的诗句是 ()

- A. 人生自古谁无死，留取丹心照汗青
- B. 等闲识得东风面，万紫千红总是春
- C. 些小吾曹州县吏，一枝一叶总关情
- D. 纵使思忖千百度，不如亲手下地锄

6. (2019·潍坊中考) 《申报》评论道：中国自仿行西法以来，铁舰钢舰，其大倍于日本，其数亦多于日本，而又设机器局以制枪械……十余年来，旧观顿改。这反映了当时中国 ()

- A. 民用工业远超日本
- B. 近代军事工业发展
- C. 海上交通运输发达
- D. 旧式兵器全部淘汰

7. (2019·潍坊中考) 右图漫画描绘了《辛丑条约》签订后，列强载歌载舞，中国充当局外看客的场景。它反映了 ()

- A. 列强在华利益冲突消失
- B. 中国领土主权完全丧失
- C. 中国沦为半殖民地社会
- D. 列强掀起瓜分中国狂潮



8. (2019·潍坊中考) 它是波澜壮阔的反帝爱国运动，又具有盲目排外的落后性。它是 ()

- A. 义和团运动
- B. 护国战争
- C. 新文化运动
- D. 北伐战争

9. (2019·潍坊中考) 1901 年，“建设新中国”一词在报刊上频繁出现，有人倡言“推翻旧政府”“立党救国”。这反映了 ()

- A. 维新变法影响深远
- B. 中国同盟会力量壮大
- C. 革命思想迅速传播
- D. 国民党政权风雨飘摇

10. (2019·潍坊中考) 1905 年 5 月，依然被称为“老爷”的京师大学堂学生，穿起了短袖衫，开始了首届西式运动会。这反映了京师大学堂 ()

- A. 是中国近代首所新式学校
- B. 具有新旧交织的时代特点
- C. 创办于科举制度废除之后
- D. 首创完备的新式教育体制

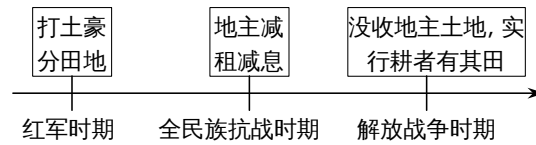
11. (2019·潍坊中考) 史学家常把 1916 年至 1927 年成为中华民国历史上最黑暗的时期。其主要依据是这一时期 ()

- A. 帝制复辟
- B. 军阀混战
- C. 日本侵华
- D. 东北易帜

12. (2019·潍坊中考) 为庆祝新中国成立 70 周年, 山东广播电台“齐鲁英烈谱”讲述了王尽美的革命事迹。他取名“尽美”表达了 ()

- A. 坚定献身革命的信念
- B. 投身家乡建设的豪情
- C. 追求个人幸福的愿望
- D. 抗击外地入侵的决心

13. (2019·潍坊中考) 下列年代尺反映了中国共产党在不同时期的土地政策。这表明中国共产党 ()



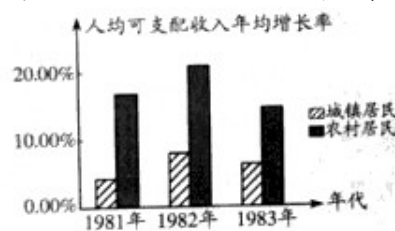
- A. 不断扩大农村革命根据地
- B. 放弃攻打中心城市计划
- C. 建立根据地抗日民主政权
- D. 重视发挥农民革命作用

14. (2019·潍坊中考) 1972 年, 美国《时代》周刊封面用一个“友”字将尼克松访华的不同画面进行了巧妙呈现。尼克松访华 ()



- A. 促成了朝鲜战争停战
- B. 消除了大国霸权主义
- C. 改变了世界政治格局
- D. 确立了中美同盟关系

15. (2019·潍坊中考) 观察下图, 形成图中所示现象的原因是 ()

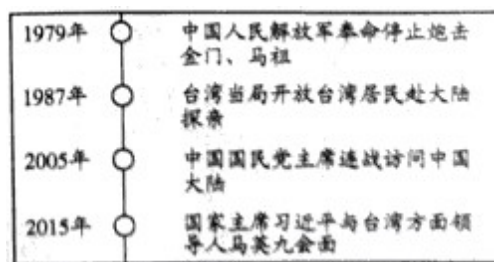


- A. “一五计划”的实施
- B. “三大改造”的完成
- C. 农村改革的成功
- D. 经济特区的建立

16. (2019·潍坊中考) 1984 年以来, 潍坊国际风筝会从举办小型工业品展销到召开鲁台经贸洽谈会、中日韩产业博览会, 从政府主办到市场化运作。这反映出潍坊国际风筝会 ()

- A. 以交流风筝文化作为惟一目的
- B. 是汪辜会谈的重要成果
- C. 是潍坊市建成小康社会的标志
- D. 是扩大开放的重大举措

17. (2019·潍坊中考) 下图是某同学制作的探究学习卡片。从中能够得出的结论是 ()



- A. “一国两制”构想逐步形成
- B. 海峡两岸交往交流日益密切
- C. 独立自主和平外交政策确立
- D. 香港、澳门回到了祖国怀抱

18. (2019·潍坊中考) 右图是英国庄园示意图, 对其表述正确的是 ()



- A. 林地与荒地归领主直接经营
- B. 领主土地的收入归庄园所有
- C. 佃户不需要耕种领主的领地
- D. 份地是佃户的主要生活来源

19. (2019·潍坊中考)《你一定爱读的极简欧洲史》一书认为：文艺复兴是中世纪世界遭到的第一个重大冲击。文艺复兴冲击了()

- A. 手工工场
- B. 租地农场
- C. 神权至上
- D. 人文主义

20. (2019·潍坊中考)17世纪,欧洲国家对俄国非常陌生,一位法国官员竟然给已经去世了12年的沙皇寄了一封信。改变这一状况的是()

- A. 彼得一世改革
- B. 《共产党宣言》发表
- C. 1861年改革
- D. 《凡尔赛条约》签订

21. (2019·潍坊中考)十七世纪以前,中国土布大量输往欧美;到十八世纪,情形完全变了,土布失去了输出的机会,洋布却大量涌进中国。这是因为()

- A. 第一次工业革命
- B. 第二次鸦片战争
- C. 第二次工业革命
- D. 《马关条约》签订

22. (2019·潍坊中考)一战前,一位德国大臣说:“皇上首要的和基本的思想就是粉碎英国的霸权,以有利于德国”。这表明德国参加一战是为了()

- A. 扼杀巴黎公社
- B. 争夺世界霸权
- C. 解放黑人奴隶
- D. 推动欧洲联合

23. (2019·潍坊中考)《文明》一书调侃:“冷战”时期最为让人难以理解的事情,或许就是为什么苏联生产不出一条像样的牛仔裤。这暴露了()

- A. 战时共产主义的缺陷
- B. 农奴制的落后性
- C. 新经济政策的局限性
- D. 苏联模式的弊端

24. (2019·潍坊中考)1929~1933年资本主义经济危机期间,各国争相提高关税,世界贸易锐减2/3。这说明经济危机()

- A. 推动了区域经济发展
- B. 提高了国家竞争力
- C. 加速了资本主义灭亡
- D. 阻碍了经济全球化

25. (2019·潍坊中考)20世纪80年代后期,欧美上流餐厅以棕榈心沙拉为特色,人们竭尽所能地在亚马孙河上游搜索做这种沙拉的原料。这种行为()

- A. 破坏了自然环境
- B. 造成了人口问题
- C. 导致了普遍饥荒
- D. 引发了温室效应

二、非选择题:本大题共3小题,第26小题16分,第27小题18分,第28小题16分,共50分。

26. (2019·潍坊中考)唐诗、宋词、元曲是中华优秀传统文化中的璀璨明珠,从中可感受文学魅力,一览历史胜景。阅读材料,回答问题。

文学览胜一:唐诗——春风得意马蹄疾,一日看尽长安花

唐朝诗人创作了大量诗歌,谱写了丝路明珠长安的繁华。俯瞰长安城,“百千家似围棋局,十二街如种菜畦”。街市上,熙熙攘攘,“水门向晚茶商闹,桥市通宵酒客行”。在唐朝的宫殿上,“万国衣冠拜冕旒

(借指皇帝)”。考试吸引着越来越多的读书人,“喧喧车马欲朝天,人探东堂榜已悬”。妇女引领者时尚,“女为胡妇学胡妆……胡音胡骑与胡妆。五十年来竟纷泊”。

——据《以诗证史——以唐诗看唐都长安的繁华》

(1) 据材料和所学知识,以长安为例,归纳唐朝繁盛的表现。(4分)

文学览胜二:宋词——长忆钱塘,不是人寰是天上

杭州是海上丝绸之路的重要港口,唐代已“户口日益增”“开肆三万室”,至宋代更为东南繁华之最,“衣冠毕会,商贾云集”。柳永词“东南形胜,三吴都会,钱塘自古繁华……参差十万人家”,潘阆词云“万家掩映翠微间”。

——据《宋朝诗歌所反映的宋朝城市市场分析》

(2) 据材料和所学知识,概括杭州在唐宋时期的发展盛况。(4分)简要分析其在宋代成为“东南繁华之最”的原因。(4分)

文学览胜三:元曲——四围锦绣繁华地,车马喧天闹起

元朝建立后,丝绸之路更加通畅,东西交往频繁。马致远在散曲中赞美:“至治华夷,正堂堂大元朝世……小国土尽来朝”。贯云石也在散曲中唱道:“江山富,天下总欣伏,大元至大古今无”。清代魏源说:“元有天下,其疆域之袤,海漕之富,兵力物力之雄廓,过于汉唐”。

——据《元曲的人文精神与文化启示》

(3) 据材料和所学知识,举一史实说明元朝疆域“过于汉唐”。(2分)马致远、贯云石、魏源对元朝有什么共同认识?(2分)

27. (2019·潍坊中考)诵读红色书信,传承红色力量,一封封书信穿越时空,传递着先辈们的执着追求和家国情怀。阅读材料,回答问题。

材料一 男在此为国作事,非谓有男国即不亡,乃国家育养学生,岁靡巨万,一旦有事,学生尚不出力,更待谁人?忠孝二途,本非相悖,尽忠即所以尽孝也……今遇此事,犹不能牺牲,岂足以谈爱国?



——1919年5月17日清华学子闻一多给父母的家书

(1) 据材料一和所学知识指出,家书反映了闻一多怎样的家国情怀?(2分)当时进步学生提出了什么主张?(4分)

材料二 1937年11月,朱德的家信:我担负革命工作昼夜奔忙,十余年来坚(艰)苦生活,无一文薪水,与士卒同甘苦,决非虚语……进来转战华北,常处在敌人后方,一月之内二十九日行军作战……我决不能再顾家庭,家庭亦不能再累我革命……为国为民族求生存,决心抛弃一切,一心杀敌。

——据央视大型综艺《信·中国》首期

(2) 据材料二和所学知识指出,信中体现了人民军队的哪些优良传统?(4分)朱德“转战华北”有

什么重大意义？（4分）

材料三 1950年初，“两弹一星”元勋朱光亚起草了《给留美同学的一封信》：从现在起……团结一心，合力建设一个新兴的中国，一个自由民主的中国……我们有充分的信念，我们是在朝着充满光明前途的大道上迈进，这个建设新中国的责任是要我们分担的。同学们，祖国在召唤我们，我们还犹豫什么？彷徨什么？我们该回去了。

——据央视大型综艺《信·中国》第三期

(3) 据材料三和所学知识，简要概括这封书信的历史背景。（2分）朱光亚在信中发出了什么倡议？（2分）

28. (2019·潍坊中考) 文明因交流而多彩，文明因互鉴而丰富。阅读材料，回答问题。

材料一 中国有利于水稻和小麦种植的土地相对太缺乏了，从这个角度看，哥伦布大交换是很大的恩惠，中国迫不及待地接收了它，原来不能种植水稻和小麦的土地，可以种植甘薯等作物。甘薯、玉蜀黍、大花生、烟草、辣椒、菠萝、腰果、树薯（木薯），所有这些都流入福建、广东，并逐渐传播至中国各地。这一切都成为了中国人日常生活的一部分——谁能想象，若没有成堆的辣椒，今天的川菜会是什么样子？

——据《1493——物种大交换开创的世界史》

(1) 据材料一和所学知识，“哥伦布大交换”在中国起了什么作用？（4分）中华文明对“哥伦布大交换”做出了什么贡献？（2分）

材料二 一位日本历史学家这样宣称：“在我们的文明中，任何看起来本质上属于日本的东西，实际上都是舶来品”。早在6世纪，就出现了一个中国的日本，自1868年起，又出现了一个非常成功的日本。日本具有非常明显的可塑性，它把借来的许多东西转化成自己独特的文明。

——据《文明史——人类五千年文明的传承与交流》

(2) 据材料二和所学知识，指出什么事件导致1868年“又出现了一个非常成功的日本”？（2分）概括日本文明的特点。（4分）

材料三 1788年，革命的百年纪念近了，英国人开始仔细审视英国政治的现状。大西洋的另一边，托马斯·潘恩于1776年1月发表《常识》，主张美国人为维护天赋权利而反抗，不仅是权利，而且是使命。美国人学到的这一课，当然没有在大西洋这一边被人忽视，特别是没有被那些一直评论美国独立战争的人忽视。

——据《英国史——帝国的命运》



(3) 据材料三和所学知识，概括潘恩的主张。（2分）美国独立战争对“大西洋这一边”的法国产生了什么影响？（2分）

答案解析

1. D【解析】本题考查的是商周时期青铜器的功能。据所学知识，商周时期，青铜器的功能已由食器等发展到礼器，成为王公贵族象征身份地位乃至国家权力的代表性器物。再结合题干中的“毛公为铭记周王册封而铸”即可看出答案选D。

2. A【解析】题干史料“自古皆封建诸侯，各君其国”指的是西周时期的“封邦建国”实行分封制，秦朝建立后废除分封制，实行郡县制。故选A。

3. D【解析】据所学知识，“状元”是科举制度下进士及第第一名的称号。

4. B【解析】据所学知识，货币是商品经济繁荣的产物。结合题干所述，不难看出当时中国商品经济发达。

5. C【解析】据所学知识，郑板桥之所以被称为“枝叶关情”的潍县县令，主要是来自其“些小吾曹州县吏，一枝一叶总关情”的诗句。

6. B【解析】由题干材料中的“仿行西法”“铁舰钢舰”“机器局以制枪械”等信息，即可联系到洋务运动中大力发展近代军事工业，使中国武器装备“旧观顿改”的史实。

7. C【解析】注意题干所示漫画出现在《辛丑条约》签订后，故本题考查的是《辛丑条约》的签订对中国的影响，即使中国沦为半殖民地半封建社会。

8. A【解析】据所学知识，符合题干中“反帝爱国运动”“盲目排外的落后性”这些特点是义和团运动。

9. C【解析】结合题干中“1901年”这个时间和“推翻旧政府”“立党救国”，即可联系到《辛丑条约》签订后，中国民族危机空前深重，在此背景下，革命思想迅速传播。

10. B【解析】据题干材料可以看出，当时京师大学堂的学生一方面仍被称为“老爷”，这是旧时代的称呼，另一方面“穿起了短袖衫，开始了首届西式运动会”，这是新时代的特点。故选B。

11. B【解析】据所学知识，1916年袁世凯复辟帝制失败，之后死去，北洋军阀分裂，中国进入军阀混战时期，到1927年，伴随着北伐战争的胜利，这一局面才基本结束。

12. A【解析】据所学知识，1921年党的成立坚定了王尽美的革命信念，他改名为王尽美，取尽善尽美之意，故选A。

13. D【解析】注意题干信息“中国共产党在不同时期的土地政策”，这说明该题中国共产党在新民主主义革命的不同时期都很重视农民的利益，解决农民的土地问题，以此来赢得农民对党的革命事业的支持。故选D。

14. C【解析】本题考查尼克松访华的重大意义。据所学知识，尼克松访华促使中美两国由敌视对抗到关系开始走向正常化，改变了当时世界政治大格局。

15. C【解析】由题干图片可以看出，1981年至1983年，相比城镇居民，农村居民人均可支配收入增长幅度较大，再结合这个时间段，不难判断出这是由于农村实行家庭联产承包责任制导致农村经济

发展起来的表现。故选 C。

16 . D【解析】本题考查的是潍坊举办国际风筝会的主要目的。潍坊举办国际风筝会是在改革开放之后，其主要目的是通过举办这一国际盛会扩大对外开放，以发展潍坊社会经济。

17 . B【解析】结合所学知识，题干所示探究学习卡片反映了改革开放后海峡两岸交往交流日益密切的事实。

18 . D【解析】据所学知识，庄园内领主直接经营的是直领地，领土土地收入归领主所有，佃户要为领主提供劳役服务，义务耕种领主的“直领地”，故选项 ABC 均说法不符合史实，正确答案选 D。

19 . C【解析】据所学知识，文艺复兴是一场反对教会“神权至上”和提倡人文主义的思想解放运动，故它冲击了神权至上观念。

20 . A【解析】据所学知识，18 世纪俄国进行的彼得一世改革开始向西欧学习，开启了俄国的近代化进程，这才改变了“欧洲国家对俄国非常陌生”的状况。

21 . A【解析】据所学知识，18 世纪 60 年代，英国开始了第一次工业革命，首先从纺织工业开始这导致洋布产量大增、质量提高，这才出现“十八世纪……洋布却大量涌进中国”的现象。

22 . B【解析】结合所学知识，由题干材料中的“粉碎英国的霸权，以有利于德国”即可看出德国参加一战是为了争夺世界霸权。

23 . D【解析】据所学知识，苏联自社会主义工业化建设以来就存在一个过分注重重工业、忽视轻工业的现象，这才导致“苏联生产不出一条像样的牛仔裤”，即苏联模式的弊端。

24 . D【解析】据所学知识，经济危机期间“各国争相提高关税，世界贸易锐减 2/3”，导致经济全球化受到了严重阻碍。

25 . A【解析】据所学知识，题干材料所示人类为追求自身的享受而无限地向大自然索取，这将导致自然环境被严重破坏。

26 . (1) 经济高度繁荣，文化高度发达，商业十分繁华，中外交流频繁，社会风气开放，文学艺术灿烂辉煌，等等。(2) 盛况：是海上丝绸之路的重要港口；商业繁盛，人口众多，等等。原因：经济重心南移；政府鼓励海外贸易；农业、手工业发达，商业繁荣，等等。(3) 史实：元朝时，西藏正式成为中央直接管辖下的一个地方行政区域。共同认识：元朝疆域辽阔，经济繁荣，交通发达。

27 . (1) 以天下为己任的爱国主义情怀。主张：外争国权，内惩国贼；还我青岛；取消二十条等等。(2) 传统：艰苦奋斗；官兵平等。意义：打击了日军的侵略气焰，振奋了全国军民争取抗战胜利的信心。(3) 背景：1949 年 10 月日，新中国成立。倡议：海外学子回归祖国，合力建设新中国。

28 . (1) 作用：促进了中国农业的发展；使中国物种急剧增多；使中国农作物种植面积扩大；改变了中国人的生活，等等。贡献：中国发明的指南针为哥伦布发现美洲新大陆提供了条件。(2) 事件：明治维新。特点：善于学习外部文明；具有可塑性；善于借鉴先进文明等。(3) 主张：天赋人权。影响：

推动了法国大革命的爆发。

积分超值换

活动时间：2019年4月23日-6月30日

活动对象：中小学一线教师以及教育工作者



扫一扫 换礼啦

积分兑换更超值



会员升级服务第一拨 · 清北季



神马，有清华北大学霸方法论课；还有清华学霸向所有的父母亲述自己求学之路；

衡水名校试卷悄悄的上线了；

扫qq领取官网不首发课程，很多人我没告诉他啊！

会员qq专享等你来撩.....