

湖南省张家界市 2020 年普通初中学业水平考试试卷

历史

一、选择题

1. 向阳中学某历史研学小组计划暑假实地考察中国早期人类代表——北京人的生活遗址。他们应该去的地方是

- A. 周口店遗址 B. 半坡遗址 C. 河姆渡遗址 D. 元谋遗址


2. 湖湘文化是中国传统文化的重要组成部分，胸怀祖国、忧国忧民、上下求索、敢为人先是其重要特征。开启湖湘文化源头的人是

- A. 屈原和周敦颐 B. 周敦颐和王船山
C. 屈原和贾谊 D. 贾谊和王船山

3. 下列历史事件与广受热议的电视连续剧《贞观长歌》相关的是

- A. “文景之治” B. “贞观之治”
C. “光武中兴” D. “开元盛世”

4. 学习中国古代史要善于抓住“朝代更替”这条主线。与如图中①②③相对应的朝代是



中国古代朝代更替示意图（局部）

- A. 隋朝、五代、宋朝 B. 隋朝、宋朝、元朝
C. 明朝、隋朝、宋朝 D. 商朝、三国、隋朝

5. 中国是世界上最早使用货币的国家之一，在中国古代货币发展过程中先后经历了几次重要的演变。下列演变开始于北宋的是

- A. 自然货币向人工货币演变 B. 由杂乱形状向统一货币演变
C. 由地方铸币向中央铸币演变 D. 由金属货币向纸币“交子”演变

6. 自 1405 年起，明代航海家郑和率船队七下西洋，扩大了中国与亚非国家 经济文化交流。1492 年，哥伦布率船队横渡大西洋到达美洲的巴哈马群岛，开辟了通往美洲的航路。为两者成功航行提供重要条件和直接帮助的是

- A. 造纸术 B. 印刷术 C. 指南针 D. 火药

7. 19 世纪末 20 世纪初，在中国近代化探索的历程中，一些先进中国人学习西方政治制度的实践探索是

- ① 洋务运动 ② 戊戌变法 ③ 辛亥革命 ④ 新文化运动

- A. ①② B. ②③ C. ①④ D. ③④

8.民国以后，“剪发兴，辫子灭；爱国帽兴，瓜皮帽灭；天足兴，缠足灭；鞠躬礼兴，跪拜礼灭”这些变化体现了

- A. 婚姻自主意识增强 B. 交通通讯新变化
C. 休闲生活方式新变化 D. 自由平等新风尚

9.它坚持斗争 14 年，转战大半个中国，沉重打击了清朝的统治和外国侵略势力，是中国历史上规模最大的农民战争。“它”指的是

- A. 陈胜吴广起义 B. 李自成起义 C. 太平天国运动 D. 义和团运动

10.“若卖国首领未诛，卖国条约未废，亡国之祸终难幸免”；“签字而山东亡，山东亡而全国随之，亡国大难迫于眉睫。吾同胞忍坐视家国之亡而甘心作奴隶乎？”材料反映的历史事件是

- A. 西安事变 B. 五四运动 C. 北伐战争 D. 一二·九运动

11.今年是中国共产党诞生 99 周年。下列所述与中国共产党诞生历史意义相符的是

- A. 中国历史上开天辟地的大事 B. 党的历史上生死攸关的转折
C. 为抗战最后胜利准备了条件 D. 新中国党的历史上的伟大转折

12.1928 年，毛泽东总结道：“我们闹革命，光是跑来跑去是不行的，一定要有一个家，不然就很困难。有了这个家，就可以作为同敌人进行革命斗争的根据地。”中国共产党创建的第一个“家”是

- A. 左右江革命根据地 B. 鄂豫皖革命根据地
C. 湘鄂西革命根据地 D. 井冈山革命根据地

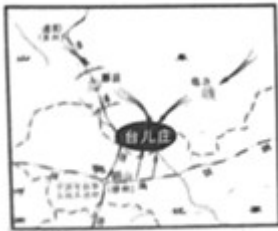
13.2015 年 6 月 9 日《参考消息》登载了河北省军区副司令员王志国一篇文章“十四年抗战说’蕴含多重意义。”文中“十四年抗战说”是把哪一事件作为抗日战争的开端

- A. 九一八事变的爆发 B. 淞沪会战 C. 武汉会战 D. 七七事变的爆发

14.1935 年 11 月 19 日，遵照中央指示，红二、六军团 1.7 万余人在贺龙、任弼时等的领导下开始长征。其长征的出发地是

- A. 永定区 B. 慈利县 C. 武陵源区 D. 桑植县

15.解放战争时期，毛泽东非常形象地说：“蒋介石两个拳头（指陕北和山东）这么一伸，他的胸膛就露出来了。所以，我们的战略就是要把这两个拳头紧紧地拖住，对准他的胸膛插上一刀。”下列示意图中，实现了毛泽东这一战略意图的是



A.

台儿庄战役示意图



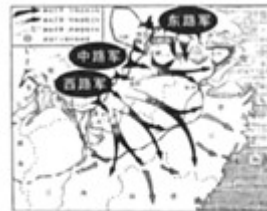
B.

挺进大别山示意图



C.

三大战役示意图



D.

渡江战役示意图

16.为了肃清湘西匪患，打开进军西南的通道，1949—1951年，中国人民解放军第四十七军和第三十八军、第四十六军一部在湘西开展的三年多艰苦卓绝的斗争是

- A. 剿匪斗争 B. 土地改革 C. 镇压反革命 D. “三反”“五反”运动

17.如图是某同学对某一历史事件做的课堂笔记内容。该内容反映的主题是

- (1) 时间：1953年—1957年
 (2) 主要任务：集中主要力量发展重工业
 (3) 主要成就：长春第一汽车制造厂、武汉长江大桥、青藏公路、川藏公路、新藏公路

- A. 国有企业改革 B. 三大改造
 C. 家庭联产承包责任制 D. “一五”计划

18.通过“两河流域”“楔形文字”“汉谟拉比法典”等关键词，可以联想到的文明古国是

- A. 古埃及 B. 古印度 C. 古巴比伦 D. 古代中国

19.在日常生活中，我们常常接触到“因果报应”“生死轮回”“众生平等”“大慈大悲”等词语。这些词语来源于公元前6世纪创立的

- A. 佛教 B. 基督教 C. 伊斯兰教 D. 道教

20.“地跨欧亚非三大洲，延续时间达一千多年之久，对东西方文化兼收并蓄，为文艺复兴提供丰富的精神营养”的大帝国是

- A. 罗马帝国 B. 拜占庭帝国 C. 阿拉伯帝国 D. 亚历山大帝国

21.如图人物命运多舛，28岁患耳疾，后来两耳完全失聪，但勇于与命运抗争，创作出了《英雄交响曲》等不朽乐章。这位音乐家是



- A. 贝多芬 B. 牛顿 C. 聂耳 D. 但丁

22. 马克思主义诞生的标志是 ()

- A. 《权利法案》的通过 B. 《独立宣言》的发表
C. 《人权宣言》的通过 D. 《共产党宣言》的发表

23. 19 世纪上半叶，农奴在俄国全国人口占很大比重，他们饱受虐待，被随意买卖，不堪忍受的农奴发动了一千多次起义：1853—1856 年，俄国在克里木战争中败于土耳其。面对严重的内外危机，俄国沙皇亚历山大二世

- A. 实行罗斯福新政 B. 实行苏俄新经济政策
C. 废除农奴制改革 D. 实行明治维新

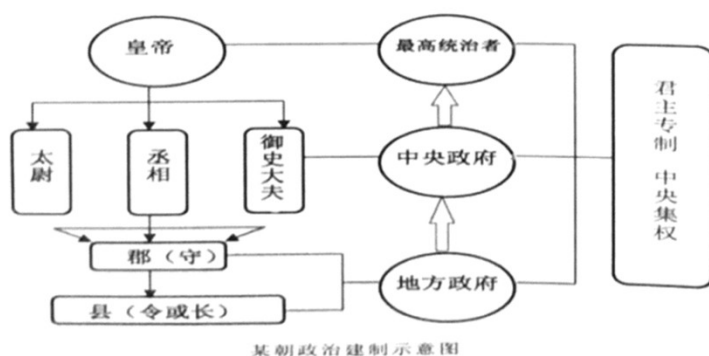
24. 15 世纪，欧洲殖民者开始侵入非洲，逐步建立起了在非洲的殖民体系、这一体系最终崩溃的标志是 ()

- A. 埃及的独立 B. 纳米比亚的独立
C. 南非的独立 D. “非洲独立年”的出现

二、非选择题

25. 我国是一个统一的多民族国家，历史悠久，延绵不断，统一是历史发展的主流为维护国家统一与发展，历代政府都作出了不懈的努力。阅读下列材料，回答问题。

材料一



(1) 根据材料一，结合所学知识，指出示意图是哪一朝代创立的什么重要政治制度？请概括这一制度对后世产生的重大影响。

材料二 我国是一个有着五千多年历史的多民族国家，为了协调民族关系、加强对边疆地区的有效管理，历代统治者都在政治、经济、军事、文化等方面制定并实施了相应的边疆政策。在客观上不同程度地

促进了边疆地区的经济发展和多民族国家的统一和巩固。

——摘自赵慧强、洪增林《西部人文资源开发研究》

(2) 根据材料二，结合所学知识，指出为加强新疆、西藏、台湾的有效管辖，汉朝、元朝、清朝分别设立了哪些重要行政管理机构？

材料三 世界上只有一个中国，大陆和台湾同属一个中国，中国的主权和领土完整不容分割。维护国家主权和领土完整是包括台湾同胞在内的全中国人民的共同义务。台湾是中国的一部分。国家绝不允许“台独”分裂势力以任何名义、任何方式把台湾从中国分裂出去。

——摘自《反分裂国家法》

(3) 根据材料三，结合所学知识，指出我国对台基本方针是什么？针对台独分裂势力和国际反华势力，谈谈我国制定并颁布《反分裂国家法》的现实意义。为维护国家主权、统一和领土完整，作为一名中学生你应当怎样履行这一义务？

26. 中美关系是当今世界最重要的双边关系，近代以来既有激烈的冲突，又有成功的合作。2012年以来，中美两国正寻求构建“新型大国关系”，中美关系的走向已成为国际社会关注的焦点和热点。阅读下列材料，回答问题。

材料一 1922年美国召集的华盛顿九国会议签定了—个公约，又使中国回复到几个帝国主义国家共同支配的局面。

——毛泽东《论反对日本帝国主义的策略》

(1) 材料—中的“—个公约”指什么？它实现了美国长期追求的什么侵略目的？二战中，中美成功合作为世界反法西斯战争的胜利作出了重大贡献，请举两例加以说明。

材料二 新中国成立以来，中美两国关系经历如下历程：

1954年没握成手→1972年跨越太平洋的握手→2012年建立“新型大国关系”的握手

(2) 根据材料二，结合所学知识，分析“1954年没握成手”的主要原因。“1972年跨越太平洋的握手”具体指哪—重大外交事件？中美正式建交于哪—年？

材料三 2018年3月9日，美国总统特朗普签署关税法令，对钢铁和铝分别征收25%和10%的关税。3月23日，特朗普根据“301调查报告”签署备忘录，拟对价值600亿美元的来自中国的进口商品加征关税，并限制中国企业对美国的投资。3月23日，中国政府宣布拟对价值30亿美元的来自美国的进口商品加征关税，作为美国对中国进口钢铁和铝产品加征关税的回应。

——摘自新华网

(3) 根据材料三，分析特朗普根据美国“301调查报告”拟对中国钢铝产品加征关税的主要目的是什么？面对中美贸易摩擦不断升级的趋势，为捍卫国家的利益，中国应如何应对？

(4) 综上所述，你认为当今中美两国应构建怎样的“新型大国关系”？

27.18 世纪 60 年代和 19 世纪六七十年代，人类社会开始了两次工业革命：二战后，人们又发明了电子计算机和计算机网络技术。这些科技革命，创造了巨大的生产力，极大地改善了人们的生活，同时也给人类带来了一些消极影响。阅读下列材料，回答问题。

材料一

第一次工业革命重要成果表（部分）

时间	发明者	国别	发明成果
1733 年	凯伊	英国	飞梭
1765 年	哈格里夫斯	英国	珍妮机
1785 年	瓦特	英国	改进蒸汽机
1825 年	斯蒂芬森	英国	蒸汽机车

(1) 根据材料一，结合所学知识，请回答第一次工业革命开始于哪个国家？开始于该国的政治前提是哪一政治制度的确立？第一次工业革命使人类社会进入了什么时代？对近代中国社会造成了什么严重影响？

材料二

第二次工业革命重要成果表（部分）

时间	发明者	国别	发明成果
1867 年	诺贝尔	瑞典	现代炸药
1883 年	戴姆勒	德国	汽油内燃机
19 世纪后半期和 20 世纪初期	爱迪生	美国	耐用白炽灯泡、碱性蓄电池、电影摄影机等，一生取得一千多项发明专利
19 世纪 80 年代	本茨	德国	制造世界上第一辆内燃机汽车
1903 年	莱特兄弟	美国	设计制造试验飞机

(2) 根据材料二，结合所学知识，指出第二次工业革命使人类社会进入了什么时代？第二次工业革命与第一次工业革命相比发生了哪些新变化？

材料三 二战以后，人们发明了电子计算机，构建了计算机网络。20 世纪 90 年代以来，互联网在全球迅速普及，成为现代社会重要的基础设施。互联网渗透到政治、经济、文化、娱乐、人际交往等领域。计算机网络将世界各地联结成一个整体，创造了人类新的生活模式和文化观念。计算机网络不仅极大地拓展了人类的生活空间，还对人类的经济活动产生了直接影响，推动了全球经济一体化。随着互联网的发展，网络安全问题日益凸显，引起社会的广泛关注。

——摘编自人教版《世界历史》九年级下册

(3) 根据材料三，结合所学知识，指出人类社会进入了什么时代并归纳计算机网络 出现，给人类社会带来哪些利弊？

(4) 综上所述，谈谈人类历史上的几次科技革命对你的启示。

试卷相关说明

本试卷的题干、答案和解析均由组卷网 (<http://zujian.xkw.com>) 专业教师团队编校出品。登录组卷网可对本试卷进行**单题组卷**、**细目表分析**、**布置作业**、**举一反三**等操作。

试卷地址：[在组卷网浏览本卷](#)

组卷网是学科网旗下的在线题库平台，覆盖小初高全学段全学科、超过 900 万精品解析试题。关注组卷网服务号，可使用移动教学助手功能（布置作业、线上考试、加入错题本、错题训练）。



学科网长期征集全国最新统考试卷、名校试卷、原创题，赢取丰厚稿酬，欢迎合作。
钱老师 QQ : 537008204 曹老师 QQ : 713000635