

2016年湖南省邵阳市中考历史试卷

一.选择题(每小题四个选项中,只有一项最符合题意,本大题共24个小题,每小题2分,共48分)

1.暑假期间,邵胜同学参观了浙江省一处著名的原始人类遗址,如图是他用手机拍下的干栏式房屋复原图.据此推断该遗址是()



A.元谋人遗址 B.北京人遗址 C.半坡遗址 D.河姆渡遗址

2.史载,公元前2世纪,中国人发现了西沙群岛并且在南海航行.该重大历史事件发生在()

A.商朝 B.西汉 C.南北朝 D.隋朝

3.如图是2016年董卿主持的《中国诗词大会》第三期节目中的选手李尚荣(7岁)抽签到的“从以下9个字中识别诗句题”的提示图.该题所涉及的诗句出自()



A.《春晓》 B.《绝句》 C.《登鹳雀楼》 D.《望庐山瀑布》

4.下列关于中国古代经济发展状况的叙述中,不正确的是()

A.南方经曾经长期落后于北方

B.北方人民南迁促进南方经济发展

C.唐朝出现了世界上最早的纸币“交子”

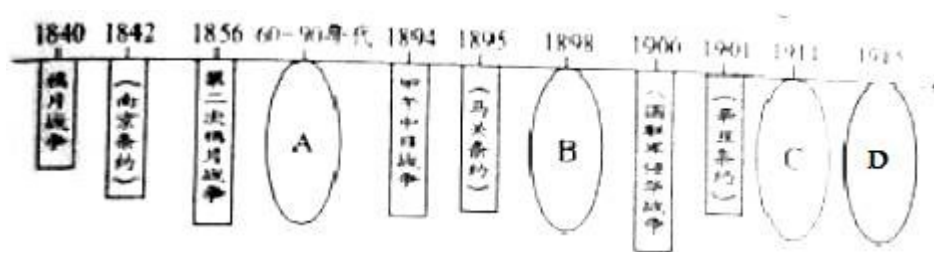
D.宋朝海外贸易兴盛

5.屠呦呦获得诺贝尔奖后感言:青蒿素的发现是集体发掘中医药的成功范例…如果死守老祖宗的宝贝、固步自封,中医只能是“一筐草”,无法变成“一块宝”,在这里,屠呦呦告诉人们对待传统文化应该秉持的态度是()

A.否定传统,学习西方 B.取其精华,推陈出新

C.脱离传统,彻底创新 D.全部继承,发扬光大

6.在下列中国近代历史进程示意图中,洋务运动应填写在()处



A . A B . B C . C D . D

7. 2015 年度“全国十大考古新发现”之一的辽宁“丹东一号”清代沉船（致远舰）水下考古调查有了新进展，发现了一枚刻有“云中白鹤”的印章，专家认为该印章是致远舰管带的私人物品。盖印章的主人是（ ）

A . 刘步蟾 B . 林永升 C . 邓世昌 D . 方柏谦

8. 据台湾《联合报》报道，有 83% 的台湾民众尊奉孙中山为国父。这是因为孙中山（ ）

- A . 领导维新变法运动，推动了社会的进步
- B . 领导辛亥革命，建立了中华民国
- C . 领导新文化运动，促成了思想解放潮流
- D . 领导国民革命，推翻了北洋军阀统治

9. 《张学良口述历史》中称：我的事情只到 36 岁，以后就没有了；从 21 岁到 36 岁，这就是我的生命。张学良 36 岁那年发生的事情是（ ）

A . 九一八事变 B . 八一三事变 C . 西安事变 D . 卢沟桥事变

10. 西藏自治区的领导干部中，近八成是藏族和其他少数民族；藏族和其他少数民族在自治区、自治县、自治乡人大代表中分别约占 88.4%、92.6%、和 99%。这体现了我国（ ）

- A . 实行民族区域自治制度
- B . 注重对少数民族干部的培养
- C . 少数民族享受比汉族更多的权利
- D . 实行民族平等、民族团结和共同繁荣的政策

11. 国务院副总理张高丽在 2016 年 3 月 20 日的中国发展高层论坛上说：“我国 1978 年 GDP 折合美元仅仅为 3650 亿元，而 2015 年 GDP 折合美元则达到 10.86 万亿元。”我国 GDP 高速增长的主要原因是（ ）

- A . 劳动力资源充足 B . 加入世界贸易组织
- C . 城市化速度加快 D . 实行改革开放

12. 报载，2015 年 10 月 16 日，某国东部一名属“贱民”阶层的 15 岁少年赛·拉姆因自家山羊误入高一等级种姓农民的稻而被烧死。文中某国是指（ ）

A . 埃及 B . 印度 C . 伊拉克 D . 希腊

13. 2016 年 2 月 12 日，梵蒂冈天主教教皇方济各与俄罗斯东正教大主教基利尔一世在古巴正式会面。这是自 1054 年教会大分裂以来，两大宗教领袖千年来的首都会晤。其实，他们信奉的是同一宗教，即（ ）

A . 基督教 B . 佛教 C . 伊斯兰教 D . 犹太教

14. 下列国家走上资本主义道路的方式明显不同于其他三国的是（ ）

A . 英国 B . 美国 C . 法国 D . 俄国

15. 2015 年 9 月 28 日上午，彭丽媛在纽约茱莉亚院仔细观看了贝多芬、莫扎特创作的手稿，并赞叹“太珍贵了”，彭丽媛观看到的手稿属于（ ）方面的作品。

A . 美术 B . 音乐 C . 诗歌 D . 史学

16. 英军第一次使用了坦克…陆地的远程大炮、空中的飞机、海上的战舰展开了全面和立体的厮杀。这种场景最先发生在 ()

- A. 拿破仑对外战争 B. 第一次世界大战
C. 第二次世界大战 D. 科索沃战争

17. 面对 1929 - 1933 年资本主义世界经济危机，美国实行罗斯福新政。德国、日本 ()

- A. 走上法西斯道路
B. 加强国家对经济的干预和指导
C. 实行高度集中的计划经济体制
D. 实行明治维新

18. 下列关于二十世纪三十年代苏联社会主义建设的叙述中，不正确的是 ()

- A. 初步实现了农业机械化
B. 工业总产值跃居世界第二
C. 重视社会主义商品经济要求和市场机制的作用
D. 按照社会主义工业化方针有计划地进行经济建设

19. 二战结束后，以美国为首的西方资本主义国家对苏联等社会主义国家实施“冷战”政策。“冷战”政策的内容不包括 ()

- A. 封锁与遏制 B. 稳定资本主义 C. 遏制共产主义 D. 发动战争

20. 2016 年 3 月的“人机大战”中国，谷歌 AIPHAGO (阿尔法狗) 击败世界围棋冠军，韩国棋手李世石。AIPHAGO (阿尔法狗) 是第三次科技革命中的 () 技术的产物。

- A. 原子能 B. 航天技术 C. 电子计算机 D. 生物工程

21. 如图是在邵阳市爱莲文化广场拍到有人站到周敦颐雕像上的不文明现象图片。假如时光倒流，儒家学派对待这种不文明现象的态度是 ()



- A. 模仿拍照 B. 听之任之 C. 严厉处罚 D. 批评教育

22. 他是湖南人，他助人为乐，为集团、人民做了大量的好事；他的名字在中国内地已经成了“好人好事”的代名词。他是 ()

- A. 雷锋 B. 黄继光 C. 邱少云 D. 罗盛教

23. 星光大道的“家乡美”环节 (表演自己家乡的特色节目)，①号选手唱黄梅戏《天仙配》，②号选手演唱秦腔《兄妹开荒》，③号选手演唱花鼓戏《刘海砍樵》，④号选手演唱二人转《关东情》。其中，湖南籍选手是 ()

- A. ① B. ② C. ③ D. ④

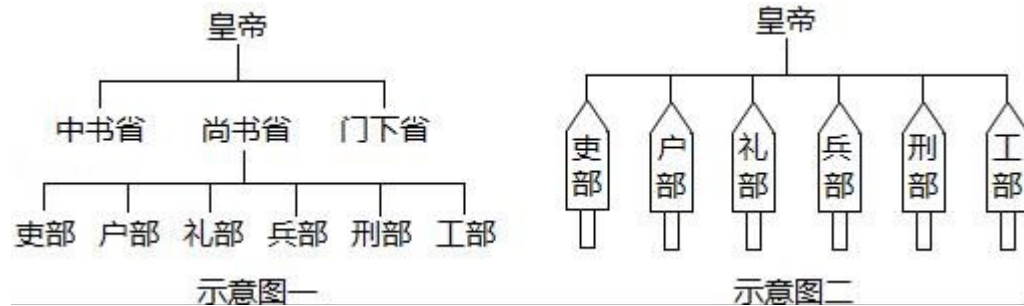
24. 2016 年 4 月 7 日邵阳新闻网报道：…他是“护国讨袁，再造共和”的主要发起者、领导者。今年 11 月 8 日是他逝世 100 周年纪念日，为了深切缅怀这位民主革命先驱短暂医生所作出的丰功伟绩，特举办“松坡杯”全球诗词大赛，他是 ()

A. 魏源 B. 蔡锷 C. 贺绿汀 D. 吕振羽

二.综合题 (本大题共三道小题, 第 25、26、27 题分别为 16、18、18 分, 共 52 分)

25. 材料一

图示, 能形象直观地展示历史知识, 有助于理清线索, 构建知识结构. 下面是王明同学依据初中教材而绘制的我国古代部分朝代专制主义中央集权制度示意图.



材料二

经过春秋战国时期的诸侯争霸, 到秦朝统一多民族国家的形成, 以皇权为中心的中央集权制度建立起来. 历经汉魏至明清, 皇帝与宰相之间的权势此消彼长, 中央与地方争权斗争接连不断, 最终皇权不断强化, 中央集权逐渐得到巩固. 中央集权制度作为古代中国政治制度的突出特色, 对中国历史产生了深渊影响. 中国统一多民族国家的形成与发展, 官僚政治与行政管理以至文化教育传统, 无不与此有着密切的关系.

- - 摘编自人教版历史必修①

(1) 材料一中的示意图一、二分别反映了我国古代哪个朝代的专制主义中央集权制度?

(2) 根据材料二并结合所学知识, 指出我国古代专制主义中央集权制度的发展趋势.

(3) 下列是王明同学正在制作额“我国古代专制主义中央集权制度的评价”表格, 请不补充表格中的部分论据. 并指出王明同学评价我国古代专制主义中央集权制度的方法.

论点 (积极作用)	论据
第一, 能有效地组织人力, 物力和财力从事大规模的工程建设及生产活动, 巩固国家的统一; ...	秦朝修建①, 隋朝开凿②_____, 明朝营造北京城等
论点 (消极作用)	论据
第一, 强化思想文化控制, 钳制了人们的思想, 扼杀了人们的创造力; ...	秦朝焚书坑儒, 明朝入股取士, 清朝③等

26. 材料一

1971 年和 1974 年, 两次在台南县左镇乡发现了迄今为止台湾最早的人类化石. 被命为“左镇人”. 考古专家认为, “左镇人”是在 3 万年前从大陆到台湾的, 与福建考古发现的“清流人”、“东山人”同属中国旧石器时代南部地区的晚期智人, 有着共

同的起源…230年，孙权曾派将军卫温、诸葛直率领1万水军渡海到达台湾，这是中国大陆居民利用先进的文化知识开发台湾的开始。

-- 摘编自《台湾历史的真相》

材料二

在历史上，台湾经历了与大陆的三次分离。1624年，荷兰殖民者侵占了鸡笼（今基隆）和淡水。1662年荷兰殖民总督向郑成功投降，台湾回归祖国。1841年，英国侵略台湾鸡笼。1858年，英、法、美、俄四国与清政府签订的《天津条约》规定开放淡水等通港口岸。1874年，日本在美国支持下派军队侵犯台湾。1884年，法军攻打基隆、淡水。甲午中日战争结束后，日本强迫清政府签订不平等条约而侵占台湾；1945年台湾回归祖国。解放战争结束后，蒋介石以及国民党的部分军政人员依靠美国的庇护与支持，在台湾维持偏安局面，使台湾与祖国大陆第三次分离。

-- 摘编自《台湾历史的真相》

材料三

“台湾”分子在台北街头搞所谓“台湾正名”闹剧，激起了台湾民众的强烈不满与愤慨，他们高举“反‘台独’、救台湾、”反失业、要工作”“反军购”要福利等标语游行。



-- 摘编自人民网

(1) 你从材料一中得到哪些有关台湾与大陆紧密联系的信息？

(2) 在历史上，台湾经历了与大陆的三次分离。根据材料二并结合所学知识，完成下列图表。



(3) 根据上述材料并结合所学知识，分别指出海峡两岸实现统一的有利因素和不利因素。

27. 阅读材料，回答问题：

材料 美国《思想之林》杂志评选“十个人类有史以来最伟大的国家（对人类贡献最突出的十个国家）”：1、意大利 2、英国 3、美国 4、中国 5、希腊 6、埃及 7、伊拉克 8、印度 9、伊朗 10、乍得，前四名及人选的理由见下表：

排名	理由
----	----

第一 意大利	古代罗马创造了现在的“西方社会”包括法律、文化、和宗教。罗马帝国灭亡后，欧洲在黑暗中度过了一千年。后来，意大利通过文艺复兴，使欧洲重新焕发了活力，创造了一个文明就已经够伟大的了，意大利在一千年后又拯救了欧洲，这确实不同凡响
第二 英国	英国是 19 世纪的工业大国和海洋大国，英国的贡献是“创造了现代世界”，在发展西方的资产、资本主义和议会民主以及在文学艺术和科技等方面都扮演了重要角色，在最盛时期，大英帝国的疆土一度超过了全球地表的 1/4，人口占全球的 1/3
第三 美国	无论从哪一方面而言，美国无疑是世界历史上最富有、最强大和最有影响力的国家，只是因为它的历史太短暂没能登上榜首。美国从“一战”和“二战”的胜利中崛起，是战争中本土唯一没有遭受战争的大国，尤其在冷战结束，苏联解体后，美国成为世界上独一无二的超级大国
第四 中国	中国曾经是世界强国，未来也会成为超强国家。中国是早期人类文明古国之一，是世界上文明持续时间最长的国家之一，也是世界上使用书面文字历史最长的国家之一，今天看来，中国有可能取代美国，成为世界上最强大的国家

- - 摘编自搜狐网

- (1) 根据材料并结合所学知识，指出文艺复兴的历史作用。
- (2) 举出英国“在议会民主（政治制度）、文学、科技等方面扮演了重要角色的具体史实。
- (3) 请用具体史实论证材料中“美国历史太短暂”这一观点。
- (4) 假如让你评选“十个人类有史以来最伟大的国家”，你会把哪个国家排在第一位？为什么？

2016年湖南省邵阳市中考历史试卷
参考答案与试题解析

一.选择题（每小题四个选项中，只有一项最符合题意，本大题共24个小题，每小题2分，共48分）

1.暑假期间，邵胜同学参观了浙江省一处著名的原始人类遗址，如图是他用手机拍下的干栏式房屋复原图。据此推断该遗址是（ ）



A.元谋人遗址 B.北京人遗址 C.半坡遗址 D.河姆渡遗址

【考点】河姆渡的原始农耕。

【分析】本题考查河姆渡人的生产和生活状况。

【解答】题干中的关键信息是“干栏式房屋复原图”和“浙江省”。根据所学知识可知，长江流域潮湿炎热，位于长江流域浙江余姚的河姆渡原始居民居住在干栏式房屋中；北方寒冷干燥，位于黄河流域的陕西西安的半坡原始居民居住在半地穴式房屋中。故选D。

2.史载，公元前2世纪，中国人发现了西沙群岛并且在南海航行。该重大历史事件发生在（ ）

A.商朝 B.西汉 C.南北朝 D.隋朝

【考点】西汉的建立。

【分析】本题考查学生对西汉的历史知识的识记和理解。

【解答】本题的关键信息是“公元前2世纪”。此时处于西汉统治时期，西汉是公元前202年建立，结束于公元9年的王莽改制。公元前2世纪是指公元前199年—公元前100年。

故选B。

3.如图是2016年董卿主持的《中国诗词大会》第三期节目中的选手李尚荣（7岁）抽签到的“从以下9个字中识别诗句题”的提示图。该题所涉及的诗句出自（ ）



A.《春晓》 B.《绝句》 C.《登鹳雀楼》 D.《望庐山瀑布》

【考点】光耀千古的唐诗。

【分析】本题考查唐朝的诗歌识记。

【解答】通过这首诗的关键词可以知道是“飞流直下三千尺”是著名诗人李白的《望庐山瀑布》。唐朝是我国诗歌的黄金时代，李白的诗雄奇飘逸，诗情一泻千里，笔势灵活矫健，充满大胆和奇特的想象，人们称他为“诗仙”。

故选 D。

4. 下列关于中国古代经济发展状况的叙述中，不正确的是（ ）

- A. 南方经曾经长期落后于北方
- B. 北方人民南迁促进南方经济发展
- C. 唐朝出现了世界上最早的纸币“交子”
- D. 宋朝海外贸易兴盛

【考点】中国古代货币演变历程。

【分析】本题考查了中国古代经济发展状况。

【解答】北宋前期，四川地区出现交子，这是世界上最早的纸币，不是唐朝出现的。故选 C。

5. 屠呦呦获得诺贝尔奖后感言：青蒿素的发现是集体发掘中医药的成功范例…如果死守老祖宗的宝贝、固步自封，中医只能是“一筐草”，无法变成“一块宝”，在这里，屠呦呦告诉人们对待传统文化应该秉持的态度是（ ）

- A. 否定传统，学习西方
- B. 取其精华，推陈出新
- C. 脱离传统，彻底创新
- D. 全部继承，发扬光大

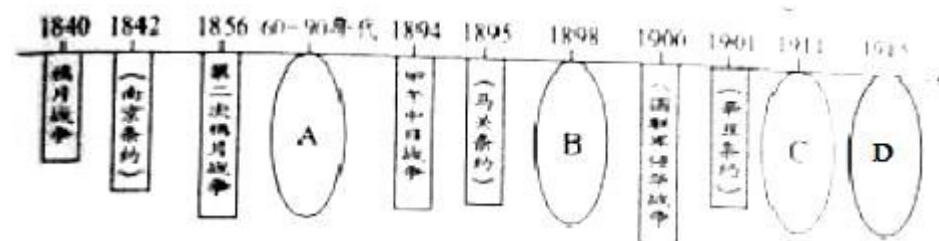
【考点】历史文化常识。

【分析】本题考查的历史文化常识的知识点。

【解答】由材料：青蒿素的发现是集体发掘中医药的成功范例…如果死守老祖宗的宝贝、固步自封，中医只能是“一筐草”，无法变成“一块宝”。可知对待传统文化我们要取其精华，推陈出新。

故选 B。

6. 在下列中国近代历史进程示意图中，洋务运动应填写在（ ）处



- A. A
- B. B
- C. C
- D. D

【考点】洋务运动。

【分析】本题考查了洋务运动，又称晚清自救运动、自强运动。该运动是 19 世纪 60~90 年代洋务派所进行的一场引进西方军事装备、机器生产和科学技术以维护封建统治的“自强”、“求富”运动。

【解答】由图表描述得知，在下列中国近代历史进程示意图中，A 选项是洋务运动；B 选项是甲午中日战争；C 选项有黄花岗起义、保路运动、武昌起义；D 选项是五四运动，所以 A 是正确的选项，排除不符合题意的选项 BCD。

故选 A .

7 . 2015 年度“全国十大考古新发现”之一的辽宁“丹东一号”清代沉船（致远舰）水下考古调查有了新进展，发现了一枚刻有“云中白鹤”的印章，专家认为该印章是致远舰管带的私人物品 . 盖印章的主人是（ ）

A . 刘步蟾 B . 林永升 C . 邓世昌 D . 方柏谦

【考点】甲午中日战争 .

【分析】本题考查甲午中日战争中黄海海战的史实 .

【解答】依据题干，这是说的邓世昌 . 1894 年 9 月，清政府北洋舰队在黄海大东沟海域，遭到日本舰队袭击，致远舰管带邓世昌率舰冲锋向前，激战中，致远舰多处中弹，邓世昌下令，开足马力，直冲敌舰，日舰躲避，同时施放鱼雷，击中致远舰，邓世昌与全舰官兵壮烈牺牲 .

故选 C .

8 . 据台湾《联合报》报道，有 83% 的台湾民众尊奉孙中山为国父 . 这是因为孙中山（ ）

A . 领导维新变法运动，推动了社会的进步

B . 领导辛亥革命，建立了中华民国

C . 领导新文化运动，促成了思想解放潮流

D . 领导国民革命，推翻了北洋军阀统治

【考点】孙中山的历史功绩 .

【分析】本题考查孙中山 .

【解答】孙中山领导了辛亥革命，推翻了清朝的统治，结束了我国两千多年的封建帝制，建立了中华民国，使民主共和的观念深入人心 .

故选 B .

9 . 《张学良口述历史》中称：我的事情只到 36 岁，以后就没有了；从 21 岁到 36 岁，这就是我的生命 . 张学良 36 岁那年发生的事情是（ ）

A . 九一八事变 B . 八一三事变 C . 西安事变 D . 卢沟桥事变

【考点】西安事变 .

【分析】本题考查西安事变 .

【解答】张学良出生于 1901 年，到 1936 年 36 岁，可知是西安事变，张学良 36 岁那年发生的事情是西安事变 .

故选 C .

10 . 西藏自治区的领导干部中，近八成是藏族和其他少数民族；藏族和其他少数民族在自治区、自治县、自治乡人大代表中分别约占 88.4%、92.6%、和 99% . 这体现了我国（ ）

A . 实行民族区域自治制度

B . 注重对少数民族干部的培养

C . 少数民族享受比汉族更多的权利

D . 实行民族平等、民族团结和共同繁荣的政策

【考点】历史文化常识 .

【分析】本题考查了民族区域自治制度 .

【解答】“西藏自治区的领导干部中，近八成是藏族和其他少数民族；藏族和其他少数民族在自治区、自治县、自治乡人大代表中分别约占 88.4%、92.6%、和 99%”这体现了我国实行民族区域自治制度。我国在少数民族聚居的地区，实行由当地民族管理本民族地方性的内部事务的民族区域自治政策，民族区域自治对祖国统一、民族平等、民族团结和地区发展具有重大意义，成为我国的一项基本国策和基本政治制度。

故选 A。

11. 国务院副总理张高丽在 2016 年 3 月 20 日的中国发展高层论坛上说：“我国 1978 年 GDP 折合美元仅仅为 3650 亿元，而 2015 年 GDP 折合美元则达到 10.86 万亿元。”我国 GDP 高速增长的主要原因是（ ）

- A. 劳动力资源充足 B. 加入世界贸易组织
C. 城市化速度加快 D. 实行改革开放

【考点】 改革开放的成就和意义。

【分析】 本题考查改革开放。

【解答】 依据材料“我国 1978 年 GDP 折合美元仅仅为 3650 亿元，而 2015 年 GDP 折合美元则达到 10.86 万亿元。”可知是对改革开放的描述。1978 年召开的十一届三中全会作出实行改革开放的政策，即对内进行改革，对外进行开放，从此中国历史进入社会主义现代化建设新时期。自实行改革开放以来，中国的经济实现了快速的发展。

故选 D。

12. 报载，2015 年 10 月 16 日，某国东部一名属“贱民”阶层的 15 岁少年赛·拉姆因自家山羊误入高一等级种姓农民的稻而被烧死。文中某国是指（ ）

- A. 埃及 B. 印度 C. 伊拉克 D. 希腊

【考点】 古印度的种姓制度。

【分析】 本题考查印度的种姓制度。重点掌握种姓制度的深远影响。

【解答】 雅利安人进入古代印度后，逐渐产生不同等级，形成严格的等级制度，史称“种姓制度”。各个等级之间高低贵贱有别，下一等级的人没资格从事高一等级的职业，不同等级的人不得通婚。种姓制度激化了社会矛盾，对后来印度社会的发展带来了不良影响。材料中事件就是这样制度的影响所致。

故选 B。

13. 2016 年 2 月 12 日，梵蒂冈天主教教皇方济各与俄罗斯东正教大主教基利尔一世在古巴正式会面。这是自 1054 年教会大分裂以来，两大宗教领袖千年来的首都会晤。其实，他们信奉的是同一宗教，即（ ）

- A. 基督教 B. 佛教 C. 伊斯兰教 D. 犹太教

【考点】 基督教的产生与传播。

【分析】 本题考查的是基督教。

【解答】 基督教是世界三大宗教之一，11 世纪基督教分裂为希腊正教（东方正统教会）和罗马公教（罗马普世教会）两大派别。

故选 A。

14. 下列国家走上资本主义道路的方式明显不同于其他三国的是（ ）

A．英国 B．美国 C．法国 D．俄国

【考点】1861年俄国农奴制改革．

【分析】本题考查的是1861年改革的知识点．

【解答】英国、法国是通过资产阶级革命走上资本主义道路的，美国通过资产阶级性质的独立战争走上了资本主义道路，俄国是通过1861年改革走上资本主义道路的．

故选D．

15．2015年9月28日上午，彭丽媛在纽约茱莉亚院仔细观看了贝多芬、莫扎特创作的手稿，并赞叹“太珍贵了”，彭丽媛观看到的手稿属于（　　）方面的作品．

A．美术 B．音乐 C．诗歌 D．史学

【考点】历史文化常识．

【分析】本题考查了音乐家贝多芬•莫扎特．

【解答】题干给出的贝多芬、莫扎特都是音乐家．莫扎特出生于神圣罗马帝国时期的萨尔兹堡，欧洲古典主义音乐作曲家．贝多芬是德国历史上最伟大的音乐家，双耳失聪使他异常痛苦，但他勇于向命运挑战，克服常人难以想像的困难，创作出了《英雄交响曲》等不朽乐章．

故选B．

16．英军第一次使用了坦克…陆地的远程大炮、空中的飞机、海上的战舰展开了全面和立体的厮杀．这种场景最先发生在（　　）

A．拿破仑对外战争 B．第一次世界大战
C．第二次世界大战 D．科索沃战争

【考点】第一次世界大战的爆发．

【分析】本题考查第一次世界大战的相关知识．

【解答】根据所学知识可知，第二次科技革命的一些重要成果被应用于战争，坦克、毒气、飞机、潜水艇等在第一次世界大战中第一次出现在战场上，新式武器的应用带来了大量的人员伤亡，战场惨烈无比．

故选B．

17．面对1929-1933年资本主义世界经济危机，美国实行罗斯福新政．德国、日本（　　）

A．走上法西斯道路
B．加强国家对经济的干预和指导
C．实行高度集中的计划经济体制
D．实行明治维新

【考点】资本主义经济危机的特点与影响；法西斯政权的建立．

【分析】本题考查经济危机．

【解答】1929年，经济危机首先在美国爆发，形成了前所未有的、持续最久的世界经济大危机．特点是范围广、持续时间长，破坏性大．经济危机给资本主义世界以沉重打击，引起了资本主义各国政局的动荡．德国、日本为了转嫁经济危机，走上了法西斯道路侵略扩张的道路．

故选A．

18. 下列关于二十世纪三十年代苏联社会主义建设的叙述中，不正确的是（ ）

- A. 初步实现了农业机械化
- B. 工业总产值跃居世界第二
- C. 重视社会主义商品经济要求和市场机制的作用
- D. 按照社会主义工业化方针有计划地进行经济建设

【考点】苏联社会主义建设的成就和主要问题。

【分析】本题主要考查了苏联社会主义建设的有关内容。

【解答】根据所学知识可知：二十世纪三十年代苏联社会主义建设过程中逐渐形成了斯大林模式，斯大林模式是一种高度集中的政治、经济体制，忽视社会主义商品经济要求和市场机制的作用。C说法错误。

故选C。

19. 二战结束后，以美国为首的西方资本主义国家对苏联等社会主义国家实施“冷战”政策。“冷战”政策的内容不包括（ ）

- A. 封锁与遏制
- B. 稳定资本主义
- C. 遏制共产主义
- D. 发动战争

【考点】美国的冷战政策及措施。

【分析】本题考查冷战政策。

【解答】第二次世界大战中，美国经济、军事实力急剧膨胀，成为世界头号资本主义强国。与此同时，苏联力量也逐渐壮大，国际地位大大提高，东欧一些国家在苏联的影响下也走上了社会主义道路。随着社会主义力量的不断发展，资本主义和社会主义之间的矛盾日益加深，西方国家提出了用除武装进攻以外的一切手段和敌对行动来遏制共产主义，一场没有硝烟的冷战在以美国为首的资本主义国家和以苏联为首的社会主义国家之间展开。

故选D。

20. 2016年3月的“人机大战”中国，谷歌 AIPHAGO（阿尔法狗）击败世界围棋冠军，韩国棋手李世石。AIPHAGO（阿尔法狗）是第三次科技革命中的（ ）技术的产物。

- A. 原子能
- B. 航天技术
- C. 电子计算机
- D. 生物工程

【考点】电子计算机的出现、发展特点及用途。

【分析】本题考查的是第三次科技革命。

【解答】材料中的“AIPHAGO（阿尔法狗）”通过安装程序，进行大数据的运算与棋手进行对弈，是第三次科技革命中电子计算机技术的产物。

故选C。

21. 如图是在邵阳市爱莲文化广场拍到有人站到周敦颐雕像上的不文明现象图片。假如时光倒流，儒家学派对待这种不文明现象的态度是（ ）



A．模仿拍照 B．听之任之 C．严厉处罚 D．批评教育

【考点】历史文化常识；老子和孔子．

【分析】本题考查了春秋战国时期各学派思想．

【解答】题目给出了游客不文明的行为，儒家学派对待这种不文明现象的态度主要是批评教育．模仿拍照与各学派思想都无关，听之任之是道家，严厉处罚是法家．故选D．

22．他是湖南人，他助人为乐，为集团、人民做了大量的好事；他的名字在中国内地已经成了“好人好事”的代名词．他是（　　）

A．雷锋 B．黄继光 C．邱少云 D．罗盛教

【考点】社会主义建设英雄模范人物．

【分析】本题考查社会主义建设时期英模人物．

【解答】从题干“他是湖南人，他助人为乐，为集团、人民做了大量的好事；他的名字在中国内地已经成了“好人好事”的代名词”，看出他是解放军好战士雷锋等，他为社会主义建设事业作出了卓越贡献，成为全国人民的楷模．

故选A．

23．星光大道的“家乡美”环节（表演自己家乡的特色节目），①号选手唱黄梅戏《天仙配》，②号选手演唱秦腔《兄妹开荒》，③号选手演唱花鼓戏《刘海砍樵》，④号选手演唱二人转《关东情》．其中，湖南籍选手是（　　）

A．① B．② C．③ D．④

【考点】历史文化常识．

【分析】本题考查湖南地方史．

【解答】《刘海砍樵》这个戏曲的发源地——湖南常德．‘刘海砍樵’源于刘海和胡秀英一段坚贞的爱情故事．

故选C．

24．2016年4月7日邵阳新闻网报道：…他是“护国讨袁，再造共和”的主要发起者、领导者．今年11月8日是他逝世100周年纪念日，为了深切缅怀这位民主革命先驱短暂医生所作出的丰功伟绩，特举办“松坡杯”全球诗词大赛，他是（　　）

A．魏源 B．蔡锷 C．贺绿汀 D．吕振羽

【考点】历史文化常识．

【分析】本题考查蔡锷．

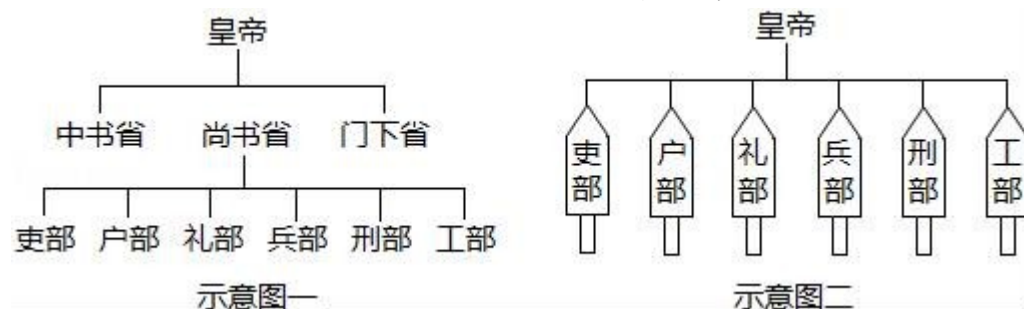
【解答】蔡锷原名艮寅，字松坡，汉族，是中华民国初年的杰出军事领袖．蔡锷一生中，做了两件大事：一件是辛亥革命时期在云南领导了推翻清朝统治的新军起义；

另一件是四年后积极参加了反对袁世凯称帝、维护民主共和国政体的护国军起义。其遗著被编为《蔡松坡集》。
 故选 B。

二.综合题（本大题共三道小题，第 25、26、27 题分别为 16、18、18 分，共 52 分）

25. 材料一

图示，能形象直观地展示历史知识，有助于理清线索，构建知识结构。下面是王明同学依据初中教材而绘制的我国古代部分朝代专制主义中央集权制度示意图。



材料二

经过春秋战国时期的诸侯争霸，到秦朝统一多民族国家的形成，以皇权为中心的中央集权制度建立起来。历经汉魏至明清，皇帝与宰相之间的权势此消彼长，中央与地方争权斗争接连不断，最终皇权不断强化，中央集权逐渐得到巩固。中央集权制度作为古代中国政治制度的突出特色，对中国历史产生了深渊影响。中国统一多民族国家的形成与发展，官僚政治与行政管理以至文化教育传统，无不与此有着密切的关系。

- - 摘编自人教版历史必修①

(1) 材料一中的示意图一、二分别反映了我国古代哪个朝代的专制主义中央集权制度？

(2) 根据材料二并结合所学知识，指出我国古代专制主义中央集权制度的发展趋势。

(3) 下列是王明同学正在制作额“我国古代专制主义中央集权制度的评价”表格，请不补充表格中的部分论据。并指出王明同学评价我国古代专制主义中央集权制度的方法。

论点（积极作用）	论据
第一，能有效地组织人力，物力和财力从事大规模的工程建设及生产活动，巩固国家的统一： ...	秦朝修建①，隋朝开凿②____ _，明朝营造北京城等
论点（消极作用）	论据
第一，强化思想文化控制，钳制了人们的思想，扼杀了人们的创造力； ...	秦朝焚书坑儒，明朝入股取士，清朝③等

【考点】 材料解析题；秦朝巩固统一的措施；隋朝大运河；三省六部制；明朝君权加强的措施；明朝的八股取士和清朝的文字狱。

【分析】 (1) 本题考查唐朝与明朝的专制主义中央集权制度。

(2) 本题考查学生归纳能力。

(3) 本题考查古代加强中央集权的措施。

【解答】(1) 通过题干材料一中的两幅图片，结合所学可知，图一是唐朝三省六部制。图二是明朝六部制。唐朝三省六部制的特点在于分散了丞相及中央机构的权力，把相权“一分为三”，既有分工，又有合作，互相牵制和监督，提高决策正确性和行政效率；加强了皇权与中央集权、削弱了相权。明朝废中书省，六部乃直接对皇帝负责，成为主管全国行政事务的最高机构。

(2) 依据题干材料二信息“皇帝与宰相之间的权势此消彼长，中央与地方争权斗争接连不断，最终皇权不断强化，中央集权逐渐得到巩固。中央集权制度作为古代中国政治制度的突出特色，对中国历史产生了深渊影响。”结合所学，可以获取到有效信息：皇权不断强化，封建君主专制制度不断加强，中央集权逐渐得到巩固。

(3) 秦始皇时为了防匈奴南进，修筑了西起甘肃临洮、东至辽东筑长城万余里，史称秦长城。秦长城是我们中华民族的瑰宝，也是世界建筑上的奇迹，更是我们中华民族辉煌的历史，灿烂文化的象征。隋代的政治和军事中心位于中国华北，尤其是中原地区，在平定南陈期间，为了运兵南下，隋炀帝时开凿了隋朝大运河。在大运河修筑成功和此后发挥作用的五百余年时间之内成为沟通隋唐大运河沿线的重要政治、经济、文化的纽带。清帝大施文字狱维护自己的统治，打击异己分子，镇压对自己统治不利的思想言论而制造的一些因言论而获罪的案件。文字狱严重禁锢了思想，堵塞了言路，阻碍了科学文化的发展，清朝统治者通过文字狱，强化集权统治，造成了万马齐喑的局面。通过观察王明制作的表格信息内容，可以归纳出王明同学评价我国古代专制主义中央集权制度的方法是坚持史论结合，从积极、消极作用客观公正的评价方法。

故答案为：

(1) 唐朝三省六部制，明朝六部制。

(2) 封建君主专制不断加强。

(3) 秦长城，大运河，文字狱。坚持史论结合，客观公正的评价方法。

26. 材料一

1971年和1974年，两次在台南县左镇乡发现了迄今为止台湾最早的人类化石。被命为“左镇人”。考古专家认为，“左镇人”是在3万年前从大陆到台湾的，与福建考古发现的“清流人”、“东山人”同属中国旧石器时代南部地区的晚期智人，有着共同的起源…230年，孙权曾派将军卫温、诸葛直率领1万水军渡海到达台湾，这是中国大陆居民利用先进的文化知识开发台湾的开始。

-- 摘编自《台湾历史的真相》

材料二

在历史上，台湾经历了与大陆的三次分离。1624年，荷兰殖民者侵占了鸡笼（今基隆）和淡水。1662年荷兰殖民总督向郑成功投降，台湾回归祖国。1841年，英国侵略台湾鸡笼。1858年，英、法、美、俄四国与清政府签订的《天津条约》规定开放淡水等通港口岸。1874年，日本在美国支持下派军队侵犯台湾。1884年，法军攻打基隆、淡水。甲午中日战争结束后，日本强迫清政府签订不平等条约而侵占台湾；1945年台湾回归祖国。解放战争结束后，蒋介石以及国民党的部分军政人员依靠美国的庇护与支持，在台湾维持偏安局面，使台湾与祖国大陆第三次分离。

-- 摘编自《台湾历史的真相》

材料三

“台湾”分子在台北街头搞所谓“台湾正名”闹剧，激起了台湾民众的强烈不满与愤慨，他们高举“反‘台独’、救台湾、”反失业、要工作”“反军购”要福利等标语游行。



-- 摘编自人民网

(1) 你从材料一中得到哪些有关台湾与大陆紧密联系的信息？

(2) 在历史上，台湾经历了与大陆的三次分离。根据材料二并结合所学知识，完成下列图表。



(3) 根据上述材料并结合所学知识，分别指出海峡两岸实现统一的有利因素和不利因素。

【考点】材料解析题；郑成功收复台湾；抗日战争的胜利及历史意义；解放战争的胜利；祖国统一大业；历史开放性问题的；阐述见解。

【分析】(1) 本题主要考查学生对材料的分析概括归纳能力。

(2) 本题考查的是台湾与大陆三次分离的相关知识。

(3) 本题主要考查学生的分析能力和知识迁移能力。

【解答】(1) 依据材料可知，自古以来台湾与大陆联系紧密。台南的“左镇人”是在3万年前从大陆到台湾的，与福建考古发现的“清流人”、“东山人”同属中国旧石器时代南部地区的晚期智人，有着共同的起源；230年，孙权曾派将军卫温、诸葛直率领1万水军渡海到达台湾等。

(2) 明朝后期，荷兰殖民者侵占了我国宝岛台湾。1661年，郑成功率领大军从金门出发，跨海作战，打败荷兰殖民者。1662年荷兰殖民者投降，台湾回到了祖国的怀抱；1894年-1895年的中日甲午战争，中国战败，同日本签订了《马关条约》，割台湾给日本。1945年，抗日战争胜利，台湾回到祖国的怀抱；1949年4月21日，解放军百万雄师过大江，23日，解放南京。国民党残余势力退守台湾，造成台湾与大陆第三次分离。

(3) 结合所学知识可知，海峡两岸实现统一的有利因素有两岸中华儿女同文同种，实现统一是两岸中华儿女的共同心愿；一国两制政策在港澳的成功实践，提供了成功范例；国际社会正义力量的支持；祖国统一是历史最终的发展趋势。不利因素有台独分子不断破坏，国际反华势力的阻挠等。

故答案为：

(1) 台南的“左镇人”是在 3 万年前从大陆到台湾的，与福建考古发现的“清流人”、“东山人”有着共同的起源；230 年，孙权曾派将军卫温、诸葛直率领 1 万水军到达台湾等。

(2) ① 1662 年，郑成功收复台湾。② 中日甲午战争，中国战败，同日本签订了《马关条约》，割台湾给日本。③ 1949 年，国民党残余势力退守台湾；

(3) 有利因素：两岸中华儿女同文同种，实现统一是两岸中华儿女的共同心愿；一国两制政策在港澳的成功实践，提供了成功范例；国际社会正义力量的支持。不利因素：台独分子不断破坏，国际反华势力的阻挠等。

27. 阅读材料，回答问题：

材料 美国《思想之林》杂志评选“十个人类有史以来最伟大的国家（对人类贡献最突出的十个国家）”：1、意大利 2、英国 3、美国 4、中国 5、希腊 6、埃及 7、伊拉克 8、印度 9、伊朗 10、乍得，前四名及人选的理由见下表：

排名	理由
第一意大利	古代罗马创造了现在的“西方社会”包括法律、文化、和宗教。罗马帝国灭亡后，欧洲在黑暗中度过了一千年。后来，意大利通过文艺复兴，使欧洲重新焕发了活力，创造了一个文明就已经够伟大的了，打意大利在一千年后又拯救了欧洲，这确实不同凡响
第二英国	英国是 19 世纪的工业大国和海洋大国，英国的贡献是“创造了现代世界”，在发展西方的资产、资本主义和议会民主以及在文学艺术和科技等方面都扮演了重要角色，在最盛时期，大英帝国的疆土一度超过了全球地表的 1/4，人口占全球的 1/3
第三美国	无论从哪一方面而言，美国无疑是世界历史上最富有、最强大和最有影响力的国家，只是因为它的历史太短暂没能登上榜首。美国从“一战”和“二战”的胜利中崛起，是战争中本土唯一没有遭受战争的大国，尤其在冷战结束，苏联解体后，美国成为世界上独一无二的超级大国
第四中国	中国曾经是世界强国，未来也会成为超强国家。中国是早期人类文明古国之一，是世界上文明持续时间最长的国家之一，也是世界上使用书面文字历史最长的国家之一，今天看来，中国有可能取代美国，成为世界上最强大的国家

-- 摘编自搜狐网

(1) 根据材料并结合所学知识，指出文艺复兴的历史作用。

(2) 举出英国“在议会民主（政治制度）、文学、科技等方面扮演了重要角色的具体史实。

(3) 请用具体史实论证材料中“美国历史太短暂”这一观点。

(4) 假如让你评选“十个人类有史以来最伟大的国家”，你会把哪个国家排在第一位？为什么？

【考点】材料解析题；文艺复兴运动；英国君主立宪制的确立；《独立宣言》；英国工业革命的影响；历史开放性问题的。

【分析】(1) 本题考查了文艺复兴对社会进步作用的相关内容。

(2) 考查了英国在议会民主（政治制度）、文学、科技的重要史实。

(3) 考查了美国历史太短暂的历史。

(4) 主观性问题，符合题意即可。

【解答】(1) 文艺复兴对社会进步作用是多方面的：文艺复兴是欧洲第一场思想解放运动，打破了欧洲中世纪以来的封建神学思想枷锁，解放了欧洲人民的思想，从而为欧洲资本主义的发展、与封建主义的斗争，从思想上开辟了道路；极大的丰富了世界文明的宝贵遗产，开辟了人类文明的新篇章；自然科学上的革命推动了社会生产力的进步；为新航路开辟和殖民扩张注入了精神动力。概括起来最主要进步作用表现为：文艺复兴推动了欧洲文化思想领域的繁荣，为欧洲资本主义社会的产生奠定了思想文化基础。

(2) 1689年，英国国会颁布《权利法案》，对国王在政治、经济和宗教事务中的权力进行了严格的限定，确立了国会拥有最高权力的原则，资产阶级君主立宪制建立。莎士比亚的名剧《哈姆雷特》是文艺复兴时创作的不朽作品。1765年哈格里夫斯发明珍妮机，标志着英国工业革命的开始。英国率先进行工业革命，促进了生产力的巨大飞跃，使人类进入“蒸汽时代”。

(3) 美国历史可以说是世界文明史的一个缩影，从美利坚合众国诞生到今天，美国200多年的发展历程折射出世界近现代文明脚步。但是它只有200多年的历史，所以美国历史太短暂。

(4) 让你评选“十个人类有史以来最伟大的国家”，阐述合理即可，如：中国，中国是世界上发展速度最快的国家之一，中国一个负责任的爱好和平的大国，中国的综合国力显著增强等。

故答案为：

(1) 文艺复兴推动了欧洲文化思想领域的繁荣，为欧洲资本主义社会的产生奠定了思想文化基础。

(2) 1689年，英国国会颁布《权利法案》，资产阶级君主立宪制建立。莎士比亚的名剧《哈姆雷特》是文艺复兴时创作的不朽作品。英国率先进行工业革命，促进了生产力的巨大飞跃，使人类进入“蒸汽时代”。

(3) 美国历史从美利坚合众国诞生到今天，只有200多年的历史，所以美国历史太短暂。

(4) 中国，中国是世界上发展速度最快的国家之一，中国一个负责任的爱好和平的大国，中国的综合国力显著增强等。