

山东省烟台市 2018 年中考历史真题试题

一、选择题（本大题共 25 小题，每小题 2 分，共 50 分。在每小题列出的四个选项中，只有一个选项符合题目要求）

1.（2.00 分）1982 年，北京人遗址被列入世界文化遗产名录。北京人是世界上最重要的原始人类之一。下列表述正确的是（ ）

- A. 是我国境内目前已确认的最早的古人类
- B. 会使用火和打制石器
- C. 已经会制造工具和种植水稻
- D. 会建造房屋和使用陶器

2.（2.00 分）在中华民族的血脉中，一直流淌着“工匠精神”的基因，下列两件绝世青铜器体现了哪一朝代的成就（ ）



四羊方尊



司母戊鼎

A. 夏朝 B. 商朝 C. 周朝 D. 秦朝

3.（2.00 分）随着城市人口的增长，城中店铺不断增加，街道两旁商店、客栈、货摊林立。营业时间不受限制，有“昼市”“夜市”，许多交易可用“交子”，“动即千万”。以上情形最早可能出现在（ ）

A. 汉代长安 B. 唐代洛阳 C. 北宋东京 D. 元朝大都

4.（2.00 分）宋代是中国古代科学技术发展史上最辉煌的时期，几乎在所有中国传统科学技术领域都留下了新的记录。以下科技成就属于宋代的是（ ）

- ① 发明活字印刷术
- ② 改进造纸术
- ③ 指南针应用于航海
- ④ 火药开始用于军事

A. ①② B. ①③ C. ②④ D. ①④

5. (2.00分) 某兴趣小组在学习“闭关锁国”政策时,制作了一张学习卡片,其中错误的一项是 ()

“闭关锁国”政策	
表现	① 实行严厉的海禁政策,不许擅自出海贸易
	② 绝对禁止一切商品出口和船只出海
	③ 特许“广州十三行”统一经营对外贸易
影响	④ 导致国家闭塞,逐渐在世界上落伍

A. ① B. ② C. ③ D. ④

6. (2.00分) 2018年是农历戊戌年,120年前中国进行了一场救亡图存的社会变革,这一变革开始了 ()

A. 政治制度变革的尝试 B. 引进西方的工业文明

C. 发展民族资本主义 D. 学习西方的军事技术

7. (2.00分) “灯闪着,风吹着,蟋蟀叫着,我坐在床上看书。月亮出来了,风息了,我站在院中唱歌。”这是末代皇帝溥仪(1906-1967)在17岁时写的一首新诗。和文言文相比,这种平易通俗的文风受益于 ()

A. 洋务运动 B. 戊戌变法 C. 新文化运动 D. 五四运动

8. (2.00分) 1924年9月8日,美国《时代》杂志封面刊登了一位风云人物——吴佩孚,他是出现在《时代》杂志封面上的第一个中国人。但两年之后,他就迅速在中国政坛上消失了。这主要是由于 ()

A. 辛亥革命 B. 五四运动 C. 北伐战争 D. 南昌起义

9. (2.00分) 习近平曾用“五个创造性”总结毛泽东在党的历史上所作的重要贡献,强调毛泽东创造性地解决了中国革命道路问题。这里的“中国革命道路”是指 ()

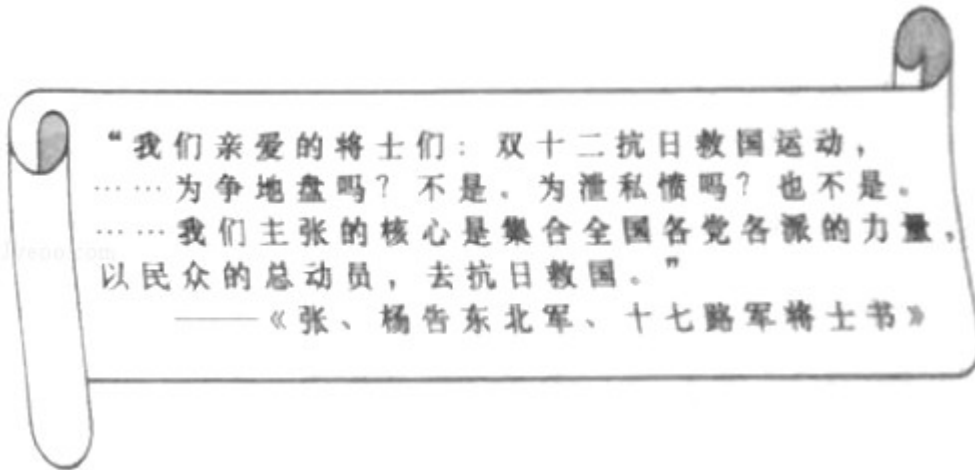
A. 城市领导农村

B. 农村包围城市,武装夺取政权

C. 城市武装起义

D. 建设有中国特色的社会主义

10. (2.00分) 如图所示材料中“双十二抗日救国运动”是指 ()



A . 九一八事变 B . 西安事变 C . 卢沟桥事变 D . 八一三事变

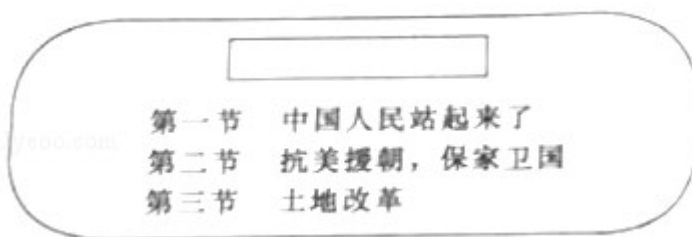
11 . (2.00分) 1945年8月民主人士柳亚子先生曾赠毛泽东诗云：“阔别羊城（今广州）十九秋，重逢握手喜渝州（今重庆），弥天大勇诚能格，遍地劳民战尚休。”下列事件中体现毛泽东“弥天大勇”的是（ ）

A . 西安事变 B . 抗日战争 C . 重庆谈判 D . 渡江战役

12 . (2.00分) 从1946年下半年到1949年9月的3年中，烟台各县大批支前民工随军支前，先后支援了鲁南战役、孟良崮战役、潍县战役、济南战役、淮海战役、渡江战役等。以上信息表明了上述战役能够取得胜利的原因是（ ）

A . 国民党军队战斗力低下 B . 国民党统治腐败
C . 人民群众积极拥护和支持 D . 解放军作战方针正确

13 . (2.00分) 阅读历史书籍需要关注章节标题，从而把握内容的主旨。根据图中的内容，你认为最适当的标题是（ ）



A . 中华人民共和国成立 B . 新中国的成立和巩固
C . 社会主义道路的探索 D . 建设中国特色社会主义

14 . (2.00分) 1952年底，我国彻底摧毁了存在2000多年的封建土地制度，消灭了地主阶级；农民翻了身，成为土地的主人。这是基于下列哪一事件的开展（ ）

A . 土地改革运动 B . 农业合作化运动

C . 人民公社化运动 D . 三大改造

15 . (2.00 分) 从中国“制造”到中国“创造”，反映了中国工业从弱到强的发展历程。我国开始改变工业落后面貌，向社会主义工业化迈进是在 ()

A . 洋务运动时期 B . 民族工业的“黄金时代”

C . 大跃进时期 D . 第一个五年计划完成后

16 . (2.00 分) 十九大报告指出，中国社会主要矛盾已发生变化，但仍将长期处于社会主义初级阶段。

我国社会主义初级阶段开始于 ()

A . 第一个五年计划的完成 B . 三大改造的基本完成

C . 中共八大的召开 D . 十一届三中全会的召开

17 . (2.00 分) 2018 年 4 月 13 日，党中央决定支持海南全岛建设自由贸易试验区，支持海南逐步探索、稳步推进中国特色自由贸易港建设。20 世纪 80 年代以后，中国对外开放的地区逐渐扩大，增设海南岛为

()

A . 经济特区 B . 沿海经济开放区

C . 沿海开放城市 D . 特别行政区

18 . (2.00 分) 伯利克里统治时期，雅典的一个家庭要去参加公民大会，选举首席将军，家里有一名男主人、一名女主人、一名小女孩、一名男奴隶、一名女奴隶。根据当时的民主制度，可以参加投票的有 ()

A . 5 人 B . 3 人 C . 2 人 D . 1 人

19 . (2.00 分) 联合国教科文组织曾宣布，每年 8 月 23 日为“废除奴隶贸易国际纪念日”。16 世纪起，欧洲殖民者就在进行着罪恶的奴隶贸易。下列表述正确的是 ()

A . 最早进行这一贸易的是英国人

B . 它使非洲丧失了大量精壮劳力

C . 它为非洲输送了大量劳动力

D . 它给印第安人带来了巨大的财富

20 . (2.00 分) 文艺复兴时期的知识分子正处于古典文明再生的时代，他们的生活重心不再只有上帝，也逐渐关注现实人生，强调人的价值和尊严。这表明当时“知识分子”追求的是 ()

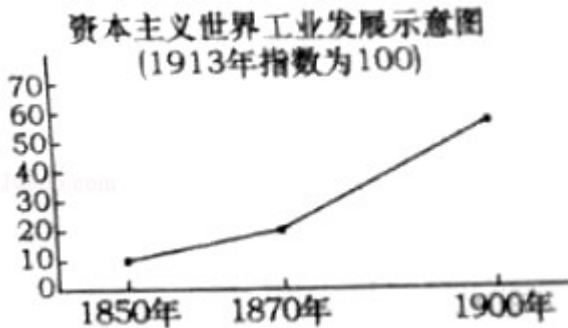
A . 自由主义思想 B . 复兴希腊罗马古典文化

C . 人文主义思想 D . 民主平等思想

21 . (2.00 分) 它发表于 170 年前，是第一部较为完整而系统地阐述科学社会主义基本原理的伟大著作，开辟了国际工人运动和社会主义运动的新局面。这里的“它”是 ()

A. 《权利法案》 B. 《人权宣言》 C. 《共产党宣言》 D. 《人民宪章》

22. (2.00分) 如图是资本主义世界工业发展示意图, 从中可以看出资本主义工业发展速度在 1870 年后发生显著变化。导致变化的根本原因是 ()



A. 殖民扩张 B. 资本主义制度开始确立
C. 开始使用大机器生产 D. 第二次工业革命的开展

23. (2.00分) 1942年1月1日, 美英苏中等 26 个反法西斯国家在华盛顿举行会议……以后“联合国”在政治上互相协商, 军事上互相配合, 物资上互相支援, 对加速反法西斯战争的胜利起了重要的作用。

材料中的“联合国”指的是 ()

A. 国际联盟 B. 欧洲联盟
C. 国际反法西斯联盟 D. 联合国

24. (2.00分) 下表为 1948 - 1952 年西欧国家经济发展状况统计:

时间 (年)	国民生产总值增长	工业生产上 升	农业生产上 升
1948 - 1952	25%	35%	4.8%

这一历史阶段西欧国家经济迅速增长得益于 ()

A. 杜鲁门主义的推行 B. 马歇尔计划的实施
C. 北大西洋公约组织的建立 D. 欧共体的成立

25. (2.00分) 亨利·基辛格曾注意到: “21 世纪的国际体系……将至少包括六个主要的强大力量——美国、欧洲、中国、日本、俄国, 也许还有印度……使得它们在世界事务中具有影响力”。材料反映了 ()

A. 两极对峙的政治格局 B. 美苏争霸结束
C. 经济全球化趋势 D. 世界格局多极化趋势

二、非选择题 (本大题共 3 小题, 第 26 题 16 分, 第 27 题 17 分, 第 28 题 17 分, 共 50 分)

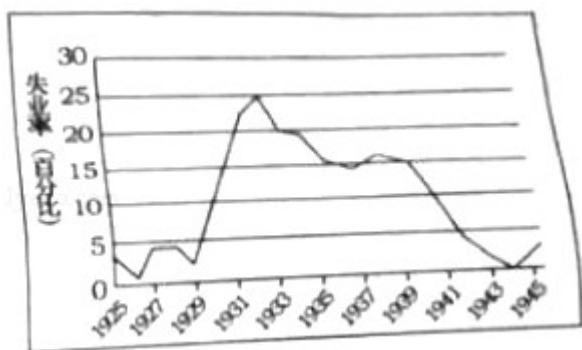
26. (16.00分) 2018年是改革开放40周年,我国将继续全面深化改革。古今中外,改革一直是社会进步的重要推动力。阅读下列材料,回答问题。

材料一 《资治通鉴》记载:(魏主)今欲断诸北语(鲜卑语),一从正音(汉语)……三十以下,见在朝廷之人,语音不听仍旧;若有故为,当加降黜。

材料二 由于中国人闭关自守、骄傲自满,三次灾难性战争使他们受到了巨大的刺激:第一次是1839~1842年同英国的战争,第二次是1856~1858年同英法的战争,第三次是1895年同日本的战争。在这些战争中所遭受的耻辱性失败,迫使中国人打开大门,结束他们对西方的屈尊态度,重新评价自己的传统文明。

- - [美]斯塔夫里阿诺斯《全球通史》

材料三 如图是1929--1945年美国的失业率



材料四 在社会主义的发展道路问题上,强调走自己的路,不把书本当教条,不照搬外国模式,以马克思主义为指导,以实践作为检验真理的唯一标准,解放思想,实事求是,尊重群众的首创精神,建设有中国特色的社会主义。

- - 中共中央文献研究室《历次中央全会重要文件选编》

- (1) 材料中魏主指谁?他“断诸北语,一从正音”的目的是什么?
- (2) 第二次灾难性战争后,清政府采取了什么自救运动?它对中国近代化有何作用?
- (3) 哪一历史事件导致图中1929-1933年美国失业率急剧上升?美国政府为应对这一事件实行了什么改革?这次改革对资本主义国家经济发展模式的影响是什么?
- (4) 列举十一届三中全会以后,农村改革中体现“群众的首创精神”的两个典型事例。20世纪90年代哪一举措体现了“中国特色”的国企改革之路?

27. (17.00分) 人类命运共同体的理念是“新时代中国特色社会主义思想”的重要组成部分,是中国基于对世界形势的准确把握而贡献的“中国智慧”和“中国方案”。阅读下列材料,回答问题。

【传统文化理念】

材料一 人类命运共同体这一理念蕴含着中华优秀传统文化价值理念。在五千多年的文明发展中,中华民

族一直追求和传承着和平、和睦、和谐，以和为贵，与人为善，己所不欲、勿施于人等理念……是建设人类命运共同体的重要思想宝库。

——赵可金《人类命运共同体思想的丰富内涵与理论价值》

【文明交流互鉴】

材料二 中国古代曾积极同世界各国交流：汉朝有这样一条路，沿着这条路，东方的丝织品及冶铁等技术相继传至欧洲，西方的汗血马、音乐等也纷纷东来；唐朝有这样一群人，他们历经艰难把域外文化带入唐土，又矢志不渝把盛唐文化传播四方……

【文明冲突重建】

材料三 15世纪后期，从欧洲出发的航海家们逐渐发现了我们现在所知世界的大部分地区，经过几次艰难的航行，探险家们开辟了新的航线……永远地结束了世界主要文明地区相互隔绝的局面

——《大国崛起》解说词

【外交合作共赢】

材料四 人类命运共同体这一理念在外交上反映出中国不是追求狭隘的国家安全、国家利益，而是追求世界共赢和共同安全。有学者认为，人类命运共同体的核心思想是“要和平不要战争，要发展不要贫穷，要合作不要对抗，要共赢不要单赢”

(1) 结合所学概括指出孔子、孟子、墨子体现“和睦、和谐”的核心思想分别是什么？

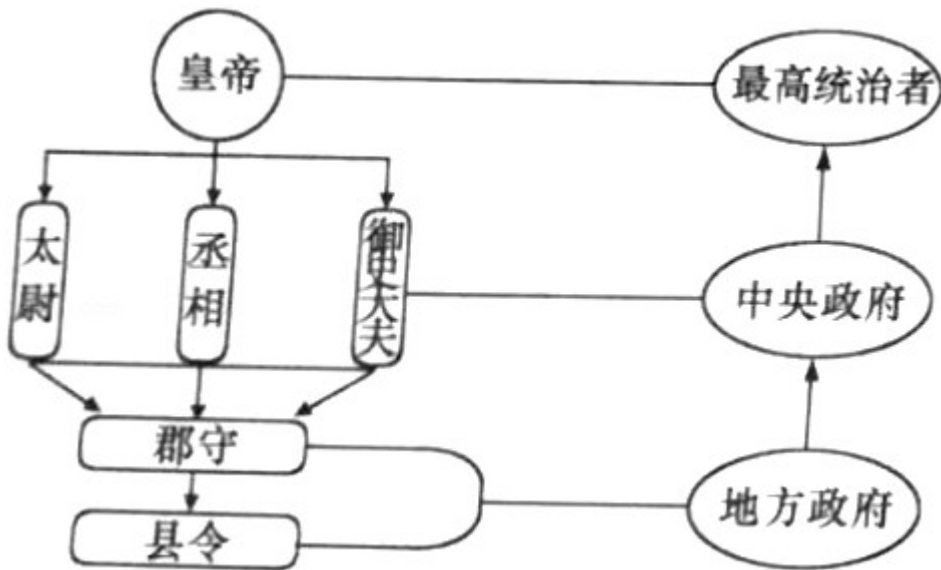
(2) 材料中的“这条路”指的是哪条商路？它在中外交往中有何重要地位？请列举两例唐朝“这样一群人”对外交往的事例。

(3) 材料中“结束了世界主要文明地区相互隔绝的局面”的标志性事件是什么？它对人类文明的交流有何重要影响？

(4) 为了“合作”“发展”，20世纪50年代我国提出的外交原则和方针分别是什么？20世纪70年代中国外交由“对抗”到“合作”的典型事件有哪些？

28. (17.00分) 政治制度创新是人类社会发展中多种因素共同作用的结果，它对历史的演进和发展产生着深远影响。阅读下列材料，回答问题。

材料一 如图是秦朝的政治建制示意图。



材料二 中国古代发明的选拔官吏的制度，提供了平民可以做宰相，可以为公卿，可以参政的机会……这一制度对西方近代文官考试制度的形成产生了极大影响，有人称它为中国古代的“第五大发明”。

材料三 这是一个前所未有的变化，国王由议会决定产生，意味着君权从“神授”变成了“民授”，它根本性地改变了在英国已经存在了千年之久的王权性质，从 1688 年起，英国正式确立了议会高于王权的政治原则……光荣革命使英国摆脱了专制的统治，这个在世界上，它是第一个国家。

——选自《大国崛起》解说词

材料四 孙中山是中国伟大的民主革命开拓者，在历史上留下了不可磨灭的功勋。他领导的革命是近代中国的一次比较完全意义上的资产阶级民主革命，是中国人民为改变自己命运而奋起革命的一个里程碑。

(1) 依据上图并结合所学指出在地方上推行什么制度对后世影响深远？中央政府各机构的职能分别是什么？

(2) 写出该制度的名称，依据材料概括该制度的积极影响。

(3) 材料中 1688 年后议会与国王确立了怎样的关系？这一关系的确立意味着英国开始了什么政治制度？为什么说“光荣革命使英国摆脱了专制的统治，这个在世界上，它是第一个国家”？

(4) 他领导的“革命”指什么？从政治制度演进谈谈它“是中国人民为改变自己命运而奋起革命的一个里程碑。”

2018年山东省烟台市中考历史试卷

参考答案与试题解析

一、选择题（本大题共 25 小题，每小题 2 分，共 50 分．在每小题列出的四个选项中，只有一个选项符合题目要求）

1．（2.00 分）1982 年，北京人遗址被列入世界文化遗产名录。北京人是世界上最重要的原始人类之一。

下列表述正确的是（　　）

A．是我国境内目前已确认的最早的古人类

B．会使用火和打制石器

C．已经会制造工具和种植水稻

D．会建造房屋和使用陶器

【考点】13：北京人．

【分析】本题考查了远古北京人。北京人用火烧烤食物，吃到熟食，缩短了消化过程，促进了体质的发展。

【解答】北京人生活在距今约七十万年至二十万年的北京西南周口店的山洞里，他们使用打制的石器，过群居生活，共同劳动（采集、狩猎）共同分享劳动成果；会使用天然火，他们用火烧烤食物、驱赶野兽，照明、防寒，火的使用增强了人们适应自然的能力。关于北京人的表述正确的是会使用火和打制石器。

故选：B。

【点评】本题考查学生对基础知识的识记能力，需要准确识记北京人的生产生活状况。

2．（2.00 分）在中华民族的血脉中，一直流淌着“工匠精神”的基因，下列两件绝世青铜器体现了哪一朝代的成就（　　）



四羊方尊



司母戊鼎

A．夏朝 B．商朝 C．周朝 D．秦朝

【考点】21：青铜器．

【分析】本题以历史图片为切入点，考查青铜器的相关知识。

【解答】观察图片可知，图片是司母戊鼎和四羊方尊，这都是我国商朝时期青铜器的精品，体现了我国高超的青铜冶炼技术。青铜文化是中国先进文化的一种重要表现，商朝的青铜器制造规模大，技艺精湛，品种多，其中世界上现存最大的青铜器是司母戊鼎，四羊方尊造型奇特，是青铜器中的精品。

故选：B。

【点评】注意对图片的解读，识记司母戊鼎和四羊方尊的相关知识。

3. (2.00分) 随着城市人口的增长，城中店铺不断增加，街道两旁商店、客栈、货摊林立。营业时间不受限制，有“昼市”“夜市”，许多交易可用“交子”，“动即千万”。以上情形最早可能出现在（ ）

A. 汉代长安 B. 唐代洛阳 C. 北宋东京 D. 元朝大都

【考点】6A：宋代的社会生活；PC：历史文化常识。

【分析】本题主要考查宋代的社会生活的相关史实。宋代商业的繁荣超过了前代，南方的商业尤为发达。那时商业都市很多，最大的是开封和杭州。

【解答】据题干“商人开店可以随处选择地点，街道两旁商店、客栈、货摊林立。营业时间不受限制，有‘昼市’‘夜市’，许多交易可用‘交子’，‘动即千万’可知，以上情形最早可能出现在北宋东京。宋代商业的繁荣超过了前代，南方商业尤为发达，当时最大的商业都市是开封（北宋东京）和杭州，杭州改为临安后，繁荣程度远远超过北宋时的开封，城内人口多达百万，大街小巷店铺林立，早市、夜市“买卖昼夜不绝”。北宋时期，市场上流通的仍是金属货币，既有铜钱，也有铁钱，但是金属货币使用不方便。北宋前期，在四川地区出现了世界上最早的纸币——交子。纸币的产生，有利于商业发展。

故选：C。

【点评】本题主要考查学生的识记能力以及分析问题的能力。理解并识记宋代的社会生活的相关史实。

4. (2.00分) 宋代是中国古代科学技术发展史上最辉煌的时期，几乎在所有中国传统科学技术领域都留下了新的记录。以下科技成就属于宋代的是（ ）

- ① 发明活字印刷术
- ② 改进造纸术
- ③ 指南针应用于航海
- ④ 火药开始用于军事

A. ①② B. ①③ C. ②④ D. ①④

【考点】6J：活字印刷术的发明；6K：指南针和火药的应用和外传。

【分析】本题以宋代是中国古代科学技术发展史上最辉煌的时期，几乎在所有中国传统科学技术领域都留下了新的记录为切入点，考查的是宋代的科技成就。

【解答】据所学知，宋代是我国历史上一个经济繁荣的时期，也是当时世界上最重要的“中心”，在科技方

面，宋代出现了活字印刷术、指南针开始应用于航海、火药在军事上被广泛应用。唐朝火药开始用于军事，东汉蔡伦改进造纸术，①③选项符合题意。

故选：B。

【点评】 本题考查学生对历史史实的准确识记和理解能力。注意掌握宋代科技成就的相关知识点。

5. (2.00分) 某兴趣小组在学习“闭关锁国”政策时，制作了一张学习卡片，其中错误的一项是 ()

“闭关锁国”政策	
表现	① 实行严厉的海禁政策，不许擅自出海贸易
	② 绝对禁止一切商品出口和船只出海
	③ 特许“广州十三行”统一经营对外贸易
影响	④ 导致国家闭塞，逐渐在世界上落伍

A. ① B. ② C. ③ D. ④

【考点】 7M：闭关锁国政策；7N：闭关锁国政策的影响。

【分析】 本题以某兴趣小组在学习“闭关锁国”政策时，制作的一张学习卡片为依托，考查“闭关锁国”政策的知识点。注意掌握相关基础知识。

【解答】 某兴趣小组在学习“闭关锁国”政策时，制作了一张学习卡片，其中错误的一项是“②绝对禁止一切商品出口和船只出海”。清朝前期，为巩固清王朝的统治，清政府实行闭关锁国政策，严格限制对外贸易，但不是绝对禁止一切商品出口和船只出海，只开广州一处为对外通商口岸。闭关锁国对西方殖民者的入侵起过一定的积极作用，但最终阻碍了中国社会的进步，是中国在世界上逐步落伍。

故选：B。

【点评】 本题考查学生识记和分析历史知识的能力，识记与灵活掌握“闭关锁国”政策的相关史实。

6. (2.00分) 2018年是农历戊戌年，120年前中国进行了一场救亡图存的社会变革，这一变革开始了 ()

A. 政治制度变革的尝试 B. 引进西方的工业文明
C. 发展民族资本主义 D. 学习西方的军事技术

【考点】 92：戊戌变法。

【分析】 本题考查戊戌变法的相关知识，掌握戊戌变法的主要内容。

【解答】 由时间“2018年”可知，120年前指的是1898年，这一年发生了戊戌变法，戊戌变法时期维新派试图在中国建立君主立宪制，是中国政治变革的开端，A符合题意。

故选：A。

【点评】注意识记戊戌变法的主要内容及影响。

7. (2.00分) “灯闪着，风吹着，蟋蟀叫着，我坐在床上看书。月亮出来了，风息了，我站在院中唱歌。”这是末代皇帝溥仪（1906 - 1967）在17岁时写的一首新诗。和文言文相比，这种平易通俗的文风受益于（ ）

A. 洋务运动 B. 戊戌变法 C. 新文化运动 D. 五四运动

【考点】97：新文化运动。

【分析】本题主要考查新文化运动的相关史实。1915年，陈独秀在上海创办《青年杂志》（从第二卷起改称《新青年》），标志着新文化运动的兴起。

【解答】1917年，胡适在《新青年》上发表《文学改良刍议》一文，主张用白话文代替文言文，提出写文章“不作无病之呻吟”“须言之有物”等主张。和文言文相比，这种平易通俗的文风受益于新文化运动。

故选：C。

【点评】本题主要考查解读题干信息和对历史史实的分析和准确识记能力。理解并识记新文化运动的相关史实。

8. (2.00分) 1924年9月8日，美国《时代》杂志封面刊登了一位风云人物——吴佩孚，他是出现在《时代》杂志封面上的第一个中国人。但两年之后，他就迅速在中国政坛上消失了。这主要是由于（ ）

A. 辛亥革命 B. 五四运动 C. 北伐战争 D. 南昌起义

【考点】9H：国民革命和北伐战争。

【分析】本题主要考查北伐战争的相关史实。北伐军出师不到半年，从珠江流域打到长江流域，基本推翻了北洋军阀的统治，声势震动全国。1927年，国民政府由广州迁到武汉。

【解答】为推翻北洋军阀的统治，统一全国，广东国民政府决定北伐，北伐的主要对象是吴佩孚、孙传芳、张作霖三个军阀。1926年7月，北伐军出师北伐，蒋介石任总司令。湖南、湖北是主战场，那里有吴佩孚的主力把守；第四军叶挺独立团连克汀泗桥和贺胜桥，猛攻武昌，经过激烈战斗，北伐军登上武昌城头。吴佩孚的主力基本上被消灭了，之后北伐军又集中力量进攻江西消灭了孙传芳的主力。题干中发生的事件主要是由于北伐战争。

故选：C。

【点评】本题主要考查学生综合运用所学知识解决问题的能力。理解并识记北伐战争的相关史实。

9. (2.00分) 习近平曾用“五个创造性”总结毛泽东在党的历史上所作的重要贡献，强调毛泽东创造性地解决了中国革命道路问题。这里的“中国革命道路”是指（ ）

- A . 城市领导农村
- B . 农村包围城市，武装夺取政权
- C . 城市武装起义
- D . 建设有中国特色的社会主义

【考点】 9N：农村包围城市的革命道路 .

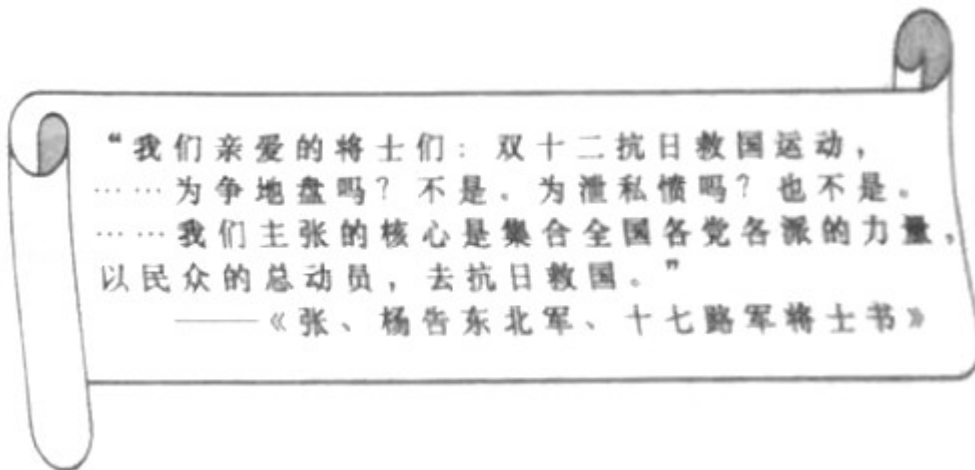
【分析】 本题考查农村包围城市，武装夺取政权道路的开辟。从井冈山革命根据地开始，中国共产党开始探索适合中国国情的革命道路，马克思主义与中国革命实践相结合形成毛泽东思想或者找到了一条符合中国国情的革命之路：即农村包围城市，武装夺取政权之路。

【解答】 据“毛泽东‘创造性地解决’了中国革命道路问题”并结合所学可知，“创造性的革命道路”指的是农村包围城市，武装夺取政权道路。1927 年秋收起义失败后，毛泽东认真分析中国的形势，当机立断，向农村进军，建立了第一个农村革命根据地——井冈山革命根据地。井冈山革命根据地的建立，是中国共产党探索农村包围城市、武装夺取政权这一革命道路的开始。故“创造性的革命道路”是指农村包围城市，武装夺取政权的革命道路。

故选：B。

【点评】 本题考查学生识记和分析历史知识的能力，识记与灵活掌握新民主主义革命道路探索的重大事件以及影响。

10 . (2.00 分) 如图所示材料中“双十二抗日救国运动”是指 ()



- A . 九一八事变
- B . 西安事变
- C . 卢沟桥事变
- D . 八一三事变

【考点】 A2：西安事变 .

【分析】 本题以“双十二抗日救国运动”为切入点，考查西安事变的相关知识。

【解答】 1936 年 12 月 12 日，张学良和杨虎城在西安发动“兵谏”，逼迫蒋介石放弃围剿红军，共同抗日，西安事变发生。因发生在 12 月 12 日，又被称为双十二事变；西安事变发生，中国共产党主张和平解决西

安事变，周恩来奔赴西安积极协调，最终促使西安事变和平解决，蒋介石被迫接受停止内战、联共抗日的主张。西安事变的和平解决成为扭转时局的关键，标志着十年内战基本结束，抗日民族统一战线初步形成，第二次国共合作初步形成。

故选：B。

【点评】 注意识记西安事变的经过及和平解决的历史意义。

11. (2.00分) 1945年8月民主人士柳亚子先生曾赠毛泽东诗云：“阔别羊城（今广州）十九秋，重逢握手喜渝州（今重庆），弥天大勇诚能格，遍地劳民战尚休。”下列事件中体现毛泽东“弥天大勇”的是（ ）

A. 西安事变 B. 抗日战争 C. 重庆谈判 D. 渡江战役

【考点】 AE：重庆谈判与《双十协定》。

【分析】 本题主要考查学生对历史知识的灵活运用能力，需要注意题干材料中的时间、地点及“弥天大勇”的赞誉。

【解答】 通过题干中的时间：1945年8月和地点：渝州（重庆）及弥天大勇等可知此诗称颂的是为争取国内和平，1945年8月，毛泽东不顾个人安危在周恩来等人陪同下，到达重庆同国民党进行谈判。根据所学知识可知，抗战胜利后，蒋介石采取了假和平、真备战的策略，为了进一步赢得准备内战的时间，也为了欺骗人民。三次电邀毛泽东到重庆谈判。为了尽一切可能争取国内和平，戳穿蒋介石假和平的阴谋，毛泽东在周恩来等陪同下，飞抵重庆谈判。

故选：C。

【点评】 本题考查学生分析材料提取材料有效信息的能力。熟练掌握重庆谈判的背景等。

12. (2.00分) 从1946年下半年到1949年9月的3年中，烟台各县大批支前民工随军支前，先后支援了鲁南战役、孟良崮战役、潍县战役、济南战役、淮海战役、渡江战役等。以上信息表明了上述战役能够取得胜利的原因是（ ）

A. 国民党军队战斗力低下 B. 国民党统治腐败
C. 人民群众积极拥护和支持 D. 解放军作战方针正确

【考点】 AD：抗日战争的胜利及历史意义。

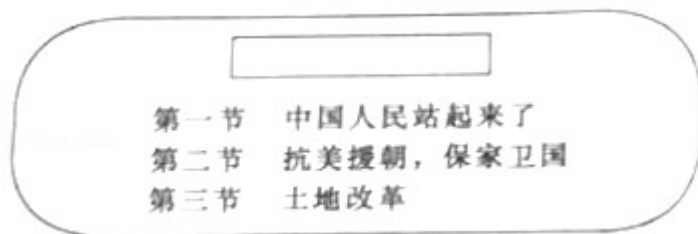
【分析】 本题考查解放战争的相关知识，了解解放战争胜利的原因。

【解答】 由材料“从1946年下半年到1949年9月的3年中，烟台各县大批支前民工随军支前，先后支援了鲁南战役、孟良崮战役、潍县战役、济南战役、淮海战役、渡江战役等”可知，解放战争时期一系列战役的胜利与人民群众的支持是分不开的，这表明上述战役能够取得胜利的原因是人民群众积极拥护和支持。

故选：C。

【点评】注意对材料信息的提取，识记解放战争的重要战役及胜利的原因。

13. (2.00分) 阅读历史书籍需要关注章节标题，从而把握内容的主旨。根据图中的内容，你认为最适当的标题是 ()



- A. 中华人民共和国成立 B. 新中国的成立和巩固
C. 社会主义道路的探索 D. 建设中国特色社会主义

【考点】C1：新中国成立。

【分析】本题主要考查学生对新中国成立相关知识的掌握。中华人民共和国的成立，开辟了中国历史的新纪元。

【解答】依据所学知识可知，中华人民共和国的成立，开辟了中国历史的新纪元。中国真正成为独立自主的国家，占人类总数四分之一的中国人从此站起来了；抗美援朝、土地改革和平解放西藏属于新中国成立后巩固新政权的措施。结合图示中的文字可知，最适当的标题是新中国的成立和巩固。

故选：B。

【点评】本题主要考查综合运用所学知识进行判断分析的能力。理解并识记中华人民共和国成立的相关史实。

14. (2.00分) 1952年底，我国彻底摧毁了存在2000多年的封建土地制度，消灭了地主阶级；农民翻了身，成为土地的主人。这是基于下列哪一事件的开展 ()

- A. 土地改革运动 B. 农业合作化运动
C. 人民公社化运动 D. 三大改造

【考点】C4：土地改革。

【分析】本题以1952年底，我国彻底摧毁了存在2000多年的封建土地制度，消灭了地主阶级；农民翻了身，成为土地的主人为切入点，考查的是土地改革的相关知识点。

【解答】1950年中央人民政府颁布了《中华人民共和国土地改革法》，其内容主要有废除地主阶级封建剥削的土地所有制，实行农民的土地所有制。土地改革彻底废除了在我国延续了两千多年的封建土地制度，消灭了地主阶级；农民成为土地的主人，在政治、经济上翻了身；解放了农村生产了，促进了农村经济迅速走向恢复和发展。为国家的工业化建设准备了条件，A选项符合题意。

故选：A。

【点评】 本题考查学生对历史史实的准确识记和理解能力。注意掌握土地改革的有关内容。

15. (2.00分) 从中国“制造”到中国“创造”，反映了中国工业从弱到强的发展历程。我国开始改变工业落后面貌，向社会主义工业化迈进是在 ()

- A. 洋务运动时期 B. 民族工业的“黄金时代”
C. 大跃进时期 D. 第一个五年计划完成后

【考点】 C9：一五计划。

【分析】 本题考查一五计划；1953年-1957年，为了有计划的进行社会主义建设，党和政府实施了第一个五年计划。基本任务是集中主要力量发展重工业。

【解答】 1953年-1957年，为了有计划的进行社会主义建设，党和政府实施了第一个五年计划。一五计划的完成，形成了以鞍山钢铁公司为中心的东北工业基地，沿海地区原有的工业基地得到加强，在华北、西北建立了一批新工业基地。从此，我国开始改变了工业落后的面貌，向社会主义工业化迈进。

故选：D。

【点评】 本题以第一个五年计划为依托，考查学生解读题干信息和对历史史实的准确识记能力。注意掌握一五计划实行的时间、取得的成就和意义。

16. (2.00分) 十九大报告指出，中国社会主要矛盾已发生变化，但仍将长期处于社会主义初级阶段。我国社会主义初级阶段开始于 ()

- A. 第一个五年计划的完成 B. 三大改造的基本完成
C. 中共八大的召开 D. 十一届三中全会的召开

【考点】 CA：三大改造。

【分析】 本题主要考查三大改造的相关史实。1953年开始，我国对农业、手工业、资本主义工商业进行社会主义改造。

【解答】 1956年底，我国完成对农业、手工业和资本主义工商业的社会主义改造，基本实现了生产资料私有制向社会主义公有制的转变，标志着我国建立起社会主义基本制度，从此进入社会主义初级阶段。选项B符合题意。

故选：B。

【点评】 本题主要考查学生的识记能力以及分析问题的能力。理解并识记三大改造的相关史实。

17. (2.00分) 2018年4月13日，党中央决定支持海南全岛建设自由贸易试验区，支持海南逐步探索、稳步推进中国特色自由贸易港建设。20世纪80年代以后，中国对外开放的地区逐渐扩大，增设海南岛为 ()

- A. 经济特区 B. 沿海经济开放区

C . 沿海开放城市 D . 特别行政区

【考点】 D5 : 对外开放和深圳等经济特区的建立 .

【分析】 本题主要考查我国在十一届三中全会后形成的对外开放格局。识记海南岛属于我国的经济特区。

【解答】 1980 年, 我国广东的深圳、珠海、汕头和福建的厦门建立经济特区。后来, 又开放了广州、上海等 14 个沿海城市, 增设海南经济特区, 设立上海浦东开发区, 现在, 对外开放区已从沿海地区向内地发展, 形成经济特区—沿海开放城市—沿海经济开放区—内地, 这样一个全方位、多层次、宽领域的对外开放格局。故海南岛属于经济特区。

故选 : A。

【点评】 本题以十一届三中全会后形成的对外开放格局为切入点, 主要考查学生的识记能力以及分析问题的能力。注意掌握我国在对外开放中形成的对外开放格局的特点和在社会主义经济建设中发挥的重要作用。深化改革、扩大开放是当今经济建设的重点。

18 . (2.00 分) 伯利克里统治时期, 雅典的一个家庭要去参加公民大会, 选举首席将军, 家里有一名男主人、一名女主人、一名小女孩、一名男奴隶、一名女奴隶。根据当时的民主制度, 可以参加投票的有 ()

A . 5 人 B . 3 人 C . 2 人 D . 1 人

【考点】 F9 : 雅典民主政治 .

【分析】 本题考查了雅典民主政治。古希腊是西方文明的发源地, 它和古罗马文明造就了西方文化之根。

【解答】 公元前 5 世纪后半期, 伯利克里当政期间, 雅典奴隶主民主政治达到古代世界的最高峰, 当时雅典全体成年男性公民可以参加最高权力机构公民大会, 决定内政、外交、战争等重大问题, 但妇女、儿童、外邦人和奴隶无权享有这种民主。根据当时雅典的民主制度, 可以参加投票的只有男主人 1 人。

故选 : D。

【点评】 本题考查学生对历史知识的灵活运用能力, 需要灵活运用伯利克里时期雅典民主政治的表现。

19 . (2.00 分) 联合国教科文组织曾宣布, 每年 8 月 23 日为“废除奴隶贸易国际纪念日”。16 世纪起, 欧洲殖民者就在进行着罪恶的奴隶贸易。下列表述正确的是 ()

- A . 最早进行这一贸易的是英国人
- B . 它使非洲丧失了大量精壮劳力
- C . 它为非洲输送了大量劳动力
- D . 它给印第安人带来了巨大的财富

【考点】 I5 : 三角贸易 .

【分析】 本题考查了“三角贸易”。最先进行奴隶贸易的是葡萄牙人, 但英国人后来居上, 成为“三角贸易”的

主要经营者。

【解答】16世纪起，欧洲殖民者就在进行着罪恶的奴隶贸易。对此表述正确的是它使非洲丧失了大量精壮劳力。因欧洲殖民者大肆屠杀印第安人，导致美洲种植园缺乏大量劳动力，欧洲殖民者发现贩卖黑人奴隶有利可图，纷纷加入罪恶的黑奴贸易行列。最先进行奴隶贸易的是葡萄牙人，但英国人后来居上，成为“三角贸易”的主要经营者。从16世纪到19世纪持续了三百多年的“三角贸易”使非洲丧失了近亿精壮劳力，奴隶贩子大发横财，为欧洲积聚了巨额资本，促进了欧洲资本主义的发展。

故选：B。

【点评】本题考查学生对基础知识的识记能力，需要准确识记“三角贸易”的航线及其影响。

20. (2.00分) 文艺复兴时期的知识分子正处于古典文明再生的时代，他们的生活重心不再只有上帝，也逐渐关注现实人生，强调人的价值和尊严。这表明当时“知识分子”追求的是（ ）

- A. 自由主义思想 B. 复兴希腊罗马古典文化
C. 人文主义思想 D. 民主平等思想

【考点】H1：文艺复兴运动。

【分析】本题考查学生对文艺复兴相关知识的掌握。文艺复兴运动倡导人文主义精神。

【解答】据题干“文艺复兴时期的知识分子正处于古典文明再生的时代，他们的生活重心不再只有上帝，也逐渐关注现实人生，强调人的价值和尊严。”这表明当时“知识分子”追求的是人文主义思想。结合所学可知，从意大利开始的文艺复兴运动，持续了近三百年。它使人们开始认识到，必须打破中世纪以来的封建统治和教会神学对人们的思想束缚，强调和发挥人在这个世界上的作用，倡导人文主义精神。

故选：C。

【点评】本题考查学生对文艺复兴相关知识的掌握。重点识记文艺复兴的内容与影响。

21. (2.00分) 它发表于170年前，是第一部分较为完整而系统地阐述科学社会主义基本原理的伟大著作，开辟了国际工人运动和社会主义运动的新局面。这里的“它”是（ ）

- A. 《权利法案》 B. 《人权宣言》 C. 《共产党宣言》 D. 《人民宪章》

【考点】J3：《共产党宣言》。

【分析】本题考查了《共产党宣言》。德国人马克思和恩格斯共同创立了马克思主义理论。

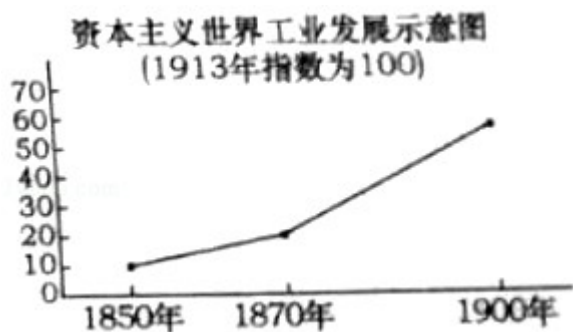
【解答】它发表于170年前，是第一部分较为完整而系统地阐述科学社会主义基本原理的伟大著作，开辟了国际工人运动和社会主义运动的新局面。这里的“它”是《共产党宣言》。1848年，马克思、恩格斯为共产主义者同盟起草的纲领《共产党宣言》发表。《共产党宣言》分析了阶级斗争在阶级社会历史发展中的作用，揭示了资本主义社会必然会被社会主义代替的客观规律，号召全世界无产者联合起来，为获得自己的解放而奋斗。《共产党宣言》的发表标志着马克思主义的诞生。从此，在科学理论的指导下，国际工人运

动进入一个新历史时期。

故选：C。

【点评】 本题考查学生对基础知识的识记能力，需要准确识记《共产党宣言》发表的意义。

22. (2.00 分) 如图是资本主义世界工业发展示意图，从中可以看出资本主义工业发展速度在 1870 年后发生显著变化。导致变化的根本原因是 ()



- A. 殖民扩张 B. 资本主义制度开始确立
C. 开始使用大机器生产 D. 第二次工业革命的开展

【考点】 K1：第二次工业革命；K2：第二次工业革命的主要成就；K3：第二次工业革命的影响。

【分析】 本题考查了第二次工业革命的影响，注意全面分析题干给出的图片。

【解答】 根据题干给出的时间“1870年后”，联系可知资本主义工业发展速度发生显著变化的根本原因是第二次工业革命的开展。第二次工业革命兴起于 19 世纪 70 年代，电力作为新能源进入生产领域。由于发电机和电动机的发明和使用，电力的应用日益广泛，电力逐步取代蒸汽，成为工厂机器的主要动力，人类进入“电气时代”。

故选：D。

【点评】 图片型题目必须认真观察分析图片中包含的文字，根据相关文字的提示信息或准确识别图片确定正确答案。

23. (2.00 分) 1942 年 1 月 1 日，美英苏中等 26 个反法西斯国家在华盛顿举行会议……以后“联合国家”在政治上互相协商，军事上互相配合，物资上互相支援，对加速反法西斯战争的胜利起了重要的作用。

材料中的“联合国家”指的是 ()

- A. 国际联盟 B. 欧洲联盟
C. 国际反法西斯联盟 D. 联合国

【考点】 M5：世界反法西斯联盟的形成。

【分析】 本题以题干材料信息为依托，考查第二次世界大战的知识点。注意掌握相关基础知识。

【解答】1942年1月1日，美英苏中等26个反法西斯国家在华盛顿举行会议……以后“联合国”在政治上互相协商，军事上互相配合，物资上互相支援，对加速反法西斯战争的胜利起了重要的作用。材料中的“联合国”指的是国际反法西斯联盟。二战中法西斯国家的侵略扩张，激起了世界人民的广泛愤怒，中、美、苏等国家为了对付共同的敌人法西斯，逐渐走向联合，1942年1月1日苏、英、美、中等26个国家签署《联合国宣言》标志着国际反法西斯联盟的建立，鼓舞了各国人民的斗志，壮大了反法西斯的力量，奠定了打败法西斯国家的基础。

故选：C。

【点评】本题主要考查学生的识记能力以及分析问题的能力。识记与灵活掌握第二次世界大战重大事件以及影响。

24. (2.00分) 下表为1948-1952年西欧国家经济发展状况统计：

时间 (年)	国民生产总值增长	工业生产上 升	农业生产上 升
1948 - 1952	25%	35%	4.8%

这一历史阶段西欧国家经济迅速增长得益于 ()

- A. 杜鲁门主义的推行 B. 马歇尔计划的实施
C. 北大西洋公约组织的建立 D. 欧共体的成立

【考点】MC：战后西欧经济恢复和发展；MD：欧盟的成立；O4：美国的冷战政策及措施。

【分析】本题考查了马歇尔计划。二战后，美国称霸世界的野心日益膨胀，但又不得不正视苏联等社会主义国家。于是美国带领西方资本主义国家，对苏联等社会主义国家采取了除武装进攻之外一切手段的敌对行动，以“遏制”共产主义。这种政策被称为冷战政策。

【解答】1948-1952年西欧国家经济迅速增长得益于马歇尔计划的实施。美国在经济方面推行了援助西欧的“马歇尔计划”（即“欧洲复兴计划”），帮助当时极为困难的西欧各国迅速恢复经济，防止革命的爆发，控制西欧。AC属于政治和军事领域，D是在20世纪60年代才成立的。

故选：B。

【点评】本题考查学生对历史知识的灵活运用能力，需要灵活运用马歇尔计划实施的影响。

25. (2.00分) 亨利·基辛格曾注意到：“21世纪的国际体系……将至少包括六个主要的强大力量——美国、欧洲、中国、日本、俄国，也许还有印度……使得它们在世界事务中具有影响力”。材料反映了 ()

- A. 两极对峙的政治格局 B. 美苏争霸结束

C . 经济全球化趋势 D . 世界格局多极化趋势

【考点】 OC : 世界格局多极化 .

【分析】 本题考查了多极化趋势。当今世界格局正在向多极化格局趋势发展，并非已经形成了多极化格局。

【解答】 亨利·基辛格曾注意到：“21 世纪的国际体系……将至少包括六个主要的强大力量——美国、欧洲、中国、日本、俄国，也许还有印度……使得它们在世界事务中具有影响力”。材料反映了世界格局多极化趋势。随着东欧剧变和苏联解体，美苏对立的两极格局不复存在，暂时形成了“一超多强”的局面，世界政治格局正朝着多极化方向发展。“一超多强”中“一超”指美国，它仍企图称霸世界，利用北约军事集团，随意干涉其他国家和地区的事务，还大力发展高科技武器，加紧研制和部署导弹防御系统；“多强”指日本、欧盟、中国、俄罗斯等，它们实力不断增强，成为牵制美国称霸世界，促进世界格局多极化的重要力量。在新的世界格局的形成过程中经济实力越来越具有决定性的作用。

故选：D。

【点评】 本题属于材料型选择题，主要考查学生的阅读分析能力，解答此类必须认真阅读材料，结合所学知识提炼材料中的重要信息和观点。

二、非选择题（本大题共 3 小题，第 26 题 16 分，第 27 题 17 分，第 28 题 17 分，共 50 分）

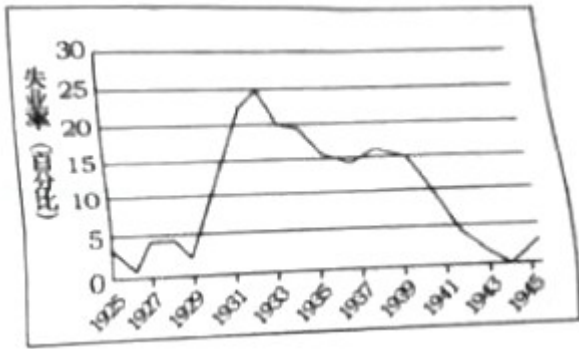
26 . （16.00 分）2018 年是改革开放 40 周年，我国将继续全面深化改革。古今中外，改革一直是社会进步的重要推动力。阅读下列材料，回答问题。

材料一 《资治通鉴》记载：（魏主）今欲断诸北语（鲜卑语），一从正音（汉语）……三十以下，见在朝廷之人，语音不听仍旧；若有故为，当加降黜。

材料二 由于中国人闭关自守、骄傲自满，三次灾难性战争使他们受到了巨大的刺激：第一次是 1839 ~ 1842 年同英国的战争，第二次是 1856 ~ 1858 年同英法的战争，第三次是 1895 年同日本的战争。在这些战争中所遭受的耻辱性失败，迫使中国人打开大门，结束他们对西方的屈尊态度，重新评价自己的传统文明。

—— [美]斯塔夫里阿诺斯《全球通史》

材料三 如图是 1929 —— 1945 年美国的失业率



材料四 在社会主义的发展道路问题上，强调走自己的路，不把书本当教条，不照搬外国模式，以马克思主义为指导，以实践作为检验真理的唯一标准，解放思想，实事求是，尊重群众的首创精神，建设有中国特色的社会主义。

——中共中央文献研究室《历次中央全会重要文件选编》

- (1) 材料中魏主指谁？他“断诸北语，一从正音”的目的是什么？
- (2) 第二次灾难性战争后，清政府采取了什么自救运动？它对中国近代化有何作用？
- (3) 哪一历史事件导致图中 1929 - 1933 年美国失业率急剧上升？美国政府为应对这一事件实行了什么改革？这次改革对资本主义国家经济发展模式的影响是什么？
- (4) 列举十一届三中全会以后，农村改革中体现“群众的首创精神”的两个典型事例。20 世纪 90 年代哪一举措体现了“中国特色”的国企改革之路？

【考点】 49：北魏孝文帝改革；91：洋务运动；D2：农村改革和家庭联产承包责任制；LD：资本主义经济危机的特点与影响；LE：罗斯福新政；PC：历史文化常识。

【分析】 本题综合考查了北魏孝文帝改革、洋务运动、罗斯福新政和改革开放相关史实。

【解答】 (1) 材料一“《资治通鉴》记载：（魏主）今欲断诸北语（鲜卑语），一从正音（汉语）……三十以下，见在朝廷之人，语音不听仍旧；若有故为，当加降黜。”中魏主指北魏孝文帝；他“断诸北语，一从正音”的目的是学习汉族先进文化，加强对中原的统治。

(2) 第二次灾难性战争后，清政府采取的自救运动是洋务运动；它对中国近代化的作用体现在引进西方先进的科学技术，使中国出现了第一批近代企业，为中国近代企业积累了生产经验，培养了技术力量，在客观上为中国民族资本主义的产生和发展起到了促进作用，为中国近代化开辟了道路，在一定程度上抑制了外国经济势力的扩张。

(3) 经济大危机导致材料三图中 1929 - 1933 年美国失业率急剧上升；美国政府为应对这一事件实行的改革是罗斯福新政；这次改革对资本主义国家经济发展模式的影响是开创了国家干预经济的先例。

(4) 十一届三中全会以后，农村改革中体现“群众的首创精神”的典型事例有家庭联产承包责任制（“包产

到户”或“大包干”)；乡镇企业异军突起；20世纪90年代建立社会主义市场经济体制体现了“中国特色”的国企改革之路。

故答案为：

(1) 北魏孝文帝；学习汉族先进文化，加强对中原的统治。

(2) 洋务运动；洋务运动引进西方先进的科学技术，使中国出现了第一批近代企业，为中国近代企业积累了生产经验，培养了技术力量，在客观上为中国民族资本主义的产生和发展起到了促进作用，为中国近代化开辟了道路，在一定程度上抑制了外国经济势力的扩张。

(3) 经济大危机；罗斯福新政；开创了国家干预经济的先例。

(4) 家庭联产承包责任制(“包产到户”或“大包干”)；乡镇企业异军突起；举措：建立社会主义市场经济体制。

【点评】解答材料解析题需要首先读懂材料，然后结合问题从材料中提取有效信息，最后根据所学和材料有效信息组织答案，开放性题目，言之有理即可。

27. (17.00分) 人类命运共同体的理念是“新时代中国特色社会主义思想”的重要组成部分，是中国基于对世界形势的准确把握而贡献的“中国智慧”和“中国方案”。阅读下列材料，回答问题。

【传统文化理念】

材料一 人类命运共同体这一理念蕴含着中华优秀传统文化价值理念。在五千多年的文明发展中，中华民族一直追求和传承着和平、和睦、和谐，以和为贵，与人为善，己所不欲、勿施于人等理念……是建设人类命运共同体的重要思想宝库。

——赵可金《人类命运共同体思想的丰富内涵与理论价值》

【文明交流互鉴】

材料二 中国古代曾积极同世界各国交流：汉朝有这样一条路，沿着这条路，东方的丝织品及冶铁等技术相继传至欧洲，西方的汗血马、音乐等也纷纷东来；唐朝有这样一群人，他们历经艰难把域外文化带入唐土，又矢志不渝把盛唐文化传播四方……

【文明冲突重建】

材料三 15世纪后期，从欧洲出发的航海家们逐渐发现了我们现在所知世界的大部分地区，经过几次艰难的航行，探险家们开辟了新的航线……永远地结束了世界主要文明地区相互隔绝的局面

——《大国崛起》解说词

【外交合作共赢】

材料四 人类命运共同体这一理念在外交上反映出中国不是追求狭隘的国家安全、国家利益，而是追求世

界共赢和共同安全。有学者认为，人类命运共同体的核心思想是“要和平不要战争，要发展不要贫穷，要合作不要对抗，要共赢不要单赢”

(1) 结合所学概括指出孔子、孟子、墨子体现“和睦、和谐”的核心思想分别是什么？

(2) 材料中的“这条路”指的是哪条商路？它在中外交往中有何重要地位？请列举两例唐朝“这样一群人”对外交往的事例。

(3) 材料中“结束了世界主要文明地区相互隔绝的局面”的标志性事件是什么？它对人类文明的交流有何重要影响？

(4) 为了“合作”“发展”，20世纪50年代我国提出的外交原则和方针分别是什么？20世纪70年代中国外交由“对抗”到“合作”的典型事件有哪些？

【考点】 2O：老子和孔子；2P：百家争鸣；3H：汉通西域和丝绸之路；5G：唐朝中外文化交流的发展；E8：和平共处五项原则；EC：中美建交；ED：中日建交；H2：新航路的开辟。

【分析】 本题以人类命运共同体的理念是“新时代中国特色社会主义思想”的重要组成部分为切入点，考查百家争鸣、丝绸之路、唐朝中外文化交流的发展、新航路开辟和新中国的外交成就等知识。

【解答】 (1) 据所学知，孔子的核心思想是“仁”，孟子的核心思想是“仁政”，墨子的核心思想是“兼爱”“非攻”，这些都体现了“和睦、和谐”的思想。

(2) 由材料“中国古代曾积极同世界各国交流：汉朝有这样一条路，沿着这条路，东方的丝织品及冶铁等技术相继传至欧洲，西方的汗血马、音乐等也纷纷东来；唐朝有这样一群人，他们历经艰难把域外文化带入唐土，又矢志不渝把盛唐文化传播四方”可知，“这条路”指的是丝绸之路，丝绸之路是东西方经济文化交流的桥梁。唐朝对外交往的重要人物和事例有玄奘西游和鉴真东渡。

(3) 由材料三“15世纪后期，从欧洲出发的航海家们逐渐发现了我们现在所知世界的大部分地区，经过几次艰难的航行，探险家们开辟了新的航线……永远地结束了世界主要文明地区相互隔绝的局面”可知，“结束了世界主要文明地区相互隔绝的局面”的标志性事件是新航路开辟。新航路开辟结束了世界相互隔绝的局面，世界开始连成一个整体，对孤立、分散的世界向整体发展起了重要作用。

(4) 为了“合作”“发展”，20世纪50年代我国提出的外交原则是和平共处五项原则，外交方针是“求同存异”。20世纪70年代中国外交由“对抗”到“合作”的典型事件有中美关系正常化和中日建交。

故答案为：

(1) 孔子：“仁”；孟子：“仁政”；墨子：“兼爱”“非攻”。

(2) 丝绸之路；东西方经济文化交流的桥梁。

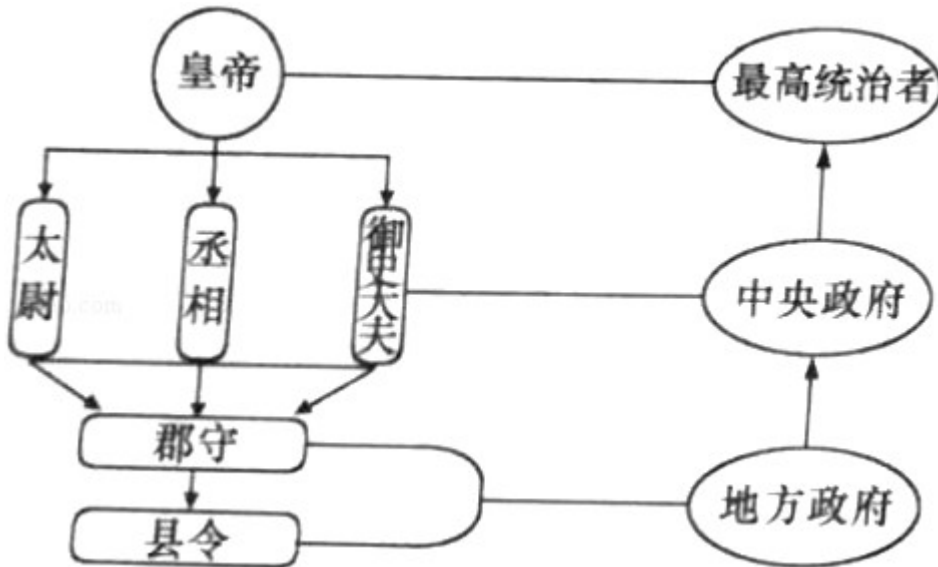
(3) 新航路开辟；结束了世界相互隔绝的局面，世界开始连成一个整体，对孤立、分散的世界向整体发展起了重要作用。

(4) 和平共处五项原则，“求同存异”；中美关系正常化和中日建交。

【点评】注意对材料信息的提取，识记百家争鸣、丝绸之路、唐朝中外文化交流的发展、新航路开辟和中国的外交成就等知识。

28. (17.00分) 政治制度创新是人类社会发展中多种因素共同作用的结果，它对历史的演进和发展产生着深远影响。阅读下列材料，回答问题。

材料一 如图是秦朝的政治建制示意图。



材料二 中国古代发明的选拔官吏的制度，提供了平民可以做宰相，可以为公卿，可以参政的机会……这一制度对西方近代文官考试制度的形成产生了极大影响，有人称它为中国古代的“第五大发明”。

材料三 这是一个前所未有的变化，国王由议会决定产生，意味着君权从“神授”变成了“民授”，它根本性地改变了在英国已经存在了千年之久的王权性质，从1688年起，英国正式确立了议会高于王权的政治原则……光荣革命使英国摆脱了专制的统治，这个在世界上，它是第一个国家。

-- 选自《大国崛起》解说词

材料四 孙中山是中国伟大的民主革命开拓者，在历史上留下了不可磨灭的功勋。他领导的革命是近代中国的一次比较完全意义上的资产阶级民主革命，是中国人民为改变自己命运而奋起革命的一个里程碑。

(1) 依据上图并结合所学指出在地方上推行什么制度对后世影响深远？中央政府各机构的职能分别是什么？

(2) 写出该制度的名称，依据材料概括该制度的积极影响。

(3) 材料中1688年后议会与国王确立了怎样的关系？这一关系的确立意味着英国开始了什么政治制度？为什么说“光荣革命使英国摆脱了专制的统治，这个在世界上，它是第一个国家”？

(4) 他领导的“革命”指什么？从政治制度演进谈谈它“是中国人民为改变自己命运而奋起革命的一个里程

碑。”

【考点】 32：秦朝巩固统一的措施；5D：科举制的创建及影响；96：辛亥革命；H5：英国资产阶级革命；H6：《权利法案》；H7：英国君主立宪制的确立。

【分析】 (1) 本题考查秦朝的郡县制及中央政府各机构的职能。考查基础知识。

(2) 本题考查科举制及其积极影响。需识记和理解科举制的相关知识。

(3) 本题考查英国的君主立宪制及光荣革命的相关知识。需识记此内容。

(4) 本题考查辛亥革命及其影响的知识。重点掌握辛亥革命的影响。

【解答】 (1) 秦始皇为加强中央集权统治，在地方，废除分封制，全面推行郡县制。全国分为 36 郡（后来扩大到 40 多郡），郡下面设置县。中央政府设丞相、太尉、御史大夫，分别掌管行政、军事和监察，最后由皇帝决断。

(2) 由材料“中国古代发明的选拔官吏的制度，提供了平民可以做宰相，可以为公卿，可以参政的机会”可知，这是描述的科举制。科举制改善了用人制度，门第不高的读书人可以凭才学做官。科举制度的积极影响是：使得有才识的读书人有机会进入各级政府任职；促进了教育事业的发展，士人用功读书的风气日盛；科举制度也促进文学艺术的发展，促进了唐朝诗歌的繁盛；对近代西方文官考试制度也产生了重大影响。

(3) 英国资产阶级革命后，1689 年英国议会通过《权利法案》。《权利法案》以法律的形式保障保障全新的政体实施，英国议会拥有最高权利，确立了议会高于王权的原则，《权利法案》的颁布使议会与国王权利关系发生了变化：由过去的国王独断专权向议会限制王权转变；《权利法案》的颁布，标志着君主立宪制的资产阶级统治在英国的确立。君主立宪制的政治体制是一个全新的政治体制；光荣革命推翻了封建君主专制，资产阶级在世界上第一次确立了自己的统治地位，第二年又颁布了《权利法案》，确立了君主立宪制的政治体制，推动了世界历史的进程。

(4) 由材料“孙中山是中国伟大的民主革命开拓者”及所学可知，孙中山领导了辛亥革命。因为辛亥革命推翻了清朝统治，结束了中国两千多年的封建帝制，建立起资产阶级民主共和国，使民主共和的观念日益深入人心，推动了中国近代政治民主化的进程。所以说“是中国人民为改变自己命运而奋起革命的一个里程碑”。

故答案为：

(1) 郡县制；中央设丞相、太尉、御史大夫分别掌管行政、军事和监察。

(2) 科举制；使平民可以凭才学做官，有了参政的机会；扩大了统治基础；影响了近代西方文官考试制度。

(3) 议会的权力高于王权；确立了君主立宪制；光荣革命推翻了封建君主专制，资产阶级在世界上第一次确立了自己的统治地位，推动了世界历史的进程。

(4) 辛亥革命；结束了两千多年的封建帝制，建立起资产阶级民主共和国，推动了中国近代政治民主化的进程。

【点评】 本题围绕政治制度的创新考查秦朝的郡县制及中央政府各机构的职能、考查科举制及其积极影响、考查英国的君主立宪制、光荣革命及辛亥革命及其影响的知识。重点掌握政治制度建立的影响。