

内江市 2020 年初中学业水平考试暨高中阶段学校招生考试试卷

历史

A 卷 100 分，B 卷 30 分，全卷满分共 130 分。

A 卷

一、选择题

1.五代十国的分裂局面出现统一趋势时，赵匡胤和他的后继者结束了中原和南方的分裂割据局面，他建立的朝代及其建立时间、建立者所属民族，搭配正确的是

- A. 元朝——960 年—汉族
B. 元朝——961 年—蒙古族
C. 北宋——960 年—汉族
D. 北宋——961 年—蒙古族

2.如图历史文物可以用来说明：元朝时期我国中央政府直接管辖的地方行政区域是




元宣政院印

- A. 西藏
B. 四川
C. 台湾
D. 腹里

3.1895 年，维新派创办报刊宣传变法，其中北方最有影响的报纸《国闻报》以“通上下之情，通中外之故”为目的，号召变法图强。其创办者是

- A. 谭嗣同
B. 严复
C. 梁启超
D. 康有为

4.如图墓地见证了近代以来中国人民为反帝反封建作出的巨大牺牲，体现了不屈不挠的精神和视死如归的英雄气概，对这一斗争的描述，正确的是



- A. 它是镇守长江门户吴淞的老将陈化成参加的鸦片战争
B. 它是率舰冲向“吉野号”的邓世昌参加的黄海海战
C. 它是天津保卫战中聂士成参加的抗击八国联军侵华战争
D. 它是革命党人为推翻清王朝而举行的广州黄花岗起义
- 5.革命文化是中国共产党领导中国人民在伟大斗争中构建的文化，它是中国革命胜利的文化支撑和中国文

化自信的重要源头。在以下相应时期中，属于毛泽东提出的革命文化内容是

选项	时期	内容
A	五四运动	外争主权，内惩国贼
B	八七会议	政权是由枪杆子中取得
C	一二·九运动	华北之大，已经安放不得一张平静的书桌了
D	抗日战争	一切反动派都 纸老虎

- A. A B. B C. C D. D

6.在中国人民伟大 抗日战争中，国共两党为抗战胜利作出了巨大的贡献和牺牲。如图人物的主要历史事迹是



左权将军

- A. 指挥平型关伏击战，粉碎了日军“不可战胜”的神话
- B. 在敌后“反扫荡”作战中，壮烈殉国
- C. 指挥台儿庄战役，获得抗战以来正面战场的最大胜利
- D. 在东北组织游击队，开展抗日游击战争

7.1947年3月，国民党全面进攻被粉碎后，开始了对解放区的重点进攻，其进攻的主要目标是

- ① 陕北解放区 ② 中原解放区 ③ 山东解放区 ④ 大别山解放区
- A. ①③ B. ②③ C. ①④ D. ②④

8.1950—1952年，新中国彻底摧毁了2000多年的封建土地制度，使农民翻身成为土地的主人，这场变革的法律依据是

- A. 《中国人民政治协商会议共同纲领》
- B. 《中国土地法大纲》
- C. 《中华人民共和国土地改革法》
- D. 《中华人民共和国宪法》

9.如图是1972年中美领导人会见时的情景，两国领导人的神情形象的透露出了当时中美关系的变化，此后

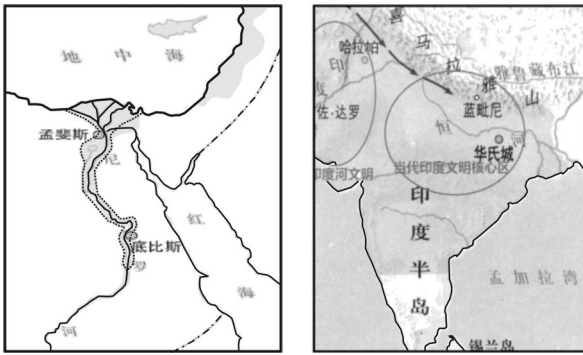


- A. 美国完全结束了敌视中国政策
- B. 中国恢复了在联合国合法席位
- C. 中美两国关系开始走向正常化
- D. 中美联合共建人类命运共同体

10. 2013年，中共十八届三中全会通过了《中共中央关于全面深化改革若干重大问题的决定》，其主要内容是

- A. 以经济建设为中心实行改革开放决策
- B. 加快城市为重点的经济体制改革决定
- C. 发挥国家对市场经济的宏观调控作用
- D. 推进国家治理体系和治理能力现代化

11. 如图是亚非两大文明古国，在其古文明发展史上有诸多相似点，关于它们相似点的论述，正确的是



- A. 发源于世界著名大河流域
- B. 产生了具有世界性影响的宗教
- C. 公元前 36 世纪时出现了国家
- D. 打败了外族入侵延续了文明

12. 下列法国大革命中的史实，按时间先后顺序排列，正确的是

- ① 制宪会议通过《人权宣言》
- ② 巴黎民众攻陷巴士底狱
- ③ 罗伯斯庇尔被送上断头台
- ④ 法兰西第一共和国的成立

- A. ④②③①
- B. ②①④③
- C. ②①③④
- D. ①④②③

13. 1848年，《共产党宣言》发表后，世界无产阶级斗争有了科学的理论指导，这一理论是

- A. 三权分立
- B. 天赋人权
- C. 马克思主义
- D. 科学社会主义

14. 19世纪末 20世纪初，人类出现以石油为能源 新式交通工具，为其提供动力的机器是

- A. 蒸汽机
- B. 发电机
- C. 电动机
- D. 内燃机

15. 1929年 10月，美国股票价格暴跌导致了资本主义世界规模空前的经济大危机，其爆发的根本原因是

- A. 美国疯狂的股票投机活动
- B. 资本主义制度的基本矛盾
- C. 德意日法西斯的殖民扩张
- D. 美国罗斯福新政干预经济

16. 1941年 12月 7日后，二战达到最大规模，促使其达到最大规模的重要历史事件是

A. 德国进攻斯大林格勒

B. 莫斯科保卫战的胜利

C. 日军偷袭美军珍珠港

D. 欧洲第二战场的开辟

二、非选择题

17.改错题：下列各小题均有一处错误，请指出并改正。每小题指出错误，改正错误。

(1) 元代最优秀的杂剧作家苏轼一生创作了许多剧本，代表作是悲剧《窦娥冤》。

(2) 19世纪中期，美国已成为世界上第一个工业国家。

(3) 《自然哲学的数学原理》的出版，打破千百年来“上帝创造万物”的神创论，是生物科学的一次伟大革命。

18.阅读材料，回答问题。

材料一 洋务运动是中国晚清统治集团求强求富的自救运动，在洋务运动中，洋务派不仅创办了近代工矿企业、交通运输业、电信业，而且编练军队，筹设海防，兴办教育，但洋务运动没能实现“自强”“求富”的目标。

——摘编自人教版《中国历史》八年级上册

(1) 根据材料一并结合所学知识指出：这场运动开始于19世纪什么年代？洋务派以“自强”为口号，主要发展什么工业？其没有实现“自强、求富”目标的根本原因是什么？

材料二 中共十一届三中全会后，中国迈出了对外开放的步伐。中央决定在广东、福建两省的深圳、珠海、汕头、厦门兴办经济特区，实行特殊的经济政策和经济管理体制，允许外国企业或个人以及华侨、港澳同胞进行投资活动，并在进出口、减免税等方面提供优惠条件，这一崭新的实验很快取得明显成就。

——摘编自人教版《中国历史》八年级下册

(2) 根据材料二并结合所学知识指出：我国经济特区最早设立于哪一年？后来哪一经济特区成为了对外开放的“窗口”？此后我国逐渐形成了怎样的对外开放格局？

19.阅读材料，回答问题。

材料一 英国资产阶级革命后通过了一部只有短短十三条的重要法律性文件：

第一条 凡未经议会同意，以国王权威停止法律或停止法律实施之僭越权力，为非法权力。

第四条 凡未经议会准许，借口国王特权，为国王而征收，或供国王使用而征收金钱，超出议会准许之时限或方式者，皆为非法。

第六条 除经议会同意外，平时在本王国内征募或维持常备军，皆属违法。

——摘编自人教版《世界历史》九年级上册

(1) 根据材料一并结合所学知识指出：该法律文件名称是什么？它通过于哪一年？概括该法律对国王权力有什么影响？

材料二 1787年，各州派出代表齐聚费城，由华盛顿主持召开了制宪会议，经过争论和妥协，宪法设计了一个联邦制共和国：总统、国会与最高法院及其相关机构各司其职，相互制衡；联邦政府与地方政府分享权力；总统和议员由选举产生。

——摘编自人教版《世界历史》九年级上册

(2) 根据材料二并结合所学知识指出：1787年宪法依据什么原则设计了联邦制共和国？依据材料二说明该原则的体现？这部宪法在资产阶级法制史上有什么重大意义？

B 卷

20. 填空题：将下列各小题补充完整，每空。

(1) _____年6月，英国公然支持罪恶的毒品走私，发动侵华战争，鸦片战争爆发 _____年下半年，八路军在彭德怀指挥下，组织100多个团，对日军发动了一场大规模的进攻。

(2) 1980年，中共中央决定撤销“文化大革命”中强加给 _____的种种罪名，平反了建国以来最大的冤案；1992年初 _____到南方视察，发表了一系列重要谈话，进一步解放了人们的思想。

(3) 1954年，国家开始对资本主义工商业进行社会主义改造，为实现和平过渡，国家实行了 _____政策；1992年，中共十四大明确提出了建立社会主义 _____经济体制。

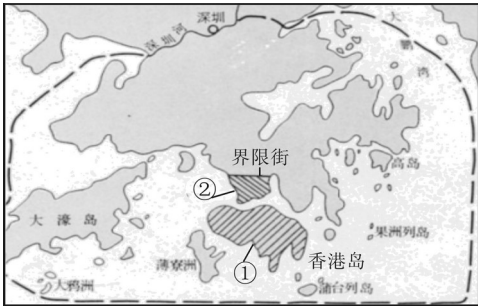
21. 阅读材料，回答问题



材料一 2017年6月9日，为庆祝香港回归20周年，香港大学生“寻根追梦·同心同行”内地探访交流活动在静海寺纪念馆举行，双方互赠礼物，如图为静海寺纪念馆获赠礼物。

(1) 根据材料一并结合所学知识指出：材料中的条约是什么战争的结果？它签订于哪一年？香港大学生“寻根追梦·同心同行”时选择如图礼物赠送静海寺纪念馆有什么现实意义？

材料二 《清史稿·地理志》广州府：新安县有“九龙司”，统辖九龙半岛。清咸丰十年英国强占九龙半岛南端“岬角至尖沙咀”一带。阅读如图



(2) 根据材料二并结合所学知识指出：材料中清咸丰十年是公元哪一年？图片中①和②哪一个属“九龙司”管辖？“九龙司”一带被英国割占是什么条约的结果？

材料三 “九七国耻”来源于 1901 年 9 月 7 日，它是所有中国人的伤痛！铭记历史，吾辈更当自强！



1901年，清政府被迫与英、俄、德、法、美、日、意、奥、比、西签订《辛丑条约》

(3) 根据材料三并结合所学知识指出：材料中签订的条约是什么战争的结果？这场战争爆发于哪一年？综合以上三则材料，作为当代中学生我们应该有怎样的认识？

试卷相关说明

本试卷的题干、答案和解析均由组卷网 (<http://zujian.xkw.com>) 专业教师团队编校出品。登录组卷网可对本试卷进行**单题组卷**、**细目表分析**、**布置作业**、**举一反三**等操作。

试卷地址：[在组卷网浏览本卷](#)

组卷网是学科网旗下的在线题库平台，覆盖小初高全学段全学科、超过 900 万精品解析试题。关注组卷网服务号，可使用移动教学助手功能（布置作业、线上考试、加入错题本、错题训练）。



学科网长期征集全国最新统考试卷、名校试卷、原创题，赢取丰厚稿酬，欢迎合作。
钱老师 QQ : 537008204 曹老师 QQ : 713000635