

- A . 促进了民族融合
- B . 丰富发展了中华文明
- C . 完成了全国经济重心南移
- D . 加速了少数民族封建化

【答案】 C

5 . 孟德斯鸠在评价中国某一制度时指出：“皇帝通过考试等途径选拔官员，凡是具有真才实学的人，不论出身如何，都有通过考试成为官吏的机会。”该制度在隋唐时期的作用不包括（ ）

- A . 扩大了中央政权的社会基础
- B . 增强了国家机构的活力
- C . 给社会带来革新气象
- D . 使专制集权统治极度膨胀

【答案】 D

6 . 两宋时期是多元文化碰撞与交融时期。下列史实反映了该时期民族关系是（ ）

- A . 楚汉之争
- B . 赤壁之战
- C . 淝水之战
- D . 澶渊之盟

【答案】 D

7 . 右面的著作是中国史书的典范。在这两部著作中均有记载的史实是（ ）



- A . 秦国统一六国
- B . 东汉建立
- C . 三国鼎立局面形成
- D . 隋朝开凿大运河

【答案】 A

8 . 钱文忠在讲述唐朝对外关系时说：“一个伟大僧人西行取经的传奇故事，一条由信念、坚持和智慧浇铸而成的求知之路，一个民族胸襟开阔、海纳百川的真实写照……”下列

哪位著名小说家以该僧人取经的故事为素材创作了一部长篇神话小说？（ ）

- A. 罗贯中
- B. 吴承恩
- C. 施耐庵
- D. 曹雪芹

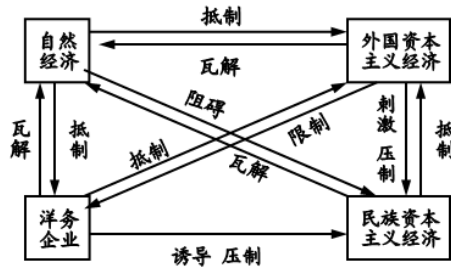
【答案】 B

9. 下列史实属于近代中国抗击外来侵略的是（ ）

- A. 戚继光抗击倭寇
- B. 郑成功收复台湾
- C. 康熙帝反击沙俄
- D. 左宗棠收复新疆

【答案】 D

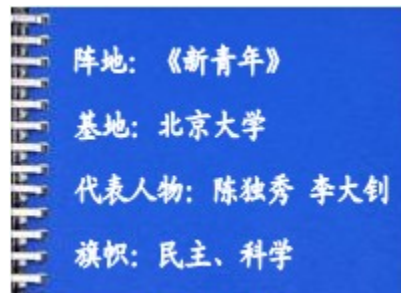
10. 右面的图示主要反映了哪一时期中国经济形式之间的相互关系？（ ）



- A. 鸦片战争期间
- B. 19世纪七八十年代
- C. 20世纪初期
- D. 抗日战争时期

【答案】 B

11. 小明进行研究性学习时，制作了关于某运动的一张卡片（见右图）。该运动最重要的历史功绩是（ ）



- A. 解放了人们的思想
- B. 促进了文学的繁荣
- C. 开启了近代化进程
- D. 推动了教育的发展

【答案】 A

12. 下面这幅漫画反映的史实成为哪一运动的导火线？（ ）



- A . 太平天国运动 B . 义和团运动
C . 五四运动 D . 国民革命运动

【答案】 C

13 . 下列哪一表述反映了抗日战争时期的时代主题？（ ）

- A . 外争国权，内惩国贼 B . 打倒列强，除军阀
C . 停止内战，一致抗日 D . 众志成城，共赴国难

【答案】 D

14 . 1945年8月，柳亚子赋诗一首：“阔别羊城十九秋，重逢握手喜渝州。弥天大勇诚能格，遍地劳民战尚休。”此诗称颂的是（ ）

- A . 谭嗣同 B . 孙中山
C . 毛泽东 D . 张学良

【答案】 C

15 . 某历史学习小组围绕西藏和平解放、土地改革、抗美援朝进行研究性学习。该小组研究的主题应是（ ）

- A . 彻底实现国家独立 B . 巩固新生政权
C . 进行社会主义改造 D . 探索社会主义道路

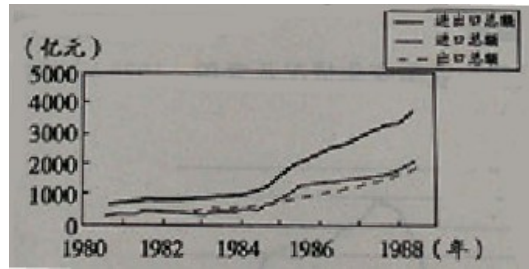
【答案】 B

16 . 2015年4月，亚非国家领导人聚集万隆，纪念亚非会议召开（ ）

- A . 50周年 B . 55周年
C . 60周年 D . 65周年

【答案】 C

17 . 阅读下图，中国进出口总额增长较快的主要原因是（ ）



- A. 家庭联产承包责任制的推行 B. 对外开放的逐步深化
C. “一国两制”构想的提出 D. 社会主义市场经济体制的确立

【答案】 B

18. 雅典被伯里克利誉为“全希腊的学校”，主要是因为（ ）

- A. 城邦经济繁荣 B. 文学艺术璀璨
C. 民主政治比较健全 D. 法律制度完善

【答案】 C

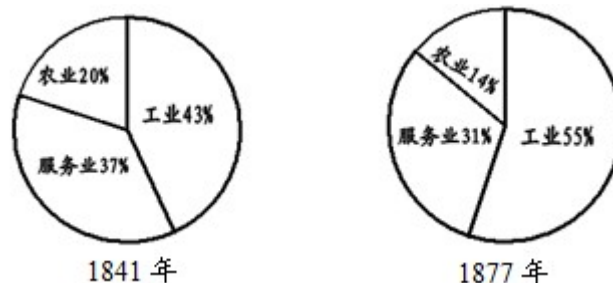
19. 下面的图示描述的史实是（ ）



- A. 新航路开辟 B. 黑奴贸易
C. 拿破仑对外战争 D. 西欧资本输出

【答案】 A

20. 阅读英国就业人口比重变化示意图。出现这一变化的主要原因是（ ）



- A. 殖民扩张加剧 B. “光荣革命”结束
C. 美国赢得独立 D. 工业革命推动

【答案】 D

21. 社会主义由理论变成现实的标志是 ()

- A. 《共产党宣言》的发表
- B. 巴黎公社的成立
- C. 十月革命的胜利
- D. 斯大林模式的形成

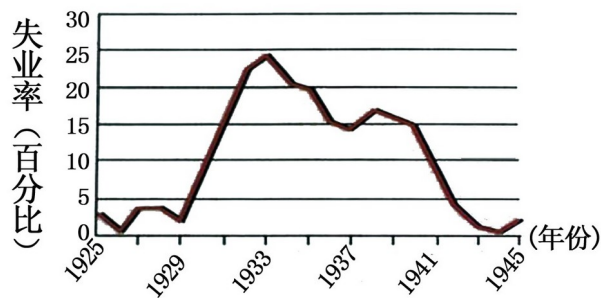
【答案】 C

22. 第一次世界大战后，英国首相劳合·乔治宣称：“搜遍德国人的口袋，也要把钱找出来。”私下却说：“我们所起草的和约将为 20 年后的战争埋下伏笔。”有关该“和约”的下列说法错误的是 ()

- A. 是对德国的一次宰割
- B. 计划了德国与英国的矛盾
- C. 为世界和平埋下了隐患
- D. 能够保障世界持久和平

【答案】 D

23. 阅读 1925—1945 年美国失业率变化情况示意图。1929—1933 年失业率急剧上升的主要原因是 ()



1925 ~ 1945 年美国失业率

- A. 第一次世界大战的爆发
- B. 华盛顿会议的召开
- C. 资本主义经济危机的影响
- D. 纽约股票市场的崩溃

【答案】 C

24. 观察右面有关二战后初期国际形势的图示。企图“让西欧重新强壮起来”的国家是 ()



(1) 儒家思想、法国启蒙运动的核心分别是什么？（4分）

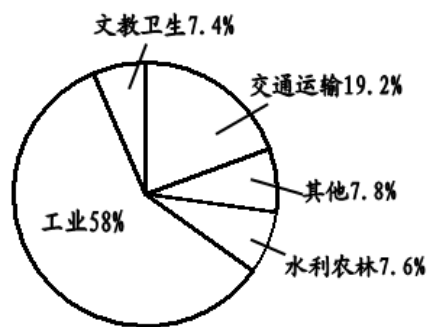
(2) 依据材料一、二，应如何评价儒家思想？（2分）

【答案】 (1) 儒家思想的核心：“仁”；“礼”。（答出其中 1 点即的满分）法国启蒙运动的核心：理性主义。（2分）

(2) 儒家思想有利于缓和矛盾，稳定社会秩序；儒家思想对世界影响深远。（2分。答出其中 1 点即得满分。）

32. 阅读下列材料：

材料一 下面是我国“一五”计划期间各个部门的投资比例图。在工业内部，轻重工业之间的投资比例约为 1：7.9。



材料二 20 世纪 50 年代我国经济成分变化表 (%)

| | 国营经济 | 合作社经济 | 公私合营经济 | 个体经济 | 资本主义经济 |
|--------|------|-------|--------|------|--------|
| 1952 年 | 19.1 | 1.5 | 0.7 | 71.8 | 6.9 |
| 1956 年 | 32.2 | 53.4 | 7.3 | 7.1 | 0 |

——均改变自苏星《新中国经济史》

请回答：

(1) 材料一反映了“一五”计划的什么特点？（2分）

(2) 依据材料二，概括经济成分变化的结果。（2分）

(3) 结合上述材料和所学知识，归纳“一五”计划的两大任务。（2分）

【答案】 (1) 优先发展重工业。（2分）

(2) 社会主义公有制形式在国民经济中占据主导地位（或社会主义制度在我国基本建立起来）。（2分）

(3) 进行工业化建设（或发展生产力）；进行社会主义改造（或调整生产关系）。

(每点 1 分，共 2 分)

33. 阅读下列材料：

材料一 1941 年 6 月 22 日，英国首相丘吉尔在演讲中说道：“在过去 25 年中，没有一个人像我这样始终一贯地反对共产主义。我并不想收回我说过话。但是，这一切，在正在我们眼前展现的情景对照之下，都已黯然失色了……俄国的危难就是我们的危难……我们将要对俄国和俄国人民给予力所能及的一切援助。”

材料二 1941 年 12 月 8 日，美国总统罗斯福在演讲中说道：“昨天，1941 年 12 月 7 日——它将永远成为国耻日……不论要用多长时间才能战胜这次预谋的侵略，美国人民将以自己正义的力量去赢得彻底的胜利。”

——均摘自中学历史教科书

请回答：

(1) 依据材料一和所学知识，分析一贯反对共产主义的丘吉尔却要大力援助俄国的原因。(2 分)

(2) 材料二中罗斯福为什么说 12 月 7 日“将永远成为国耻日”？(2 分)

(3) 二战期间，反法西斯同盟国家联合采取了哪些重大军事行动？(2 分)

【答案】(1) 法西斯国家的侵略对全人类构成严重威胁(或为了共同战胜法西斯国家)。(2 分)

(2) 1941 年 12 月 7 日，日本偷袭美国海军基地珍珠港。(2 分)

(3) 1944 年 6 月，美英军队在诺曼底登陆，开辟欧洲第二战场；1945 年 4 月，盟军进攻柏林；1945 年 8 月，苏联出兵中国东北。(2 分。每点 1 分，答出其中两点即得满分)

四、简答题(每小题 11 分，共 22 分)

34. 中国近代史既是一部屈辱史，又是一部探索史。请回答：

(1) 面对内忧外患，地主阶级掀起了一场长达三十余年的“自强”“求富”的运动。概括这场运动的主要内容。(4 分)

(2) 辛亥革命被称为“完整意义是的资产阶级民主革命”，概述这次革命的历史意义。(4 分)

(3) 星星之火，可以燎原。井冈山革命根据地的建立在中国民主革命进程中有何重要地位？(3 分)

【考点】(1) 洋务运动的内容(2) 辛亥革命的历史意义(3) 井冈山革命根据地的地

位

【解析】 (1) 面对内忧外患，地主阶级掀起了一场长达三十余年的“自强”、“求富”的洋务运动，运动的主要内容包括：前期创办了一批军事工业；筹建了新式军队；前期创办了一批民用工业；开办了新式学堂，选派留学生出国深造。

(2) 辛亥革命的历史意义是推翻了清朝统治，结束了两千多年的封建帝制；使民主共和的观念日益深入人心；促进了资本主义经济发展；推动了社会生活的变迁。

(3) 1927年毛泽东建立的井冈山革命根据地，是中国革命史上第一个农村革命根据地。它的建立在中国民主革命进程中有着重要地位，它是中国共产党探索农村包围城市、武装夺取政权这一正确革命道路的开始。

【答案】 (1) 创办了一批军事工业；筹建了新式军队；创办了一批民用工业；开办了新式学堂，选派留学生出国深造。（4分。每点2分，答出其中两点即得满分）

(2) 推翻了清朝统治，结束了两千多年的封建帝制；使民主共和的观念日益深入人心；促进了资本主义经济发展；推动了社会生活的变迁。（4分。每点2分，答出其中两点即得满分）

(3) 它是中国革命史上第一个农村革命根据地；（1分）它的建立是中国共产党探索农村包围城市、武装夺取政权这一正确革命道路的开始。（2分）

35. 美国虽然只有二百多年的历史，但却演绎了大国崛起的罕见奇迹。这得益于该国历史上的两次资产阶级革命——美国独立战争、美国内战和一次重要改革——罗斯福新政。

请回答：

(1) 两次资产阶级革命分别扫除了美国崛起道路上的什么障碍？（4分）

(2) 应如何评价罗斯福新政？（3分）

(3) 请你简要归纳美国的崛起的基本条件？（4分）

【答案】 (1) 美国独立战争推翻了英国殖民统治；（2分）美国内战废除了黑人奴隶制。（2分）

(2) 使美国渡过了经济危机；是美国资本主义的一次自我调节；开创了资产阶级政府大规模干预经济生活的先河；进一步提高了美国国家资本主义的垄断程度；是资本主义发展史上的一个里程碑。（3分。每点1分，答出其中3点即得满分）

(3) 独立自主是国家崛起的前提；统一和安定是国家崛起的基本条件；要高度重视制度创新；要依据国情制定经济政策；要坚持和完善民主制度，健全法制；要重视教育和科学技术；要重视国际交流；要善于抓住发展机遇。（4分。每点2分，答出其中两点

即得满分)