

2016年广西贺州市中考历史试卷

一、选择题（本大题共14小题，每小题2分，共28分）


1. 《史记·秦始皇本纪》记载：“因地形，用制险塞，起临洮，至辽东，延袤万余里。”史记记载的是秦朝修筑的（ ）

A. 灵渠 B. 阿房宫 C. 骊山陵墓 D. 万里长城

2. 近十几年来，在马来西亚发掘出与汉代陶片纹饰相似的陶片，在印度尼西亚出土了汉代的钱币和陶器，这些考古发现说明汉代开辟了（ ）

A. 丝绸之路 B. 海上丝绸之路
C. 通往西域的道路 D. 通往漠北的道路

3. 如图为1973年在长沙马王堆3号汉墓出土的绘有各种运动姿势的帛画导引图，据此得知，汉代医学已认识到（ ）



A. 麻醉可减轻外科手术痛苦 B. 体育运动能强身健体
C. 中医的理论和治病原则 D. 收集民间药方的重要性

4. 如图为抗日战争时期中国军队抗击日军作战形势示意图，它展示的作战战役是（ ）



A. 百团大战 B. 卢沟桥战役 C. 平型关大捷 D. 台儿庄战役

5. 第一届全国人民代表大会期间，全国有1.5亿人参加宪法草案修改讨论，提出118万条修改和补充意见，大会根据这些意见，对宪法草案进行了认真的修改，这说明《中华人民共和国宪法》充分表达了（ ）

A. 人民的意志 B. 党的意志 C. 工人的意志 D. 农民的意志

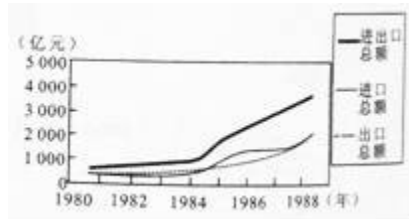
6. 如图为我国流行一时的宣传画，它应流行于（ ）



A. 新中国成立时期 B. 土地改革时期

C. 三大改造时期 D. “大跃进”运动时期

7. 如图为 20 世纪 80 年代中国进出口贸易总额增长数据表，这种增长趋势主要得益于当时我国（ ）



- A. 加入世界贸易组织
- B. 实施西部大开发战略
- C. 实行家庭联产承包责任制
- D. 建立经济特区和开放沿海城市

8. 贺州市富川瑶族自治县生活着瑶、壮等少数民族，这里风景优美，民族风情独特，它的成立，体现了我国在少数民族聚居地区实行（ ）

- A. 和平解放 B. 民主改革 C. “一国两制” D. 民族区域自治

9. 2015 年 11 月 7 日下午 3 点，海峡两岸领导人习近平与马英九在新加坡香格里拉酒店会面，这是 1949 年以来两岸领导人首次直接会面，这表达了两岸领导人（ ）

- A. 干扰两岸经济合作的意愿
- B. 扩大两岸政治分歧的意愿
- C. 推进两岸和平统一进程的意愿
- D. 打破两岸长期相互隔绝状态的意愿

10. “恢复中华人民共和国的一切权利，承认她的政府的代表为中国在联合国组织的唯一合法代表并立即把蒋介石的代表从它在联合国组织及其所属一切机构中所非法占据的席位上驱逐出去。”这一决定出自于（ ）

- A. 第 24 届联合国大会 B. 第 25 届联合国大会
- C. 第 26 届联合国大会 D. 第 27 届联合国大会

11. “在 16 世纪和 17 世纪，由于地理上的发现而在商业上发生的并迅速促进了商人资本发展的大革命，是促进封建生产方式向资本主义生产方式过渡的一个主要因素。”材料主要强调新航路开辟（ ）

- A. 促进资本主义的发展 B. 推动欧洲思想文化的繁荣
- C. 成功探寻前往东方的航路 D. 使世界开始连成一个整体

12. 林肯代表的美国共和党 1860 年总统竞选的主题是：“联邦必须而且将会得到保留”。这表明林肯（ ）

- A. 抗击英国殖民统治的决心 B. 维护国家统一的决心
- C. 废除黑人奴隶制的主张 D. 与南方奴隶主妥协的主张

13. 如图是英国各行业就业人数占总就业人数的比例变化数据表，这反映出工业革命加快了英国（ ）



- A. 农业的发展 B. 城市化进程
C. 战胜封建主义 D. 确立对世界的统治

14. 如表为美国、欧盟、日本部分经济数据比较表, 欧盟进出口贸易所占世界份额的增加主要得益于 ()

国家或地区	世界前 20 强跨国公司占用数量	进出口贸易占世界份额		外汇储备中拥有的货币量
		出口	进口	
美国	7	12.7%	18.8%	美元占 66%
欧盟	6	39.1%	37.6%	欧元占 12.5%
日本	7	7.5%	5.5%	日元占 5%

- A. 得到美国的大力援助 B. 发挥高素质劳动力优势
C. 西欧国家成立欧洲联盟 D. 采用先进的科学技术成果

二、材料解析题 (本大题共 2 小题, 第 15 小题 14 分, 第 16 小题 12 分, 共 26 分。请用黑色字迹签字笔将各题答案写在“答题卡”上“历史部分”的相应位置上)

15. 阅读下列材料并结合所学知识, 回答问题:

材料一 19 世纪后期中国大事年表

时间	大事
1856 年 - 1860 年	英法等国对中国发动第二次鸦片战争
19 世纪 60 年代	洋务派提出“中学为体, 西学为用”“师夷长技以制夷”的思想主张
	洋务派以“自强”为口号, 采用西方先进生产技术, 创办江南制造总局等一批近代军事工业; 创办京师同文馆, 马尾船政学堂
19 世纪 70 - 90 年代	洋务派以“求富”为口号, 创办轮船招商局等一批近代民用工业; 第一批幼童 30 人启程赴美; 天津电报学堂、湖北铁路局附设化学堂、矿学堂成立; 筹建南洋、北洋和福建三支海军

-- 摘编自《中学历史教师教学用书》

材料二: 19 世纪中后期日本大事年表

时间	大事
1854 年	日本被迫与美国等资本主义国家签订不平等条约
1871 年	8 月, 废藩置县, 破除旧的政治体制, 加强中央集权; 11 月, 日本使节团考察欧美, 学习西方先进的资本主义制度
19 世纪 70 年代	允许土地买卖; 引进西方技术, 鼓励发展近代工业
19 世纪	提倡“文明开化”, 学习西方国家的教育、文化科学、生活方式等; 参

70 - 90 年代	照欧美国家的教育制度，建立近代学校体制，普及初等教育；在衣、食、住、行方面进行“欧化”运动
------------	---

- - 摘编自《中学历史教师教学用书》

请回答：

(1) 根据材料一并结合所学知识，概括指出洋务派在教育方面采取的措施。你认为这些措施在中国近代化进程中起到哪些积极作用？

(2) 根据材料一、二并结合所学知识，指出洋务运动和明治维新背景的相同点，请你从政治、文化教育方面概况指出洋务运动与明治维新的不同点。

(3) 根据材料并结合所学知识，请你谈谈洋务运动与明治维新的不同结果，从中你得到什么启示？

16. 阅读下列材料并结合所学知识，回答问题：

材料一 1929年 - 1933年的经济危机影响到整个资本主义世界，造成工业、农业、商业和金融部门的危机，1933年与1929年相比，整个资本主义世界工业生产下降了 $\frac{1}{3}$ 以上，资本主义世界贸易总额缩减了 $\frac{2}{3}$ ，1933年，罗斯福就任美国总统，

为对付经济危机，宣布实行新政，遏制了由经济危机造成的法西斯势力，美国避免走上法西斯道路，同年，希特勒在德国上台，建立法西斯独裁统治，大肆扩军备战。

- - 摘编自《中学历史教师教学用书》

材料二 希特勒上台后，德国大肆对外侵略扩张，吞并奥地利后，又把侵略矛头指向捷克斯洛伐克，1938年9月，德、意、英、法四国政府首脑在德国的慕尼黑签订协定，…面对法西斯国家的大肆侵略，1942年1月1日，美、英、苏、中等26个国家的代表在美国首都华盛顿举行会议，各国签署了《联合国宣言》。

- - 摘编自人教版《世界历史》九年级下册

材料三…我们不屈不挠的宗旨，就是要消灭德国的军国主义和纳粹主义，要确保德国绝不能够再扰乱世界的和平，…我们已经商得同意：当于1945年4月25日在意大利合众国旧金山召开联合国会议，…唯有我们三国之间以及一切爱好自由的各国之间，继续增进的合作与了解，才能够实现人类最崇高的愿望 - - 一种安全而且持久的和平…

- - 摘自《苏美英三国克里米亚（维尔塔）会议公报》

请回答：

(1) 根据材料一并结合所学知识，概况指出1929年 - 1933年世界经济危机的主要特点，请你谈谈美国应对经济危机的政策对世界局势发展产生的积极影响。

(2) 根据材料一、二，并结合所学知识，概况指出导致第二次世界大战全面爆发的原因，请你谈谈《联合国宣言》签署的重大历史意义。

(3) 根据材料三并结合所学知识，你认为雅尔塔会议为避免战争重演、维护世界和平做出了哪些努力？综合上述材料，谈谈你对如何避免战争，维护世界和平的看法。

三、探究题（本大题共1小题，共6分）

17. 习近平指出：“实现民族振兴，是近代以来中华民族最伟大的梦想。”汉朝的繁盛给我们实现民族振兴带来许多启示，请你结合所学知识回答下列问题：

(1) 汉文帝、汉景帝为恢复发展经济、稳定社会采取了哪些措施？历史上把他们这一时期的统治称为什么？

(2) 你认为汉武帝是怎样在政治、经济、军事和思想上实现大一统，使西汉进入到鼎盛时期的？

**2016年广西贺州市中考历史试卷
参考答案与试题解析**

一、选择题（本大题共 14 小题，每小题 2 分，共 28 分）

1. 《史记·秦始皇本纪》记载：“因地形，用制险塞，起临洮，至辽东，延袤万余里。”史记记载的是秦朝修筑的（ ）

- A. 灵渠 B. 阿房宫 C. 骊山陵墓 D. 万里长城

【考点】秦朝巩固统一的措施。

【分析】本题考查秦朝巩固统一的措施。

【解答】秦始皇命蒙恬修筑西起临洮，东到辽东的城防，蜿蜒万余里，用来抵御匈奴，这就是闻名中外的万里长城，长城是秦朝劳动人民智慧的象征。

故选 D。

2. 近十几年来，在马来西亚发掘出与汉代陶片纹饰相似的陶片，在印度尼西亚出土了汉代的钱币和陶器，这些考古发现说明汉代开辟了（ ）

- A. 丝绸之路 B. 海上丝绸之路
C. 通往西域的道路 D. 通往漠北的道路

【考点】历史文化常识。

【分析】本题主要考查学生对丝绸之路的准确识记。

【解答】联系已学知识可知：马来西亚和印度尼西亚地处海上丝绸之路的交通要道，从这些地方考古发掘汉代的钱币和陶器，证实当时丝绸之路的存在，说明当时我国的对外贸易已相当繁荣。

故选 B。

3. 如图为 1973 年在长沙马王堆 3 号汉墓出土的绘有各种运动姿势的帛画导引图，据此得知，汉代医学已认识到（ ）



- A. 麻醉可减轻外科手术痛苦 B. 体育运动能强身健体
C. 中医的理论和治病原则 D. 收集民间药方的重要性

【考点】历史文化常识。

【分析】考查长沙马王堆 3 号汉墓出土的绘有各种运动姿势帛画的理解。

【解答】1973年，在挖掘长沙马王堆三号汉墓时，发现了我国出土文物中历史最早的医疗保健体操——帛画导引图。这充分证明，早在两千一百多年以前，我国就已经利用体操运动作为锻炼身体、防病治病的手段了。

故选B。

4. 如图为抗日战争时期中国军队抗击日军作战形势示意图，它展示的作战战役是（ ）



A. 百团大战 B. 卢沟桥战役 C. 平型关大捷 D. 台儿庄战役

【考点】百团大战。

【分析】本题考查百团大战。

【解答】从图中看出，这是百团大战，1940年彭德怀指挥八路军在华北地区取得了百团大战的胜利，百团大战是抗日战争中中国军队主动出击日军的规模最大战役。故选A。

5. 第一届全国人民代表大会期间，全国有1.5亿人参加宪法草案修改讨论，提出118万条修改和补充意见，大会根据这些意见，对宪法草案进行了认真的修改，这说明《中华人民共和国宪法》充分表达了（ ）

A. 人民的意志 B. 党的意志 C. 工人的意志 D. 农民的意志

【考点】第一届全国人民代表大会和新中国第一部宪法。

【分析】本题主要考查我国第一部社会主义类型宪法的制定。

【解答】根据材料“全国有1.5亿人参加宪法草案修改讨论，提出118万条修改和补充意见，大会根据这些意见，对宪法草案进行了认真的修改”说明了我国第一部社会主义类型宪法的制定充分体现了人民的意志，体现了民主集中制的原则。

1954年9月，第一届全国人民代表大会在北京召开，大会制定了《中华人民共和国宪法》，规定了国家的性质和根本政治制度，规定了人民的权利和义务，体现了人民民主原则和社会主义原则，这是我国第一部社会主义类型的宪法，也是我国有史以来真正反映人民利益的宪法。

故选A。

6. 如图为我国流行一时的宣传画，它应流行于（ ）



A. 新中国成立时期 B. 土地改革时期
C. 三大改造时期 D. “大跃进”运动时期

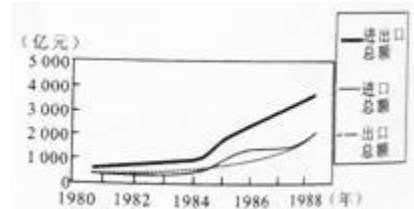
【考点】大跃进和人民公社化运动。

【分析】本题考查大跃进的浮夸风。

【解答】1958年掀起的大跃进和人民公社化运动，违背了经济发展的客观规律，出现了高指标、瞎指挥、浮夸风和共产风的“左”倾错误。题干中的三张图片均反映了大跃进时浮夸风的盛行。

故选D。

7. 如图为20世纪80年代中国进出口贸易总额增长数据表，这种增长趋势主要得益于当时我国（ ）



- A. 加入世界贸易组织
- B. 实施西部大开发战略
- C. 实行家庭联产承包责任制
- D. 建立经济特区和开放沿海城市

【考点】对外开放和深圳等经济特区的建立。

【分析】本题主要考查20世纪80年代中国进出口贸易总额增长的原因。

【解答】根据20世纪80年代中国进出口贸易总额增长数据表，这种增长趋势主要得益于当时我国在1980年建立的经济特区和1984年开放沿海城市。建立经济特区和开放沿海城市，促进了对外贸易的发展。加入世界贸易组织是在2001年，不符合题意；实施西部大开发战略是在20世纪90年代，主要针对西部内地，不符合题意；实行家庭联产承包责任制主要促进了农村经济的发展，不符合题意。

故选D。

8. 贺州市富川瑶族自治县生活着瑶、壮等少数民族，这里风景优美，民族风情独特，它的成立，体现了我国在少数民族聚居地区实行（ ）

- A. 和平解放
- B. 民主改革
- C. “一国两制”
- D. 民族区域自治

【考点】民族区域自治制度。

【分析】考查民族区域自治制度的知识点。

【解答】新中国成立后，中央人民政府根据民族平等、民族团结和民族互助的原则，确定实行民族区域自治作为解决民族问题的基本政策。

故选D。

9. 2015年11月7日下午3点，海峡两岸领导人习近平与马英九在新加坡香格里拉酒店会面，这是1949年以来两岸领导人首次直接会面，这表达了两岸领导人（ ）

- A. 干扰两岸经济合作的意愿
- B. 扩大两岸政治分歧的意愿
- C. 推进两岸和平统一进程的意愿
- D. 打破两岸长期相互隔绝状态的意愿

【考点】祖国统一大业。

【分析】本题考查学生对祖国统一大业的认识。

【解答】注意抓住题干中的关键信息“这是 1949 年以来两岸领导人的首次直接会面”的最重要前提，根据所学可知，一个中国的原则是海峡两岸实现和平统一的基础和前提。在这个基础上进行海峡两岸的对话和谈判，什么都可以谈。1949 年以来两岸领导人的首次直接会面，表达了两岸领导人推进两岸和平统一进程的意愿。故选 C。

10. “恢复中华人民共和国的一切权利，承认她的政府的代表为中国在联合国组织的唯一合法代表并立即把蒋介石的代表从它在联合国组织及其所属一切机构中所非法占据的席位上驱逐出去。”这一决定出自于（ ）

- A. 第 24 届联合国大会 B. 第 25 届联合国大会
C. 第 26 届联合国大会 D. 第 27 届联合国大会

【考点】中国恢复在联合国的合法席位。

【分析】本题考查了中国恢复在联合国的合法席位的相关史实。

【解答】1971 年 10 月 25 日，第 26 届联合国大会通过了阿尔巴尼亚、阿尔及利亚等 23 国提案，恢复了中华人民共和国在联合国的合法权利，恢复中国安理会常任理事国的席位。这是中国外交的重大胜利，有利于中国在国际事务中发挥更大的作用。

故选 C。

11. “在 16 世纪和 17 世纪，由于地理上的发现而在商业上发生的并迅速促进了商人资本发展的大革命，是促进封建生产方式向资本主义生产方式过渡的一个主要因素。”材料主要强调新航路开辟（ ）

- A. 促进资本主义的发展 B. 推动欧洲思想文化的繁荣
C. 成功探寻前往东方的航路 D. 使世界开始连成一个整体

【考点】新航路的开辟。

【分析】本题考查新航路开辟的意义。

【解答】据题干“在 16 世纪和 17 世纪，由于地理上的发现而在商业上发生的并迅速促进了商人资本发展的大革命，是促进封建生产方式向资本主义生产方式过渡的一个主要因素”，可知由于地理上的发现而在商业上发生的并迅速促进了商人资本发展的大革命，这说明新航路开辟以后，欧洲大西洋沿岸工商业经济繁荣起来，促进了资本主义的产生和发展。

故选 A。

12. 林肯代表的美国共和党 1860 年总统竞选的主题是：“联邦必须而且将会得到保留”。这表明林肯（ ）

- A. 抗击英国殖民统治的决心 B. 维护国家统一的决心
C. 废除黑人奴隶制的主张 D. 与南方奴隶主妥协的主张

【考点】历史文化常识。

【分析】本题考查美国内战的知识点。

【解答】依据林肯代表的美国共和党 1860 年总统竞选的主题是“联邦必须而且将会得到保留”得出，林肯坚决维护国家统一。1861 年至 1865 年美国内战，废除了黑奴制，扫除了美国资本主义发展的内部障碍，使南方和北方统一起来，美国资本主义得到迅速发展。

故选 B。

13. 如图是英国各行业就业人数占总就业人数的比例变化数据表，这反映出工业革命加快了英国（ ）



- A. 农业的发展 B. 城市化进程
C. 战胜封建主义 D. 确立对世界的统治

【考点】英国工业革命的影响。

【分析】本题考查工业革命对城市化进程的影响。

【解答】由图可看出，工业和服务业人口占总就业人数的比例增长很快，农业人口占的比例越来越少，这说明工业革命加快了城市化的进程，工业革命中也出现了一批工业化的城市。

故选 B。

14. 如表为美国、欧盟、日本部分经济数据比较表，欧盟进出口贸易所占世界份额的增加主要得益于（ ）

国家或地区	世界前 20 强跨国公司占用数量	进出口贸易占世界份额		外汇储备中拥有的货币量
		出口	进口	
美国	7	12.7%	18.8%	美元占 66%
欧盟	6	39.1%	37.6%	欧元占 12.5%
日本	7	7.5%	5.5%	日元占 5%

- A. 得到美国的大力援助 B. 发挥高素质劳动力优势
C. 西欧国家成立欧洲联盟 D. 采用先进的科学技术成果

【考点】欧盟的成立。

【分析】本题考查欧洲联合的影响。

【解答】依据题干图表内容可以发现，欧盟 1999 年进出口贸易所占世界份额不断增加，结合所学可知是欧盟成立的作用。1993 年 1 月 1 日，欧盟正式诞生。欧盟的成立促进了西欧经济的发展，也提高了西欧各国在国际上的地位。

故选 C。

二、材料解析题（本大题共 2 小题，第 15 小题 14 分，第 16 小题 12 分，共 26 分。请用黑色字迹签字笔将各题答案写在“答题卡”上“历史部分”的相应位置上）

15. 阅读下列材料并结合所学知识，回答问题：

材料一 19 世纪后期中国大事年表

时间	大事
1856 年 - 1860	英法等国对中国发动第二次鸦片战争

年	
19 世纪 60 年代	洋务派提出“中学为体，西学为用”“师夷长技以制夷”的思想主张 洋务派以“自强”为口号，采用西方先进生产技术，创办江南制造总局等 一批近代军事工业；创办京师同文馆，马尾船政学堂
19 世纪 70 - 90 年代	洋务派以“求富”为口号，创办轮船招商局等一批近代民用工业；第一 批幼童 30 人启程赴美；天津电报学堂、湖北铁路局附设化学堂、矿 学堂成立；筹建南洋、北洋和福建三支海军

- - 摘编自《中学历史教师教学用书》

材料二：19 世纪中后期日本大事年表

时间	大事
1854 年	日本被迫与美国等资本主义国家签订不平等条约
1871 年	8 月，废藩置县，破除旧的政治体制，加强中央集权；11 月，日本使 节团考察欧美，学习西方先进的资本主义制度
19 世纪 70 年代	允许土地买卖；引进西方技术，鼓励发展近代工业
19 世纪 70 - 90 年 代	提倡“文明开化”，学习西方国家的教育、文化科学、生活方式等；参 照欧美国家的教育制度，建立近代学校体制，普及初等教育；在衣、 食、住、行方面进行“欧化”运动

- - 摘编自《中学历史教师教学用书》

请回答：

(1) 根据材料一并结合所学知识，概括指出洋务派在教育方面采取的措施。你认为这些措施在中国近代化进程中起到哪些积极作用？

(2) 根据材料一、二并结合所学知识，指出洋务运动和明治维新背景的相同点，请你从政治、文化教育方面概况指出洋务运动与明治维新的不同点。

(3) 根据材料并结合所学知识，请你谈谈洋务运动与明治维新的不同结果，从中你得到什么启示？

【考点】 材料解析题；洋务运动；日本明治维新；历史开放性问题；阐述见解题。

【分析】 (1) 本题考查洋务运动教育方面的措施及作用。

(2) 本题考查洋务运动和明治维新背景的相同点以及洋务运动与明治维新在政治、文化教育方面的不同点。

(3) 本题考查洋务运动与明治维新的不同结果给我们的启示。

【解答】 (1) 根据材料一并结合所学知识可知，洋务派创办学习西方语言、科技和军事的新式学校，例如创办京师同文馆、马尾船政学堂、天津电报学堂、湖北铁路局附设化学堂、矿学堂等等，派遣留学生出国留学，例如派遣第一批幼童 30 人启程赴美留学，通过这些措施，培养了一批近代外交、军事和科技人才，推动了西方近代技术的引进和传播，揭开了近代教育改革的序幕。

(2) 根据材料一、二并结合所学知识可知，洋务运动和明治维新背景的相同点是都面临西方列强入侵，被迫签订不平等条约，民族危机严重。政治方面，洋务运动没有改变政治制度，明治维新破除旧的政治体制，学习西方先进的资本主义制度，教育方面，洋务派只创办学习西方语言、科技和军事的新式学校，没有触及旧的教育制度，而日本明治维新则参照欧美国家的教育制度，建立现代学校体制，普及初等教育。文化生活方面；洋务派倡导“中学为体，西学为用”，不主张在文化生活方面学习西方，日本提倡“文明开化”，在衣、食、住、行方面进行“欧化”运动。

(3) 洋务运动没有使中国富强起来；明治维新使日本逐步转变为资本主义国家，走上富强道路。只有深化改革才能使国家走向真正繁荣富强。

故答案为；

(1) 洋务派创办学习西方语言、科技和军事的新式学校，派遣留学生出国留学；培养了一批近代外交、军事和科技人才，推动了西方近代技术的引进和传播，揭开了近代教育改革的序幕。

(2) 都面临西方列强入侵，被迫签订不平等条约，民族危机严重；政治方面；洋务运动没有改变政治制度，明治维新破除旧的政治体制，学习西方先进的资本主义制度，教育方面：洋务派只创办学习西方语言、科技和军事的新式学校，没有触及旧的教育制度，而日本明治维新则参照欧美国家的教育制度，建立现代学校体制，普及初等教育。文化生活方面；洋务派倡导“中学为体，西学为用”，不主张在文化生活方面学习西方，日本提倡“文明开化”，在衣、食、住、行方面进行“欧化”运动。

(3) 洋务运动没有使中国富强起来；明治维新使日本逐步转变为资本主义国家，走上富强道路。

16. 阅读下列材料并结合所学知识，回答问题：

材料一 1929年 - 1933年的经济危机影响到整个资本主义世界，造成工业、农业、商业和金融部门的危机，1933年与1929年相比，整个资本主义世界工业生产下

降了 $\frac{1}{3}$ 以上，资本主义世界贸易总额缩减了 $\frac{2}{3}$ ，1933年，罗斯福就任美国总统，

为对付经济危机，宣布实行新政，遏制了由经济危机造成的法西斯势力，美国避免走上法西斯道路，同年，希特勒在德国上台，建立法西斯独裁统治，大肆扩军备战。

- - 摘编自《中学历史教师教学用书》

材料二 希特勒上台后，德国大肆对外侵略扩张，吞并奥地利后，又把侵略矛头指向捷克斯洛伐克，1938年9月，德、意、英、法四国政府首脑在德国的慕尼黑签订协定，…面对法西斯国家的大肆侵略，1942年1月1日，美、英、苏、中等

26个国家的代表在美国首都华盛顿举行会议，各国签署了《联合国宣言》。

- - 摘编自人教版《世界历史》九年级下册

材料三…我们不屈不挠的宗旨，就是要消灭德国的军国主义和纳粹主义，要确保德国绝不能够再扰乱世界的和平，…我们已经商得同意：当于1945年4月25日在美利坚合众国旧金山召开联合国会议，…唯有我们三国之间以及一切爱好自由的各国之间，继续增进的合作与了解，才能够实现人类最崇高的愿望 - - 一种安全而且持久的和平…

- - 摘自《苏美英三国克里米亚（维尔塔）会议公报》

请回答：

(1) 根据材料一并结合所学知识，概况指出1929年 - 1933年世界经济危机的主要特点，请你谈谈美国应对经济危机的政策对世界局势发展产生的积极影响。

(2) 根据材料一、二，并结合所学知识，概况指出导致第二次世界大战全面爆发的原因，请你谈谈《联合国宣言》签署的重大历史意义。

(3) 根据材料三并结合所学知识，你认为雅尔塔会议为避免战争重演、维护世界和平做出了哪些努力？综合上述材料，谈谈你对如何避免战争，维护世界和平的看法。

【考点】材料解析题；资本主义经济危机的特点与影响；罗斯福新政；世界反法西斯联盟的形成；历史开放性问题；阐述见解。

【分析】（1）本题考查 1929 年 - 1933 年世界经济危机的主要特点以及美国应对经济危机的政策对世界局势发展产生的积极影响。

（2）本题考查第二次世界大战全面爆发的原因以及《联合国家宣言》签署的重大历史意义。

（3）本题考查雅尔塔会议为避免战争重演、维护世界和平做出的努力以及学生对如何避免战争，维护世界和平的看法。

【解答】（1）由材料“1929 年 - 1933 年的经济危机影响到整个资本主义世界，造成工业、农业、商业和金融部门的危机，”可知 1929 年 - 1933 年世界经济危机的主要特点是：时间长，从 1929 - - 1933 年；范围广，影响到整个资本主义世界；破坏性大，造成工业、农业、商业和金融部门的危机。美国应对经济危机的政策对世界局势发展产生的积极影响是：由材料“遏制了由经济危机造成的法西斯势力，美国避免走上法西斯道路”可知，遏制了由经济危机造成的法西斯势力，美国避免走上法西斯道路，新政开创了国家干预经济的新模式，对以后资本主义世界的经济发展产生深远影响。

（2）由材料“1929 年 - 1933 年的经济危机影响到整个资本主义世界”“希特勒在德国上台，建立法西斯独裁统治，大肆扩军备战。”可知，直接原因是由于 1929 - - 1933 年的资本主义经济危机的沉重打击，德意日法西斯为摆脱危机，转移国内人们的斗争视线，发动了第二次世界大战。由材料“德国大肆对外侵略扩张，吞并奥地利后，又把侵略矛头指向捷克斯洛伐克，1938 年 9 月，德、意、英、法四国政府首脑在德国的慕尼黑签订协定”可知另一个原因是英法推行绥靖政策。根本原因是帝国主义政治经济发展的不平衡。《联合国家宣言》签署的意义在于使得反法西斯联盟各国的人力、物力等各方面都大大超过了法西斯国家，对彻底打败法西斯国家有着重要意义。

（3）雅尔塔会议为避免战争重演、维护世界和平，决定成立联合国，并决定对战败的德国实行分区占领，确立了战后的雅尔塔体系。对如何避免战争，维护世界和平：我们要珍惜和平，世界战争的悲剧不能重演；人民是战胜法西斯的决定性力量，是推动历史前进的动力；意识形态和社会制度不同的国家可以共同应对人类生存与发展面临的问题；国家之间应该和平共处，人类要加强国际合作求共同发展等。

故答案为：

（1）特点：范围广、时间长、破坏性大。积极影响：遏制了由经济危机造成的法西斯势力，美国避免走上法西斯道路，新政开创了国家干预经济的新模式，对以后资本主义世界的经济发展产生深远影响。

（2）原因：直接原因是由于 1929 - - 1933 年的资本主义经济危机的沉重打击，德意日法西斯为摆脱危机，转移国内人们的斗争视线，发动了第二次世界大战；英法推行绥靖政策；根本原因是帝国主义政治经济发展的不平衡。《联合国家宣言》签署的重大历史意义：使得反法西斯联盟各国的人力、物力等各方面都大大超过了法西斯国家，对彻底打败法西斯国家有着重要意义。

（3）努力：决定成立联合国，并决定对战败的德国实行分区占领，确立了战后的雅尔塔体系。

看法：我们要珍惜和平，世界战争的悲剧不能重演；意识形态和社会制度不同的国家可以共同应对人类生存与发展面临的问题；国家之间应该和平共处，人类要加强国际合作求共同发展等。

三、探究题（本大题共 1 小题，共 6 分）

17. 习近平指出：“实现民族振兴，是近代以来中华民族最伟大的梦想。”汉朝的繁盛给我们实现民族振兴带来许多启示，请你结合所学知识回答下列问题：

(1) 汉文帝、汉景帝为恢复发展经济、稳定社会采取了哪些措施？历史上把他们这一时期的统治称为什么？

(2) 你认为汉武帝是怎样在政治、经济、军事和思想上实现大一统，使西汉进入到鼎盛时期的？

【考点】 阐述见解；文景之治；汉武帝推进大一统的措施。

【分析】 (1) 本题考查汉文帝、汉景帝为恢复发展经济、稳定社会采取的措施与影响。

(2) 本题考查汉武帝为实现大一统采取的措施。

【解答】 (1) 结合所学可知，西汉初年，经济萧条，到处都是一片荒凉的景象。汉文帝、汉景帝，吸取秦灭的教训，“轻徭薄赋”、“与民休息”的政策。减轻农民的徭役和劳役等负担，注重发展农业生产。采取文景时期，提倡节俭，重视“以德化民”，社会比较安定，经济得到发展。历来被视为封建社会的“盛世”，史称“文景之治”。

(2) 为加强中央集权，武帝接受主父偃的建议，颁布推恩令，即允许诸王将自己的土地分给子弟，建立较小的诸侯国。将地方的铸币权重新统一于中央，统一铸造五铢钱。将地方盐铁经营权收归中央，盐铁官营盐铁官营自汉代延续到现在，盐铁茶主要仍由政府及国企控制。这项制度实施，使国家独占国计民生意义最重要的手工业和商业的利润。听取董仲舒的建议，“罢黜百家，独尊儒术”就是把儒家学说作为封建正统思想，持法家，道家等各家学说的读书人，均受排斥，武帝还大力推行儒学教育，在长安举办太学。汉武帝派卫青、霍去病率 10 万骑兵，几十万步兵，漠北之战给匈奴以致命打击，出现了“匈奴远遁，漠南无王庭”的局面。从此，匈奴北徙漠北并西迁。

故答案为：

(1) “轻徭薄赋”、“与民休息”文景之治。

(2) 政治上：颁布推恩令。经济上：将地方盐铁经营权收归中央，统一铸造五铢钱；思想上：罢黜百家、独尊儒术。军事上：派卫青、霍去病攻打匈奴。