

2010年四川省宜宾市中考历史题

I 基础卷 (全体考生必做, 共 40 分)


一、单项选择题 (下列各题四个备选项中只有一项是正确的, 请将正确答案的代号填入括号呢。每小题 2 分, 共 20 分)

1. 中国自古以来就是一个多民族国家, 中央政权历来重视对边疆少数民族地区的管辖。右图反映的是 ()



- A. 秦朝对今西北地区的管辖
- B. 西汉对今新疆地区的管辖
- C. 唐朝对今西北地区的管辖
- D. 清朝对今天山南北地区的管辖

2. 下列史实, 可以通过右图所示著作了解的有 ()



- ① 秦始皇统一货币、文字
- ② 汉武帝在长安举办太学
- ③ 宦官蔡伦改进造纸技术
- ④ 李春设计并主持修建赵州桥

- A. ①②
- B. ②③
- C. ①③
- D. ②④

3. 右图所示为位于青海省玉树藏族自治州的文成公主庙。该庙始建于 1300 多年前, 系当地人民为纪念文成公主入土蕃路经此地, 向当地人民传播中原文化, 造福于当地而建。下列相关表述, 正确的是 ()



- ① 派文成公主入吐蕃的统治者是武则天
- ② 文成公主入吐蕃的最终目的地是罗些
- ③ 当时吐蕃的赞普是松赞干布
- ④ 文成公主入吐蕃增强了汉藏两族的友好关系

- A. ①②③
- B. ①②④
- C. ①③④
- D. ②③④

4. “开辟荆榛逐荷夷”, 我国古代立下的这一伟大功绩的民族英雄是 ()

- A. 张骞
- B. 魏征
- C. 郑成功
- D. 渥巴锡

5. “有希望革新这古老帝国的是新教育, 新教育的肇端是同文馆。”中国近代, “同文馆”最早出现于 ()

- A. 洋务运动期间
- B. 百日维新期间
- C. 辛亥革命期间
- D. 民国建立初期

6. “学生罢课半月, 政府不管不理, 且对待日益严厉; 及至商界罢市不及一日, 而北京被捕学生获释; 工商界罢工不及五日, 而曹、章、陆去。”下列对该材料的理解, 不正确的是 ()

- A. 体现了学生的先锋作用
- B. 反映了运动的群众性
- C. 表现运动取得了一定的成效
- D. 说明了武装斗争的必要性

7. 在学习《中华民族的抗日战争》的过程中, 某同学整理制作了下面的表格。其中出现明显错误的是 ()

序号	事件	时间	作用
①	卢沟桥抗战	1937 年 7 月	中国人民局部抗战的开始
②	平型关大捷	1937 年 9 月	抗战开始以来的第一次大捷


③	台儿庄战役	1938年春天	取得抗战开始以来的重大胜利
④	百团大战	1940年8月开始	中国军队主动出击日军的最大战役

A.① B.② C.③ D.④

8.7月4日被定为美国的“独立日”，这是为了纪念（ ）

- A. 来克星顿枪声打响 B. 《独立宣言》发表
C. 萨拉托加战役胜利 D. 1787年宪法通过

9.世界博览会被誉为“经济、科技与文化界的奥林匹克盛会”。1851年，现代意义上的首届世界博览会在英国伦敦开幕，当时陈列的展品不可能有（ ）



① 珍妮纺纱机

② 网络长椅

③ 火车机车

④ 汽车

- A. ①② B. ①③
C. ②④ D. ②④

10.下列历史事件，不是发生在第二次世界大战期间的是（ ）

- A. 日军偷袭珍珠港 B. 斯大林格勒战役
C. 凡尔登战役 D. 诺曼底登陆

二、材料解析题（12分，阅读下列材料，按要求回答问题）

材料一：人具有高贵的理性，人具有伟大的力量，人的行为像天使，人的智慧像天使。

——莎士比亚


(1) 材料一中莎士比亚的名言反映了当时的西欧流行什么生活思潮？这一思潮的核心主张是什么？（4分）

(2) 材料二：我们现在认定只有两位先生，可以救治中国政治上、道德上、学术上、思想上一切的黑暗。

——陈独秀

(3) 材料二中的“两位先生”指什么？为了实现其主张，陈独秀等掀起了一场什么重大运动？（3分）

材料三：材料三文章所示的鲜明观点是什么？由这篇文章的发表而引发的大讨论，与中共十一届三中全会的召开有何联系？（5分）



三、图说历史（8分）



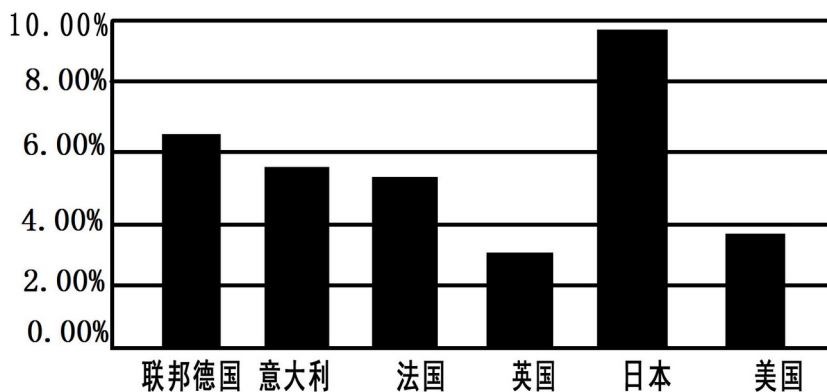
1.结合所学知识，指出右图所示文物的史学价值。（2分）



2、左图形象的反映了我国近代一段十分重要的历史，请你用一句话准确概括其含义。（2分）

3、观察下图：（1950-1970年主要资本主义国家经济年均增长统计图）（4分）

1950-1970年主要资本主义国家经济年均增长率统计图



以下结论，能从上图中得出的，请在其括号中打√；与上图意思表达相反的，请在其括号中打×；上图中没有涉及的，请在其括号中打○。

- (1) 1950年~1970年，主要资本主义国家经济发展较快。（ ）
- (2) “欧洲共同体”的成立，促进了成员国经济的发展。（ ）
- (3) 1950年~1970年。美国经济发展低迷，经济危机深重。（ ）
- (4) 主要资本主义国家经济发展不平衡。（ ）

四、材料解析题（10分。阅读下列材料，按要求回答问题）

材料一： 1800~1870年英国煤产量（单位：万吨）

年代	1800	1820	1830	1850	1860	1870
产量	1100	1740	2400	4940	8000	11000

(1) 材料一反映的趋势是什么？英国工业革命期间，在动力方面的哪一重大技术进步显著地促进这一趋势的出现？（3分）

材料二： 1870年~1900年世界石油产量变化图（单位：万吨）

年代	1870	1900
产量	80	2000

- (2) 材料二中反映了什么现象？导致这一现象出现的主要原因是什么？（3分）
- (3) 结合所学知识，分析材料一、二反映的现象对人类生活经济和生态环境的影响。对此，

你有什么认识？（4分）

五 分析探究（10分。请还要求完成下列问题）

材料一：（见右图）

- (1) 右图所示历史人物是谁？框中的这段话，放
国思想（2分）



映

为君之道，必须先存
百姓，若损百姓以奉
其身，犹割股以啖
腹，腹饱而身毙。

材料二：据美国《财富》杂志报道，1932年美国有3400万人没有任何收入，占全国人口总数的28%。千百万人只是因为像牲畜一样生活，才免于死亡。

1933年，罗斯福总统就职演说中指出：“我们最首要的任务是使人民有就业机会。假如我们明智地勇敢地去，这不是一个不能解决的问题。由政府本身直接募工，任务就可以部分地完成。

- (2) 导致《财富》杂志报道的现象出现的直接原因是什么？根据材料二指出，为解决这一问题，罗斯福总统提出了什么办法？（3分）

材料三：见右图

- (3) 材料三中彩车上牌子所示的“联产承包”方式最早出现在我国哪个省？这种方式好“在哪里？（3分）



- (4) 综上，你得到什么启示？（2分）