

2019年南平市初中毕业班适应性检测历史试题

一、选择题

1.2019年1月,陕西刘家洼遗址对外发布的考古成果中,有刻“芮公”等字样的青铜器。根据考古推知,刘家洼是春秋时期封国芮国的都邑。由此可以得知

- A.墓主的身份是天子 B.芮国是西周时期的诸侯国
C.“芮公”字体是甲骨文 D.考古发现是了解历史的重要依据

2.辞赋“江分内外,腾翔鱼贯;离堆锁峡,宝瓶攸关”赞誉的工程是

- A.灵渠 B.长城 C.都江堰 D.大运河

3.公元前221年,秦朝建立。其时间可以表示为

- A.公元前2世纪早期 B.公元前2世纪晚期 C.公元前3世纪早期 D.公元前3世纪晚期

4.明代思想家李贽誉秦始皇为“千古一帝”。可以佐证这一观点的史实是

①创立中央集权制②车同轨,书同文③统一度量衡④焚书坑儒

- A.①②③ B.①②④ C.①③④ D.②③④

5.它的起点在长安,终点在要罗马。2000多年前,它将中国与意大利两个文明古国紧密联系在一起。它指

- A.丝绸之路 B.玄奘西行 C.鉴真东渡 D.郑和下西洋

6.朱绍侯《中国古代史》:封国越分越小,势力大为削弱。这一局面的出现源于汉武帝的

- A.推恩令
B.监察制度
C.盐铁专卖
D.罢黜百家,独尊儒术

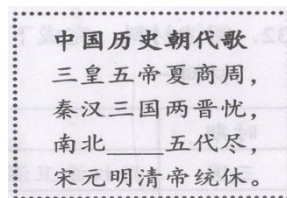
7.右图中的书法字体是

- A.小篆
B.隶书
C.楷书
D.行书



8.右图横线处应填写

- A.西周 B.东周
D.西夏 C.隋唐

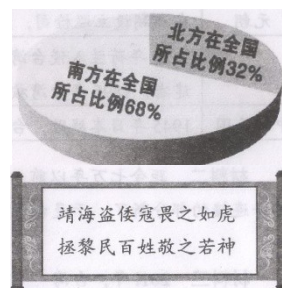


9.这项政策防止了将领武装割据,但导致了宋朝对外作战时屡屡失败。这项政策是

- A.重农抑商 B.休养生息 C.重文轻武 D.闭关锁国

10.右图为宋朝南北税收对比图,这说明宋朝

- A.经济重心在南方
B.政治重心在南方
C.军事重心在南方
D.文化重心在南方



11.右图对联歌颂的人物是

- A.岳飞 B.戚继光
C.郑成功 D.林则徐

12.《天朝的崩溃:鸦片战争再研究》:它是中国历史的转折,提出了中国必须近代化的历史使命。材料叙述的是鸦片战争的

- A.背景 B.内容 C.目的 D.影响

13.1919年5月1日《大陆报》:政府接巴黎中国代表团来电,谓关于索还胶州租借之对日外交战争,业已失败。由此引发的运动是

- A.太平天国运动 B.义和团运动 C.五四运动 D.一二·九运动

14.作家魏巍“不朝圣来不拜仙,我来朝拜井冈山”是因为井冈山是

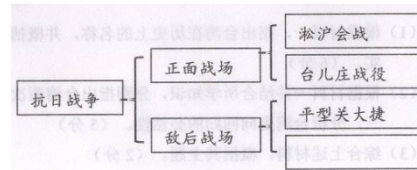
A.党梦想开始的地方 B.革命的摇篮，点燃了星星之火 C.红色的首都 D.军旗升起的地方

15.1934年10月，红军的机动回旋余地更加缩小，打破国民党军的“围剿”已无可能，中央红军主力被迫

A.北伐战争 B.南昌起义 C.秋收起义 D.战略转移

16.右图方框中的战役是

A.徐州会战
B.百团大战
C.淮海战役
D.渡江战役



17.1945年6月，毛泽东在致闭幕词中说：“我们开了一个胜利的大会，一个团结的大会。”这里的“大会”指

A.中共一大 B.中共七大 C.中共八大 D.中共十二大

18.下列推论正确的是

A.《马关条约》签订→中国开始沦为半殖民地半封建社会
B.中共一大召开→标志着新民主主义革命的开始
C.国民党一大召开→标志着第一次国共合作正式形成
D.平津战役打响→人民解放战争开始转入战略进攻

19.右图照片见证的历史是

A.土地改革 B.农业改造
C.手工业改造 D.资本主义工商业改造



20.“我只有一个要求，请组织上把我运回兰考，埋在沙丘上……死了也要看着兰考人民把沙丘治好。”遗言中的“我”是

A.焦裕禄 B.雷锋 C.王进喜 D.邓稼先

21.右图宣传画的背景是

A.抗美援朝战争
B.西藏和平解放
C.“大跃进”运动
D.“一五”计划实施



22.毛泽东说：“今年(1971年)有两大胜利，一个是林彪，一个是联合国。”“两大胜利”指

A.林彪指挥辽沈战役、联合国成立
B.粉碎林彪反革命集团、联合国成立
C.林彪指挥辽沈战役、中国重返联合国
D.粉碎林彪反革命集团、中国重返联合国

23.1992年，中共十四大提出我国经济体制改革的目标是

A.建立社会主义市场经济体制 B.增强企业活力 C.全面建设小康社会 D.实现中国梦

24.关于邓小平的评价最贴切的是

A.开眼看世界的第一人 B.民主革命的先行者 C.新中国的主要缔造者 D.改革开放的总设计师

25.1999年，回归后的澳门建立了

A.经济特区 B.特别行政区 C.经济开放区 D.民族自治区

26.《阿拉伯文学史》：一般人为求学而游历欧亚非三洲，然后犹如蜜蜂一般，载蜜而归，把他们储蓄的宝藏，分发给发奋的学生们。这说明阿拉伯文学繁荣的主要原因是

A.经济发达 B.注重吸收东西方文明 C.国家重视 D.立足以往文明的基础

27.右图名称为

A.罗马帝国疆域图
B.新航路开辟路线图
C.三角贸易航线图
D.德国进攻波兰图



28.导致右图城市变化的主要因素是

A.英国资产阶级革命 B.《权利法案》的颁布
C.君主立宪制的确立 D.工业革命的开展

1760—1851年英国城市变化表(单位:个)

年代	人口3万以上城市	人口10万以上城市	人口30万以上城市
1760年	1	1	0
1851年	13	7	3

29.歌词“适者才能生存，懂得永恒，得要我们进化成更好的人”出自歌曲

- A.《本草纲目》 B.《达尔文》 C.《义勇军进行曲》 D.《南泥湾》

30.《德意日法西斯覆灭记》：举世瞩目大会战，歼灭德军百余万；战略转折开始了，大举反攻在眼前。材料评述的战役是

- A.珍珠港战役 B.莫斯科保卫战 C.斯大林格勒战役 D.诺曼底登陆战

第II卷(非选择题)

非选择题共4题，其中第31题6分，第32题13分，第33题11分，第34题10分共40分。

31.阅读材料，完成下列要求

材料 新中国已成立，10月10日已不能成为国庆日。10月10日是有历史意义的辛亥革命的纪念日，但是孙中山先生所领导的辛亥革命的成果，迅速地被窃国大盗袁世凯所篡夺，这个革命本身是失败了。1925年至1927年的革命，成果又被蒋介石所篡夺。因此三十年以来的所谓“中华民国”是违背全国人民意志的，也是违背孙中山的意志的。

——摘编自《中华人民共和国通鉴》

(1)指出新中国成立的标志。(2分)

(2)你赞同材料中划线部分提及的观点吗？请简要说明理由。(4分)

32.阅读材料，完成下列要求

材料一

时期	史实
三国	孙权派卫温去夷洲。这可能是大陆军队大规模到达台湾的最早记录。
隋朝	隋炀帝三次派人去流求，对当时台湾土著居民的社会生活等有较详细的了解。
南宋	朝廷在澎湖戍兵防守，建制上归福建晋江县管辖。
元朝	在澎湖设立巡检司，是在台湾设置行政机构的开始。
清朝	1624年荷兰入侵台湾；1662年收复台湾；1684年设置台湾府；1885年台湾建省；1895年台湾被日本割占。
中华民国	1945年日本战败，台湾回归大陆；1949年国民党败逃台湾。

——摘编自杨益茂、宋桂芝《台湾历史与现状》

状》

材料二 距今七万年以前，台湾岛是东亚大陆的一个半岛。七万年前，海平面上升，那一连接的部分断了，于是台湾成为被海峡隔离的一个大岛。

——摘自北京青年报《台湾历史溯源》

材料三 2011年，台湾“中研院”在马祖亮岛发现人类遗骸群，统称“亮岛人”，他们是台湾少数民族原住民的祖先。经基因鉴定，他们与大陆一些少数民族存有共同的遗传血缘关系，如下图中的亮岛人分别来自中国大陆东南地区与西南地区。



“亮岛人1号”复原像



“亮岛人2号”复原像

中国大陆南部的少数民族与台湾少数民族在相貌及语言、信仰、社会形态、生活方式、传统工艺等文化特质上，都遗留相同或相似的文化及习俗。

——摘自熊子杰《你不知道的台湾》

(1)根据材料一，指出台湾在历史上的名称，并概括历代中央政府对台湾行使主权的史实。(6分)

(2)根据材料一并结合所学知识，分别指出台湾两次回归大陆的原因，并结合材料二、三，分析台湾走向回归的必然性。(5分)

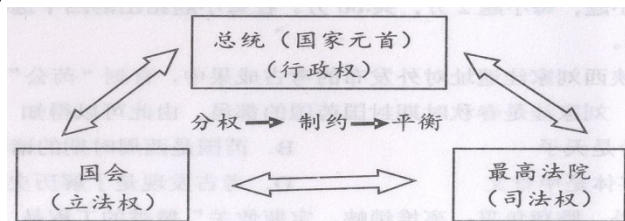
(3)综合上述材料，概括其主题。(2分)

33、阅读材料，完成下列要求。

材料一 随着《权利法案》等文献的颁布，英国建立了议会制君主立宪政体。其基本特征是：国王是国家元首，是“统而不治”的虚君；议会是最高国家权力机关和立法机关，国家的权力重心在议会。议会制君主立宪政体使英国获得了一个长期稳定的政治环境。

——摘自洪波《世界政治制度史》

材料二 1787年，制宪会议通过了《联邦宪法》，确立了共和政体、人民主权、权利分立与制衡等原则。权利分立与制衡原则如下：



《联邦宪法》是调整了保守派与民主派、中央与地方、大州与小州及南方与北方之间矛盾的产物，是美国长期比较稳定的秘密所在。

——摘编自吴于廑、齐世荣《世界史》

(1)根据材料一、二，分别指出英国、美国的政治体制，并比较它们的不同点。(6分)

(2)根据材料二，概括《联邦宪法》所蕴含的政治理念。(3分)

(3)综合上述材料，总结法制的作用。(2分)

34.阅读材料，完成下列要求。

材料 1929 - 1933年经济危机，美国有1700多万人失业，胡佛政府主张由私人慈善机构解决失业救济问题，然而这一措施收效甚微。罗斯福新政府则主张运用国家权力进行干预，通过了《紧急救济拨款法》，实施“以工代赈”计划；制定《社会保险法》，建立社会安全保障制度等。这些创新性措施，缓解了失业困难，刺激了经济的复苏，为美国投入二战及战后的快速崛起奠定了坚实的基础。

——摘编自黄安年《美国经济发展史专题15讲》

(1)根据材料，指出罗斯福政府解决失业问题的主张。(2分)

(2)阅读以上材料，围绕其主题提炼一个观点，并结合材料和所学知识加以论述。(8分。要求：观点明确，史论结合，条理清楚)

2019 年南平市初中毕业班适应性检测
历史试题参考答案及评分说明

一、选择题共 30 小题，每小题 2 分，共 60 分。

题号	1	2	3	4	5	6	7	8	9	10
选项	D	C	D	A	A	A	D	C	C	A
题号	11	12	13	14	15	16	17	18	19	20
选项	B	D	C	B	D	B	B	C	D	A
题号	21	22	23	24	25	26	27	28	29	30
选项	C	D	A	D	B	B	A	D	B	C

二、非选择题共 4 题，

31 .

(1) 标志：开国大典。（2 分）

(2) 观点 1：赞同。（1 分）

理由：中华民国建立后，袁世凯迅速窃取政权，倒行逆施，复辟帝制；1925 年至 1927 年的革命，成果又被蒋介石所篡夺，实行专制独裁统治。中华民国成了一个空招牌。（答出其中一点 2 分，满分 3 分）

观点 2：不赞同。（1 分）

理由：中华民国颁布了一系列政治、经济和社会改革的法令，颁布了具有资产阶级共和国宪法性质的《中华民国临时约法》，民主共和观念日益深入人心。（3 分）

说明：其他理由只要符合题意、言之有理即可。

32 .

(1) 名称：夷洲；流求。（答出其中一点 1 分，满分 2 分）

史实：南宋朝廷在澎湖戍兵防守，建制上归福建晋江县管辖；元朝在澎湖设立巡检司；1684 年清政府设置台湾府；1885 年清政府在台湾建省。（答出其中一点 1 分，满分

4 分）

(2) 原因：郑成功打败荷兰殖民者，收复台湾；抗日战争的胜利。（答出其中一点 1 分，满分 2 分）

必然性：台湾与大陆历史相承、地理相连、血脉相通、文化相同或相似。（3 分。答出其中三点即可）

(3) 主题：台湾自古以来就是中国不可分割的一部分；统一是历史发展的趋势。（2 分。答出其中一点即可）

说明：（2）（3）其他答案只要符合题意、言之有理即可。

33 .

(1) 体制：君主立宪制度（议会制君主立宪制）；共和制（三权分立共和制、总统共和制）。（答出其中一点 1 分，满分 2 分）

不同点：英国设有君主，美国不设君主；英国国家元首是国王，是“统而不治”的虚君，美国国家元首是总统，掌握国家行政权；英国议会凌驾于国王之上，国家权力重心在议会，美国则三权分立，且相互制衡。（4 分。答出其中两点即可）

(2) 理念：民主、共和、民权、权力制衡。（3 分。答出其中三点即可）

(3) 作用：法制是国家稳定与发展的重要保证。（2 分）

说明：（1）（2）（3）其他答案只要符合题意、言之有理即可。

34 .

(1) 运用国家权力进行干预。（2 分）

(2) 评价标准：

会员升级服务第一拨 · 清北季



神马，有清华北大学霸方法论课；还有清华学霸向所有的父母亲述自己求学之路；

衡水名校试卷悄悄的上线了；

扫qq领取官网不首发课程，很多人我没告诉他啊！

会员qq专享等你来撩.....