

促进大众创业和万众创新等方面发挥着重要作用。

3.2019年4月10日,“事件视界望远镜”项目在全球多地同时召开新闻发布会,发布人类拍到的第一张照片。()

- A. 月背面 B. 银河系 C. 黑洞 D. 火星内核

【答案】 C

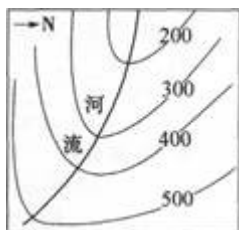
【考点】 学会从地图和图表中获取信息

【解析】 【分析】 4月10日晚,“事件视界望远镜”项目在全球多地同时召开新闻发布会,人类历史上首张黑洞照片正式公布,照片“主角”是室女座超巨椭圆星系 M87 中心的超大质量黑洞,其质量是太阳的 65 亿倍,距离地球大约 5500 万光年。照片展示了一个中心为黑色的明亮环状结构,看上去有点像甜甜圈,其黑色部分是黑洞投下的“阴影”,明亮部分是绕黑洞高速旋转的吸积盘。ABD 不符合题意,C 项正确。

故答案为:C。

【点评】 照片给出黑洞这一极端天体存在的最直接证据,验证了广义相对论,也将帮助回答星系中的壮观喷流如何产生并影响星系演化等诸多前沿问题。

4.读下边某地等高线地形图,判断图中河流的流向是()



- A. 东北流向西南 B. 东南流向西北 C. 西南流向东北 D. 西北流向东南

【答案】 B

【考点】 学会从地图和图表中获取信息

【解析】 【分析】 根据图中的信息可知,河流发育于山谷,从高处向低处流,根据题中给出的指向标,建立方向坐标,确定河流由东南流向西北。ACD 不符合题意,B 项正确。

故答案为:B。

【点评】 山谷就是比周围地方低的,所以山谷所穿过的等高线部分向高处凸.而且山谷处会出现河流.河流的流向与等高线的凸向相反。

5.“向海而兴,背海而衰;不能制海,必为海制。”下列能印证这一观点的史实有()

- ① 张骞通西域 ② 新航路开辟
③ 雅克萨之战 ④ 鸦片战争

A. ①②

B. ①④

C. ②④

D. ③④

【答案】 C

【考点】 新航路的开辟，近代列强对中国的主要侵略活动

【解析】 【分析】 ①张骞通西域和③雅克萨之战和海洋无关，不符合题意；

② 新航路开辟是从 15 世纪到 17 世纪欧洲的船队出现在世界各处的海洋上，寻找着新的贸易路线和贸易伙伴，以发展欧洲新生的资本主义；伴随着新航路的开辟，世界连成一个整体，促进了资本主义的产生和发展，同时也引发了殖民掠夺的狂潮，符合题意；

④ 鸦片战争爆发的标志是 1840 年，英国舰队封锁珠江口，进行挑衅，符合题意。

故答案为 C。

【点评】 本题难度适中，考查学生灵活运用所学知识解决问题的能力。

6.“还有什么能像我的战舰这样，把我和我的祖国如此紧密相连!”这是海军战士内心的骄傲；“这里是中国领海!请立即离开!”这是海军指战员对外国军舰以航行自由为名闯入中国领海时的坚定回应。

他们的言行 ()

① 自觉履行了维护国家安全的义务 ② 依法行使了政治权利和自由

③ 彰显了不畏强暴、扬善惩恶的精神 ④ 体现了爱岗敬业的价值准则

A. ①②③

B. ①②④

C. ①③

④

D. ②③④

【答案】 C

【考点】 传统美德与民族精神，权利和义务

【解析】 【分析】 题干中“还有什么能像我的战舰这样，把我和我的祖国如此紧密相连!”体现了海军指战员 爱岗敬业的价值准则。“这里是中国领海!请立即离开!”彰显了他们不畏强暴、扬善惩恶，自觉履行了维护国家安全的义务的精神。①③④符合题意，正确。

② 不符合题意，题干体现的是公民的义务不是权利，应排除。

故答案为：C。

【点评】 本题考查对自觉履行维护国家安全义务的认识，主要考查学生的理解能力，维护国家安全是我们的共同责任，我们要增强国家安全意识，自觉维护国家安全。

7.古希腊和春秋战国时期的古代中国文明高度发展，交相辉映。下列能佐证这一说法的文明成果是 ()

A. 《十二铜表法》《史记》

B. 《荷马史诗》《论语》

C. 《十二铜表法》《论语》

D. 《荷马史诗》《黄帝内经》

【答案】 B

【考点】古希腊罗马文明，百家争鸣

【解析】【分析】A项《十二铜表法》《史记》不能佐证题干说法，《十二铜表法》是罗马法制建设的第一步，是后世罗马法典乃至欧洲法学的渊源，不符合题意；

B项《荷马史诗》《论语》能佐证题干说法，世界文学名著《荷马史诗》是古代欧洲著名的长篇文学作品，是古代希腊不朽的文学作品，同时也是一部西方最早的史书，反映了前11—前9世纪希腊的社会生活面貌，是研究早期希腊社会的重要史料；由孔子的弟子整理的《论语》一书，记载了孔子的言论，集中体现了孔子的政治主张、论理思想、道德观念及教育原则等；符合题意；

C项《十二铜表法》《论语》不能佐证题干说法，《十二铜表法》是罗马法制建设的第一步，是后世罗马法典乃至欧洲法学的渊源，不符合题意；

D项《荷马史诗》《黄帝内经》不能佐证题干说法，《黄帝内经》是我国现存医书中最早的典籍之一，成书于战国至秦汉时期，是我国劳动人民长期与疾病做斗争的经验总结，不能体现春秋战国时期的古代中国文明，不符合题意；

故答案为B。

【点评】本题难度适中，考查古希腊和春秋战国时期的古代中国文明成果及学生的理解能力。

8.我国政府历来重视对边疆地区的有效管辖。下列管辖机构按设立先后顺序排列正确的是（ ）

①西域都护府 ②宣政院 ③驻藏大臣 ④台湾府

A. ①—②—④—③ B. ②—①—③—④ C. ①—③—②—④ D. ①—③—④—②

【答案】 A

【考点】秦皇汉武、唐宗宋祖

【解析】【分析】①西域都护府是公元前60年，西汉政府设立的，总管西域事务；②宣政院是元朝时设置的，管辖西藏；③驻藏大臣设立于1727年，代表中央长驻西藏，同达赖班禅共同管理西藏；④台湾府设立于1684年，隶属福建省；按设立先后顺序排列正确的是①—②—④—③。

故答案为A。

【点评】本题难度适中，考查我国政府对边疆地区的有效管辖及学生的识记能力。

9.三国领导人在某次会议上，讨论了在缅甸配合作战和战后处置日本的问题，会后声明日本攫取的中国领土，如中国东北、台湾、澎湖列岛等归还中国。此处“三国”指（ ）

A. 美国、英国、中国 B. 美国、英国、苏联 C. 美国、苏联、中国 D. 英国、苏联、中国

【答案】 A

【考点】第二次世界大战

【解析】【分析】1943年11月，中美英三国首脑会晤，发表《开罗宣言》，明确要求：日本所窃

邵镇炜能接纳自己，努力学习，这启示我们要接纳自我，做更好的自己。A 符合题意，正确。

BC 不符合题意，题干材料没有体现友谊和情绪的内容，应排除。

D 观点太绝对，是错误的。

故答案为：A。

【点评】本题考查对接纳自己，做更好自己的认识，主要考查学生的理解能力，做更好的自己，就要扬长避短。要善于利用自己的优点和长处，最大限度地展现自己的才华。

12.科技使“天涯若比邻”。下列发挥此类作用的科技成果中，属于第三次科技革命的有（ ）

- A. 蒸汽机车的发明 B. 内燃机的广泛应用 C. 电报和电话的发明 D. 信息技术的迅猛发展

【答案】 D

【考点】 工业革命

【解析】 【分析】 A 项蒸汽机车的发明属于第一次科技革命，不符合题意；

B 项内燃机的广泛应用属于第二次科技革命，不符合题意；

C 项电报和电话的发明属于第二次科技革命，不符合题意；

D 项信息技术的迅猛发展属于第三次科技革命，第三次科技革命开始于 20 世纪四五十年代，核心是电子计算机的广泛使用，标志着人类进入了信息化的社会，符合题意；

故答案为 D。

【点评】本题难度较小，考查第三次科技革命的成果。

13.科技也使“比邻若天涯”。亲友团聚时，随处可见“低头一族”，虚拟世界的热情加剧着现实的冷漠。

这警示人们缩短心灵距离更需要（ ）

- A. 依靠科技创新 B. 加强相关立法 C. 远离虚拟网络 D. 弘扬传统美德

【答案】 D

【考点】 网络交往，传统美德与民族精神

【解析】 【分析】 亲友团聚时，随处可见“低头一族”体现了人与人之间的淡漠，这是网络发展所还来的不良影，为此。警示我们缩短心灵距离更需要弘扬传统美德，D 符合题意，正确。

AB 观点不符合题意，应排除。

C 观点错误，网络有利有弊我们要合理利用而不是远离。

故答案为：D。

【点评】本题考查对合理利用网络和弘扬传统美德的认识，主要考查学生的理解能力，沉迷于网络，影响学习、工作和生活，我们要学会合理利用网络。

14.2019 年 3 月 28 日，庆祝西藏民主改革_____周年大会在拉萨举行，近万名各族各界代表在布达拉宫广场举行盛大集会。（ ）

A. ①②

B. ②③

C. ②④

D. ③④

【答案】 B

【考点】 十一届三中全会、改革开放

【解析】 【分析】从题干图中可看出 1981——1985 年农业总产值增长率、工业生产总值增长率最快，联系所学知识，十一届三中全会后，党在农村实行家庭联产承包责任制，家庭联产承包责任制将农民的责、权、利结合起来，提高了农民生产的积极性，促进了农业的发展；家庭联产承包责任制的实行，促进了乡镇企业的发展。

B 项②③是题干图中农业、工业生产总值增长最快的主要原因，符合题意；

故答案为 B。

【点评】 本题难度适中，考查对内改革的相关知识及学生灵活运用所学知识解决问题的能力。

19.绍兴发展依托于绿水青山。2018 年绍兴市共淘汰落后产能企业 348 家，关停热电企业 7 家，推广新能源汽车 5026 辆，打响了蓝天保卫战。这样做（ ）

- ① 是因为保护环境就是保护和发展生产力
- ② 表明解决环境问题是绍兴当前的工作中心
- ③ 体现了绍兴努力落实新发展理念，转变发展方式
- ④ 体现了绍兴着力追求生态保护和经济发展的双赢

A. ①②③

B. ①②④

C. ①③

④

D. ②③④

【答案】 C

【考点】 资源、环境问题及对策，可持续发展

【解析】 【分析】根据所学，我国的人口、资源、环境问题非常突出，制约经济社会发展，发展中出现的问题，只有通过转变发展方式才能得到解决。绍兴发展依托于绿水青山，打响了蓝天保卫战，体现了绍兴努力落实新发展理念，转变发展方式，追求生态保护和经济发展的双赢。这是因为保护环境就是保护和发展生产力。①③④符合题意，正确。

② 观点错误，绍兴当前的工作中心是经济建设为中心。

故答案为：C。

【点评】 本题考查对保护环境和可持续发展的认识，主要考查学生的理解能力，坚持走绿色发展道路，要处理好经济发展与生态环境保护的关系。保护生态环境就是保护生产力，改善生态环境就是发展生产力，决不能以牺牲环境、浪费资源为代价，换取一时的经济增长。

20.绍兴发展借力于时代机遇。2018 年绍兴举行首届发展大会，1000 余位越商、乡贤和海内外知名人士，怀着家书的浓情邀约，汇聚故里，为拥抱大湾区、发展大绍兴出谋划策，形成了发展黄酒、

珍珠历史经典产业等多个共识，并签约 16 个项目，引资 687.7 亿元。这一盛会（ ）

- ① 发扬了基层民主的自治精神 ② 见证了中华文化凝心聚力的力量
③ 彰显了合作共赢的发展理念 ④ 体现了因地制宜的区域发展原则

- A. ①②③ B. ①②④ C. ①③
④ D. ②③④

【答案】 D

【考点】 社会主义精神文明建设

【解析】 【分析】 题干材料中绍兴发展黄酒、珍珠历史经典产业，并签约 16 个项目，引资 687.7 亿元，体现了因地制宜的区域发展原则，见证了中华文化凝心聚力的力量，彰显了合作共赢的发展理念，②③④符合题意，正确。

① 不符合题意，题干材料没有体现基层民主的自治精神。

故答案为：D。

【点评】 本题考查对中华文化的认识，主要考查学生的理解能力，本题分析题肢选项，结合题干材料的内容，用排除法比较容易选出正确的答案。

二、综合题(本题有 5 小题，共 60 分)

21. 阅读漫画《循环》，回答问题。



(1) 请运用所学知识，说明漫画中两位主人公错误行为的共同之处。

(2) 要打破这样的恶性循环，请从法律角度给两位主人公各提一条不同的建议。

【答案】 (1) 共同之处有：道德缺失，有违诚信；法律意识淡薄，会侵犯他人的财产权；漠视生命，没有珍爱自己 或他人的生命。

(2) 本小题有一定的开放性，学生答案符合题意均可。例：售药者要依法经营。买药者要依法维权。

【考点】 珍爱和尊重生命，诚信，违法行为的含义及其分类，依法治国与依法参与政治生活

【解析】 【分析】 (1) 漫画一体现的是卖假药，漫画二体现的是碰瓷的行为，共同之处可以从道德缺失，有违诚信；法律意识淡薄，会侵犯他人的财产权；漠视生命，没有珍爱自己 或他人的生命等方面回答。

(2) 本题为开放性问题，注意要从法律的角度进行分析，注意各提一条不同建议。 例：售药者要

依法经营。买药者要依法维权。

【点评】本题考查对诚信，珍爱生命和遵章守法等相关知识的理解和运用，主要考查学生利用所学知识分析问题和解决问题的能力，难度值一般。

22.2018年国务院发布作为内部自律规范的工作规则。阅读材料，回答问题。

《国务院工作规则》(摘录)

一，……根据《中华人民共和国宪法》和《中华人民共和国国务院组织法》，制定本规则。

二，……坚持和加强党的全面领导，严格遵守宪法和法律，全面正确履行政府职能，建设人民满意的法治政府、创新政府、廉洁政府和服务型政府。

十八，国务院及各部门要带头维护宪法和法律权威……

三十二，国务院要自觉接受全国人大及其常委会的监督，认真负责地报告工作，接受询问和质询，依法备案行政法规；自觉接受全国政协的民主监督，虚心听取意见和建议。

(1) 上述条文从一个侧面体现了我国宪法怎样的地位？

(2) 运用所学知识，分析说明国务院要自觉接受全国人大和全国政协监督的理由。

(3) 上述条文的内容告诉我们，走中国特色社会主义法治道路必须坚持什么？

【答案】(1) 我国宪法是国家的根本法，是治国安邦的总章程，是一切组织和个人的根本活动准则。

(2) 全国人大是最高国家权力机关，国务院是最高国家权力机关的执行机关，由全国人大产生，对其负责，受其监督。全国政协是中国共产党领导的多党合作和政治协商的重要机构，履行政治协商、民主监督和参政议政的职能。这样做有利于国务院贯彻执行国家权力机关通过的有关法律、决议和决定；有利于国务院改进工作，预防腐败，建设法治政府。

(3) 必须坚持党的领导、人民当家作主、依法治国有机统一。

【考点】宪法与普通法律，党的领导与人民当家做主，依法治国与依法参与政治生活

【解析】【分析】(1) 分析题干材料中关键信息“根据……，制定本规则。国务院带头维护宪法和法律权威等可知我国宪法是国家的根本法，是治国安邦的总章程，是一切组织和个人的根本活动准则。

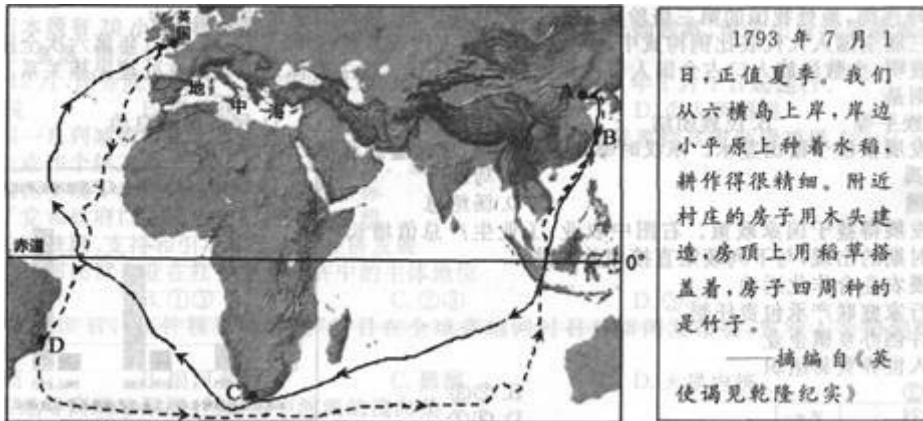
(2) 本题可以从国务院的产生，全国人大的地位，全国政协的性质及职能，国务院接受监督的意义，建设法治政府等方面进行分析回答即可。

(3) 根据所学，中国特色社会主义法治道路必须坚持党的领导、人民当家作主、依法治国有机统一。

【点评】本题考查对宪法的地位，全国人大及人民代表大会制度，全国政协的职能，建设法治政府等相关知识的理解和运用，主要考查学生利用所学知识分析问题和解决问题的能力，难度值中等。

23.阅读马夏尔尼使华有关材料，回答问题。

材料一：马戛尔尼使华航行路线示意图和旅途见闻



材料二：英使团进呈的礼物包括天体运行仪、地球仪、望远镜、战舰模型、连珠枪、榴弹炮、钢铁制品等，代表着欧洲现代科学技术水平，却被清政府视为“奇巧”之物，不受重视。

——改编自《英使谒见乾隆纪实》

(1) 写出图中 D 处所临的大洋和所在的大洲。材料一中“我们”看到的情形最有可能出现在图中 A、B、C 中的哪一处？理由是什么？

(2) 请运用所学知识，说明公元 1500 年以来推动英国科技进步的主要原因。

(3) 中英这段交往历史对我国建设科技强国有何启示？

【答案】 (1) 大西洋；南美洲；B 处；因为 7 月该地正值夏季，说明该地处于北半球，故可排除 C；种植水稻、用稻草搭盖房顶等信息，说明该地更可能是 A、B 中地处南方的 B。

(2) 科学革命产生近代科学，迎来技术发明的高潮；工业革命时期，大量的技术革新，推动生产力发展，加速科技进步；资产阶级革命，确立了新体制，促进科技进步。

(3) 要开放包容，交流互鉴。(其他答案符合题意也可)

【考点】 运用地图图表描述区域自然环境和人文环境的特点

【解析】 【分析】 (1) 据图分析可知，D 处是巴西东部地区，所在的大洲是南美洲，其所临的大洋是大西洋。材料一中“我们”看到的情形最有可能出现在图中 B 处，因为 7 月该地正值夏季，说明该地处于北半球，故可排除 C；种植水稻、用稻草搭盖房顶，四周种的竹子等信息，说明该地更可能是 A、B 中地处南方的 B 地。

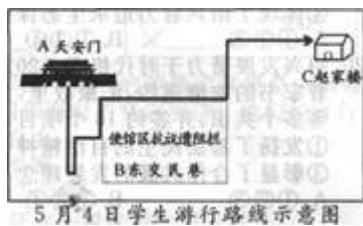
(2) 公元 1500 年以来推动英国科技进步的主要原因是：科学革命产生近代科学，迎来技术发明的高潮；工业革命时期，大量的技术革新，推动生产力发展，加速科技进步；资产阶级革命，确立了新体制，促进科技进步。

(3) 中英这段交往历史对我国建设科技强国启示：要开放包容，交流互鉴。(其他答案符合题意也可)

【点评】 马戛尔尼使华，在中西文化交流史上可谓是一件具有划时代意义的大事，在乾隆年间，英国

王雅治遣使臣马戛尔尼等来朝贡，但是在清朝当局眼里：马戛尔尼使团只不过是庆贺乾隆皇帝生辰的众多外来使团中的一个。被婉约拒绝，这也是中西文化交流上是一次伟大的撞击。

24.百年五四，精神铸魂。阅读材料，回答问题。



(1) 请写出北京学生在图中 A 处或 C 处的主要活动，并指出东交民巷使馆区的设置源于哪一条约的规定。

(2) 请运用所学知识，联系下列史料，阐释五四运动中中学生行为的正义性。(要求史论结合、逻辑严密)



【答案】 (1) A 处：齐集天安门，游行示威； C 处：痛打章宗祥，火烧曹宅。(任答一点) 《辛丑条约》

(2) 本小题采取分层评分，要求如下：

第一层次：联系 1—2 个史实，但没有运用正义行为的标准加以阐释。

第二层次：联系 1—2 个史实，能够运用正义行为的标准加以阐释。

第三层次：联系 2 个及以上史实，能够运用正义行为的标准加以阐释，且逻辑清晰。

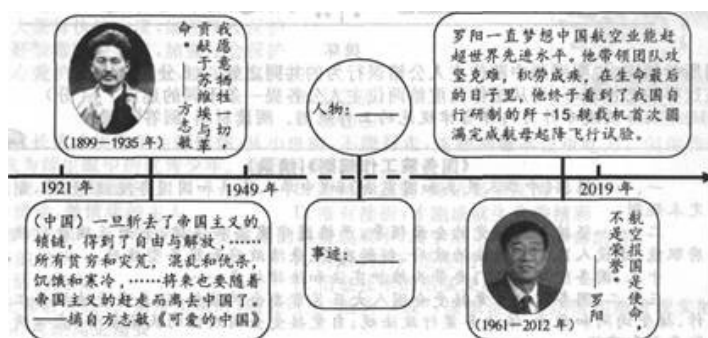
【考点】 新文化运动和五四运动

【解析】 【分析】 (1) 本题考查五四运动的史实及《辛丑条约》的内容。1919 年巴黎和会上中国外交的失败，激起了北京学生的反抗，北大学生奔赴天安门广场，参加示威游行，掀起了反帝反封建的五四爱国运动。5 月 4 日下午骨干分子高君宇等率一部分爱国学生攀墙冲进曹宅，痛打章宗祥，并撕毁日本天皇像，火烧赵家楼曹宅。1895 年清政府在甲午中日战争中战败，被迫同日本签订了《马关条约》，其中规定划定北京东交民巷为使馆界，允许各国驻兵保护，不准中国人在界内居住。

(2) 本题考查学生灵活运用所学知识解决问题的能力，属于开放性问题，学生史论结合、逻辑严密言之有理即可。

【点评】本题难度适中，围绕五四运动100周年这一热点考查五四运动的相关知识及学生灵活运用所学知识解决问题的能力。

25.中国人，中国梦。阅读材料，回答问题。



(1) 梦想源于现实。材料中方志敏和罗阳的憧憬折射出中国怎样的变化？

(2) 梦想基于选择。在方志敏生活的年代，以他为代表的追梦人为什么坚定地选择中国共产党，请运用所学历史知识加以说明。

(3) 梦想成于信仰。请按图中所示，写出一位为我国建设作出杰出贡献的人物及主要事迹，并用一句话概括坚定信仰对实现中华民族伟大复兴的意义。

【答案】(1) 实现了从站起来到富起来、强起来的伟大飞跃。

(2) ①当时中国面临着严重的民族危机和社会危机，中国人民为救国救民进行了艰辛探索，但都没有取得完全成功。②马克思主义在中国广泛传播，深刻影响了一批先进的知识分子。③中国共产党以推翻资产阶级政权，建立无产阶级专政，实现共产主义为奋斗目标，并积极探索中国革命新道路。所以，中国共产党是近代中国历史发展的必然选择。

(3) 本小题前一问有一定的开放性，学生答案符合题意均可。示例：邓小平，带领中国人民实行改革开放，开创中国特色社会主义建设道路。人民有信仰，国家才有力量，民族才有希望。(其他答案言之有理也可)

【考点】十一届三中全会、改革开放

【解析】【分析】(1) 本题考查学生的理解能力。根据方志敏的言论“……一旦斩去了帝国主义的锁链……”和罗阳的言论“……航空业能赶超世界先进水平……”等信息，联系所学知识，新中国的成立标志着中国站起来了，改革开放使中国富起来了，中国综合国力的提升使中国强起来了，所以方志敏和罗阳的憧憬折射出中国“从站起来、富起来到强起来的历史性飞跃”。

(2) 本题考查学生灵活运用所学知识解决问题的能力。近代中国面临着严重的民族危机，无数仁人志士都在探索救国救民的出路，但都没有取得完全成功。马克思主义在中国的广泛传播以及中国内忧外患的加剧，促使先进的知识分子聚集在马克思主义的旗帜下，建立了中国共产党。中国共产党为人们大众谋福利，是全心全意为人民服务的政党；采取了正确的方针、路线、政策。所以，中国共产党是近代中国历史发展的必然选择。

(3) 本题考查学生的归纳概括能力，属于开放性问题，学生言之有理即可。如：邓小平，带领中国人民实行改革开放，开创中国特色社会主义建设道路。人民有信仰，国家才有力量，民族才有希望。

故答案为：(1) 实现了从站起来到富起来、强起来的伟大飞跃。

(2) ①当时中国面临着严重的民族危机和社会危机，中国人民为救国救民进行了艰辛探索，但都没有取得完全成功。②马克思主义在中国广泛传播，深刻影响了一批先进的知识分子。③中国共产党以推翻资产阶级政权，建立无产阶级专政，实现共产主义为奋斗目标，并积极探索中国革命新道路。所以，中国共产党是近代中国历史发展的必然选择。

(3) 本小题前一问有一定的开放性，学生答案符合题意均可。示例：邓小平，带领中国人民实行改革开放，开创中国特色社会主义建设道路。人民有信仰，国家才有力量，民族才有希望。(其他答案言之有理也可)

【点评】本题难度适中，以“中国梦”、方志敏和罗阳的憧憬为依托，考查中华民族伟大复兴的相关知识及学生灵活运用所学知识解决问题的能力。

试卷分析部分

1. 试卷总体分布分析

总分：100分		
分值分布	客观题 (占比)	40 (40.0%)
	主观题 (占比)	60 (60.0%)
题量分布	客观题 (占比)	20 (80.0%)
	主观题 (占比)	5 (20.0%)

2. 试卷题量分布分析

大题题型	题目量 (占比)	分值 (占比)
选择题(本题有 20 小题，每小题 2 分，共 40 分。各题中只有一个正确答案。请选出最符合题意的正确选项，不选、多选、错选均不给分)	20 (80.0%)	40 (40.0%)
综合题(本题有 5 小题，共 60 分)	5 (20.0%)	60 (60.0%)

3. 试卷难度结构分析

序号	难易度	占比
----	-----	----

1	容易	16%
2	普通	80%
3	困难	4%

4. 试卷知识点分析

序号	知识点 (认知水平)	分值 (占比)	对应题号
1	2018 年时事	2 (1.2%)	1
2	我国现阶段的经济制度	2 (1.2%)	2
3	学会从地图和图表中获取信息	4 (2.4%)	3,4
4	近代列强对中国的主要侵略活动	2 (1.2%)	5
5	新航路的开辟	2 (1.2%)	5
6	传统美德与民族精神	4 (2.4%)	6,13
7	权利和义务	2 (1.2%)	6
8	古希腊罗马文明	2 (1.2%)	7
9	百家争鸣	2 (1.2%)	7

10	秦皇汉武、唐宗宋祖	4 (2.4%)	8,17
11	第二次世界大战	2 (1.2%)	9
12	法律对未成年人的特殊保护	2 (1.2%)	10
13	正确认识自我	2 (1.2%)	11
14	工业革命	2 (1.2%)	12
15	网络交往	2 (1.2%)	13
16	2019 年时事	2 (1.2%)	14
17	中国的地形、气候	2 (1.2%)	15
18	维护国家统一和民族团结	2 (1.2%)	16
19	十一届三中全会、改革开放	16 (9.6%)	18,25
20	可持续发展	2 (1.2%)	19
21	资源、环境问题及对策	2 (1.2%)	19
22	社会主义精神文明建设	2 (1.2%)	20

23	依法治国与依法参与 政治生活	23 (13.9%)	21,22
24	违法行为的含义及其 分类	10 (6.0%)	21
25	珍爱和尊重生命	10 (6.0%)	21
26	诚信	10 (6.0%)	21
27	党的领导与人民当家 做主	13 (7.8%)	22
28	宪法与普通法律	13 (7.8%)	22
29	运用地图图表描述区 域自然环境和人文环 境的特点	13 (7.8%)	23
30	新文化运动和五四运 动	10 (6.0%)	24

积分超值换

活动时间：2019年4月23日-6月30日

活动对象：中小学一线教师以及教育工作者



扫一扫 换礼啦

积 分 兑 换 更 超 值



会员升级服务第一拨 · 清北季



神马，有清华北大学霸方法论课；还有清华学霸向所有的父母亲述自己求学之路；

衡水名校试卷悄悄的上线了；

扫qq领取官网不首发课程，很多人我没告诉他啊！

会员qq专享等你来撩.....