

## 浙江省杭州市 2019 年中考社会法测试卷

### 一、判断题（6 小题，每小题 1 分，共 6 分）

1.平等待人要求我们发自内心地尊重他人人格，对所有人一视同仁。

【答案】 正确

【考点】 塑造良好道德

【解析】 【分析】 根据所学，尊重他人要学会平等待人，要求对所有人要一视同仁，不能以家庭、身体、智能、性别等原因而轻视、歧视他人。题干观点正确。

故答案为：正确。

【点评】 本题考查对尊重他人和平等待人的认识，主要考查学生的理解能力，平等待人是尊重他人的表现，尊重使社会生活和谐融洽。尊重是维系良好人际关系的前提，是文明社会的重要特征。尊重可以促进社会进步，提高社会文明程度。

2.通过村民会议参与村务管理是村民直接行使民主权利的表现。

【答案】 正确

【考点】 党的领导与人民当家做主

【解析】 【分析】 根据所学，基层群众自治制度的自治机构包括了城市的居民委员会和农村的村民委员会，村民委员会通过村民会议参与村务管理是村民直接行使民主权利的表现。题干中的观点正确。

故答案为：正确。

【点评】 本题考查对基层群众自治制度的认识，主要考查学生的理解能力，实行城市居民自治和农村村民自治，有利于人民群众直接行使民主权利，管理基层公共事务和公益事业，推动社会主义民主建设，促进社会和谐稳定。

3.国务院批复同意设立“海南自贸区”，说明国务院在国家机关体系中居于最高地位。

【答案】 错误

【考点】 依法治国与依法参与政治生活

【解析】 【分析】 根据所学，在国家机关体系中全国人民代表大会居于最高地位，国务院是最高国家行政机关，国家行政机关是国家权力机关的执行机关，因此国务院不居于最高地位。题干中的观点错误。

故答案为：错误。

【点评】 本题考查对行政机关的认识，主要考查学生的理解能力，国家行政机关是国家权力机关的执行机关，负责贯彻执行国家权力机关通过的有关法律、决议和决定，各级人民政府对本级人民代表大会负责并报告工作。

4.选举民主是我国社会主义民主政治的特有形式和独特优势。

【答案】 错误

【考点】 党的领导与人民当家做主

【解析】 【分析】 根据所学，协商民主是我国社会主义民主政治的特有形式和独特优势。所以题干中的观点是错误的。

故答案为：错误。

【点评】 本题考查对我国民主形式的认识，主要考查学生的理解能力，我国实行人民民主，既要发展选举民主，保障人民通过选举、投票行使权利，又要发展协商民主，推动人民内部各方面在重大决策之前和决策之中进行充分协商，尽可能取得一致意见。

5.今年是澳门特别行政区成立 20 周年，“澳人治澳”意味着澳门实行完全自治。

【答案】 错误

【考点】 维护国家统一和民族团结

【解析】 【分析】 我国在香港和澳门实行“一国两制”，香港澳门有高度的自治权但不是完全自治，所以题干中的观点是错误的。

故答案为：错误。

【点评】 本题考查对一国两制的认识，主要考查学生的理解能力。“一个国家，两种制度”，简称为“一国两制”。“一个国家”，是指中国是统一的国家，主权和领土不容分割。两种制度”是指在坚持一个中国的前提下，国家的主体坚持社会主义制度，香港、澳门、台湾保持原有的资本主义制度和生活方式长期不变，实行高度自治。

6.建设和平、公正、包容的社会，是当今人类必须共同面对的发展课题。

【答案】 正确

【考点】 经济全球化、世界多极化、和平与发展

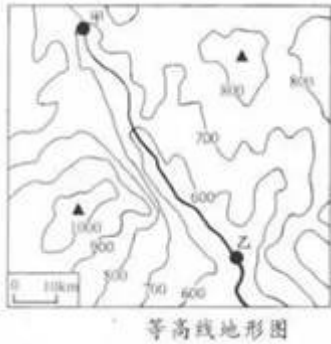
【解析】 【分析】 根据所学，消除贫困，让人们都过上繁荣和充实的生活，平等和有尊严地健康的环境中充分发挥每个人的潜能，与自然和谐共生，建设和平、公正、包容的社会，是当今人类必须共同面对的发展课题。所以题干中的观点是正确的。

故答案为：正确。

【点评】 本题考查对人类的可持续发展的认识，主要考查学生的理解能力，为解决人类的可持续发展问题，构建人类命运共同体，应成为各国解决全球性问题的必然选择。

## 二、选择题（24 小题，每小题 2 分，共 48 分）

7.读“等高线地形图”。下列对图中信息解读正确的是（ ）



- ① 图中地势中部高四周低      ② 图中河流由东南流向西北  
 ③ 该图比例尺为 1 : 1000000      ④ 甲乙两地相对高度超过 100 米
- A. ①②                              B. ①③                              C. ②④  
 D. ③④

【答案】 D

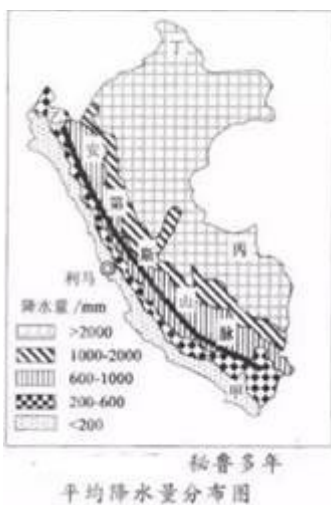
【考点】 学会从地图和图表中获取信息

【解析】 【分析】 根据图中信息可知，该图等高距相差 100 米，图中的地势是中间低，两侧较高；根据河流的流向与等高线的凸向相反确定图中河流的流向是由西北流向东南；根据题中给出的线段式比例尺，确定该图的比例尺是 1 : 1000000；甲地的海拔高度是 700 米，乙地的海拔高度是 500-600 米之间，甲乙两地相对高度应为 100-200 米之间，超过 100 米正确。ABC 不符合题意，D 项正确。

故答案为：D。

【点评】 同一条等高线上，各点的高度一定相同；等高线密集的地方坡陡，等高线稀疏的地方坡缓；相邻的两条等高线之间的高度差称为等高距，同一幅图中等高距是相同的。

8.读“秘鲁多年平均降水量分布图”。回答小题。



(1) 关于秘鲁多年平均降水量分布特点的说法，正确的是 ( )

- A. 南多北少                      B. 西多东少                      C. 东北多西南少                      D. 西北多东南少

(2) 被印加人称为“粮食之母”的藜 (li) 麦原产于秘鲁等国海拔 3000—4000 米、年降水量 300—600 毫米的高原或山地。其原产地最有可能在 ( )

- A. 甲地                                  B. 乙地                                  C. 丙地  
D. 丁地

**【答案】** (1) C (2) B

**【考点】** 运用地图图表描述区域自然环境和人文环境的特点

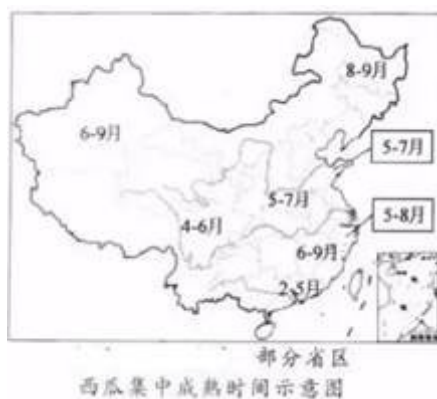
**【解析】** **【分析】** (1) 根据图中给出的信息可知，降水量达到 2000MM 以上的地区集中分布在该区域的东北地区，从东北向西南走，降水量逐渐减少。关于秘鲁多年平均降水量分布特点是东北多西南少。ABD 不符合题意，C 项正确。

(2) 藜麦原产于秘鲁等国海拔 3000—4000 米、年降水量 300—600 毫米的高原或山地。根据这个信息，排除丙地和丁地，这两个地方的降水量达 2000 毫米以上；甲地的降水量低于 200 毫米，也不符合。乙地位于该区域的西北，年降水量在 200--600 毫米之间，又位于安第斯山脉上，符合题意。ACD 不符合题意，B 项正确。

故答案为：(1) C；(2) B。

**【点评】** 本题给出了秘鲁多年的降水量分布图，要求学生从图中获取有效信息，概括秘鲁年降水量的分布特点，相对比较简单。沿岸降水较少的原因是受到高山阻挡，处于背风坡，加上沿岸寒流流经，降温减湿作用明显。

9. 读某水果批发商收集的我国“部分省区西瓜集中成熟时间示意图”。回答小题。



(1) 下列表述与图中信息相符的是 ( )

- ① 四川盆地的西瓜成熟时间早于塔里木盆地    ② 珠江三角洲的西瓜成熟时间晚于山东半岛  
③ 江西省的西瓜成熟时间比河南省更晚        ④ 浙江省是我国西瓜成熟时间最晚的省

- A. ①②                                  B. ①③                                  C. ②④  
D. ③④

- (2) 海南瓜农选择让西瓜在春节前后集中成熟的主要原因是 ( )
- A. 海南冬半年气温比夏半年高      B. 海南冬半年降水比夏半年多
- C. 有利于外省西瓜在海南销售      D. 希望能获得更好的经济效益

**【答案】** (1) B (2) D

**【考点】** 运用地图图表描述区域自然环境和人文环境的特点

**【解析】** 【分析】 (1) 根据图中信息来看，四川盆地的西瓜成熟时间是 4-6 月，塔里木盆地西瓜成熟时间是 6-9 月，故四川盆地的西瓜成熟时间早于塔里木盆地；珠江三角洲的西瓜成熟时间是 2-5 月，山东半岛是 5-7 月，故珠江三角洲的西瓜成熟时间早于山东半岛；江西省的西瓜成熟时间是 6-9 月，河南省的西瓜成熟时间是 5-7 月，故江西省的西瓜成熟时间比河南省更晚；浙江省西瓜成熟时间是 5-8 月，不是我国西瓜成熟时间最晚的省。ACD 不符合题意，B 项正确。

(2) 海南瓜农选择让西瓜在春节前后集中成熟的主要原因是春节期间，我国其他地方西瓜没有成熟，市场需求量又大，可以买个好价钱，可以获得更好的经济效益。ABC 不符合题意，D 项正确。故答案为：(1) B；(2) D。

**【点评】** 我国各地自然环境存在很大差异，每个地区都有农业发展上的优势和不足。利用当地自然条件的优势，把要发展的农业部门或农作物，布局在适宜它本身发展、生长最有利的地区，是因地制宜的重要内容之一。我国的种植业区也主要分布在湿润、半湿润的东部季风区的平原、盆地和丘陵区。受气候条件的影响，我国南方和北方的农业在耕作制度、农作物种类等方面有明显的差异。

10. 下图为“1949 年以来我国人口数量和人口出生率变化示意图”。据此判断，正确的是 ( )



- A. 我国人口总数持续增加      B. 我国人口出生率逐年下降
- C. 1979 年以后，人口增长速度加快      D. 1979 年以后，新出生人口逐年减少

**【答案】** A

**【考点】** 学会从地图和图表中获取信息

**【解析】** 【分析】 据图分析可知，我国的人口数量呈现持续增加趋势；我国的人口出生率表现为波动下降趋势，不是逐年下降；1979 年以后，由于计划生育政策的实施，人口增长速度变慢，但总数还在不断增加，新出生人口数比较多，也不是呈现逐年减少趋势。BCD 不符合题意，A 项正确。

故答案为：A。

【点评】人口自然增长率=人口出生率—人口死亡率。人口增长率为正数时表示总人口数在增加，人口增长率为负数时表示总人口数在减少。我国人口的突出特点是人口基数大，人口增加快，庞大的人口数量严重地制约了我国社会的发展，所以国家把实行计划生育作为一项长期的基本国策；其主要内容是：控制人口数量，提高人口素质；其具体要求是：晚婚晚育，少生优生。

11. 阅读书籍需要关注目录，从而把握内容的主旨。右图目录展现的内容主旨是（ ）



目录图片

- A. 争霸与争鸣的春秋战国                      B. 秦汉大一统的封建国家  
C. 繁荣开放的大唐盛世和人口出生            D. 明清王朝的盛世余晖

【答案】 C

【考点】 秦皇汉武、唐宗宋祖

【解析】 【分析】 唐朝画家阎立本的《步辇图》取材于唐贞观八年吐蕃首领松赞干布与文成公主联姻的事件，描绘了唐太宗李世民接见吐蕃使臣禄东赞的情景。唐朝 868 年印制的《金刚经》是现存的世界最早的标有年代的雕版印刷品。唐三彩是唐朝的艺术珍品，反映了唐朝制瓷业发展的高超水平，乐舞队成员的组成（两个汉人和三个深目高鼻的胡人（西域人）组成）反映了唐朝开放的社会特征，体现了胡乐流行。马球是唐朝的国球，打马球是唐朝时期非常普遍的一项运动。因此“汉藏一家亲 阎立本《步辇图》”“丝绸之路上的胡人胡乐 三彩骆驼载乐俑”“雕版印刷的杰作 《金刚经》经卷”“击球少女的英姿 打马球铜镜” 展现的内容主旨是繁荣开放的大唐盛世。

C 项繁荣开放的大唐盛世是题干图中目录展现的内容主旨，符合题意；

故答案为 C。

【点评】 本题难度适中，考查唐朝的社会生活及学生的归纳概括能力。

12. 诵读毛泽东诗词不仅能重温历史的峥嵘岁月，更能领略中国共产党人的革命情怀。下列诗词反映的历史事件按时间先后排序，正确的是（ ）

- ① 金沙水拍云崖暖，大渡桥横铁索寒            ② 一桥飞架南北，天堑变通途  
③ 钟山风雨起苍黄，百万雄师过大江            ④ 秋收时节暮云愁，霹雳一声暴动

- A. ①②③④                                      B. ②④①③                                      C. ④①③②                                      D. ④②①③

【答案】 C

【考点】 中国共产党诞生、中国特色革命道路的开辟，解放战争，改革开放前新中国成长的曲折历



14.制作表格整理知识是历史学习的有效方法。下列整理符合历史事实的是（ ）

选项	时间	事件	意义
A	1649年	英王查理一世被处死	确立了君主立宪的政体
B	1789年	巴黎人民攻克巴士底狱	标志着法国大革命爆发
C	1839年	林则徐在虎门销毁鸦片	标志着鸦片战争的爆发
D	1889年	日本颁布《明治宪法》	确立了资产阶级共和制

A. A

B. B

C.

C

D. D

**【答案】** B

**【考点】** 英法美资产阶级革命，日本明治维新，近代列强对中国的主要侵略活动

**【解析】** 【分析】 A项 A不符合历史事实，1689年英国议会颁布了《权利法案》。《权利法案》为限制王权提供了法律保证，英国建立起了君主立宪制的资产阶级政体，不符合题意；

B项 B符合历史事实，1789年7月14日，法国人民发动起义，攻占巴士底监狱，标志着法国大革命的开始，符合题意；

C项 C不符合历史事实，1840年6月，英军炮轰广东海面，标志着鸦片战争的爆发，不符合题意；

D项 D不符合历史事实，《明治宪法》确立了日本式的君主立宪制——近代天皇制，不符合题意；故答案为B。

**【点评】** 本题难度适中，考查学生对历史史实的识记能力。

15.“全部近代历史上，没有别的事件比它更惊人地影响了普通人的生活，或对人类的进步开拓了更广阔的前景，或造成了更剧烈的苦难和不满。”这里的“它”是指（ ）

A. 文艺复兴

B. 启蒙运动

C. 工业革命

D.

百日维新

**【答案】** C

**【考点】** 工业革命

**【解析】** 【分析】 19世纪三四十年代，一个新的工业部门——机器制造业诞生了。用机器制造机器标志着工业革命的完成。从19世纪初起，工业革命逐渐从英国向法国、德国、美国等国扩展。它极大地促进了这些国家生产力的发展。工业革命，开创了人类真正意义上的工业，极大的发展了生





③对未成年人的特殊保护      ④立法机关提供法律保护

A. ①②③

B. ①②④

C. ①③

④

D. ②③④

**【答案】** A

**【考点】** 法律对未成年人的特殊保护

**【解析】** 【分析】 杭州市教育局正式发布了《关于推行小学生放学后托管服务工作的指导意见（试行）》目的是为了营造有利于未成年人健康成长的良好社会环境，这体现了对未成年人的社会保护，杭州很多小学为放学后无法及时接送的小学生提供了学后托管服务。体现对未成年人的学校保护，这些都是国家对未成年人特殊保护的表现，①②③符合题意，正确。

④不符合题意，《关于推行小学生放学后托管服务工作的指导意见（试行）》不是法律，所以排除。

故答案为：A。

**【点评】** 本题考查对未成年人的特殊保护的认知，主要考查学生的理解能力，我国对未成年人构筑起

家庭保护、学校保护、社会保护和司法保护四位一体的四道防线。

21. 读漫画《搬起石头砸自己的…》（原作者李二保）。其寓意是（ ）



搬起石头砸自己的……

① 诚信是人们融入社会的通行证

② 要学会用善意的谎言保护自己

③ 诚信是一个人安身立命的根本

④ 要正确处理诚信与保护隐私的关系

A. ①②

B. ①③

C. ②④

D. ③④

**【答案】** B

**【考点】** 诚信

**【解析】** 【分析】 题干中的漫画体现的是一些人进行学术造假的不诚信行为，结果搬起石头砸自己的脚，受到了应有的处罚，这告诉我们诚信是人们融入社会的通行证，是一个人安身立命的根本，①③符合题意，正确。

②④ 观点错误且不符合漫画的寓意主旨，应排除。

故答案为：B。

【点评】本题考查对诚信的认识，主要考查学生的理解能力，诚信就是诚实、守信和信任。诚信是中华民族的传统美德。我们要树立诚信意识，真诚待人，信守承诺，说老实话，办老实事，做老实人。

22.公益短片《家国与边关》感动了无数观众。边防战士与恶劣环境、枯燥孤寂抗争，无怨无悔，只因脚下站立的地方是祖国。边防战士的行为（ ）

- ① 行使了依法服兵役的权利      ② 说明维护国家利益有时要牺牲个人利益  
③ 履行了维护国家安全的义务      ④ 说明国家利益与个人利益是完全等同的

A. ①③                                      B. ①④                                      C. ②③

D. ②④

【答案】 C

【考点】 权利和义务

【解析】 【分析】 公益短片《家国与边关》中边防战士的行为体现了他们的爱国情怀和自觉履行了维护国家安全的义务，边防战士为守护国土与恶劣环境、枯燥孤寂抗争说明了维护国家利益有时要牺牲个人利益，②③符合题意，正确。

① 观点错误，依法服兵役是公民的基本义务而不是权利。

④ 观点错误，国家利益与个人利益在根本上是一致的，但不是完全等同的，在具体利益上会有冲突。

故答案为：C。

【点评】本题考查对维护国家安全的法律义务和保护国家利益的认识，主要考查学生的理解能力，当国家利益和个人利益发生矛盾时，我们要顾全大局，以国家利益为重，把国家利益放在第一位。

23.2018年，我国迎来了第一个“宪法宣传周”。全国各地广泛开展尊崇宪法、学习宪法的活动。这是因为，宪法（ ）

- ① 与每个人息息相关      ② 是国家的根本大法  
③ 是一切法律的总和      ④ 规定了国家生活的具体内容

A. ①②                                      B. ①③                                      C. ②④

D. ③④

【答案】 A

【考点】 宪法与普通法律

【解析】 【分析】 根据所学，宪法与每个人息息相关，我们的一生都离不开宪法的保护。宪法是国家的根本大法，为此，需要增强公民的宪法意识，①②符合题意，正确。

③ 错误，宪法是普通法律的立法基础和依据不是一切法律的总和。

④ 错误，宪法规定的是国家生活的根本问题。

故答案为：A。

【点评】本题考查对宪法的认识，主要考查学生的理解能力，宪法是国家法制统一的基础，是中国特色社会主义法律体系的核心和统帅。

24. 国务院印发的《个人所得税专项附加扣除暂行办法》规定，有孩子正在读书的纳税人按照每个子女每月 1000 元标准扣除后缴纳个人所得税。这一规定（ ）

- ① 有利于减轻纳税人的经济负担
- ② 是公民享有政治权利的具体表现
- ③ 有利于公民更好行使受教育的权利
- ④ 是公民享有物质帮助权的具体表现

- A. ①②
- B. ①③
- C. ②④
- D. ③④

【答案】 B

【考点】 公民受教育的权利与义务

【解析】 【分析】 国务院印发的《个人所得税专项附加扣除暂行办法》有利于减轻纳税人的经济负担，提高普通纳税人的可支配收入，其中 有孩子正在读书的纳税人按照每个子女每月 1000 元标准扣除后缴纳个人所得税体现了国家对公民受教育权的保障，①③符合题意，正确。

② 不符合题意，题干材料没有体现政治权利的内容，应排除。

④ 不符合题意，物质帮助权是指公民因丧失劳动能力而不能获得必要的物质生活资料时，有从国家和社会获得生活保障，享受集体福利的权利，题干材料没有体现，所以排除。

故答案为：B.

【点评】本题考查对受教育权和依法纳税的认识，主要考查学生的理解能力，受教育权是指公民有按照其能力平等地从国家获得接受教育的机会，并获得相应物质保障的权利。

25. 读“改革开放 40 年我国民营经济贡献图”。可知，民营经济（ ）



- ① 是社会主义经济制度的基础
- ② 有利于大众创业和万众创新
- ③ 已成为国民经济的主导力量
- ④ 有助于扩大就业增加国家税收

- A. ①③
- B. ①④
- C. ②③
- D. ②④

【答案】 D



D. ②④

【答案】 B

【考点】 宪法与普通法律，法律维护公民的人身自由、人格尊严和个人隐私

【解析】 【分析】 根据所学，规则包括了道德、法律、纪律等，人格尊严权包括了名誉权、荣誉权、肖像权、姓名权、隐私权，①④符合题意，正确。

② 错误，行政制裁包括行政处分和行政处罚等。

③ 错误，宪法是国家的根本大法。

故答案为：B。

【点评】 本题考查对规则和人格尊严权的认识，主要考查学生对基本概念的理解情况，本题需要根据所学知识逐个分析题肢选项才可以选出正确的答案。

28. 经济全球化使各国经济相互依赖、相互联系。下列选项中，有利于推动经济全球化进程的是（ ）

① 美国大幅上调中国输美商品的关税      ② 首届中国国际进口博览会在上海举行

③ 英国议会表决通过《退出欧洲联盟法案》      ④ 中国主办第二届“一带一路”国际合作高峰论坛

A. ①③

B. ①④

C. ②③

D. ②④

【答案】 D

【考点】 经济全球化、世界多极化、和平与发展

【解析】 【分析】 首届中国国际进口博览会在上海举行和中国主办第二届“一带一路”国际合作高峰论坛都有利于推动我国和世界各国的商品和贸易活动的交流与合作，有利于推动经济全球化的进程，②④符合题意，正确。

① 不符合题意，美国大幅上调中国输美商品的关税会阻碍中国和美国的经济交流与合作。

③ 不符合题意，《退出欧洲联盟法案》不利于欧洲各国的经济交流与合作。

故答案为：D。

【点评】 本题考查对经济全球化的认识，主要考查学生的理解能力，经济全球化主要表现为商品生产在全球范围内完成，商品贸易在全球范围内完成。

### 三、非选择题（5 小题，共 46 分）

29. 阅读下列材料，回答问题。

材料一：大连位于辽东半岛南端，是环渤海经济圈和东北三省的出海通道之一。图 1 为“大连——俄罗斯北冰洋沿海——鹿特丹航线示意图”，图 2 为“大连气温和降水量图”。



图1 大连—俄罗斯北冰洋沿海—鹿特丹航线示意图

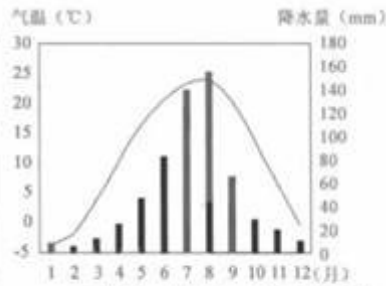


图2 大连气温和降水量图

材料二：大连——鹿特丹主要海运航线对比表

航线	航程 (海里)	所需时间 (天)
A 航线：大连——苏伊士运河——鹿特丹	19873	约 36
B 航线：大连——俄罗斯北冰洋沿海——鹿特丹	14688	约 27

(1) 大连属于\_\_\_\_\_气候，夏季降水\_\_\_\_\_，冬季降水\_\_\_\_\_。

(2) 某货轮从大连出发沿 B 航线前往鹿特丹，请选择最佳出行季节并说明理由。

(3) 与 A 航线相比，简要说明该货轮选择 B 航线的好处。

**【答案】** (1) 温带季风；多；少

(2) 夏秋季；理由：夏秋季气温高，沿海冰面融化，利于航行。

(3) 航行里程短，航行时间缩短；可节省运输成本。

**【考点】** 运用地图图表描述区域自然环境和人文环境的特点

**【解析】** 【分析】 (1) 据图 2 分析可知，大连属于温带季风气候，夏季降水较多，冬季降水较少。

(2) 某货轮从大连出发沿 B 航线前往鹿特丹，大都位于高纬度地区，气温较低，海水易结冰，应该选择比较温暖的季节前往。故选择在夏秋季节，此时气温较高，沿海冰面融化，利于航行。

(3) 据材料二分析可知，与 A 航线相比，选择 B 航线距离较短，大大缩短了航行里程，缩短了航行时间，节约了燃料，节省运输成本。

**【点评】** 在气温变化曲线和降水量柱状图中，一般横坐标轴表示月份，纵坐标轴左侧表示气温，右侧表示降水量，气温年变化用平滑的曲线表示，降水年变化用长方形柱状表示；观察气温曲线图，可以知道气温最高月和气温最低月，气温最高值和气温最低值，观察降水柱状图，可以知道降水集中的月份和各月降水量。然后根据规律“以温定带，以水定型”进一步确定其气候类型。

30.百年来中国外交发生了巨变，尤其是建国 70 年来，在中国共产党的领导下，中国取得了举世瞩目的外交成就。阅读下列材料，回答问题。

材料一：中国代表团发表文告解释不签字之理由，谓和会关于山东问题之解决殊欠公允，中国曾于

五月四日向各国首相会议提出抗议……

——巴黎二十八日路透社电《中代表不签字之通告》

材料二：凡属被国民党政府所承认的资本主义国家的大使馆、公使馆、领事馆及其所属的外交机关和外交人员，在人民共和国和这些国家建立正式外交关系以前，我们一概不予承认……

——《中共中央文件选集十八·中央关于外交工作的指示》

材料三：今年是新中国成立 70 周年，也是中法建交 55 周年……当前国际形势和两国关系都发生了很大变化，但几点始终没有改变。一是中国对中法关系的重视始终没有改变。二是中法对和平、发展、公平、正义的共同追求始终没有改变。三是中法合作互利共赢的属性始终没有改变。

——摘自 2019 年 3 月 25 日新华社《习近平会见法国总统马克龙》

(1) 结合所学知识，分析中国为什么要“提出抗议”。

(2) 材料二体现了我国建国初期的哪一外交方针？列举我国 20 世纪 50 年代的两项外交成就。

(3) 中法建交 55 年来，世界政治格局发生了怎样的变化？材料三中“几点始终没有改变”对构建新型国际关系有何启示？

**【答案】** (1) 中国的正当要求被拒绝，巴黎和会将德国在中国山东的一切权益转让给日本，这严重损害了中国的主权。

(2) “另起炉灶”。1953 年，周恩来在接见印度代表团时首次提出和平共处五项原则，作为处理两国关系的原则。1954 年，周恩来访问印度和缅甸。中国分别与印度、缅甸发表联合声明，双方一致同意，以和平共处五项原则作为指导中印、中缅两国关系的基本原则。1955 年，周恩来在万隆会议上提出“求同存异”的方针，促进了会议的圆满成功，加强了中国同亚非各国的团结与合作。

(3) 从两极格局到多极化趋势。启示我们要构建以合作共赢为核心的新型国际关系，打造人类命运共同体。

**【考点】** 新中国成立以来外交政策和外交成就，经济全球化、世界多极化、和平与发展

**【解析】** **【分析】** (1) 本题考查巴黎和会的相关知识。中国代表在巴黎和会上要求收回大战期间被日本侵占的德国在山东的一切权益，和会竟不顾中国的反对和抗议，决定把德国在山东的一切非法权益移交给日本，这激起了中国人民的无比愤怒，引发了五四爱国运动。

(2) 本题考查新中国的外交政策。根据所学知识可知，“不承认国民党政府同各国建立的旧的外交关系，而要在新的基础上同各国另行建立亲的关系”可知，新中国成立后，中共“另起炉灶”，不承认国民党政府同各国建立的旧的外交关系，在独立自主的基础上同各国另行建立新的外交关系。1953 年底周恩来在接见印度代表团时首次提出和平共处五项原则。1954 年，周恩来总理在访问印度、缅甸时与两国总理共同倡导和平共处五项原则。内容是互相尊重主权和领土完整、互不侵犯、互不干涉内政、平等互利、和平共处。和平共处五项原则在国际上产生深远影响，被世界上越来越多的国家所接受，成为处理国与国之间关系的基本准则。1955 年，在印度尼西亚的万隆召开了万隆会

议，周恩来提出“求同存异”方针，促进万隆会议的圆满成功；促进了中国同亚洲各国的团结与合作，使中国赢得与会国的理解和尊重。

(3) 本题考查世界政治格局的相关知识。中法建交于1964年，联系所学知识，二战结束后，美国的经济、军事实力居于世界第一位，它称霸世界的野心日益膨胀，但美国又不得不正视苏联等社会主义国家；于是，美国带领西方资本主义国家，对苏联对社会主义国家采取了除武装进攻之外的一切手段的敌对行动，以“遏制”共产主义，从而形成了两极格局。1991年，苏联解体，美苏两极格局随之结束；当今的世界政治格局朝着多极化的趋势发展。第二问是开放型题目，考查的是学生开放性思维的能力，只要符合题意，言之有理即可。如：启示我们要构建以合作共赢为核心的新型国际关系，打造人类命运共同体。

故答案为：(1) 中国的正当要求被拒绝，巴黎和会将德国在中国山东的一切权益转让给日本，这严重损害了中国的主权。

(2) “另起炉灶”。1953年，周恩来在接见印度代表团时首次提出和平共处五项原则，作为处理两国关系的原则。1954年，周恩来访问印度和缅甸。中国分别与印度、缅甸发表联合声明，双方一致同意，以和平共处五项原则作为指导中印、中缅两国关系的基本原则。1955年，周恩来在万隆会议上提出“求同存异”的方针，促进了会议的圆满成功，加强了中国同亚非各国的团结与合作。

(3) 从两极格局到多极化趋势。启示我们要构建以合作共赢为核心的新型国际关系，打造人类命运共同体。

【点评】本题难度适中，考查巴黎和会的内容、新中国的外交政策、世界政治格局等相关知识及学生开放性思维的能力。

31. 2018年，中国都江堰、灵渠、姜席堰、长渠4个项目被列入世界灌溉工程遗产名录。阅读下列材料，回答问题。

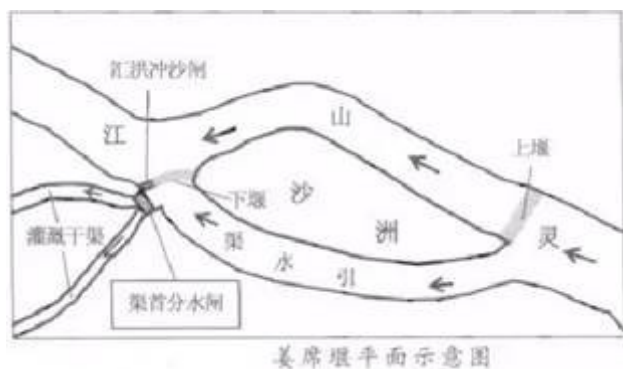
材料一：灌溉工程技术的进步，对农业生产的促进作用巨大……唐中期至五代时期，江南水网圩田技术发展很快……于是“低田常无水患，高田常无旱灾”。

——张芳《中国古代灌溉工程技术史》

材料二：安史之乱后，黄河流域陷入长期藩镇割据混战中，此时的南方保持了相对稳定，北方人口大量南移。南方掀起了水利建设的高潮，水稻生产技术逐步提高，有力地推动了南方农业的发展，加速经济重心南移。

——摘编自齐涛《中国古代经济史》

材料三：姜席堰位于钱塘江支流灵山江，由上堰（姜堰）、引水渠、下堰（席堰）及渠首分水闸等部分组成。



- (1) 说说材料一中“灌溉工程”对农业生产的促进作用。
- (2) 根据材料二，分析我国古代经济重心南移的原因。
- (3) 由于夏季风具有\_\_\_\_\_，使得灵山江流域夏秋季降水量具有年际差异大的特点。说明这一特点对当地农业生产的影响是\_\_\_\_\_。
- (4) 依据材料三，说明渠首分水闸的主要功能。

**【答案】** (1) 旱涝保收。

(2) 北方战乱，南方相对安定；北方人口大量南迁，给南方带来大量劳动力和先进生产技术；南方水利的兴建和农业生产技术的提高，促进了南方农业的发展。

(3) 不稳定性；降水多的年份易发水灾，毁坏农田，影响农业生产；降水少的年份，易发旱灾，影响当地农作物生长

(4) 控制河水进入灌溉干渠，调控进入各灌溉干渠的水量。

**【考点】** 中国的地形、气候，评价历史事件和历史人物

**【解析】** 【分析】 (1) 本题考查“灌溉工程”对农业生产的促进作用。根据材料一中的“……低田常无水患，高田常无旱灾”。可见“灌溉工程”使农业生产旱涝保收。

(2) 本题考查我国古代经济重心南移的原因。材料一“安史之乱后，黄河流域陷入长期藩镇割据混战中，此时的南方保持了相对稳定”说明了经济重心南移的原因是北方战乱较多，而南方相对安定；材料一“南方掀起了水利建设的高潮，水稻生产技术逐步提高”说明了经济重心南移的原因是：北方人口大量南迁，给南方带来大量劳动力和先进生产技术；材料一“水稻生产技术逐步提高，有力地推动了南方农业的发展，加速经济重心南移。”说明了经济重心南移的原因是：南方水利的兴建和农业生产技术的提高，促进了南方农业的发展。

(3) 亚洲夏季风的不稳定性，主要体现在有些年份过强，有些年份过弱；夏季风过强的年份，夏季风来得早，退得晚，雨季过长，会造成洪涝灾害；夏季风过弱的年份，夏季风来得晚，退得早，雨季过短，会造成干旱灾害。

(4) 渠首分水闸的主要功能是控制河水进入灌溉干渠，调控进入各灌溉干渠的水量。

故答案为：(1) 旱涝保收。

(2) 北方战乱，南方相对安定；北方人口大量南迁，给南方带来大量劳动力和先进生产技术；南方水利的兴建和农业生产技术的提高，促进了南方农业的发展。

(3) 不稳定性；降水多的年份易发水灾，毁坏农田，影响农业生产；降水少的年份，易发旱灾，影响当地农作物生长。

(4) 控制河水进入灌溉干渠，调控进入各灌溉干渠的水量。

【点评】本题难度适中，以“2018年，中国都江堰、灵渠、姜席堰、长渠4个项目被列入世界灌溉工程遗产名录。”为依托，考查我国古代经济重心南移的原因等相关知识及学生的归纳概括能力。

32. 阅读下列材料，回答问题。

王某在地铁上吃东西时乱扔垃圾。面对其他乘客的劝阻，她不但听还把食品包装袋丢弃在车厢，随后扬长而去。这种行为破坏了乘车环境，扰乱了地铁正常的乘车秩序。公安机关依据《治安管理处罚法》对王某处以行政拘留。

(1) 根据违反法律的类别，该案例中王某的行为属于哪一类违法行为？请阐明理由。

(2) 针对王某的行为，有网友评论：“这种人的‘病’需要法律来治，没有法治就无所谓自由。”结合材料，运用“无法治不自由”的知识评析这一观点。

【答案】 (1) 属于行政违法行为。王某在地铁上乱扔垃圾不听劝阻的行为扰乱了乘车秩序，对社会造成了一定的危害；违反了治安管理处罚法的相关规定；受到了行政处罚。

(2) 该观点是正确的。法治标定了自由的界限，王某的行为触碰了法律的红线，付出了失去自由的代价。法治是自由的保障，用法律来治这种人的“病”，其实是保障了其他乘客合法的自由和权利。

【考点】违法行为的含义及其分类，权利和义务

【解析】 【分析】 (1) 从王某的行为 违反了《治安管理处罚法》可知其行为属于行政违法行为。原因可以从 王某行为扰乱了乘车秩序，对社会造成了一定的危害，违反了治安管理处罚法的相关规定，受到了行政处罚等方面进行分析说明即可。

(2) 题干中的观点是正确的，原因可以从法治标定了自由的界限，法治是自由的保障两方面结合材料进行回答即可。

【点评】本题考查对违法行为和法治与自由的关系等相关知识的理解和运用，主要考查学生利用所学知识分析问题和解决问题的能力，难度值一般。

33. 改革开放 40 多年来，杭州发生了翻天覆地的变化。阅读下列材料，回答问题。

材料一：发端于政府简政放权，着力于办事流程简化，服务于广大群众的杭州“最多跑一次”改革再出新招，老百姓只需用手机登录平台，便能得知办理结果，实现了从“最多跑一次”到“一次不用跑”。

材料二：杭州市 X 村过去是一个“土墙房，半年粮”的穷山窝。在村委会的引导下，当地村民运用科技手段建起了葡萄种植大棚，科学控温控湿，提高了经济效益。X 村还抓住县里绿道建设的机遇，

大力发展旅游业，成为乡村振兴的典范。

材料三：近年来，杭州的农村文化礼堂蓬勃发展。Y村立足现有文化资源，以忠孝文化为魂，积极传承优秀传统文化。他们还结合本村实际开展“社会主义核心价值观进礼堂”等活动，并通过村村结对，互学互鉴，弘扬了时代精神。这些举措增强了农村文化礼堂的生命力，坚定了文化自信。

(1) 推进“最多跑一次”改革有什么现实意义？体现的政府宗旨是什么？

	现实意义
政府角度	_____
人民角度	_____
社会角度	_____
政府宗旨：	_____

(2) X村的做法体现了“创新、协调、绿色、开放、共享”发展理念中的哪两项？选择其中一项，说明X村是如何践行该理念的。

(3) 运用“守望精神家园”的相关知识，结合材料，分析Y村的文化建设举措为什么能够坚定文化自信。

**【答案】** (1) 简化办事流程，提高行政效率，有利于建设人民满意的服务型政府；方便人民群众办事，提升人民的获得感、幸福感，增进民生福祉；促进社会公平正义，构建和谐社会；为人民服务

(2) X村的做法体现了创新、绿色的发展理念。X村运用科技手段建起了葡萄种植大棚，提高了经济效益，体现了创新发展理念。X村抓住绿道建设的机遇，大力发展旅游业，体现了绿色发展理念。

(3) Y村立足现有文化资源，积极传承优秀传统文化，夯实了传统文化根基。结合本村实际开展“社会主义核心价值观进礼堂”等活动，推动了中华优秀传统文化与时俱进。通过村村结对，互学互鉴，使中华文化在交流互鉴中丰富发展，从而坚定了文化自信。

**【考点】** 可持续发展，社会主义精神文明建设，实施科教兴国战略

**【解析】** **【分析】** (1) 政府的角可以从简化办事流程，提高行政效率，有利于建设人民满意的服务型政府等方面回答。

人民的角可以从方便人民群众办事，提升人民获得感、幸福感，增进民生福祉等方面回答。

社会角可以从公平正义和构建和谐社会等方面回答。

政府的宗旨根据所学，是为人民服务。

(2) 分析题干材料可知X村体现创新、绿色的发展理念，具体如何践行可以找到材料中的关键信息进行分析说明，即：X村运用科技手段建起了葡萄种植大棚，提高了经济效益，体现了创新发展理念。X村抓住绿道建设的机遇，大力发展旅游业，体现了绿色发展理念。

(3) 本题可以从积极传承优秀传统文化，夯实了传统文化根基。推动了中华优秀传统文化与时俱进，及文化的交流互鉴等方面进行分析说明即可。

【点评】本题考查对建设法治政府，创新、可持续发展和文化自信等相关知识的理解和运用，主要考查学生利用所学知识分析问题和解决问题的能力，难度值一般。

## 试卷分析部分

### 1. 试卷总体分布分析

总分：100分		
分值分布	客观题 (占比)	46 (46.0%)
	主观题 (占比)	54 (54.0%)
题量分布	客观题 (占比)	26 (78.8%)
	主观题 (占比)	7 (21.2%)

### 2. 试卷题量分布分析

大题题型	题目量 (占比)	分值 (占比)
判断题 (6 小题, 每小题 1 分, 共 6 分)	6 (18.2%)	6 (6.0%)
选择题 (24 小题, 每小题 2 分, 共 48 分)	22 (66.7%)	48 (48.0%)
非选择题 (5 小题, 共 46 分)	5 (15.2%)	46 (46.0%)

### 3. 试卷难度结构分析

序号	难易度	占比
----	-----	----

1	容易	3%
2	普通	97%
3	困难	0%

#### 4. 试卷知识点分析

序号	知识点 (认知水平)	分值 (占比)	对应题号
1	塑造良好道德	1 (0.6%)	1
2	党的领导与人民当家 做主	4 (2.5%)	2,4,26
3	依法治国与依法参与 政治生活	3 (1.8%)	3,26
4	维护国家统一和民族 团结	1 (0.6%)	5
5	经济全球化、世界多 极化、和平与发展	11 (6.7%)	6,28,30
6	学会从地图和图表中 获取信息	4 (2.5%)	7,10
7	运用地图图表描述区 域自然环境和人文环 境的特点	16 (9.8%)	8,9,29

8	秦皇汉武、唐宗宋祖	2 (1.2%)	11
9	改革开放前新中国成长的曲折历程	2 (1.2%)	12
10	解放战争	2 (1.2%)	12
11	中国共产党诞生、中国特色革命道路的开辟	2 (1.2%)	12
12	抗日战争	2 (1.2%)	13
13	近代列强对中国的主要侵略活动	2 (1.2%)	14
14	日本明治维新	2 (1.2%)	14
15	英法美资产阶级革命	2 (1.2%)	14
16	工业革命	2 (1.2%)	15
17	第二次世界大战	2 (1.2%)	16
18	2019 年时事	4 (2.5%)	17,18
19	权利和义务	13 (8.0%)	19,22,32
20	珍爱和尊重生命	2 (1.2%)	19
21	法律对未成年人的特	2 (1.2%)	20

	殊保护		
22	诚信	2 (1.2%)	21
23	宪法与普通法律	4 (2.5%)	23,27
24	公民受教育的权利与义务	2 (1.2%)	24
25	我国现阶段的经济制度	2 (1.2%)	25
26	法律维护公民的人身自由、人格尊严和个人隐私	2 (1.2%)	27
27	新中国成立以来外交政策和外交成就	8 (4.9%)	30
28	中国的地形、气候	10 (6.1%)	31
29	评价历史事件和历史人物	10 (6.1%)	31
30	违法行为的含义及其分类	9 (5.5%)	32
31	实施科教兴国战略	11 (6.7%)	33
32	社会主义精神文明建设	11 (6.7%)	33

33	可持续发展	11 (6.7%)	33
----	-------	-----------	----

# 积分超值换

活动时间：2019年4月23日-6月30日  
活动对象：中小学一线教师以及教育工作者



扫一扫 换礼啦

积 分 兑 换 更 超 值



## 会员升级服务第一拨 · 清北季



神马，有清华北大学霸方法论课；还有清华学霸向所有的父母亲述自己求学之路；  
衡水名校试卷悄悄的上线了；  
扫qq领取官网不首发课程，很多人我没告诉他啊！  
会员qq专享等你来撩.....

