

## 浙江省宁波市 2019 年中考社会法治试卷

### 一、选择题（15 小题，每小题 2 分，共 30 分）

1.2018 年 11 月 5 日开幕的首届中国国际进口博览会是国际贸易发展史上的一大创举。其主题为（ ）

- A. 不让一个掉队      B. 齐心共建美好未来      C. 新时代，共享未来      D. 合作共建和谐世界

【答案】 C

【考点】 2018 年时事

【解析】 【分析】 根据时事， 2018 年 11 月 5 日开幕的首届中国国际进口博览会是国际贸易发展史上的一大创举。其主题为 新时代，共享未来，C 符合题意，正确。

ABD 不符合题意，排除。

故答案为：C。

【点评】 本题考查时政内容，解答该题需要多留心、多识记时政知识，做到“家事、国事、天下事，事事关心”。

2.2019 年 1 月 2 日《告台湾同胞书》发表 40 周年纪念会在北京举行。纪念会的举办（ ）

- A. 形成了两岸同胞血脉相连的精神纽带  
B. 打破了海峡两岸一直以来的隔绝状态  
C. 开启了两岸“三通”、和平发展的局面  
D. 重申了“解决台湾问题，实现祖国完全统一”这一历史任务

【答案】 D

【考点】 2019 年时事

【解析】 【分析】 根据时事， 2019 年 1 月 2 日《告台湾同胞书》发表 40 周年纪念会在北京举行，纪念会的举办 重申了“解决台湾问题，实现祖国完全统一”这一历史任务，D 符合题意，正确。

ABC 不符合题意，排除。

故答案为：D。

【点评】 本题考查时政内容，解答该题需要多留心、多识记时政知识，做到“家事、国事、天下事，事事关心”。

3.获得“改革先锋”称号的程开甲院士，是我国核武器事业的开拓者。他隐姓埋名 40 年，一生为国铸核盾。他的一生诠释（ ）

- A. 只有事业成功生命才有意义      B. 只有牺牲个人利益才能实现生命价值  
C. 默默无闻是丰盈生命的必备要素      D. 对国家和社会作出贡献的人生更精彩

【答案】 D

【考点】 塑造良好道德

【解析】 【分析】 从题干中的关键信息“一生为国铸核盾。”可知他的一生在为国家和社会作贡献，D符合题意，正确。

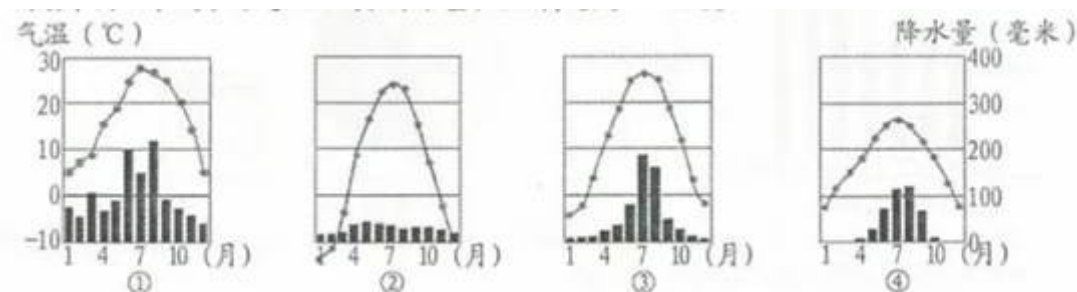
AB 观点太绝对，错误，应排除。

C 不符合题意，应排除。

故答案为：D。

【点评】 本题考查对创造生命的价值的认识，主要考查学生的理解能力，将个体生命和他人的、集体的、民族的、国家的甚至人类的命运联系在一起。生命便会从平凡中闪耀出伟大。

4. 阅读中国四个城市的气温曲线和降水量柱状图，完成小题。



(1) 与上图①②③④对应的城市依次为 ( )

- A. 北京、乌鲁木齐、上海、拉萨      B. 上海、乌鲁木齐、北京、拉萨  
C. 上海、拉萨、北京、乌鲁木齐      D. 北京、拉萨、乌鲁木齐、上海

(2) 造成①③两地气候差异的主要因素是 ( )

- A. 夏季风的影响      B. 地形的影响      C. 纬度的差异      D. 距离海洋远近的不同

【答案】 (1) B (2) C

【考点】 中国的地形、气候，学会从地图和图表中获取信息

【解析】 【分析】 (1) 在给出的气温曲线和降水柱状图中，根据以温定带，以水定型的规律，可以确定①是亚热带季风气候，②是温带大陆性气候，③温带季风气候，④是高山高原气候。因此，与上图①②③④对应的城市依次为上海、乌鲁木齐、北京、拉萨。ACD 不符合题意，B 项正确。

故答案为：B。

(2) ①③ 两地均属于季风气候，只是两地的热量带不同，与纬度有关。造成①③两地气候差异的主要因素是纬度的差异。

【点评】 在气温变化曲线和降水量柱状图中，一般横坐标轴表示月份，纵坐标轴左侧表示气温，右侧表示降水量，气温年变化用平滑的曲线表示，降水年变化用长方形柱状表示；观察气温曲线图，可以知道气温最高月和气温最低月，气温最高值和气温最低值，观察降水柱状图，可以知道降水集

中的月份和各月降水量。然后根据规律“以温定带，以水定型”进一步确定其气候类型。

5.2019年3月29日，英国议会第三次否决了英国政府与欧盟达成的“脱欧”协议。追溯历史，英国议会拥有国家最高权力是依据（ ）

- A. 《权利法案》            B. 《独立宣言》            C. 《1787年联邦宪法》            D. 《人权宣言》

【答案】 A

【考点】 英法美资产阶级革命

【解析】 【分析】 1689年，英国议会通过《权利法案》，确立了君主立宪制。在政治、财政、军事、外交方面对国王的权力做了一些限制，宣示了法律高于王权的原则，即用法律限制王权的原则，而法律由议会制定，宣示了议会高于王权的原则。

A项《权利法案》是英国议会拥有国家最高权力的依据，符合题意；

B项《独立宣言》是美国的文献，不符合题意；

C项《1787年联邦宪法》是美国的文献，不符合题意；

D项《人权宣言》是法国的文献，不符合题意；

故答案为A。

【点评】 本题难度较小，考查英国君主立宪制的相关知识及学生灵活运用所学知识的能力。

6.美国历史学家马士在《中华帝国对外关系史》一书中描述中国“已经达到了一个国家地位非常低落的阶段，低到只是保护了独立主权国家的极少的属性的地步了。”“国家地位非常低落”表现在（ ）

- A. 中国开始沦为半殖民地半封建社会    B. 中国半殖民地化程度大大加深了  
C. 清政府彻底堕落为“洋人的朝廷”    D. 帝国主义掀起了瓜分中国的狂潮

【答案】 C

【考点】 近代列强对中国的主要侵略活动

【解析】 【分析】 据所学知，1901年签订的《辛丑条约》中规定允许外国派兵驻扎北京到山海关铁路沿线要地，中国的广大地区置于列强的武力统治下，这说明了材料中中国“已经达到了一个国家地位非常低落的阶段，低到只是保持了独立主权国家的极少的属性的地步了。”《辛丑条约》的签订使清政府沦为帝国主义列强统治中国的工具，中国完全陷入半殖民地半封建社会的深渊。

ABD三项均和题干材料无关，不符合题意；

C项清政府彻底堕落为“洋人的朝廷”是“国家地位非常低落”的表现，符合题意；

故答案为C。

【点评】 本题难度适中，考查《辛丑条约》的相关知识及学生的理解能力。

7.“五四的火炬，唤起了民族的觉醒”。下列叙述能佐证这一观点的有（ ）

- ① 激发了青年的爱国热情    ② 马克思主义得到广泛传播

③ 加速了新文化运动的步伐 ④ 建立亚洲第一个共和制国家

A. ①②③

B. ①②④

C. ①③

④

D. ②③④

【答案】 A

【考点】 新文化运动和五四运动

【解析】 【分析】 五四运动是中国新民主主义革命的开端，激发了青年的爱国热情；五四运动促进了马克思主义在中国的广泛传播，加速了新文化运动的步伐；促进了马克思主义与中国工人运动相结合，从思想上和干部上为中国共产党的成立做了准备。①②③说法正确。1911年辛亥革命推翻了清政府的统治，结束了统治中国两千多年的君主专制制度；1912年建立了中华民国政府，确立了民主共和的政体，这是中国第一个共和制政府，故④错误。

A项①②③能佐证“五四的火炬，唤起了民族的觉醒”这一观点，符合题意；

故答案为A。

【点评】 本题难度适中，考查五四运动的相关知识及学生的理解能力。

8. 某校举办主题为“壮丽七十年，奋斗新时代”的图片展。以下适合参展的图片有（ ）



①虎门销烟



②开国大典



③小岗村的秘密契约



④雄安新区建设

A. ①②③

B. ①②④

C. ①③

④

D. ②③④

【答案】 D

【考点】 十一届三中全会、改革开放

【解析】 【分析】 根据题干中的“壮丽七十年”可知，指的是新中国成立以来的70年，①虎门销烟距今180周年，1839年6月3日，林则徐下令将缴获的鸦片，在虎门海滩当众销毁，虎门销烟是禁烟斗争的伟大胜利，显示了中华民族反抗外来侵略的坚强意志。故①排除。

D项②③④都是新中国成立以来的70年取得的成就，适合参展，符合题意；

故答案为D。

【点评】 本题难度适中，考查新中国成立以来的70年取得的成就及学生的理解能力。

9. 2019年，第二届“一带一路”国际合作高峰论坛、世界园艺博览会、亚洲文明对话大会相继在北京举行。这些活动体现了心（ ）

① 中国深化改革、坚持对外开放的基本国策 ② 世界政治格局多极化已经形成

③ 中国成为引领世界发展潮流的强国 ④ 中国与世界各国共享发展机遇

A. ①②

B. ②③

C. ①④

D. ③④

**【答案】** C

**【考点】** 新中国成立以来外交政策和外交成就

**【解析】** 【分析】第二届“一带一路”国际合作高峰论坛于2019年4月25日至27日在北京举行，与会各国领导人和国际组织负责人围绕“共建‘一带一路’、开创美好未来”的主题深入讨论，完善了合作理念，明确了合作重点，强化了合作机制；世界园艺博览会、亚洲文明对话大会相继在北京举行，都说明中国始终坚持深化改革、坚持对外开放的基本国策；中国与世界各国共享发展机遇。①④符合题意。②世界政治格局多极化已经形成说法错误，当前世界政治格局多极化仍是一种趋势；③中国成为引领世界发展潮流的强国材料中不能体现；故②③不符合题意。

故答案为C。

**【点评】** 本题难度适中，考查学生的理解能力。

10. 教育部等三部委规定自2019年4月1日起我国所有中小学幼儿园开始实行校长陪餐制度，出台这一规定体现了对未成年人的，（ ）

A. 家庭保护

B. 社会保护

C. 学校保护

D.

司法保护

**【答案】** B

**【考点】** 法律对未成年人的特殊保护

**【解析】** 【分析】社会保护是指各社会团体，企事业单位和其他组织及公民，对未成年人实施的保护。教育部等三部委规定自2019年4月1日起我国所有中小学幼儿园开始实行校长陪餐制度，是社会各部门对未成年人健康成长的保护，属于社会保护的内容，B符合题意，正确。

ACD不符合题意，排除。

故答案为：B。

**【点评】** 本题考查对社会保护的认识，主要考查学生的理解能力，我国对未成年人构筑起家庭保护、学校保护、社会保护和司法保护的四道防线，形成全社会关心、保护未成年人的有效机制和良好风尚。

11. 小明搜集了“外来物种入侵”“反间谍法”“南海可燃冰试采成功”“凉山救火英雄”等资料为演讲作准备。据此推测小明演讲的主题最有可能是（ ）

A. 坚定文化自信

B. 坚持绿色发展道路

C. 做守法公民

D. 树立总体国家

安全观

**【答案】** D

**【考点】** 权利和义务

**【解析】**【分析】根据所民学，面对国家安全形势的新变化，我们要构建集政治安全、国土安全、军事安全、经济安全、文化安全、社会安全、科技安全、信息安全、生态安全、资源安全、核安全等于一体的国家安全体系。从材料中“外来物种入侵”“反间谍法”“南海可燃冰试采成功”“凉山救火英雄”的资源可知主题可能是树立总体国家安全观，D符合题意，正确。

ABC与题干中的材料不符合，应排除。

故答案为：D。

**【点评】**本题考查对总体国家安全观的认识，主要考查学生的理解能力，坚持总体国家安全观，要以人民安全为宗旨，以政治安全为根本，以经济安全为基础，以军事、文化、社会安全为保障，以促进国际安全为依托，走出一条中国特色国家安全道路。

12.“咱们国家根本法，法律效力她至上。国家权力属人民，当家作主心欢畅。”这首诗歌反映我国宪法（ ）

- ①是一切组织和个人的根本活动准则 ②要完善监督制度、健全监督机制和程序  
③是其他法律的立法基础和立法依据 ④以一切权力属于人民为原则

A. ①②③ B. ①②④ C. ①③

④ D. ②③④

**【答案】** C

**【考点】**宪法与普通法律

**【解析】**【分析】国家权力属人民，当家作主心欢畅。说明我国宪法以一切权力属于人民为原则。咱们国家根本法，法律效力她至上，说明宪法是其他法律的立法基础和立法依据，是一切组织和个人的根本活动准则，①③④符合题意，正确。

②不符合题意，题干材料没有体现监督制度的内容，应排除。

故答案为：C。

**【点评】**本题考查对宪法的地位和基本原则的认识，主要考查学生的理解能力，本题解题的关键在于排除不符合题意的干扰选项，据此可以选出正确的答案。

13.“有事多协商、遇事多协商、做事多协商”，逐渐成为具有宁波特色的基层社会治理新路径。这条“宁波路径”反映的民主形式和民主制度分别是（ ）

- A. 协商民主、基层群众自治制度 B. 人民民主、民族区域自治制度  
C. 新型民主、政治协商制度 D. 选举民主、人民代表大会制度

**【答案】** A

**【考点】**党的领导与人民当家做主

**【解析】**【分析】从题干材料中“有事多协商、遇事多协商、做事多协商”可知，反映的是协商民主。从题干材料中关键信息“具有宁波特色的基层社会治理新路径”说明体现的民主制度是基层群众自治



(3) 请你为该村达成“富裕、文明、宜居”的目标各提出一项具体措施。

【答案】 (1) 图 1：村民收入大幅增多；图 2：旅游人数快速增加。

(2) 利用抗战旧址等资源，发展红色旅游经济；种植水果和苗木等，因地制宜发展农业或发展生态旅游业；科技兴农，发展现代农业；合理规划空间布局建设宜居乡村；建设乡村大舞台，推动乡村文化发展；完善路、桥、酒店等基础设施建设；农、林、旅游业等同步发展使产业结构多元化；发挥基层党组织的领导作用。

(3) 富裕：例 1：开发特色农产品，挖掘品牌效应。例 2：党员干部结对贫困户，精准扶贫，实现共同富裕。

文明：例 1：制定村规民约，文明接待游客。例 2：村务公开，接受村民监督。

宜居：例 1：公共场所放置分类垃圾桶，专人清理，保持环境卫生。例 2：开展青年与空巢老人结对帮扶活动，促进邻里友好互助关系。

【考点】运用地图图表描述区域自然环境和人文环境的特点



【解析】 【分析】 (1) 分析图 1 可知，主要反应该村年人均收入有了大幅度的提高；分析图 2，该村发生的变化是年旅游人数增加达 70 万人，即旅游人数快速增加。

(2) 根据图 3 给出的信息来看，该村进行了合理规划。因地制宜发展农业，规划和兴建了经济林。农业是基础，在发展的农业的同时，利用抗战遗址发展了红色旅游，使产业结构多元化。发挥党组织的领导作用，完善了乡村基础设施建设，建设富裕、文明、宜居的美丽乡村。

(3) 根据题意分析，富裕即是增加农民收入上做文章，可以因地制宜，利用现有优势，开发特色农产品；文明，即加强文化建设，提高农民的整体素质，也可以是村务公开，真正当家做主；宜居，即创造美丽乡村，增加基础设施建设，服务于农民。

【点评】中共十九大报告提出，实施乡村振兴战略。按照产业兴旺、生态宜居、乡风文明、治理有效、生活富裕的总要求，建立健全城乡融合发展体制机制和政策体系，加快推进农业农村现代化。

16.文物是历史的见证，文物会“说话”。阅读图文，回答问题。

 <p>我叫玻璃碗。拥有罗马血统，汉时伴着驼铃声来到中国。我骄傲，我是中国迄今出土最早的罗马玻璃器皿，是文明交流的见证</p>	 <p>我是南宋持罗盘陶俑。我手里的这件“神器”曾一路向西传到欧洲，是大海航行的“定海神针”。我自豪，我是世</p>	
--	---	---

界最早的持罗盘实物造型。

- (1) 请推测图 1 琉璃碗通过哪条商路来到中国，并概述当时该商路上的中西贸易状况。
- (2) 图 2 陶俑手中的“神器”指哪项发明？并以此发明为例说明宋元科技成就对世界的影响。
- (3) 如果图 3 的三彩骆驼载乐俑参加“世界文明交流互鉴”主题展，请你设计介绍词。

**【答案】** (1) 丝绸之路。丝绸之路开辟后，中西贸易日益活跃。中国的丝和丝织品，从长安往西，经过河西走廊、今天新疆境内，运到西亚，再由西亚转运到欧洲。欧洲和西亚的商品也沿着这条道路抵达中国。

(2) 指南针（或罗盘针）。指南针广泛用于航海，促进南宋海外贸易，外国人到中国都喜欢搭乘中国的海船，有利于中外联系、交流；由阿拉伯人传入欧洲，为后来欧洲航海家的航海活动创造了条件；为推动世界文明的发展和人类社会的进步作出了突出贡献。

(3) 我是三彩骆驼载乐俑，是唐代陶瓷制造中极富特色的一种，是闻名于世的艺术珍品。我背上驮着的乐俑有着中亚、西亚人的容貌。我是中西文明交流的见证。

**【考点】** 秦皇汉武、唐宗宋祖

**【解析】** 【分析】 (1) 本题考查丝绸之路的相关知识。根据材料中的“汉时伴着驼铃声来到中国”等信息可知图 1 琉璃碗通过丝绸之路来到中国。通过丝绸之路，商人们把中国的丝绸、瓷器等商品，从长安经河西走廊、今新疆地区，运往西亚，再转运到欧洲，又把西域各国的奇珍异宝输入中国内地，丝绸之路促进了东西方经济和文化的交流。

(2) 本题考查宋元科技成就的相关知识。根据材料中的“我是南宋持罗盘陶俑”等信息可知图 2 陶俑手中的“神器”指指南针（或罗盘针）。指南针一经发明，很快就应用到航海上；南宋时，指南针经由阿拉伯人传入欧洲，为新大陆发现和环球航行提供了重要条件。

(3) 本题考查学生的综合运用能力，属于开放性问题，学生言之有理即可。如我是三彩骆驼载乐俑，是唐代陶瓷制造中极富特色的一种，是闻名于世的艺术珍品。我背上驮着的乐俑有着中亚、西亚人的容貌。我是中西文明交流的见证。

故答案为：(1) 丝绸之路。丝绸之路开辟后，中西贸易日益活跃。中国的丝和丝织品，从长安往西，经过河西走廊、今天新疆境内，运到西亚，再由西亚转运到欧洲。欧洲和西亚的商品也沿着这条道路抵达中国。

(2) 指南针（或罗盘针）。指南针广泛用于航海，促进南宋海外贸易，外国人到中国都喜欢搭乘中国的海船，有利于中外联系、交流；由阿拉伯人传入欧洲，为后来欧洲航海家的航海活动创造了条件；为推动世界文明的发展和人类社会的进步作出了突出贡献。

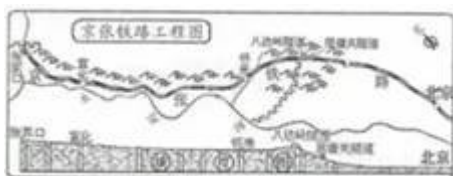
(3) 我是三彩骆驼载乐俑，是唐代陶瓷制造中极富特色的一种，是闻名于世的艺术珍品。我背上驮着的乐俑有着中亚、西亚人的容貌。我是中西文明交流的见证。

【点评】 本题难度适中，以“文物”为依托，考查丝绸之路、唐三彩、宋元科技成就等相关知识。

17. 阅读材料，回答问题。

材料一：百年前，中国首次自主设计并建成了施工难度极大的京张铁路，震惊中外。该铁路由詹天佑主持修建。他曾于 1872—1881 年官派赴美留学，专习铁路工程。

材料二：百年后，在同一个起点和终点，中国铁路人正在创造新的奇迹，树起中国高铁建设新标杆——京张高铁首次在全世界全线采用智能技术建造；首次采用“品”字型施工法，开挖世界上最大最深最难的地下高铁车站；在世界上首次实现时速 350 公里的自动驾驶功能；首次采用我国自主研发的北斗卫星导航系统确保运行安全……



- (1) 读上图判断该铁路的主体走向，并从地形类型和地势特点角度分析其修建难度高的原因。
- (2) 詹天佑赴美留学与我国哪一场历史运动有关？该运动为京张铁路的建成提供了哪些有利条件？
- (3) 根据材料二概括京张高铁成为我国高铁建设“新标杆”的理由。
- (4) 跨越百年，中国铁路人身上的哪些品质让你赞叹？

【答案】 (1) 西北——东南走向。地形以山地为主；地势坡度大。

(2) 洋务运动。洋务运动学习和引进了西方的先进科技，为京张铁路的建成提供了技术；选派留学生出国深造，创办新式学校，培养了人才；兴办的各种新式民用工业，促进了中国近代民族工业的初步发展，提供一定的资金和设备保障。

(3) 采用了多项自主创新的、具有世界先进水平的新技术。

(4) 我为中国铁路人的不畏困难自主创新造福人民的精神而感到自豪。

【考点】 洋务运动

【解析】 【分析】 (1) 本题考查京张铁路的相关知识。京张铁路是从北京北至张家口的铁路，总体呈西北——东南走向。当年修建京张铁路最困难的一段是南口至八达岭一带的，地形以山地为主，不当地势险峻，而且坡度很大。

(2) 本题考查洋务运动的相关知识。根据材料一中的“他曾于 1872—1881 年官派赴美留学，专习铁路工程”等信息，联系所学知识可知，19 世纪 60 年代到 90 年代中期，清朝统治集团内部一些比较开明的官员即洋务派掀起了一场旨在“自强”“求富”的洋务运动。洋务运动引进了西方先进的科学技术，创办了一批近代军事工业和民用工业，客观上促进了中国民族资本主义的产生和发展，既为京张铁路的建成提供了技术，又积累了资金。为了适应洋务运动的需要，洋务派创办了新式学校，

选送留学生楚国深造，培养了一批翻译、军事和科技人才。

(3) 本题考查京张高铁成为我国高铁建设“新标杆”的理由及学生准确解读历史材料的能力。材料二中的“京张高铁首次在全世界全线采用智能技术建造；首次采用“品”字型施工法，开挖世界上最大最深最难的地下高铁车站；在全世界首次实现时速 350 公里的自动驾驶功能；首次采用我国自主研发的北斗卫星导航系统确保运行安全……”表明京张高铁成为我国高铁建设“新标杆”是因为采用了多项自主创新的、具有世界先进水平的新技术。

(4) 本题考查中国铁路人身上的优秀品质，属于开放性问题，学生言之有理即可。如我为中国铁路人的不畏困难自主创新造福人民的精神而感到自豪。

故答案为：(1) 西北——东南走向。地形以山地为主；地势坡度大。

(2) 洋务运动。洋务运动学习和引进了西方的先进科技，为京张铁路的建成提供了技术；选派留学生出国深造，创办新式学校，培养了人才；兴办的各种新式民用工业，促进了中国近代民族工业的初步发展，提供一定的资金和设备保障。

(3) 采用了多项自主创新的、具有世界先进水平的新技术。

(4) 我为中国铁路人的不畏困难自主创新造福人民的精神而感到自豪。

【点评】本题难度适中，考查京张铁路及洋务运动等相关知识。

18. 阅读材料，回答问题。

以毛某某为首的涉黑涉恶团伙，因聚众斗殴、非法拘禁、开设赌场、非法持有枪支等行为被奉化区警方抓获。检察机关对此案提起公诉，法院公开审理，以组织、领导黑社会性质组织罪、赌博罪等数罪并罚，判处毛某某有期徒刑二十年，剥夺政治权利二年，没收个人全部财产，罚金三百万元；团伙其他成员也受到相应处罚。对这一典型案例媒体及时跟进报道。市民纷纷点赞“扫黑除恶”行动，表示法治社会人人都应遵守法律。

(1) 毛某某的行为性质是什么？请写出你判断的依据。

(2) 请说明材料中的不同社会主体在厉行法治中是怎样行动的。

(3) 从法律作用的角度谈谈“扫黑除恶”的重要意义。

【答案】 (1) 犯罪。具有严重社会危害性、刑事违法性、应受刑罚处罚性。

(2) 警方（行政机关）严格执法；检察院、法院（司法机关）公正司法；媒体加强法治宣传，弘扬法治精神；公民做到尊重法律、遵守法律。

(3) 法律具有规范和保护作用。法律是社会成员的行为准绳和行为规范，扫黑除恶，厉行法治，就是警示我们可以做什么，应该做什么、不应该做什么，应该怎样做，不应该怎样做；扫黑除恶，惩治犯罪，有利于创造安全、健康、有序的社会环境，维护公民的合法权益，保护我们的生活。

【考点】 法律的特征和作用，犯罪的特征及危害，依法治国与依法参与政治生活

【解析】 【分析】 (1) 从题干材料中毛某某受到的刑罚的处罚来看，其行为是犯罪行为。原因可

以从犯罪的三大特征进行分析说明即可。

(2) 本题可以从警方(行政机关)严格执法;检察院、法院(司法机关)公正司法;媒体加强法治宣传,弘扬法治精神;公民做到尊重法律、遵守法律等方面进行分析说明。

(3) 本题要从法律的作用的角度进行分析,因此可以从规范作用 警示我们可以做什么,应该做什么、不应该做什么,应该怎样做,不应该怎样做,及保护作用惩治犯罪,有利于创造安全、健康、有序的社会环境,维护公民的合法权益,保护我们的生活等方面进行分析说明。

【点评】本题考查对犯罪,厉行法治,法律的作用等相关知识的理解和运用,主要考查学生利用所学知识分析问题和解决问题的能力,难度值中等。

19.阅读材料,回答问题。

材料一:垃圾是放错地方的资源。回收可利用的垃圾,实施循环经济是许多国家的共同选择。目前宁波市将生活垃圾按可回收物、厨余垃圾、有害垃圾、其他垃圾分成四类,并设置对应的蓝色、绿色、红色、黑色垃圾桶。

材料二:阅读“全国生活垃圾清运量”和“2017年全国城市生活垃圾处理情况”图表。

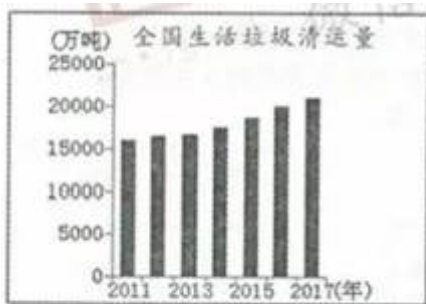


图1

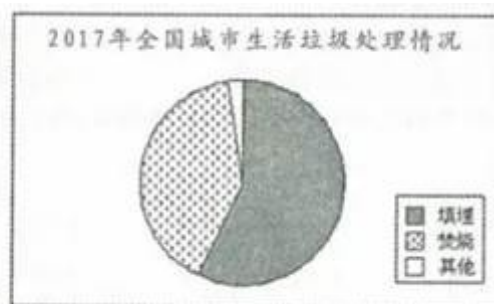


图2

材料三:某班举行“垃圾分类·谁的责任”主题班会,小宁和小雨发表了自己的观点。



(1) 请把下列生活垃圾分类。

- ① 玻璃 ② 果皮 ③ 餐中纸 ④ 剩菜  
⑤ 废灯管 ⑥ 旧报纸 ⑦ 过期药品 ⑧ 矿泉水瓶

(2) 请分别指出我国生活垃圾产生的趋势及处理的主要方法。并结合上述两则材料和所学知识,分析我国实施垃圾分类的必要性。

(3) 假如你是班级一员,请你发表自己的观点,并说明理由。

【答案】 (1) 蓝桶: ①⑥⑧; 绿桶: ②④; 红桶: ⑤⑦; 黑桶: ③。

(2) 趋势: 我国生活垃圾的总量逐年增加; 主要方式: 填埋、焚烧。

必要性: 垃圾总量大、增长快, 垃圾分类处理, 把可回收垃圾利用起来, 提高资源利用率 (资源

化)；使垃圾总量减少了减量化)；使焚烧填埋量减少，从而减少对环境的影响(减少对土地的侵占，减少对土壤、水体、空气的污染等。无害化)。

(3) 我的观点：垃圾分类是公民的责任。做好垃圾的分类投放是公民的义务。每个人要对自己产生的垃圾负责任。生态文明建设是一个长期的过程，离不开我们每一个人的参与和努力。只有人人关心并参与垃圾分类工作，才能使垃圾减量化、资源化。

或我的观点：垃圾分类是政府的责任。政府的宗旨是为人民服务，人们的社会生活需要政府管理。所以政府对垃圾分类要认真规划，宣传教育，落实相关法律法规，监督实施，强制执行。

或我的观点：垃圾分类既需要公民积极参与，也需要政府有所作为。

**【考点】**资源、环境问题及对策

**【解析】**【分析】(1) 本题可以从可回收物、厨余垃圾、有害垃圾、其他垃圾分成四类进行分类，据此，蓝桶：①⑥⑧；绿桶：②④；红桶：⑤⑦；黑桶：③。

(2) 分析数据可知，趋势：我国生活垃圾的总量逐年增加；主要方式：填埋、焚烧。

必要性可以从提高资源的利用就给，减少对环境的影响等方面进行分析。

(3) 观点可以从公民的责任，政府的责任等方面进行分析，原因可以从保护环境的义务，政府的宗旨，及责任等方面进行分析说明。

**【点评】**本题考查对节约资源，保护环境等相关知识的理解和运用，主要考查学生从材料中获取有效信息，利用所学知识分析问题和解决问题的能力，难度值中等。

## 试卷分析部分

### 1. 试卷总体分布分析

总分：80分		
分值分布	客观题 (占比)	26 (32.5%)
	主观题 (占比)	54 (67.5%)
题量分布	客观题 (占比)	13 (68.4%)
	主观题 (占比)	6 (31.6%)

### 2. 试卷题量分布分析

大题题型	题目量 (占比)	分值 (占比)
选择题 (15 小题, 每小题 2 分, 共 30 分)	14 (73.7%)	30 (37.5%)
非选择题 (5 小题, 共 50 分)	5 (26.3%)	50 (62.5%)

### 3. 试卷难度结构分析

序号	难易度	占比
1	容易	5.3%

2	普通	84.2%
3	困难	10.5%

#### 4. 试卷知识点分析

序号	知识点 (认知水平)	分值 (占比)	对应题号
1	2018 年时事	2 (1.9%)	1
2	2019 年时事	2 (1.9%)	2
3	塑造良好道德	2 (1.9%)	3
4	学会从地图和图表中 获取信息	4 (3.8%)	4
5	中国的地形、气候	4 (3.8%)	4
6	英法美资产阶级革命	2 (1.9%)	5
7	近代列强对中国的主要 侵略活动	2 (1.9%)	6
8	新文化运动和五四运 动	2 (1.9%)	7
9	十一届三中全会、改 革开放	2 (1.9%)	8
10	新中国成立以来的外	2 (1.9%)	9

	交政策和外交成就		
11	法律对未成年人的特殊保护	2 (1.9%)	10
12	权利和义务	2 (1.9%)	11
13	宪法与普通法律	2 (1.9%)	12
14	党的领导与人民当家做主	2 (1.9%)	13
15	元明清对统一多民族国家的发展的贡献	2 (1.9%)	14
16	运用地图图表描述区域自然环境和人文环境的特点	10 (9.6%)	15
17	秦皇汉武、唐宗宋祖	10 (9.6%)	16
18	洋务运动	10 (9.6%)	17
19	法律的特征和作用	10 (9.6%)	18
20	依法治国与依法参与政治生活	10 (9.6%)	18
21	犯罪的特征及危害	10 (9.6%)	18
22	资源、环境问题及对	10 (9.6%)	19

	策		
--	---	--	--

# 积分超值换

活动时间：2019年4月23日-6月30日

活动对象：中小学一线教师以及教育工作者



扫一扫 换礼啦

积 分 兑 换 更 超 值



## 会员升级服务第一拨 · 清北季



神马，有清华北大学霸方法论课；还有清华学霸向所有的父母亲述自己求学之路；

衡水名校试卷悄悄的上线了；

扫qq领取官网不首发课程，很多人我没告诉他啊！

会员qq专享等你来撩.....