

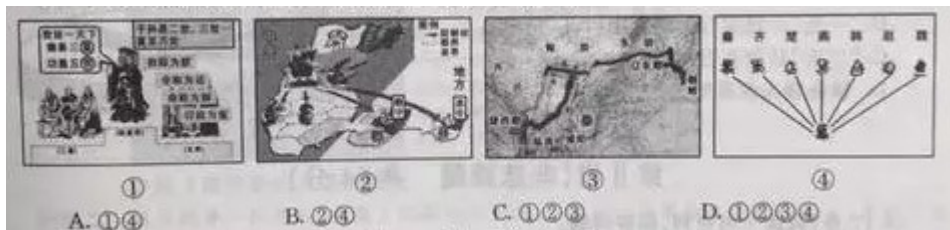
2016 陕西中考历史答案

历史部分

第 I 卷 (选择题 共 36 分)

A 卷

13. (2016·陕西, 13, 2分) 下列图片所体现的制度或措施属于秦始皇首创的是



14. 右图是近代中国四种经济成分——自然经济、洋务企业、民族企业、外资企业之间的关系示意图。图中序号依次对应的是

- A. 自然经济 民族企业 洋务企业 外资企业
- B. 外资企业 自然经济 民族企业 洋务企业**
- C. 洋务企业 外资企业 自然经济 民族企业
- D. 民族企业 洋务企业 外资企业 自然经济



15. 1918年11月, 蔡元培提出的“劳工神圣”、“今后世界, 全是劳工的世界”口号很快风靡全国。这说明

- A. 马克思主义已经成为思想主流
- B. 十月革命给中国带来了新希望
- C. “民主”和“科学”成为两面大旗
- D. 五四运动促进了新的思想解放

16. 右图是新航路开辟时的一位航海家的漫画, 此航海家双手将地球抱在胸前, 身后是即将远航的中世纪帆船。据图可知, 此航海家

- A. 第一次实现了人类跨越大西洋的愿望
- B. 是“新大陆”最早的发现者
- C. 最先发现通往亚洲的新航线
- D. 首次证明地圆学说的正确性**



中国和苏联(前)在社会主义建设中都取得过巨大成就。据此回答 17-18 题

17. 对下表反映的内容认识正确的是。

中国“一五”计划期间农、轻、重产值增长速度和比重变化表

行 业	增 长 速 度 比 重	1953-1957 年平均 增长速度 (%)	1953 年农轻重比例 (%)	1957 年重 比 例 (%)
农业		4.5	52.8	43.5
轻工业		12.8	29.6	29.2
重工业		25.4	17.6	27.3

① 农业生产增长相对缓慢 ② 国民经济调整任务完成 ③ 国民经济建设成就突出 ④ 重工业得到了优先发展

A . ①②③

B . ①③④

C . ①②④

D . ②③④

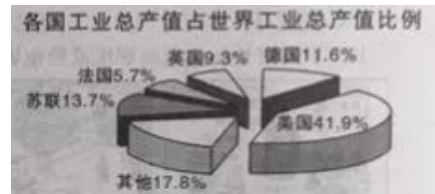
18. 由右图中的数据可判断出当时苏联正处

A . 新经济政策实施时期

B . “一五”计划实行时期

C . “二五”计划实行时期

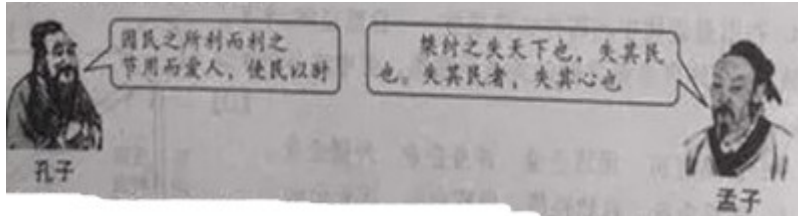
D . 赫鲁晓夫改革时期



第II卷 (非选择题 共64分)

19. (7分) 阅读下列材料, 回答问题。

材料一



材料二 房玄龄曰：“臣闻理国要道，在于公平正直，故《尚书》云：‘无偏无党，王道荡荡。无党无偏，王道平平。’又孔子称：‘举直错诸枉，则民服’。今圣虑所尚，诚足以极政教之源，尽直公之要，囊括区宇，化成天下。”唐太宗曰：“此直朕之所怀，岂有与卿等言之而不行也？”

材料三 (康熙) 为了化解当时最突出的满汉对峙问题……一方面保留汉族文化风俗，修纂明史，开设博学鸿儒科，招抚网罗汉族文人；另一方面则大兴文字狱……他在严申法纪的同时，尤其重视德治，以儒家理学思想对天下施以教化，要人们遵行礼法。

——摘编自《欧洲时报·周末特刊》(2003年8月23日)

(1) 材料一中两位思想家所处时代思想文化空前繁荣，思想领域出现 百家争鸣 (1分) 的活跃局面；材料中反映的思想不断发展，后世一些统治者也层提出类似主张，如教材引用唐太宗之言：君，舟也；人，水也；水能载舟，亦能覆舟 (1分)。从西汉昭帝到清康熙帝，历代帝王对孔子的加封、尊崇规格不断提高。这表明儒家思想的 正统地位 (1分) 得到不断强化。(3分)

(2) 选做题：以下两小题，请任选一个作答。(如果两个都答，按第①小题计分)

① 材料二中房玄龄的观点是什么？对唐朝的统治产生了怎样的影响？(2分)

② 依据材料三，归纳康熙帝的治国措施，结合所学知识分析其原因。(2分)

我选做：()

① 观点：重视吏治，认为官吏的公平正直是治国之要道。（1分）影响：这一思想被唐太宗接受，对贞观之治的吏治清明产生了重要影响。（1分）② 举措：保留汉族文化风俗与统治制度，招抚网络汉族文人；大兴文字狱，镇压汉族知识分子的反抗；礼法并用，用法律等约束人们的思想言行。（答出任意一点即可得1分）原因：维护封建君主专制统治；化解满汉民族对立；汉族统治制度和儒家理学思想先进。（答出任意一点即可得1分）

(3) 习近平总书记在讲话中多次引用儒学经典名句。两千多年来，儒学始终是中华民族的精神支柱，在今天仍有其价值。综合上述材料，结合所学知识，分析其原因。（2分）

原因：自身原因：自我调整，吸收其他学派优点；强调社会稳定和谐、强调个人道德修养和责任感；人才不断涌现，学术传承延续。（答出任意一点即可得1分）社会原因：政治和社会变革的需要；政府提倡与鼓励；官学、私学以儒家经典为教科书；广大民众追求和信奉。（答出任意一点即可得1分）

20. (10分) 阅读下列材料，回答问题。

材料一



材料二 鸦片战争一阵疾风，吹荡了沉寂的知识界，一批关心国家命运的仁人志士，看到了英美等国的政治体制与中国的不同之处：议会制度、总统禅让等。他们的思想深处，滋生着对民主制度的欣慕和对专制制度的不满之情。——熊月之《中国近代民主思想史》

(1) 材料一中文字所述“商船”采用何种动力？“给予”一词应如何理解？签订上图条约的这场战争前后，清政府对西方列强的态度有何变化？并对这种变化加以评析。（5分）

(2) 列举 20 世纪初先进的中国人因“对民主制度的欣慕”而提出的主张。依据材料二，结合所学知识，分析推动近代中国政治进步的因素。（3分）

(3) 综合上述材料，你对中国近代社会的总体发展有何认识？（2分）

21. (11分) 某校九年级(2)班同学以“科技与战争”为主题展开探究活动，请你参与。

【亚太战场】

材料一

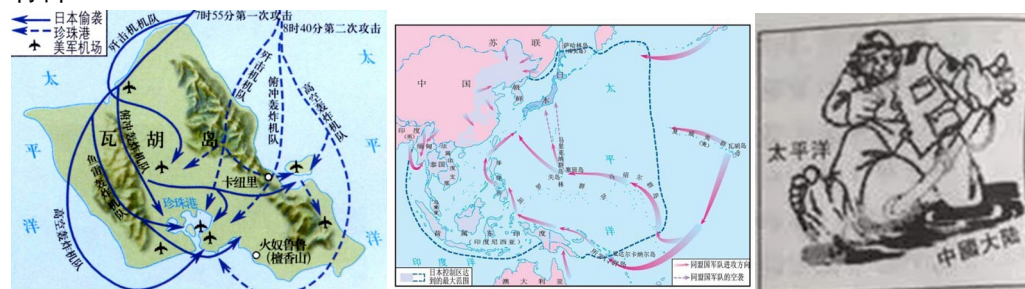


图 A

图 B

图 C

【科技威力】

材料二 原子弹是一种战争武器，从来没有人可以怀疑它……在决定使用原子弹时，我要依照战争法规确定的方式，把它当作战斗武器来应用。——《杜鲁门回忆录》

(2) 依据材料二，结合所学知识，分析美国使用原子弹对日作战的背景。日本有人认为，日本是世界上唯一遭受过原子弹袭击的国家，是第二次世界大战的受害者，对此你有何看法？(3分)

材料三 1950年，旅美科学家钱学森开始正确回归祖国，而当时美国海军次长金布尔说：钱学森无论走到哪里，都抵得上5个师的兵力，我宁可把他击毙在美国，也不能让他离开。1955年，在新中国的外交斡旋下，钱学森终于冲破种种阻力回到了祖国。国外评论家指出，“钱学森的归来，使红色中国的‘两弹一星’提前了20年”。

(3) 依据材料三，结合所学知识，分析美国阻挠钱学森回归祖国的原因。(2分)

原因：二战后，美国推行冷战政策；中美关系处于敌对状态；钱学森具有突出的科学才能
(答初任意两点即可得2分)

【科学前景】

材料四 唯一的世界科学中心这样的说法，或许将成为历史。未来的世界可以是多中心并存的世界。随着中国等快速发展国家的进步，世界科学的前景将得到极大的拓展，并加快科学发展的进程——最终受益的将是整个人类。——《中国能否取代美国成为世界科学中心》

(4) 对材料四中“唯一的世界科学中心这样的说法，或许将成为历史”这一观点加以说明。综合上述材料，总结人类社会发展科技与战争的关系。(3分)