

2020年郴州市初中学业水平考试试卷

历史

满分 100 分

一、选择题

1.五岭广场的神农雕像是郴州人民为纪念传说中炎帝的丰功伟绩而树立的。下列属于炎帝功绩的是

- A. 发明算盘 B. 教民冶铁 C. 教民耕种 D. 创造文字

2.某学习小组在整理中国古代政治制度 材料时，收取了“十年寒窗”“金榜题名”“连中三元”等关键词。这个学习小组研究的古代制度是

- A. 郡县制 B. 九品中正制 C. 三省六部制 D. 科举制

3.大流在洲可读)中记段。“我州(船上的技术人员)识地进夜回现量。开处提日、阴晦则观指南针”。从材料中可知这本书最早成书于

- A. 唐朝 B. 宋朝 C. 元朝 D. 明朝

4.2020年复学后出现在校园园中的“礼物”(左图)，它的设计来源于于宋朝的长翅帽(右图)。宋朝出现这种特定服饰是



- A. 为防止官员上朝时交头接耳 B. 服饰结构发展令核化、域仪化 象

- C. 为了区分官员和平民的身份 D. 宋朝官员为了防疫需要而采取的措施

5.以下是八年级历史兴趣小组帮助老师收集到的《中国共产党诞生》-课的材料，其中不能用于该课的是

- A. 《我的马克思主义观》 B. 南湖红船图片
C. 陈独秀像 D. 北伐战争形势图

6.家书是一种承载历史的特殊载体。1938年10月，一封由马来亚寄往晋江的家书中写道：“适逢环境恶劣，艰难得.咱国抗战当头，粮食高贵，壮丁费浩繁.咱被派壮丁费若难推辞，亦须看破”。从家书中可知当时

- A. 营商环境相对宽松，赚钱容易 B. 国内粮价稳定，物资充足

C. 国难当头，人民坚定支持抗战 D. 抗战士气低落，前途渺茫

7.在电影《建国大业》中有这样两个片段：片段一毛泽东：委员长和我都是中山先生的弟子，国共两党继承的是中山先生民主革命的衣钵。同宗同源，存续相依。片段二蒋介石：想和的时候可以和，想打的时候可以打。只有这样，我们说了才算数。上述两个片段反映的历史事件是

A. 芷江洽降 B. 重庆谈判 C. 占领南京 D. 开国大典

8.2018年9月在印度海德拉巴，一位印度父亲（吠舍）为了阻止女儿嫁给一位达利特（贱民）男孩，在光天化日下袭击了他们，并残忍地砍掉了女儿的手。导致这幕悲剧发生的原因是印度社会遗留的

A. 种姓制度 B. 采邑制度 C. 四等人制 D. 农奴制度

9.2020年是闰年，古人为了纠正古代历法中每年将近6小时的误差，采取每4年增加一天的办法设置闰年。这种设置闰年的方法最早出自


A. 古埃及太阳历 B. 苏美尔人的阴历
C. 中国农历 D. 古罗马儒略历

10.“由于新航路开辟，东西两半球的不同文化圈的大汇合，加速了人类从传统农耕文明向现代工业文明转变的过程——没有了美洲贡献的大量金银与物质财富，没有北美的自由移民垦殖区，西方资本主义的发展将会缓慢得多，英国也不可能成为发动工业革命的国家。”由此可知新航路开辟

①推动了人类文明进程的转变 ②带动了拉美地区的繁荣发展
③促进了欧洲资本主义的发展 ④使地中海成为欧洲航运中心

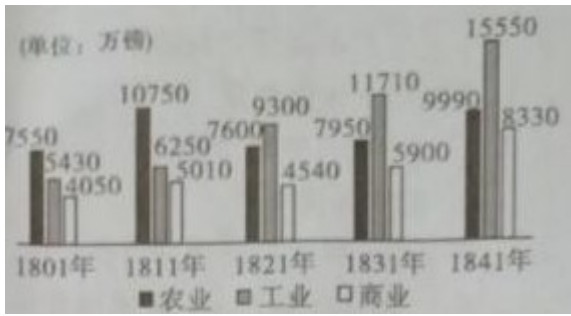
A. ①② B. ①③ C. ②③ D. ③④

11.时空观念是历史学科的核心素养之一。九年级小明在学习法国大革命时制作了如下年代尺，请你帮他完成



A. 召开三级会议 B. 通过《人权宣言》
C. 发动雾月政变 D. 颁布《拿破仑法典》

12.如图是1801—1931年英格兰农业、工业、商业产值示意图，导致各产业数据变化的原因是



- A. 英国资产阶级革命
B. 第一次工业革命
C. 英国的殖民扩张
D. 第二次工业革命

13. 1863年元月一日起，凡在当地人民尚在反抗合众国的任何一州之内，或一州的指明地区之内，为人占有而做奴隶的人们都应在那时及以后永远获得自由。以上内容出自

- A. 《独立宣言》
B. 《1787年宪法》
C. 《宅地法》
D. 《解放黑人奴隶宣言》

14. 毛泽东在《论反对日本帝国主义的策略》一文中指出：“1922年美国召集的华盛顿九国会议签订了一个公约，又使中国回复到几个帝国主义国家共同支配的局面。”该公约是

- A. 《凡尔赛条约》
B. 《四国条约》
C. 《九国公约》
D. 《辛丑条约》

15. 列宁说：“在一战结束的时候，俄国就像一个被打得半死的人……现在，谢天谢地，他居然能够拄着拐杖走动了。”俄国能“拄着拐杖走动”得益于

- A. 新经济政策的实施
B. 斯大林模式的建立
C. 赫鲁晓夫的改革
D. 戈尔巴乔夫的改革

16. 发生在1942年7月至1943年2月的一场战役，无论对苏联人民还是对世界各国人民来说都是意义重大的战役，它不仅使苏军从德军手中夺取了战争的主动权，也让世界人民都不再觉得纳粹德国可怕。这场战役是

- A. 莫斯科保卫战
B. 中途岛海战
C. 斯大林格勒战役
D. 诺曼底登陆

17. 漫画《战后的欧洲》反映的是两极格局对峙下的欧洲困境。为突破困境，欧洲国家采取的策略是



- A. 走向联合 B. 单打独斗 C. 军备竞赛 D. 甘于现状

18.“五月五，是端午”，端午节人们要划龙舟，包粽子，这是为了纪念一位伟大的爱国诗人。他是

- A. 屈原 B. 周敦颐 C. 贾谊 D. 胡安国

19.书院是古代进行教育、学术研究和书籍校勘的重要场所。长沙一书院悬挂的“惟楚有材，于斯为盛”的楹联激励着代代湖湘子弟积极进取。该书院是

- A. 白鹿洞书院 B. 嵩阳书院 C. 岳麓书院 D. 应天书院

20.他 中国十大元帅之一，曾任中国人民志愿军司令员兼政委，他是

- A. 彭德怀 B. 贺龙 C. 罗荣桓 D. 黄克诚

二、非选择题

21.阅读下列材料，回答问题。

材料一 （汉高祖五年）夏五月，兵皆罢归家。诏曰：今天下已定，令各归其县，复故爵田宅。民以饥饿自卖为奴婢者，皆免为庶人。租十五税一。”

——摘自班固《汉书·高帝纪》

材料二 减田租，复（恢复）十五税一

（汉惠帝四年）春正月，举民孝弟力田者（努力耕种田地的人），复其身（免除其徭役）

——摘自班固《汉书·惠帝纪》

(1) 根据材料和材料二，概括汉初统治者的治国策略。

材料三 顺治、康熙、雍正、乾隆诸位帝王，都十分重视农业生产，大力推行垦荒政策。

材料四 清代开荒执照图



——摘自人教版《中国历史》七年级下册

(2) 根据材料三和材料四并结合所学知识，简述清朝垦荒政策的作用。

材料五

年份	农业总产值(亿元)	农村居民人均可支配收入(元)
1978年	1397	113.6
1990年	7662.1	686.3
2000年	24915.8	2253.4
2017年	109331.7	13432.4

材料六

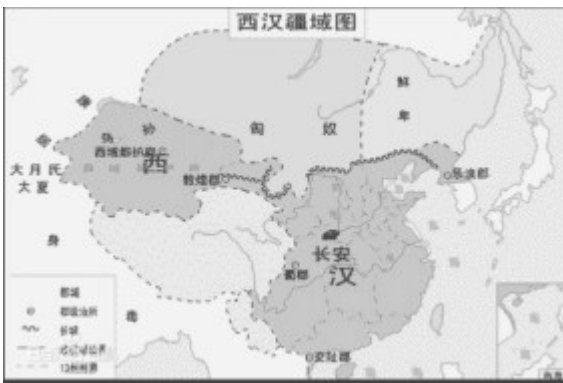


——上达两则材料皆携自人教版《中国历史》八年级下册

(3) 根据材料五和材料六并结合所学知识，概括四十年来中国农村的发展变化及其原因。

22. 阅读下列材料，回答问题。

材料一 中国历代王朝都重视对边疆地区的管理。



西汉形势图

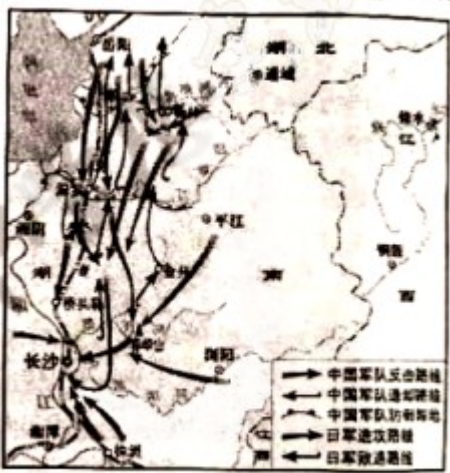


班禅金印

——摘自人教版《中国历史》七年级上、下册

(1) 请同学们从上述两幅图中任选一幅并结合所学知识概括其蕴含的历史信息。

材料二 湖南人民为抗日战争的胜利作出了巨大的贡献和牺牲。如图是太平洋战争爆发前后中国某次会战的形势图。



抗战时期某次会战形势图

——摘自《湖南地方文化常识》七年级下册

(2) 请写出这次会战的名称。

材料三 1997年6月30日午夜至7月1日凌晨，中英两国政府在香港如期举行香港政权交接仪式。在交接仪式上，江泽民主席庄严宣告：中国对香港恢复行使主.999年12月19日午夜至20日凌晨，中葡两国政府在澳门举行澳门政权交接仪式。中国正式恢复对澳门行使主权。

——摘自人教版《中国历史》八年级下册

(3) 香港、澳门回归是哪伟大构想的成功实践？港澳回归有何意义？

材料四 为切实解决香港特别行政区在维护国家安全方面存在的法律漏洞，制度缺失和工作“短板”问题，有效打击相关犯罪行为和活动，切实维护国家安全，保持香港特别行政区的繁荣和稳定，保障香港特别行政区的合法权益，2020年6月30日，第十三届全国人民代表大会常务委员会第二十次会议通过了《中华人民共和国香港特别行政区维护国家安全法》。

——摘编自2020年7月1日《新华每日电讯》

(4) 根据上述四则材料，提炼本题所蕴含的主题思想。

23. 2020年突如其来的新冠肺炎疫情来势汹汹，席卷全球。中国果断打响疫情防控的人民战争、总体战、阻击战。阅读下列材料，回答问题

材料一

名称	时间	流行地域	疫情危害
黑死病	1347—1353年	欧洲全境	夺走了约2500万欧洲人的性命，占当时欧洲总人口的1/3
西班牙大流感	1918—1919年	蔓延全球	造成全世界约5亿人感染，2千5百万到4千万人死亡
美国H1N1流感	2009—2010年	蔓延全球	全美有超过6000万人感染，近1.2万人死亡，波及全球200多个国家和地区

——摘编自魏健《改变人类社会的二十种瘟疫》等

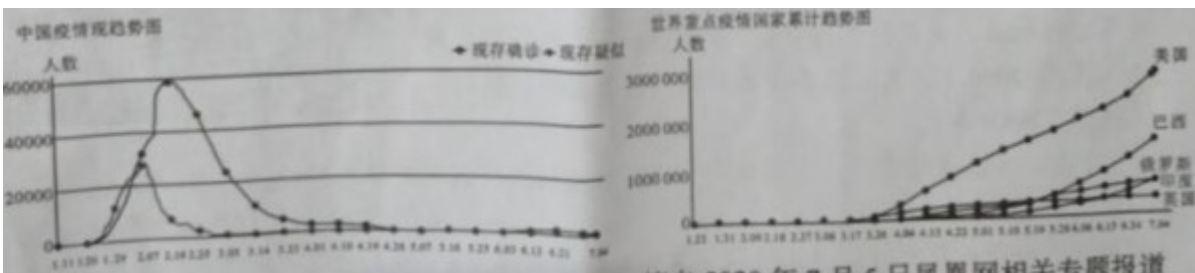
(1) 从上述材料中你能得到什么认识。

材料二 在抗击2020年新冠肺炎疫情的战斗中，中医药发挥了重大作用。中国民间中医医药研究开发协会专家王学谦认为，病毒侵犯人体产生的病理变化虽然复杂，但万变不离其宗，无非中医辨证十纲所谓的“阴阳、表里、寒热、虚实、气血”，结合历代医家的足够丰富的、宝贵的方药、方法和方略，辨证施治，帮助患者恢复自身正气。

——摘编自2020年2月21日《人民日报》

(2) 中医重视辨证施治，汉代的哪本医学著作中体现了这一施治原则？

材料三 下面两幅图是截止到7月4日中国与世界上重点疫情国家疫情趋势图



——摘自2020年7月5日凤凰网相关专题报道

(3) 仔细观察以上图片, 概括世界上重占疫情国家疫情发展的趋势。分析中国疫情迅速得到控制的原因。

材料四 面对流行性传染病, 古人怎样防这? 成书于西汉时期的《黄帝内经》提出要“避其毒气”, 即避免与患者接触。唐代《医心方》有“常习不唾地” (不随地吐痰) 等良好习惯。中国人到元朝时便有使用口罩的习惯。

——摘自赵柒斤《古人防疫也“隔离”“戴口罩”》

(4) 结合材料四, 假如疫情二次爆发, 你会怎么做?

24. 阅读下列材料, 回答问题。

材料一 班田 (授田) 六年一班, 即政府每路 6 年, 班给 6 岁以上的男子口分四 2 段, 女子为男子的 2/3, 私奴婢为公民的 1/3, 公奴婢同公民数。受田人死后, 口分田归公。

——摘自黄遵宪《日本国志》

(1) 材料反映的是日本历史上的哪一次改革?

材料二 中国文式制度, *事远出西人之上, 独火器万不能及。中国欲自强则莫如学习外国利器, 欲学习外国利器, 则莫如觅制器之器。

——摘自《李鸿章致总理衙门书》

材料三 18 年, 日本新政府颁布了《五条誓文》, 内容包括: 一、广兴会议, 万事决于公论; 二、上下一心, 盛行经纶; 三、官式一体, 以至庶民, 各遂其志, 毋使人心倦怠; 四破除旧来之陋习, 一本天地之公道; 五、求知识于世界, 大振皇国之基础。《五条誓文》表明了日本改革旧制度, 向西方学习的决心, 成为明治维新的政治纲领。

——摘自人教版《世界历史》九年级下册

(2) 根据材料二和材料三, 比较中国洋务运动与日本明治维新在学习西方的过程中有何差异? 日本明治维新对日本社会产生了什么影响?

材料四 自新冠肺炎疫情爆发以来, 日本的援助让很多人看到了一个“不一样的日本”。2 月 7 日, 日本自民党干事长二阶俊博与联合执政的公明党干事长齐藤铁夫一起走访中国驻日本大使馆时表示: “患难见真情, 日方愿举全国之力, 不遗余力向中方提供一切帮助, 与中方共同抗击疫情。”。据不完全统计, 截止 2020 年 2 月 7 日, 日本国内各界累计捐赠的物品不仅包括口罩、手套、护目镜、防护服等小件物品, 更包含了大型 CT 检测设备等, 累计捐款约合人民币 3060.2 万元。日本企业和民间团体累计捐款约合人民币 2888.9 万元。3 月, 日本疫情蔓延, 中国政府和人民积极捐款捐物支援日本抗疫。



——摘编自 2020 年 3 月搜狐网新闻报道

材料五 今年 6 月 22 日，日本冲绳县石垣市议会通过议案，把钓鱼岛“所在的行政区名称”从“石垣市登野城”更名为“石垣市登野城尖闲”。对此，中国外交部发言人赵立坚在当天的例行发布会上表示，钓鱼岛及其附属岛屿是中国固有领土，中方维护领土主权的决心和意志坚定不移。日方通过所谓“更名”议案，是对中国领土主权的严重挑衅，是非法的、无效的，不能改变钓鱼岛属于中国的事实，我们对日方有关行径坚决反对，同日中国海警 2502 舰艇编队在我钓鱼岛领海内巡航。

——摘自 2020 年 6 月 22 日外交部新闻发布会

(3) 根据材料四和材料五并结合所学知识，你认为未来中日关系会如何发展？简要说明理由。

25. 中学生都应该了解中国历史上的英雄人物，传承民族气节，崇尚英雄气概。阅读下列材料，回答问题。

材料一 况茶叶大黄（一种药材），外夷若不得此即无以为命，乃听（任凭）尔年年贩运出洋，绝不靳惜（吝音），恩莫大。

——摘自林则徐《谕各国夷人呈缴烟土稿》

材料二 林则徐自去岁去粤，日日使人刺探（打听、侦查）西事，翻译西书，又购其新闻纸（报纸），具如西人极藐水师。

——摘自《魏源集》（上册）

(1) 根据材料和材料二，概括林则徐对西方世界的认识发生了什么变化？

材料三 1839 年 3 月，林则徐到达广州后，一边进行海防的整顿工作，逮捕烟贩，一边通知外国鸦片贩子，限期三天，将所有鸦片尽数上缴。英国驻华商务监督义律抗拒禁烟，唆使英商拒交鸦片。林则徐下令封仓，停止中英贸易，派兵封锁洋馆。义律无奈之下命令英商上缴鸦片。从 4 月至 5 月，林则徐收缴了 110 多万千克鸦片。从 6 月 3 日至 25 日，收缴的鸦片在虎门海滩当众销毁。

——摘自人教版《中国历史教师教学用书》八年级上册

材料四 面对英国借端武装侵略的局势，积极进行战备，以致鸦片战争爆发后英国侵略者在广东一度无隙可乘而北上发难。由于投降派诬害被年职遣戍新疆，他在那里兴办水利，开辟屯田，建策防备沙俄对中国西北的侵略。“萌州国家生死以，岂因祸福避趋之”是他一生精忠爱国的写照。

——摘编自人教版《高中历史教师教学用书》必修 1

(2) 依据材料三和材料四，简要评价林则徐

试卷相关说明

本试卷的题干、答案和解析均由组卷网 (<http://zujian.xkw.com>) 专业教师团队编校出品。登录组卷网可对本试卷进行**单题组卷**、**细目表分析**、**布置作业**、**举一反三**等操作。

试卷地址：[在组卷网浏览本卷](#)

组卷网是学科网旗下的在线题库平台，覆盖小初高全学段全学科、超过 900 万精品解析试题。关注组卷网服务号，可使用移动教学助手功能（布置作业、线上考试、加入错题本、错题训练）。



学科网长期征集全国最新统考试卷、名校试卷、原创题，赢取丰厚稿酬，欢迎合作。
钱老师 QQ : 537008204 曹老师 QQ : 713000635