

2019年江苏省无锡市初中学业水平考查历史试题

本试题卷分第Ⅰ卷（客观卷）和第Ⅱ卷（主观卷）两部分，共六大题，40小题。考试形式为闭卷书面笔答，考试时间为60分钟，试卷满分为100分

第Ⅰ卷 客观卷（共55分）

一、单项选择题（在每小题列出的四个选项中只有一项符合题目要求，相大题共25小题，每小题2分，共50分）

1. 迄今所知世界上内涵最丰富、材料最齐全的直立人遗址是（ ）
A. 北京人遗址 B. 元谋人遗址
C. 蓝田人遗址 D. 马坝人遗址
2. 这部著作是我国第一部纪传体通史，东汉史学家班固评价这部著作“其文直，其事核，不虚美，不隐恶，故谓之实录。”这部著作是（ ）
A. 《春秋》 B. 《左传》
C. 《史记》 D. 《资治通鉴》
3. 祖冲之是古代世界杰出的科学家，他在天文历法、数学以及机械制造等方面都有重大成就。下列属于祖冲之成就的是（ ）
A. 撰写了《齐民要术》 B. 把圆周率精确到小数点后第七位
C. 创作了《洛神赋图》 D. 创造了“割圆术”
4. 宋初的大将曹翰写下首《退将诗》，有“曾因国难披金甲，不为家贫卖宝刀”之句；当时有谚语曰：“做人莫做军，做铁莫做针。”材料说明宋朝的统治者采取了什么政策，以防止唐末以来武将专横跋扈的弊端重现（ ）
A. 重武轻文 B. 重农抑商
C. 奖励耕战 D. 重文轻武
5. 右图所示遗址是中国近代屈辱的见证，它曾经遭受了“火劫、木劫、石劫、土劫”四次大灾难。其中“火劫”发生……期间（ ）



- A. 鸦片战争 B. 甲午中日战争
C. 第二次鸦片战争 D. 八国联军侵华战争
6. 某学者指出：“这次革命的目标是：民族独立、人民民主和普遍富裕。这次革命的成果是：皇冠落地中国历史从帝制走向共和。”下列哪选项最符合上述材料（ ）
A. 自强求富 B. 维新变法
C. 民主科学 D. 三民主义
7. “痛殴卖国贼，火烧赵家楼。除奸不惜死，来把中国救。”青年学生，总是用他们满腔

的热血与辛勤汗水书写着永不褪色的青春传奇。1919年，就是这样一群学生揭开了一个新时代的序幕。这个新时代是（ ）

- A. 旧民主主义革命时代 B. 新民主主义革命时代
C. 资产阶级革命时代 D. 社会主义建设新时代

8. 一曲凄恻的《松花江上》当年曾传明大江南北唱出了东北人民流离失所家破人亡的悲痛之情。它所反映的东北人民的苦难历史始于（ ）

- A. 九一八事变 B. 华北事变
C. 八一三事变 D. 七七事变

9. 20世纪三四十年代，一批人民音乐家创作了大量的抗日救亡歌曲，其中由聂耳作曲、田汉作词的一首歌曲振奋了民族精神，它后来成为中华人民共和国的国歌。这首歌曲是（ ）

- A. 《大刀进行曲》 B. 《黄河大合唱》
C. 《游击队之歌》 D. 《义勇军进行曲》

10. 新中国成立初期，周恩来对民主人士黄炎培说：它是由全国各党派一起千斟万酌制定的，就是为人民服务的“剧本”。被周恩来称为“剧本”，起临时宪法作用的是（ ）

- A. 《中华民国临时约法》 B. 《中国人民政治协商会议共同纲领》
C. 《中华人民共和国宪法》 D. 《中华人民共和国土地改革法》

11. 在社会主义道路的探索时期曾涌现出大批英雄模范人物，右图人物便是其中之一，他是（ ）



- A. 邱少云 C. 焦裕禄
B. 邓稼先 D. 王进喜

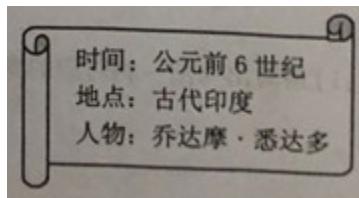
12. 周恩来恰如名睿智的大国棋手，在风云变幻的外交大棋局中纵横捭阖，谈笑风生，使新中国外交突破重围，朋友遍天下。下列表述与右图相符的周恩来外交语言是（ ）



- A. 打扫干净屋子再请客 B. 我们是来求同而不是来立异的

C. 越中情谊深，同志加兄弟 D. 各国之间一定能找到共同点

13. 宗教的形成对世界历史的发展产生了深远影响。与右图所示信息相关的宗教是 ()



A. 伊斯兰教 B. 基督教
C. 佛教 D. 道教

14. “地中海已成为帝国的‘内湖’，地中海各地之间的交通畅通无阻，海上航路、内陆河道、陆上通道和古老商道都成了内外贸易的动脉，商旅往来络绎不绝。”材料中的“帝国是 ()

A. 罗马帝国 B. 波斯帝国
C. 阿拉伯帝国 D. 奥斯曼帝国

15. 下列两件艺术作品共同反映的核心思想是 ()



A. 禁欲主义 B. 人文主义
C. 理性主义 D. 浪漫主义

16. 美国黑人作家阿历克斯·哈特在其著作《根》中写道：1760年，西非少年昆塔在独自外出时，被白人抓走，与其他黑人一起被贩卖到美洲。昆塔的悲惨遭遇与下列哪一历史事件有直接关系 ()

A. 亚历山大东征 B. 罪恶的“三角贸易”
C. 英国在北美建立殖民地 D. 拉丁美洲独立运动

17. “华盛顿的行动很感人……为了国家的事业，他却抛弃了养尊处优的生活，离开了家人和朋友，牺牲了自己的舒适环境，把一切都拿来孤注一掷。”材料中“国家的事业”是指 ()

A. 起草《人权宣言》 B. 消除南北差异
C. 实现种族平等 D. 赢得民族独立

18. 1999年，英国剑桥大学文理学院发起“谁是人类纪元第二个千年第一思想家”投票活

26. 秦始皇为加强中央集权，在思想上接受董仲舒“罢黜百家，独尊儒术”的建议，把儒家学说立为正统思想。
27. 中国抗日战争是中国近代以来反抗外敌入侵第一次取得完全胜利的民族解放战争。
28. 在领主统治下，庄园是一个独立的自给自足的经济和政治单位。
29. 英国科学家达尔文的《物种起源》提出了“进化论”的观点，打破了千百年来“上帝创造万物”的神创论，在生物科学领域掀起了一场伟大革命。
30. 社会保障制度是工人阶级斗争的结果，可以缓和阶级矛盾，创造一个有利于经济发展的稳定的社会环境，从根本上解决了资本主义制度的基本矛盾。

第II卷 主观卷 (共45分)

三、填空题 (本大题共5小题，每空1分，共10分)

31. 公元前256年，蜀郡郡守李冰主持，在成都附近的岷江上修建的▲是一座综合性的水利枢纽，发挥出防洪、灌溉、水运等多方面的作用；明朝北京城中最为雄伟壮丽的▲，是当时世界上最宏大最辉煌的皇家建筑群。
32. ▲是中国马克思主义思想传播的先驱；在探寻新航路的过程中，航海家▲“发现”了美洲新大陆。
33. 《▲》是迄今已知世界上第一部较为完整的成文法典，表明人类社会的法制传统源远流长；▲是世界上第一部资产阶级成文宪法。
34. 第二次工业革命期间，美国发明家▲利用电学研究的最新成果，发明了耐用的白炽灯泡等；第一次世界大战后，在▲的领导下，印度走上了非暴力不合作的反抗道路。
35. 1960年，非洲有17个国家获得独立，这一年因此被称为“▲”；20世纪90年代以来，互联网在全球迅速普及，成为现代社会重要的基础设施，标志着人类社会开始进入“▲”。

四、列举题 (请将答案按序号填入答题卡的指定位置。本大题共2小题，第36题2分，第37题2分，共4分)

36. 制度文明，与物质文明、精神文明共同构成人类文明演进的全过程。请结合所学和提供的信息，列举相应的制度名称。

(1) 为了对辽阔的疆域进行有效管理，元朝在中央设置中书省；其他地区，除吐蕃、畏兀儿地区外，设置了10个行中书省。请列举此制度的名称。

(2) 雅利安人进入印度后，逐渐建立了严格的社会等级制度将人分成婆罗门、刹帝利、吠舍、首陀罗四个等级。请列举此制度的名称。

37. 改革是指在现有的政治体制内实行变革，通常一次改革成功与否会影响一个国家的命运。请结合所学和提供的信息，列举相应的改革名称。

(1) 为巩固统治，他力排众议，494年迁都洛阳。他进步推行汉化措施。这些措施促进了民族交融，也增强了北魏的实力。请列举此改革的名称。

(2) 这次改革以强兵和学习西方科学技术为目标，开启了俄国近代化的进程。通过改革，俄国的经济军事实力大大增强，为对外扩张准备了条件。但是，农奴制进步强化，后来成为俄国社会发展的障碍。请列举此改革的名称。

五、材料分析题（请将答案按序号填入答题卡的指定位置。本大题共 2 小题，第 38 题 9 分，第 39 题 11 分，共 20 分）

38. 文化是国家和民族的灵魂。文化自信是一个国家、一个民族发展中更根本、更深沉、更持久的力量。阅读下列材料，回答问题。

【文字的起源】

材料一 费正清在《中国：传统与变迁》中说：“中国之所以能成为世界上最伟大的国家之一，有一部分应该归功于他们的文字。”



(1) 请写出图中文字的名称。（1分）我国有文字可考的历史开始于何时？（1分）

【思想的光辉】

材料二 春秋战国时期，鲁国尚儒学，是儒学的发展基地；齐地学术较为庞杂，阴阳五行学、道家之学、儒学都相当发达，楚地道学与词赋最具特色……

——邹逸麟《中国历史地理概述》

(2) 材料二中提到“春秋战国时期，鲁国尚儒学……；齐地学术较为庞杂……道家之学、儒学都相当发达”，请结合所学写出儒家学派的创始人。（1分）

【教育的魅力】

材料三 据统计，唐玄宗开元年间，科举出身的宰相，占到三分之二。科举制促进了教育事业的发展，士人用功读书的风气盛行。科举制也促进了文学艺术的发展……有利于唐诗的繁荣。

——人教社《中国历史》七年级下册

(3) 请写出我国科举制度正式诞生的标志。（1分）

【中医的传承】

材料四

中医药文化是中华民族传统文化的代表之一……2010年11月16日，联合国教科文组织将“中医针灸”和“京剧”列入“人类非物质文化遗产代表作名录”。

——摘自《中国中医药报》




2015年诺贝尔生理学或医学奖获得者

(4) 根据所学写出东汉末年因医术精湛，医德高尚，被后世称为“医圣”的名医和

2015 年因发现能够抵抗疟疾的青蒿素而获得诺贝尔生理学或医学奖的中国药学家的名字。(2 分)

【文化的弘扬】

材料五

	<p>社会主义先进文化……它植根于中华优秀传统文化、中国共产党革命文化，形成和发展于我们党团结带领全国各族人民进行革命、建设和改革的伟大实践，是一种……新文化范式。</p>
<p>军旗升起的地方</p>	<p>——张春美《社会主义先进文化是当代中国新文化》</p>

(5) 上图所在的城市是中国红色文化的发祥地之一，请写出与之相关的历史事件，这一历史事件打响了武装反抗国民党反动统治的第一枪。(1 分)。

(6) 综合以上探究，围绕如何弘扬民族文化、提升文化自信，说说你的建议。(2 分)

39. 构建和谐社会是世界人民的共同愿望。中国、美国、日本、俄罗斯和欧盟等都在世界上有着重要的影响，它们的关系深深影响着世界局势的发展和变化。阅读材料，结合所学，回答下列问题。

【革命与改革】

材料一 英国用光荣革命的非暴力手段，建立了一种新的政治制度……制度营造出一种宽松、自由和开放的环境。否则就难以想象，英国社会如何能在 18、19 世纪和平地实现现代化。

——钱乘旦《世界现代化历程》

(1) 材料中英国建立了一种新的政治制度指什么制度？(1 分)它是通过什么法律文献逐步确立起来的？(1 分)

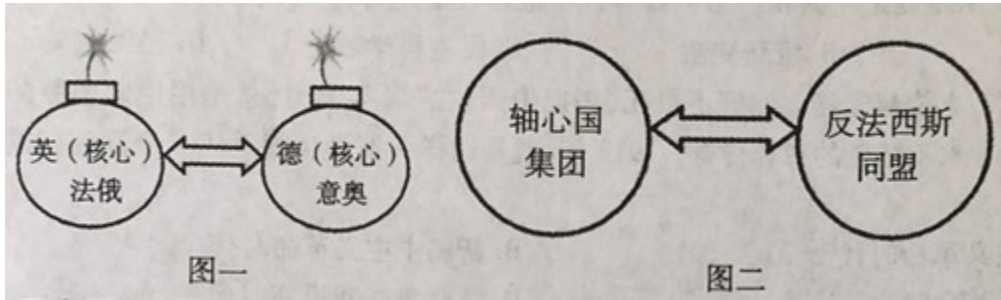
材料二 (日本)在西方殖民者坚船利炮的胁迫下，遭遇了巨大的生存危机，出人意料的是它将此作为自己弃旧图新、迎头赶上的历史机遇……

——选自《大国崛起》解说词

(2) 材料二中近代日本的这次“弃旧图新”是指哪一历史事件？(2 分)

【合作与对抗】

材料三 如图所示



(3) 图一中两大军事集团的对抗最终引发了哪次战争？（1分）在图二所示两种力量交锋的战争中，成为转折点的战役是什么？（1分）

(4) 1991年苏联解体，“冷战”时代宣告结束。历史上“冷战”时代开始的标志是什么？（1分）

【和平与共存】

材料四 19世纪中期，英国凭借机器的力量，成为“世界工厂”，逐步形成以英国为代表的欧洲主导世界的局面；后来居上的美国在20世纪大半时间主导全球；随着中国、俄罗斯、日本和欧盟等国家和国家联盟的实力不断增强，目前世界正处于“群雄竞起的时代”。

(5) 19世纪中期，英国成为“世界工厂”的主要原因是什么？（1分）

(6) 材料中“群雄竞起”反映了当今世界政治格局怎样的发展趋势？（2分）

材料五 2017年3月，构建人类命运共同体理念首次载入联合国安理会决议。“世界大同，天下一家”的中国理念赢得世界认同……

(7) 依据材料指出中国为推动人类社会共同发展贡献了什么新理念？（1分）

六、综合探究题（请将答案按序号填入答题卡的指定位置。本大题共1小题，共11分）

40. “不忘初心，牢记使命，高举中国特色社会主义伟大旗帜，决胜全面建成小康社会，夺取新时代中国特色社会主义伟大胜利，为实现中华民族伟大复兴的中国梦不懈奋斗。”这是2017年10月18日召开的中共十九大的主题。回顾中国共产党的奋斗历程结合所学知识，回答下列问题。

【党的历史辉煌灿烂】



图一 开天辟地 党的诞生

(2) 请写出与图一相对应的党的重大会议的名称。（2分）

材料二 这一伟大胜利，重新确立了中国在世界上的大国地位，使中国人民赢得了世界

爱好和平人民的尊敬。这一伟大胜利，开辟了中华民族伟大复兴的光明前景，开启了古老中国凤凰涅槃、浴火重生的新征程。

——习近平在抗战胜利70周年纪念大会上的讲话

(2) 材料中“这伟大胜利”取得的主要原因是什么？(1分)

【党的探索前所未有】

材料三



工商业实现全行业公私合营后，工商界代表向党中央和毛主席报喜

(3) 公私合营是我国社会主义改造的重要内容。到1956年底，国家基本上完成了三大改造，标志着我国从此进入什么阶段？(1分)

【党的政策利国利民】

材料四 2018年，我们迎来改革开放40周年。海南，因改革开放而生，因改革开放而兴。

(4) 海南成为经济特区得益于什么历史性决策的实施？(1分)是哪次大会作出的决策？(1分)

材料五 这一年，中国国旗在香港冉冉升起，这片一百多年前被迫割让的国土重新回到祖国。……随着1999年12月20日的到来，外国列强对中国领土的占据彻底结束。

——选编自《复兴之路》解说词

(5) 材料五反映的史实是哪一伟大构想的成功实践？(1分)创造性地提出这一伟大构想的人是谁？(1分)

材料六 小时候乡 愁是一枚小小的邮票 我在这头 母亲在那头；
长大后 乡愁是一张窄窄的船票 我在这头新娘 在那头；
后来啊 乡愁是一方矮矮的坟墓 我在外头 母亲在里头；
而现在 乡愁是一湾浅浅的海峡 我在这头 大陆在那头。

——余光中《乡愁》

(6) 解决台湾同胞的“乡愁”问题，必须坚持怎样的原则？(1分)

(7) 综上所述，并结合所学，你认为中华民族的伟大复兴梦如何才能实现？(2分)

2019年江苏省无锡市初中学业水平考查历史试题参考答案及评分说明 2019.5

一、单项选择题（本大题共25小题，每小题2分，共50分）

题号	1	2	3	4	5	6	7	8	9	10	11	12	13
答案	A	C	B	D	C	D	B	A	D	B	C	B	C
题号	14	15	16	17	18	19	20	21	22	23	24	25	
答案	A	B	B	D	C	A	B	D	C	D	C	C	

二、判断题（本大题共5小题，每小题1分，共5分）

26. B 27. A 28. A 29. A 30. B

三、填空题（本大题共5小题，每小题1分，共10分）

31. 都江堰 紫禁城 32. 李大钊 哥伦布

33. 《汉谟拉比法典》 1787年美国宪法（或1787年宪法）

34. 爱迪生 甘地 35. 非洲年 信息时代

四、列举题（本大题共2小题，第36题2分，第37题2分，共4分）

36. (1) 行省制度 (2) 种姓制度

37. (1) 北魏孝文帝改革 (2) 彼得一世改革

五、材料分析题（本大题共2小题，第38题9分，第39题11分，共20分）

38. (1) 甲骨文（1分） 商朝。（1分）

(2) 孔子。（1分）

(3) 隋炀帝时，进士科的创立。（1分）

(4) 张仲景（1分） 屠呦呦。（1分）

(5) 南昌起义。（1分）

(6) 积极学习和弘扬优秀的民族传统文化；大力传承和发扬红色文化与革命精神；同其他优秀文化交流互鉴，不断创新，保持民族文化的先进性等（符合题意、言之成理即可2分）

39. (1) 君主立宪制（1分） 《权利法案》。（1分）

(2) 明治维新。（2分）

(3) 第一次世界大战（1分） 斯大林格勒保卫战。（1分）

(4) 杜鲁门主义的出台。（1分）

(5) 第一次工业革命。（1分）

(6) 多极化的发展趋势。（2分）

(7) 构建人类命运共同体。（1分）

六、综合探究题（本大题共1小题，共11分）

40. (1) 图一：中共一大。（2分）

(2) 建立了以国共合作为主体的抗日民族统一战线，实行全民族抗战。（符合题意，言之有理即可1分）

(3) 社会主义初级阶段。（1分）

(4) 改革开放的历史性决策（1分） 中共十一届三中全会。（1分）

- (5) 一国两制 (1分) 邓小平。(1分)
- (6) 海峡两岸均坚持一个中国原则 (或九二共识)。(1分)
- (7) 坚持改革开放:坚持中国共产党的领导等。(言之有理即可 2分)

会员升级服务第一拨 · 清北季



神马，有清华北大学霸方法论课；还有清华学霸向所有的父母亲述自己求学之路；

衡水名校试卷悄悄的上线了；

扫qq领取官网不首发课程，很多人我没告诉他啊！

会员qq专享等你来撩.....