

四川省自贡市初 2021 届毕业生学业考试综合素质（二）历史

第 I 卷（选择题共 18 分）

在每小题列出的四个选项中，只有一项符合题目要求。每小题 1 分。

1. 某同学为历史小讲堂搜集了以下材料，据此可以判断他的学习主题是



- A. 文学艺术发展 B. 中外交通发达 C. 中外文化交流 D. 民族关系交融

2. 据《宋史·宰相表》统计，宋朝宰相 133 名，科举出身的 123 名。州县长官也由文臣担任。据此可知宋朝政治的特点

- A. 文官政治 B. 君主专制 C. 分化事权 D. 中央集权

3. 北宋时期东京每年从南方运输粮食 600 万石左右；南宋时，苏、湖、常、秀（秀水，今浙江嘉兴）有“天下粮仓”之美称。上述现象表明

- A. 北方人口大量南迁 B. 江南地区开始开发 C. 东南地区赋税沉重 D. 经济重心逐渐南移

4. 以下史实共同的历史作用是

元朝	清朝
1247 年凉州会晤，议定吐蕃归附蒙古。元朝建立后，由宣政院直接统辖，掌管西藏军民各项事务。	1727 年设驻藏大臣，1793 年明确驻藏大臣与达赖班禅地位平等，共同管理西藏政教事务，驻藏大臣还掌管地方军事、外交等事务。

- A. 加强了对西北有效治理 B. 巩固了统一的多民族国家
C. 推行了闭关锁国的政策 D. 实现了清朝对全国的统治

5. 意大利传教士鄂多立克由海路抵达广州，经泉州、杭州北上，在大都居住三年后，由陆路经西藏、中亚回到欧洲，并著游记传世。你认为当时最有可能

- A. 北宋 B. 南宋 C. 元朝 D. 清朝

6. 央视一套《典籍里 中国》激发了中学生学习传统文化的兴趣，一位同学对中国古代书籍进行了分类，

其中处可选的是

历史类：《史记》《资治通鉴》

医药类：《千金方》《_____》

文学类：《三国演义》《红楼梦》

- A. 《梦溪笔谈》 B. 《农政全书》 C. 《天工开物》 D. 《本草纲目》

7. 与下图密切相关的历史事件是



- A. 戚继光抗倭 B. 郑成功收复台湾 C. 雅克萨之战 D. 左宗棠收复新疆

8. 1871年曾国藩《拟选子弟出洋学艺折》中“拟选聪颖幼童，送赴泰西各国书院，学习军政、船政、步算、制造诸书，约计十余年，业成而归，使西人擅长之技中国皆能谙悉，然后可以渐图自强。”可见，清政府派遣留学生的主要目的是

- A. 游历西洋 B. 兴办洋务 C. 学习科技 D. 富国强兵

9. 20世纪初以陈独秀为代表的先进知识分子认为，欲图根本之救亡，必须改造中国的国民性。由此他们发动了一场新的启蒙运动以廓清蒙昧，启发理智。这里“新的启蒙运动”是

- A. 戊戌变法 B. 辛亥革命 C. 新文化运动 D. 五四运动

10. 李大钊指出，“我们很盼望知识阶级作民众的先驱，民众作知识阶级的后盾。”号召知识分子到农村去，到民间去。表明他主张

- A. 进行资产阶级革命 B. 知识分子与群众相结合
C. 开展土地改革运动 D. 以工人运动为中心工作

11. 北伐战争中，下图所示的歌曲响彻大江南北。歌曲中的“大联合”指

国民革命歌

$1=G \frac{4}{4}$

1 2 3 1 | 1 2 3 1 | 3 4 5 - | 3 4 5 - |

打倒列强,打倒列强,除军阀, 除军阀。

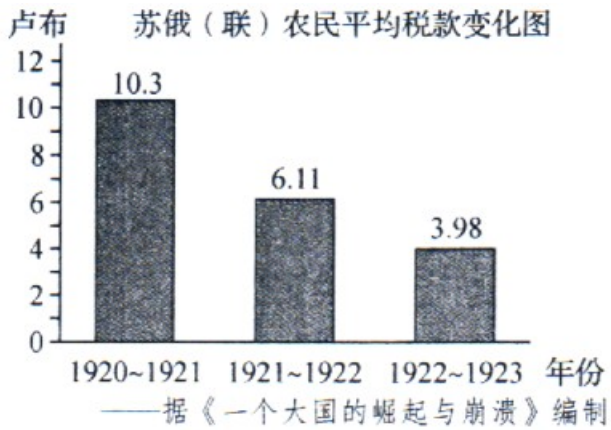
工农学兵,工农学兵,大联合, 大联合。

56 54 3 1 | 56 54 3 1 3 5 1 - | 3 5 1 - ||

努力国民革命,努力国民革命,齐奋斗, 齐奋斗。

打倒帝国主义,打倒帝国主义,齐奋斗, 齐奋斗。

- A. 革命统一战线 B. 抗日民族统一战线 C. 人民民主统一战线 D. 爱国统一战线
12. 1930 年中共中央军委主办的《军事通讯》指出：在瑞金独立政权中，可以见到许多独一无二的经验。这里的“经验”主要指
- A. 中心城市暴动 B. 工农武装割据 C. 议会和平斗争 D. 地主减租减息
13. 为迎接建党 100 周年，某校组织学生重走长征路，应选择的路线是
- A. 四渡赤水出奇兵，巧渡金沙突重围 B. 追寻江姐革命足迹，感受红岩英烈精神
- C. 跟随川军出川抗战，重走铁血征途 D. 重温建党建军原则，古田会议永放光芒
14. 一个有希望的民族不能没有英雄，初三（2）班举办“致敬英雄”为主题的板报，下列可入选“抗日战争”板块的是
- A. 京汉铁路工人领袖林祥谦 B. 八路军副参谋长左权
- C. 秋收起义的总指挥卢德铭 D. 战斗英雄黄继光
15. 1939 年美国记者斯诺称赞毛泽东的《论持久战》是“窑洞中的预言”。“预言”指
- A. 枪杆子里面出政权 B. 星星之火，可以燎原
- C. 抗战胜利属于中国 D. 一切反动派都是纸老虎
16. 20 世纪 80 年代乡镇企业形成了“苏南”“温州”“珠江”等模式；90 年代乡镇企业开始向股份制新型企业发展，到 1993 年，其产值占全国社会总产值的 1/3 以上。这表明
- A. 非公有制经济占主导地位 B. 掀起农业合作化的热潮
- C. 实现了全行业公私合营 D. 经济体制改革不断深化
17. 毛泽东思想、邓小平理论、习近平新时代中国特色社会主义思想是马克思主义中国化理论成果，其最根本的相同点是
- A. 探索新民主主义革命的道路 B. 实行计划经济体制
- C. 实事求是，从中国国情出发 D. 坚持阶级斗争为纲
18. 阅读下图，造成苏俄（联）农民平均税款变化的主要原因是



——据《一个大国的崛起与崩溃》编制

- A. 实施固定粮食税
B. 实行实物配给制
C. 推行余粮收集制
D. 实现农业集体化

第 II 卷（非选择题共 22 分）

19. 20 世纪以来世界日益形成密切联系的整体，张老师以“变局与秩序”为主题设计了下面的学习任务单，请你完成相关学习任务。

任务一 设计方案——体会世界重组

两次世界大战深刻影响世界历史进程。下面是探究世界重组的三种视角及搜集的材料。

视角一 苏俄（联）的崛起	视角二 中国的新生	视角三 世界格局的演变
--------------	-----------	-------------

- ① 杜鲁门“冷战”演说词② 攻占冬宫的图片③ 开国大典的影像
④ 浙江嘉兴南湖红船照片⑤ 凡尔赛和约文本⑥ 苏联工业化海报

(1) 请选择其中一种视角和相应材料（填序号），并说明选择材料的理由。

选择视角：

选择材料：

理由：

任务二 分析材料——见证中国力量

材料一 第一个五年计划的宏伟蓝图，极大地鼓舞了全国人民的建设热情。1949 年我国钢产量仅 15 万吨。1953 年 12 月鞍山钢铁公司三大重点工程开工，这是我国重工业发展中的重大事件。至 1957 年，全国钢产量已上升到 535 万吨，以苏联帮助兴建的 156 个项目为中心，先后施工了一万多个工业项目，第一个五年计划大幅度超额完成。

——摘编自齐鹏飞、杨凤城《当代中国编年史》等

(2) 据材料概括一五计划实施的背景。并结合所学知识指出其在工业化进程中的作用。

材料二

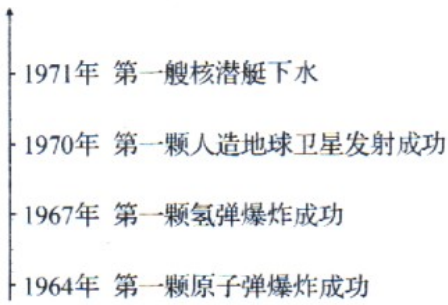


图1

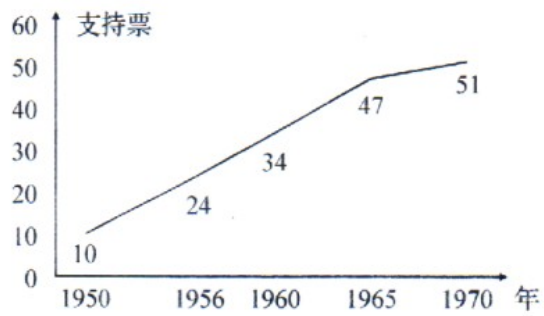


图2 历届联大支持中国重返联合国的票数

(3) 材料二从不同领域见证了新中国的发展，请据此说明“中国力量”的表现。

(4) 综合材料一、二，谈谈我国国际地位提高的关键因素。

任务三 联系现实—共建美好世界

当今世界正处于大发展、大变革、大调整时期。在这个互相依赖的世界，解决疫病流行、环境污染等全球问题需要国与国之间的合作。

——摘编自斯塔夫里阿诺斯《全球通史》等

中国	世界
1992年，提出建立社会主义市场经济体制	1991年 苏联解体
2001年，成立上海合作组织	1993年，欧盟建立
2001年，加入世界贸易组织	1995年 世界贸易组织成立
2010年，成为世界第二大经济体	2001年，“9.11事件”
2013年，提出“一带一路”合作倡议	2015年 《巴黎协定》应对气候变化
2016年，二十国集团领导人杭州峰会	2016年，英国脱欧公投

中国与世界之间横向互动中纵向发展的脉络（部分）

(5) 阅读材料，结合当今世界发展变化，选取两个及以上中外关联 史实，提出你的认识，并加以说明。

(要求：认识明确，持论有据，表述清楚。)

