

2017年河南省中考历史试卷

一、选择题（共20小题，每小题1分，满分20分）

1. 下列三幅图片共同反映了（ ）



洛阳白马寺



洛阳龙门石窟



日本唐招提寺内鉴真塑像

- A. 寺院建筑的中国化 B. 佛教文化的传播与发展
C. 文化传播者的坚韧 D. 雕塑艺术的古朴与精湛

2. 英法从广州向北推进至北京，俄国从北方边界向南推进，它们除强调经济特权外，也强调取得领土。南北两股势力像一把钳子，紧紧掐住清王朝。这描述的是（ ）

- A. 鸦片战争 B. 第二次鸦片战争
C. 甲午中日战争 D. 八国联军侵华战争

3. 辛亥革命时期，孙中山自觉接受了太平天国反清的正面影响，并吸取其争取夺利导致分裂的反面教训。这从侧面反映了太平天国运动（ ）

- A. 推动了近代的思想解放 B. 促成了辛亥革命的发生
C. 有益于近代的革命探索 D. 激起了国内反清的高潮

4. 有学者认为，戊戌变法所传播的西方政治学说和自然科学知识，将统治中国人几千年的封建思想打开了缺口，这说明戊戌变法（ ）

- A. 起到了思想启蒙作用 B. 使西方政治学说深入人心
C. 创立了君主立宪政体 D. 动摇封建思想的统治地位

5. 上海的这次会议除遭到暗探和巡捕的骚扰外，在当时的社会上并没有引起太多的注意。但是，一个新的革命火种已在沉沉黑夜的中国大地上点燃起来了。这次会议（ ）

- A. 标志着中国共产党的诞生 B. 促成了第一次国共合作
C. 提出彻底的民主革命纲领 D. 推动了北伐战争的胜利


6. 近代以来，中国革命的历史经验告诉我们：“没有共产党就没有新中国。”中国共产党用28年的斗争历程证明了这一重要结论。下面属于这一历程的历史事件是（ ）

- A. 五四运动 B. 南昌起义 C. 台儿庄战役 D. 西藏和平解放

7. 刘邓大军以锐不可当之势，先后跨越重重障碍，经过 20 多天的艰苦跋涉和激烈战斗，完成了一次无后方依托，以长驱直入插进敌人战略纵深为特点的特殊形式的进攻行动。这一“行动”（ ）

- A. 是党的历史上生死攸关的转折点
- B. 是抗战中发动的最大规模战役
- C. 揭开解放军全国性战略进攻序幕
- D. 标志着解放战争取得彻底胜利

8. 如图是“一五”计划期间，我国实施的 150 项重点工程项目比例分布示意图。这表明当时我国（ ）



- A. 工业项目的均衡发展
- B. 大力发展重工业项目
- C. 建立了完整工业体系
- D. 完成向工业化的转变

9. 1979 年底，包产到户、包干到户还只是在个别地方尝试，比重仅占全国总农户的 9%。到 1984 年底，比重已增至 95% 以上。包产到户、包干到户迅速发展是由于它（ ）

- A. 是农民自己的发明创造
- B. 使农民获得土地所有权
- C. 使农民收入得到平均分配
- D. 适应了农民的生产需求

10. 这是一次肩负重大历史使命，承前启后、继往开来的大会。它明确提出，把建立社会主义市场经济体制作为经济体制改革的目标。这次大会是（ ）

- A. 中共十一届三中全会
- B. 中共十二大
- C. 中共十三大
- D. 中共十四大

11. 近年来，华为、中兴、航天科工、中芯国际等一批创新型企业脱颖而出，领跑“中国制造”向“中国智造”加速转变，使中国向“品牌大国”稳步迈进。这主要是由于我国（ ）

- A. 大力发展高新技术产业
- B. 高等教育迅速发展
- C. 努力维护周边地区安全
- D. 鼓励发展对外贸易

12. 哥伦布到达美洲后，南美洲的木薯传入非洲和亚洲，土豆传入西欧，地瓜和玉米流入中国；

而其它地区的动植物，如小麦、牛、绵羊、猪等，也传入了美洲。材料表明新航路开辟（ ）

- A．促进了洲际间交通的发展
- B．促进了美洲人口的增加
- C．加速了洲际间物种的交流
- D．破坏了美洲的生态平衡

13．“理性”是启蒙运动的核心，是指人自己思考，运用自己的智力去认识、判断和理解事物的能力。“理性”、“自然法”等是当时思想家们常常挂在嘴边的词汇。启蒙思想家热衷“理性”一词是由于（ ）

- A．自然科学的发展
- B．新航路的开辟
- C．人文主义的出现
- D．资本主义兴起

14．恩格斯指出：对德国来说，拿破仑并不像他的敌人所说的那样，是一个专横跋扈的暴君，他在德国是革命的代表。这里强调了拿破仑（ ）

- A．受到了德国人民的欢迎
- B．损害了德国的利益
- C．传播了法国革命的精神
- D．有利于德国的统一

15．1908年，美国人亨利·福特开始在汽车生产中引入流水线，把装配一辆汽车所需的时间由12小时降低为一个半小时，使生产成本大幅度降低，产量很快占到了全世界汽车产量的一半。据此，下面结论正确的是（ ）

- A．科学理论推动技术进步
- B．新技术提升企业竞争力
- C．垄断组织促进生产发展
- D．新技术保证了产品质量

16．如图是第一次世界大战期间的一幅海报（海报译文：这些妇女也在尽微薄之力，学习制造军火），反映了妇女们走进工厂，代替男人们维持战争工业。这表明（ ）



- A．妇女地位显著提高
- B．战争减少就业机会
- C．战争波及更多民众
- D．民用工业受到影响

17．没有别的事件能像十月革命那样对现代世界产生如此决定性的影响，它从根本上改变了国际关系格局。1917年以后，世界再也不能同过去一样了，这种不一样主要表现在（ ）

- A．马克思主义开始指导国际工人运动

- B . 是无产阶级建立政权的第一次尝试
- C . 打破了帝国主义对社会主义的封锁
- D . 诞生了世界上第一个社会主义国家

18 . 英国学者保罗·肯迪尼在《大国的兴衰》一书中指出：日本培养出的工程师比任何西方国家都多得多（大约比美国培养的多 50%），它还拥有近 70 万名研发人员，比英国、法国、联邦德国加在一起还多。材料反映了日本（ ）

- A . 实行非军事化政策 B . 制定适当的经济政策
- C . 引进最新科技成就 D . 注重培养高素质人才

19 . 表格是 1992 年统计的部分跨国公司和国家经济实力对比表，据此可知，跨国公司（ ）

公司名称	全球年销售额（单位：10 亿美元）
通用汽车公司	132.4
艾克森石油公司	115.7
壳牌公司	96.6

国家	国内生产总值（单位：10 亿美元）
丹麦	123.5
挪威	112.9
波兰	83.8

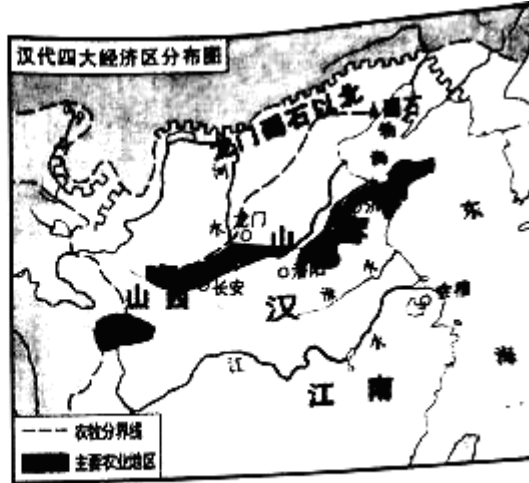
- A . 是垄断国际贸易的主要经济体
- B . 是国际资本输出的主要来源
- C . 在经济全球化中扮演重要角色
- D . 阻碍了欧洲国家的经济发展

20 . 他是一位英国“戏剧全才”，不论是写喜剧还是悲剧，都能深刻理解人类的精神状态。下面属于其作品的是（ ）

- A . 《威尼斯商人》 B . 《老人与海》 C . 《美国的悲剧》 D . 《等待戈多》


二、非选择题（共 5 小题，满分 30 分）

21 . （5 分）材料一



河南辉县出土的战国铁犁和汉代经济区分布图

材料二



古代雅典的舰船和古希腊城邦分布图

(1) 材料一和材料二反映的两种古代文明有什么不同？并说明造成这种不同的主要因素。

(2) 综上所述，并结合所学知识，指出世界古代文明呈现出的主要特征。面对不同文明，我们应该持怎样的态度？

22. (7分) 阅读下列材料，回答问题：

材料一 鸦片战争前，中国的交通工具主要是轿子、马车和帆船等。鸦片战争后，轮船、火车等新式交通工具逐渐传入。

材料二 1865年，英商在北京铺设了半公里的窄轨铁路，并试行小火车。这一举动引起京城市民的惊诧和猜疑，视其为怪物。窄轨铁路很快被清政府责令拆除。甲午战争后，清政府修筑了芦汉、沪宁、津浦铁路，形成近代中国第一个筑路高潮。到1911年，全国铁路总长9292千米。

(1) 材料一中交通工具的动力在鸦片战争前后发生了什么变化？

(2) 据材料二，对于火车的引入，近代中国人的态度发生了怎样的转变？结合所学知识，分析这种转变的原因。

(3) 结合上述材料，谈谈交通工具在中国近代社会发展中的作用。

23. (7分) 阅读下列材料，回答问题：

材料一

时间	历史事件
1949年10月	中华人民共和国成立
1950年10月	抗美援朝战争开始
1953年底	周恩来首次提出和平共处五项原则
1957年底	我国第一个五年计划超额完成
1961年	美国发动越南战争
1971年10月	中国恢复联合国合法席位
1972年2月	尼克松访华
1972年9月	中日建交

材料二 进入新时期，中国更加积极地活跃在国际舞台上。1981年以来，我国积极参加国际维和行动。2001年，亚太经合组织领导人非正式会议在上海成功召开。同年，中国加入世界贸易组织。200年北京奥运会、2010年上海世博会，让全世界的目光聚焦中国。到2011年，中国已同171个国家建交。到2012年，中国已在105个国家和地区开设了350多所孔子学院。2013年，中国提出“一带一路”的发展战略。中国在世界舞台上所扮演的角色，必将对21世纪的世界产生深远的影响。

(1) 请从材料一中任意选取三个有关联的历史事件，通过设计示意图的形式将其关系展示出来，并说明设计理由。

(2) 据材料二，并结合所学知识，概括指出新时期我国在国际舞台上发挥的作用。

(3) 综上所述，你得到了哪些关于国家发展对外关系的认识？

24. (6分) 19世纪60年代，俄国和美国在近代化的道路上，面临着相似的问题，它们却以不同的姿态向前迈出了重要的一步。阅读下列材料，回答问题：

材料一 1860 年的美国，人口只有俄国的 40%，其城市人口却比俄国多一倍；年产铁 83 万吨（俄国年产 35 万吨）；消耗现代燃料的能源是俄国的 15 倍，铁路长度是俄国的 30 倍。

材料二 1861 年后，俄国外出谋生的农民数量逐渐增多。19 世纪 90 年代末，俄国矿山和铁路等部门的工人人数增加到 279.2 万人。这些为俄国资本主义的发展提供了必要的条件。

材料三 美国南北战争开始时，南方人口 900 万，其中黑奴占 400 万。《解放黑人奴隶宣言》成为战争的一个重大转折点，等于把南方的数百万黑人奴隶变成了北方的同盟军。这场战争，不仅使黑奴成为自由人，而且维护了国家统一，为美国资本主义的发展进一步扫除了障碍。

(1) 材料一反映了 1860 年俄国和美国的近代化过程中存在哪些不同？

(2) 据材料二、三，并结合所学知识，19 世纪 60 年代，俄国和美国推进近代化的方式有何不同？不同的方式为资本主义经济的发展提供了哪些相同的条件？

(3) 综上所述，依据俄美的近代化历程，写出你汲取到的关于社会发展的一条经验。

25. (5 分) 请对比下面图片反映的历史信息，并结合所学知识，写一篇 80 - 120 字的小短文。

(要求：题目自拟，史实正确，语句通顺，表述完整，体现两幅图片反映内容的比较)。



1947年印巴分治示意图



1997年中英香港政权交接仪式

2017 年河南省中考历史试卷

参考答案与试题解析

一、选择题（共 20 小题，每小题 1 分，满分 20 分）

1.（2017•河南）下列三幅图片共同反映了（ ）



洛阳白马寺



洛阳龙门石窟



日本唐招提寺内鉴真塑像

- A. 寺院建筑的中国化 B. 佛教文化的传播与发展
C. 文化传播者的坚韧 D. 雕塑艺术的古朴与精湛

【考点】3Q：佛教的传入和道教的兴起；4D：魏晋南北朝的书法与石窟艺术；5G：唐朝中外文化交流的发展。

【分析】本题以历史图片为切入点，考查佛教文化的传播与发展。

【解答】白马寺，位于河南省洛阳老城以东 12 公里处，始建于东汉永平十一年（68 年），是佛教传入中国后兴建的第一座寺院，所以与洛阳白马寺有关的宗教是佛教。洛阳龙门石窟雕刻的是佛教人物形象。唐玄宗时，鉴真应日本僧人邀请，东渡日本传播唐朝文化，他精心设计的唐招提寺，被日本视为艺术明珠。由此可知，三幅图片共同反映的是佛教文化的传播与发展。

故选 B。

【点评】本题考查了学生的识图能力，关键是从图中提取有效信息解决问题。注意掌握佛教文化的传播与发展的相关知识。

2.（2017•河南）英法从广州向北推进至北京，俄国从北方边界向南推进，它们除强调经济特权外，也强调取得领土。南北两股势力像一把钳子，紧紧掐住清王朝。这描述的是（ ）

- A. 鸦片战争 B. 第二次鸦片战争
C. 甲午中日战争 D. 八国联军侵华战争

【考点】87：第二次鸦片战争。

【分析】本题以“英法从广州向北推进至北京，俄国从北方边界向南推进”为切入点，考查列强签订不平等条约的影响。

【解答】依据“英法从广州向北推进至北京，俄国从北方边界向南推进”可知，第二次鸦片战争发生在1856-1860年，欧洲列强为了进一步打开中国市场，扩大侵略权益。1856年10月，英国借口“亚罗”号事件，悍然出动军舰袭击广州城，法国借口“马神甫事件”，同意和英国共同出兵，英法发动侵略中国的战争爆发了。第二次鸦片战争前后，俄国趁火打劫，强迫清政府签订了一系列不平等条约，共割占我国东北和西北领土150多万平方千米。故英法从广州向北推进至北京，俄国从北方边界向南推进，它们除强调经济特权外，也强调取得领土。南北两股势力像一把钳子，紧紧掐住清王朝。这描述的是第二次鸦片战争。

故选B。

【点评】本题识记第二次鸦片战争的知识。

3. (2017•河南) 辛亥革命时期，孙中山自觉接受了太平天国反清的正面影响，并吸取其争取夺利导致分裂的反面教训。这从侧面反映了太平天国运动()

- A. 推动了近代的思想解放
- B. 促成了辛亥革命的发生
- C. 有益于近代的革命探索
- D. 激起了国内反清的高潮

【考点】86：太平天国运动。

【分析】本题以“孙中山自觉接受了太平天国反清的正面影响”为切入点，考查太平天国运动与辛亥革命的知识。

【解答】依据所学知识，太平天国运动的反清的正面影响和因争权夺利而导致分裂火并的反面教训被革命派借鉴，推动了辛亥革命的发展。故这从侧面反映了太平天国运动有益于近代的革命探索。故选C。

【点评】洪秀全在桂平金田发动了声势浩大的太平起义，虽然在中外反动势力的联合镇压下悲壮地失败了，但是太平天国革命是半殖民地半封建中国社会爆发的一次伟大的反侵略反封建的农民革命促进近代中国资产阶级民主革命爆发，这样一场波澜壮阔的革命运动启发和鼓舞了以孙中山为首的资产阶级民主派，而特别是太平天国留下的宝贵经验和惨痛教训，成为了资产阶级民主革命以“三民主义”为核心内容的思想策略的重要来源，太平天国对辛亥革命产生了重要的作用和影响。

4. (2017•河南) 有学者认为，戊戌变法所传播的西方政治学说和自然科学知识，将统治中国人几千年的封建思想打开了缺口，这说明戊戌变法()

- A. 起到了思想启蒙作用
- B. 使西方政治学说深入人心
- C. 创立了君主立宪政体
- D. 动摇封建思想的统治地位

【考点】92：戊戌变法。

【分析】本题以学者的认识为依托，考查戊戌变法。

【解答】据“戊戌变法所传播的西方政治学说和自然科学知识，将统治中国人几千年的封建思想打开了缺口”可知，这说明戊戌变法起到了思想启蒙作用。为了救亡图存，资产阶级维新派掀起了戊戌变法，其主张是变法图强，戊戌变法在社会上起了思想启蒙作用，为资产阶级思想的传播奠定了基础。

故选A。

【点评】本题主要考查学生运用所学知识解决问题的能力。识记与灵活掌握戊戌变法的领导人、内容、性质以及作用。

5. (2017•河南) 上海的这次会议除遭到暗探和巡捕的骚扰外，在当时的社会上并没有引起太多的注意。但是，一个新的革命火种已在沉沉黑夜的中国大地上点燃起来了。这次会议（ ）

- A. 标志着中国共产党的诞生 B. 促成了第一次国共合作
C. 提出彻底的民主革命纲领 D. 推动了北伐战争的胜利

【考点】9C：中共一大。

【分析】本题考查中国共产党成立的意义。

【解答】据材料“上海的这次会议除遭到暗探和巡捕的骚扰外，在当时的社会上并没有引起太多的注意。但是，一个新的革命火种已在沉沉黑夜的中国大地上点燃起来了”可知，此会议是中共一大。1921年中共一大的召开，标志着中国共产党的成立，自从有了中国共产党，中国革命的面貌就焕然一新了。

故选A。

【点评】本题考查中国共产党成立的意义。

6. (2017•河南) 近代以来，中国革命的历史经验告诉我们：“没有共产党就没有新中国。”中国共产党用28年的斗争历程证明了这一重要结论。下面属于这一历程的历史事件是（ ）

- A. 五四运动 B. 南昌起义 C. 台儿庄战役 D. 西藏和平解放

【考点】9K：八一南昌起义。

【分析】本题考查南昌起义。南昌起义打响了武装反抗国民党反动统治的第一枪，南昌起义是中国共产党创建人民军队、独立领导武装斗争的开始。

【解答】由题干和所学知识可知，中国共产党28年的奋斗历程是指从1921年中国共产党成立开

始，到 1949 年新中国建立结束。五四运动发生在 1919 年，1951 年西藏和平解放，台儿庄战役是国民党抗击日本侵略者的一次重大胜利。南昌起义发生在 1927 年，是中国共产党创建人民军队、独立领导武装斗争的开始。

故选 B。

【点评】本题主要考查学生对材料的分析能力以及解决问题的能力。熟练掌握中国共产党 28 年的奋斗历程的相关知识。

7. (2017•河南) 刘邓大军以锐不可当之势，先后跨越重重障碍，经过 20 多天的艰苦跋涉和激烈战斗，完成了一次无后方依托，以长驱直入插进敌人战略纵深为特点的特殊形式的进攻行动。这一“行动” ()

- A. 是党的历史上生死攸关的转折点
- B. 是抗战中发动的最大规模战役
- C. 揭开解放军全国性战略进攻序幕
- D. 标志着解放战争取得彻底胜利

【考点】A1：刘邓大军挺进大别山。

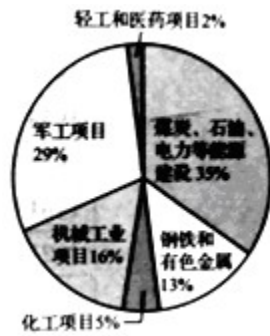
【分析】本题考查刘邓大军挺进大别山的相关知识，关键词是“刘邓大军”“进攻行动”。

【解答】由材料“刘邓大军以锐不可当之势，先后跨越重重障碍，经过 20 多天的艰苦跋涉和激烈战斗，完成了一次无后方依托，以长驱直入插进敌人战略纵深为特点的特殊形式的进攻行动。”可知，这一“行动”是指刘邓大军挺进大别山，1947 年夏，刘邓大军挺进大别山开解放军全国性战略进攻序幕。

故选 C。

【点评】注意识记刘邓大军挺进大别山的时间及其意义。

8. (2017•河南) 如图是“一五”计划期间，我国实施的 150 项重点工程项目比例分布示意图。这表明当时我国 ()



- A．工业项目的均衡发展 B．大力发展重工业项目
C．建立了完整工业体系 D．完成向工业化的转变

【考点】C9：一五计划。

【分析】本题以“一五”计划期间我国实施的 150 项重点工程项目比例分布示意图为切入点，主要考查一五计划的相关史实。

【解答】观察“一五”计划期间，我国实施的 150 项重点工程项目比例分布示意图可知，这表明当时我国大力发展重工业项目。第一个五年计划期间，我国以苏联帮助兴建的 156 个项目为中心，形成了以鞍山钢铁公司为中心的东北工业基地，沿海地区原有的工业基地得到加强，在华北、西北建立了一批新工业基地。从此，我国开始改变了工业落后的面貌，向社会主义工业化迈进。

故选 B。

【点评】本题考查学生解读图表史料获取信息的能力。理解并识记一五计划的相关史实。

9. (2017•河南) 1979 年底，包产到户、包干到户还只是在个别地方尝试，比重仅占全国总农户的 9%。到 1984 年底，比重已增至 95% 以上。包产到户、包干到户迅速发展是由于它 ()

- A．是农民自己的发明创造 B．使农民获得土地所有权
C．使农民收入得到平均分配 D．适应了农民的生产需求

【考点】D2：农村改革和家庭联产承包责任制。

【分析】本题考查家庭联产承包责任制的相关知识，知道中国的经济体制改革首先在农村展开。

【解答】据所学知，包产到户、包干到户迅速发展是由于适应了农民的生产需求，1978 年以后，中国的经济体制改革首先在农村展开，逐步确立起了家庭联产承包责任制，提高了农民生产的积极性，极大地促进了农村生产力的发展。

故选 D。

【点评】注意识记家庭联产承包责任制的相关知识，了解新中国成立后，农村生产关系变革的相关知识。

10. (2017•河南) 这是一次肩负重大历史使命, 承前启后、继往开来的大会。它明确提出, 把建立社会主义市场经济体制作为经济体制改革的目标。这次大会是 ()

- A. 中共十一届三中全会 B. 中共十二大
C. 中共十三大 D. 中共十四大

【考点】D9: 中共十四大提出建立社会主义市场经济体制。

【分析】本题考查了中共十四大。从1985年起, 城市改革全面展开, 重点是国有企业的改革。

【解答】明确提出, 把建立社会主义市场经济体制作为经济体制改革目标的会议是中共十四大。1992年, 党的十四大提出建立社会主义市场经济体制以后, 国有企业改革加快了步伐, 在大中型企业推行公司制、股份制, 向建立现代企业制度迈进; 对小型企业采取改组、联合等多种形式, 加快企业的改革步伐。

故选D。

【点评】本题考查学生对基础知识的识记能力, 需要准确识记中共十四大提出建立社会主义市场经济体制。

11. (2017•河南) 近年来, 华为、中兴、航天科工、中芯国际等一批创新型企业脱颖而出, 领跑“中国制造”向“中国智造”加速转变, 使中国向“品牌大国”稳步迈进。这主要是由于我国 ()

- A. 大力发展高新技术产业 B. 高等教育迅速发展
C. 努力维护周边地区安全 D. 鼓励发展对外贸易

【考点】E1: 中国近现代科技 教育 文体事业的发展。

【分析】本题以近年来中国一批创新型企业脱颖而出切入考查中国科技发展。

【解答】近年来, 华为、中兴、航天科工、中芯国际等一批创新型企业脱颖而出, 领跑“中国制造”向“中国智造”加速转变, 使中国向“品牌大国”稳步迈进。这些都属于高新技术产业, 它们的发展主要是由于我国大力发展高新技术产业。

故选A。

【点评】本题属于材料型选择题, 主要考查学生的阅读分析能力, 解答此类必须认真阅读材料, 提炼材料观点。

12. (2017•河南) 哥伦布到达美洲后, 南美洲的木薯传入非洲和亚洲, 土豆传入西欧, 地瓜和玉米流入中国; 而其它地区的动植物, 如小麦、牛、绵羊、猪等, 也传入了美洲。材料表明新航路

开辟（ ）

- A．促进了洲际间交通的发展 B．促进了美洲人口的增加
C．加速了洲际间物种的交流 D．破坏了美洲的生态平衡

【考点】H2：新航路的开辟。

【分析】本题以洲际间物种的交流为切入点，主要考查新航路的开辟的相关史实。

【解答】据“哥伦布到达美洲后，南美洲的木薯传入非洲和亚洲，土豆传入西欧，地瓜和玉米流入中国；而其它地区的动植物，如小麦、牛、绵羊、猪等，也传入了美洲。”可知，材料表明新航路开辟加速了洲际间物种的交流。新航路的开辟，打破以往世界各地相互孤立和隔绝局面，使欧洲、亚洲、美洲和非洲等地的交通往来日益密切，世界开始连成一个整体，世界市场开始形成。

故选C。

【点评】本题主要考查学生准确解读题干材料信息以及理解问题的能力。理解并识记新航路的开辟的相关史实。

13．（2017•河南）“理性”是启蒙运动的核心，是指人自己思考，运用自己的智力去认识、判断和理解事物的能力。“理性”、“自然法”等式当时思想家们常常挂在嘴边的词汇。启蒙思想家热衷“理性”一词是由于（ ）

- A．自然科学的发展 B．新航路的开辟
C．人文主义的出现 D．资本主义兴起

【考点】K9：启蒙运动。

【分析】本题考查了启蒙运动。启蒙运动的主要代表人物有伏尔泰、卢梭和孟德斯鸠等。

【解答】根据材料中的“人自己思考，运用自己的智力去认识、判断和理解事物的能力”强调的是“人自己的思考与智慧”可知启蒙思想家热衷“理性”一词是由于人文主义的出现。文艺复兴运动的核心思想是人文主义，即要求以人为中心，而不是以神为中心；提倡发扬人的个性，追求人在现实生活中的幸福。17-18世纪，出现了许多著名的思想家，他们的理论解放了人们的思想，人们把这个时代称为“启蒙时代”，把他们提倡的思想称为“理性主义”。

故选C。

【点评】本题属于材料型选择题，主要考查学生的阅读分析能力，解答此类必须认真阅读材料，提炼材料观点。

14．（2017•河南）恩格斯指出：对德国来说，拿破仑并不像他的敌人所说的那样，是一个专横

跋扈的暴君，他在德国是革命的代表。这里强调了拿破仑（ ）

- A．受到了德国人民的欢迎 B．损害了德国的利益
- C．传播了法国革命的精神 D．有利于德国的统一

【考点】HH：评价华盛顿与拿破仑。

【分析】本题考查拿破仑，知道拿破仑打击了欧洲封建势力，传播了法国革命的精神。

【解答】据题干“对德国来说，拿破仑并不像他的敌人所说的那样是一个专横跋扈的暴君。他在德国是革命的代表，是革命原理的传播者，是旧的封建社会的摧毁人”并结合所学知识可知，拿破仑对外战争控制了欧洲很多地方，巩固法国资产阶级革命成果。把大革命的思想、精神带到所到之处打击了欧洲封建势力，传播了法国革命的精神。

故选 C。

【点评】本题主要考查学生对拿破仑相关知识的掌握，重点识记主要事迹并对其进行评价。

15．（2017•河南）1908年，美国人亨利•福特开始在汽车生产中引入流水线，把装配一辆汽车所需的时间由12小时降低为一个半小时，使生产成本大幅度降低，产量很快占到了全世界汽车产量的一半。据此，下面结论正确的是（ ）

- A．科学理论推动技术进步 B．新技术提升企业竞争力
- C．垄断组织促进生产发展 D．新技术保证了产品质量

【考点】K2：第二次工业革命的主要成就。

【分析】本题考查第二次工业革命的相关知识，注意对材料信息的提取。

【解答】由材料“1908年，美国人亨利•福特开始在汽车生产中引入流水线，把装配一辆汽车所需的时间由12小时降低为一个半小时，使生产成本大幅度降低，产量很快占到了全世界汽车产量的一半”可知，这主要反映了汽车生产流水线的引用，使福特汽车的竞争力大为增强，其产量很快占到了全世界汽车产量的一半。故 B 项符合题意。

故选 B。

【点评】注意识记第二次工业革命的主要发明及发明人。

16．（2017•河南）如图是第一次世界大战期间的一幅海报（海报译文：这些妇女也在尽微薄之力，学习制造军火），反映了妇女们走进工厂，代替男人们维持战争工业。这表明（ ）



- A . 妇女地位显著提高 B . 战争减少就业机会
C . 战争波及更多民众 D . 民用工业受到影响

【考点】K8：第一次世界大战的性质与影响 .

【分析】本题以海报切入考查第一次世界大战的影响 .

【解答】第一次世界大战期间“这些妇女也在尽微薄之力，学习制造军火”的海报表明战争波及更多民众，男性大都在战场上，后方妇女生产军火 .

故选 C .

【点评】本题主要考查学生阅读分析能力和对历史知识的灵活运用能力，需要灵活运用第一次世界大战的影响 .

17 . (2017•河南) 没有别的事件能像十月革命那样对现代世界产生如此决定性的影响，它从根本上改变了国际关系格局。1917 年以后，世界再也不能同过去一样了，这种不一样主要表现在 ()

- A . 马克思主义开始指导国际工人运动
B . 是无产阶级建立政权的第一次尝试
C . 打破了帝国主义对社会主义的封锁
D . 诞生了世界上第一个社会主义国家

【考点】L2：俄国十月革命 .

【分析】本题考查学生对十月革命相关知识的掌握，建议学生准确识记十月革命的背景、内容与意义 .

【解答】根据所学可知，1917 年 11 月列宁领导了俄国十月革命，11 月 7 日晚，以“阿芙乐尔号巡洋舰”的炮声为信号，工人、士兵向冬宫发起了强烈进攻，次日凌晨，起义者占领了冬宫，推翻了资产阶级临时政府的统治，建立了无产阶级专政 . 十月革命是人类历史上第一次获得胜利的社会主义革命，建立了世界上第一个社会主义国家 - - 苏俄 .

故选 D。

【点评】 本题主要考查十月革命的有关知识。

18. (2017·河南) 英国学者保罗·肯尼迪在《大国的兴衰》一书中指出：日本培养出的工程师比任何西方国家都多得多（大约比美国培养的多 50%），它还拥有近 70 万名研发人员，比英国、法国、联邦德国加在一起还多。材料反映了日本（ ）

- A. 实行非军事化政策
- B. 制定适当的经济政策
- C. 引进最新科技成就
- D. 注重培养高素质人才

【考点】 JD：日本明治维新。

【分析】 本题以《大国的兴衰》为切入点，考查明治维新。

【解答】 由材料“多得多”“多 50%”“拥有近 70 万名研发人员，比英国、法国、联邦德国加在一起还多”可以看出，材料反映了日本注重培养高素质人才。ABC 均与材料无关。

故选 D。

【点评】 本题以明治维新为背景，考查学生分析史料能力。

19. (2017·河南) 表格是 1992 年统计的部分跨国公司和国家经济实力对比表，据此可知，跨国公司（ ）

公司名称	全球年销售额（单位：10 亿美元）
通用汽车公司	132.4
艾克森石油公司	115.7
壳牌公司	96.6

国家	国内生产总值（单位：10 亿美元）
丹麦	123.5
挪威	112.9
波兰	83.8

- A. 是垄断国际贸易的主要经济体
- B. 是国际资本输出的主要来源

C. 在经济全球化中扮演重要角色

D. 阻碍了欧洲国家的经济发展

【考点】OE：世界经济全球化的影响。

【分析】本题以1992年统计的部分跨国公司和国家经济实力对比表为依托，考查跨国公司。

【解答】据“1992年统计的部分跨国公司和国家经济实力对比表”中“通用汽车公司全球年销售额（单位：10亿美元）132.4”“艾克森石油公司全球年销售额（单位：10亿美元）115.7”“丹麦国内生产总值（单位：10亿美元）123.5”“挪威国内生产总值（单位：10亿美元）112.9”可知，跨国公司在经济全球化中扮演重要角色。跨国公司主要是指发达资本主义国家的垄断企业，以本国为基地，通过对外直接投资，在世界各地设立分支机构或子公司，从事国际化生产和经营活动的垄断企业。在经济全球化中跨国公司是新技术的最早使用者和推行者，他们将这些新技术新产品销售推广到世界各地。跨国公司在经济全球化的进程中扮演了连接者和行动者的角色，可以说他们就是经济全球化的实践者，起着十分重要的推动作用。

故选C。

【点评】本题主要考查学生运用所学知识解决问题的能力。识记与灵活掌握经济全球化的相关知识。

20. (2017•河南) 他是一位英国“戏剧全才”，不论是写喜剧还是悲剧，都能深刻理解人类的精神状态。下面属于其作品的是（ ）

A. 《威尼斯商人》 B. 《老人与海》 C. 《美国的悲剧》 D. 《等待戈多》

【考点】H1：文艺复兴运动。

【分析】本题主要考查学生对莎士比亚的作品的准确识记。莎士比亚的代表作有悲剧和喜剧作品。

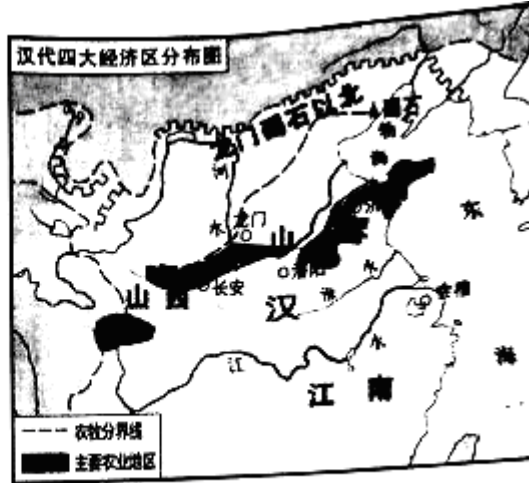
【解答】根据“他是一位英国‘戏剧全才’，不论是写喜剧还是悲剧，都能深刻理解人类的精神状态”可知“他”是指莎士比亚。莎士比亚的代表作有四大悲剧：《哈姆雷特》、《奥赛罗》、《李尔王》、《麦克白》。当然还有他的经典悲剧作品《罗密欧与朱丽叶》此外，他的喜剧作品也多有经典，例如：《仲夏夜之梦》、《威尼斯商人》、《第十二夜》、《皆大欢喜》。

故选A。

【点评】掌握莎士比亚的戏剧作品，理解他在文艺复兴中的重要地位。


二、非选择题（共5小题，满分30分）

21. (5分) (2017•河南) 材料一



河南辉县出土的战国铁犁和汉代经济区分布图

材料二



古代雅典的舰船和古希腊城邦分布图

(1) 材料一和材料二反映的两种古代文明有什么不同？并说明造成这种不同的主要因素。

(2) 综上所述，并结合所学知识，指出世界古代文明呈现出的主要特征。面对不同文明，我们应该持怎样的态度？

【考点】FD：古代大河文明与西方文明的差异；PD：历史开放性问题。

【分析】本题考查古代大河文明与西方文明的差异，掌握相关的基础知识。

【解答】(1) 据材料一河南辉县出土的战国铁犁和汉代经济区分布图并结合所学知识可知，材料一反映的是大河文明，以农业为主。材料二古代雅典的舰船和古希腊城邦分布图并结合所学知识可知，材料二反映的是海洋文明，工商业发达；造成这种不同的主要因素是地理环境的不同。

(2) 世界古代文明呈现出的主要特征是多元化，文明有具有独立性；面对不同文明，我们应该尊

重不同地区的文明，持和平交流的态度。

故答案为：

(1) 材料一属大河文明，以农业为主，材料二属海洋文明，工商业发达；地理环境的不同。

(2) 世界古代文明呈现多元化，文明有具有独立性；面对不同文明，我们应该尊重不同地区的文明，持和平交流的态度。

【点评】 本题考查古代大河文明与西方文明的差异，考查学生的识记和理解能力，解题关键是熟练掌握基础知识。

22. (7分) (2017•河南) 阅读下列材料，回答问题：

材料一 鸦片战争前，中国的交通工具主要是轿子、马车和帆船等。鸦片战争后，轮船、火车等新式交通工具逐渐传入。

材料二 1865年，英商在北京铺设了半公里的窄轨铁路，并试行小火车。这一举动引起京城市民的惊诧和猜疑，视其为怪物。窄轨铁路很快被清政府责令拆除。甲午战争后，清政府修筑了芦汉、沪宁、津浦铁路，形成近代中国第一个筑路高潮。到1911年，全国铁路总长9292千米。

(1) 材料一中交通工具的动力在鸦片战争前后发生了什么变化？

(2) 据材料二，对于火车的引入，近代中国人的态度发生了怎样的转变？结合所学知识，分析这种转变的原因。

(3) 结合上述材料，谈谈交通工具在中国近代社会发展中的作用。

【考点】 I1：第一次工业革命；B3：近代生活的变迁和社会习俗的变化；PD：历史开放性问题。

【分析】 (1) 本题以交通工具的动力为切入点，主要考查交通工具的动力在鸦片战争前后发生的变化。

(2) 本题以火车的引入为切入点，主要考查对于火车的引入近代中国人的态度发生的转变及这种转变的原因。

(3) 本题以交通工具为切入点，主要考查交通工具在中国近代社会发展中的作用。

【解答】 (1) 据材料一“鸦片战争前，中国的交通工具主要是轿子、马车和帆船等。鸦片战争后，轮船、火车等新式交通工具逐渐传入。”可知，鸦片战争前交通工具是轿子、马车和帆船，其使用的动力是人力或风力；鸦片战争后交通工具是轮船、火车，其使用的动力是蒸汽机。

(2) 据材料二“这一举动引起京城市民的惊诧和猜疑，视其为怪物。窄轨铁路很快被清政府责令拆除。”“甲午战争后，清政府修筑了芦汉、沪宁、津浦铁路，形成近代中国第一个筑路高潮。到1911年，全国铁路总长9292千米。”可知，对于火车的引入，近代中国人的态度不接纳反对到接

受并修建铁路。据所学知识可知，这种转变的原因是：西方先进交通工具的传入、近代人们思想观念的转变、近代化的推动、西方思想的传入等。

(3) 结合上述材料可知，交通工具在中国近代社会发展中，促进了商品流通和经济发展，方便了人们的出行，推动了近代社会的进步。

故答案为：

(1) 鸦片战争前：人力或风力；鸦片战争后：蒸汽机。

(2) 不接纳反对（排斥）到接受并修建铁路。原因：①西方先进交通工具的传入；②近代人们思想观念的转变；③近代化的推动；④西方思想的传入。

(3) 促进商品流通和经济发展，方便人们的出行，推动近代社会进步。

【点评】本题主要考查学生准确解读材料信息以及理解问题的能力。理解并识记第一次工业革命、近代生活的变迁和社会习俗的演变的相关史实。

23. (7分) (2017•河南) 阅读下列材料，回答问题：

材料一

时间	历史事件
1949年10月	中华人民共和国成立
1950年10月	抗美援朝战争开始
1953年底	周恩来首次提出和平共处五项原则
1957年底	我国第一个五年计划超额完成
1961年	美国发动越南战争
1971年10月	中国恢复联合国合法席位
1972年2月	尼克松访华
1972年9月	中日建交

材料二 进入新时期，中国更加积极地活跃在国际舞台上。1981年以来，我国积极参加国际维和行动。2001年，亚太经合组织领导人非正式会议在上海成功召开。同年，中国加入世界贸易组织。

200年北京奥运会、2010年上海世博会，让全世界的目光聚焦中国。到2011年，中国已同171个国家建交。到2012年，中国已在105个国家和地区开设了350多所孔子学院。2013年，中国提出“一带一路”的发展战略。中国在世界舞台上所扮演的角色，必将对21世纪的世界产生深远的影响。

(1) 请从材料一中任意选取三个有关联的历史事件，通过设计示意图的形式将其关系展示出来，并说明设计理由。

(2) 据材料二，并结合所学知识，概括指出新时期我国在国际舞台上发挥的作用。

(3) 综上所述，你得到了哪些关于国家发展对外关系的认识？

【考点】EE：新中国的外交成就；C1：新中国成立；C3：抗美援朝；C9：一五计划；E8：和平共处五项原则；PD：历史开放性问题。

【分析】本题通过两则材料切入考查了新中国的外交成就，时间跨度较大，问题设计形式新颖，既考查学生对历史知识的灵活运用能力，又考查学生的综合分析能力，最后一问言之有理即可。

【解答】(1) 材料一涉及事件较多，从中任意选取三个有关联的历史事件说明其展示主题与理由即可，如周恩来提出和平共处五项基本原则；中国恢复在联合国合法席位；尼克松访华（或者中日建交）。理由：在坚持和平共处五项基本原则的基础上，70年代取得了一系列外交成就，如中国恢复在联合国合法席位，推动尼克松访华，中美关系正常化。

(2) 据材料二“进入新时期，中国更加积极地活跃在国际舞台上。1981年以来，我国积极参加国际维和行动。2001年，亚太经合组织领导人非正式会议在上海成功召开。同年，中国加入世界贸易组织。200年北京奥运会、2010年上海世博会，让全世界的目光聚焦中国。到2011年，中国已同171个国家建交。到2012年，中国已在105个国家和地区开设了350多所孔子学院。2013年，中国提出‘一带一路’的发展战略。中国在世界舞台上所扮演的角色，必将对21世纪的世界产生深远的影响。”及所学知识可知新时期我国在国际舞台上发挥的作用体现在维护世界的和平与发展；推动地区和国家间合作，促进世界经济共同发展；在国际舞台上发挥着越来越重要作用等。

(3) 关于国家发展对外关系的认识，言之有理即可，如综合国力是外交的后盾，开放合作共赢等。故答案为：

(1) 周恩来提出和平共处五项基本原则；中国恢复在联合国合法席位；尼克松访华（或者中日建交）。理由：在坚持和平共处五项基本原则的基础上，70年代取得了一系列外交成就，如中国恢复在联合国合法席位，推动尼克松访华，中美关系正常化。

(2) ①维护世界的和平与发展；②推动地区和国家间合作，促进世界经济共同发展；③在国际舞台上发挥着越来越重要作用。

(3) 综合国力是外交的后盾，开放合作共赢。

【点评】解答材料解析题需要首先读懂材料，然后结合问题从材料中提取有效信息，最后根据所学和材料有效信息组织答案，开放性题目，言之有理即可。

24. (6分) (2017•河南) 19世纪60年代，俄国和美国在近代化的道路上，面临着相似的问题，它们却以不同的姿态向前迈出了重要的一步。阅读下列材料，回答问题：

材料一 1860年的美国，人口只有俄国的40%，其城市人口却比俄国多一倍；年产铁83万吨（俄国年产35万吨）；消耗现代燃料的能源是俄国的15倍，铁路长度是俄国的30倍。

材料二 1861年后，俄国外出谋生的农民数量逐渐增多。19世纪90年代末，俄国矿山和铁路等部门的工人人数增加到279.2万人。这些为俄国资本主义的发展提供了必要的条件。

材料三 美国南北战争开始时，南方人口900万，其中黑奴占400万。《解放黑人奴隶宣言》成为战争的一个重大转折点，等于把南方的数百万黑人奴隶变成了北方的同盟军。这场战争，不仅使黑奴成为自由人，而且维护了国家统一，为美国资本主义的发展进一步扫除了障碍。

(1) 材料一反映了1860年俄国和美国的近代化过程中存在哪些不同？

(2) 据材料二、三，并结合所学知识，19世纪60年代，俄国和美国推进近代化的方式有何不同？不同的方式为资本主义经济的发展提供了哪些相同的条件？

(3) 综上所述，依据俄美的近代化历程，写出你汲取到的关于社会发展的一条经验。

【考点】JB：1861年俄国农奴制改革；J6：美国南北战争的爆发；PD：历史开放性问题。

【分析】本题以美国南北战争和1861年俄国农奴制改革为依托，考查的是学生对资产阶级国家走上资本主义道路方式、1861年改革和美国南北战争的有关知识的记忆、理解能力。

【解答】(1) 据材料一“1860年的美国，人口只有俄国的40%，其城市人口却比俄国多一倍；年产铁83万吨（俄国年产35万吨）；消耗现代燃料的能源是俄国的15倍，铁路长度是俄国的30倍。”可知，美国工业比较发达，重工业和交通业比俄国发达；美国存在劳动力不足，但城市人口比俄国多。

(2) 美国独立后，资本主义工业和南方种植园经济都发展起来，到19世纪中期，南方奴隶制种植园经济越来越阻碍了资本主义经济的发展。美国通过南北战争，废除了奴隶制度，促进了资本主义的进一步发展。19世纪中期的俄国，出现了严重的农奴制危机，农奴制度的存在严重阻碍了俄国资本主义的发展。俄国通过1861年改革，废除了农奴制度，使俄国走上了资本主义发展道路。不同的方式为资本主义经济的发展提供了市场和劳动力。

(3) 本题是开放型的题目，考查的是学生开放性思维的能力。只要符合题意，言之有理即可。改

革要顺应时代潮流，要制定适合本国国情的经济政策，推动社会进步与发展。

故答案为：

(1) 美国工业发达，重工业和交通业比俄国发达；美国存在劳动力不足，但城市人口比俄国多。

(2) 俄国进行 1861 年改革，美国进行南北战争，（俄国进行改革，美国进行南北战争。）条件：劳动力。

(3) 改革要顺应时代潮流，要制定适合本国国情的经济政策，推动社会进步与发展。

【点评】本题掌握美国南北战争和 1861 年俄国农奴制改革相关知识。

25. (5 分) (2017·河南) 请对比下面图片反映的历史信息，并结合所学知识，写一篇 80 - 120 字的小短文。（要求：题目自拟，史实正确，语句通顺，表述完整，体现两幅图片反映内容的比较）。



1947年印巴分治示意图



1997年中英香港政权交接仪式

【考点】N7：亚洲国家的独立和振兴；E4：祖国统一大业。

【分析】本题以两张图片为依托，综合考查殖民者的掠夺和压迫历史以及亚洲国家的奋起，题目设计既注重基础性，又注重概括性和开放性，对学生答题能力要求较高。

【解答】此题为历史小论文。考查学生综合写作的能力。要写好历史小论文，必须做到观点明确、清楚；论据要选择能证明论点的典型史实；论证要做到论从史出，史论结合，综合概括殖民者的掠夺和压迫历史以及亚洲国家的奋起。17 世纪，印度就开始沦为了英国的殖民地，但印度人民不断发动反抗英国殖民者的斗争。二战后初期，亚洲民族独立运动高涨，印度再次出现民族独立运动的高潮。1947 年，英国被迫同意印度独立，实行印巴分治。鸦片战争中国战败后，中英签订《南京条约》，规定中国割让香港岛给英国；1860 年的第二次鸦片战争中，中国再次战败，被迫签订中英《北京条约》，割让九龙半岛南部给英国；1898 年，英国与清政府签订《中英展拓香港界址专

条》等一系列条约，租借九龙半岛北部、新界和邻近的两百多个岛屿，租期为 99 年，至此，英国完全占有香港。为实现国家统一，邓小平创造性地提出了“一国两制”伟大构想，并成功运用于解决港澳问题。中英两国于 1984 年 9 月 26 日公开签署香港问题的声明，英国公开宣布放弃 1997 年之后对香港的主权。

故答案为：

二战后亚州国家的奋起

二战后初期，亚洲民族独立运动高涨，印度再次出现民族独立运动的高潮。1947 年，英国被迫同意印度独立，实行印巴分治。鸦片战争中国战败后，中英签订《南京条约》，规定中国割让香港岛给英国。为实现国家统一，邓小平创造性地提出了“一国两制”伟大构想，1997 年 7 月 1 日，中国正式恢复对香港行使主权。

【点评】本题主要考查学生的识记能力以及分析问题的能力。识记与灵活掌握二战后亚州国家的奋起。