



(1) 图中运河沟通了红海和 ()

- A. 里海 B. 死海 C. 地中海 D. 阿拉伯海

(2) 下列对图示区域描述正确的是 ()

- A. 冬季寒冷干燥 B. 地势比较平坦 C. 位于东半球和北半球 D. 居民以使用英语为主

【答案】 (1) C (2) C

【考点】 世界典型区域，学会从地图和图表中获取信息

【解析】 **【分析】** (1) 根据图中信息可知，该地主要是苏伊士运河周边地区，图中运河沟通了红海和地中海。ABD 不符合题意，C 项正确。

(2) 据图分析，该地位于北纬 28 度以北，属于北半球，东经 32 度以东，属于东半球；该地属于苏伊士运河周边地区，属于地中海气候，冬季温和多雨，夏季炎热干燥；根据图中的等高线及其分布可知，该地地势起伏较大，不是地势平坦；从地理分区的角度看，该地属于阿拉伯世界，讲阿拉伯语；ABD 不符合题意，C 项正确。

故答案为：(1) C；(2) C。

【点评】 苏伊士运河，1869 年修筑通航，是一条海平面的水道，在埃及贯通苏伊士地峡，沟通地中海与红海，提供从欧洲至印度洋和西太平洋附近土地的最近航线。它是世界使用最频繁的航线之一，也是亚洲与非洲的交界线，是亚洲与非洲、欧洲人民来往的主要通道。

4.19 世纪的德国法学家耶林说，罗马人曾三次征服世界，第一次以武力，再一次以宗教，末一次以法律。这里的以法律征服世界，指的是罗马法 ()

- A. 是罗马共和国第一部成文法典 B. 规定发放津贴鼓励公民参与政治
C. 规定公民大会是最高权力机关 D. 是近代很多西方国家法律的基础

【答案】 D

【考点】 古希腊罗马文明

【解析】【分析】德国法学家耶林曾评价道：“罗马人曾三次征服世界，第一次以武力，再一次以宗教，末一次以法律”其中的“法律”指的是《查士丁尼法典》。527年，查士丁尼继任为东罗马帝国皇帝。为了稳固帝国的社会秩序、保证皇帝的专制权力，他组建了一个法典编纂委员会。从529年起，委员会历时6年，把自2世纪初以来历任罗马皇帝颁布的法令收集在一起，剔除其中相互矛盾的条例，编成《查士丁尼法典》，同时把历代罗马法学家有关法律问题的论文和著作汇编为《法学汇纂》，又编成指导学习法律文献的《法理概要》后来，查士丁尼又命人将自己执政时期的法令编辑为《新法典》。以上这4部法律文献统称为《罗马民法大全》。《罗马民法大全》被誉为欧洲民法的基础。

D项是近代很多西方国家法律的基础符合题意。

故答案为D。

【点评】本题难度适中，考查查士丁尼及其法典的影响。西罗马帝国灭亡后，东罗马帝国则延续下来，并且进入了一个“黄金时代”。

5.一条书船、一家书院、一座书楼……湖州文脉悠远、书香传世。据此回答小题。



图2 织里书船(模型)



图3 湖州安定书院(想象图)



图4 南洋嘉业堂藏书楼

(1) 织里书船(图2)是穿梭于水乡河道卖书的船，始于明初全商出现的书船上可能买到的农书是()

- A. 《齐民要术》 B. 《资治通鉴》 C. 《农政全书》 D. 《天工开物》

(2) 湖州安定书院(图3)是传授湖学的重要场所，是为纪念胡瑗(安定先生)而建。它的创立主要与当时朝廷推行的崇文抑武策略有关。据此推断，湖州安定书院最有可能出现于()

- A. 西汉 B. 唐朝 C. 北宋
D. 清朝

(3) 嘉业堂藏书楼(图4)是民国以来中国规模最大的秘蒙藏书楼。20世纪30年代，为避免古籍因战乱而流失，藏书楼主人刘承干将大部分珍贵书籍运往上海租界保存。这场战乱指的是()

- A. 甲午战争 B. 八国联军侵华战争 C. 北伐战争 D. 日本侵华战争

【答案】 (1) A (2) C (3) D

【考点】 秦皇汉武、唐宗宋祖

【解析】【分析】（1）根据题干中的“明初”“农书”等信息，联系所学知识，北朝贾思勰的《齐民要术》一书，总结了我国北方劳动人民长期累积的生产经验，介绍了生产技术和方法，强调农业生产要遵循自然规律，农作物要必须因地制宜，不误农时；还改进生产技术和工具，提出多种经营商品生产的宝贵思想。这是我国现存的第一部完整的农业科学著作。

A项《齐民要术》是我国现存的第一部完整的农业科学著作，符合题意；

B项《资治通鉴》是北宋司马光主持编写的一部编年体通史，不符合题意；

C项《农政全书》是明朝末年徐光启编著的一部实用性很强的农业百科全书，书中记载了我国古代有关农业的理论和科学方法，还介绍了欧洲的水利技术。这是我国农学史上最早传播西方近代科学知识的书籍，不符合题意；

D项《天工开物》是明朝杰出的科学家宋应星所著的，总结明代农业和手工业生产技术，还反映了明代我国手工工场的生产面貌，涉及到农业和手工业等三十多个生产部门，作者在书中强调人类要和自然相协调、人力要和自然力相配合，不符合题意；

（2）根据题干中的“崇文抑武”等信息，联系所学知识，北宋建立后，宋太祖吸取了五代时期武将篡权，政权更替频繁的教训，采取了“重文抑武”的政策，客观上促使了宋代文化的昌盛。

C项北宋推行崇文抑武策略，符合题意。

（3）A项甲午战争发生在1894年，与题干时间不符；

B项八国联军侵华战争发生在1900年，与题干时间不符；

C项北伐战争发生在1926-1928年期间，与题干时间不符；

D项日本侵华战争发生在1931-1945年期间，与题干“20世纪30年代”的时间相符。

故答案为：（1）A；（2）C；（3）D。

【点评】（1）本题难度适中，考查学生灵活运用所学知识解决问题的能力及理解能力。

（2）本题难度较小，考查宋代“重文抑武”政策的有关知识。

（3）本题难度不大，考查选项四个战争的时间，识记即可。

6. 一个特殊的孩子完成了一次特殊的比赛，闪耀着特殊的光彩。据此回答小题。

（1）2019年4月24日，云南独腿少年高艳能放弃免考，靠着双拐和一条腿，以4分36秒“跳”完中考体育1000米，感动全场师生。在他身上最让我们感动的是（ ）

- A. 生命的韧性 B. 诚信的品质 C. 友善的态度 D. 集体的力量

（2）刚进初中时，面对个别同学异样的眼光，高艳能开始也难受。“习惯就好了！”他总是这样对自己说。高艳能这种调节情绪的方法是（ ）

- A. 合理宣泄 B. 转移注意 C. 放松训练 D.

改变认知

【答案】 (1) A (2) D

【考点】情绪的多样性、复杂性，塑造良好道德

【解析】 【分析】 (1) 独腿少年高艳能靠着双拐和一条腿，以4分36秒“跳”完中考体育1000米，体现了他敢于面对困难的勇气和坚强的意志，在他身上我们看到的是生命的韧性。A符合题意，正确。

BCD不符合题意，排除。


(2) 改变认知法就是指改变思维方式,从不同的角度,立场思考问题。面对个别同学异样的眼光，高艳总是这样对自己说“习惯就好了！”这是从不同的角度进行思考问题，属于改变认知法，D符合题意，正确。

ABC不符合题意，排除。

故答案为：(1) A；(2) D。

【点评】本题考查对生命的韧性和调节情绪的认识，主要考查学生的理解能力，合理地调节情绪有助于我们更好地适应环境，使我们成为情绪的主人。

7.下图是小明学习某国资产阶级革命时的笔记。适合填写在横线上的依次是（ ）



① 权利法案 ② 人权宣言 ③ 民主共和制 ④ 君主立宪制

A. ①③

B. ①④

C. ②③

D. ②④

【答案】 B

【考点】英法美资产阶级革命

【解析】 【分析】 根据题干笔记中的“1640年新议会的召开”，等信息，联系所学知识，1640年，英国国王查理一世召集新议会开会，希望筹措军费，镇压苏格兰发生的人民起义，新议会的召开，标志着英国资产阶级革命的开始。1689年，英国议会通过了《权利法案》，标志着君主立宪制的资产阶级统治开始确立。

B项①④适合填写在横线上，符合题意；

故答案为B。

【点评】本题难度较小，考查学生对英国资产阶级革命的有关知识的记忆能力。

③ 依靠社会舆论力量保证实施 ④ 为我们创造安全有序的社会环境

A. ①②

B. ①④

C. ②③

D. ③④

【答案】 B

【考点】 法律的特征和作用，维护社会公平与正义

【解析】 【分析】 题干材料中扫黑除恶专项斗争，依法打击黑恶势力和组织体现了法律维护社会正义，创造安全有序的社会环境，①④符合题意，正确。

② 不符合题意，题干材料没有体现法律的制定和认可。

③ 观点错误，法律是依靠国家强制力保证实施的。

故答案为：B。

【点评】 本题考查对法律的作用的认识，主要考查学生的理解能力，法律通过解决纠纷和制裁违法犯罪，维护我们的合法权益，是我们的保护神。

13. 纪念日主题教育活动是学校德育的重要载体。据此回答小题。

(1) 2018年12月4日，某校举行了以“宪法伴我成长”为主题的国家宪法日演讲比赛。该活动旨在引导学生（ ）

① 增强宪法意识 ② 认同宪法价值 ③ 践行宪法精神 ④ 参与宪法宣誓

A. ①②③

B. ①②④

C. ①③

④

D. ②③④

(2) 在6月26日国际禁毒日来临之际，某校组织学生开展了禁毒主题征文活动。小华同学拟定的以下征文小标题恰当的是（ ）

① 沾染毒品，必担民事责任 ② 依法自律，远离毒品侵害

③ 拒绝诱惑，注意防微杜渐 ④ 家校合作，共筑司法保护

A. ①②

B. ①④

C. ②③

D. ③④

【答案】 (1) A (2) C

【考点】 宪法与普通法律，法律对未成年人的特殊保护

【解析】 【分析】 (1) 学校开展“宪法伴我成长”为主题的国家宪法日演讲比赛，旨在引导学生 增强宪法意识，认同宪法价值，践行宪法精神，①②③符合题意，正确。

④ 观点错误，宪法宣誓主要针对国家公职人员进行。

(2) 吸毒违法，贩毒是犯罪行为，我们要依法自律，远离毒品，拒绝诱惑，防微杜渐，②③符合题意，正确。

① 错误，沾染毒品是行政违法行为。

④ 错误，司法保护的主体不是学校和家庭。

故答案为：（1）A；（2）C。

【点评】本题考查对增强宪法意识和预防违法犯罪的认识，主要考查学生的理解能力，生活在法治社会，我们应增强法治观念，依法自律，做一个自觉守法的人。我们要从小事做起，避免沾染不良习气，自觉遵纪守法，防患于未然。

14. 下面漫画中这类行为必须引起我们高度警惕。为公民要（ ）



- ① 增强维护国家安全的法治意识 ② 履行保守国家秘密的法定义务
③ 主动承担监管市场交易的责任 ④ 检举揭发危害国家安全的行为
- A. ①②③ B. ①②④ C. ①③
④ D. ②③④

【答案】 B

【考点】 权利和义务

【解析】 【分析】 题干漫画说明的是一些人以国家机密进行交易，危害国家安全，为此，启示我们公民要增强维护国家安全的法治意识，履行保守国家秘密的法定义务，检举揭发危害国家安全的行为，①②④符合题意，正确。

③ 不符合题意，监管市场交易是相关部门的责任。

故答案为：B。

【点评】 本题考查对履行维护国家安全的义务的认识，主要考查学生的理解能力，维护国家安全需要我们每个人作出贡献。维护国家安全是我们的共同责任，我们要增强国家安全意识，自觉维护国家安全。

15. 民之所盼，政之所向。2019年2月，湖州市十大民生实事项目正式出炉。据此回答小题。

（1）民生实事产生过程中，越来越多的市民积极建言献策，参与网上公开票选。这生动诠释了（ ）

- ① 民主监督与时俱进 ② 民主决策科学有序 ③ 民主选举公开公正 ④ 民主意识日益增强
- A. ①② B. ①③ C. ②④
D. ③④

（2）十大民生实事项目在市八届人大四次会议上由人大代表投票产生，并由市政府负责实施。这体现了（ ）

- ① 人大代表积极履行政治协商的职能 ② 人民代表大会制度实行民主集中制原则
 ③ 人民代表大会行使重大事项决定权 ④ 人民代表大会是本级人民政府的执行机关
- A. ①② B. ①④ C. ②③
 D. ③④

【答案】 (1) C (2) C

【考点】 党的领导与人民当家做主，依法治国与依法参与政治生活

【解析】 【分析】 (1) 题干材料中民生实事产生过程中，越来越多的市民积极建言献策，参与网上公开票选体现民主决策科学有序，公民的民主意识日益增强，②④符合题意，正确。

① 不符合题意，排除。

③ 不符合题意，题干材料没有体现民主选举的内容，应排除。

(2) 十大民生实事项目在市八届人大四次会议上由人大代表投票产生体现人民代表大会制度实行民主集中制的原则，人民代表大会行使重大事项决定权，②③符合题意，正确。

① 观点错误，政治协商是人民政协的职能。

④ 观点错误，本级人民政府是人民代表大会的执行机关。

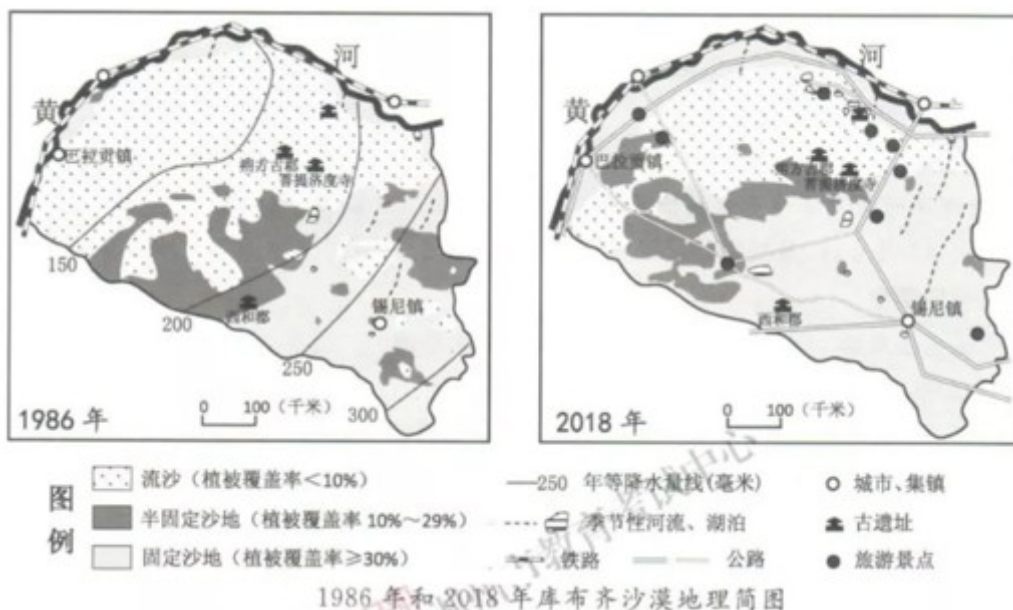
故答案为：(1) C；(2) C。

【点评】 本题考查对民主决策和增强公民民主意识和人大及职权的认识，主要考查学生的理解能力，本题根据所学知识，分析题肢选项，结合排除法可以选出正确的答案。

二、非选择题 (5 小题，共 48 分)

16. 阅读材料，回答问题。

内蒙古自治区的库布齐沙漠曾被称为“死亡之海”。几十年来，当地通过种植甘草等治沙措施，实现了“人进沙退”，吸引各方游客纷至沓来，成为践行“两山”理念的成功典范。



资料卡

甘草习性



宜旱作，喜阳怕涝，适宜在土层深厚、土质疏松、排水良好、灌溉便利的沙质土壤中生长。

(1) 根据上图和资料卡，说说库布齐沙漠种植甘草的有利自然条件。

(2) 根据上图，分析库布齐沙漠从“死亡之海”变成旅游胜地的原因。

【答案】 (1) 年降水量少，气候干旱光照强；临近黄河，有季节性河流、湖泊，灌溉便利；沙质土壤广布。

(2) 流沙面积减少，固定沙地面积增加，植被覆盖率提高；湖泊、河流增多。有铁路经过，兴建了多条公路，交通较为便利；古遗址多，开辟了多个旅游景点。

【考点】 运用地图图表描述区域自然环境和人文环境的特点

【解析】 **【分析】** (1) 库布齐沙漠种植甘草的优势自然条件主要从水源、土壤、气候分析。地下水埋藏深，甘草根茎发达，入土深，易获得深处水源。为土层深厚的沙质土壤，适宜甘草生长。气候干旱，光照强，甘草耐旱，喜阳怕涝。临近黄河，灌溉便利。

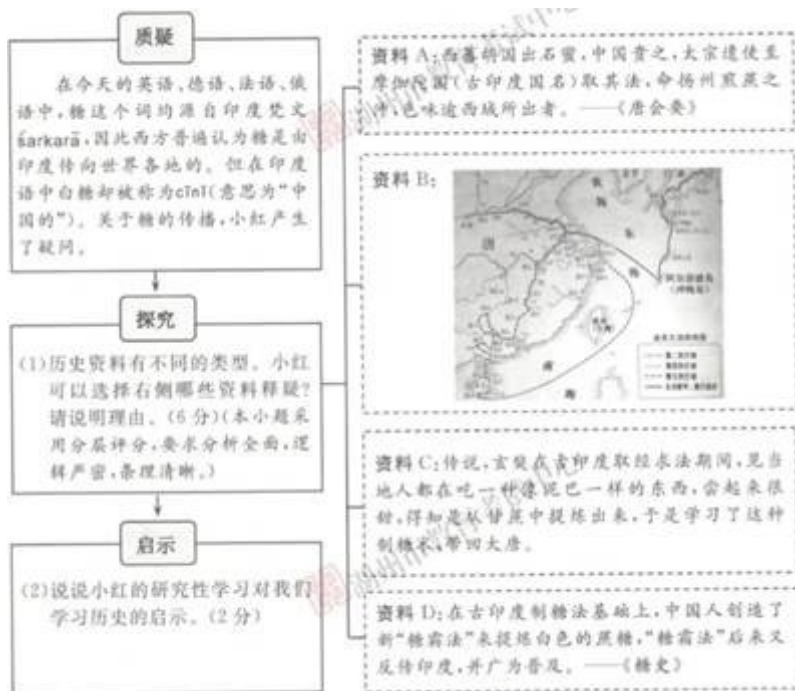
(2) 据图分析可知，库布齐沙漠通过对甘草的种植等措施进行了沙漠治理，流沙面积减少，固定沙漠面积增加，植被覆盖率提高，生态环境得到了改善。同时，利用当地有利的旅游景点和古遗址，对其进行开发，开辟了多个旅游景点，有铁路流经，兴建了多条公路，交通便捷，为游客提供了有利的交通条件。

故答案为：(1) 年降水量少，气候干旱光照强；临近黄河，有季节性河流、湖泊，灌溉便利；沙质土壤广布。

(2) 流沙面积减少，固定沙地面积增加，植被覆盖率提高；湖泊、河流增多。有铁路经过，兴建了多条公路，交通较为便利；古遗址多，开辟了多个旅游景点。

【点评】 库布齐地区由原来的森林，草原转变为沙漠的主要原因包括自然原因和人为原因两方向，自然原因是气候变化，处于气候变干时期，风力强劲，沙源丰富。人为原因是过度的砍伐、放牧和开垦，使地表失去植被保护。库布齐沙漠种植甘草的优势自然条件主要从水源、土壤、气候分析。库布齐沙漠治理可采取的合理措施是封沙禁牧、禁采，生态移民治沙。把治沙同旅游开发相结合，取得较好的环境效益和社会经济效益。

17. 中学生小红发现一个有关糖的奇特语言现象，于是开展了研究性学习。阅读材料，回答问题。



(1) 历史资料有不同的类型，小红可以选择上面哪些资料释疑？请说明理由。

(2) 说说小红的研究性学习对于我们学习历史的启示。

【答案】 (1) 选 ACD。理由：资料 A 属于文献资料，反映的是唐太宗时期印度制糖技术传入中国。资料 C 属于口述资料，印证了制糖技术由印度传入唐朝。资料 D 属于文献资料，反映了“糖霜法”由中国反传入印度，所以印度语中白糖被称为“中国的”。资料 B 属于文献资料，反映的是鉴真东渡，与糖在中印之间的传播无关。

(2) 运用不同的资料有理有据地分析历史事件；史论结合，论从史出，史由证来；树立证据意识，一分证据说一分话。

【考点】 秦皇汉武、唐宗宋祖

【解析】 【分析】 (1) 本题考查学生灵活运用所学知识解决问题的能力。围绕“西方普遍认为唐是由印度传向世界各地的”可选择的资料有 ACD，ACD 从不同方面证明了制糖技术的传播。而资料 B 反映的是鉴真东渡日本，与中印无关。

(2) 本题考查学生的知识迁移能力，属于开放性问题，学生言之有理即可。如：运用不同的资料有理有据地分析历史事件；史论结合，论从史出，史由证来；树立证据意识，一分证据说一分话。故答案为：(1) 选 ACD。理由：资料 A 属于文献资料，反映的是唐太宗时期印度制糖技术传入中国。资料 C 属于口述资料，印证了制糖技术由印度传入唐朝。资料 D 属于文献资料，反映了“糖霜法”由中国反传入印度，所以印度语中白糖被称为“中国的”。资料 B 属于文献资料，反映的是鉴真东渡，与糖在中印之间的传播无关。

(2) 运用不同的资料有理有据地分析历史事件；史论结合，论从史出，史由证来；树立证据意识，一分证据说一分话。

【点评】本题难度适中，考查学生充分利用论据说明论点的能力。

18.百年来，一代又一代湖州青年，在挽救国家危亡和实现民族复兴的过程中奉献了自己的青春。阅读材料，回答问题。

(1)【青春·呐喊】“京都学子，首创义举，士气奋扬，中外共仰。”1919年5月9日，湖州七校学生在老城隍庙集会并游行，高呼“勿忘国耻”“不买洋货”等口号。

湖州学子响应了哪一“义举”？联系材料简述该“义举”发生的直接原因。

(2)【青春·无悔】投笔从戎去，以身许家国。1945年2月，冷泉（安吉人，1927—1952）和3名同学参加新四军。1948年底，冷泉在安徽曹老集前沿阵地还顾敌人狂轰乱炸，英勇抢救伤员。1949年4月，随军横渡长江，解放南京。1951年，赴朝鲜参战，次年壮烈牺牲。

根据材料，写出冷泉在1948—1949年间参加的重大战役名称。

(3)【青春·先行】忽如一夜春风来，千树万树梨花开。20世纪70年代末80年代初，湖州织里一带的青年农民找到了共同的兴奋点：家家户户齐行动，裁布绣花踏“洋机”（缝纫机）；一副扁担走四方，练摊经商我先行。

青年农民的兴奋源于国家政策的春风。谈谈你对此的理解。

【答案】（1）五四运动。1919年的巴黎和会上，中国外交遭受挫折。

（2）淮海战役，渡江战役。

（3）1978年12月，十一届三中全会召开，作出了把党和国家工作中心转移到经济建设上来，实行改革开放的历史性决策。开启了我国改革开放和社会主义现代化建设的伟大征程。

【考点】新文化运动和五四运动，解放战争，十一届三中全会、改革开放

【解析】【分析】（1）本题考查五四运动的相关知识。根据“1919年5月9日”，联系所学知识，1919年，中国在巴黎和会上外交失败的消息传到国内，5月4日，北京的青年学生走上街头，提出“外争主权，内除国贼”等口号，举行集会、抗议等活动，五四运动爆发。

（2）本题考查解放战争的相关知识。1948年9月-1949年1月，中国共产党发动辽沈、平津、淮海三大战役，歼敌150多万，基本上消灭了国民党的主力，为解放江南奠定了基础，三大战役后，1949年4月21日，毛泽东、朱德向人民解放军发布向全国进军的命令，渡江战役开始，国民党苦心经营的长江防线，顷刻间土崩瓦解，23日，解放军占领南京，宣告了延续22年的国民党政权垮台。根据“安徽曹老集”这一信息，联系所学知识，可知冷泉参加了淮海战役；根据“横渡长江，解放南京”这一信息，联系所学知识，可知冷泉参加了渡江战役。

（3）本题考查改革开放的相关知识。根据“20世纪70年代末80年代初”等信息，联系所学知识，1978年12月，中国共产党十一届三中全会在北京召开。做出把党和国家的工作重心转移到社会主义现代化建设上来和实行改革开放的重大决策。我国从此走上改革开放、建设中国特色社会主义的正确道路。

故答案为：（1）五四运动。1919年的巴黎和会上，中国外交遭受挫折。

（2）淮海战役，渡江战役。

（3）1978年12月，十一届三中全会召开，作出了把党和国家工作中心转移到经济建设上来，实行改革开放的历史性决策。开启了我国改革开放和社会主义现代化建设的伟大征程。

【点评】本题难度适中，考查五四运动、解放战争、改革开放等相关知识。

19. 阅读材料，回答问题。

	<p>相关链接</p> <p>据统计，我国城市交通事故有近一半和电动自行车有关；有人身伤亡的道路安全事故中，电动自行车事故占到三分之一；电动自行车驾驶人或乘坐人因交通事故死亡的，80%以上是颅脑损伤所致。</p>
--	---

（1）结合相关链接，从生命角度说明漫画中的整治行为绝非“多此一举”。

（2）运用自由与法治关系的知识，评析漫画中骑行者的言行。

【答案】（1）生命是宝贵的，生命也是脆弱的，涉及电动车的交通事故多发，且因不戴头盔造成人员死亡率高。交警的整治行为有利于保障我们生命安全，提醒我们珍视生命、关爱生命，规范交通行为，增强安全意识和自我保护意识，所以绝非多此一举。

（2）电动车骑行者的言行是错误的。法治与自由相互联系，不可分割。法治标定了自由的界限，自由的实现不能触碰法治的红线。法治是自由的保障，法治保障人们合法权利和自由的享有。骑行电动车不戴头盔的行为超越了法治的界限，就会失去驾驶电动自行车的权利和自由。

【考点】生命的独特性，珍爱和尊重生命，权利和义务

【解析】【分析】（1）本题可以从生命是宝贵也是脆弱的，交警的整治行为有利于保障我们生命安全，规范交通行为，增强安全意识和自我保护能力等方面具体分析回答。

（2）本题可以先回答自由与法治的关系的内容，然后结合材料回答骑行电动车不戴头盔的行为超越了法治的界限，就会失去驾驶电动自行车的权利和自由。

【点评】本题考查对生命的特点，珍爱生命，自由与法治的关系等相关知识的理解和运用，主要考查学生利用所学知识分析问题和解决问题的能力，难度值一般。

20. 2019年，美国挑起的对华贸易战不断升级。5月，又发市对中国华为实施芯片等核心技术“断供”。这一系列事件引发了网友的关切。阅读材料，回答问题。

网友	观点
----	----

海阔天空	中国发展给世界提供了广阔的市场，美国政府的行为不仅与中国的发展理念相背，更是逆经济全球化潮流而动，必将搬起石头砸自己的脚！
风轻云淡	塞翁失马，焉知非福。美国的“断供”行为固然让人气愤，好在华为未雨绸缪，已经做好了应对的准备，这也给中国企业的发展提了个醒……
浪遏飞舟	美国的对华贸易战只是中华民族发展进程中的一道坎儿。面对艰难险阻，中国必将坚定信心、迎难而上，化危为机，斗出一片新天地！华为有为！中国加油！
……	……

- (1) “海阔天空”所指的中国的发展理念是什么？
- (2) 从企业创新的角度续写“风轻云淡”的观点。
- (3) 结合“浪遏飞舟”的观点，从民族精神角度分析中国敢于“斗出一片新天地”的力量源泉。

【答案】 (1) 合作共赢（或共享发展）。

(2) 核心技术不是别人赐予的，一定要掌握在自己手里，提升创新能力是企业持续发展之基、市场制胜之道。中国企业必须自强奋斗，敢于突破。

(3) 中华民族具有以爱国主义为核心的团结统一、爱好和平、勤劳勇敢、自强不息的民族精神。美国的对华贸易战是中华民族发展进程中面临的一个困难的挑战，而伟大的民族精神是中华民族面临无数考验，迎难而上、发展壮大的精神支柱，是激励中华儿女为民族复兴而奋斗的不竭精神动力。

【考点】 竞争与合作，传统美德与民族精神，实施科教兴国战略

【解析】 【分析】 (1) 中国发展给世界提供了广阔的市场说明中国的发展理念是合作共赢。

(2) 本题可以从提升企业创新能力，是企业持续发展之基、市场制胜之道。中国企业必须自强奋斗，敢于突破等方面进行具体分析回答。

(3) 本题可以先回答民族精神的内容，然后结合材料分析说明在中美贸易战中伟大的民族精神是中华民族面临无数考验，迎难而上、发展壮大的精神支柱，是激励中华儿女为民族复兴而奋斗的不竭精神动力。据此进行分析说明即可。

【点评】 本题考查中国发展坚持合作共赢，大众创业，万众创新和中华民族精神等相关知识的理解和运用，主要考查学生利用所学知识分析问题和解决问题的能力，难度值中等。

试卷分析部分

1. 试卷总体分布分析

总分：80分		
分值分布	客观题 (占比)	17 (21.3%)
	主观题 (占比)	63 (78.8%)
题量分布	客观题 (占比)	10 (50.0%)
	主观题 (占比)	10 (50.0%)

2. 试卷题量分布分析

大题题型	题目量 (占比)	分值 (占比)
选择题 (21 小题, 其中 1-10 题每题 1 分, 11-21 题每题 2 分, 共 32 分)	15 (75.0%)	32 (40.0%)
非选择题 (5 小题, 共 48 分)	5 (25.0%)	48 (60.0%)

3. 试卷难度结构分析

序号	难易度	占比
1	容易	15%

2	普通	80%
3	困难	5%

4. 试卷知识点分析

序号	知识点 (认知水平)	分值 (占比)	对应题号
1	2019 年时事	2 (1.3%)	1,2
2	学会从地图和图表中 获取信息	2 (1.3%)	3
3	世界典型区域	2 (1.3%)	3
4	古希腊罗马文明	1 (0.6%)	4
5	秦皇汉武、唐宗宋祖	11 (6.9%)	5,17
6	塑造良好道德	2 (1.3%)	6
7	情绪的多样性、复杂性	2 (1.3%)	6
8	英法美资产阶级革命	2 (1.3%)	7
9	洋务运动	2 (1.3%)	8
10	第二次世界大战	2 (1.3%)	9
11	新中国成立以来的外	2 (1.3%)	10

	交政策和外交成就		
12	改革开放前新中国成长的曲折历程	2 (1.3%)	10
13	理解与宽容	2 (1.3%)	11
14	法律的特征和作用	2 (1.3%)	12
15	维护社会公平与正义	2 (1.3%)	12
16	法律对未成年人的特殊保护	4 (2.5%)	13
17	宪法与普通法律	4 (2.5%)	13
18	权利和义务	12 (7.5%)	14,19
19	依法治国与依法参与政治生活	4 (2.5%)	15
20	党的领导与人民当家做主	4 (2.5%)	15
21	运用地图图表描述区域自然环境和人文环境的特点	8 (5.0%)	16
22	十一届三中全会、改革开放	10 (6.3%)	18

23	解放战争	10 (6.3%)	18
24	新文化运动和五四运动	10 (6.3%)	18
25	珍爱和尊重生命	10 (6.3%)	19
26	生命的独特性	10 (6.3%)	19
27	实施科教兴国战略	12 (7.5%)	20
28	竞争与合作	12 (7.5%)	20
29	传统美德与民族精神	12 (7.5%)	20

积分超值换

活动时间：2019年4月23日-6月30日

活动对象：中小学一线教师以及教育工作者



扫一扫 换礼啦

积 分 兑 换 更 超 值



会员升级服务第一拨 · 清北季



神马，有清华北大学霸方法论课；还有清华学霸向所有的父母亲述自己求学之路；

衡水名校试卷悄悄的上线了；

扫qq领取官网不首发课程，很多人我没告诉他啊！

会员qq专享等你来撩.....