

浙江省 2019 年初中学业水平考试（金华卷）历史与社会·道德与法

治试题卷

考生须知：

1. 全卷共两大题，25 小题，满分为 80 分，考试时间为 80 分钟。本次考试采用开卷形式。
2. 全卷分为卷 I（选择题）和卷 II（非选择题）两部分，全部在“答题纸”上作答。卷 I 的答案必须用 2B 铅笔填涂；卷 II 的答案必须用黑色字迹钢笔或签字笔写在“答题纸”的相应位置上。
3. 请用黑色字迹钢笔或签字笔在“答题纸”上先填写姓名和准考证号。

卷 I

说明：本卷有 20 小题，每小题 1.5 分，共 30 分。请用 2B 铅笔在“答题纸”上将最符合题意的一个选项相对应的小方框涂黑、涂满。

1. 2019 年 1 月 8 日，国家科学技术奖励大会在京举行。获得 2018 年度国家最高科学技术奖的是

A. 刘永坦 钱七虎 B. 刘永坦 屠呦呦 C. 王泽山 赵忠贤 D. 侯云德 钱七虎

2. 2019 年 4 月 1 日，《求是》杂志发表习近平总书记重要文章《关于坚持和发展中国特色社会主义的几个问题》。文章强调，关系党的事业兴衰成败第一位的问题是

A. 制度问题 B. 文化问题
C. 理论问题 D. 道路问题

库布齐沙漠是我国第七大沙漠，是世界上迄今唯一被整体治理的沙漠，被联合国确定为“全球治沙样本”。回答 3-4 题。



3. 读图，库布齐沙漠所处区域

A. 位于黄土高原 B. 属于温带大陆性气候
C. 地处南方地区 D. 在陕西和山西交界处

4. 库布齐沙漠治理面积达 6460 平方公里，绿化面积 3200 多平方公里，涵养水源 240 多亿立方米，创造生态财富 5000 多亿元。从“沙进人退”到“绿进沙退”的巨变告诉我们

A. 荒漠化是我国最主要的生态环境问题
B. 必须把治沙放在生态环境建设的首位
C. 为了保护自然环境可以不要经济发展
D. 改善生态环境能有效促进可持续发展

5. 下图为竖版世界地图的一部分。下列描述正确的是



- A. 甲地位于东半球的世界最大海洋上
- B. 乙地的生产生活景观垂直变化显著
- C. 丙所在洲和亚洲都以黄色人种为主
- D. 甲、乙、丙三地都有相似的温带景观

6. “从世界史的观点看，美国革命之所以重要，并不是因为它创造了一个独立的国家，而是因为它创造了一个新的、不同类型的国家”。这一观点指的是美国

- A. 确立了君主立宪制
- B. 提出了“三权分立”学说
- C. 首创了民主共和制
- D. 走上了对外扩张的道路

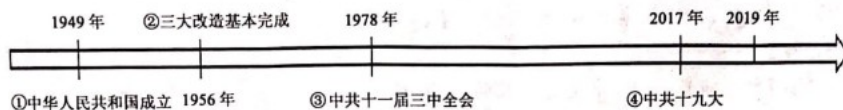
7. 面对亡国灭种的危局，中华民族一面英勇反抗外国侵略，一面开始了近代化道路的艰辛探索。下列对这期间历史事件之间关系的叙述，符合史实的是

- A. 鸦片战争爆发是虎门销烟的导火线
- B. 第二次鸦片战争直接导致辛亥革命的发生
- C. 《马关条约》的签订引发了公车上书
- D. 八国联军侵华战争结束后掀起了洋务运动

8. 据《中国共产党的七十年》记载：会议经过激烈的争论后，委托张闻天起草《中共中央关于反对敌人五次“围剿”的总结决议》，并增选毛泽东为政治局常委。这次会议是

- A. 中共一大
- B. 八七会议
- C. 遵义会议
- D. 中共八大

9. 70年奋进的脚步，70年光辉的历程。以下对建国70年来重大事件的解读，正确的有



- ① 开辟了中国历史新纪元
 - ② 建立了社会主义基本制度
 - ③ 迈出了经济体制改革的关键性一步
 - ④ 进入了中国特色社会主义新时代
- A. ①②③
 - B. ①②④
 - C. ①③④
 - D. ②③④

10. 随着共建“一带一路”朋友圈的越来越大，有人说，“一带一路”倡议就是中国版的“马歇尔计划”。结合知识链接，对比两者，以下观点正确的是

知识链接：

1947年美国国务卿马歇尔提出“欧洲复兴计划”，即马歇尔计划，该计划客观上对西欧的经济复苏起到了很大作用，实质是美国利用经济手段控制西欧，确立和巩固美国的霸权地位。

- A. 参与国家的地位都平等，但设计的道路完全不同
- B. 都超越了社会制度差异，但参与国家的范围不同
- C. 都削弱霸权主义和强权政治，但诞生的背景不同
- D. 都能促进相关国家的经济发展，但根本目的不同

11. 在四川凉山森林火灾的扑火行动中，30名消防队员和干部群众英勇牺牲。他们的壮

举诠释了

- ① 爱岗敬业、无私奉献的品格
- ② 充盈生命、平等待人的风范
- ③ 国家至上、舍生取义的情操
- ④ 临危不惧、舍我其谁的担当

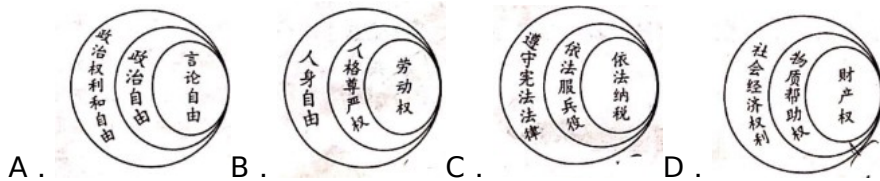
A . ①②③ B . ①②④ C . ①③④ D . ②③④

12 . 2019 年，我市继续全力推进扫黑除恶专项斗争，严厉打击了一批黑恶势力，取得了明显成效。这

- ① 维护了社会安全
- ② 健全了法律法规
- ③ 守护了社会正义
- ④ 实现了网络安全

A . ①② B . ①③ C . ②④ D . ③④

13 . 在学习“公民的基本权利和基本义务”这一内容时，小娟同学用图示法加以梳理。以下正确的是



14 . 2019 年 4 月，H 县公安局禁毒大队破获一起运输、贩卖毒品案，抓获嫌疑人徐某（20 岁），收缴冰毒 800 克，徐某随即被刑事拘留，并将由检察院提起公诉。根据我国刑法第 347 条“走私、贩卖、运输、制造毒品，无论数量多少，都应当追究刑事责任，予以刑事处罚”的规定，你认为徐某的行为

- A . 属于犯罪行为
- B . 社会危害程度相对轻微
- C . 可受司法保护
- D . 引起的诉讼属于行政诉讼

15 . 贫穷是实现人权的最大障碍。改革开放 40 年来，我国脱贫成就震惊世界。经过各级政府的共同努力，从 1978 年到 2017 年全国农村贫困人口减少 7 . 4 亿人，2018 年贫困发生率下降至 1.7%。从践行我国的宪法原则的角度看，这体现了

- A . 共同富裕
- B . 一切权力属于人民
- C . 共同繁荣
- D . 尊重和保障人权

创新是民族进步之魂，是引领发展的第一动力。回答 16-17 题。

16 . 2019 年全国两会上，政府工作报告首次提出“智能+”，要把人工智能打造成和互联网一样的基础设施，以实现人工智能与产业融合发展。从“中国制造”到“中国智造”说明我国

- ① 贯彻创新发展理念
- ② 增强自主创新能力，建设创新型国家
- ③ 统筹推进政治建设
- ④ 培养创新型人才，扩大对外开放格局

A . ①② B . ①④ C . ②③ D . ③④

17 . G 市坚持简政放权和改革创新相统一，推行“无证明城市”改革，依据“大数据共享”，实现群众“零跑腿”。对比漫画，G 市这一改革措施有利于



- ① 在制度创新中提高工作效率
- ② 扩大和保障公民的文化权利
- ③ 拓宽民主协商和监督的渠道

④建设人民满意的服务型政府

A. ①③ B. ①④ C. ②③ D. ②④

回首过去，汲取奋进的力量；立足当下，坚定前行的脚步。回答 18-20 题。

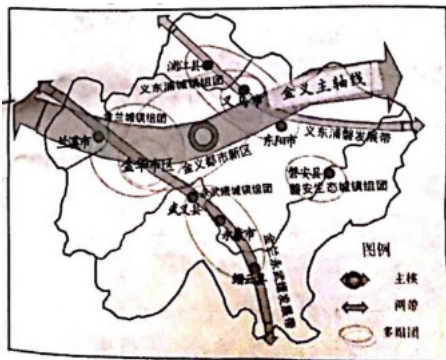
18. 【先辈同心，共迎解放】1949 年 5 月起，金华各地陆续解放。在长期的革命斗争中，无数先辈前赴后继，献出了自己宝贵的生命。其中，金佛庄于 1926 年 12 月被军阀孙传芳杀害。他牺牲于

A. 北伐战争时期 B. 土地革命战争时期
C. 抗日战争时期 D. 解放战争时期

19. 【义浦连心，共赢发展】2019 年 5 月 6 日起，浦江每日向义乌输送 3 万吨成品水。这一调水工程

A. 缘于义乌因降水稀少而导致缺水 B. 将水由灵江流域调往钱塘江流域
C. 使浦江经济优势转化为资源优势 D. 缓解了义乌水资源供应紧张状况

20. 【八婺齐心，共谱新篇】金义都市区是浙江省委省政府统一规划部署的四大都市区之一。金华市委市政府抓住这一促进金华高质量发展的新机遇，积极优化都市区规划体系。结合图示信息，你认为该规划体系可能包括



- ①打造便捷交通，完善配套设施
- ②做大民营经济，发挥主导作用
- ③依托各自优势，实现特色发展
- ④加强区域合作，组团协同发展

A. ①②③ B. ①②④
C. ①③④ D. ②③④

卷 II

说明，本卷有 5 小题，共 50 分。请用黑色字迹钢笔或签字和将答案定在“答题纸”的相应位置上。

21. (10 分) 美丽红村，山清水秀，出产的茶叶因品质好而闻名。读图，回答问题。

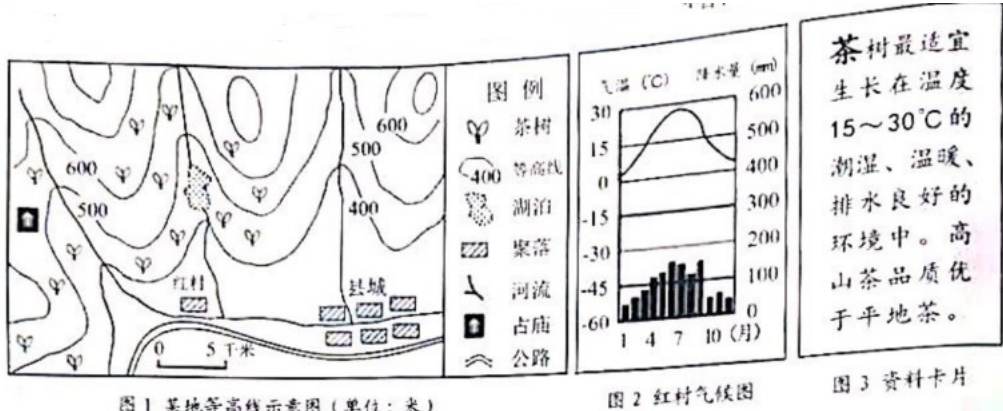


图 1 某地等高线示意图 (单位: 米)

图 2 红村气候图

图 3 资料卡片

- (1) 观察图 1 描述图示区域中聚落的分布特点。(2 分)
- (2) 结合图 1、图 2、图 3, 简析红村茶叶品质好的自然原因。(4 分)
- (3) 根据上述材料, 请你为红村的经济发 展提两条合理化建议, 并说明依托的有利条件。

22. (10 分) 民族团结, 民心所向, 国家统一, 大势所趋。阅读材料, 回答问题。

材料一: 管辖彰显主权

地区	朝代	机构
新疆	西汉	设置①, 总管西域事务, 保护往来商旅
西藏	元朝	设立②, 负责藏族地区的行政
台湾	元朝	设置澎湖巡检司, 负责管辖澎湖和琉球
	清朝	设置③, 隶属福建省

材二: 文物见证历史



- (1) 写出材料一中①②③的内容。(3 分)
- (2) 根据材料二, 归纳我国古代推动民族融合的不同方式。(2 分)
- (3) 综合上述材料, 提炼一个观点, 用相关的史实加以论证。(5 分)
- (温馨提示: 本小题分层给分, 要求观点鲜明, 史论结合, 逻辑严密。)

23. (10 分) 加强地方立法工作是法治中国建设的重要一环。阅读材料, 回答问题。

材料一, W 市某校九年级学生针对市区无序养犬现象, 开展模拟政协活动, 形成以下提案 (节选):

<p>关于市区养犬问题的提案</p> <p>【问题的找出】市区犬多, 犬类伤人事件频发, 影响卫生市容。犬类扰民现象普遍。</p> <p>【调查方法】实地调查、问卷调查、访问调查等。</p> <p>【调查过】...</p> <p>【结果与分析】部分市民认为, 养犬是个人的自由, 他人不应干涉; 多数市民认为, 应加强对养犬的管理……</p> <p>【建议与对策】制定相关法律法规, 规范养犬行为, 政府加强监管, 及时处置病犬、流浪犬…</p>
--

材料二: 无序养犬问题引起了 W 市人大高度关注。人大在广泛听取各方的意见后, 制定通过了《W 市养犬管理规定》。该法施行以来, W 市行政执法局建立了犬类管理长效机制, 加强执法监管力度, 市民养犬行为更规范, 恶犬伤人事件大幅减少, 城市变得更加文明美好。

- (1) 运用自由与法治关系的知识, 评析“养犬是个人的自由, 他人不应干涉”的观点。(3 分)

(2) 关注社会生活，参与社会实践。请简述学生参与模拟政协活动的意义。(2分)

(3) 结合材料二，阐述该市为建设法治中国是如何坚持厉行法治的。(5分)

24.(10分)文明因多样而交流。因交流而互鉴，因互鉴而发展。阅读社区宣传栏内容，回答问题。

<p>习近平主席曾多次讲述亚洲文明交流的重要意义。追溯各国的文明起源，他提到了“河”；讲述各个文明交流互鉴内涵，他阐释了“和”；为各国文明交流建言献策，他谈到了“合”。</p>		
<p>亚洲心声：3个“期待”</p> <p>期待一个和平安宁的亚洲。</p> <p>期待一个共同繁荣的亚洲。</p> <p>期待一个开放融通的亚洲。</p>	<p>2019年5月15日，习主席在亚洲文明对话大会上发表主旨演讲，提到了3个“期待”，提出了加强文明交流互鉴的“中国方案”，夯实共建亚洲命运运共同体，人类命运共同体的人文基础。</p>	<p>中国方案：4点“主张”</p> <p>一是坚持相互尊重，平等相待。</p> <p>二是坚持美人之美、美美与共。</p> <p>三是坚持开放包容、互学互鉴。</p> <p>四是坚持与时俱进、创新发展。</p>
<p>“未来之中国，必将以更加开放的姿态拥抱世界、以更有活力的文明成就贡献世界。”</p>		

(1) 请选择习主席讲述的“河”和“合”中的一个字，解读其寓意。(2分)

(2) “亚洲心声”，照应潮流。请概述当今世界有利于文明交流的时代背景。(4分)

(3) “中国方案”。中国担当。请从文化角度谈谈我国应该怎样以“更有活力的文明成就”，为构建人类命运共同体贡献中国力量?(4分)

25.(10分)每个时代都有青年勇立潮头，走在前列，阅读材料，回答问题。

<p>资料卡片1</p> <p>务望全国工商界，一律起来设法开国民大会，外争主权，内除国贼。中国存亡，就在此一举了！今与全国同胞立两个信条道：中国的土地可以征服而不可以断送！中国人民可以杀戮而不可以低头！国亡了！同胞起来呀！</p> <p>——《北京学界全体宣言》(节选)</p>	<p>资料卡片2</p> <p>六月三日北京学生大批被捕的消息传来，上海的爱国运动发展到一个新阶段：出现大规模的工厂罢工和商店罢市。那时，上海的产业工人近二十万人，加上交通运输工人、手工业工人和店员共达五十万人。五日上午，日本内外棉第三、第四、第五纱厂的工人首先罢工，其他工人相继响应丢工。</p> <p>——全冲及《二十世纪中国史纲》</p>	<p>资料卡片3</p> <p>战云密布下，生活在北平的学生，痛感“华北之大，已经放不下一张平静的书桌了”。1935年12月9日，在中国共产党的领导下，北平青年学生涌上街头，高呼“停止内战，一致抗日”“打倒日本帝国主义”等口号。</p> <p>——摘编自人教版九上《历史与社会》</p>
--	--	---

材料二：习近平总书记说，“我们要用欣赏和赞许的眼光看待青年的创新创造，积极支持他们在人生中出彩，为青年取得的成就和成绩点赞，喝彩。让青春成为中华民族生气勃发、高歌猛进的持久风景，让青年英雄成为驱动中华民族加速迈向伟大复兴的蓬勃力量！”

(1) 根据资料卡片1指出青年学生在这场运动中的作用，并结合资料卡片2分析运动主力的变化标志着什么?(3分)

(2) 依据资料卡片3，结合所学知识，谈谈此后中国共产党为挽救民族危亡是怎样将“打

倒日本帝国主义“等口号付诸行动的? (4分)

(3) 联系上述材料,作为新时代的青少年,你将如何努力成为“驱动中华民族加速迈向伟大复兴的蓬勃力量”? (3分)

历史与社会·道德与法治试卷参考答案

卷 I

本卷有 20 小题,每小题 1.5 分,共 30 分。

1. A 2. D 3. B 4. D 5. B 6. C 7. C 8. C 9. B 10. D

11. C 12. B 13. A 14. A 15. D 16. A 17. B 18. C 19. D 20. A

卷 II

本卷有 5 小题,每小题 10 分,共 50 分。

21. (1)沿河分布;在地势平坦的地方。

(2)地形:茶园多分布在丘陵山地,坡度较缓,排水顺畅,适宜种植茶树。

气候:亚热带季风气候,雨热同期,适合茶树生长;海拔较高,夏季气温相对较低,冬季温和,茶树生长期长,茶叶品质好。

(3)建议 1:发展以茶叶为主的特色产业;条件:茶叶品质好,市场广阔,交通便利等。建议 2:发展旅游业;条件:山水风光优美,茶园风光独特,有古庙等。

建议 3:发展水产养殖业;条件:有河流、湖泊等水域。

22. (1)① 西域都护府;② 宣政院;③ 台湾府。

(2) 武力征服与和平交往。

(3) 本题为分层赋分。观点示例:

观点 1:有效的边疆治理能推动统一多民族国家的发展。

观点 2:正确的政策有利于促进民族融合,维护国家统一。

观点 3:我国自古以来就是一个统一的多民族国家。

23.(1)这一观点是不正确的。法治与自由相互联系、不可分割,法治标定了自由的界限,又是自由的保障,如果不依法规范养犬行为,侵犯他人合法权益,最终将可能失去自由养犬的权利。

(2) 参与模拟政协活动有利于提高学生参与国家政治生活、表达自己意愿的能力,有利于学生了解社会,增强社会责任感;有利于锻炼才干,促进全面发展。

(3) 建设法治中国必须坚持厉行法治,做到科学立法、严格执法、公正司法、全民守法,该市人大在立法中广泛听取各方意见,实现了科学立法;该市行政执法局严格执法,积极履行职责,做到了依法行政;公民依法规范养犬行为,说明公民增强了尊法学法守法用法意识、规则意识和正解的权利义务观念。所以,我们必须坚定不移地走中国特色社会主义道路。

24. (1)“河”:大河流域孕育了亚洲早期文明。“和”:和平的理念,和而不同、和谐共处的智慧。“合”:合作共赢,共享发展机遇。

(2) 和平与发展的时代主题;经济全球化的基本特征。

(3)增强中华文化自信,夯实优秀传统文化根基,薪火相传,代代守护;推动中华优秀传统文化的与时俱进和创新性发展;展示中华文化的独特魅力,在交流互鉴中发展;坚持合作共赢建设一个开放包容的世界,构建人类命运共同体。

25. (1) 先锋作用。工人阶级开始以独立的姿态登上政治舞台。

(2) 促成西安事变的和平解决,标志着抗日民族统一战线的初步形成;七七事变后不久,国共实现第二次合作,抗日民族统一战线正式形成;取得平型关大捷,这是抗战以来中国

军队取得的第一次大捷；组织百团大战，给日军以沉重打击，振奋了人们争取抗战胜利的信心。

(3) 弘扬爱国主义精神；坚持中国共产党的领导；努力学习，勇于实践；服务社会，承担责任，实现人生价值等。

积分超值换

活动时间：2019年4月23日-6月30日
活动对象：中小学一线教师以及教育工作者



扫一扫 换礼啦

积 分 兑 换 更 超 值



会员升级服务第一拨 · 清北季



神马，有清华北大学霸方法论课；还有清华学霸向所有的父母亲述自己求学之路；
衡水名校试卷悄悄的上线了；
扫qq领取官网不首发课程，很多人我没告诉他啊！
会员qq专享等你来撩.....