

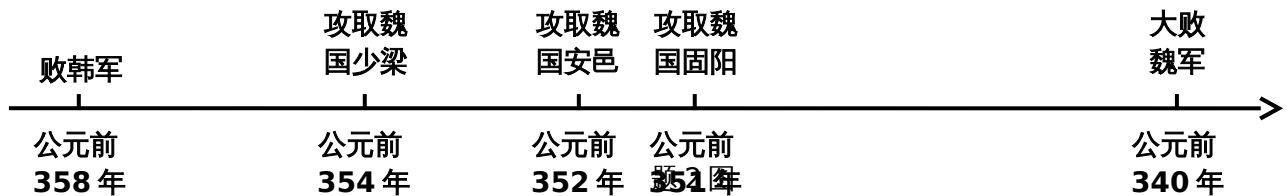
## 2019年广东省初中学业水平考试历史试题

一、单项选择题(本大题 25 小题，每小题 3 分，共 75 分。每小题列出的四个选项中只有一个是正确的。请将答题卡上对应题目所选的选项涂黑)

1.《周易·系辞下》记载，“黄帝、尧、舜……舟楫之利以济不通”。以下考古发现能够印证记载中“舟楫”的是

- A.辽宁建平出土的彩陶罐  
B.河南舞阳出土的七孔骨笛  
C.重庆巫山出土的筒形瓶  
D.陕西宝鸡出土的船形彩陶壶

2.对题 2 图所示秦国有关信息，理解正确的是



- A.商鞅变法成效显著  
B.分封制基本瓦解  
C.诸侯混战破坏经济  
D.改革图强成为风潮

3.公元 3 世纪，西域商人只有得到魏国敦煌太守仓慈发给的专门许可证，才可以去洛阳从事商业贸易。这种现象说明

- A.西北地区民族关系紧张  
B.丝绸之路仍在发挥作用  
C.中外文化交流基本中断  
D.政权分立影响经济发展

4.据记载，文成公主入藏时，携带的嫁妆有释迦佛像，360 卷经典，大量珍宝、金鞍玉辔、绸帛、种子，60 种营造与工技著作，100 多种医方、4 种医学论著等。丰富的嫁妆种类折射出唐朝

- A.对边疆统治加强  
B.民族交融成为主流  
C.经济文化的繁荣  
D.开元盛世成就辉煌

5.题 5 表所示赋粮比例信息说明

北宋熙宁九年(1076 年)赋粮南、北方所占比例

单位	总计	北方数	南方数	南方所占比例(%)
贯、石、匹、两	10018153	4414841	5603312	55.93

题 5 表

- A.黄河流域战乱频繁  
B.南方经济地位重要  
C.文化重心开始南移  
D.北民南迁速度加快

6.从设置宣政院到澎湖巡检司，从戚继光荡平倭寇到郑成功驱逐荷兰殖民者，从册封达赖、班禅到设置驻藏大臣。如果给上述史实提炼一个主题，较为合理的是

- A.政治的成熟与稳定  
B.文化的碰撞与交流  
C.国家的巩固与发展  
D.外交的开放与危机

7.乾隆嘉庆时期，文人大多埋头于古籍，不敢过问社会现实，考据之风大盛，形成为考据而考据的现象。这反映了清代

- A.思想专制加强  
B.传统文化衰落  
C.八股取士盛行  
D.儒家地位提高

8.19 世纪洋人苦于无法找到改变贸易困境的商品，在他们看来，“中国拥有一切东西，世界上最好的食物：米，最好的饮料：茶，最好的衣物：棉花、丝绸等”。“幸运的是一种新的商品出现了”，“新的商品”是

- A.棉纺织品  
B.机器  
C.鸦片  
D.枪炮

9.1872 年到 1875 年间，120 名赴美留学幼童中，人数居前三位的广东、江苏、浙江分别为 84 人、20

人和9人；甲午战争后，留学生的分布逐步向长江流域延伸。留学生地域分布的变化

- A.加速了科举制度的瓦解
- B.与近代化进程基本一致
- C.推动了洋务运动的开始
- D.加剧了中国的半封建化

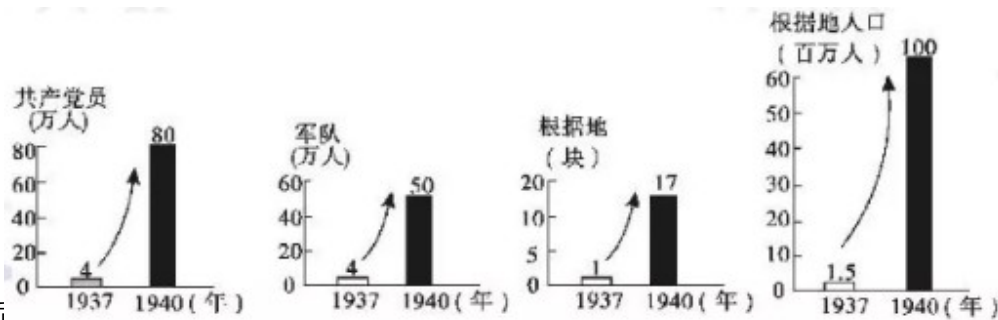
10.太后、皇帝和侍从“穿着普通人的粗布衣服，以免被官员认出，惶惶然向西逃亡。在长途的艰难流亡之后，10月23日，朝廷在西安重建起来。”这情形出现在

- A.鸦片战争期间
- B.第二次鸦片战争期间
- C.甲午中日战争期间
- D.八国联军侵华战争期间

11.有学者认为，维新变法、辛亥革命等失败的原因在于没有发动普通民众；五四运动中，年轻的工人阶级为站在潮头的青年知识分子先锋队提供了可靠而强大的后盾。该学者旨在说明

- A.维新变法主张君主立宪
- B.辛亥革命缺乏社会基础
- C.五四运动具有爱国性质
- D.政治革命需要民众参与

12.对题12图所示信息理解正确的是



- A.敌后
- C.全民抗战取得重大成果
- D.日本“囚笼”政策破产

13.“妥协”在现代汉语词典中的解释为“用让步的方法避免冲突或争执”。下列事件通过“妥协”方法解决的是

- A.九一八事变
- B.华北事变
- C.西安事变
- D.卢沟桥事变

14.题14图漫画作者意在说明

- A.社会主义建设遭遇到挫折
- B.人民的生产热情空前高涨
- C.经济建设要尊重客观规律
- D.大跃进遏制浮夸风的蔓延



15.邓小平说：“这些年来搞改革的一条经验，就是首先调动农民的积极性，把生产经营的自主权利下放给农民。”下列能够体现这一主张的是

- A.农业合作社
- B.农业集体化
- C.人民公社
- D.家庭联产承包责任制

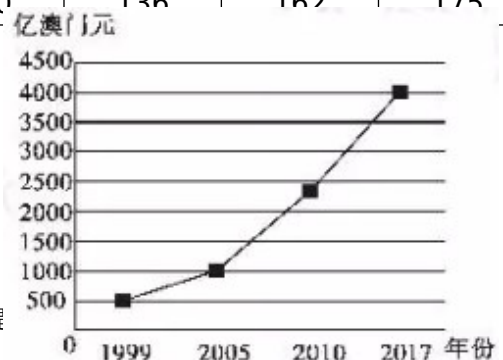
16.题16表信息反映了

1949-2017年与中国建交国家数量

年份	1949年	1959年	1969年	1979年	1989年	1999年	2017年
国家数量(个)	10	34	45	120	136	162	175

题16表

- A.世界殖民体系走向瓦解
- B.中国国际地位不断提高
- C.第三世界力量日益壮大
- D.改革开放增强综合国力



题17图 澳门生产总值增长

17. 题 17 图澳门生产总值增长说明

- A. 广东与澳门联系加强
- B. 祖国统一是大势所趋
- C. 澳门社会呈现繁荣景象
- D. 一国两制助推澳门发展

18. 在西欧，庄园为领主提供日常消费的面粉、奶酪、火腿、蔬菜等食物，也为领主提供衣物、鞋帽等。庄园有铁匠、金银匠、皮鞋匠、面包师等各色工匠制造不同的物品。这说明西欧庄园

- A. 具有自给自足特征
- B. 是独立的政治单位
- C. 具有地方管理功能
- D. 是地方经济的中心

19. “当地的印第安人无法用来做种植园的活，因为他们染上了来自欧洲的疾病，正在灭绝。种植园主起初想雇用欧洲的契约工人，但是，他们的工资太高且自由散漫”。种植园劳动力不足的现象引发了

- A. 新航路开辟
- B. 殖民扩张
- C. 奴隶贸易
- D. 工业革命

20. 列宁在 1895 年指出：“这本书篇幅不多，价值却相当于多部巨著；它的精神至今还鼓舞着、推动着文明世界全体有组织的正在进行斗争的无产阶级。”这本书是

- A. 《自然哲学的数学原理》
- B. 《共产党宣言》
- C. 《物种起源》
- D. 《战争与和平》

21. 19 世纪 70 年代起，在日本过去认为是脏物的牛肉、牛奶开始被列为上等食品，东京、大阪、横滨、神户各地出现许多牛肉菜馆。“士农工商，男女老少，贤愚贫富等咸以不吃牛肉为不开化”。上述变化表明日本

- A. 政治改革促进社会平等
- B. 殖产兴业推动经济发展
- C. 文明开化影响社会生活
- D. 教育发展提升国民素质

22. 在反抗殖民压迫时，主张“将管理家庭生活的法则延伸到政治领域，家庭的纠纷与分歧，通常是依从爱的法则而解决的”，认为“以眼还眼，世界只会更盲目”的运动是

- A. 华夫脱运动
- B. 非暴力不合作运动
- C. 巴拿马收回运河
- D. 纳米比亚独立运动

23. 1941 年罗斯福宣布“美国决心在可能的范围之内，全力援助苏联”。同年 9 月 29 日至 10 月 1 日，苏美英三国代表团在莫斯科签订了在短期内向苏联提供援助的议定书。上述情况出现的背景是

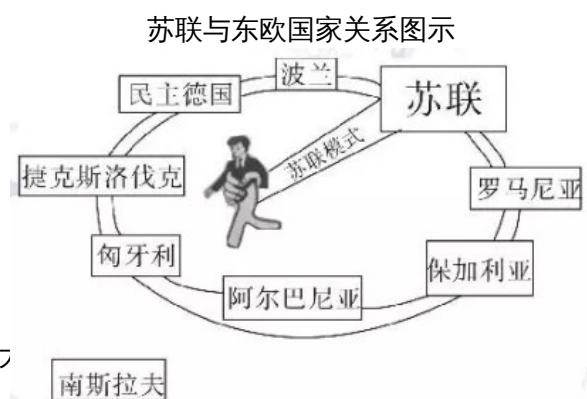
- A. 苏德战争爆发
- B. 太平洋战争爆发
- C. 世界反法西斯同盟形成
- D. 雅尔塔会议召开

4. 题 24 图漫画说明了

- A. 社会主义阵营基本瓦解
- B. 两极格局局面基本形成
- C. 苏联经济改革取得重大成效
- D. 苏联模式的推广具有强制性

25. 美国现任总统特朗普执政以来，多次向全球挥舞关税 7 亿美元商品的关税提高到 25%。特朗普的做法

- A. 违背了世界贸易组织宗旨
- B. 加速了经济全球化的进程
- C. 阻碍了多极化格局的形成
- D. 背离了联合国宪章的原则



0

题 24

图

二、综合题(本大题 2 小题，26 题 13 分，27 题 12 分。共 25 分)

26. (13 分)近代以来，中国民族工业的产业分布及结构特征的变迁，见证了中华民族的奋斗历程。阅读材料，回答问题：

材料一 如题 26-1 表

1895-1913 年民间资本厂矿企业地域分布

	总计	上海	武汉	天津	广州	杭州	无锡	其它
厂矿数	549	83	28	17	16	13	12	380
资本额(千元)	120288	23879	17240	4219	5791	1552	1422	66185

——汪敬虞《中国近代工业史资料》

题 26-1 表

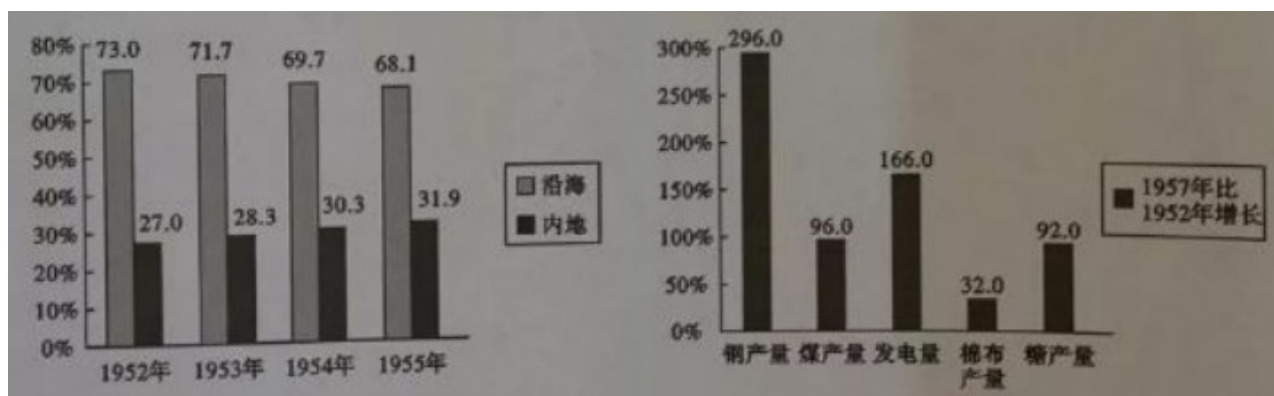
材料二 抗战前，中国数量有限的工厂，大半集中于沿海省份，“七七”事变后，政府即下令沿海各厂矿迁入内地。从 1937 年 7 月到 1940 年底，三年半时间，完成了中国有史以来第一次工业大迁移。内迁厂矿区域分布，以四川为最多，占内迁总数 54.67%，湖南次之，占 29.21%，陕西占 5.90%，广西占 5.11%，其他各省占 5.11%。这些内迁厂矿，为战时大后方工业重建与发展，奠定了基础。

——摘自吴景平、曹振威《中华民国史》

材料三 如题 26-2 图

1952-1955 年沿海与内地工业产值比重(%)

1957 年比 1952 年部分工业品产量增长(%)



——孙健《20 世纪的中国——走向

题 26-2 图 ——胡绳《中国共产党的七十年》

(现代中国历史进程与经济建设 1949-1976 年) 1895-1913 年民间厂矿企业分布的特点，并结合所学知识回答，造成这种分布特点的原因。(3 分)

(2) 根据材料二并结合所学知识，指出“中国有史以来第一次工业大迁移”的原因并分析其意义。(4 分)

(3) 观察材料三图，指出这一时期我国工业发展呈现的特点。这些特点对我国经济建设产生了什么影响？(4 分)

(4) 综上所述，你从我国工业发展历程中获得哪些启示？(2 分)

27.(12 分)从某种意义上来说，近现代史就是一部现代化的发展史，而现代化的核心是人的现代化，也就是人通过努力逐渐解除各种束缚而获得自身解放的历史。阅读材料，回答问题：

材料一 文明之所以进，其原因不一端，而思想自由，其总因也，欧洲之所以有今日，皆由十四五世纪时，古学复兴，脱教会之樊篱，一洗思想界之奴性。

——梁启超《保教非所以尊孔论》

材料二 近代法国史学家薛纽伯曾说：“旧时的法律是贵族的，它把人分成一些不平等的阶级……现在社会是德谟克拉西(民主)的，它已使一切人在法律之前平等。”

——摘自[法]薛纽伯《现代文明史》

材料三 “机器人革命”是第三次工业革命的有机组成部分。如果说第二次工业革命实现了机器对人的体力劳动的替代，“机器人革命”则推动了机器对人的脑力劳动的替代……由于机器的功能延伸和对人的替代，单一生产单无中对人的需求量相对下降；随着机器复杂度的增加，实际上对产业工人在多领域的技能和编程、系统处理等方面的知识提出了更高要求。

——摘自人民日报《第三次工业革命的切入点和重要增长点》

- (1)材料一中的“古学复兴”指什么？梁启超认为其意义是什么？(3分)
- (2)材料二中薛纽伯认为“现在社会”法律对人的意义是什么？并以资产阶级革命时代欧美国家颁布的法律文献及其内容予以说明(任举一例)。(3分)
- (3)根据材料三，指出第二次工业革命是如何使人得到解放的？“机器人革命”对人产生了哪些影响？(3分)
- (4)综上所述，你认为在人的解放中最重要的是哪方面？另举一例史实加以论述(中外史实皆可)。(3分)

**2019年广东省初中学业水平考试**  
历史试题参考答案及评分标准

一、选择题(本大题共 25 小题，每小题 3 分共 75 分)

题号	1	2	3	4	5	6	7	8	9	10
答案	D	A	B	C	B	C	A	C	B	D
题号	11	12	13	14	15	16	17	18	19	20
答案	D	A	C	C	D	B	D	A	C	B
题号	21	22	23	24	25					
答案	C	B	A	D	A					

二、综合题(本大题共2小题,26小题13分,27小题12分,共25分)

26.(1)特点:沿海和长江流域(通商口岸周围)(1分)

原因:沿海和长江流域最先遭受西方经济设略;自然经济较早解体;被开辟为通商口岸,开放较早;交通便利等。(任等一点1分,不超过2分)

(2)原因:抗日战争(或日本全面侵华);政府组织内迁等。(任答一点1分)

意义:为大后方工业重建奠定基团;为抗日战争胜利提供物质条件;保存民族工业基本力量;有利于促进工业合理布局;促进内地工业发展等。(任答一点1分,不超过3分)

(3)特点:沿海工业比重大,内地工业比重小;(1分)

重工业发展迅速,轻工业发展相对较慢。(1分)

影响:工业布局渐趋合理;奠定工业化基础;开始改变工业落后的面貌;一定程度上造成国民经济比例失调;影响人民生活水平的提高等。(任答一点1分,不超过2分)

(4)启示:工业布局要合理;经济协调发展;提高人民生活水平等。(任答点1分,不超过2分)

27.(1)文艺复兴(分)

意义:把人从教会束缚下解放出来;促进了思想解放。(任答一点1分,2分)

(2)意义:法律面前人人平等(1分)

说明:文献名称1分,对应内容说明1分,共2分。

示例:英国《权利法案》:规定国王不能随意废除法律,确立了法律至高无上的地位;

美国《独立宣言》:人生而平等,享有生命权、自由权和追求幸福的权利;

法国《人权宣言》:宣告人权、法治、自由、分权、平等和保护私有财产。

(3)第二次工业革命实现了对人的体力解放。(1分)

影响:“机器人革命”实现了对人的脑力解放;对劳动力的需求量下降;对人的知识和技能等提出更高要求。(任答一点1分,2分)

(4)方面:思想解放、政治解放、体力解放等(任答一方面可得1分)

论述:史实、论述各1分(不能重复材料中出现的史实)

示例:

①思想解放最重要。(1分)

新文化运动(1分)动摇封建道德礼教的统治地位。(1分)

②政治解放最重要。(1分)

新中国成立(1分)使中国人民站起来。(1分)

③体力解放最重要。(1分)

汽车的发明和使用(1分)改变人的出行方式,扩大人的活动范围。(1分)

评分说明:

1.文字表述不要求与参考答案完全一致。

2.符合题意,意思相近,可酌情给分。

# 会员升级服务第一拨 · 清北季



神马，有清华北大学霸方法论课；还有清华学霸向所有的父母亲述自己求学之路；

衡水名校试卷悄悄的上线了；

扫qq领取官网不首发课程，很多人我没告诉他啊！

会员qq专享等你来撩.....