

## 八年级九月学情调研数学试卷答题纸

一. 选择题 (每题有且只有一个答案正确, 请把你认为正确的答案前的字母填入下面相应的空格内, 每题 3 分, 计 24 分)

1	2	3	4	5	6	7	8

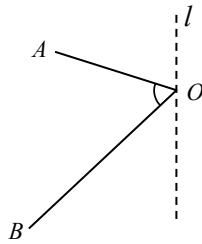
二. 填空题 (本空 2 分, 计 22 分)

1. \_\_\_\_\_ . 2. \_\_\_\_\_ . 3. \_\_\_\_\_ 4. \_\_\_\_\_ .  
 5. \_\_\_\_\_ , \_\_\_\_\_ . 6. \_\_\_\_\_ , \_\_\_\_\_ . 7. \_\_\_\_\_ .

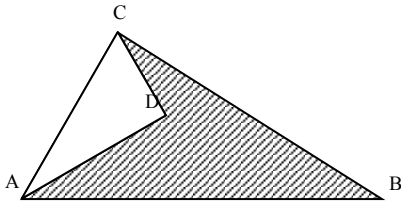
三. 解答题

1. 作图题 (本题共 6 分)

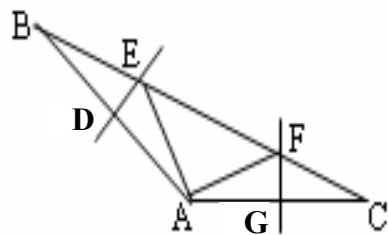
画出一个角关于直线  $l$  对称的图形;



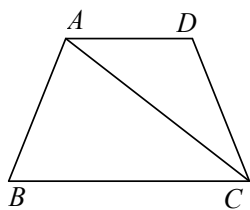
2. (8分)



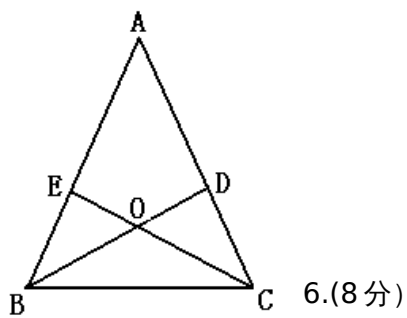
3. (8分)



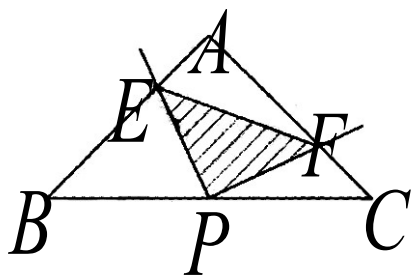
4. (8分)



5. (8分)



6. (8分)



7. (8分)

