

三年级数学阶段性检测 2013.3

一、计算。(36分)

1、直接写得数。(8分)

$600 \div 3 =$ $480 \div 4 =$ $540 \div 9 =$ $360 \div 3 \div 2 =$

$550 \div 5 =$ $22 \times 3 =$ $630 \div 7 =$ $400 \div 4 \div 2 =$

2、用竖式计算。(打*的要验算)(22分)

$* 516 \div 3 =$

$* 263 \div 5 =$

$728 \div 7 =$

$657 \div 9 =$

$482 \div 4 =$

www.Xkbl.coM

3、在○里填上“>”、“<”、“=”。(6分)

$372 \div 4 \bigcirc 101$

$320 \div 2 \bigcirc 16$

$606 \div 6 \bigcirc 300 \div 3$

$435 \div 5 \bigcirc 90$

$324 \div 3 \bigcirc 108$

$0 \div 415 \bigcirc 0 \times 415$

二、填空。(14分) 新课标 第一网

(1) 一年中有()个月,其中()个大月,()个小月。

(2) 2007年的上半年有()天,算式是()。

(3) 每年的第四季度是()月、()月和()月,一共是()天。

(4) 在 1996 年、2001 年、2008 年、2010 年、2032 年、2100 年这些年份中，是闰年的有：_____。

(5) 他们每个人的生日分别是几月几日？



小军

我的生日一过完，就接着过劳动节。

我的生日是国庆节前 3 天。



小红



小芳

我的生日是一年的最后一天。

我的生日比儿童节晚两天。



小勇

小军的生日是 () 月 () 日；小红的生日是 () 月 () 日
小芳的生日是 () 月 () 日；小勇的生日是 () 月 () 日

三、选择。(将正确答案的序号填在括号里) (8 分)

(1) $423 \div \square$ ，要使商是两位数，“ \square ”里可以填 ()。

- ① 小于 4 的数 ② 大于 4 的一位数 ③ 4

(2) () 的第一季度有 90 天。

- ① 每年 ② 平年 ③ 闰年

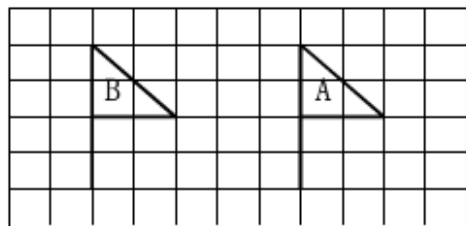
(3) 下图中的小旗 A () 到 B 处。

① 向右平移 3 格

② 向左平移 3 格

③ 向左平移 5 格

④ 向右平移 5 格



(4) 同在大月的节日有 ()。

- ① 元旦和教师节 ② 建军节和“三八”妇女节 ③ 清明节和植树节

四、判断。对的打“√”，错的打“×”。（5分）

1、任何数除以1都得1。……………（ ）

2、 $405 \div 3$ ，商中间有一个0。……………
（ ）

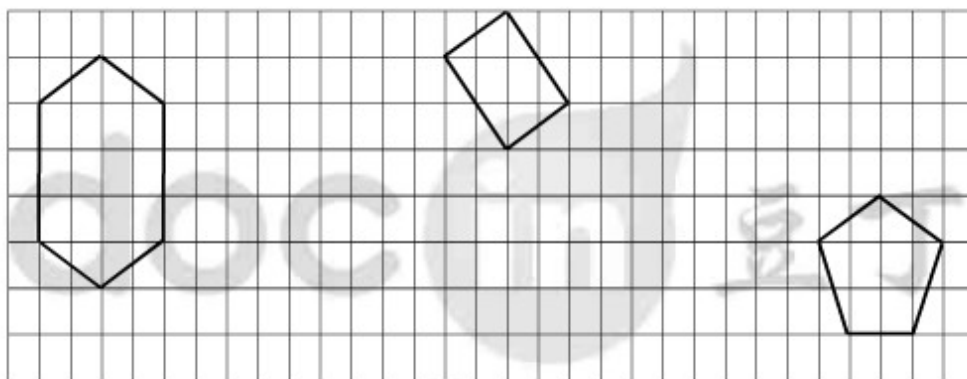
3、小强拧雪碧瓶盖是旋转。……………（
）

4、二月份最多有4个星期一。……………（
）

5、最大的三位数除以最小的一位数，商是111。……………（
）

五、画一画。（9分）

将六边形向右平移6格，五边形向上平移4格，四边形向下平移5格。

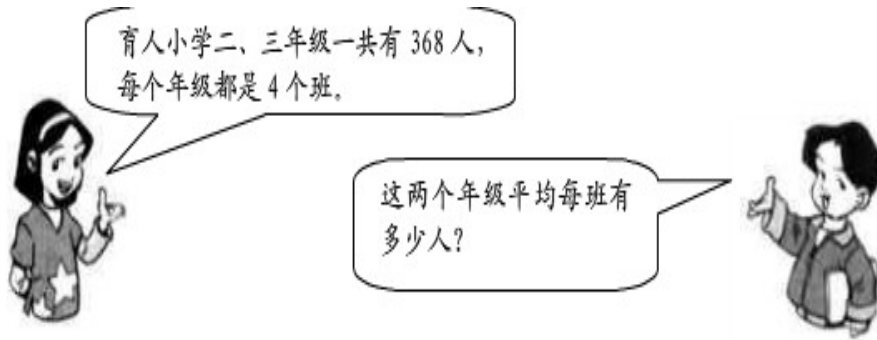


六、解决问题（3分+5分×5=28分）

1、一台压路机3天一共压路906米，平均每天压路多少米？

2、有两本集邮册，每本都放满了 4 页，每页都有 8 张，一共有多少张邮票？

3



4、张虎家第一季度用电 142 度，第二季度用电 134 度，他家这两季度平均每月用电多少度？

5、小王和他的 7 个同事 5 天共安装了 400 台空调，平均每人每天安装多少台？

新课标 第一网

6、A、B 两城间的公路长 500 千米，一辆汽车每小时行 80

千米，上午 9 时从 A 城出发，下午 3 时能到达 B 城吗？