

义务教育教科书数学三年级上册

期末调查试卷 (A) 2016.1

班级 _____ 姓名 _____ 成绩 _____

一、直接写出得数

$5 \times 80 =$ $96 \div 3 =$ $200 \div 4 =$ $7 \times 13 =$

$12 \times 4 =$ $560 \div 7 =$ $17 \times 5 =$ $84 \div 6 =$

$600 \div 2 =$ $2 \times 46 =$ $80 \div 5 =$ $300 \times 9 =$

$\frac{3}{5} + \frac{1}{5} =$ $\frac{5}{7} - \frac{2}{7} =$ $\frac{5}{9} + \frac{2}{9} =$ $\frac{9}{10} - \frac{2}{10} =$

二、用竖式计算，带*的题要验算

57×4 608×6 $* 297 \div 3$ 验算：

8×250 $540 \div 5$ $* 763 \div 4$ 验算：

三、填空

1. 20×6 可以看作 2 个 () 乘 6, 200×6 可以看作 2 个 () 乘 6, $400 \div 5$ 可以作 () 个十除以 5。

2. $2 \square 3 \times 4$, 要使它的积是四位数, \square 里最小填 ()。

$6 \square 9 \div 6$, 要使它的商中间是 0, \square 里最小填 (), 最大填 ()。

3. 在括号里填合适的单位。

(1) 10 枚 1 元的硬币大约重 60 ()。

(2) 数学书封面的周长大约是 90 ()。

- (3) 1 棵白菜大约重 2 ()。
4. 一袋冰糖重 325 克, 9 袋这样的冰糖接近 () 千克。
5. 把 4 千克、4400 克、500 克、4040 克按从轻到重的顺序排列。
() < () < () < ()
6. 6 个 1 平方厘米的小正方形纸片拼成一个长方形, 这个长方形的周长可能是 () 厘米, 也可能是 () 厘米。
7. 一个正方形的边长是 5 分米, 它的周长是 () 米。
8. 李师傅 3 小时加工了 326 个零件, 张师傅 5 小时加工了 410 个零件。 () 师傅做得快一些。
9. 冬冬家有一块菜地, 其中的 $\frac{1}{6}$ 种青菜, $\frac{2}{6}$ 种萝卜, $\frac{3}{6}$ 种白菜。青菜和萝卜一共占这块地的 $(\frac{\quad}{\quad})$, 白菜比青菜多占这块地的 $(\frac{\quad}{\quad})$ 。
10. 小华把一块巧克力平均分成了 5 小块, 第一天吃了 1 小块, 第二天吃了剩下的一半。他第一天吃了这块巧克力的 $(\frac{\quad}{\quad})$, 第二天吃了这块巧克力的 $(\frac{\quad}{\quad})$ 。

四、选择合适的答案, 在 里画“√”

1. 一袋大米的价格是 32 元, 买 5 袋这样的大米, 全部付 10 元的人民币, 一共要付几张?

15 张 16 张 17 张

2. 哪道算式与 $133 \times 4 \times 2$ 的得数不相等?

133×6 8×133 133×8

3. 信封里装的是一个四边形。
这个四边形是不是长方形?

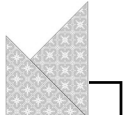


一定是 一定不是 可能是, 可能不是

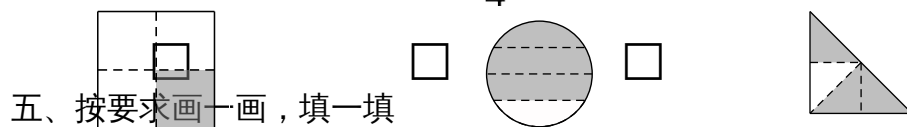
4. 一个长方形的长和一个正方形的边长相等, 哪个图形的周长长一些?

长方形 正方形 不能确定

5. 下面的图案, 哪个是轴对称的?




6. 哪个图形里的涂色部分可以用 $\frac{3}{4}$ 表示？




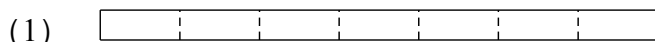
五、按要求画一画，填一填

1. 画一个边长 4 厘米的正方形，再画一个长 6 厘米、宽 2 厘米的长方形。(每个小方格的边长表示 1 厘米)



正方形的周长是 () 厘米；长方形的周长是 () 厘米。

2. 在直条 (1) 里涂色表示 $\frac{2}{7}$ ，直条 (2) 里涂色表示 $\frac{3}{7}$ ，并比较两个分数的大小。



$$\frac{2}{7} \bigcirc \frac{3}{7}$$

把两个直条的空白部分用分数表示出来，并比较它们的大小。

$$\frac{(\quad)}{(\quad)} \bigcirc \frac{(\quad)}{(\quad)}$$

六、解决实际问题

1. 今年小芳 8 岁，奶奶 64 岁，妈妈的年龄比小芳的 4 倍还多 3 岁。

(1) 奶奶的年龄是小芳的几倍？

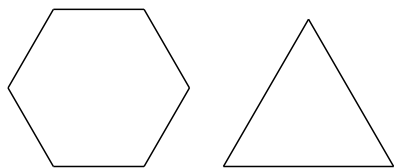
(2) 妈妈今年多少岁？

2. 吴老师在文具商店买了一台打印机和 8 包同样的打印纸，一共用去 700 元。

打印机的价格是 580 元，每包打印纸多少元？

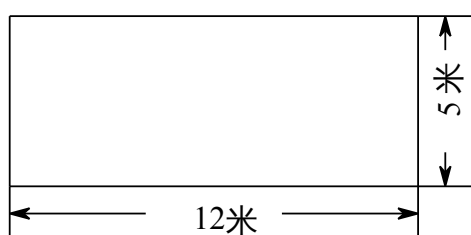
3. 运动员进行负重跑训练，第一次跑 50 分钟，以后每一次都比前一次多跑 5 分钟。第四次跑了多少分钟？

4. 校园里有两个花圃（形状如下图），六边形花圃的周长是 48 米，三角形花圃的周长比六边形花圃少 3 米。如果三角形花圃的栅栏每边长度都相等，每边的栅栏长多少米？



5. 李平家收获的核桃和红枣一共 43 袋。卖掉 15 袋核桃后，剩下的核桃和红枣袋数相等。他家收获的红枣有多少袋？核桃有多少袋？

6. 王大伯家有一块长方形空地，长 12 米，宽 5 米。他准备用篱笆围出一个尽可能大的正方形做鸡舍，剩下的做菜地。围鸡舍的篱笆一共长多少米？如果把菜地也用篱笆围起来，至少还需要篱笆多少米？



不用注册，免费下载！