

# 新苏教版三年级数学下册第八单元检测卷 (B)

姓名 \_\_\_\_\_ 得分 \_\_\_\_\_

## 一、小华收集了自己班女生 1 分钟跳绳的成绩 (16 分)

序号	成绩/个	序号	成绩/个	序号	成绩/个	序号	成绩/个
1	72	5	88	9	55	13	76
2	85	6	95	10	76	14	104
3	45	7	100	11	36	15	101
4	16	8	98	12	87	16	99

### 1、整理上表中的数据：(6分)

成绩	50 个以下	50 - 84 (包括 50、84)	84 个以上
人数			

2、这个班女生 1 分钟跳绳的最好成绩是多少？最差的成绩呢？




这两个成绩相差多少？(5分)

3、成绩在 85 个或 85 个以上为优秀，50 个以下不及格，有多少人的成绩达到优秀？有多少人不及格？(5分)

## 二、根据下面的信息回答问题 (每空 2 分，共 14 分)



### 1、填写下表。

喜欢吃的水果			
人数			

回答问题。

- (1) 喜欢吃 ( ) 的人数最多，喜欢吃 ( ) 的人数最少。
- (2) 喜欢吃苹果的同学比喜欢吃梨的同学多 ( ) 人。
- (3) 喜欢吃梨的同学和喜欢吃香蕉的同学共 ( ) 人。

种类	客车	货车	面包车	小轿车
辆数(辆)				

### 三、气象小组把6月份的天气作了如下记录：(20分)



1	2	3	4	5	6	7	8	9	10
11	12	13	14	15	16	17	18	19	20
21	22	23	24	25	26	27	28	29	30

1、把晴天、雨天、阴天的天数分别填在下面的统计表中。

(6分)

天气名称	晴天	雨天	阴天
天数			

2、从上表中可以看出：这个月中 ( ) 天数最多，( ) 的天数最少。(4分)

3 这个月中阴天有 ( ) 天。(2分)

4、这个月中晴天比雨天多 ( ) 天。(2分)

5、这个月中阴天比雨天多 ( ) 天。(2分)

6、你还能提出什么问题？(4分)

### 四、根据统计表，回答下面提出的问题 (20分)

下面分别是小明在下午 1 : 00 - 2 : 00 和 3 : 00 - 4 : 00 统

计经过某一路段的车型表：

种类	客车	货车	面包车	小轿车
辆数(辆)	35	15	16	26

种类	客车	货车	面包车	小轿车
辆数(辆)	20	15	35	40

1、请你将这两段时间内的车辆统计表合并汇总：(8分)

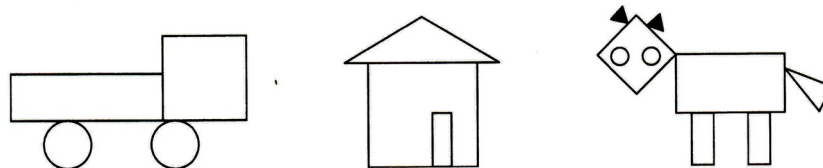
种类	客车	货车	面包车	小轿车
辆数(辆)				

根据汇总表回答问题：

2、( ) 车的数量最多，( ) 车的数量最少，相差 ( ) 辆。(6分)

3、经过这一路段的一共有 ( ) 辆车。(6分)

### 五、数一数，填一填，答一答 (15分)



1、上图中各种图形各有几个？数一数，填一填。（6分）

图形	长方形	正方形	三角形	圆
个数				

2、回答问题。（每空 1.5 分，共 9 分）

(1) ( ) 的个数最多，有 ( ) 个。

(2) ( ) 的个数最少，有 ( ) 个。

(3) 最多和最少的图形相差 ( ) 个。

算式：\_\_\_\_\_

六、下面是小明班一部分学生上学所用的时间，根据要求回答问题（15分）

序号	时间/分	序号	时间/分	序号	时间/分	序号	时间/分
1	16	5	50	9	8	13	33
2	22	6	42	10	19	14	45
3	28	7	38	11	32	15	12
4	31	8	53	12	27	16	36

1、将上表中的数据填写到下表中：（6分）

时间	20 分以下	20~40 分	40 分以上
人数			

根据记录和整理结果讨论：

2、小明上学用了 19 分钟，有多少上学途中用的时间比他多？  
有多少人用的时间比他少？（6分）

3、上学途中用的时间少于 20 分钟的有多少人？多于 40 分钟的有多少人？在 20 - 40 分钟的有多少人？（3分）

不用注册，免费下载！