

单元回顾与评价

第四单元学业质量评价（A卷）

一年级数学上册（RJ）

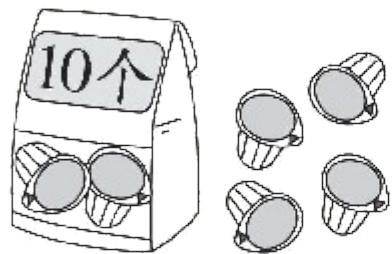


优干线同步作业课件

wǒ huì tián

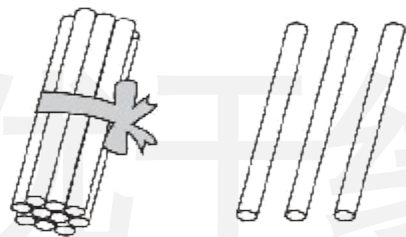
一、我会填。(每空1✳,共30✳)

1. 写一写,读一读。



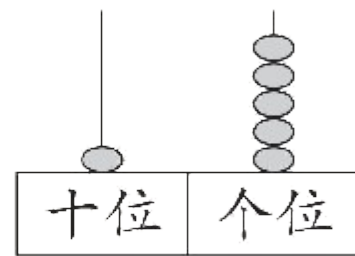
写作:(**14**)

读作:(**十四**)



写作:(**13**)

读作:(**十三**)



写作:(**15**)

读作:(**十五**)

2. 一个两位数从右边起,第一位是(**个**)位,第二位是(**十**)位。

3. 找规律填数。

20	19	18	17	16
----	----	-----------	-----------	-----------

11	13	15	17	19
----	----	-----------	-----------	----

4. 17 和 19 中间的数是 (**18**), 它的个位上是 (**8**), 十位上是 (**1**)。

5. 20 里面有 (**2**) 个十; 10 里面有 (**10**) 个一。

6. 猜猜“我”是哪一个数？



我是一个两位数，
我个位上和十位
上的数字都是1。

(**11**)



我是19的前
一个数。

(**18**)



我是最小
的两位数。

(**10**)



我是最大
的一位数。

(**9**)

7. 在 ○ 里填上“>”“<”或“=”。

$$14 + 5 < 20$$

$$15 + 1 < 17$$

$$16 - 5 > 9 - 3$$

$$10 + 5 = 15$$

$$17 - 6 > 10$$

$$17 + 2 > 18 + 0$$

8. 一个加数是 11, 另一个加数是 3, 和是(**14**)。减数是 2, 差是 13, 被减数是(**15**)。

wǒ huì xuǎn bǎ zhèng què dá àn de xù hào tián zài kuò hào lǐ

二、我会选。(把正确答案的序号填在括号里)(10✪)

1. 下面各数中, (**③**) 更接近 20。

① 15

② 17

③ 18


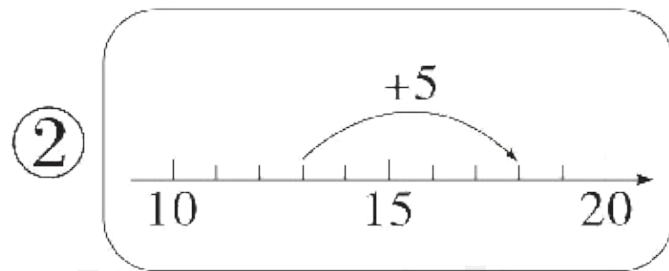
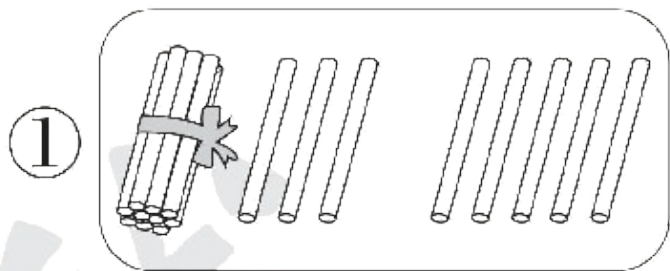
2. (趋势新题) 20 和 12 中, 两个“2”表示的意思 (**②**)。

① 相同

② 不相同

③ 无法确定

3. (趋势新题) 下图中不能表示 $13 + 5$ 的是(③)。



4. 运动会在星期(②)举行。

- ① 四
- ② 五
- ③ 六

运动会要推迟
4天再开。

5月13日
星期一



5. 优优要做 15 朵红花,她已经做了 4 朵,还要做多少朵红花? 下面列式正确的是(③)。

① $15 + 4 = 19$ (朵)

② $15 - 4 = 12$ (朵)

③ $15 - 4 = 11$ (朵)

wǒ huì suàn

三、我会算。(18✿)

1. 看谁算得又对又快。(12✿)

$12 + 3 = 15$

$5 + 13 = 18$

$16 - 6 = 10$

$7 + 3 + 4 = 14$

$15 - 3 = 12$

$18 - 5 = 13$

$7 + 12 = 19$

$15 - 5 - 7 = 3$

$11 + 7 = 18$

$14 + 5 = 19$

$3 + 13 = 16$

$12 + 7 - 9 = 10$

2. 在 里填上合适的数。(6✳)

$$3 + \boxed{7} = 10$$

$$4 + \boxed{3} = 7$$

$$\boxed{4} + 5 = 19 - 10$$

$$10 + \boxed{3} = 13$$

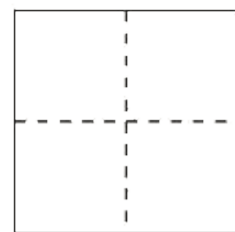
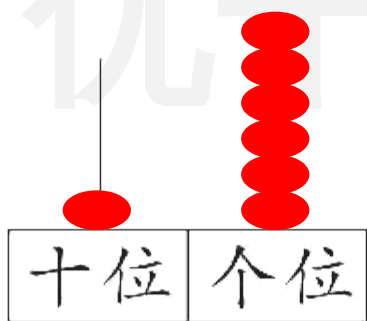
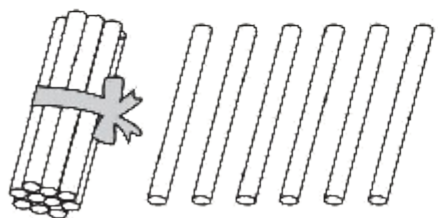
$$\boxed{5} + 11 = 16$$

$$5 + \boxed{10} = 17 - 2$$

wǒ huì zuò

四、我会做。(10✳)

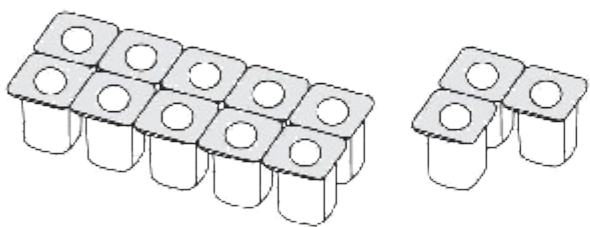
1. (趋势新题) 画一画, 填一填。(5✳)



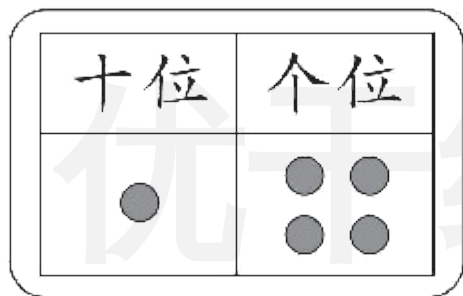
(**1**)个十和
(**6**)个一

(写数略)

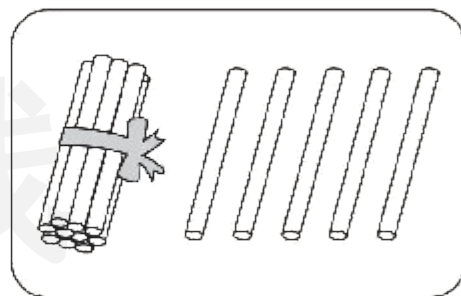
2. (趋势新题) 看图填数。找出规律, 再将最后一幅图补充完整。(5✳)



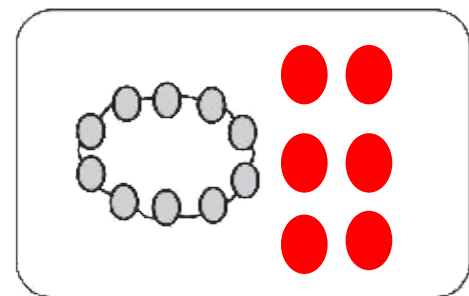
(13)



(14)



(15)




(16)

wǒ huì shuō chū tú de yì sī zài tián suàn shì

五、我会说出图的意思，再填算式。(12✿)

1.

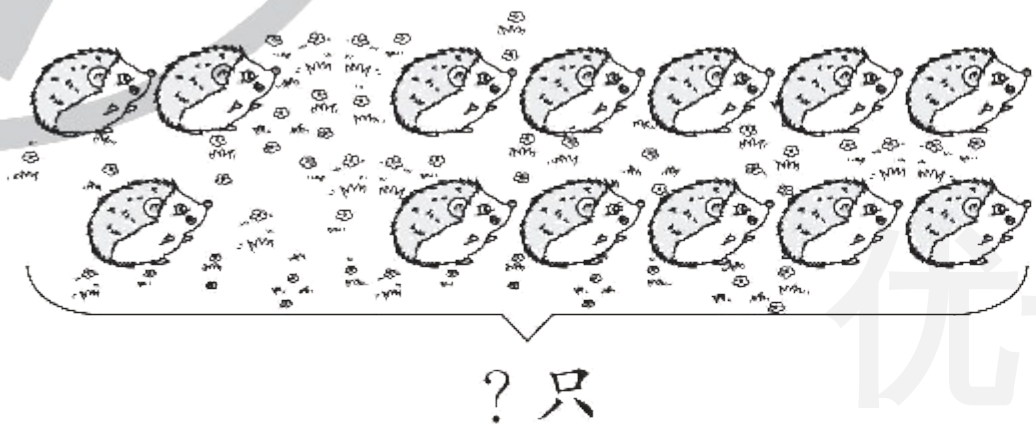


$$\boxed{10} + \boxed{5} = \boxed{15}$$

$$\boxed{15} - \boxed{10} = \boxed{5}$$

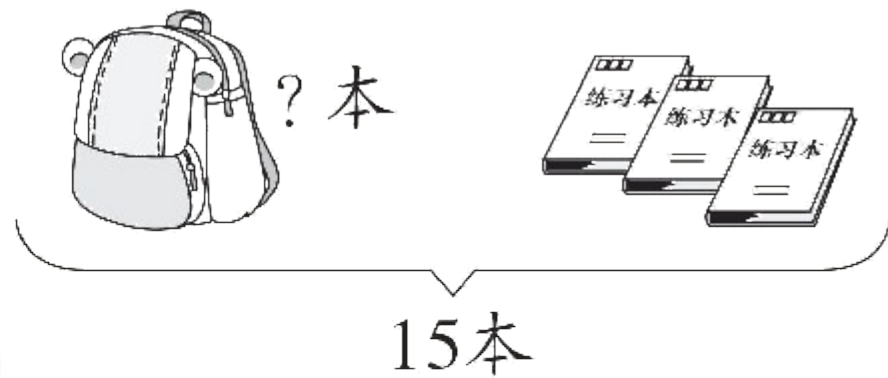
$$\boxed{15} - \boxed{5} = \boxed{10}$$

2.



$$\boxed{3} \oplus \boxed{10} = \boxed{13} \text{ (只)}$$

3.



$$\boxed{15} \ominus \boxed{3} = \boxed{12} \text{ (本)}$$

wǒ huì jiě jué wèn tí

六、我会解决问题。(20✿)

1. 3个小朋友为某地区捐书,他们一共捐了多少本书?(5✿)

我捐了5本书。




我们捐了12本书。



$$\boxed{12} \oplus \boxed{5} = \boxed{17} \text{ (本)}$$

2. 开走了3辆车后,停车场还剩下多少辆车?(5✳)



停车场原来有16辆车。

$$\boxed{16} \ominus \boxed{3} = \boxed{13} \text{ (辆)}$$

(2) 文文说：“我和天天之间有5个小朋友。”她说得对吗？(5✿)



请你画一画。



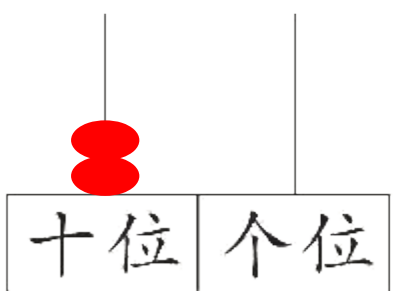
(画法不唯一)

她说得(**不对**)。(填“对”或“不对”)

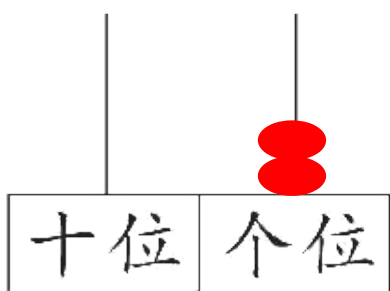
文文和天天之间有(**4**)个小朋友。

【挑战题】(做对了,奖励 10✳️哦!)

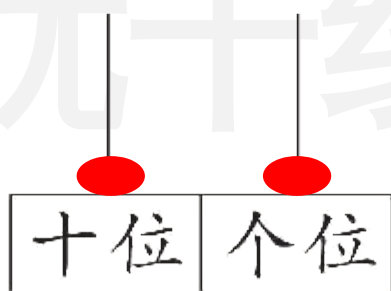
huà yì huà tián yì tián
画一画,填一填。



(20)



(2)



(11)

优干线

我能用2颗“●”表示出3个不同的数。





关注“优翼丛书”小程序

更多优质好课等你来



更多教学资源，敬请关注 www.youyi100.com