

# 阶段回顾与评价

## 阶段学业质量评价（A卷）

一年级数学上册（RJ）

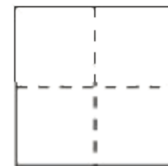
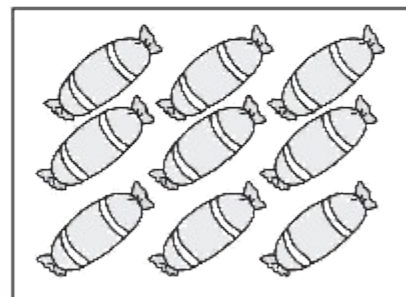
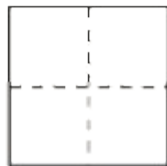
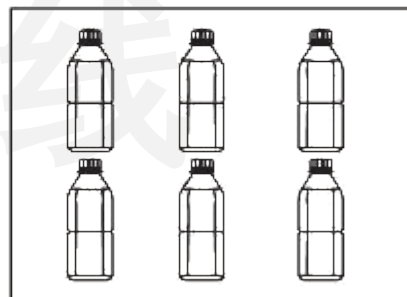
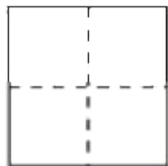

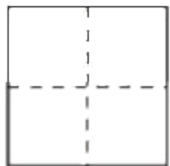
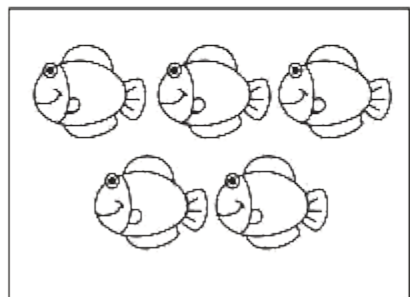


优干线同步作业课件

wǒ huì tián

一、我会填。(第2题3✿,第6题4✿,其余每空1✿,共24✿)

1. 看图写数。



(写数略)

2. 按顺序填数。



3. 6 和 8 中间的数是( **7** ); 比 8 大 1 的数是( **9** ); 4 前面一个数是( **3** )。

4. 在 ○ 里填上“>”“<”或“=”。

$5 > 4$

$7 - 2 < 9$


$4 - 1 < 3 + 1$

$10 > 9$

$7 > 4 - 3$

$2 + 6 = 4 + 4$

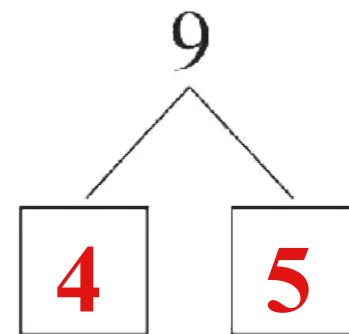
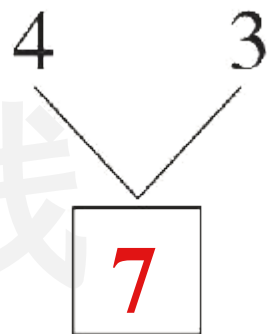
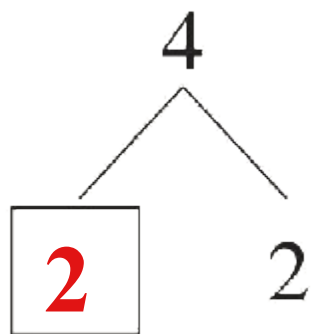
5.



菠萝有( 3 )个, 草莓有( 5 )个;

菠萝比草莓少( 2 )个, 草莓比菠萝多( 2 )个。

6.



(最后两空答案不唯一)

wǒ huì xuǎn      bǎ zhèng què dá àn de xù hào tián zài kuò hào lǐ

二、我会选。(把正确答案的序号填在括号里)(10✿)

1. 下面算式中,得数最大的是( ① )。

①  $7 + 2$

②  $8 - 0$

③  $5 + 2$

2. 每人一顶帽子,够吗?( ① )

① 够

② 不够

③ 不能确定



3. (真题演练) 妈妈买了 9 个水果, 可能是( ② )。

① 4 个  和 6 个 

② 2 个  和 7 个 

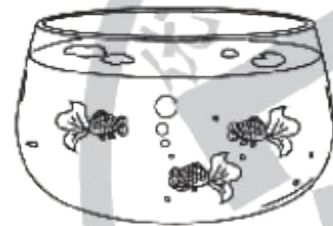
③ 8 个  和 2 个 

4. (趋势新题) 如图, 鱼缸里再放入( ③ )条金鱼就有 8 条金鱼了。

① 1

② 3

③ 5



5. 计算“ $3 + 5 - 4$ ”时, 第二步要算( ① )。

①  $8 - 4$

②  $3 + 5$

③  $5 - 4$

wǒ huì suàn

### 三、我会算。(20✿)

#### 1. 看谁算得又对又快。(12✿)

$$8 - 4 = 4$$

$$4 + 3 = 7$$

$$9 - 9 = 0$$

$$8 - 3 - 2 = 3$$

$$4 + 0 = 4$$

$$5 - 2 = 3$$

$$3 + 1 = 4$$

$$4 - 3 + 4 = 5$$

$$3 + 7 = 10$$

$$6 - 4 = 2$$

$$2 + 5 = 7$$

$$4 + 6 - 5 = 5$$

2. 在  里填上合适的数。(8✿)

$$7 + \boxed{2} = 9$$

$$\boxed{8} - 2 = 6 \quad 10 = \boxed{2} + 8$$

$$0 = \boxed{4} - 4$$

$$6 - \boxed{0} = 6$$

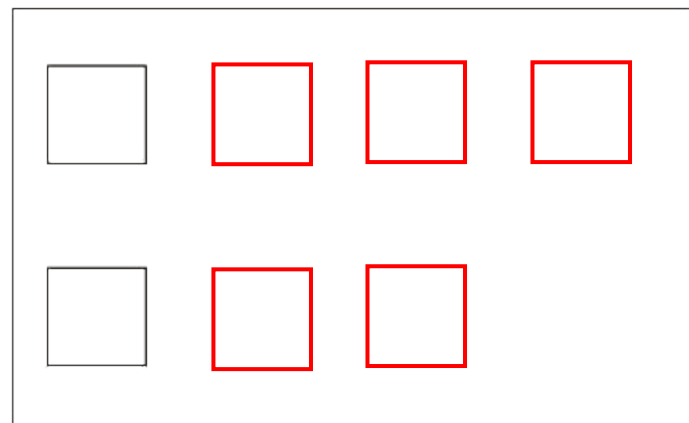
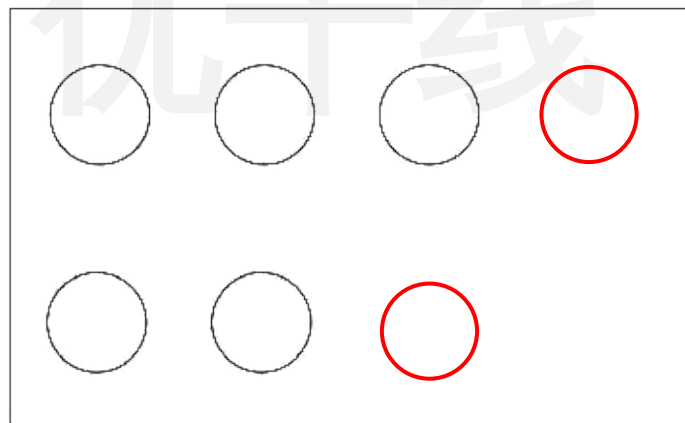
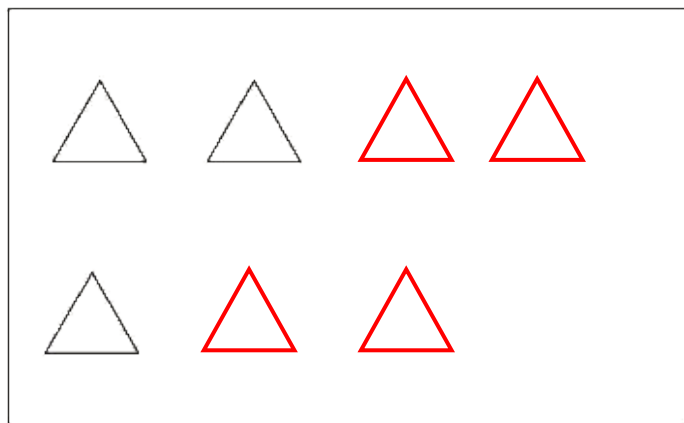
$$3 + \boxed{4} = 7 \quad 3 = \boxed{7} - 4$$

$$5 = 8 - \boxed{3}$$

wǒ huì zuò

# 四、我会做。(9✳)

1. 再画几个图形就是7个？请你接着画。(3✳)



2. 按要求画一画。(6✪)

(1) 画  $\triangle$ ,  $\triangle$  比  $\text{☺}$  多 3 个 △ △ △ △ △ △

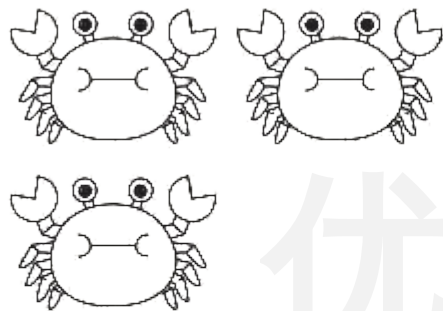

(2) 画  $\bigcirc$ ,  $\bigcirc$  比  $\text{☺}$  少 1 个 ○ ○

(3) 画  $\square$ ,  $\square$  和  $\text{☺}$  同样多 □ □ □



wǒ huì shuō chū tú de yì sī zài tián suàn shì

五、我会说出图的意思，再填算式。(16✿)



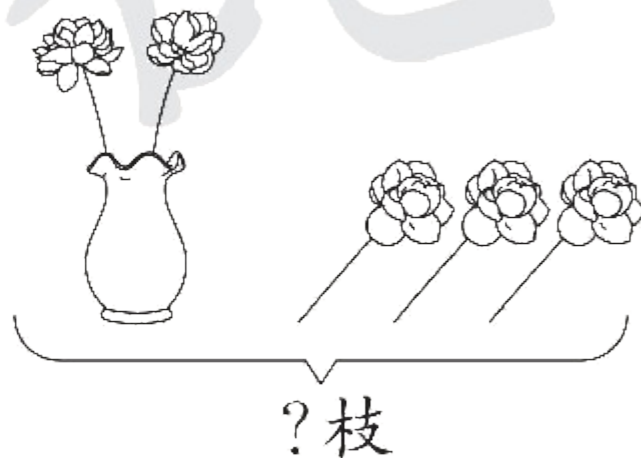
$$\boxed{4} + \boxed{3} = \boxed{7}$$

$$\boxed{7} - \boxed{4} = \boxed{3}$$

$$\boxed{3} + \boxed{4} = \boxed{7}$$

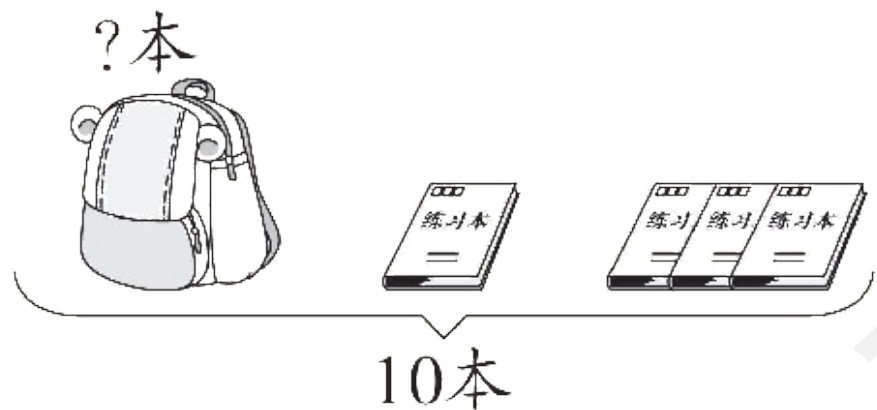
$$\boxed{7} - \boxed{3} = \boxed{4}$$

2.



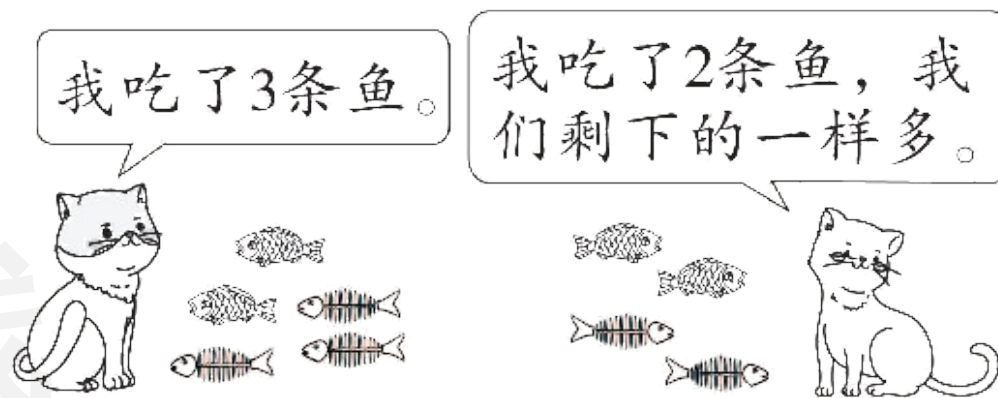
$$\boxed{2} + \boxed{3} = \boxed{5} \text{ (枝)}$$

3.



$$\boxed{10} \ominus \boxed{1} \ominus \boxed{3} = \boxed{6} \text{ (本)}$$




4.

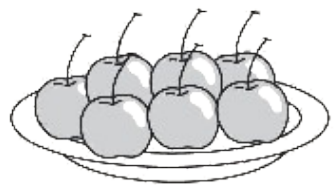


$$\boxed{5} \ominus \boxed{3} = \boxed{4} \ominus \boxed{2}$$

wǒ huì jiě jué wèn tí


## 六、我会解决问题。(21✱)

1. 一共有9个, 刺(cì)猬(wei)运走了一些, 还剩下几个? (4✱)




$$\boxed{9} - \boxed{2} = \boxed{7} \text{ (个)}$$

2. 房子里有几只小鸟？(4✳)



一共有7只小鸟。



$$\boxed{7} - \text{○} - \boxed{2} = \boxed{5} \text{ (只)}$$

3. 两人一共得了多少朵小红花？(5✿)



我得了4朵小红花。

我和你得的同样多。



$$\boxed{4} + \boxed{4} = \boxed{8} \text{ (朵)}$$

## 4. 优优和爸爸妈妈一起猜字谜。(8✿)



(1) 优优和爸爸妈妈三人一共猜对多少个字谜?(4✿)

$$\boxed{2} \oplus \boxed{5} \oplus \boxed{3} = \boxed{10} \text{ (个)}$$

4. 优优和爸爸妈妈一起猜字谜。(8✳)



优优

我猜对2个。



妈妈

我猜对5个。



爸爸

我猜对3个。

(2) 请你再提出一个问题并解答。(4✳)

提问：妈妈比优优多猜对多少个字谜？

解答： $5 - 2 = 3$  (答案不唯一)  
(个)



关注“优翼丛书”小程序

更多优质好课等你来



更多教学资源，敬请关注 [www.youyi100.com](http://www.youyi100.com)