



# 综合核心素养闯关

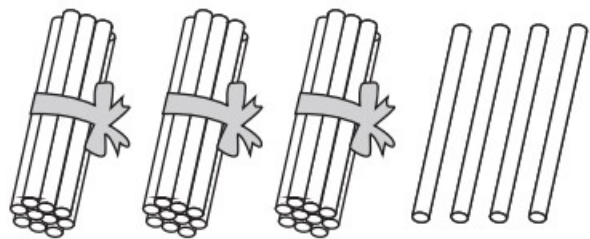
一年级数学下册 (RJ)



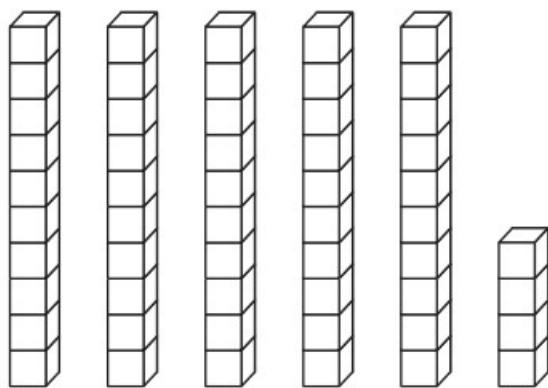
wǒ huì tián

# 第一关 我会填。(每空 1☆, 共 29☆)

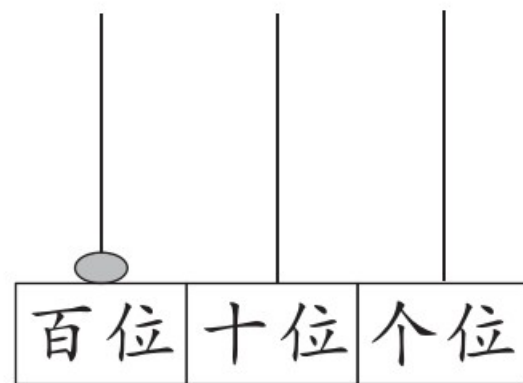
1. 看图写数, 并排一排。



( )



( )

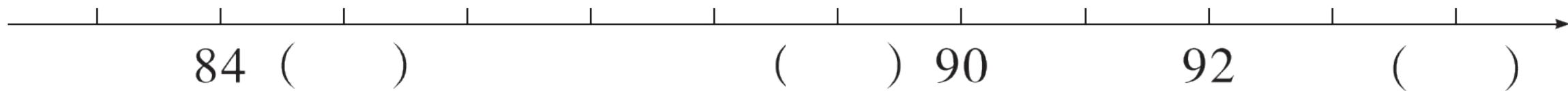


( )

按从大到小的顺序排列:

( ) > ( ) > ( )

2. 53 里面有( )个十和( )个一;4 个一和 6 个十组成( )。
3. 一个两位数,个位上是 9,十位上是 4,这个数是( ),与这个数相邻的两个数是( )和( )。
4. 比 26 多 20 的数是( ),9 比 35 少( )。
5. 在( )里填上合适的数。



6. 在 80 和 90 两个数中, 82 更接近( )。

7. 32 连续减 4 的差分别是:( )、( )、( )、( )。

8. 用 9 个●在 

十位	个位

 中能摆出( )个不同的数, 其中最大的数是( )。

9. 在○里填上“>”“<”或“=”。

$$76 - 6 \bigcirc 69$$

$$12 - 4 \bigcirc 88 - 80$$

$$38 - 9 \bigcirc 25 + 5$$

10. 有 40 个桃, 每 6 个桃装一盘, 可以装满 (       ) 盘, 至少还要 (       ) 个桃, 可以再装满一盘。

wǒ huì xuǎn

## 第二关 我会选。(12☆)

1. 一个一个地数,从90数到100,一共数了( )个数。

① 10

② 11

③ 12

2. 红花有86朵,黄花比红花少得多。黄花可能有( )。

① 25朵

② 85朵

③ 90朵

3. 根据百数表的排列规律,右图中☆代表的数是( )。

	55	
☆		

① 44

② 64

③ 66

4. 下面算式中,“2”和“6”可以直接相加减的是( )。

①  $25 + 6$

②  $65 - 2$

③  $20 + 60$

5. 学校购买一批跳绳,购买的数量是一个两位数,个位和十位上的数相差3,购买的跳绳根数不可能是( )根。

① 33

② 36

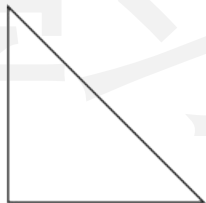
③ 96

6. 把一张正方形纸对折一次,不可能出现的图形是( )。

①



②



③



wǒ huì suàn

## 第三关 我会算。(27☆)

### 1. 直接写出得数。(12☆)

$5 + 32 =$

$74 - 4 =$

$11 - 7 =$

$25 - 12 + 8 =$

$50 + 32 =$

$74 - 40 =$

$60 + 19 =$

$17 - 8 + 30 =$

$9 + 58 =$

$46 + 6 =$

$92 - 7 =$

$5 + 7 - 9 =$

## 2. 列竖式计算。(9☆)

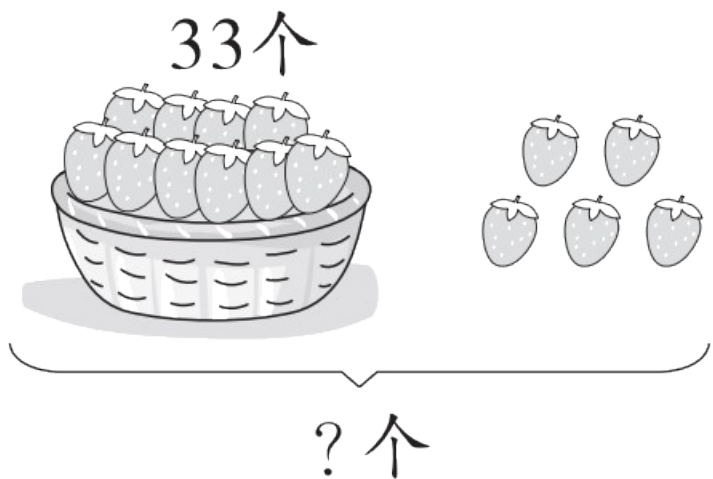
$28 + 35 =$

$84 - 17 =$

$50 - 32 =$

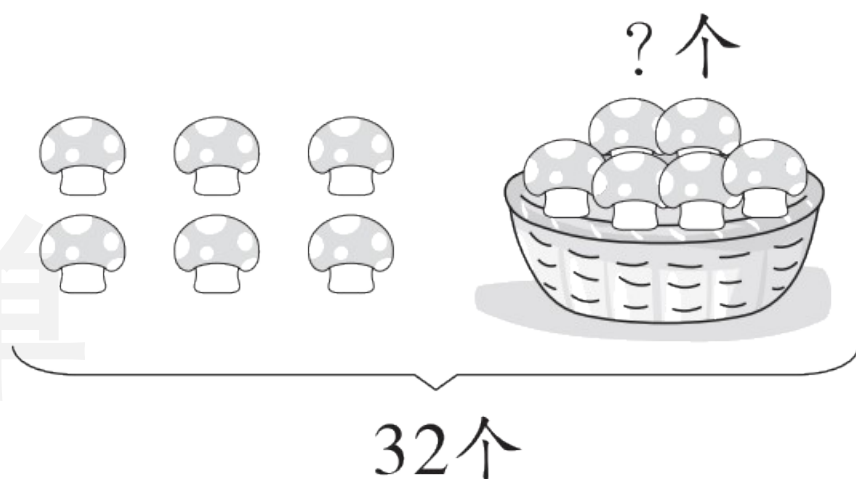
3. 我会看图列式计算。(6☆)

(1)



$$\square \bigcirc \square = \square \text{ ( )}$$

(2)



$$\square \bigcirc \square = \square \text{ ( )}$$

wǒ huì zuò

# 第四关 我会做。(4☆)

在点子图上画出两个学过的图形。



wǒ huì jiě jué wèn tí

## 第五关 我会解决问题。(28☆)

### 1. 折纸。(6☆)



我折了16只小猫，  
其中黄色的有5只。

我折了9只  
小猫。




(1) 小优和小乐一共折了多少只小猫？(3☆)

(2) 小优比小乐多折了多少只小猫？(3☆)

2. 优优和妈妈一起包粽子,妈妈包了 27 个粽子,优优比妈妈少包 8 个粽子。优优包了多少个粽子? 两人一共包了多少个粽子? (4☆)

3. (4☆)



36个

我的车满载  
能装9个。




至少需要几次才能  
全部运完?

4. 车上原来有 45 人, 到站后下去了 9 人, 又上来了 5 人, 车上现在有多少人? (4☆)

学习单

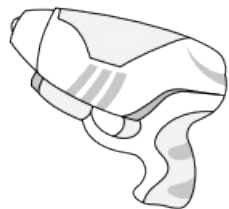
## 5. 购物。(10☆)



48元



32元



15元



50元

(1) 买一个足球比买一辆玩具小汽车多花多少钱？(3☆)

(2) 买一个玩具小兔和一个玩具水枪需要多少钱？(3☆)

(3) 请你提出其他数学问题并解答。(4☆)



关注“优翼丛书”小程序

更多优质好课等你来



更多教学资源，敬请关注 [www.youyi100.com](http://www.youyi100.com)