



第六单元核心素养闯关

一年级数学下册 (RJ)



wǒ huì tián

第一关 我会填。(第4、5题各4☆,其余每空1☆,共20☆)

1. 30角 = ()元 6元 = ()角 1元4角 = ()角

2. 小优昨天写了42个大字,今天比昨天少写了22个大字,小优今天写了()个大字。

3. 天鹅湖里有23只白天鹅,黑天鹅比白天鹅多9只,天鹅湖里有()只黑天鹅。


4. 比 47 多 8 的数是();()比 85 少 9。

5. 口算比赛,小优做对了 46 题,小新做对了 30 题,小翼做对了 50 题。

小优比小新多做对()题,小新比小翼少做对()题。

6. 在 \bigcirc 里填上“>”“<”或“=”。

$$39 + 42 \bigcirc 42 + 39 \quad 71 - 4 \bigcirc 71 + 4 \quad 36 + 60 \bigcirc 36 + 6$$

7. 一个笔袋 7 元, 小优可以付给售货员 1 张 () 元和 2 张 () 元, 也可以付给售货员 () 张 1 元; 如果小优付给售货员一张 , 应找回 () 元。

wǒ huì xuǎn

第二关 我会选。(12☆)

1. 用一张



可以换()张



① 5

② 2

③ 1

2. 根据 , 算式 $13 - 6$ 表示的是()。

① ○的个数

② ○比△多的个数

③ ○比△少的个数

3. 爸爸今年 35 岁, 豆豆今年 9 岁, 6 年后, 爸爸比豆豆大()岁。

① 44

② 26

③ 20

4. 丽丽拍球, 先拍了 40 下, 又拍了 37 下, 平平要超过丽丽, 至少要拍()下。

① 41

② 77

③ 78

5. 草地上有白兔 20 只, 黑兔 15 只, 灰兔比白兔少 6 只, 灰兔有 () 只。

① 9

② 14

③ 26

6. 小优买的是 ()。

①



34元

②



27元

③



23元

我付给售货员3张10元纸币, 找回的钱比5元多, 比10元少。



小优

学习单

wǒ huì suàn

第三关 我会算。(34☆)

1. 直接写得数。(9☆)

$7 + 55 =$

$34 + 22 =$

$1 \text{ 元} - 5 \text{ 角} =$

$40 + 38 =$

$67 - 52 =$

$1 \text{ 元} + 10 \text{ 角} =$

$71 - 60 =$

$28 - 9 =$

$6 \text{ 角} + 3 \text{ 元} =$

2. 列竖式计算。(9☆)

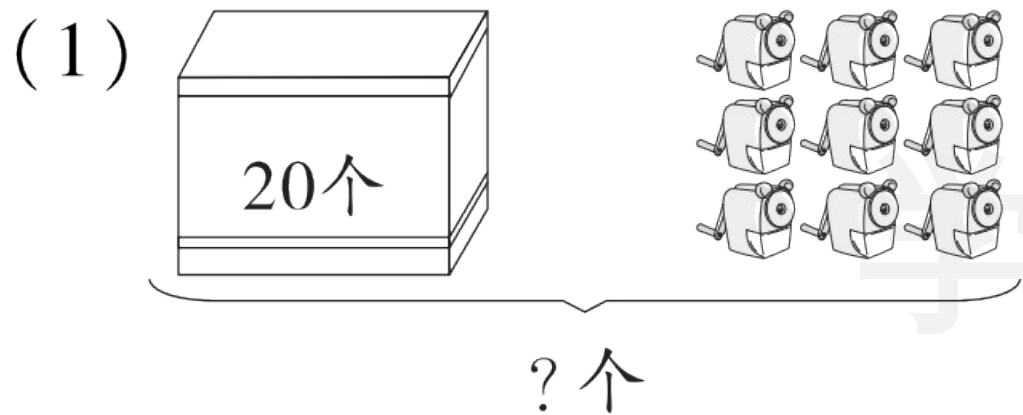
$55 + 19 =$

$34 - 26 =$

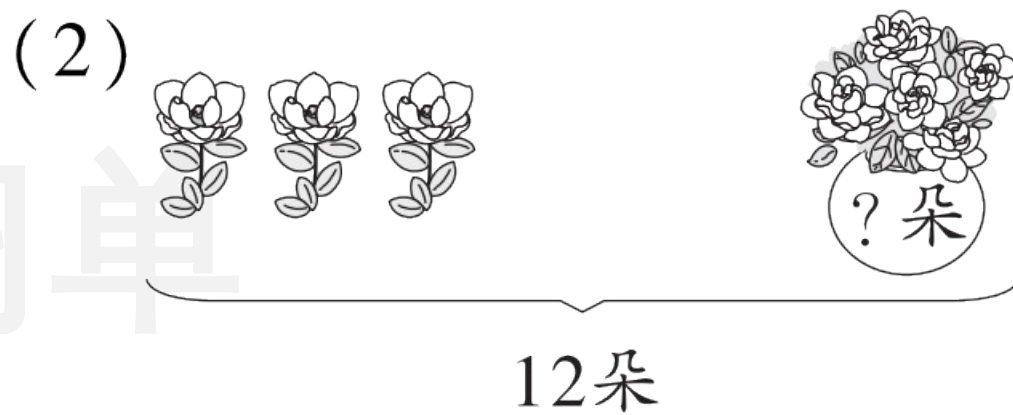
$90 - 37 =$

单

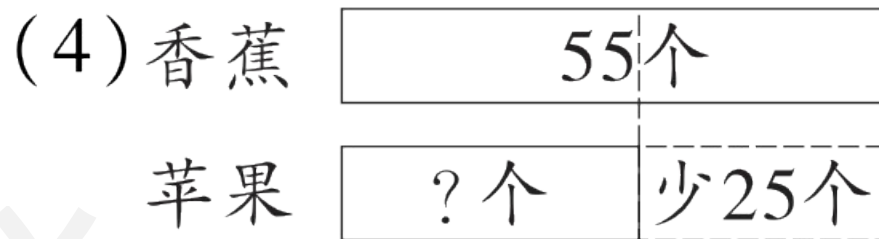
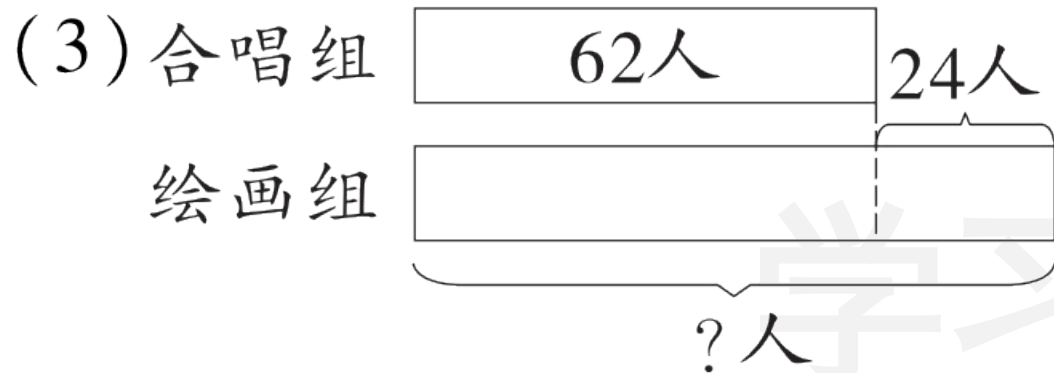
3. 看图列式计算。(16☆)



$$\square \bigcirc \square = \square (\quad)$$



$$\square \bigcirc \square = \square (\quad)$$



$$\square \bigcirc \square = \square \quad (\quad)$$

$$\square \bigcirc \square = \square \quad (\quad)$$

wǒ huì jiě jué wèn tí

第四关 我会解决问题。(34☆)

1. 2024年巴黎奥运会中,我国获得27枚银牌。(8☆)

(1) 获得的金牌数比银牌多13枚,获得了多少枚金牌?

练习单

(2) 获得的铜牌数比银牌少3枚,获得了多少枚铜牌?

2. 小乐比小优少投进多少个？(5☆)



我投了30个，投进了18个。

我投进了22个。



3. 买一个羽毛球要多少元？(5☆)



我买了1个乒乓球和1个羽毛球，
一共花了8元。

我买了1个乒乓球和2个羽毛球，
一共花了13元。



4. 小优收集了45节废电池，妹妹比小优少收集10节，妹妹收集了多少节废电池？小优和妹妹一共收集了多少节废电池？(6☆)

学习单

5. 选择合适的数学信息解决问题。(10☆)

①小优有 30 本课外书。

②小翼比小优少 12 本。

③小轩有 35 本课外书。

④小新比小轩多 7 本。

(1) 小轩比小优多几本课外书?

我选的信息是() (填序号), 列式解答:

(2) 小新有多少本课外书?

我选的信息是() (填序号), 列式解答:



关注“优翼丛书”小程序

更多优质好课等你来



更多教学资源，敬请关注 www.youyi100.com