

阶段回顾与评价

阶段学业质量评价（B卷）

一年级数学上册（RJ）




优干线同步作业课件


wǒ huì tián

一、我会填。(第1、2题每题4✳,第7题5✳,其余每空1✳,共34✳)

1. 数一数,比一比。



(9) > (5)



(6) < (8)


2. 找规律填数。

1	2	3	4	5	6
---	---	---	---	---	---


0	2	4	6	8	10
---	---	---	---	---	----

3. 10 前面一个数是(9); 6 和 9 之间有(2)个数。

4.



(1) 从前面数,  排第 (3); 从后面数,  排第 (6)。

(2)  前面有 (5) 只动物,  后面有 (6) 只动物。

5.



上面一共有(**6**)个数,右边三个数的和是(**5**)。把这些数按

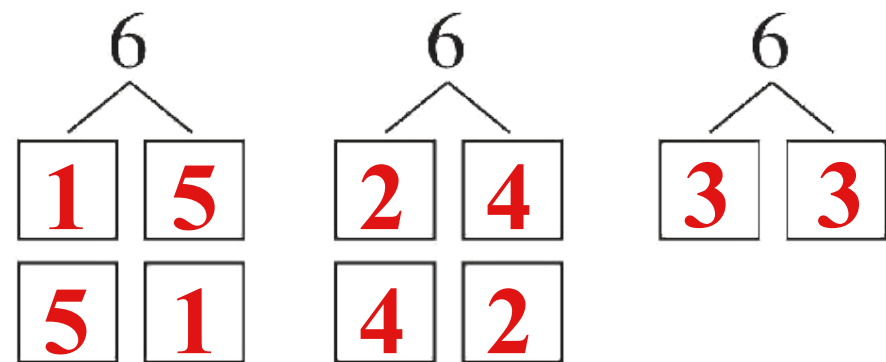

从大到小的顺序排列是(**$10 > 7 > 5 > 4 > 1$**)。

6. 从4、2、7、3中选出3个数,写**2**道加法算式和两道减法算式。

$3 + 4 = 7$ **$4 + 3 = 7$** **$7 - 3 = 4$** **$7 - 4 = 3$**

(答案不唯一)

7. 把 6 个桃子分到 2 个盘子里, 可以怎样分?



8. 在 \bigcirc 里填上“ $>$ ”“ $<$ ”“ $=$ ”“ $+$ ”或“ $-$ ”。

$$2 \bigcirc 6 + 4$$

$$8 - 5 \bigcirc 4 \quad 5 \bigcirc 1 = 6$$

$$7 \bigcirc 3 = 4$$

$$9 - 6 \bigcirc 2$$

$$5 + 4 \bigcirc 9 \quad 8 \bigcirc 2 = 6$$

$$6 \bigcirc 0 = 6$$

(或 -)

wǒ huì xuǎn bǎ zhèng què dá àn de xù hào tián zài kuò hào lǐ

二、我会选。（把正确答案的序号填在括号里）（12✪）

1. 下面与 $3 + 4$ 得数不相同的算式是（**②**）。

① $8 - 1$

② $10 - 4$

③ $5 + 2$


2. 从 2 数到 9，一共数了（**③**）个数。

① 6

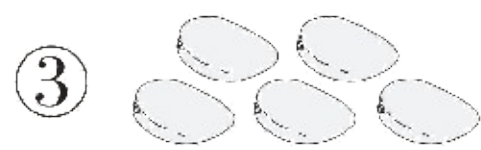
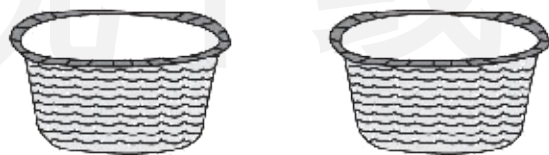
② 7

③ 8

3. 下面能用算式 $5 - 1 = 4$ 表示的图是(③)。



4. 把下面的芒果放进两个篮子里,能让两个篮子的芒果同样多的是(②)。



5. 下面的小朋友中, (②) 的右腿抬起来了。



6. 5 个小朋友排队做操, 从左边数, 小可排第 2 个; 从右边数, 小可排第 (③) 个。

① 2

② 3

③ 4

wǒ huì suàn

三、我会算。(18✳)

1. 看谁算得又对又快!(12✳)

$$2 + 7 = 9$$

$$10 - 5 = 5$$

$$8 - 5 = 3$$

$$5 - 4 + 3 = 4$$

$$8 - 2 = 6$$

$$5 + 2 = 7$$

$$7 - 2 = 5$$

$$1 + 2 + 4 = 7$$

$$10 - 2 = 8$$

$$5 + 3 = 8$$

$$2 + 6 = 8$$

$$8 - 0 + 2 = 10$$

2. 算一算。(6✿)

$$5 + 3 = \begin{cases} 6 + \boxed{2} \\ 7 + \boxed{1} \\ 8 + \boxed{0} \end{cases}$$


优干线

$$7 - 2 = \begin{cases} 8 - \boxed{3} \\ 9 - \boxed{4} \\ 10 - \boxed{5} \end{cases}$$

wǒ huì zuò

四、我会做。(6✱)

(趋势新题) 要使优优和妈妈的香蕉同样多,你有什么方法? 用○

表示 , 先画一画, 再写算式。



方法一: 优优 ○○○○
妈妈 ○○○○

$$3 + 1 = 4$$

方法二: 优优 ○○○○
妈妈 ○○○○

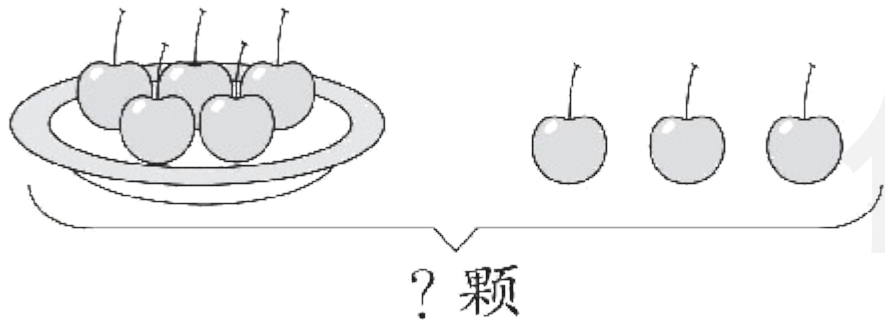
$$4 - 1 = 3$$

(答案不唯一)

wǒ huì shuō chū tú de yì sī zài tián suàn shì

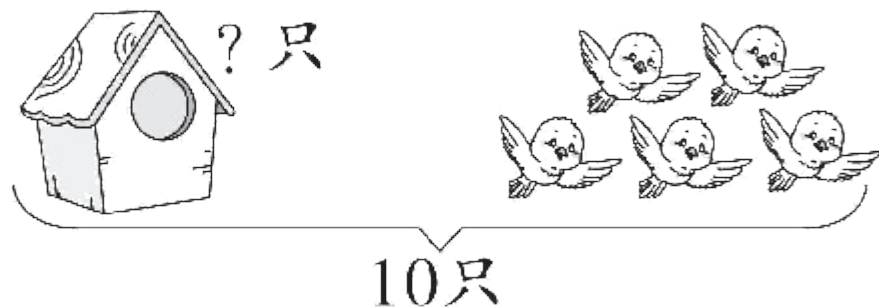
五、我会说出图的意思，再填算式。(16✪)

1.



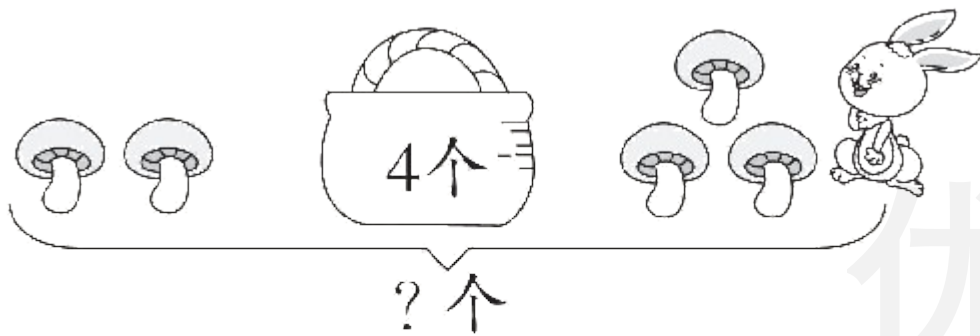
$$\boxed{5} \oplus \boxed{3} = \boxed{8} \text{ (颗)}$$

2.




$$\boxed{10} \ominus \boxed{5} = \boxed{5} \text{ (只)}$$

3.



$$\boxed{2} \oplus \boxed{4} \oplus \boxed{3} = \boxed{9} \text{ (个)}$$

4.



$$\boxed{10} \ominus \boxed{5} \ominus \boxed{3} = \boxed{2}$$

优干线

wǒ huì jiě jué wèn tí

六、我会解决问题。(14✿)

森林里有许多可爱又勤劳的小动物，我们一起去看看吧！

1. 聪明的乌鸦！乌鸦还要再放几颗小石子？(4✿)

一共要放10颗小石子才能喝到水。



$$\boxed{10} - \boxed{4} = \boxed{6} \text{ (颗)}$$

2. 小兔采蘑菇！现在小兔的蘑菇个数比原来多了还是少了？算一算，再在对的 里画“√”。(4✱)







我采了10个蘑菇，送给山羊伯伯6个，又采了5个。

列式计算：10 - 6 + 5 = 9 (个)

多了 少了

3. 小猴摘桃。看图说数学故事, 写一写你发现的算式。(6✳)



$$\boxed{5} - \boxed{3} = \boxed{2} \text{ (个)}$$

$$\boxed{2} + \boxed{2} = \boxed{4} \text{ (只)}$$

$$\boxed{3} - \boxed{3} = \boxed{0} \text{ (个)}$$

(答案不唯一)



关注“优翼丛书”小程序

更多优质好课等你来



更多教学资源，敬请关注 www.youyi100.com