



第五单元 100 以内的笔算加、减法



1. 笔算加法

第 1 课时 不进位加

一年级数学下册
(RJ)



新领程同步作业课件

1 想一想,算一算。



43+24=?
你能用什么方法算?



我是这样算的:
3+4=()
40+20=()
()+()=()

还可以这样算:

$$\begin{array}{r} 43 \\ + 24 \\ \hline () \end{array}$$



2 列竖式计算。

$45 + 53 =$

$$\begin{array}{r} + \\ \hline \end{array}$$

$27 + 52 =$

$$\begin{array}{r} + \\ \hline \end{array}$$

$68 + 20 =$

$$\begin{array}{r} + \\ \hline \end{array}$$

$58 + 11 =$

$$\begin{array}{r} + \\ \hline \end{array}$$

新领程

3 算出每张卡片上两个数的和。



()



()




()







()




4 (新情境) 爸爸坐地铁去火车站, 出站刷卡时, 闸机显示如图。爸爸进站时卡内的余额是多少元?



5 (素养提升) 在  里填上合适的数字。

$$\begin{array}{r}
 1 \text{  \\
 + \text{  2 \\
 \hline
 5 \quad 4
 \end{array}$$

$$\begin{array}{r}
 \text{  4 \\
 + 3 \text{  \\
 \hline
 7 \quad 7
 \end{array}$$

$$\begin{array}{r}
 \text{  3 \\
 + \text{  5 \\
 \hline
 6 \text{ 
 \end{array}$$



关注“优翼丛书”小程序

更多优质好课等你来



更多教学资源，敬请关注 www.youyi100.com