



第四单元核心素养闯关

一年级数学下册 (RJ)



wǒ huì tián

第一关 我会填。(每空1☆,共21☆)

1. 计算 $27 + 4$ 时,想: $7 + 4 = (\quad)$, $(\quad) + (\quad) = (\quad)$ 。

2. 与 19 相邻的两个数是 (\quad) 和 (\quad) , 这两个数的和是 (\quad) , 差是 (\quad) 。

3. 在 \bigcirc 里填上“>”“<”或“=”。

$$83 + 6 \bigcirc 83 - 6$$

$$58 - 9 \bigcirc 58 - 6$$

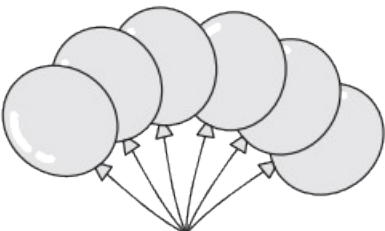
$$49 \bigcirc 94 - 40$$

$$25 + 7 \bigcirc 22$$

$$57 - 23 \bigcirc 48$$

$$63 + 5 \bigcirc 68$$

4. 40 连续减 4, 写出每次减得的差。40、36、()、()、()、20。

5. 3束  ,每人分一个,()分给15个小朋友。(填“够”或“不够”)

6. 在()里填上合适的数。

$$60 + () > 65$$

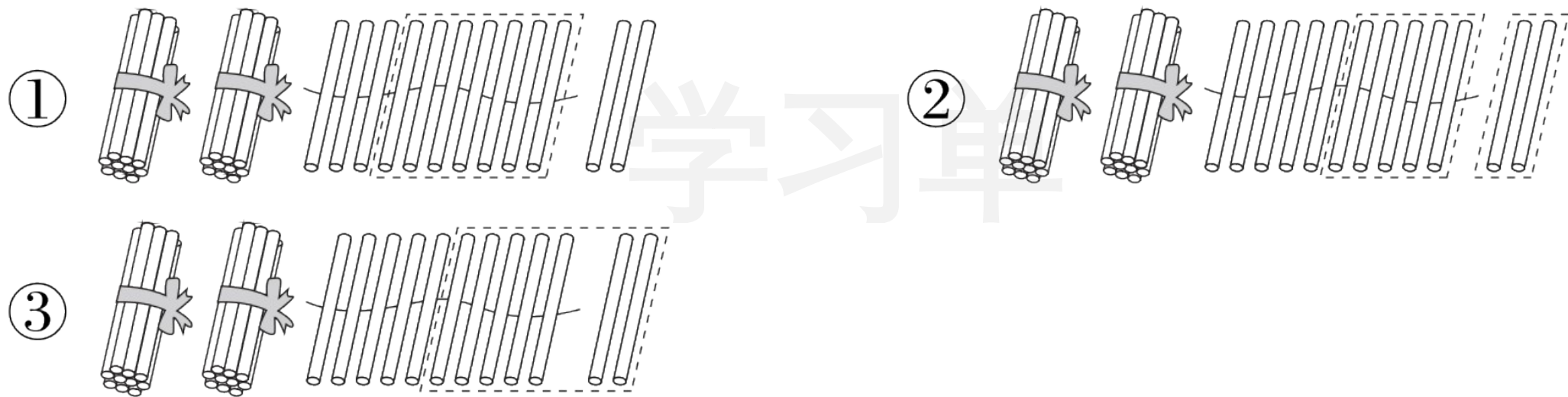
$$20 + 40 > ()$$

$$() - 5 < 32$$

wǒ huì xuǎn

第二关 我会选。(10☆)

1. 计算 $32 - 7$ 时, 先算 $12 - 7 = 5$, 再算 $20 + 5 = 25$, 下面的小棒图圈法正确的是()。




2. 下面算式中的“4”和“3”可以直接相加的是()。

① $45 + 3$


② $45 + 30$

③ $24 + 30$


3. 4 个老师带领 39 个学生去公园游玩,他们乘坐()车比较合适。



30座



40座



50座

4. 轩轩买了一本故事书,第一天看了 20 页,第三天是从第 71 页开始看的,那么第二天他看了()页。

① 49

② 50

③ 51

5. 下面三个算式都有一个数字看不清了,得数一定比40大的是 ()。

① $48 - \star$

② $50 - \star$

③ $\star + 39$

wǒ huì suàn

第三关 我会算。(45 ☆)

1. 算一算。(11 ☆)

$40 + 25 =$

$24 + 32 =$

$68 - 6 =$

$81 - 7 =$

$7 + 72 =$

$85 - 52 =$

$56 - 9 =$

$8 + 38 =$

$35 + 30 - 5 =$

$95 - 7 - 50 =$

$46 + 7 - 40 =$

2. 正确的画“√”，不正确的画“×”并改正。(12☆)

(1) $25 + 8 = 23$ ()

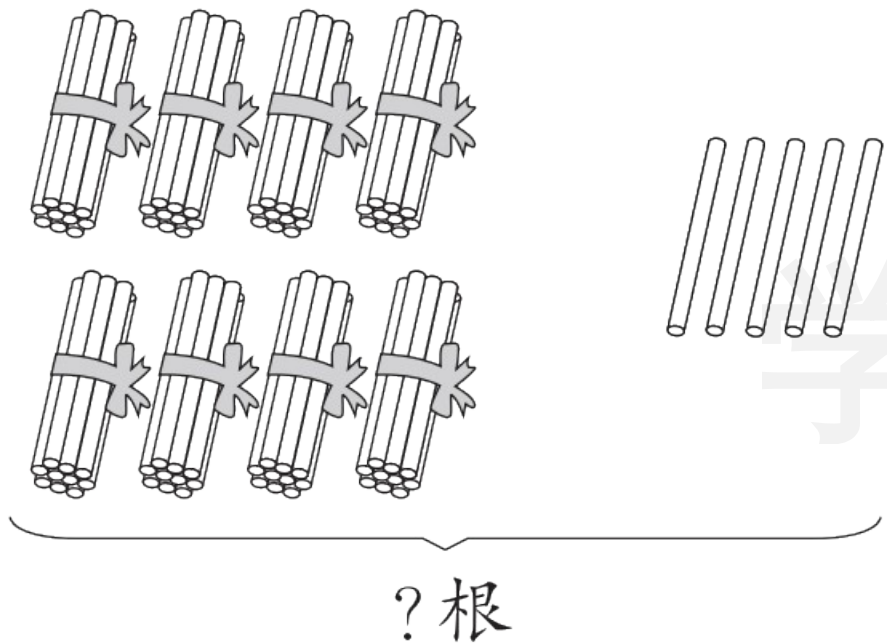
(2) $53 + 4 = 93$ ()

(3) $37 - 5 = 32$ ()

(4) $42 - 7 = 45$ ()

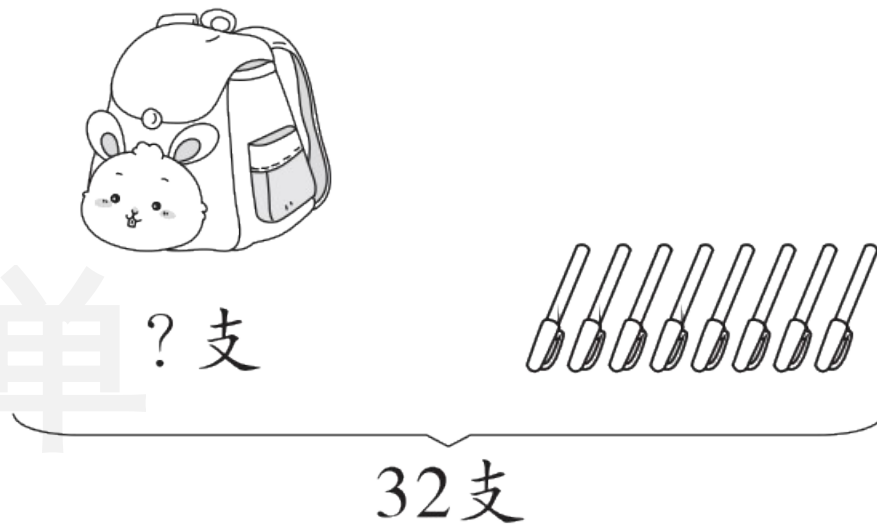
3. 我会看图列式计算。(8☆)

(1)






$$\square \bigcirc \square = \square (\quad)$$

(2)



$$\square \bigcirc \square = \square (\quad)$$

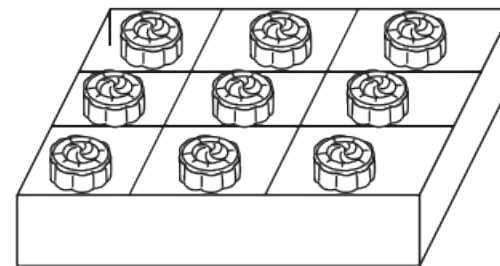
4. 填表。(6☆)

体育器材			
原有	45 个	() 个	72 个
借出	() 个	24 个	12 个
还剩	5 个	30 个	() 个

5. 把 32 个月饼装入盒子里。(8☆)

(1) 如果 9 个装一盒, 可以装满几盒? 还剩几个? (4☆)

——单




(2) 如果 6 个装一盒, 可以装满几盒? 还剩几个? (4☆)

wǒ huì jiě jué wèn tí

第四关 我会解决问题。(24☆)

1. 小猴摘了多少个桃？(5☆)

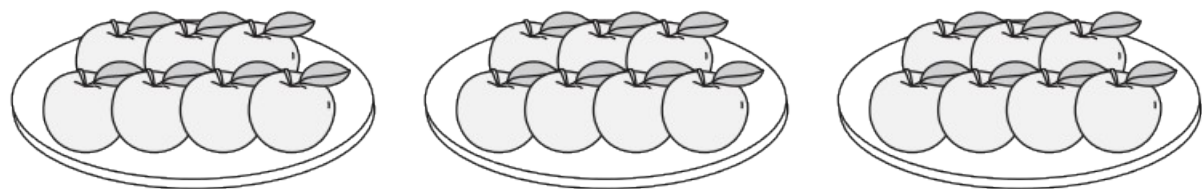
树上原来有36个桃，我摘了一些后还剩8个。




2. 体育室一共有 93 根跳绳, 其中黄色的有 40 根。借给一年级 30 根, 体育室还有多少根跳绳? (5☆)

学习单

3. 妈妈准备了 3 盘苹果, 每盘 7 个, 一共有多少个苹果? (5☆)



4. 郊游。(9☆)



(1) 一共有多少人？(4☆)

(2) 现在车上还剩多少个空座位？(5☆)

wǒ lái tiǎo zhàn

我来挑战。（做对了，奖励10☆哦！）

小夕今年6岁，爸爸对小夕说：“当你10岁时，我正好36岁。”爸爸今年多少岁？



关注“优翼丛书”小程序

更多优质好课等你来



更多教学资源，敬请关注 www.youyi100.com