

快乐闯关

第 1 单元快乐闯关

一年级数学下册 (RJ)

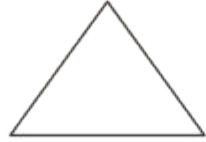


学练优同步作业课件

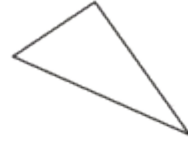
1. 把下列图形的序号填入相应的框里。




①



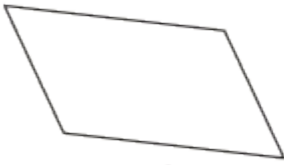
②



③



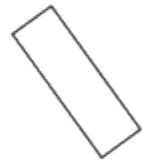
④




⑤



⑥



⑦



⑧

长方形


正方形

平行四边形


三角形

圆

2. 数一数, 填一填。



图形	圆	长方形	三角形	正方形
个数				

3.  的每个面都是()形,硬币的正反面都是()。

4. 至少用()个  可以拼成一个大正方形。

5. 右图中有()个长方形。



wǒ huì xuǎn


第二关 我会选。(10☆)

1. 一套完整的七巧板由()种图形构成。

① 3

② 4

③ 1

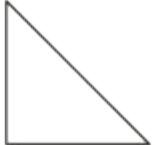
2. 用一个  最多可以画出()个不同的长方形。

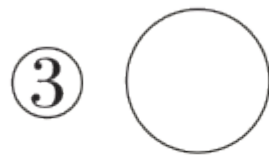
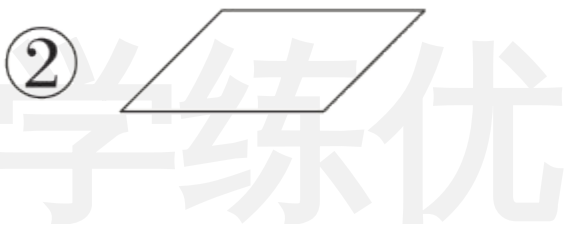
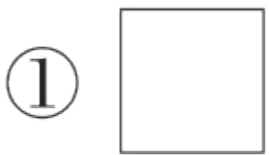
① 6

② 3

③ 2

学练优

3. 用 2 个同样的  不可能拼成的图形是()。

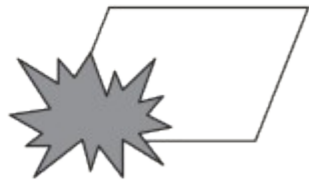


4. 右边的图形被挡住了一部分,这个图形可能是()。

① 平行四边形

② 长方形

③ 三角形



5. 用()个  可以拼成一个  。

① 4



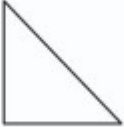


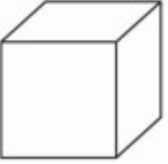



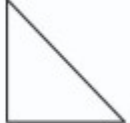







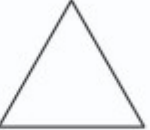


② 5

③ 3

wǒ huì quān

第三关 我会圈。(12☆)

用左边的物体能够画出右边的哪个图形？把它圈起来。

wǒ huì lián

第四关 我会连。(20☆)

1. 右边的图形分别是长方体的哪个面？用线连起来。(6☆)



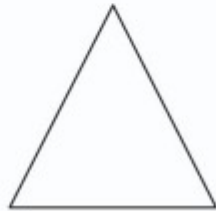
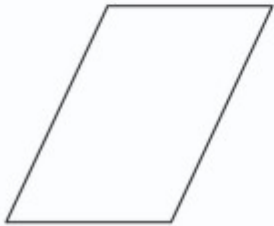
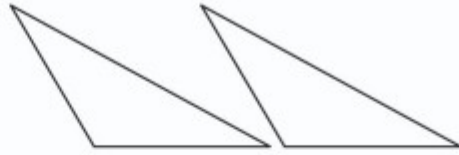
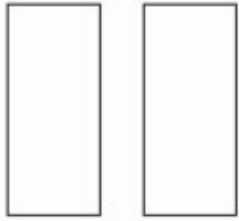
上面

右面

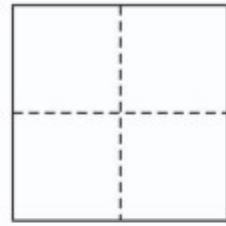
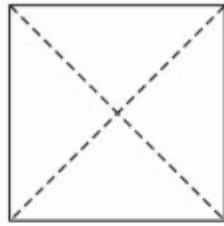
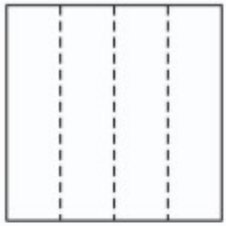
前面



2. 把上面的两个图形拼起来是下面的哪个图形？连一连。(8☆)




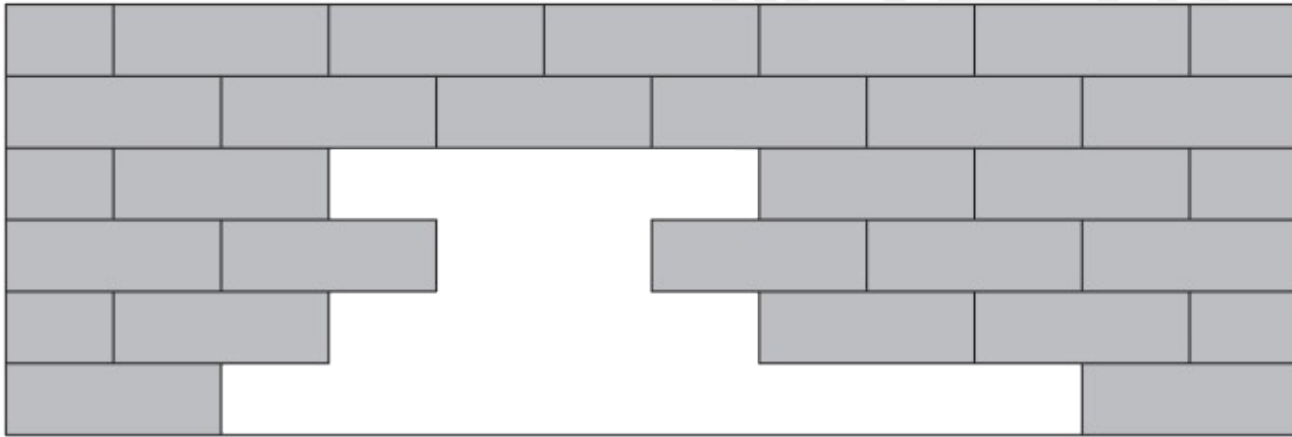
3. 将一张正方形纸对折两次,能折出什么图形? 连一连。(6☆)



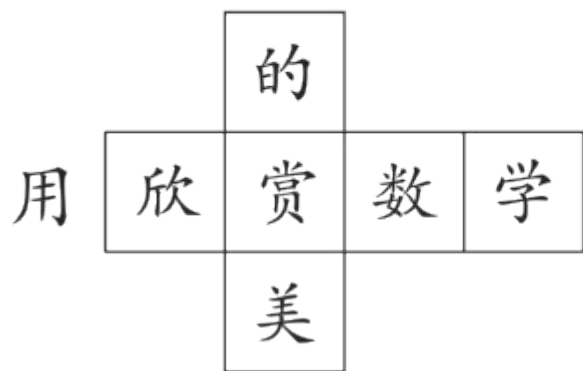
wǒ huì zuò

第五关 我会做。(40☆)

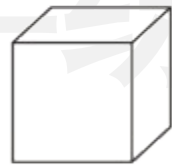
1. 优优爸爸要把墙上的洞补上,需要()块 。(5☆)



2. 折一折,填一填。(9☆)



做一个

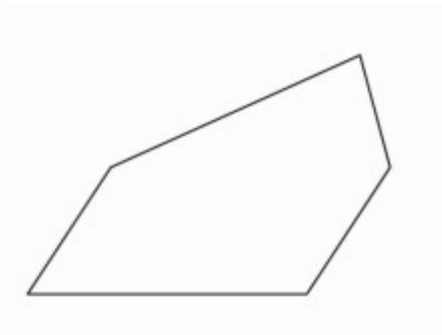


“欣”字的对面是“()”字,

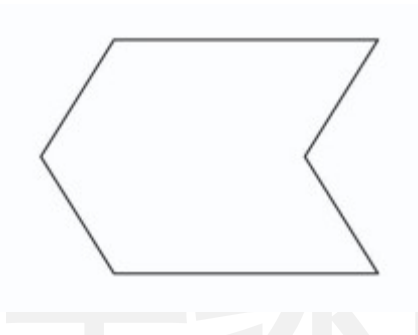
“赏”字的对面是“()”字,

“的”字的对面是“()”字。


3. 画一条线, 按要求将下面的图形分成 2 个图形。(12☆)




分成 1 个三角形和
1 个平行四边形



分成 2 个平
行四边形

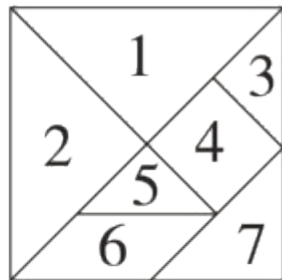


分成 2 个
三角形



分成 2 个
长方形

4. 拼一拼, 填一填。(14☆)



(1) 一套七巧板有()块, 其中有()个

平行四边形、()个正方形和()个三角形。(8☆)

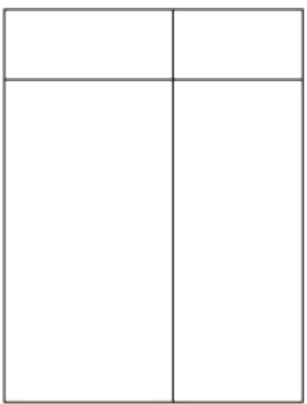
(2) 用右上边七巧板中的3号和5号可以拼成一个正方形, 也可以拼

成一个()形, 还可以拼成一个()形。(6☆)

wǒ lái tiǎo zhàn

我来挑战。(做对了,奖励10☆哦!)

数一数,填一填。



有()个长方形。

学练优



关注“优翼丛书”小程序

更多优质好课等你来

更多教学资源，敬请关注 www.youyi100.com