

# 核心素养闯关

## 第 1、2 单元核心素养闯关

一年级数学上册 (RJ)



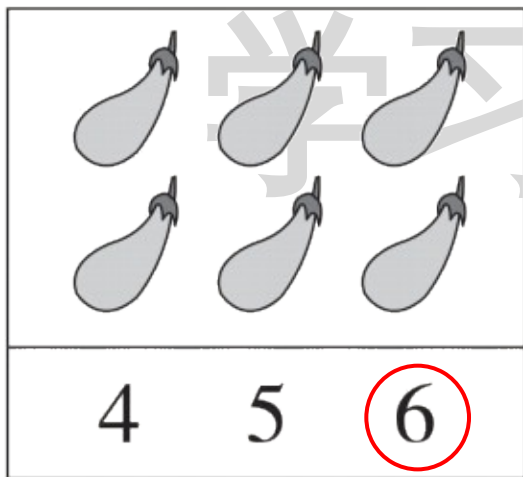
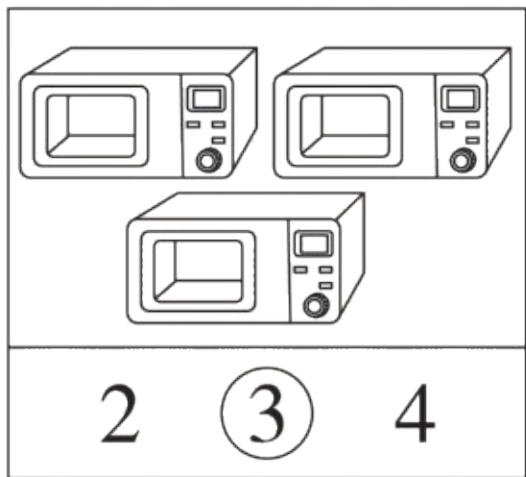


学习单 同步作业课件

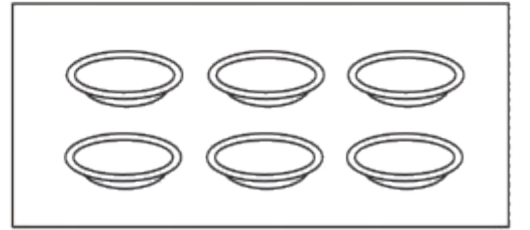

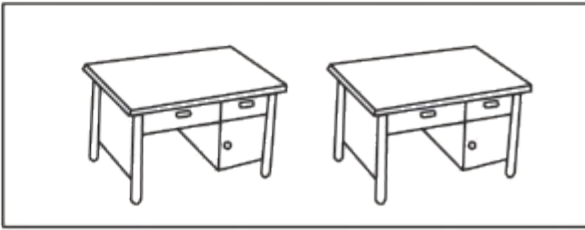

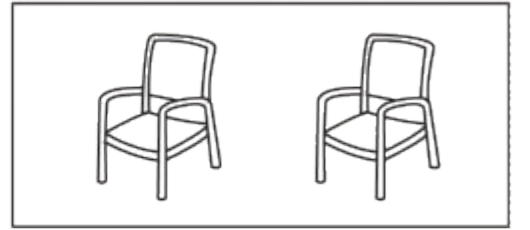


wǒ huì shǔ

# 第一关 我会数。(14☆)

1. 照样子,数一数,把对应的数圈起来。(6☆)




## 2. 数一数,把同样多的连起来。(8☆)



wǒ huì quān



## 第二关 我会圈。(20☆)

1. (8☆)



 在  的 ( 上 ) 下 ) 面，

小轩在丽丽的 ( 前 ) 后 ) 面，

 在  的 ( 上 下 ) 面。

丽丽在小轩的 ( 前 后 ) 面。

学习单

2. (4☆)



学习单

小优( 左 右 )手拿着  ,

( 左 右 )手拿着  。

3. 请你认真观察下面的图片,圈出正确的答案。(8☆)



(1)  在  的 (  上  下 ) 面。

(2) 丽丽在兰兰的 (  前  后 ) 面。

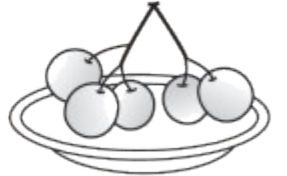
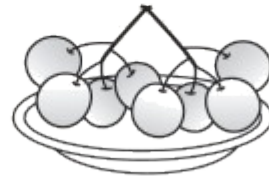
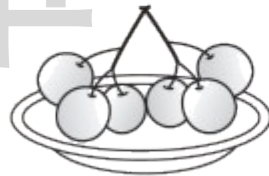
(3) 浩浩在乐乐的 (  左  右 ) 边,

在平平的 (  前  后 ) 面。

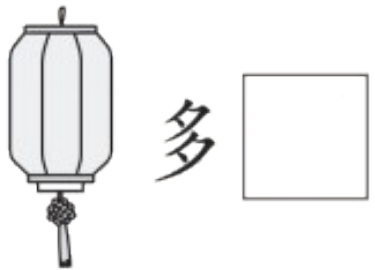
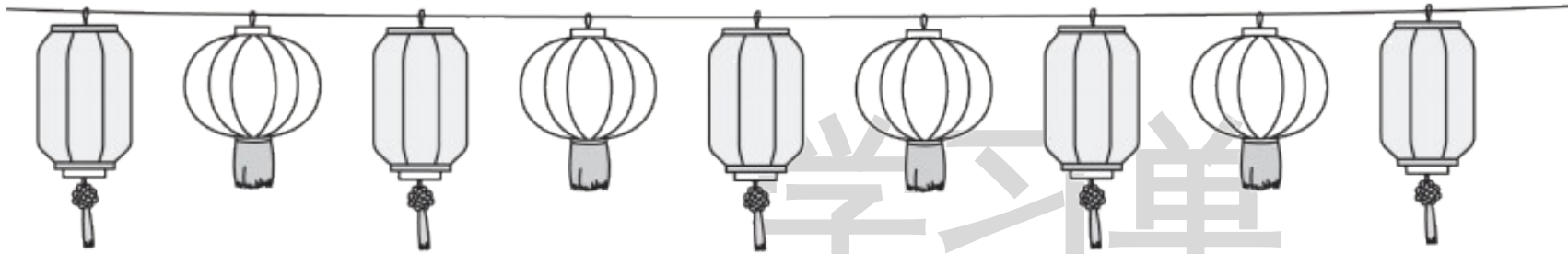
wǒ huì bǐ

### 第三关 我会比。(10☆)

1. 在多的后面画“√”。(3☆)      2. 在最少的下面画“○”。(3☆)



3. 比一比两种灯笼, 在正确的答案后面画“√”。(4☆)



wǒ huì xuǎn

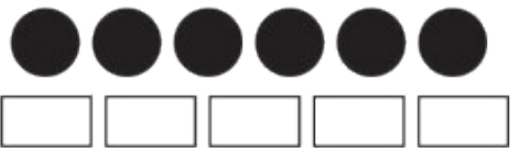
## 第四关 我会选。(8☆)

1. 为了小朋友的安全,上下楼梯要靠( )走。

①后

②左

③右

2. 

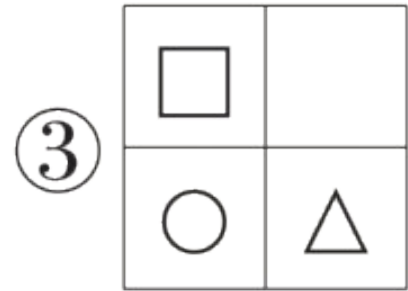
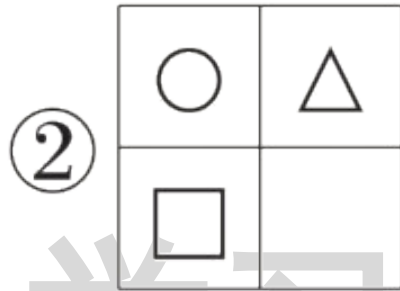
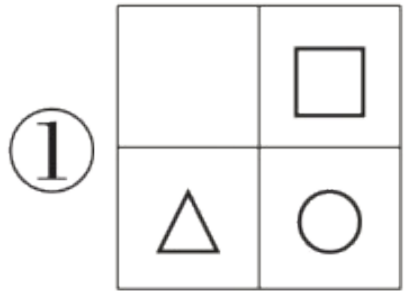
关于●和□,下面说法正确的是( )。

①●比□多

②●和□同样多

③●比□少

3.  $\square$  在  $\bigcirc$  的上面,  $\triangle$  在  $\bigcirc$  的右边, 下面排列正确的是( )。



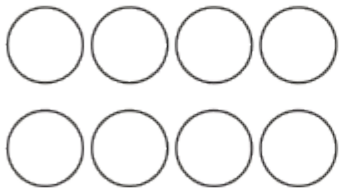







4. 下列图片中,( )是右手。



wǒ huì huà

# 第五关 我会画。(26☆)

1. 照样子,画一画或划一划。(12☆)

8	5	10	3
			
4	6	2	1
			

## 2. 按要求画图形。(6☆)

(1) 画□, □的数量与  同样多。 (2) 画○, ○的数量比  多。



学习单



---

---


### 3. 按要求把方格补充完整。(8☆)

(1) △ 在 ☆ 的上面, ☆ 的下面是 ○。

(2) ○ 的左边是 ♡, ▲ 在 ♡ 的上面。

(3) ○ 在 ■ 的左边, □ 在 ■ 的上面。


(4) △ 在 ◇ 的左边, ▲ 的上面是 ●。



wǒ huì jiě jué wèn tí

## 第六关 我会解决问题。(22☆)

### 1. 小猫吃鱼。(10☆)




(1) 一共有 ( 8 9 **10** ) 条鱼。其中有 ( **4** 5 6 ) 条 

( 4 5 **6** ) 条 。(圈一圈)(6☆)

(2) 每只猫原来都有 5 条鱼, 谁吃掉的鱼多? 画“√”。(4☆)




( )



( )

## 2. 快乐农场。(圈一圈)(12☆)



(1) 鸟在树的(上)下)面,树在鸟的  
(上)下)面。

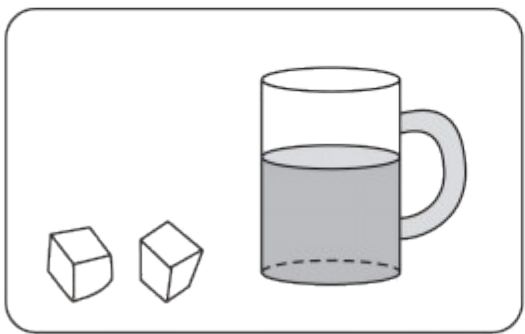
(2) 树的左边有(1)2)朵花,右边有  
(1)2)朵花。

(3) 4只小鸡都在母鸡的(前)后)面,小  
鸡的只数比鸭子(多)少)。

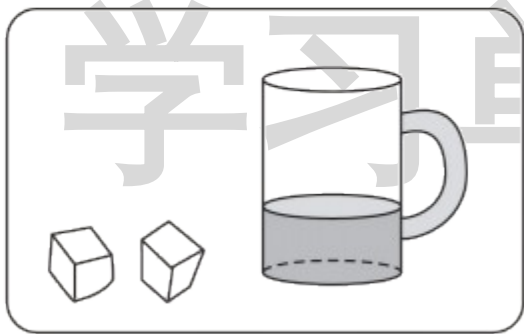
wǒ lái tiǎo zhàn

我来挑战。(做对了,奖励10☆哦!)

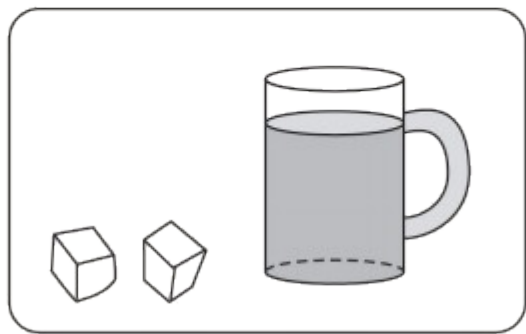
把同样多的方糖放进下面的杯中,哪一杯水最甜?在( )里画“√”。



( )



( )



( )



关注“优翼丛书”小程序

更多优质好课等你来

更多教学资源，敬请关注 [www.youyi100.com](http://www.youyi100.com)