



第二单元核心素养闯关


一年级数学下册 (RJ)



wǒ huì tián

第一关 我会填。(每空1☆,共21☆)

1. 计算“ $15 - 7$ ”时,想: $7 + (\quad) = 15$, $15 - 7 = (\quad)$ 。

2. 在  里填上合适的数。

$$11 - \text{heart} = 5$$

$$12 - \text{heart} = 8$$

$$\text{heart} - 6 = 6$$

$$14 - \text{heart} = 5$$

$$\text{heart} + 9 = 17$$

$$13 - 6 = \text{heart}$$

学习单

3. 在 \bigcirc 里填上“ $>$ ”“ $<$ ”或“ $=$ ”。

$$12 - 9 \bigcirc 4$$

$$12 - 7 \bigcirc 13 - 8$$

$$13 - 9 \bigcirc 5$$

$$10 + 2 \bigcirc 17 - 8$$

4. \square 里最大能填几？

$$12 - \square > 5$$

$$8 + \square < 16$$

$$17 - \square > 8$$

$$7 + \square < 15$$

$$7 < 11 - \square$$

$$7 + \square < 12$$

学习单

5. $\blacklozenge + \blacklozenge = 16$, $\bullet - \blacklozenge = 7$, $\blacklozenge = (\quad)$, $\bullet = (\quad)$ 。

6. 手工课做风车, 优优做了 16 个, 可可做了 9 个。可可至少再做 () 个, 才能超过优优。

wǒ huì xuǎn

第二关 我会选。(8☆)

1. 计算“ $12 - 4$ ”时,与下图表示的思考过程相同的是()。



① $4 + 8 = 12$

$12 - 8 = 4$

② $12 - 2 = 10$

$10 - 2 = 8$

③ $10 - 4 = 6$

$6 + 2 = 8$

2. $14 - \square$ 的得数是一位数, \square 里可以填()。

① 0

② 4

③ 6

3. 小新计算一道减法算式时,先算 $10 - 5 = 5$,再算 $5 + 1 = 6$,他计算的算式是()。

① $11 - 5$

② $15 - 5$

③ $11 - 6$

4. 停车场上有 12 辆小汽车, _____, 还剩下几辆小汽车? 缺少的信息可能是()。

① 有 8 辆大客车

② 开走了 3 辆小汽车

③ 又开来了 4 辆大客车

wǒ huì suàn

第三关 我会算。(28☆)

1. 算一算。(16☆)

$15 - 9 =$

$3 + 9 =$

$13 - 7 =$

$11 - 5 + 9 =$

$12 - 4 =$

$11 - 2 =$

$14 - 6 =$

$19 - 6 - 9 =$

$6 + 7 =$

$12 - 3 =$

$13 - 5 =$

$11 + 4 - 7 =$

$11 - 8 =$

$17 - 9 =$

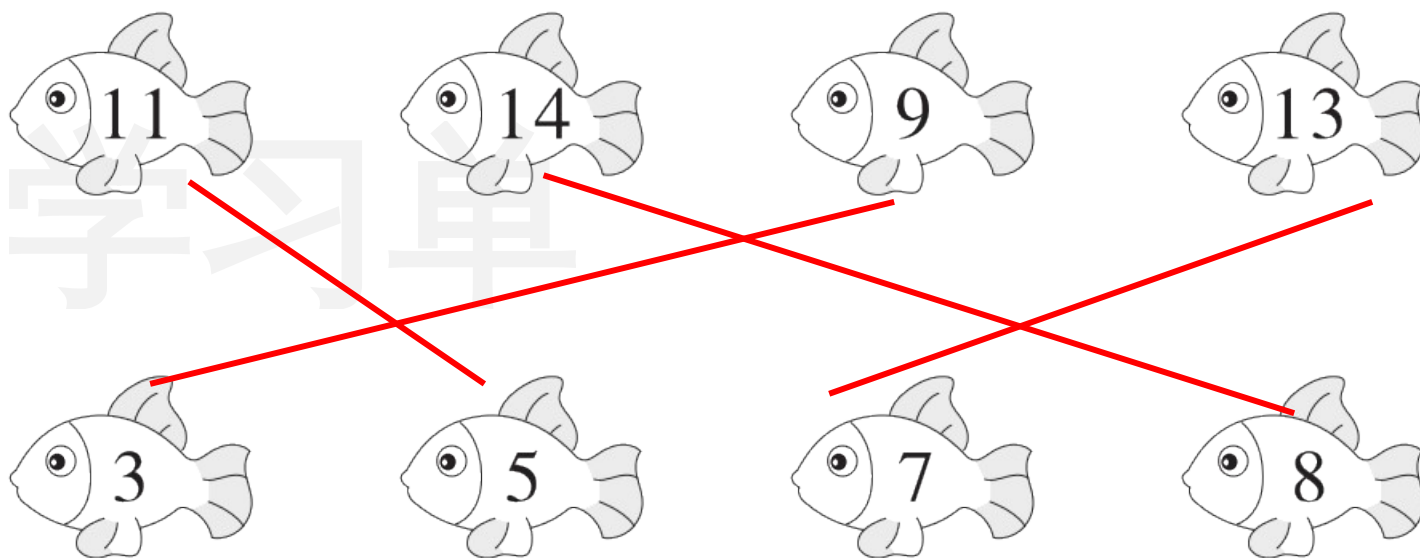
$8 + 5 =$

$7 + 5 + 6 =$

2. 小猫钓的可能是哪两条鱼？（连一连）（8☆）



我钓的两条鱼差是6。



3. 按得数的大小给下面的算式排排队。(4☆)




$11 - 3$



$12 - 8$



$15 - 8$



$14 - 5$

<

<

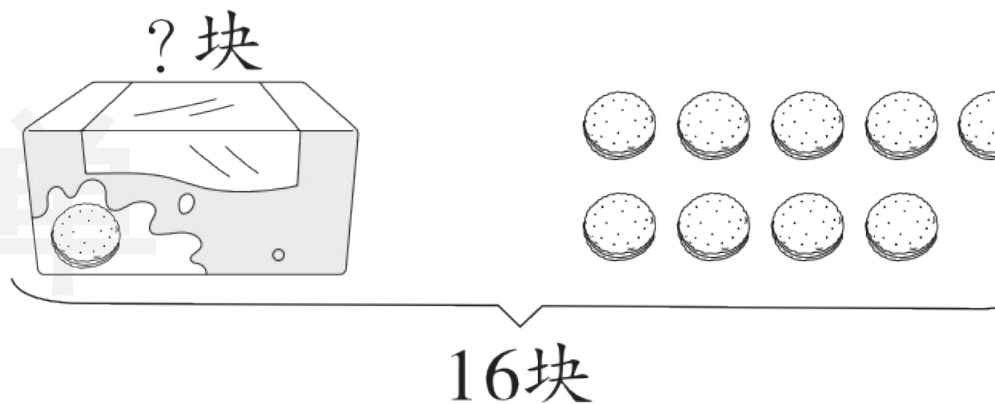
<

wǒ huì kàn tú liè shì jì suàn

第四关 我会看图列式计算。(8☆)



$$\square \bigcirc \square = \square \text{ (个)}$$



$$\square \bigcirc \square = \square \text{ (块)}$$

wǒ huì tián biǎo

第五关 我会填表。(6☆)

商品	原有	卖出	还剩
电脑	12 台	5 台	() 台
自行车	() 辆	9 辆	9 辆
手表	15 块	() 块	8 块

wǒ huì jiě jué wèn tí

第六关 我会解决问题。(29☆)

1. 一共有12人。游泳池边上有多少人?(4☆)



水里有6人。

$$\square \bigcirc \square = \square (\quad)$$

2. 每人要栽 12 棵树。(8☆)



(1) 轩轩还要栽几棵？(4☆)

$$\square \bigcirc \square = \square (\quad)$$

(2) 宇宇已经栽了几棵？(4☆)

$$\square \bigcirc \square = \square (\quad)$$

3. 小新捡了几片树叶？(4☆)



小新

我们两个一共捡了13片树叶，其中有7片绿叶。

我捡了8片树叶。



小优

$$\square \bigcirc \square = \square (\quad)$$

4. 大课间,同学们积极进行体育锻炼。其中跑步的有14人,跳绳的有12人,打篮球的有8人。(8☆)

(1) 跳绳的女生有8人,男生有多少人?(4☆)

$$\square \bigcirc \square = \square (\quad)$$

(2) 跑步的男生有6人,女生有多少人?(4☆)

$$\square \bigcirc \square = \square (\quad)$$

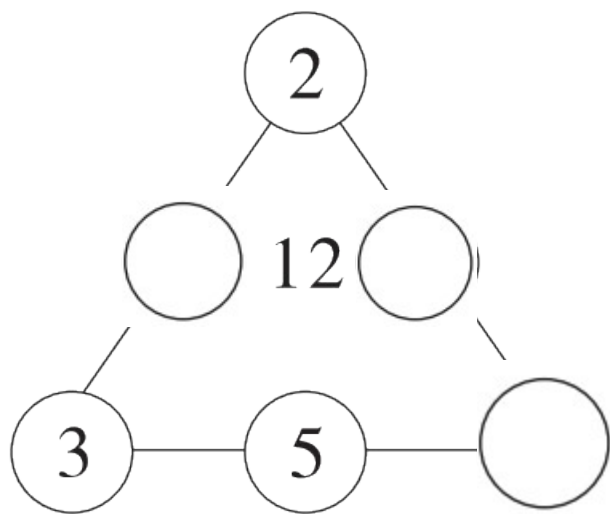
5. 16 名同学站成一列纵队去领书。小优的前面有 7 名同学,小优的后面有几名同学? (5☆)

学习单

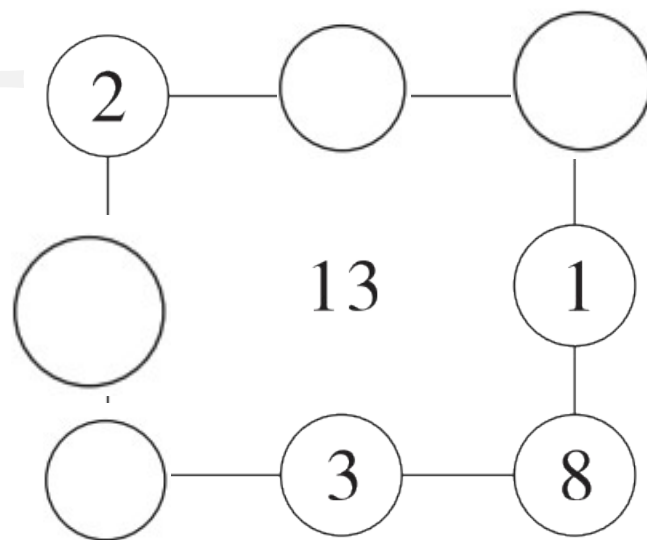
wǒ lái tiǎo zhàn

我来挑战。(做对了,奖励10☆哦!)

在○里填上合适的数,使每条线上三个数相加的和都等于中间的数。



学习单





关注“优翼丛书”小程序

更多优质好课等你来



更多教学资源，敬请关注 www.youyi100.com