



第4单元


100以内数的认识

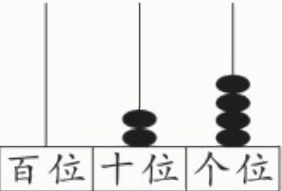
单元整理与复习

一年级数学下册 (RJ)



学习单 同步作业课件


知识梳理


已学过的 相关内容	· 认识 20 以内的数(一年级上册)	
本单元 的主要 内容	数 数	<ol style="list-style-type: none"> 1. 一(个)、十、百都是计数单位,10 个一是十,10 个十是一百。 2. 从右边起,第一位是个位,第二位是十位,第三位是百位。
	数的组成	<ol style="list-style-type: none"> 1. 几个十组成几十。 2. 几个十和几个一组成几十几。
	数的读写	<ol style="list-style-type: none"> 1. 读数和写数都从高位起。 2. <div style="text-align: center;">  </div> 写作: <u> 24 </u> 读作: <u> 二十四 </u>

本单元 的主要 内容	数的顺序、 比较大小	<ol style="list-style-type: none">1. 两位数比较大小:先看十位上的数,十位上的数大,这个两位数就大;十位上的数相同,再看个位上的数,个位上的数大,这个两位数就大。2. 用“多一些”“少一些”“多得多”“少得多”描述两个数之间的大小关系。
	解决问题	求一个数里面有几个另一个数,可以用圈一圈、数一数的方法得出答案,也可以用数的组成来解决。
	整十数加 一位数及 相应的减法	<ol style="list-style-type: none">1. 几十加几等于几十几,几加几十等于几十几。2. 几十几减几等于几十,几十几减几十等于几。
后续学习的 相关内容	· 认识万以内的数(二年级下册)	

重难点突破

tián yì tián

1. 填一填。 [★★]

(1)  左边的小棒由()个十和()个一组成,组成的数读作(),写作()。

(2) 33 后面的第 5 个数是(),前面的第 3 个数是()。()的邻居是 45 和 47。


(3) 在 75、36、68、55、78 这五个数中,最接近 50 的数是()。

把它们按从小到大的顺序排列:

() < () < () < () < ()

jiě jué wèn tí

2. 解决问题。 [★ ★ ★]



(1) 每8瓶装一箱, 可以装满 箱, 还剩 瓶。(圈一圈)

(2) 把这些矿泉水分给 30 名学生和 5 名老师, 每人分一瓶, 够分吗?



易错点过关

我们要养成整理错题的好习惯哦!

xiǎo xīn yǒu miàn xiǎo qí xiǎo yōu hé xiǎo yì gè yǒu duō shao miàn
 3. 小新有25面小旗，小优和小翼各有多少面

xiǎo qí zài hé shì de dá àn xià miàn huà “√”。 [★★]
 小旗？在合适的答案下面画“√”。



小优

我的小旗比小新少一些。



小翼

我的小旗比小新多得多。

面数	8	22	30	45
小优				
小翼				



关注“优翼丛书”小程序

更多优质好课等你来

更多教学资源，敬请关注 www.youyi100.com