



第五单元核心素养闯关

一年级数学下册 (RJ)



wǒ huì tián

第一关 我会填。(每空1☆,共23☆)

1. 笔算 $61 + 29$ 时, 个位上 1 加 9 得 10, 向十位进(), 个位写(), 十位写()。

2. 在 ○ 里填上“>”“<”或“=”。

$$57 - 12 \bigcirc 57$$

$$3 + 56 \bigcirc 85$$

$$66 + 26 \bigcirc 60 - 26$$

$$43 + 34 \bigcirc 62$$

$$33 - 8 \bigcirc 25$$

$$90 - 60 \bigcirc 90 - 68$$

3. 在()里填上合适的数。

$54 + 27 = (\quad)$

$57 - 34 = (\quad)$

$80 - 42 = (\quad)$

$65 + (\quad) = 72$

$(\quad) - 44 = 20$

$67 - (\quad) = 32$

4. 最大的两位数与最小的两位数的差是()。

5. 按规律填一填。

10	15	20	25			
----	----	----	----	--	--	--

82	76	70	64			
----	----	----	----	--	--	--

6. 乐乐在计算一道加法算式时,把其中一个加数 27 看成了 72,结果算成了 96。这道算式的正确结果是()。

wǒ huì xuǎn

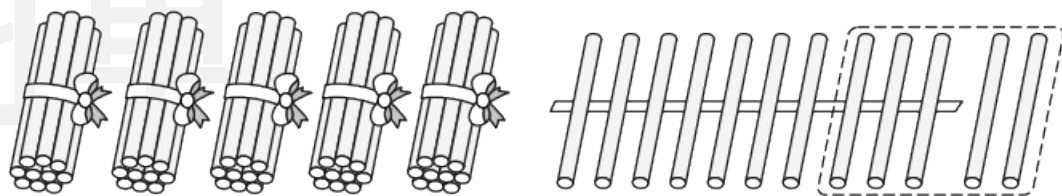
第二关 我会选。(8☆)

1. 通过摆小棒的方法计算 $62 - 25$, 图中圈起来的部分表示()。

① $62 - 5$

② $12 - 5$

③ $60 - 5$



2. 可可看一本 60 页的故事书, 第一天看了 27 页, 第二天看了 18 页
第三天她应从第()页开始看。

① 46

② 45

③ 35

3. 下面算式中都有数字看不清, 得数一定比 50 大的算式是()。

① $80 - 3$ ■

② 2 ■ $+ 2$ ■

③ $42 + 1$ ■

4. 小优原来有 30 张卡纸, 送给妹妹 9 张后两个人就一样多了, 妹妹原来有()张卡纸。

学习单

① 21

② 18

③ 12

wǒ huì suàn

第三关 我会算。(43☆)

1. 直接写出得数。(9☆)

$23 + 45 =$

$49 - 37 =$

$26 + 7 + 4 =$

$53 - 11 =$

$88 - 48 =$

$50 - 30 - 5 =$

$4 + 45 =$

$37 + 11 =$

$67 - 37 - 30 =$

2. 列竖式计算。(18☆)

$6 + 37 =$

$17 + 39 =$

$46 + 14 =$

习单

$86 - 35 =$

$90 - 32 =$

$63 - 45 =$

3. 正确的画“√”, 不正确的画“×”并改正。(8☆)

$39 + 51 = 80 (\quad)$

$$\begin{array}{r} 39 \\ + 51 \\ \hline 80 \end{array}$$

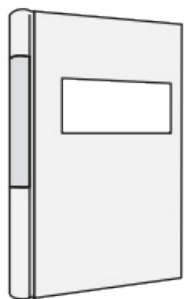
$85 - 58 = 33 (\quad)$

$$\begin{array}{r} 85 \\ - 58 \\ \hline 33 \end{array}$$

学习单

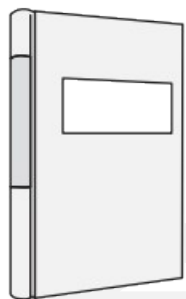
4. 看图列式计算。(8☆)

(1) 科技书



18本

故事书




?本


47本

$$\square \bigcirc \square = \square \text{ ()}$$

(2)



苹果46个



草莓39个

?个

$$\square \bigcirc \square = \square \text{ ()}$$

wǒ huì jiě jué wèn tí

第四关 我会解决问题。(26☆)

1. 包青团。(4☆)

一共包了49个青团，已经吃了17个，
还剩下多少个？



2. 学校要给二年级两个班的学生换新课桌。二(1)班有 44
二(2)班有 45 名学生。一共要买多少套单人桌? (5☆)

3. “人欲上进先读书”，一本故事书有 62 页，小乐还差 18 页就读完了。小乐已经读了多少页？(5☆)

4. 小优、小轩和小宇玩套圈比赛，成绩记录表被墨水弄污了。（单位：分）（6☆）

名字	第一次	第二次	第三次	总分
小优	25	29		87
小轩	26	26	30	
小宇	30	26		

(1) 小优第三次得了()分,小轩的总分是()分。(4☆)

(2) 小宇得了第二名,他的总分可能是多少分?(三人得分都不相同)(2☆)

学习单


5. 金猴想要 20 个桃, 剩下的桃够不够? (6☆)



分给猴大35个, 分给猴三38个。

我想要20个。

金猴





关注“优翼丛书”小程序

更多优质好课等你来



更多教学资源，敬请关注 www.youyi100.com